

楚雄州中小学 2023~2024 学年上学期期中教育学业质量监测 高 三 年 级 文 科 综 合 试 卷

本试卷满分 300 分,考试用时 150 分钟。

注意事项:

1. 答题前,考生务必将自己的姓名、考生号、考场号、座位号填写在答题卡上。
2. 回答选择题时,选出每小题答案后,用铅笔把答题卡上对应题目的答案标号涂黑。如需改动,用橡皮擦干净后,再选涂其他答案标号。回答非选择题时,将答案写在答题卡上。写在本试卷上无效。
3. 考试结束后,将本试卷和答题卡一并交回。
4. 本试卷主要考试内容:高考全部内容。

第 I 卷 (选择题 共 140 分)

本卷共 35 小题,每小题 4 分,共 140 分。在每小题给出的四个选项中,只有一项是符合题目要求的。

河南许昌发制品产业已有上百年的历史,当地拥有发制品出口企业 280 多家,从事发制品业的人多达 35 万,具有世界“假发之都”称号。许昌假发生产原材料多来自印度、巴基斯坦,产品通过电商销往 120 多个国家和地区,其中非洲是主要出口市场之一。据此完成 1~3 题。

1. 许昌发制品主要通过电商外销的原因是
 - ①发制品体积小、质量轻
 - ②消费者复购发制品的频率较高
 - ③当地有发达的信息网络技术
 - ④当地有较好的发制品产业基础

A. ①② B. ①④ C. ②③ D. ③④
2. 非洲是许昌发制品的主要出口市场之一,主要是因为非洲
 - A. 发制品加工业发达
 - B. 消费水平低
 - C. 当地人头发生长慢
 - D. 人口数量少
3. 今后,许昌发制品产业降低成本的关键在于
 - A. 扩大生产规模
 - B. 雇用外地劳动力
 - C. 增加实体门店
 - D. 研发新型原材料

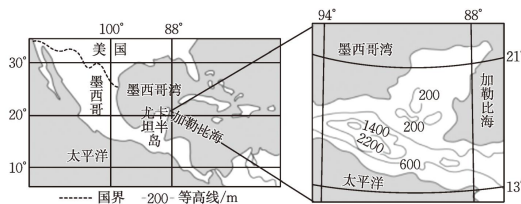
在老龄化和流动迁移活跃的双重推动下,老年流动人口数量不断增加,异地养老与家属随迁是两类典型的老年人口流动原因。异地养老指老年人离开原本的居住地,流动到另一地区,明确以养老为目的的流动方式;家属随迁指以照顾孙辈为主要目的而流入子女家庭所在地。这两类老年群体在迁入地的居留意愿存在一定差异(如下表)。据此完成 4~6 题。

城市规模	异地养老		家属随迁	
	人数占比/%	居留意愿/%	人数占比/%	居留意愿/%
小城市	18.4	80.5	12.6	58.0
中等城市	9.8	88.4	9.2	71.0
大城市	43.8	78.0	33.8	69.0
特大及超大城市	28.1	84.8	44.4	67.8

4. 总体来看,异地养老的老年群体在迁入地的居留意愿高于家属随迁老年群体,其主要取决于
 - A. 自身经济能力
 - B. 迁入地医疗条件
 - C. 自身消费观念
 - D. 迁入地人口政策
5. 异地养老群体中,流入特大及超大城市的居留意愿比流入中等城市的低,可能是因为
 - ①特大及超大城市定居成本高
 - ②特大和超大城市人均资源少
 - ③中等城市亲朋好友少
 - ④部分中等城市环境质量好

A. ①③ B. ①④ C. ②③ D. ②④
6. 为提升老年人在迁入城市的居留意愿,建议
 - A. 全面放开老年群体落户条件
 - B. 创造适合老年人的就业创业机会
 - C. 禁止用社会资金发展养老产业
 - D. 推动不同城市之间养老服务联动

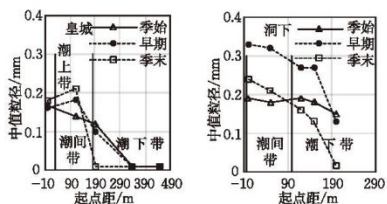
墨西哥尤卡坦半岛东南部地区热带雨林广布,该区域居民曾以传统刀耕火种和选择性伐木为生,森林生物量能得以维持。2010 年以来,该区域推广商业肉牛养殖,雨林快速退化。下图示意尤卡坦半岛的位置。据此完成 7~9 题。



7. 尤卡坦半岛东南部地区热带雨林广布,主要得益于
 - ①季风风向
 - ②沿岸洋流
 - ③为信风迎风坡
 - ④纬度位置

A. ①② B. ①④ C. ②③ D. ③④
8. 传统刀耕火种和选择性伐木能维持该区域森林生物量,可直接反映出当地森林
 - A. 喜热耐旱
 - B. 生长周期短
 - C. 多样性低
 - D. 适应能力强
9. 推广商业肉牛养殖,可能导致该区域
 - A. 沙尘暴发生频次增加
 - B. 风暴潮发生频次增加
 - C. 林火发生频次增加
 - D. 飓风发生频次增加

沙滩是一种宝贵的天然资源,在沿海社会经济发展和生态文明建设中发挥着不可替代的作用。通常情况下,台风引起的风浪侵蚀沙滩,可通过自我调节机制修复。皇城沙滩和洞下沙滩位于浙江沿海,相距约 80 km。下图分别示意 2019 年台风季开始、台风季早期和台风季末期这两座沙滩中值粒径(在全部沉积物样品中,大于或小于这一粒径的泥沙在重量上刚好相等)的变化。潮间带间歇性被潮水淹没,潮下带指位于平均低潮线以下、浪蚀基面以上的浅水区域。据此完成 10~11 题。



10. 总体呈现侵蚀状态的是
- A. 皇城沙滩潮间带从台风季始到早期
B. 皇城沙滩潮下带从台风季始到早期
C. 洞下沙滩潮下带从台风季始到季末
D. 洞下沙滩潮间带从台风季早期到季末
11. 从台风季早期到季末,皇城沙滩和洞下沙滩中值粒径变化存在差异,主要是因为两者
- A. 经历台风强度不同
B. 沙滩地表坡度不同
C. 沙粒运移方向不同
D. 沙滩物源条件不同
12. 科学社会主义是 19 世纪 40 年代马克思、恩格斯创立的科学理论。从理论上来说,它有人类社会的理论成果的渊源;从实践上来说,它一经群众掌握,就会变成强大的物质力量。由此可见
- ①空想社会主义为科学社会主义的产生奠定了理论基础
②科学社会主义把人们对美好社会的追求建立在科学认识社会发展客观规律的基础上
③科学社会主义为人们认识世界、改造世界提供了强大精神力量
④资本主义的发展和工人运动的兴起是科学社会主义产生的历史前提
- A. ①③
B. ①④
C. ②③
D. ②④
13. 党的二十大报告指出,坚持党的全面领导是坚持和发展中国特色社会主义的必由之路,中国特色社会主义是实现中华民族伟大复兴的必由之路,团结奋斗是中国人民创造历史伟业的必由之路,贯彻新发展理念是新时代我国发展壮大的必由之路,全面从严治党是党永葆生机活力、走好新的赶考之路的必由之路。“五个必由之路”重大论断
- ①丰富和发展了习近平新时代中国特色社会主义思想
②是中国特色社会主义制度及其执行能力的集中体现
③为广大发展中国家走向现代化提供了全新的路径选择

④是中国共产党在新时代治国理政实践中的经验总结

- A. ①②
B. ①④
C. ②③
D. ③④
14. 2023 年,受外部环境动荡不安与国内需求收缩、供给冲击、预期转弱等因素的影响,我国经济社会发展的压力增大。为此,国家采取了例如降低存贷款利率、下调存款准备金率、增值税留抵退税等一揽子政策措施,以实现经济稳增长的目标。这些政策的实施对当前经济社会发展产生作用的路径是
- ①增加居民收入,扩大内需
②缓解市场主体的经营压力
③降低制度性交易成本
④促进经济平稳运行
⑤助力企业转型升级
- A. ③→②→⑤→④
B. ②→①→⑤→④
C. ③→⑤→①→④
D. ④→③→②→⑤
15. 随着经济社会发展,人员流动日益频繁,属地化管理已经不能满足患者的就医需求。为此,国家医保局、财政部发布《关于进一步做好基本医疗保险跨省异地就医直接结算工作的通知》,持续深化跨省异地就医直接结算改革,站稳人民立场,反映人民呼声。该政策的颁布
- ①能够促进劳动力在全国范围内优化配置,推动经济高质量发展
②表明我国不断完善社会保障体系,保障公民的政治权利与自由
③有利于提升社会保险服务保障水平,解决异地就医结算的堵点
④坚持了把保障人民健康放在我国现代化建设全局中的核心地位
- A. ①③
B. ①④
C. ②③
D. ②④
16. 高品质、便利化是人民对美好生活的普遍向往。某市以社区为主体,建立市、区、街道、社区“四级联创机制”,建设“一刻钟便民生活圈”;同时,积极整合街道、社区、物业、商户等各方力量,完善便民生活圈管理制度。“便民生活圈”日益成为“人民幸福圈”。该市社区治理模式
- ①创新了基层自治组织形式,能提升居民政治参与的能力
②丰富了基层社会治理方式,能提高基层民主自治的效能
③推动基层协商民主发展,充分发挥协商民主的治理优势
④汇聚了基层社会综合治理合力,能筑牢社会治理共同体
- A. ①③
B. ①④
C. ②③
D. ②④
17. 司法部办公厅、农业农村部办公厅联合发出《关于常态化开展“乡村振兴 法治同行”活动的通知》,就充分发挥司法行政部门、农业农村部门和法律服务机构在服务乡村振兴中的职能作用,推进“乡村振兴 法治同行”活动常态化、长效化,作出部署安排。推动乡村法治建设
- ①能最小成本地化解乡村发展矛盾和障碍
②能为乡村建设提供更加有力的法治保障
③可以把政府工作全面纳入法治轨道上来
④是全面推进依法治国的长期基础性工作
- A. ①②
B. ①③
C. ②④
D. ③④

18. 当前,中国经济运行面临着新的困难和挑战。2023年7月24日召开的中央政治局会议将之概括为:主要是国内需求不足,一些企业经营困难,重点领域风险隐患较多,外部环境复杂严峻。会议还作出了总体判断,认为“我国经济具有巨大的发展韧性和潜力,长期向好的基本面没有改变”。这些概括和判断
- ①认为内部联系和外部联系可以相互转化
②对中国经济的光明前途有着坚定的信心
③说明量变是一种渐进的、不显著的变化
④坚持实事求是,准确把握了我国经济形势
- A. ①② B. ①③ C. ②④ D. ③④
19. 2023年9月,中国云南楚雄彝绣发布会在米兰时装周举行。此次在意大利米兰发布的楚雄彝绣女装系列,在颜色上大胆运用彝族崇尚的黑色,将古老的东方刺绣工艺与意大利小众工艺制作的奢华面料相结合,再运用现代科技的激光切割等手段,活灵活现地将彝风重塑,打造出优雅、百搭且充满东方魅力的女装系列。由此可见
- ①中华文化只有同外来文化相结合才能发挥作用
②民族服饰集中体现了中华民族的整体风貌
③文化多样性是发展本民族文化的内在要求
④文化因交流而多彩,因交融而丰富
- A. ①② B. ①③ C. ②④ D. ③④
20. 《金砖国家领导人第十五次会晤约翰内斯堡宣言》载明,对采取不符合《联合国宪章》原则、为发展中国家带来显著负面影响的单边强制措施表示关切,重申致力于加强和完善全球治理,呼吁提高新兴市场国家和发展中国家在国际组织和多边机制中的代表性。这表明,金砖国家
- ①维护联合国在国际事务中的核心作用
②希望推倒原有的、不合理的全球治理体系
③在谋求共同发展的金砖精神指引下团结合作
④已成为新兴市场国家维护共同利益的重要平台
- A. ①② B. ①④ C. ②③ D. ③④
21. 作为联合国安理会常任理事国,中方在推动和平解决巴勒斯坦问题上从未缺席。习近平主席结合巴以形势,提出解决巴勒斯坦问题的三点主张,强调要建立独立的巴勒斯坦国,应该加大对巴发展援助力度和人道主义帮扶,坚持和谈正确方向。上述立场表明我国
- ①根据事情本身的是非曲直决定自己的立场和政策
②在坚定维护本国国家利益的同时兼顾他国合理关切
③是世界和平发展的坚定支持者、推动者和维护者
④是经济全球化和世界多极化格局的践行者和捍卫者
- A. ①③ B. ①④ C. ②③ D. ②④

22. 2022年以来,黄某等31人为当地引进的种植大户谢某的百香果基地提供劳务。由于市场行情低迷、天气干旱等多种原因,谢某的百香果基地效益下降,资金周转困难,致使谢某未能按时支付黄某等31人的劳务报酬13万余元,双方由此产生纠纷。该起纠纷的解决
- ①必须经过诉讼程序,由人民法院判决
②可以在人民调解委员会的组织下进行调解
③在仲裁和诉讼之间,当事人只能选择其一
④双方可自行协商,通过和解达成合意
- A. ①② B. ①③ C. ②④ D. ③④
23. 研究人员在做科学研究时发现,种植豆类作物如大豆、豌豆、蚕豆时,不仅不需要给土壤施氮肥,而且豆类作物还可以使土壤增加氮;而种植小麦、高粱、玉米等农作物时,土壤中的氮不仅未增加而且需要施氮肥。由此他们得出这样的结论:豆类作物有固氮作用,而非豆类作物没有。这一过程中使用的归纳推理的方法有
- A. 仅用了求同法 B. 仅用了求异法 C. 共变法 D. 求同求异并用法
24. 战国时期,新兴的统治者所进行的重要工作之一就是废旧宗而立新宗,毁旧庙而立新庙,并且按照尊卑制度推行“持手而食者不得立宗庙”,将普通劳动者排斥于宗法体系之外。由此可见,当时新兴统治者
- A. 注重调整生产关系 B. 积极铲除贵族政治势力
C. 试图修复礼乐制度 D. 利用宗法观念巩固统治
25. 尽管汉王朝在制度上主要继承秦朝,但汉代流行的歌舞,皆系楚歌、楚舞,汉赋也是在楚辞的基础上发展而来的。在西汉诸帝中,尤以汉武帝最爱楚辞,他不但招揽了许多辞赋高手侍奉左右,而且还重用了一批善楚辞之大臣,当时王公贵族皆好辞作赋,文人学士都研习和评论楚辞。这体现了
- A. 区域文化的碰撞交流 B. 中原文化的包容和精深
C. 民族交融的不断加强 D. 朝廷重视传承民族文化
26. 大中祥符元年(1008年),宋真宗率文武百官到泰山封禅,并且亲赴孔庙行礼祭奠,加谥孔子为“玄圣文宣王”,并亲自撰文称颂孔子是“人伦之表”,认为儒学是“帝道之纲”。他还命人编写十三经正义,颁行学官,并规定其为法定教材。这说明宋真宗时期
- A. 重视基层社会教化 B. 儒学得到了全面复兴
C. 尊孔崇儒氛围浓厚 D. 大一统局面得到巩固
27. 史料记载,北宋时大商人甚少,其资本最大者以十万计。明万历年间,富商巨贾的资本已达百万。清乾隆年间猛增至以千万计。明清时期商业资本变化源于
- A. 封建农耕经济持续发展 B. 资本主义生产方式的壮大
C. 传统工商业政策的废除 D. 商人集团经济实力的增强
28. 1874年,日本派兵侵犯中国台湾,清政府筹办海防、建设海军之议随之兴起。从19世纪70

年代到 90 年代,清政府分别建成福建水师、广东水师、南洋水师和北洋水师,共有舰船八九十艘。据此可知

- A. 晚清海防建设旨在防范倭寇
B. 清廷确立起近代海洋观念
C. 洋务运动增强了清朝海防力量
D. 清政府顽强抵抗列强侵略
29. 1912 年 4 月,《共和国教科书》出版,明确“注重国体政体及一切政法常识,以普及参政之能力”等内容。1917 年 1 月,《共和国教科书·公民须知》出版,其内容有“总说(公民、公民之资格)、公民之权利、公民之义务、地方自治、国家之组织”等。《共和国教科书》的出版
- A. 意在抵制袁世凯复辟帝制的行为
B. 推动了民主共和政体不断发展完善
C. 有助于促进中国政治民主化进程
D. 开启了中国学校教育的近代化历程
30. 据统计,1934 年上海附近的嘉兴县虽然市镇繁华,但是境内营运的轮汽船仅 25 艘,总营业额约 34 万元;传统船只则有 3100 余艘,总收入约 40 万元。这一情形折射出,当时嘉兴
- A. 列强经济侵略受到坚决抵制
B. 近代交通工具的竞争力强
C. 因日本侵华战争而交通滞后
D. 传统因素制约近代化转型

31. 右图作为史料,可用于研究当时中国



- A. 敌后战场的艰难处境
B. 国内政治局势的变化
C. 红军长征的重大意义
D. 抗日救亡运动的高涨
32. 古希腊史学家修昔底德的《伯罗奔尼撒战争史》中记录了公元前 5 世纪前期至公元前 411 年斯巴达和雅典之间的战争。他在该书提出的“战争不可避免的真正原因是雅典势力的日益增长,从而引起了斯巴达人的恐惧”的观点,在 2012 年被美国国际问题专家格雷厄姆·艾利森概括为“修昔底德陷阱”,用来表示传统大国与新兴大国间的争端。据此可知
- A. 历史认识需要史料来丰富
B. 历史学家大都真实书写历史
C. 历史事件往往具有偶发性
D. 历史演绎带有主观功利色彩

33. 在 19 世纪 50 至 60 年代,法国国内不仅旧银行业迅速扩大,而且还相继出现了许多新的金融组织机构,如信贷总公司、地产信托公司、证券交易所等。1870 年,法国已成为 14 个国家的债权国,对外的投资和贷款达到 120 亿法郎。这一状况

- A. 说明法国经济迅速崛起
B. 制约法国工业化进程
C. 表明法国垄断组织兴起
D. 加速了法国工业革命
34. 俄国二月革命后,临时政府不顾民众反对,坚持继续参加一战,却又屡战屡败,这让厌战的民众对临时政府非常不满。此外,临时政府处处维护资产阶级利益,欺骗民众,对共存的苏维埃政权多有打压。在此背景下
- A. 布尔什维克党的指导思想形成
B. 民众意识到工农联合的重要性
C. 苏维埃道路赢得广大民众支持
D. 实现民主共和成为民众的呼声

35. 下表所示是 1995 年至 2002 年世贸组织受理的争端中发达国家和发展中国家申诉与被诉情况。据此可知,这一时期

争端类别	争端数量/个	占争端总数点比/%
发展中成员诉发达成员	48	18.2
发达成员诉发展中成员	69	26.2
发达成员诉发达成员	108	41.1
发展中成员诉发展中成员	47	17.8

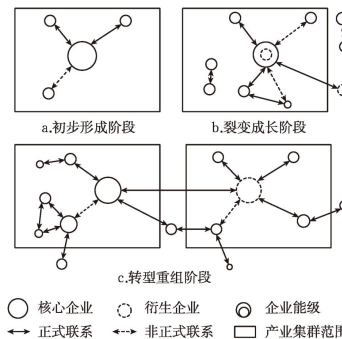
- A. 世界经济格局多极化趋势明显
B. 发达国家之间的贸易摩擦日益增多
C. 国际经济旧秩序仍有一定影响
D. 世贸组织有利于缓解国际贸易争端

第 II 卷 (非选择题 共 160 分)

本卷共 9 小题,均为必做题,共 160 分。

36. 阅读图文材料,完成下列要求。(28 分)

浙江台州汽车制造业始于 20 世纪 80 年代,早期专注于汽车零部件的生产,经过 40 多年的发展和演变,目前已形成涵盖本地—本省—本国—全球等多个空间尺度的产业集群创新网络。台州汽车产业发展经历了初步形成、裂变成长、转型重组三个阶段,核心企业始终为 J 公司。J 公司于 2013 年在欧美国家建立研发中心与造型设计中心,2017—2018 年先后收购入股多家海外知名汽车企业。下图示意台州汽车产业集群创新网络演化过程。

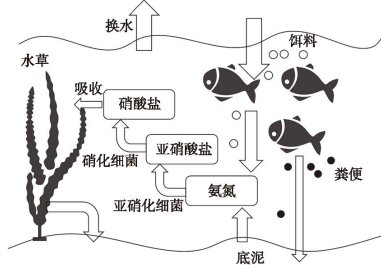


- (1) 简述初步形成阶段,台州汽车零部件产业发展的成本优势。(6 分)
- (2) 与初步形成阶段相比,简述台州汽车产业裂变成长阶段的特点。(6 分)
- (3) 比较裂变成长阶段、转型重组阶段核心企业在产业集群创新网络中功能的异同点。(8 分)
- (4) 分析转型重组阶段 J 公司在欧美国家建立研发中心与造型设计中心对提升创新能力的意义。(8 分)

37. 阅读图文材料,完成下列要求。(28 分)

有机质的分解是池塘中氨氮的重要来源,氨氮超标会降低鱼类血液的载氧能力,当溶解氧

不足时,氨氮难以被转化为亚硝酸菌、硝酸菌。广东某户外养殖池主要依靠降水蓄水,饲养经济鱼类,经常通过换水的方式治理氨氮超标,偶尔进行人工增氧。与该养殖池相比,辽宁盘锦某户外养殖池在入冬前人工增氧的频次更高。下图示意养殖池中氮元素的主要循环过程。



- (1) 推测广东该养殖池的水文特征。(4分)
- (2) 指出广东该池塘因水产养殖而增加的氨氮的来源。(8分)
- (3) 与河流相比,简述广东该养殖池中溶解氧偏低的原因。(6分)
- (4) 评价广东该养殖池通过换水治理氨氮超标的优缺点。(6分)
- (5) 与广东该养殖池相比,辽宁盘锦户外养殖池在入冬前更关注人工增氧,对此做出合理解释。(4分)

38. 阅读材料,完成下列要求。(12分)

2023年是西藏和平解放72周年。从1951年到2023年,雪域高原发生了翻天覆地的变化。某校思想政治兴趣学习小组在探究西藏发展的深层次原因时搜集到以下资料:

改革开放以来,党中央先后召开7次西藏工作座谈会,对西藏工作作出重大决策部署。进入新时代,以习近平同志为核心的党中央深化对西藏工作的规律性认识,总结领导人民治藏稳藏兴藏的成功经验,提出新时代党的治藏方略。

1979年以来,先后进行多次自治区、地(市)、县、乡(镇)四级换届选举,选民参选率都在90%以上,有些地方参选率达到100%。十四届全国人民代表大会的西藏代表共有24名,其中藏族和其他少数民族代表16名,占66.7%;全区42153名四级人大代表中,藏族和其他少数民族占89.2%。他们几乎都是旧西藏百万农奴的后代。

1965年,西藏自治区成立。1984年,国家颁布实施《中华人民共和国民族区域自治法》。自治区成立以来,先后出台152部地方性法规和规范性文件。

结合材料,运用《政治与法治》的知识,说明雪域高原能够发生翻天覆地的变化的原因。

39. 阅读材料,完成下列要求。(10分)

作为国内大循环的重要组成部分和联结国内国际双循环的重要枢纽,外资在构建新发展格局中发挥着重要作用。习近平总书记高度重视吸引和利用外资工作,多次作出重要论述,强调要更大力度吸引和利用外资。

全国和自由贸易试验区负面清单条数分别压减51%、72%,制造业领域基本全面放开,

金融等服务业开放水平不断提升。共建“一带一路”扎实推进、“放管服”改革不断深化且全球最大自由贸易区正式建成……五年来,在世界经济恢复放缓、全球跨国投资低迷的大背景下,我国货物进出口总额年均增长8.6%,突破40万亿元且连续多年居世界首位,吸引外资和对外投资居世界前列。

结合材料,运用《当代国际政治与经济》中的经济全球化与中国的知识,谈谈我国应如何更大力度吸引和利用外资。

40. 阅读材料,完成下列要求。(20分)

“四下基层”是习近平同志在福建宁德工作时率先垂范、大力倡导并培育形成的工作方法和工作制度。“宣传党的路线、方针、政策下基层”从“声边”到“身边”,生动体现了始终聚力于民的独特优势;“调查研究下基层”化“脚力”为“能力”,生动体现了始终问计于民的科学方法;“信访接待下基层”变“坐诊”为“出诊”,生动体现了始终心系于民的真挚情怀;“现场办公下基层”从“机关会场”到“基层现场”,生动体现了始终取信于民的务实品格。

为更好推动干部下基层办实事,更好推动闽东经济发展,习近平同志提出要正确处理长期目标和近期规划、经济发展速度与经济效益、资源开发与产业结构调整、生产力区域布局中的山区与沿海、改革开放与扶贫、科技教育与经济发展等六个关系。实践证明,这些思路和举措对宁德地区发展作出了全局性的战略谋划。

当年,习近平同志带头下基层宣讲、调研、接访、办公,带头沉下身到最偏远、最困难的地方,踏遍了闽东的山山水水,留下了许多动人佳话。如今,全国各地大力弘扬“四下基层”优良传统,推动各级领导干部到基层去,到群众中去,到问题多、困难多、矛盾多的地方去,知民情、解民忧、办实事、促发展,“四下基层”蔚然成风。

(1) 结合材料,运用社会历史主体的知识,分析“四下基层”工作方法和工作制度的时代价值。(10分)

(2) 结合材料,分析习近平同志亲自垂范的“四下基层”蕴含的分析与综合的辩证思维方法。(10分)

41. 阅读材料,完成下列要求。(10分)

音乐作品《你笑起来真好看》由北京某文化发展公司创作,因其歌词朗朗上口、旋律轻松,被大众传唱。2022年6月20日,该公司发现温州某银行在未经其授权许可、未支付任何费用的情况下,擅自在某商业平台发布了一段时长170秒的职工趣味运动嘉年华短视频(该以《你笑起来真好看》为背景音乐烘托气氛、渲染情绪),点赞量上万。7月8日,该公司认为该银行侵权,并将其起诉至当地人民法院,最终胜诉。

(1) 结合材料,运用《法律与生活》的知识,说明法院判决该公司胜诉的法律依据。(6分)

(2) 假如你是一名法官,请针对短视频创作者使用他人音乐作品时应如何避免侵权问题提出两条合理建议。(4分)

42. 阅读材料,完成下列要求。(25分)

材料一

对于郑和下西洋,明人评价说:“自永乐改元,遣使四出,招谕海番,贡献迭至,奇货重宝,

前代所希,充溢府库,贫民承令博买或多致富,而国用亦美裕矣。”远航所及,各“番王首长相率拜迎,奉领而去。举国之人奔赴欣跃,不胜感戴。事竣,各具方物及异兽珍禽等件,遣使领赏,附随宝舟赴京朝贡”。当时东南亚各国商品交易除以物易物外,爪哇“行市交易用中国铜钱并布帛之美”,苏门答腊“国中一应买卖交易,皆以十六两为一斤(同中国古制)”。郑和还秉承“抚外夷以礼,导人以善”,“宣教化于海外诸蕃国,导以礼仪”的涉外原则,沿途传播中国的历法文化、衣冠礼仪等。

摘编自王更红《从郑和下西洋话海上丝绸之路的崛起》

材料二

新中国成立初期,中国在积极发展同苏联等社会主义国家经济合作和贸易关系的同时,重视对西方国家和亚非国家的贸易,努力从中寻找突破口。东南亚国家的对外贸易在其国民收入中占的比重很大。美国的“禁运”政策打击了东南亚各国的输出,这使东南亚国家对“封锁”“禁运”日益感到不满。在东南亚地区首先突破“禁运”的是锡兰(今斯里兰卡)。中锡两国于1952年10月4日签订了关于中国售给锡兰8万吨大米的合同;同年12月签订了关于橡胶和大米的五年贸易协定。在亚非会议期间,中国代表团利用各种机会,通过各种渠道,广泛进行接触交流,开展友好活动。到1956年,中国已同印度、缅甸、锡兰等9个亚非国家签订了政府间的贸易协定。从1951年起,在中国对外贸易总额中,亚非国家所占的比重就已经超过西方国家。

摘编自彭波、施诚《新中国是如何突破贸易封锁的?》

材料三

2015年3月28日,由国家发改委、外交部、商务部联合发布的《推动共建丝绸之路经济带和21世纪海上丝绸之路的愿景与行动》指出了“一带一路”的范围,不论是陆上还是海上丝绸之路,都离不开与东南亚国家的联系。党的十九大提出,我国经济正处在转变发展方式和转换增长动力的关键期,加之2018年中美贸易摩擦加剧,在此大背景下,中国要加快调整产业结构,扩大开放力度,拓展“一带一路”沿线国家出口市场,坚持走出去和引进来并重。东南亚国家现已成为我国“一带一路”倡议中最重要的贸易伙伴。

摘编自李村璞、柏琳、赵娜《中国与东南亚国家贸易潜力及影响因素研究——基于随机前沿引力模型》

- (1)根据材料一并结合所学知识,概括郑和船队与东南亚国家交往的特点。(8分)
- (2)根据材料二并结合所学知识,简析新中国成立初期中国与东南亚国家发展贸易的原因及其影响。(12分)
- (3)根据上述材料并结合所学知识,简述从中国与东南亚国家交往中所得到的启示。(5分)

44. 阅读材料,完成下列要求。(12分)

材料

有关世界近代民族主义的起源和扩散,不同学者提出了不同的解释。大致观点主要有以下两种:

观点一:政治学家本尼迪克特·安德森认为:民族主义起源于18世纪末19世纪初的美

洲殖民地反抗宗主国的民族解放战争和独立运动,主要表现为反抗宗主国的压迫和不平等,随后扩散到欧洲,最后传播到亚非殖民地。

观点二:学者周平认为,民族主义起源于近代西欧,王国国家在对共同体进行整合的过程中促进了民族意识和情感的产生,这种民族意识在政治精英的加工后逐步系统化、理论化,发展为完整的思想体系,这就是民族主义。民族主义形成后又促进了民族的成熟,民族成熟以后资产阶级利用民族利益反抗王朝国家,把国家的权力转移到了“全民族”手中。

摘编自李宏图《论近代西欧民族主义和民族国家》

围绕世界近代民族主义的起源和扩展,从材料中选取一个观点或另拟一个观点,并运用所学世界近代史知识加以阐述。(要求:观点明确,史论结合,表述清晰。)

44. 阅读材料,完成下列要求。(15分)

材料一

门荫制度长期存在于中国古代社会之中。科举制为隋代所创建,唐代初步发展但不甚完善,加之魏晋以来的门阀大族死而不僵,因此在很长一段时间内,唐代门荫入仕在选官途径之中占有相当的比重。唐中期以后,随着科举制的日益完善,社会对科举出身人士越来越重视和推崇。根据学者对于唐代宰相等高官出身的数据统计:“除少数入仕途径不明者外,门荫出身者共177人以上(有隋代受荫承袭至唐的),其中位至宰相的有48人,占唐宰相总数369人的13%。如果以宪宗朝为界把唐分为前后两期,前期门荫出身的宰相有45人,占唐朝门荫出身宰相的90%,宪宗以后则寥寥无几。高级官僚中门荫出身比重的下降,从一个方面反映了门荫制度衰落的趋势。”

摘编自陈禹澍《唐代门荫入仕制度探析》

材料二

光绪二十七年(1901年)七月,清政府诏废八股,改试策论,要求各省均于省城改书院为大学堂,各府、厅、直隶州均设中学堂,各州、县均设小学堂。同年10月,政务处会同礼部奏定《学堂选举鼓励章程》,规定凡学堂考试合格毕业生,均给予贡生、举人、进士等出身;对成绩优秀的举人、进士,在进行殿试后,“酌加擢用,优予官阶”。自光绪三十一年(1905年)至宣统三年(1911年),清政府共举行留学毕业生考试七次,大量留学生借此跻身仕途。为筹备立宪,清政府对资政院、谏议局议员的选聘均仿行西方的代议制度,实行选举制。清政府制定了《资政院议员选举章程》《各省谏议局议员选举章程》等,对被选举人的资历、身份、财产均作了严格的规定限制。活跃在清末资政院中的议员罗杰、雷奋等人,借此进入政治领域,并在推动清政府的改革方面,起到了重要作用。

摘编自鞠方安《试论清末选官制度的改革》

- (1)根据材料一并结合所学知识,简析唐代前中期门荫入仕制度存在的原因。(6分)
- (2)根据材料一、二并结合所学知识,指出与唐代相比,清末选官制度创新的表现,并简评清末选官制度改革。(9分)