

2022~2023 下学期高三年级 TOP 二十名校猜题大联考(二)

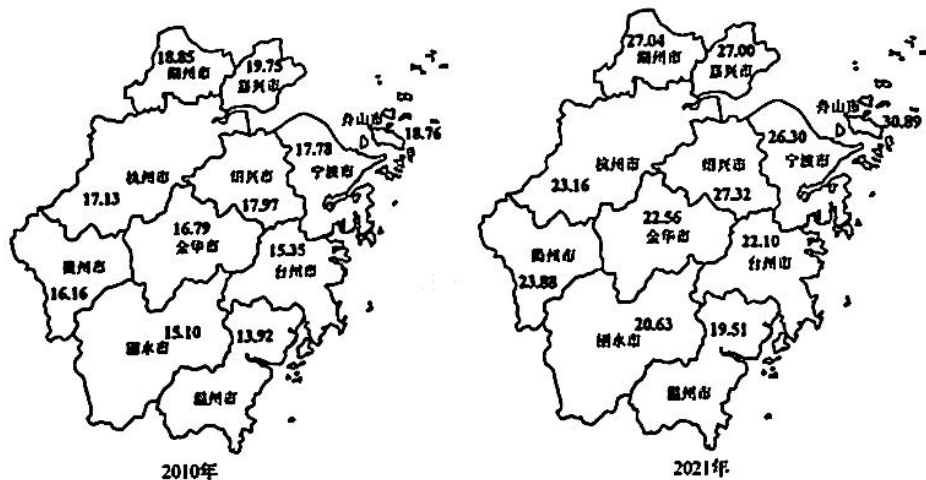
文科综合

考生注意:

1. 本试卷分选择题和非选择题两部分。满分 300 分,考试时间 150 分钟。
2. 答题前,考生务必用直径 0.5 毫米黑色墨水签字笔将密封线内项目填写清楚。
3. 考生作答时,请将答案答在答题卡上。选择题每小题选出答案后,用 2B 铅笔把答题卡上对应题目的答案标号涂黑;非选择题请用直径 0.5 毫米黑色墨水签字笔在答题卡上各题的答题区域内作答,超出答题区域书写的答案无效,在试题卷、草稿纸上作答无效。
4. 本卷命题范围:高考范围。

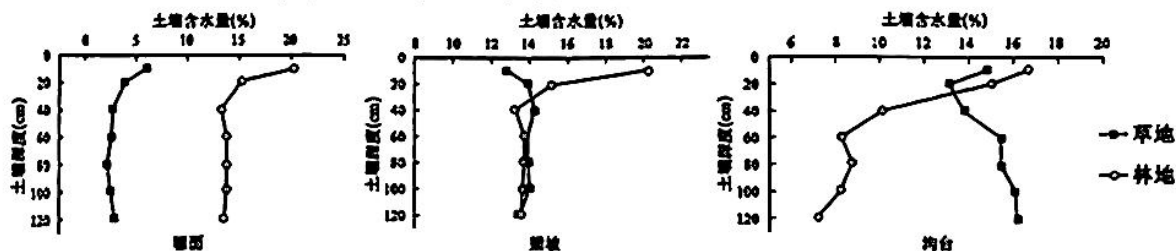
一、选择题:本题共 35 小题,每小题 4 分,共 140 分。在每小题给出的四个选项中,只有一项是符合题目要求的。

一个国家或地区 60 岁以上人口占人口总数的 10% 或者 65 岁以上人口占人口总数的 7%,即标志着该国或地区进入老龄化社会。下图分别示意 2010 年和 2021 年浙江省各市 60 岁以上人口占比统计(单位:%)。据此完成 1~3 题。



1. 2010~2021 年浙江省 60 岁以上人口占比增长最慢的城市是
A. 杭州市
B. 温州市
C. 丽水市
D. 绍兴市
2. 导致 2021 年舟山市 60 岁以上人口占比与其他城市差异较大的主要原因是
A. 行政区划面积小
B. 劳动人口流失较多
C. 城镇化水平较低
D. 人口自然增长率低
3. 浙江省出现的人口问题带来的影响,最可能是
A. 青壮年抚养压力减小
B. 社会养老负担减轻
C. 人口结构趋于合理
D. 产业升级速度加快

陇东黄土高原泾川县官山林场中沟小流域(107°31'E, 35°20'N)属于典型的黄土沟壑区,该小流域海拔1 072~1 351 m,全年降水主要集中于7~9月,有塬面、梁坡、沟台三种不同地形。下图示意该小流域综合治理后不同地形中林地和草地月平均含水量随土层深度的变化。据此完成4~5题。




4. 据图可知

- A. 塬面地形中随土壤深度的加深,林地土壤含水量变化趋势缓于草地
- B. 梁坡地形中 20 cm 以下,林地和草地的土壤含水量变化趋势基本一致
- C. 沟台地形中随土壤深度加深,林地土壤含水量的变化趋势与草地相反
- D. 三种不同地形中表层(10~20 cm)土壤含水量均是林地高于草地

5. 该地小流域综合治理后

- A. 塬面地形种树优于种草
- B. 沟台地形种树优于种草
- C. 梁坡地形种草优于种树
- D. 塬面和沟台均适宜种树

下图示意我国某地高三学生小明在东西走向的教学楼上利用水印相机随手拍的一张照片。据此完成6~8题。



6. 推测拍照的时间最可能是

- A. 6:15
- B. 11:35
- C. 16:35
- D. 19:15

7. 推测拍照当日,图中高楼影子的移动方向是

- A. 东南—正南—西南
- B. 东北—正北—西北
- C. 西南—正南—东南
- D. 西北—正北—东北

8. 拍摄当日之后一个月内

- A. 太阳直射点不断向南移
- B. 该地白昼逐渐变长
- C. 该地正午太阳高度变小
- D. 地球公转速度变慢

15. 据海关统计,2022年,我国进出口总值首次突破40万亿元人民币关口,规模再上新台阶。其中,民营企业进出口规模所占比重达到50.9%,年度占比首次超过一半,对我国外贸增长贡献率达到80.8%。太阳能电池、锂电池、电动载人汽车等绿色低碳产品出口增速均超过60%。由此可见,我国
- ①市场对外具有较强吸引力,进口结构优化 ②外贸结构不断优化,经济展现出较强韧性
③民营企业在对外贸易中发挥着主力军的作用 ④实施走出去战略,不断提高开放型经济水平
- A. ①② B. ①④ C. ②③ D. ③④
16. 2022年公安部承办的827件建议提案全部高质量完成,实现了百分之百与代表委员沟通、百分之百按时办结、代表委员百分之百满意“三个百分百”的目标。针对代表委员提出的加大知识产权保护力度的建议提案,公安部持续深入开展专项行动,2022年共侦破侵犯知识产权和制售伪劣商品犯罪案件2.7万起,抓获犯罪嫌疑人4.3万名。这表明公安机关
- ①严格执法,切实维护人民群众利益 ②公正司法,守护公平正义最后防线 ③依法履行职能,不断提高执法效能 ④履行专政职能,协调人民内部矛盾
- A. ①③ B. ①④ C. ②③ D. ②④
17. 2023年2月28日,中共中央在中南海举行民主协商会。习近平总书记希望各民主党派中央、全国工商联和无党派人士认清形势、传递信心,团结带领广大成员和所联系群众把思想和行动统一到中共中央所作出的决策部署上来,积极建言献策,广泛凝聚共识,为实现全年目标任务凝心聚力、团结奋斗。由此可见
- ①协商民主是社会主义民主政治的独特形式 ②共产党和各民主党派通力合作、共同执政
③人民政协具有政治协商、参政议政的职能 ④中国共产党坚持民主执政,广泛凝聚智慧和力量
- A. ①② B. ①④ C. ②③ D. ③④
18. 长期以来,美国频繁对各国实施“长臂管辖”,且管辖范围不断扩大、长臂越伸越长。从对世界范围内与古巴进行交易的个人和实体施加经济制裁,到禁止外国公司对伊朗、利比亚能源产业进行投资,再到扩大对俄罗斯、朝鲜和伊朗的制裁……美国一再把自己的意志和标准强加于人,用自己的“家规”取代普遍接受的国际法则。对此,下列理解正确的是
- ①霸权主义和强权政治对当今世界构成严重威胁 ②竞争、合作与冲突是当今国际关系的基本内容
③美国应该顺应时代主题的变化,推动世界和平发展 ④美国此举加剧了国家间紧张关系,冲击国际秩序
- A. ①③ B. ①④ C. ②③ D. ②④
19. 在中国传统生肖文化中,兔子活泼机灵,是活力和幸福的象征。兔子善于奔跑,所以也有“静如处子动如脱兔”一说。汉字“逸”即从兔会意,表示的就是像兔子一样飞快地奔跑,这种奔跑的姿势优美、飘逸,能引起人们很好的审美体验。所以,人们常常说的“卯兔”,本身其实代表着黎明、春天、无限的生机与活力。这表明
- ①精神产品凝结在一定的物质载体中 ②文化的历史越悠久就越有生命力
③人们在社会生活中创造和享受文化 ④传统文化能够丰富人的精神世界
- A. ①③ B. ①④ C. ②③ D. ②④
20. 中央广播电视总台2023网络春晚通过人工智能作画、跨屏视觉互动秀等技术呈现开放式空间,运用舞台升降装置、超宽幅开合屏、数控放射灯阵打造震撼人心的舞美,在科技范儿十足的舞台上演绎赏心悦目的节目……通过“艺术+技术”的融合创新,网聚正能量,共绘同心圆,实现与观众之间的共情共鸣。这表明

逸 yì



- ①科学技术的进步是推动文化发展的重要因素 ②大众传媒显示出传递、创造文化的强大功能 ③创新是文化富有生机和活力的重要保证 ④文化的内涵因现代科技而不断丰富发展
- A. ①③ B. ①④ C. ②③ D. ②④
21. 1992年9月21日,中国载人航天工程正式立项实施;2022年12月31日,国家主席习近平在新年贺词中郑重宣布,“中国空间站全面建成”。从蓝图绘梦到奋斗圆梦,几代中国航天人在建设航天强国、攀登科技高峰的征程上增添了又一座彪炳史册的里程碑,在浩瀚宇宙书写了用航天梦托举中国梦的壮丽篇章。材料表明
- ①人能够能动地认识世界和改造世界 ②实践创新是社会发展和变革的先导 ③实践可以把观念的存在变为现实的存在 ④奋斗能够让梦想摆脱条件制约而变成现实
- A. ①② B. ①③ C. ②④ D. ③④
22. 在党的二十大精神研讨班开班式上,习近平总书记对推进中国式现代化需要处理好的若干重大关系提出明确要求,推进中国式现代化是一个系统工程,需要统筹兼顾、系统谋划、整体推进,正确处理好顶层设计与实践探索、战略与策略、守正与创新、效率与公平、活力与秩序、自立自强与对外开放等一系列重大关系。”材料启示我们
- ①联系是普遍的,任何事物之间都存在着联系 ②注重各个要素的有机整合,实现整体的最佳功能 ③用综合的思维方式来把握事物,促进系统优化 ④着眼于事物局部,用局部的发展推动整体的发展
- A. ①③ B. ①④ C. ②③ D. ②④
23. 党的二十届二中全会审议通过了《党和国家机构改革方案》,这将成为改革开放以来第九次机构改革。改革突出重点行业和领域,针对性比较强,力度比较大,涉及面比较广,触及的利益比较深,着力解决一些事关重大、社会关注的难点问题,对经济社会发展将产生重要影响。从哲学上看,持续推进党和国家机构改革,是因为
- ①经济基础决定上层建筑,上层建筑要与经济基础相适合 ②上层建筑为经济基础服务,就能推动生产力的发展 ③事物的发展是量变和质变的统一,量变可以引起质变 ④改革是社会发展的根本动力,有利于解放和发展生产力
- A. ①② B. ①③ C. ②④ D. ③④
24. 孔子提出“君使臣以礼,臣事君以忠”的君臣观。孟子又指出:“君之视臣如土芥,则臣视君如寇仇。”荀子则认为:“从道不从君,从义不从父”。这说明当时儒家
- A. 代表普通民众的根本利益 B. 主张君臣相互制衡
C. 提倡君主需提高道德修养 D. 反对君主独裁专制
25. 尚书台源于西汉末年设置的内廷办事机构,最早主管宫中文书的收发、保管,编制仅四人。曹魏时期,魏文帝曹丕在尚书台下设了吏部尚书、左民尚书、客曹尚书、五兵尚书、度支尚书、祠部尚书等“六官”,地方上还有派出机构“行台”。尚书台的变化
- A. 规范了政府决策流程 B. 强化了专制集权体系
C. 提高了中央行政效率 D. 改变了地方割据局面
26. 据《东京梦华录》记载:“大抵都城左近,皆是园圃,百里之内,并无闲地。”汴京有一菜农名纪生,几十年靠种菜养活一家30口。南宋都城临安“盖东门绝无居民,弥望皆菜园”。菜园之外,更有花园。这说明宋代都城附近
- A. 农业种植结构出现根本改变 B. 农村经济作物种植成为主流
C. 农民因地制宜迎合市场需求 D. 农业生产技术水平领先世界
27. 明代正德、嘉靖以后,江南地区许多官民服饰竞尚华侈,妇女服饰的僭侈多变尤甚。一些地区士庶男女之讲究服饰装扮,更从标榜身份、炫耀财富的“僭礼越分”行为,逐渐演变成不断追求“时兴新样”的服饰文化。这反映出当时
- A. 经济发展冲击传统观念 B. 贫富分化得到了缓解
C. 贪图享乐之风日渐滋长 D. 资本主义萌芽已出现

28. 1861年辛酉政变成功后,英国驻华公使卜鲁斯说:由于支持奕訢上台掌权,英国已在“北京建立了令人满意的关系”,英国已经在某种程度上成为“这个政府的顾问”。法国驻华公使在日记中写道:“恭亲王成为执政者,以后的谈判将更易进行”。由此可推知,当时
- A. 清政府成为列强的代理人
B. 中国近代化的客观环境相对优化
C. 传统的宗藩观念已被打破
D. 晚清外交政策制定已丧失自主权
29. 甲午战后,清政府表示要“以筹饷练兵为急务,以恤商惠工为本源”。1895年7月,清政府令张之洞招商,多设织布、织绸等局,广为制造。此外,清政府还谕令沿海各省设立保商局,保护回国侨商。清政府此举主要缘于
- A. 传统经济政策亟须调整
B. 戊戌变法成效显著
C. 民族资本主义迅速发展
D. 国家财政状况恶化
30. 下表为1920年中国共产党早期组织在各地创办的通俗刊物(部分)。这说明中国共产党早期组织

地点	刊物名称
上海	《劳动界》
北京	《劳动音》(工人月刊)
济南	《济南劳动月刊》
广州	《劳动者》

- A. 注重工人阶级的启蒙教育
B. 主要来自工人阶级
C. 将宣传员作为中心工作
D. 地域分布较为均衡
31. 1961年春,安徽省委在进行调查后,对部分农村地区出现的“包产到户”的生产责任制进行了试点和推广。甘肃、浙江、四川等十几个省份也实行了自己的农业生产责任制,粮食普遍增产。当时农业生产责任制的推行
- A. 利于国民经济的恢复发展
B. 说明“左”倾错误被彻底纠正
C. 推动了农村改革不断深化
D. 表明计划经济体制已被打破
32. 对苏格拉底而言,认识人自己就是认识心灵的内在,就是认识德性。他声称:我每到一处便告诉人们,财富不会带来美德,但是美德会带来财富和其他各种幸福,既有个人的幸福,又有国家的幸福。这说明苏格拉底
- A. 认为财富比美德更重要
B. 思想中蕴含人文主义精神
C. 忽视对物质利益的追求
D. 本身缺乏明确的认知标准
33. 1832年,来自南卡罗来纳州的联邦副总统考尔洪宣称:如果当时的杰克逊总统要强行实施联邦关税法的话,南卡州就退出联邦。1837年,考尔洪又以立案方式在参议院提出州主权的提案,这一提案在参议院未能引起很大争议,最终得以通过。据此可知,考尔洪的做法
- A. 引发了南北战争
B. 意在与中央政府分享权力
C. 恢复了邦联体制
D. 暴露出当时联邦制的缺陷
34. 右图为挪威画家爱德华·蒙克的作品《呐喊》。其代表的绘画流派
- A. 强调描写的准确性
B. 追求画面庄严和谐
C. 注重对“内心感情”的表达
D. 善于对直观印象进行抒发
35. 北美自由贸易区实际运行以后,美国的失业人数呈现出明显的上升势头。墨西哥的贫困率从1984~1994年的平均34%上升到了1999年的60%。墨西哥的部分中小企业和小农场因经不起美国、加拿大商品的竞争而濒于破产。这表明



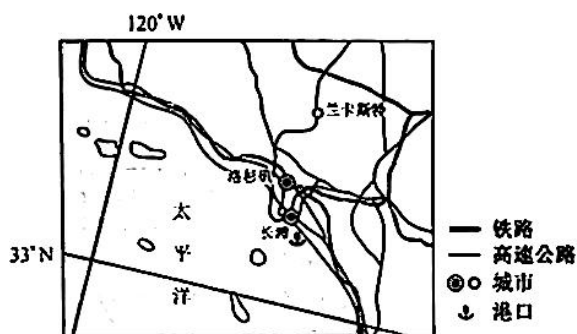
- A. 区域经济在合作中遭遇一定挫折
B. 经济全球化损害了各个国家利益
C. 南北半球经济差距的进一步拉大
D. 墨西哥的国家政治安全受到挑战

二、非选择题:共 160 分。第 36~42 题为必考题,每个试题考生都必须作答。第 43~47 题为选考题,考生根据要求作答。

(一)必考题:共 135 分。

36. 阅读图文材料,完成下列要求。(22 分)

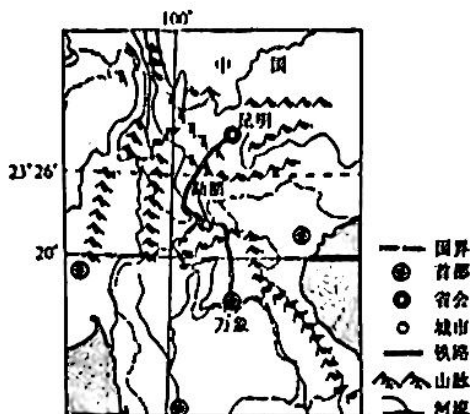
我国著名电动汽车品牌 B 公司于 1999 年进入北美市场,2011 年在洛杉矶设立北美总部,2013 年在沙漠小镇兰卡斯特建立纯电动大巴工厂,该工厂是目前为止北美地区最大的纯电动大巴工厂。电动大巴最主要的三个核心(电池、电机、电控)都来自 B 公司,并为电池提供 12 年的售后质保。B 公司的生产团队完全本土化,如对整车进行本地化设计,针对不同客户需求进行定制和平台本地化等,至少 60% 的英国产零件及最后组装工序在本地完成。美国最大公交运营商之一的洛杉矶郡大都会交通局,曾向 B 公司一次性采购 60 辆纯电动大巴。下图示意兰卡斯特地理位置。



- (1) 指出兰卡斯特吸引 B 公司在此建立纯电动大巴工厂的缘由。(6 分)
- (2) 分析 B 公司兰卡斯特工厂生产团队本土化的好处。(6 分)
- (3) 说明 B 公司纯电动大巴在北美市场销售的优势。(4 分)
- (4) 简述纯电动大巴的投入运行给洛杉矶群带来的有利影响。(6 分)

37. 阅读图文材料,完成下列要求。(24分)

勐腊县地处云南省最南端,地势东北高、西南和南部低,位于无量山南部宽谷盆地,年平均温度在21℃左右,年降雨量1700mm以上,年积温在7500℃以上。勐腊县橡胶园面积占全国的13%,天然橡胶产量占全国的23%,为全国橡胶种植第一县,在国内天然橡胶安全供应的地位举足轻重。近年来,勐腊县积极发展林下经济(即在橡胶林间的空余土地上种植魔芋、菌草等一系列植物),坚持以村为基础,连片开发,突出特色,打造“1+N”产业新格局(“1”是基础,创新方式做强传统产业;“N”是活力,多措并举推广新兴产业),实现可持续发展。下图示意勐腊县地理位置。



- (1)指出勐腊县种植天然橡胶的区位条件。(6分)
- (2)说明勐腊县发展林下经济的主要目的。(6分)
- (3)简析勐腊县打造“1+N”产业新格局带来的好处。(6分)
- (4)请你为勐腊县橡胶产业可持续发展提出合理建议。(6分)

38. 阅读材料,完成下列要求。(14分)

材料一 党的十八大以来,在以习近平同志为核心的党中央坚强领导下,我国新型工业化步伐显著加快。主要体现在以下几个方面

1	我国拥有41个工业大类、207个工业中类、666个工业小类,是全世界唯一拥有联合国产业分类中全部工业门类的国家。
2	2022年,全部工业增加值突破了40万亿元大关,占GDP比重达到了33.2%,中国制造业规模已经连续13年居世界首位。
3	高技术制造业、装备制造业占规模以上工业增加值比重分别从2012年的9.4%、28%提高到2022年的15.5%、31.8%。新能源汽车、光伏产量连续多年保持全球第一。

材料二 当前中国制造业高质量发展,机遇和挑战并存。我国传统产业体量大,在制造业中占比超过80%,制造业“大而不强、全而不优”的问题还较为突出。部分核心装备、器件和材料等关键领域面临“卡脖子”问题,“先进制造业的产值贡献不够明显,自主可控能力还不强。高能耗、低能效”的问题依然存在。同时,随着“逆全球化”思潮崛起以及美国制造业回流战略的推进,制造业外迁呈现扩大态势,制造业出口面临双重挤压。

(1)解读材料一中的经济信息。(4分)

(2)结合材料二,运用经济生活知识,说明当前我们如何推动制造业高质量发展。(10分)

39. 阅读材料,完成下列要求。(12分)

过去5年,十三届全国人大常委会在以习近平同志为核心的党中央坚强领导下,紧紧围绕党和国家工作大局开展监督,人大监督在不断探索中实现提质增效。

2022年10月,十三届全国人大常委会第三十七次会议听取和审议了国务院关于2021年度国有资产管理情况的综合报告,建立国有资产管理情况报告制度的重大决策部署,对政府预算开展全口径审查、全过程监管,国有资产管理治理取得明显成效;全国人大常委会聚焦生态环保领域的突出问题,精准发力,将实地检查与随机抽查、问卷调查、网络调研结合起来,既有明察也有暗访,变监督压力为改进工作的动力,助推生态环境持续改善;把事关人民群众普遍关注的突出问题,作为监督工作的重点,围绕养老机构建设、医师队伍管理、推进社会救助工作等开展监督,推动解决涉及人民群众切身利益的突出问题。

结合材料,运用政治生活知识,说明全国人大常委会是如何开展监督工作的。

40. 阅读材料,完成下列要求。(26分)

自1963年3月毛泽东同志发出“向雷锋同志学习”的号召,60年来,学雷锋活动在全国持续深入开展,雷锋的名字家喻户晓,雷锋的事迹深入人心,雷锋精神滋养着一代代中华儿女的心灵。“我要把有限的生命,投入到无限的‘为人民服务’之中去。”雷锋以实际行动践行着日记里的一字一句,他“一心向着党,向着社会主义,向着共产主义”,把爱党、爱国、爱社会主义的崇高信仰,转化成为党和人民奋斗终身的坚定信念;他立志“做一个对人民有用的人”,在服务人民、助人为乐中坚守中国共产党人的崇高价值追求;他甘当“一颗最小的螺丝钉”,在平凡的岗位上做出了不平凡的事迹。

雷锋精神跨越时空、历久弥新,感召着一代又一代中国人奋发向上、忘我奉献。从“雷锋式好战士”刘英俊到“八十年代新雷锋”朱伯儒,从坚持开展学雷锋志愿服务的张黎明到矢志不渝传承雷锋精神的郭明义;从把心血和汗水洒遍千山万水、千家万户的扶贫干部……一个个鲜活形象,书写着不同时代的雷锋故事。无论时代如何变迁,雷锋精神永不过时。回望过去,雷锋精神已融入中华民族生生不息的精神长河。今天,实现中华民族伟大复兴,呼唤更多雷锋式的时代楷模。展望未来,雷锋精神一定能为我们创造新的伟业提供精神启迪、凝聚强大力量。

(1)结合材料并运用实现人生价值的知识,谈谈我们应如何实现人生价值。(12分)

(2)结合材料并运用文化生活的知识,说明雷锋精神为什么能绽放出璀璨的时代光芒。(10分)

(3)雷锋精神永不过时。某学校举行“学习雷锋精神”主题活动,请你围绕主题,列举两条宣传语。(要求主旨鲜明,朗朗上口,每个要点在15字以内)(4分)

41. 阅读材料,完成下列要求。(25分)

材料一

新中国成立初期,中日两国经济交往关系的主要形式是商品贸易,而且贸易额很小。1950年的中日贸易额为0.59亿美元,占日本贸易总额的3.29%。此后两年,中日贸易额出现了连年下降的趋势。1952年中日贸易总额下降为0.15亿美元,仅为1950年的25.4%。1953年至1958年,中日之间签订了4次民间贸易协议。从1953年开始,中日贸易呈逐年上升趋势,20世纪50年代末中日贸易陷入低谷。1960年,我国政府提出了内容为“政府协定、民间合同和个别照顾”的“中日贸易三原则”。以此为基础,1962年中方代表廖承志与日方代表高崎达之助互换《中日长期综合贸易备忘录》。到1972年前的十年间,除1967年和1968年两年外,中日贸易出现了持续增长的趋势。双边贸易额从1960年的0.23亿美元上升到1971年的9亿美元,约为1950年的15倍,1960年的39倍。

——摘编自张季凤《中日经贸关系70年回顾与思考》

材料二

1979年11月30日,日本政府做出了对华提供日元贷款即政府开发援助贷款(ODA)的决定。所谓政府开发援助(Official Development Assistance,简称ODA)是指二战后发达国家为促进发展中国家的经济发展和提高福利水平,向发展中国家或多边机构提供的援助。ODA日元贷款是日本政府提供的贷款,利息低且贷款期限长。1979年12月5日,日本大平首相访华,向中方正式表示了日元贷款决定。第一批对华日元贷款从1980年起实施,日本对华无偿援助也正式启动。大平内阁之后三届日本内阁都继承了大平内阁的对华ODA政策,以日元贷款为主、以无偿援助和技术合作为辅的日本ODA成为中日关系的重要组成部分。20世纪90年代以来,随着内外环境变化和日本对外战略调整,日本的ODA政策开始发生变化。2004年,日本正式宣布将于2008年停止提供对华日元贷款。

——摘编自金熙德《中国改革开放30年与日本对华ODA》

- (1)根据材料一并结合所学知识,概括影响20世纪50年代中日贸易发展的因素,并简析20世纪60年代中日贸易发展的历史背景。(16分)
- (2)根据材料一、二并结合所学知识,简要评价日本对华“政府开发援助”贷款的影响。(6分)
- (3)根据材料一、二并结合所学知识,简要说明中日贸易发展给我们带来的启示。(3分)

42. 阅读材料,完成下列要求。(12分)

材料

盟旗制是清代在蒙古地区实行的统治制度。最早先行于内蒙古,后逐步推及外蒙古及新疆、青海等蒙古族聚居区。各旗大多以原领地为基础,仿照八旗制度的组织原则建立,为清政府直接管辖下的蒙古地区基本的行政、军事编制单位。每旗由清廷从本旗王公中任命札萨克(旗长)一人管理旗务。旗下设置佐领若干,凡旗民编入佐领之下,平时生产,战时从征。盟为旗的会盟组织,合数旗而成。凡会盟,一般三年一次,任务是清理刑名和编审丁册,初由清廷特派会盟大臣前往主持,乾隆十六年后改由各盟自己会集办理,然后将所办事件报理藩院核查。盟旗制度加强了清朝对蒙古各部的管理和控制,对蒙古地区的社会经济发展和国家统一有一定的作用。

——摘编自《国家清史纂修工程报告》等

根据材料并结合所学知识,围绕“清代盟旗制度”自拟一个观点并加以论述。(要求:观点明确,论述充分;史论结合,逻辑清晰。)

(二)选考题:共 25 分。请考生从 2 道地理题、3 道历史题中每科任选一题作答。如果多做,则每科按所做的第一题计分。

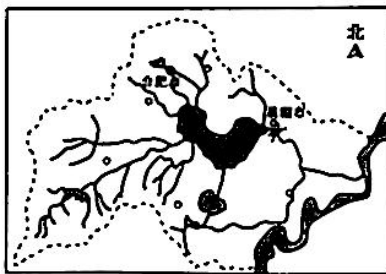
43. [地理——选修 3:旅游地理](10 分)

纳帕谷位于美国加州旧金山以北,第二次世界大战后,开始致力于发展精致农业,注重科技的应用、品牌的保护和产品附加值的提升,后期逐渐形成了包括葡萄种植、加工、品尝、销售、游览、展会等功能的葡萄酒全产业链,成为世界顶级葡萄酒原产地。为避免同质化竞争,政府根据纳帕谷八个小镇的发展情况和资源禀赋,因地制宜地进行了统一的规划和差异化定位,整体形成了“葡萄酒+”的产业体系,共同构成以体验为主的乡村休闲文旅小镇集群,每年接待世界各地的游客达 500 万人次。

指出美国纳帕谷发展旅游业的优势条件,并简述纳帕谷乡村休闲文旅小镇集群对我国旅游业发展的借鉴意义。

44. [地理——选修 6:环境保护](10 分)

在富营养水体中,有些蓝藻常于某季节大量繁殖,并在水面形成一层蓝绿色且有腥臭味的浮沫,导致大规模的蓝藻暴发,被称为“绿湖”(和海洋发生的赤潮相对应)。巢湖是我国五大淡水湖之一,具有重要的生态功能。截至 2022 年 9 月 25 日,巢湖湖区蓝藻水华累计发生面积 877.33 km²,同比下降 51.8%,巢湖沿岸,已连续两年基本实现蓝藻不聚集、无异味。下图分别示意蓝藻暴发景观、巢湖位置及周边地理事物分布。



指出蓝藻暴发的危害,并说明现今巢湖湖区基本实现蓝藻不聚集、无异味的主要治理措施。

45. [历史——选修 1:历史上重大改革回眸](15 分)

材料

1928 年 6 月,国民党军队攻占北京,推动国民政府形式上统一全国的进程。6 月 15 日,南京国民政府发表对外宣言,声明“中国八十年来,备受不平等条约之束缚,既与国家相互尊重主权之原则相违背,亦为独立国家所不许。……今当中国统一告成之际,应进一步而遵正当之

手续实行重订新约。”南京国民政府外交部部长王正廷在就职演说中谈到了改订新约运动的内容和方针：“至废除不平等条约问题，窃以为关税自主最为我国起死回生之剂。”美国首先响应，双方于7月25日在北京正式签订了《中美关税条约》。以此为开端，到1928年底，先后有挪威、荷兰、英国、瑞典、法国等国同中国签订了关税条约，承认中国关税自主。日本为确保其在华利益，直到1930年才同中国签订了关税条约，关税自主运动最后基本完成。

——摘编自王玉玲 张晓峰《改订新约运动新评》

(1)根据材料并结合所学知识，概括南京国民政府关税自主运动的背景。(7分)

(2)根据材料并结合所学知识，说明南京国民政府关税自主运动的意义。(8分)

46. [历史——选修3:20世纪的战争与和平](15分)

材料

1990年8月2日，伊拉克出动10万军队，在坦克、飞机掩护下入侵科威特。数小时后，科威特首都失守，次日全境沦陷，8日，伊拉克宣布吞并科威特。翌年1月17日，根据联合国有关协议，以美国为首的多国部队70万人发动代号为“沙漠风暴”的行动，从而在中东地区爆发了第二次世界大战后规模最大的局部战争。在战争中，美军首次将大量高科技武器投入实战，特别是空军使用各式制导炸弹从航空母舰出击，展示了压倒性的制空、制电子优势，并首次通过人造卫星进行电视直播，给全世界留下了深刻的印象。经过40多天的空袭和地面攻击，2月26日，伊拉克被迫撤出科威特。4月11日，海湾实现正式停火。整场战争美军伤亡人数不足500，而伊拉克军队则几乎被集团化歼灭。海湾战争引起了包括中国在内的多国军队的关注，对冷战后国际新秩序的建立产生了深刻的影响。

——摘编自李成刚《冷战结束后的局部战争——海湾战争》

(1)根据材料，概括海湾战争的特点。(6分)

(2)根据材料并结合所学知识，简析海湾战争的影响。(9分)

47. [历史——选修4:中外历史人物评说](15分)

材料

纪昀，字晓岚，直隶献县(今河北沧州市)人，清代政治家、文学家。历任官左都御史，兵部、礼部尚书、协办大学士加太子太保管国子监事。乾隆三十六年(1771年)，纪晓岚被任命为《四库全书》的总纂纂官，动员了近四千人参与编写，最终编纂成包括3500余种书在内，近10亿字的鸿篇巨制。纪晓岚对于理学持怀疑和批判的态度，他在《阅微草堂笔记》中也说道：“汉儒之学，非读书稽古，不能下一语；宋儒之学，则人人皆可以空谈。”清代有司规定，妇女抗节被杀者为烈女，予以旌表，纪晓岚对此大不以为然，以为纯属道学家不情之论。他公然上表称：“挥刃捐生，其志与抗节被杀者无异。”著名学者余英时称纪晓岚为“乾嘉时代反程、朱的第一员猛将。”乾隆五十七年(1792年)，北京附近发生水灾与饥荒，灾民涌入京师，纪晓岚上书乾隆皇帝，取漕运万石米粮，提早数月大赈灾民，终于使民众得救。嘉庆十年(1805年)，纪晓岚任协办大学士、加太子太保。同年在京病逝。

——摘编自《清史稿·纪昀列传》

(1)根据材料，概括纪晓岚的主要成就。(6分)

(2)根据材料并结合所学知识，简析纪晓岚取得上述成就的原因。(9分)

关于我们

自主选拔在线是致力于提供新高考生涯规划、强基计划、综合评价、三位一体、学科竞赛等政策资讯的升学服务平台。总部坐落于北京，旗下拥有网站（网址：www.zizzs.com）和微信公众平台等媒体矩阵，用户群体涵盖全国 90% 以上的重点中学师生及家长，在全国新高考、自主选拔领域首屈一指。

如需第一时间获取相关资讯及备考指南，请关注**自主选拔在线**官方微信号：**zizzsw**。



微信搜一搜

自主选拔在线

