

- A. 数据、信息和知识是人类对客观事物感知的三个不同阶段  
B. 数据是对事物属性的客观记录,信息是经过组织的有结构的数据  
C. 知识是经过人的思维整理过的信息、数据、形象、价值标准以及社会的其他符号化产物  
D. 数据、信息、知识依赖于语境、依赖于接受者本身,三者之间的区别泾渭分明
- 正确答案: D**

**【第 10 题】**

“小明同学的口腔温度是 38℃”、“38”和“成年人清晨安静状态下的口腔正常温度在 36.3-37.2℃”,这三种描述分别属于( )。

- A. 信息、数据、知识  
B. 数据、信息、知识  
C. 信息、知识、数据  
D. 知识、数据、信息

**正确答案: A**

**【第 11 题】**

某同学收到一封中奖电子邮件,要求他提供银行账户和密码以便支付税款,这种网络攻击手段属于( )。

- A. 密码破解      B. 漏洞扫描  
C. 网络钓鱼      D. DDoS 攻击

**正确答案: C**

**【第 12 题】**

当电脑受到某病毒入侵之后,电脑当中的文件会被加密而无法打开,要求使用者提供一定金额的比特币后,黑客才会提供解锁的密码,这种病毒可能是( )。

- A. 恺撒密码      B. 熊猫烧香  
C. 勒索病毒      D. 挖矿病毒

**正确答案: C**

**【第 13 题】**

现实世界客观事物的符号记录,称为

( )。

- A. 数据      B. 二进制  
C. 知识      D. 数字

**正确答案: A**

**【第 14 题】**

数据、信息和知识可以看作人类对客观事物感知的三个不同阶段。其中,经过人的思维整理过的形象、价值标准以及社会的其他符号化产物是( )。

- A. 数据      B. 信息  
C. 知识      D. 智慧

**正确答案: C**

**【第 15 题】**

信息是有意义的( )。

- A. 数据      B. 数字  
C. 知识      D. 智慧

**正确答案: A**

**【第 16 题】**

关于人工计算、自动工具计算和编程计算三种计算方式,下列说法正确的是( )。

- A. 人工计算的使用成本是三种计算方式中最低的  
B. 当今时代不采用人工计算来解决问题  
C. 依据实情,灵活运用三种计算方式将有助于提高数据计算的效率  
D. 由于计算机的日益普及,编程解决计算问题是最方便的

**正确答案: C**

**【第 17 题】**

一名高中生,在通过学校的智慧校园和学习系统进行数学课程的学习时,利用信息技术手段,将数学课本中的概念、方法等内容做成思维导图,并制作成一个生动的动画。这主要体现了数字化学习的是( )。

- A. 合作性      B. 开放化

C. 创造性和再生性 D. 个性化

**正确答案: C**

**【第 18 题】**

Access2016 数据库的字段类型中, 字段大小固定的是 ( )。

- A. 短文本 B. 数字  
C. 单精度型 D. 日期/时间

**正确答案: D**

**【第 19 题】**

在关系型数据库中, 一个关系对应一个 ( )。

- A. 层次模型 B. 网状模型  
C. 二维表 D. 记录

**正确答案: C**

**【第 20 题】**基于学校大数据教学支撑平台, 每个同学都可以根据自己的特点安排学习进度。这体现了数字化学习特征的 ( )。

- A. 个性化 B. 合作性  
C. 问题化 D. 创造性和再生性

**正确答案: A**

**【第 21 题】**

下列属于计算机输出设备的是 ( )。

- A. 视频卡 B. 录音笔  
C. 打印机 D. 扫描仪

**正确答案: C**

**【第 22 题】**

下列属于信息存储工具的是 ( )。

- A. 搜索引擎 B. 多媒体应用软件  
C. 音频 D. 硬盘

**正确答案: D**

**【第 23 题】**

某软件可以让购房者不用去实地, 就可身临其境般查看房屋, 这项功能主要应用了 ( )。

- A. 3D 打印技术 B. 虚拟现实技术  
C. 物联网技术 D. 图像压缩技术

**正确答案: B**

**【第 24 题】**

疫情期间, 学校积极开展“停课不停学”, 下列工具适合师生间信息交流与传输的是 ( )。

- ①电子邮件 ②搜索引擎 ③微信 ④腾讯课堂

A. ①②④ B. ②③④

C. ①②③ D. ①③④

**正确答案: D**

**【第 25 题】**

微信是当今网络信息交流的主要工具之一。下列关于微信的叙述正确的是 ( )。

- A. 微信可以分享图片, 但不能分享视频  
B. 微信可以作为公共平台发布信息  
C. 微信内容可以随便转发, 不受网络文明道德约束  
D. 微信只可以聊天, 不能传输文件

**正确答案: B**

**【第 26 题】**

学校准备拍摄校庆文艺晚会视频, 下列设备能用于拍摄的是 ( )。

- A. 投影仪 B. 智能手机  
C. 打印机 D. 扫描仪

**正确答案: B**

**【第 27 题】**

小明同学用计算机文件夹对复习资料进行分科目整理。他采用的资源管理方式是 ( )。

- A. 数据库管理 B. 人工管理  
C. 文件管理 D. 自然管理

**正确答案: C**

**【第 28 题】**

浏览器收藏夹可以用来保存常用的学习网站, 下列说法正确的是 ( )。

- A. 收藏夹不可以进行修改、复制和删除操



作

- B. 收藏夹的保存路径不可以修改
- C. 收藏夹通常不会自动添加浏览过的网址
- D. 收藏夹不可以进行导入、导出

正确答案: C

【第 29 题】

浏览器“收藏夹”保存的是 ( )。

- A. 网页的链接
- B. 网站的域名
- C. 网页代码
- D. 网页中的内容

正确答案: A

【第 30 题】

暑假期间,班主任想快速收集学生外出活动信息。下列比较便捷的方式是 ( )。

- A. 在线文档收集
- B. 电话逐个询问
- C. 入户登记
- D. 电子邮件交流

正确答案: A

【第 31 题】

小军为了填报高考志愿,想快速了解全国所有开设计算机科学与技术专业的大学信息,下列最便捷可靠的方式是 ( )。

- A. 去图书馆查询
- B. 向老师咨询
- C. 论坛发帖求助
- D. 官方平台查询

正确答案: D

【第 32 题】

下列不是系统软件的是 ( )。

- A. DOS
- B. iOS
- C. Android
- D. WPS

正确答案: D

【第 33 题】

数字图书馆与传统图书馆相比,它的主要优势体现在 ( )。

- A. 方便信息检索
- B. 方便信息加工
- C. 方便信息交流
- D. 方便信息修改

正确答案: A

【第 34 题】

互联网时代,数字化学习得到进一步推广。

下列关于数字化学习描述正确的是 ( )。

- A. 网络课程的学习限制了创新思维的培养
- B. 数字化学习不利于激发学生者的创造力
- C. 数字化学习的交流是双向的,多对多的
- D. 互联网环境下,数字化学习模式是相同的

正确答案: C

【第 35 题】

使用爬虫技术不适合采集 ( )。

- A. 权威网站的数据
- B. 官方微博的数据
- C. 微信公众号的数据
- D. 私密信息

正确答案: D

【第 36 题】

要想了解最新疫情风险等级地区,最可靠的做法是 ( )。

- A. 登录疾控部门官网查询
- B. 查看微信朋友圈
- C. 打电话询问同学
- D. 查看同学的 QQ 空间

正确答案: A

【第 37 题】

下列图表类型可用于空间关系分析的是 ( )。

- A. 折线图
- B. 饼图
- C. 数据地图
- D. 柱形图

正确答案: C

【第 38 题】

某研究院利用大数据成功预测第 86 届奥斯卡金像奖 24 个奖项中的 21 个,向人们展示现代科技的神奇魔力。对于该案例,下列说法正确的是 ( )。

- A. 数据分析只可以应用于预测分析
- B. 数据分析可以探究数据内在的规律

C. 大数据分析倾向于抽样数据而不是全量数据

D. 大数据都采用集中式存储

正确答案: B

【第 39 题】

媒体记者准备制作一张我国十八大以来反映脱贫人口逐年变化情况的图表, 适合选用的图表类型是 ( )。

- A. 雷达图                      B. 饼图  
C. 散点图                      D. 折线图

正确答案: D

【第 40 题】

为了在城市地图上实时显示人群分布、密度和变化趋势情况, 最合适的可视化表达方式是 ( )。

- A. 柱形图                      B. 雷达图  
C. 折线图                      D. 动态热力图

正确答案: D

【第 41 题】

数据可以用表格, 也可以用图表呈现, 下列说法正确的是 ( )。

- A. 图表来源于表格, 所以用表格更好  
B. 图表一旦生成, 便不会随表格数据的变化而变化  
C. 可以通过修改图表来改变表格数据内容  
D. 图形化表示更形象直观

正确答案: D

【第 42 题】

为了直观展示政府工作报告高频词, 最适合选用的可视化表达方式是 ( )。

- A. 热力图                      B. 雷达图                      C. 网络图  
D. 词云

正确答案: D

【第 43 题】

最适合呈现全国人口变化情况的图表类型是 ( )。

- A. 折线图                      B. 饼图  
C. 热力图                      D. 散点图

正确答案: A

【第 44 题】

具备自动寻址能力和数据交换作用的设备是 ( )。

- A. 网卡                          B. 交换机  
C. 路由器                      D. 网络连接

正确答案: B

【第 45 题】

可以用于不同网络间的连接设备是 ( )。

- A. 网卡                          B. 交换机  
C. 路由器                      D. 网络连接

正确答案: C

【第 46 题】

学习小组利用 FTP 服务上传、下载文件体现了网络的功能是 ( )。

- A. 分布处理                      B. 数据通信  
C. 提高性能                      D. 资源共享

正确答案: D

【第 47 题】

下列选项不属于数字化工具优势的是 ( )。

- A. 获取的便捷性                      B. 形式的多样性  
C. 资源的共享性                      D. 内容的固定性

正确答案: D

【第 48 题】

数据分析报告是整个数据分析过程的成果。对数据分析报告的要求不包括 ( )。

- A. 数据分析必须全部基于权威部门公开发布的数据  
B. 数据分析的推理要有很强的逻辑性和严谨性  
C. 数据分析报告要有数据分析的结论  
D. 分析报告要有较强的可读性



**正确答案：A**

**【第 49 题】**

下列应用中，与计算机网络数据库无关的是（ ）。

- A. 使用信用卡刷卡购物
- B. 用电子表格统计考试成绩
- C. 在 ATM 机上存取款
- D. 在网上商城购物

**正确答案：B**

**【第 50 题】**

下列关于算法的描述正确的是（ ）。

- A. 算法只能用流程图来表示
- B. 一个算法，当没有输入时，也没有输出
- C. 一个算法的执行步骤可以是无限的
- D. 一个算法可以没有输入

**正确答案：D**

**3825-3874**

**【第 1 题】**

想要在 Python 程序运行时产生一个随机数，需要导入的模块是（ ）。

- A. data                      B. random
- C. pygame                  D. turtle

**正确答案：B**

**【第 2 题】**

某单位对员工考勤使用人脸识别，工作原理是提取人脸图像的特征进行身份识别，其工作流程分为：①采集人脸图像②预处理人脸图像③员工签到成功④匹配人脸图像特征值⑤提取人脸图像特征。正确的顺序是（ ）。

- A. ①④⑤②③              B. ①②⑤④③
- C. ①②③④⑤              D. ①⑤④②③

**正确答案：B**

**【第 3 题】**

一个软件开发过程描述了“谁做”、“做什么”、“怎么做”和“什么时候做”，下列选项中，表示“谁做”的是（ ）。

- A. 活动                      B. 角色 C. workflow D. 制品

**正确答案：B**

**【第 4 题】**

某公司目前有 30 台电脑想要组建局域网，选用的 IP 地址开头为 192，该类 IP 地址属于（ ）。

- A. A 类 IP 地址              B. B 类 IP 地址
- C. C 类 IP 地址              D. 无法判断

**正确答案：C**

**【第 5 题】**

关于域名 http://www.nju.edu.cn，下列说法正确的是（ ）。

- A. 这是一个中国的政府部门站点
- B. 这是一个中国的教育部门站点
- C. 这是一个中国的公益组织站点
- D. 这是一个中国的商业组织站点

**正确答案：B**

**【第 6 题】**

为了不让别人“蹭”自己家的 Wi-Fi，下列做法错误的是（ ）。

- A. 绑定自己家上网终端的 MAC
- B. 在路由器中选 WPA2 PSK 加密比 WEP 加密安全性更好
- C. 限定路由器的上网速度
- D. 定期更换路由器的无线密码

**正确答案：C**

**【第 7 题】**

可以充当无线网络中的接入点、交换机和路由器角色的是（ ）。

- A. 无线路由器              B. 无线网卡
- C. 交换机                      D. 传输介质

**正确答案：A**

**【第 8 题】**

家用无线路由器一般含有 LAN 口和 WAN 口。（ ）口用来连接宽带运营的设备，（ ）口用来连接计算机、交换机等设备。

- A. LAN WAN    B. WAN LAN  
C. WAN WAN    D. LAN LAN

正确答案: B

【第9题】

信息技术是把双刃剑,要发挥信息技术对社会的积极推动作用,需要依靠( )。

- ①人类的道德自律  
②社会的法律法规  
③公民的社会责任感  
④公民的信息素养

- A. ①②            B. ①②④  
C. ①②③        D. ①②③④

正确答案: D

【第10题】

小明在家中安装无线网络,计算机连接无线路由器的端口和外网连接无线路由器的端口分别是( )。

- A. LAN、WAN    B. WAN、LAN  
C. WLAN、DNS    D. MAN、LAN

正确答案: A

【第11题】

在局域网中由于计算机的数量较多,需要在网络中增加的设备是( )。

- A. 网卡            B. 调制解调器  
C. 路由器        D. 交换机

正确答案: D

【第12题】

小明家里的台式计算机要和家庭路由器进行有线连接,最恰当的传输介质是( )。

- A. 双绞线        B. 粗缆  
C. 细缆            D. 光纤

正确答案: A

【第13题】

大型电商购物信息系统,在处理任务时将任务分散到不同的计算机分别完成,提高系统的实时性、可靠性和可用性,这体现

了计算机网络在信息系统中的作用是( )。

- A. 数据传输        B. 资源共享  
C. 分布式处理    D. 统一管理

正确答案: C

【第14题】

云计算通过网络“云”将巨大的数据计算处理程序分解成无数个小程序,然后通过多部服务器组成的系统进行处理和分析这些小程序得到结果并返回给用户,该描述体现了( )。

- A. 虚拟化            B. 软件即服务  
C. 资源无限        D. 分布式处理

正确答案: D

【第15题】

计算机网络可以将原本独立的设备进行物理连接,实现人与人、人与机器、机器与机器之间的信息传输和交换从而达到( )。

- A. 软件共享        B. 设备通信  
C. 硬件共享        D. 资源共享和数据传输

正确答案: D

【第16题】

某公司财务室有3台电脑,要组建局域网共享数据,最适合使用的网络设备是( )。

- A. 路由器        B. 服务器  
C. 交换机        D. 中继器

正确答案: C

【第17题】

在公交查询系统中输入起点和终点,系统会自动选出耗时最少、最快捷的路线,这属于计算机领域的( )。

- A. 数据挖掘        B. 优化决策  
C. 模式识别        D. 机器博弈

正确答案: B

【第18题】



下列不合法的 IP 地址是 ( )。

- A. 202. 103. 128. 51
- B. 251. 253. 248. 249
- C. 172. 12. 170. 132
- D. 192. 168. 13. 257

**正确答案: D**

**【第 19 题】**

下列属于合法 IP 地址的是 ( )。

- A. 10. 1. 2
- B. 172. 268. 2. 3
- C. 192. 168. 2. 3
- D. 0. 0. 0. 0

**正确答案: C**

**【第 20 题】**

计算机中的系统软件是具有通用功能的软件, 包括操作系统、语言处理程序、( ), 用于帮助用户使用计算机资源。

- A. 办公软件
- B. 动画软件
- C. 数据库管理系统
- D. 播放软件

**正确答案: C**

**【第 21 题】**

计算机软件分为系统软件和应用软件。应用软件在系统软件之上工作, 用于解决某类具体问题。以下属于应用软件的是 ( )。

- A. Windows
- B. Flash
- C. Access
- D. Python

**正确答案: B**

**【第 22 题】**

下列软件中, 属于网络操作系统的是 ( )。

- A. Python
- B. UNIX
- C. Access
- D. Explorer

**正确答案: B**

**【第 23 题】**

下列不是数据库特点的是 ( )。

- A. 数据共享性高
- B. 数据冗余度高
- C. 数据独立性高
- D. 数据易扩充

**正确答案: B**

**【第 24 题】**

一家银行有多个储户, 一个储户能够在多家银行存取款, 银行与储户之间的关系是 ( )。

- A. 多对多
- B. 一对一
- C. 一对多
- D. 多对一

**正确答案: A**

**【第 25 题】**

一个综合型大型超市的信息系统, 其数据存储的合理方案是使用 ( )。

- A. 多个自定义工作文档
- B. 含多个表格的工作簿文件
- C. 专门的数据库
- D. 独立的网站

**正确答案: C**

**【第 26 题】**

下列没有使用射频识别技术的是 ( )。

- A. 公交 IC 卡
- B. 食堂电子就餐卡
- C. 宾馆门禁卡
- D. 纸质名片

**正确答案: D**

**【第 27 题】**

将红外线信号转化为电信号的半导体器件是 ( )。

- A. 红外线发射管
- B. 红外线接收管
- C. 开关三极管
- D. 超声波传感器

**正确答案: B**

**【第 28 题】**

下列属于信息系统优势的是 ( )。

- A. 系统的故障可能导致业务的瘫痪
- B. 系统使用很难照顾到所有人群的使用习惯
- C. 信息系统的应用降低了企业的人力成本
- D. 数据的收集可能危害个人的隐私

**正确答案: C**

**【第 29 题】**

大数据环境下的隐私担忧主要表现为

( )。

- A. 个人信息泄露
- B. 恶意广告推送
- C. 病毒入侵
- D. 信息诈骗

**正确答案: A**

**【第 30 题】**

下列对信息系统在社会应用中的描述,错误的是( )。

- A. 信息系统的应用能够简化人们日常工作中大量机械重复的操作
- B. 由于系统本身的复杂性,信息系统设计缺陷容易导致用户损失
- C. 计算机设备终端部署了防病毒系统,一定能保护信息系统不受病毒攻击
- D. 信息系统有助于管理和决策的科学化

**正确答案: C**

**【第 31 题】**

以下不属于信息社会赖以生存的三大资源是( )。

- A. 信息资源
- B. 物质资源
- C. 能源资源
- D. 软件资源

**正确答案: D**

**【第 32 题】**

信息系统的体系结构类型中,取消了服务器中心地位,计算机通过数据交换直接共享资源和服务的是( )。

- A. C/S 结构
- B. P2P 结构
- C. B2C 结构
- D. B/S 结构

**正确答案: B**

**【第 33 题】**

关于 SQL 中的 DELETE 命令,下列说法正确的是( )。

- A. DELETE 命令用于删除数据库
- B. DELETE 命令用于删除数据表中的部分字段
- C. DELETE 命令用于删除数据表中符合条件的记录
- D. DELETE 命令用于删除数据表中符合条

件部分字段

**正确答案: C**

**【第 34 题】**

某员工工资表中包含工号、姓名、工资、职称等字段,查找工资在 3000 元以上并且职称为“工程师”的记录,其逻辑表达式为( )。

- A. “工资”>3000 OR 职称=“工程师”
- B. 工资>3000 AND 职称=“工程师”
- C. “工资”>3000 AND “职称”=“工程师”
- D. 工资>3000 AND 职称=工程师

**正确答案: B**

**【第 35 题】**

在 SQL 语言中,表示职称为“中小学高级”,同时性别为“女”的逻辑表达式为( )。

- A. 职称='中小学高级' OR 性别='女'
- B. 职称='中小学高级' AND 性别='女'
- C. BETWEEN '中小学高级' AND '女'
- D. IN ('中小学高级','女')

**正确答案: B**

**【第 36 题】**

软件可以从不同角度进行分类,下列选项中分类合理且完整的是( )。

- A. 系统软件和应用软件
- B. 操作系统和工具软件
- C. 程序设计语言与通用应用软件
- D. 通用应用软件与工具软件

**正确答案: A**

**【第 37 题】**

软件可分为系统软件和应用软件,下列均属于应用软件的是( )。

- A. WPS、鸿蒙系统
- B. QQ、Unix
- C. Python、Photoshop
- D. PDF 阅读器、ACDsee

**正确答案: D**

**【第 38 题】**



下列不属于系统软件的是 ( )。

- A. Windows 10                      B. SQL Server  
C. Python 语言编译器      D. WPS

正确答案: D

【第 39 题】

用户直接通过浏览器来访问信息系统的结构是 ( )。

- A. C/S 结构                      B. B/S 结构  
C. P2P 结构                      D. C2C 结构

正确答案: B

【第 40 题】

以下属于常见手机操作系统的是 ( )。

- A. Linux                      B. Windows  
C. Unix                      D. Android

正确答案: D

【第 41 题】

某银行的在线业务,需要用户自行下载客户端安装在手机上才能完成,下列描述正确的是 ( )。

- A. 该系统的体系结构类型是 C/S  
B. 该系统的体系结构类型是 B/S  
C. 该系统的体系结构类型是对等网结构  
D. 该信息系统是专家系统

正确答案: A

【第 42 题】

下列选项中,专门用于开发手机应用软件的是 ( )。

- A. Access                      B. Photoshop  
C. APP Inventor      D. WPS 文字

正确答案: C

【第 43 题】

软件开发时的需求分析一般要由三类人员一起完成,其中不包括 ( )。

- A. 软件分析人员      B. 开发人员  
C. 客户/用户                      D. 客服人员

正确答案: D

【第 44 题】

下列不属于关系型数据库管理系统的是 ( )。

- A. MySQL                      B. Access  
C. SQL Server                      D. WPS 表格

正确答案: D

【第 45 题】

下列关于 Access 数据库说法正确的是 ( )。

- A. Access 数据库中无法存储图片或视频  
B. Access 是大型数据库管理系统  
C. 在 Access 数据表视图中,误删了某个字段中的值,可以通过“撤销”恢复  
D. 在 Access 数据表输入数据后,不能再将任何字段设置为主键

正确答案: C

【第 46 题】

下列属于应用软件的是 ( )。

- A. 操作系统                      B. 程序设计语言  
C. 数据库管理系统      D. 电子表格处理软件

正确答案: D

【第 47 题】

随着移动终端的普及,很多餐厅推出电子点餐软件方便顾客下单及结账,作为开发人员,在需求分析阶段要确定的主要任务是 ( )。

- A. 软件的开发价值  
B. 软件的功能模块  
C. 软件的开发工具  
D. 软件开发的费用和进度

正确答案: B

【第 48 题】

信息系统的设计、开发、管理和应用都需要围绕 ( )。

- A. 人                      B. 硬件  
C. 网络                      D. 软件

正确答案: A

**【第 49 题】**

地理信息系统中通过卫星定位系统实现原始地理信息采集的功能是（ ）。

- A. 输入功能      B. 输出功能  
C. 处理功能      D. 控制功能

**正确答案：A**

**【第 50 题】**

小明通过铁路网络订票系统 12306 订票时，需要在系统中选择出发站和终点站，这个过程体现了信息系统的（ ）。

- A. 输入功能      B. 处理功能  
C. 控制功能      D. 存储功能

**正确答案：A**

**3875-3924**

**【第 1 题】**

学校采用学生选课系统来管理庞大的课程选修信息，该系统属于（ ）。

- A. 字处理软件      B. 图像处理软件  
C. 多媒体制作软件      D. 数据库应用软件

**正确答案：D**

**【第 2 题】**

计算机硬件系统的基本组成部分包括（ ）。

- A. CPU、输入设备、输出设备、存储器  
B. 运算器、控制器、输入设备、输出设备  
C. 运算器、控制器、输入设备、ROM  
D. 运算器、控制器、输入设备、输出设备、操作系统

**正确答案：A**

**【第 3 题】**

从系统结构组成的复杂程度来看，彩票摇号系统属于（ ）。

- A. 简单系统      B. 复杂系统  
C. 随机系统      D. 数据库系统

**正确答案：C**

**【第 4 题】**

某计算机配置为：i7

8700/16GB/2TB/DVD/2G 独显/19.5LCD，该参数描述中表示内存大小的是（ ）。

- A. i7 8700      B. 16GB  
C. 2TB      D. 2G

**正确答案：B**

**【第 5 题】**

只读存储器的英文缩写是（ ）。

- A. RAM      B. ROM  
C. CACHE      D. CPU

**正确答案：B**

**【第 6 题】**

智能手机系统中指挥、控制手机工作的核心部件是（ ）。

- A. 触摸屏      B. 摄像头  
C. 处理器      D. 存储器

**正确答案：C**

**【第 7 题】**

下列不属于移动终端输入输出设备的是（ ）。

- A. 指纹识别器      B. 触摸屏  
C. 耳机      D. 电路板

**正确答案：D**

**【第 8 题】**

下列不属于决策支持系统的是（ ）。

- A. 心理健康评估系统      B. 天气预报信息系统  
C. 物资分配调拨系统  
D. 伺服机器人

**正确答案：D**

**【第 9 题】**

下列不属于学校图书管理信息系统组成部分的是（ ）。

- A. 图书登记      B. 图书查询  
C. 防盗检测      D. 图书馆结构

**正确答案：D**

**【第 10 题】**

下列选项中，不属于移动终端的是（ ）。



- A. 智能手机      B. 台式计算机  
C. 笔记本电脑    D. 平板电脑

正确答案: B

【第 11 题】

关于移动终端和台式计算机在信息系统中的作用,叙述错误的是( )。

- A. 移动终端也是一种计算机设备  
B. 信息系统中使用计算机或移动终端实现人机交互  
C. 移动终端的功能越来越强大,已成为移动办公和移动商务的重要工具  
D. 移动终端的广泛应用说明台式计算机正逐渐被移动终端淘汰和替代

正确答案: D

【第 12 题】

在计算机系统中,对计算机各类资源进行统一协调和管理的软件是( )。

- A. 语音处理程序    B. 应用软件  
C. 操作系统        D. 数据库管理系统

正确答案: C

【第 13 题】

在 IPv4 的 IP 地址中,有一类 IP 地址,前三个字节是网络地址,理论上最多拥有( )台主机。

- A.  $2^{32} - 2$       B.  $2^{24} - 2$   
C.  $2^{16} - 2$       D.  $2^8 - 2$

正确答案: D

【第 14 题】

如图为某购票系统的查询结果,该图片展示的是购票系统的( )功能。



- A. 输入            B. 输出  
C. 存储            D. 控制

正确答案: B

【第 15 题】

校园安防管理系统主要依托的网络类型是( )。

- A. 计算机网络      B. 移动通信网络  
C. 广播电视网络    D. 卫星通信网络

正确答案: A

【第 16 题】

生活中人们通过计算机网络进行聊天,主要体现了计算机网络在信息系统中起到的作用是( )。

- A. 资源共享        B. 数据处理  
C. 数据传输        D. 分布式处理

正确答案: C

【第 17 题】

在“停课不停学”期间,老师把录制好的网课,通过网上课堂的形式进行播放,主要体现了计算机网络在信息系统中起到的作用是( )。

- A. 数据传输        B. 数据处理  
C. 信息交流        D. 分布式处理

正确答案: A

【第 18 题】

关于计算机网络,下列说法正确的是( )。

- A. 计算机网络按地域范围可分为局域网、城域网和互联网  
B. TCP/IP 协议就是互联网的唯—协议  
C. 计算机网络可分为有线网、无线网和宽带网络  
D. 计算机网络可以实现数据传输和资源共享

正确答案: D

【第 19 题】

下列不属于计算机网络主要功能的是

( )。

- A. 数据传输      B. 资源共享  
C. 云存储      D. 分布式处理

正确答案: C

【第 20 题】

下列英文缩写中,超文本传输协议是( )。

- A. HTML      B. CSS  
C. HTTP      D. WWW

正确答案: C

【第 21 题】

接入设备自动获取 IP 地址时使用的协议是( )。

- A. DNS      B. FTP  
C. DHCP      D. HTTP

正确答案: C

【第 22 题】

在同一个计算机网络中,实现计算机之间数据交换的关键设备是( )。

- A. 网卡      B. 网线  
C. 交换机      D. 服务器

正确答案: C

【第 23 题】

在不同计算机网络之间,实现跨网络数据传输的关键设备是( )。

- A. 交换机      B. 无线网卡  
C. 网线      D. 路由器

正确答案: D

【第 24 题】

物联网的体系结构分为感知层、网络层和( )。

- A. 表示层      B. 数据链路层  
C. 应用层      D. 传输层

正确答案: C

【第 25 题】

( )是物联网的基础,是联系现实物理世界与虚拟信息世界的纽带。

- A. 会话层      B. 感知层  
C. 网络层      D. 应用层

正确答案: B

【第 26 题】

扫地机器人安装了多种传感器,下列传感器中扫地机器人一般不需要的是( )。

- A. 超声波传感器,红外测距传感器  
B. 防碰撞传感器,防跌落传感器  
C. 气敏传感器,化学传感器  
D. 陀螺仪和电子罗盘

正确答案: C

【第 27 题】

智能健康手环的应用开发,体现了( )的数据采集技术应用。

- A. 网络爬虫      B. 网络报表统计  
C. API 接口      D. 传感器

正确答案: D

【第 28 题】

下列哪个不是物联网中常见的物体标识方式?( )

- A. 条形码      B. 电子标签  
C. 二维码      D. 电子签名

正确答案: D

【第 29 题】

高速公路不停车收费系统(ETC)要求车主申请一个电子标签作为车辆的身份标识,这是一种典型的( )。

- A. 传感器技术      B. 射频识别技术  
C. ZigBee 技术      D. M2M 技术

正确答案: B

【第 30 题】

利用 RFID、传感器、二维码等随时随地获取物体的信息,指的是( )。A. 可靠传递      B. 全面感知

- C. 智能处理      D. 互联网

正确答案: B

【第 31 题】



通过各种信息传感设备,按照约定的协议,把任何物品与互联网连接起来,进行信息交换、信息通信和信息处理,以实现智能化识别,定位、跟踪和管理的网络是( )。

- A. 万维网    B. 计算机互联网  
C. 广域网    D. 物联网

**正确答案:** D

**【第 32 题】**

下列不属于 RFID 技术应用领域的是( )。

- A. 食品安全溯源  
B. 用手机扫二维码支付货款  
C. 高速公路的 ETC 系统自动收费  
D. 停车场自动收费

**正确答案:** B

**【第 33 题】**

传感器通常被比喻成人的五大感觉器官,如果将传感器的功能依次对应人的视觉、听觉、嗅觉、味觉、触觉,下列传感器与其对应的是( )。

- ①光敏传感器 ②声敏传感器 ③气敏传感器 ④化学传感器 ⑤压敏传感器  
A. ③②①④⑤    B. ①②③④⑤  
C. ④②③①⑤    D. ①②③⑤④

**正确答案:** B

**【第 34 题】**

能感受到被测量的信息,并能将感受到的信息按一定规律转换为电信号或其他所需形式的装置是( )。

- A. 鼠标、键盘等计算机输入设备  
B. 嵌入式系统  
C. RFID 系统  
D. 传感器

**正确答案:** D

**【第 35 题】**

智能手机的亮度设置为自动调节后,手机

屏幕在强光下会相应地调高亮度,原因是手机采用了下列哪项技术?( )

- A. 蓝牙    B. 电子标签  
C. 摄像头    D. 传感器

**正确答案:** D

**【第 36 题】**

智能公交站的显示屏可以显示公交车辆的到站预报信息,包括线路预报、地点预报和时间预报等。这是因为公交车上安装了( )。

- A. 电子标签    B. 智能跟踪系统  
C. 卫星定位系统    D. 遥感系统

**正确答案:** C

**【第 37 题】**

为了提高食品安全,使用物联网技术可以及时了解农产品生产、运输、存储、销售等各个环节,这其中没有使用的技术是( )。

- A. 纳米技术    B. 定位技术  
C. 网络技术    D. 遥感技术

**正确答案:** A

**【第 38 题】**

在射频识别系统中,真正的数据载体是( )。

- A. 读写器    B. 电子标签  
C. 天线    D. 中间件

**正确答案:** B

**【第 39 题】**

下面关于射频识别技术(RFID)的描述正确的是( )。

- A. RFID 是一种有线通信技术  
B. 阅读器和电子标签是 RFID 系统的组成部分  
C. RFID 技术阅读速度极快,但是在恶劣天气中不能正常工作  
D. RFID 对识别高速运动的物体有限制,只能识别低速的物体



**正确答案：B**

**【第40题】**

在智能安防系统中，一旦发现人员异常进出立即启动警报，其使用的传感器为（ ）。  
A. 红外传感器    B. 光敏传感器  
C. 声音传感器    D. 气敏传感器

**正确答案：A**

**【第41题】**

关于二维码，下列描述错误的是（ ）。  
A. 二维码图片大小调整后一定会发生读取错误  
B. 二维码可以表示图像、文字甚至声音  
C. 二维码采用高密度编码，信息容量大  
D. 二维码容错和纠错的能力强

**正确答案：A**

**【第42题】**

人们常将传感器的功能与人类五大感觉器官相比拟，以下说法正确的是（ ）。

- ①光敏传感器相当于视觉
  - ②声敏传感器相当于听觉
  - ③气敏传感器相当于嗅觉
  - ④化学传感器相当于味觉
  - ⑤压敏、温敏、湿敏等传感器相当于触觉
  - ⑥磁敏传感器相当于第六感觉
- A. ①②③④⑥    B. ②③④⑤⑥  
C. ①③④⑤⑥    D. ①②③④⑤

**正确答案：D**

**【第43题】**

控制系统由控制部分和被控对象组成。下列不是控制部分组成的是（ ）。

- A. 传感器    B. 微调整器  
C. 控制器    D. 执行器

**正确答案：B**

**【第44题】**

关于远程控制，下列说法错误的是（ ）。

- A. 通过简单的终端机完全地控制网络另

一端的受控机，从而完成强大的控制功能，获取受控机的信息，称为远程控制

B. 现场采用连接电缆的方式下载文件是一种远程控制的应用

C. 用手机无线操控无人机是一种远程控制的应用

D. Windows 7 操作系统的远程桌面应用可以远程协助另一台计算机

**正确答案：B**

**【第45题】**

计算机网络在信息系统中的作用主要有数据传输、资源共享和（ ）。

- A. 远程控制    B. 分布式处理  
C. 云计算    D. 虚拟存储

**正确答案：B**

**【第46题】**

下列关于 IP 地址的描述中正确的是（ ）。

- A. IPv4 由 24 个二进制位组成  
B. 100.184.7.25 是正确的 IPv4 地址  
C. IPv6 采用 64 位二进制数表示  
D. 在同一个局域网中，一个 IP 地址可以为多台网络终端共用

**正确答案：B**

**【第47题】**

从 www.nju.edu.cn 可以看出，这个网站所表示的组织类型是中国的（ ）。

- A. 教育部门    B. 工商部门  
C. 军事部门    D. 政府部门

**正确答案：A**

**【第48题】**

二进制数 0111000 对应的十进制数是（ ）。

- A. 56    B. 111  
C. 20    D. 1110

**正确答案：A**

**【第49题】**



IP 地址 10.120.202.212 的类别是 ( )。

- A. A 类 B. B 类  
C. C 类 D. D 类

正确答案: A

【第 50 题】

带宽表示网络通信线路传输数据的能力, 下列属于带宽单位的是 ( )。

- A. Byte B. bit  
C. bit/s D. Hz

正确答案: C

3925-3974

【第 1 题】

下列属于交换机所具备的功能是 ( )。

- A. 数据交换  
B. 资源共享和数据通信  
C. 放大信号和地址解析  
D. 能够连接异构网络

正确答案: A

【第 2 题】

路由器最主要的功能是 ( )。

- A. 传输路径的选择 B. 过滤数据  
C. 提高传输速度 D. 流量控制

正确答案: A

【第 3 题】

小明家中有 2 台笔记本电脑通过同一个局域网连接上网, 其中一台的网络参数如下图, 那么另外一台笔记本电脑的 IP 地址最有可能是 ( )。

网络连接详细信息 (D):

属性	值
连接特定的 DNS 后缀	
描述	Realtek RTL8713BP Wireless LAN
物理地址	88-E2-45-17-F6-2E
已启用 DHCP	是
IPv4 地址	192.168.0.105
IPv4 子网掩码	255.255.255.0
获得租约时间	2021年7月26日 星期一 下午 3:46
租约过期时间	2021年7月26日 星期一 下午 5:46
IPv4 默认网关	192.168.0.1
IPv4 DHCP 服务器	192.168.0.1
IPv4 DNS 服务器	192.168.1.1 192.168.0.1

A. 192.168.2.100

B. 192.168.1.101

C. 192.168.0.101

D. 192.168.2.256

正确答案: C

【第 4 题】

下列关于数据分析报告叙述正确的是 ( )。

- A. 数据分析报告可以忽略项目分析的过程  
B. 数据分析报告不用明确分析的目的与背景  
C. 数据的来源与质量不会影响数据分析的结论  
D. 数据分析报告可以为管理者提供决策依据

正确答案: D

【第 5 题】

网格员准备做一份关于社区老龄化的数据分析报告。下列说法正确的是 ( )。

- A. 该报告要有社区老龄化数据分析的结论与建议  
B. 老龄化数据分析的目的与背景在报告中可以忽略  
C. 报告中数据来源、质量可以不用说明  
D. 报告中关于数据分析的思路与方法可以略写或不写

正确答案: A

【第 6 题】

下列关于数据分析报告, 说法正确的是 ( )。

- A. 数据分析报告要清楚、准确地报告研究者为解决所研究的问题而做的一切工作  
B. 数据分析报告是为了给相关人员提供信息, 帮助他们更好地决策  
C. 数据分析报告的呈现方式必须用图表  
D. 数据分析报告重点呈现数据分析的过

程，可以没有结论

**正确答案：**B

**【第7题】**

为庆祝建党一百周年，班级制作一份电子小报应该优先选择的工具是（ ）。

- A. 格式工厂                  B. Python  
C. Access                      D. WPS

**正确答案：**D

**【第8题】**

数据分析报告中需要描述数据来源和数据分析的思路、方法和（ ）。

- A. 模型                  B. 过程  
C. 结论                  D. 建议

**正确答案：**A

**【第9题】**

下列软件可以用于编程解决“鸡兔同笼”问题的是（ ）。

- A. 画图                  B. Python  
C. Photoshop              D. WPS 文字

**正确答案：**B

**【第10题】**

学校食堂为了便于记录、查询和管理近年来师生消费数据，下列合适的软件是（ ）。

- A. 演示文稿              B. Access  
C. 思维导图              D. 记事本

**正确答案：**B

**【第11题】**

下列关于数据分析报告作用，不包括（ ）。

- A. 数据分析项目的总结  
B. 数据分析结果的呈现  
C. 为决策者提供决策依据  
D. 记录项目实施各项日志

**正确答案：**D

**【第12题】**

在 python 中常用的绘图工具模块是

（ ）。

- A. math                      B. random  
C. matplotlib              D. numpy

**正确答案：**C

**【第13题】**

当今社会，人们对数据的依赖性越来越强，为了保护数据的安全，以下采取的措施中不合理的是（ ）。

- A. 安装杀毒软件和防火墙  
B. 采用备份、镜像等技术  
C. 对数据进行加密  
D. 定期更换硬盘

**正确答案：**D

**【第14题】**

下列关于算法特征的描述，不正确的是（ ）。

- A. 有穷性                  B. 确定性  
C. 可以没有输出          D. 可行性

**正确答案：**C

**【第15题】**

下列选项中不属于算法特征的是（ ）。

- A. 有穷性                  B. 唯一性  
C. 可行性                  D. 确定性

**正确答案：**B

**【第16题】**

用流程图表示算法时，表示判断的图形是（ ）。

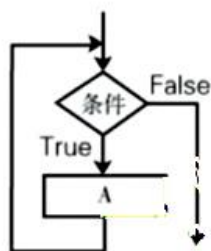
- A. 矩形框                  B. 菱形框  
C. 圆形框                  D. 椭圆形框

**正确答案：**B

**【第17题】**

下图所示的流程图表达的是（ ）。









- A. 顺序结构                      B. 选择结构  
C. 循环结构                      D. 跳转结构

正确答案: C

【第 18 题】

流程图中表示数据运算应使用 ( )。

- A.                       B.   
C.                       D. 

正确答案: D

【第 19 题】

计算机无法解决“打印所有的质数”,因为违背了算法的 ( )。

- A. 有穷性      B. 确定性  
C. 可行性      D. 至少有 1 个输出

正确答案: A

【第 20 题】

下列选项中, 不属于算法特征的是 ( )。

- A. 有穷性      B. 唯一性  
C. 可行性      D. 至少有 1 个输出

正确答案: B

【第 21 题】

在无线局域网中, 要想修改分配给客户端 IP 地址的范围, 需要在无线路由器中进行的操作是 ( )。

- A. 修改 SSID 号  
B. 利用无线网络基础设置  
C. 设置 DHCP 服务  
D. 利用“WAN 口设置”

正确答案: C

【第 22 题】

手机通过 Wi-Fi 上网, 采用的通信技术是 ( )。

- A. 无线局域网技术                      B. 红外技术  
C. WAP 技术                              D. 蓝牙技术

正确答案: A

【第 23 题】

健身手环可以跟踪身体活动、睡眠、体脂和心率等, 将该手环中的数据传输到个人移动终端通常采用 ( )。

- A. 蓝牙                                      B. 5G  
C. 短波                                      D. 红外

正确答案: A

【第 24 题】

在组建网络的过程中, 为了实现数字信号与模拟信号相互转换, 需要的设备是 ( )。

- A. 调制解调器      B. 交换机  
C. 路由器                                  D. 无线网卡

正确答案: A

【第 25 题】

将两个不同类型的网络连接, 需要使用的设备是 ( )。

- A. 交换机                                  B. 路由器  
C. 收发器                                  D. 中继器

正确答案: B

【第 26 题】

家庭网络接入因特网时, 应该将网络运营商提供的网线接到无线路由器的 ( )。

- A. LAN 口                                  B. WAN 口  
C. Power 口                                  D. Reset 口

正确答案: B

【第 27 题】

下图为某品牌家用无线路由器的管理页面, 若要修改无线网络密码应点击 ( )。

## 关于我们

自主选拔在线是致力于提供新高考生涯规划、强基计划、综合评价、三位一体、学科竞赛等政策资讯的升学服务平台。总部坐落于北京，旗下拥有网站（[网址: www.zizzs.com](http://www.zizzs.com)）和微信公众平台等媒体矩阵，用户群体涵盖全国 90% 以上的重点中学师生及家长，在全国新高考、自主选拔领域首屈一指。

如需第一时间获取相关资讯及备考指南，请关注**自主选拔在线**官方微信号：**zizzsw**。



 微信搜一搜

 自主选拔在线