

学校: _____ 班级: _____ 姓名: _____ 考号: _____ 座号: _____

试卷类型: A

山东普高大联考 11 月联合质量测评试题

高三地理

2023. 11

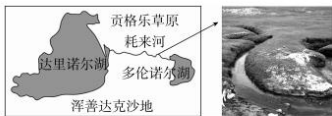
本卷满分 100 分, 考试时间 90 分钟。

注意事项:

1. 答题前, 考生先将自己的学校、姓名、班级、座号、考号填涂在相应位置。
2. 选择题答案必须使用 2B 铅笔(按填涂样例)正确填涂; 非选择题答案必须使用 0.5 毫米黑色签字笔书写, 绘图时, 可用 2B 铅笔作答, 字体工整、笔迹清楚。
3. 请按照题号在各题目的答题区域内作答, 超出答题区域书写的答案无效; 在草稿纸、试题卷上答题无效。保持卡面清洁, 不折叠、不破损。

一、选择题(共 15 小题, 每小题 3 分, 共 45 分, 在每小题给出的四个选项中, 只有一项是符合题目要求的)

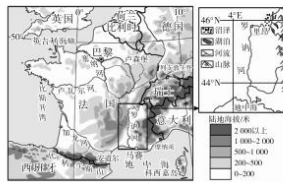
耗来河发源于贡格乐草原上的多伦诺尔湖, 湖内多涌泉。耗来河也称“嗓子眼河”, 河水平均深度只有 50 厘米左右, 河宽 10 多厘米, 最窄处仅有几厘米, 被称为“世界上最窄的河流”。耗来河曲曲折折, 多成“几”字型, 其独特的景观吸引了众多的国内外游客。下图示意耗来河的位置和其独特景观。据图文资料, 完成下题。



1. 影响耗来河独特景观形成的主导因素是
A. 气候 B. 水文 C. 地形 D. 土壤
2. 下列符合耗来河水文特征是
A. 水量稳定 B. 含沙量大 C. 流程短 D. 有凌汛

马赛周边地区的植物为硬叶乔灌木, 叶片常绿, 均有厚的革质硬叶, 叶片不大, 气孔深陷, 叶子的排列与太阳光线成锐角。下图为法国位置及罗讷河流域示意图。据此完成下题。

高三地理试题 第 1 页(共 8 页)



3. 据材料分析, 以下描述正确的是

- A. 塞纳河流向自西北向东南流
- B. 洪峰在罗讷河里昂以下河段得到削减明显
- C. 巴黎常年受盛行西风影响, 污染物不易扩散
- D. 巴黎降水量季节分配较均匀, 利于污染物沉降

4. 马赛周边植物形态及其所适应的气候特点, 对应错误的是

- A. 叶片常绿适应该地区冬季温暖
- B. 叶子与太阳光线成锐角适应冬季温暖
- C. 叶片坚硬适应该地区夏季炎热
- D. 叶片气孔深陷适应该地夏季蒸发旺盛

随着城市化进程加快, “空心村”现象出现。据“新华网”报道, 山东省济南市章丘区水河村户籍人口 203 人, 常住人口比例最低时曾不足三分之一, 成为名副其实的“空心村”。近年来, 章丘区推进“三变”改革, 紧邻济南动物园、植物园的水河村发展迎来新机遇, 走出一条“农文旅”结合的乡村振兴之路。



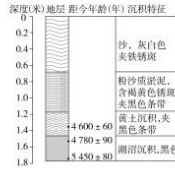
5. 导致“空心村”现象形成的主要原因是

- A. 城市自然环境优越
- B. 城乡收入差距大
- C. 农村人均居住面积小
- D. 农村人口增长率低

高三地理试题 第 2 页(共 8 页)

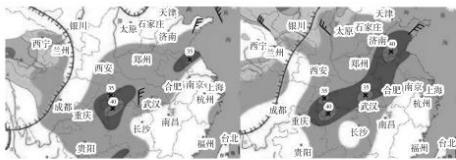
6. 近年来,水河村走上“农文旅”结合的乡村振兴之路的最主要原因是
- A. 气候条件优越 B. 居住条件改善
C. 土地资源丰富 D. 区位优势显著

某学校高一地理兴趣小组利用暑假开展研学旅行,进行了土壤的野外观察调研。同学们成功地制作了土壤剖面,采集了剖面中不同土层的土壤标本,回校后完成了土样的土壤组成及年代测定,制作了采样点垂直剖面图。据此完成下题。

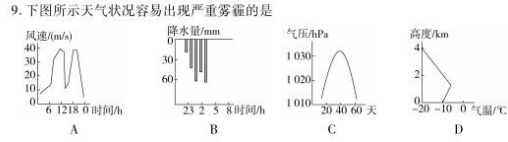
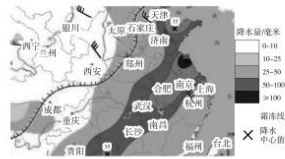


7. 同学们通过对土壤剖面的观察发现,剖面中从地表向下不同土层的土壤标本
- ①土层颜色越来越深 ②有机质含量越来越高 ③质地越来越粗 ④空隙越来越大
- A. ①② B. ②③ C. ①④ D. ③④
8. 推测目前该采样点所在地区面临的最主要的生态环境问题是
- A. 土地石漠化 B. 水土流失 C. 土地沙漠化 D. 土地污染

2023年11月初,我国华北部分地区出现雾或霾天气,对交通出行、人体健康造成影响。伴随冷空气到来,从11月3日傍晚开始,自北向南的冷空气将影响我国东部大部分地区,华北地区雾霾天气逐步减弱消散,并伴有降温降水。下图分别为11月3日、4日、5日降水区域分布图。据此完成下题。



高三地理试题 第3页(共8页)



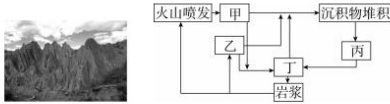
10. 此次降水的天气系统是
- A. 冷锋 B. 暖锋 C. 气旋 D. 反气旋
11. 受该天气系统的影响,郑州天气变化与下列图示相符的是
-

距平是指该时段气温或降水的值与该地同期多年平均值的偏差。下图是2021年9月1日-10月7日黄河流域平均降水量距平百分率图。据此完成题。



高三地理试题 第4页(共8页)

12. 与常年同期相比,黄河流域该时段降水
- A. 上游偏多 50% 以上 B. 中游偏多 100%
- C. 下游偏多 100% 以上 D. 全流域都偏多 80%
13. 造成黄河流域平均降水量距平差异的原因是
- ①副热带高压偏强偏北 ②副热带高压偏弱偏南 ③西风带冷空气活动稀少 ④西风带冷空气活动频繁
- A. ①③ B. ①④ C. ②③ D. ②④
- 糜棱岩是地下岩石受到强烈的挤压、碾磨成细小颗粒后再胶结而成的松散岩石。四川甘孜州墨石公园石林是全国唯一糜棱岩石林,石林呈墨灰色,有柱状、尖棱状等多种形态,整体呈带状分布。下图为墨石石林景观图和岩石圈物质循环图。据此回答以下问题。



14. 墨石公园石林的岩石属于图中的
- A. 甲 B. 乙 C. 丙 D. 丁
15. 墨石石林景观形成所经历的主要地质过程是
- A. 岩浆喷出—地壳抬升—风化侵蚀 B. 固结成岩—地壳抬升—风化侵蚀
- C. 变质作用—地壳运动—风化侵蚀 D. 岩浆侵入—地壳抬升—风化侵蚀

二、非选择题(本题共 4 小题,共 55 分)

16. 阅读图文资料,完成下列要求。(16 分)

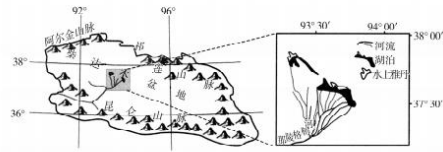
新生代板块碰撞的远程效应使得柴达木盆地遭受了持续的挤压变形,盆地内部产生褶皱、断裂。在一些隆起区开始发育古雅丹。雅丹是沟槽和垄脊相间排列的地貌形态,主要分布于干旱区。

柴达木盆地分布有亚洲最大的雅丹地貌群。鸭湖位于属于柴达木盆地中西部的凹陷,原为一片古湖,后受青藏高原隆起影响,古湖萎缩。湖中有近千个水上雅丹单体,它们与周边陆地上分布的雅丹,从形态到分布特征都一致。近年来人类活动(如筑坝)使周边河水流入鸭湖,导致鸭湖水位上升,面积扩大。

目前水上雅丹水位附近目测已有一定的侵蚀改造,从遥感图像看,那陵格勒河河

高三地理试题 第 5 页(共 8 页)

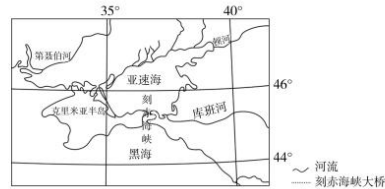
水塑造出了面积巨大向北倾斜的凹期洪积扇体,这些扇体影响区域的水上雅丹地貌形态及分布。美丽的水上雅丹地貌面临危机。



- (1) 板块运动改变了柴达木区域的地貌、水文和气候特征,分析这些特征的变化对古雅丹地貌发育的影响。(8 分)
- (2) 通常的雅丹地貌都出露在干旱的沙漠、戈壁之中,而鸭湖地区的雅丹非常奇特地出露在湖水之中,推测其形成的原因。(4 分)
- (3) 仅从自然演变的结果分析水上雅丹未来的发展演化。(4 分)

17. 阅读图文资料,完成下列要求。(15 分)

亚速海是世界上最浅的海(平均深度 8 米),海水盐度低(约 9—11‰),水温夏季 20—30℃,冬季会大范围封冻。顿河是俄罗斯第三长河,径流量季节变化较大,注入亚速海。刻赤海峡是连接亚速海和黑海的通道。俄罗斯鲜主要栖息地为亚速海—黑海和里海水系,生长适宜温度为 18—25℃,在淡水和半咸水中都可生长,尤其适宜在半咸水中生长,在亚速海生长较迅速。



- (1) 推测刻赤海峡海水流动方向。(4 分)

(2) 推测亚速海盐度最低的季节并说明原因。(5分)

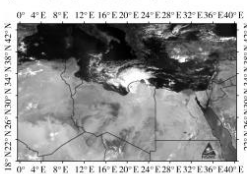
(2) 从水热角度,解释“丹尼尔”飓风登陆利比亚东北部时势力强盛的原因。(4分)

(3) 分析俄罗斯则在亚速海生长迅速的原因。(6分)

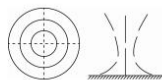
(3) 分析本次地中海飓风对利比亚造成严重破坏的原因。(6分)

18. 阅读图文资料,完成下列要求。(12分)

在大西洋上生成的热带气旋,被称作飓风。地中海飓风是在地中海上空生成的类热带气旋,兼具温带气旋与热带气旋的部分特点。2023年4月以来,地中海水温连续数月保持破纪录高温,9月4日前后,飓风“丹尼尔”在希腊西南近海形成,并在地中海东部缓慢南移,9月10日,地中海飓风发展成真正的气旋登陆利比亚,造成了严重的破坏。图左为“即将登陆利比亚东北部的飓风‘丹尼尔’示意图”,图右为“利比亚东北部某城飓风过境后影像”。



(1) 飓风就气流运动状况而言属于气旋,请绘制出北半球气旋近地面水平及垂直气流运动的方向。(2分)



高三地理试题 第7页(共8页)

19. 阅读图文资料,完成下列要求。(12分)

多年冻土作为冰冻圈重要组成要素,是重要的陆地碳汇,对气候变化具有高度敏感性和重要的反馈作用。2023年1月中科院研究报告指出:全球冻土,尤其是青藏高原冻土呈快速退化状态,由此诱发大量的热喀斯特地貌发育,造成土壤有机碳快速损失,改变微地貌和土壤理化性质。热喀斯特湖(又叫热融湖,见下图)是冻土热融沉降后积水形成的湖塘。当前,热融湖数量及面积迅速增加,其与全球变暖和冻土层冰楔(地表水渗入冻土裂隙中冻结成的脉状冰)的变化密切相关。



(1) 研究表明:热融湖数量和面积增加会加剧全球气候变暖。请从自然地理环境整体性角度进行解释。(6分)

(2) 近期“海鲜陆养”屡上热搜。随着热融湖数量增多及面积扩大,有人提议利用热融湖发展水产养殖,你是否赞同,并请说明理由。(6分)

高三地理试题 第8页(共8页)

关于我们

自主选拔在线是致力于提供新高考生涯规划、强基计划、综合评价、三位一体、学科竞赛等政策资讯的升学服务平台。总部坐落于北京,旗下拥有网站(网址: www.zizzs.com)和微信公众平台等媒体矩阵,用户群体涵盖全国90%以上的重点中学师生及家长,在全国新高考、自主选拔领域首屈一指。

如需第一时间获取相关资讯及备考指南,请关注自主选拔在线官方微信号: [zizzsw](https://www.zizzs.com)。



微信搜一搜

自主选拔在线

