

试卷类型：A

潍坊市高考模拟考试

历史

2022.3

注意事项：

1. 答题前，考生先将自己的学校、姓名、班级、座号、考号填涂在相应位置。
2. 选择题答案必须使用2B铅笔（按填涂样例）正确填涂；非选择题答案必须使用0.5毫米黑色签字笔书写，绘图时，可用2B铅笔作答，字体工整、笔迹清楚。
3. 请按照题号在各题目的答题区域内作答，超出答题区域书写的答案无效；在草稿纸、试题卷上答题无效。保持卡面清洁，不折叠、不破损。

一、选择题：本大题共15小题，每小题3分，共45分。在每小题列出的四个选项中，只有一项是符合题目要求的。

1. 西周初年的何尊是目前所见第一个出现“德”字的器物。之前的青铜器、甲骨文中，无论是表示“得到”还是表示“道德”，全部是无“心”的“得”字。而何尊之后的铭文中，表示“道德”之意时都开始有“心”了。由此推知，西周时
 - A. 青铜铸造技术提高
 - B. 注重礼乐教化功能
 - C. 已有以德治国理念
 - D. 汉字得到较大发展
2. 汉武帝时，在长安设太学，置五经博士，“以养天下之士”。据史料记载，武帝时学生仅50人，昭帝时100人，宣帝时200人，元帝时达1000人，成帝时增至3000人。太学的设立和发展
 - A. 拓宽了官员晋升的渠道
 - B. 适应了国家治理的需要
 - C. 确立了儒学的正统地位
 - D. 促进了社会阶层的流动
3. 曹操在求贤令中提到吴起“杀妻自信”是不仁，“散金求官”是无节，“母死不归”是不孝，但同时认为吴起“在魏，秦人不敢东向，在楚，则三晋不敢南谋”。这一认识主要是基于
 - A. 九品中正制的弊端
 - B. 治国理念的调整
 - C. 对历史经验的借鉴
 - D. 现实形势的需要

高三历史 第1页（共8页）

4. 宋朝规定，每年十月入冬后，天下各州县须“差官检视内外老病贫乏不能自存者”，登记在册，每人一日“给米豆一升，小儿半之”，每三天发放一次，从本年十一月初一开始，至来年三月的最后一天停止。这一规定力图
- A. 从长远上解决灾民生计问题 B. 构建完善的社会保障体系
- C. 增强民众对国家政权的认同 D. 维护以人为本的价值理念
5. 《尼布楚条约》签订时，清政府第一次把满文“中国”一词作为正式国名与俄罗斯对应。此后，在对外交往文件中，却再未称自己为“中国”。一直到《南京条约》签订时，汉文“中国”才正式写进外交文书，此后清朝多以“中国”名义与外国签订条约。这反映了清政府
- A. 天下观的缓慢转型 B. 极力维护天朝上国形象
- C. 注重捍卫国家主权 D. 积极融入国际关系体系
6. 近代一位外国人这样评价戊戌变法：“维新派的目标正是我们的目标，他们的计划好倒是好，就是有些不切实际和操之过急。然而，距今大约三十年以前，绝大多数局外人不也是这样评论日本的明治维新，而明治维新不是扫除了日本的旧秩序吗？不打破鸡蛋就不可能做成煎鸡蛋卷”。他认为戊戌变法的意义在于
- A. 效法明治维新改革道路 B. 试图改变旧的政治制度
- C. 推动了民众的思想解放 D. 得到了社会的广泛支持
7. 20世纪30年代，中国共产党从“反对国民党反动派”到“反蒋抗日”，从“逼蒋抗日”再到“联蒋抗日”，这一系列的变化主要是由于
- A. 西安事变的和平解决 B. 国民党对外政策的调整
- C. 民族危机的日益加剧 D. 全国抗日救亡运动高涨
8. 表1为1949—1952年中国主要农业产品产量统计（单位：万吨）。由此可知

表1

年份	粮食	棉花	油料	黄红麻	糖料	茶叶	水果
1949	11318.0	44.4	256.4	3.7	283.3	4.1	120.0
1950	13212.5	69.2	297.2	7.9	337.8	6.5	132.5
1951	14368.5	103.1	362.0	25.0	498.9	7.9	156.4
1952	16391.5	130.4	419.3	30.6	759.5	8.2	244.3

- A. 城乡经济差距日益缩小 B. 生产关系调整调动农民积极性
- C. 农产品商品化程度加强 D. 工业化提升了农业现代化水平

高三历史 第2页(共8页)

9. 1978年3月,邓小平在全国科学大会开幕式上指出:“在社会主义历史时期中,……知识分子的绝大多数已经是工人阶级和劳动人民自己的知识分子,因此也可以说,已经是工人阶级自己的一部分。他们与体力劳动者的区别,只是社会分工的不同。”这一讲话
- A. 意在动员知识分子投身现代化建设 B. 引发了真理标准问题大讨论
C. 实现了中国共产党工作重心的转移 D. 解决了新时期对人才的需求
10. 《汉谟拉比法典》规定:“如果一个人债务缠身,暴风雨神阿达德摧毁了他的田地,或者洪水冲走了作物,或者由于当年缺水,那块地没有生长谷物——在那一年,他可以不再向他的债主归还粮食;他可以暂停履行他的合同,他可以不再付那一年的利息。”由此可知,法典
- A. 强调私有财产神圣不可侵犯 B. 体现商品经济要求
C. 维护民众利益实现阶级调和 D. 带有人文主义色彩
11. 据记载,13世纪英国诺福克郡的Fomcett庄园有地2700余亩。生产的粮食中,燕麦主要用来养马,几乎不出售,大麦自用的也不少,只有小麦才是全部出售,而且使用的手工业品大多自制,另外还出售水果和酒。这一现象表明当时该庄园
- A. 仍以自给自足经济为主 B. 经济来源依赖副业收入
C. 以市场为目的进行生产 D. 供求关系处于紧张状态
12. 有学者对近代某一历史事件作了如下描述:“有史以来第一次,人类的信心与现实主义结伴而行,而不是乌托邦空想的表征”“这是一个执着探索和批判的世纪,一个关注社会改革的世纪”“这是人的觉醒与现代秩序诞生的时代”。这一事件是指
- A. 文艺复兴 B. 宗教改革 C. 启蒙运动 D. 工业革命
13. 图1是1870—1913年英、美、法、德四国在国际贸易中所占份额(%)示意图。其中,丁国是

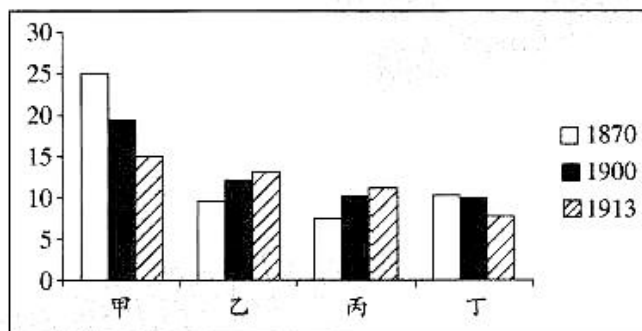


图1

- A. 英国 B. 法国 C. 德国 D. 美国

14. 图2为1944年发表的时政漫画。漫画中，身穿护士服的美国财政部官员摩根索喜形于色，双手抱着代表新货币制度与配额协议的婴儿走出产房，交给英格兰银行。而被故意画成小矮个的英国财政部顾问凯恩斯一手“牵着”英格兰银行，一手指着新生儿说：“它不是我们的孩子，它有金色的头发！”该漫画表明



图2

- A. 英美争夺世界金融的主导权 B. 冷战格局下交流与对抗并存
C. 英美战时同盟关系裂痕凸显 D. 二战加剧大国间的猜忌心理
15. 面对美国在欧洲影视产品市场的垄断，法国主张强化欧洲影视配额制度，严格限制美国产品进入欧洲市场。在法国的推动下，1995年欧盟建立支持欧洲影视产业的信贷保证基金。然而美国坚持文化产品应跟其他产品一样自由流通。美欧的这一争端体现了
- A. 保护文化多样性成为欧洲共识 B. 世界经济全球化背景下的国家利益角逐
C. 西方资本主义阵营进一步分化 D. 政治多极化与文化多元化冲突不可调和

二、非选择题：本大题共4小题，第16题12分，第17题16分，第18题16分，第19题11分，共55分。

16. (12分) 阅读材料，回答问题。

材料

南阳（籍贯）户人荆不更（爵位）蛮强
妻曰嗛
子小（“小”、“大”是课役身份的标志）上造（爵位）□
子小女子驼
臣（奴隶）曰聚
伍长（职务）

——里耶秦简户籍簿（节选）

户主邯寿年伍拾陆岁 白丁 课户见输
女娘子年拾叁岁 小女
一亡弟妻孙年叁拾陆岁 寡
计布二丈五尺
计麻三斤
计租二石
廿亩永业
肆拾肆亩已受 廿三亩口分
合应受田壹顷叁拾壹亩 一亩居住园宅
八十七亩未受

——《（武）周大足元年（701年）沙州敦煌县效谷乡户籍》

提取两项有关秦朝与唐朝户籍登记内容的不同信息，并结合所学知识予以说明。
(12分)

17. (16分) 阅读材料, 回答问题。

吴淞铁路的拆与建

1876年6月, 英国商人未经允许建造了一条从上海至吴淞的铁路, 招致清政府的强烈反应。经过交涉, 清政府以28.5万两白银赎回, 在两江总督沈葆楨的主张下拆毁。

材料一

英国《泰晤士报》载: 其处置吴淞铁路一事, 人皆知之, 中国阻止进益之党不作他事, 止以禁止改变为务。毁弃铁路主议何人, 不可得知。闻共有七人, 史册内载历来开创有七个圣人, 似此可编列“七愚”姓名, 传之后世。

——摘自郭嵩焘《伦敦与巴黎日记》

电线、铁路皆中国数年后不能自己之事, 吴淞则非其地。洋人所以不患亏本者, 冀中国许其起卸进出口货物耳, 不告而擅为之, 于国体有损, 即买归中国, 断无自乱关章, 以开漏税之端。

费钱买之, 又必费钱续之, 且必仍用其人……任彼自造害也, 我买而续之亦害也……并无轻者。

——摘自(清)沈葆楨《沈文肃公牍》

材料二 1898年, 在吴淞铁路原路基的基础上又重新筑成了铁路(淞沪铁路), 此时距吴淞铁路拆除已过了21年。考虑到清政府也正是这个时候才开始大规模地修筑铁路, 吴淞(淞沪)铁路的拆和建, 可以看作是中国近代化迟误的一个缩影。让国人痛心的是, 1898年铁路重建的时候, 国家主权的丧失, 不仅没有比1877年减少, 反而是大大地增加了。

——摘编自苏生文《中国早期的交通近代化研究》

(1) 对于吴淞铁路的拆除, 材料一中两则史料的想法有何不同, 分析其原因。(6分)

(2) 根据材料并结合所学知识, 对“吴淞铁路的拆与建”进行评述。(要求: 表述成文, 立论正确, 论证充分, 逻辑清晰。)(10分)

18. (16分) 阅读材料, 回答问题。

红色记忆

红色革命遗址及革命纪念建筑物特指中国共产党领导新民主主义革命和社会主义革命历程中, 具有革命纪念意义、教育意义和革命价值的遗址、遗迹及纪念建筑物。图3、图4、图5为全国重点文物保护单位中, 土地革命时期红色文物的空间分布。

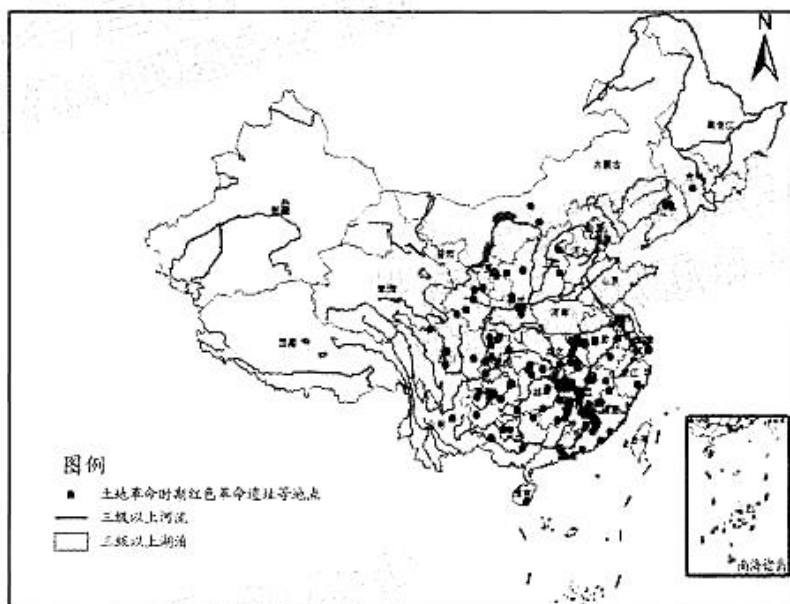


图3

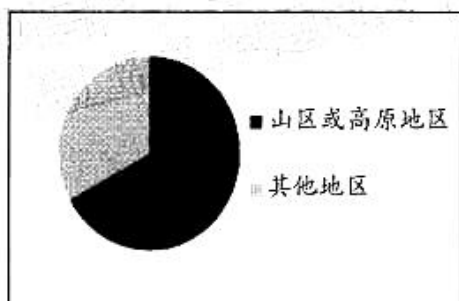


图4

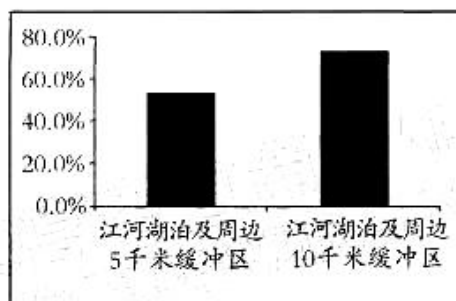


图5

——据王秀伟等《红色革命遗址及革命纪念建筑物的空间分布格局与影响因素》

(1) 对红色革命遗址及革命纪念建筑物空间分布特征进行分析说明。(12分)

(2) 从下列红色革命遗址及革命纪念建筑物中任选一处, 阐释其入选全国重点文物保护单位的理由。(4分)

“八一”起义指挥部 井冈山革命遗址 瑞金革命遗址 遵义会议会址 西柏坡中共中央旧址

19. (11分) 阅读材料, 回答问题。

“1950年代世界的变化”

从世界历史的进程来看, 20世纪50年代具有重要的地位。那是一个风起云涌的时代, “对抗”、“计划”、“社会主义”、“联合”、“民族”等词汇的频繁使用就是最好的证明。面对那个时代, 每个人都在思考。

以“1950年代世界的变化”为主题, 撰写一篇历史小论文。(要求: 围绕某一中心选取历史事件展开论述, 表述成文, 立论正确, 史实准确, 逻辑严谨。)(11分)

关于我们

自主选拔在线是致力于提供新高考生涯规划、强基计划、综合评价、三位一体、学科竞赛等政策资讯的升学服务平台。总部坐落于北京，旗下拥有网站（[网址：www.zizzs.com](http://www.zizzs.com)）和微信公众平台等媒体矩阵，用户群体涵盖全国 90% 以上的重点中学师生及家长，在全国新高考、自主选拔领域首屈一指。

如需第一时间获取相关资讯及备考指南，请关注**自主选拔在线**官方微信号：**zizzsw**。

