

炎德·英才·名校联考联合体 2024 届高三第四次联考 思想政治参考答案

一、选择题(本大题共 16 小题,每小题 3 分,共 48 分)

题号	1	2	3	4	5	6	7	8	9	10	11	12	13	14	15	16
答案	B	C	C	D	B	D	A	B	C	B	B	A	D	B	A	B

1. B **【解析】**该题考查中华民族的历史任务和近代中国探索复兴之路。从太平天国到辛亥革命,为了挽救民族危亡、实现民族振兴,中国人民和无数仁人志士寻找适合国情的政治制度模式并进行了顽强的斗争,但都没能找到正确答案。这是因为:没有清楚认识近代中国的基本国情和主要矛盾,没有找到科学的革命理论和坚定依靠的社会力量,①③符合题意,入选;农民不代表先进的生产力,不可能完成反帝反封建的任务,②观点错误,排除;④讲的是近代中华民族的历史任务,不是原因,排除。
2. C **【解析】**该题考查胜利的征程,十月革命对中国的影响。十月革命对中国产生的重要影响是:马克思主义同中国工人运动相结合,成立了中国共产党,革命有了主心骨,科学社会主义与中国实际相结合,找到了解决中国问题的正确道路,②④符合题意,入选;中华人民共和国成立实现了中国从封建专制政治向人民民主的伟大飞跃,①错误,排除;社会主义改造完成,标志着社会主义制度在我国确立,③说法有误,排除。
3. C **【解析】**该题考查中国梦的本质。中国梦把国家的追求、民族的向往、人民的期盼融为一体,其本质是国家富强、民族振兴、人民幸福。对此理解正确的是:中国梦是国家的梦、民族的梦,也是每一个中华儿女的梦,中国梦是中华民族团结奋斗的最大公约数和最大同心圆,②③正确,入选;人民群众是实现中国梦的主力军,①错误,排除;中国梦不仅造福中国人民,而且造福世界各国人民,其目标是实现中华民族的伟大复兴,不是实现世界共同繁荣,④错误,排除。
4. D **【解析】**该题考查市场体系的形成。某市采取多项措施,建设食品安全示范市。其抓好食品安全的联动效应是:以群众满意为核心→强化市场制度规则→探索工作机制→健全社会信用制度,建设竞争有序的市场体系→实行统一市场准入→强化监管职责→保障群众生活健康安全,①④推导正确且符合题意,入选;政府对市场价格形成机制不进行不当干预,但重要公用事业、公益性服务等定价政府要干预,故笼统提“取消政府定价制度”不准确,同时坚持绿色环保也推导不出维护统一公平竞争,②错误,排除;确定产品质量标准不一定能促进企业提质增效,同时也推导不出完善食品市场价格机制,价格机制与食品安全防线也没有直接联系,③推导不正确,排除。
5. B **【解析】**该题考查完善社会保障体系,收入分配与社会公平。题干介绍我国社会保障体系的不断完善以及所取得的成就,对此认识正确的是:经济发展是社会保障的基础,社会保障必须有相应的经济实力作支撑,社会保障体系形成没有漏洞的“安全网”,有利于缩小贫富差距,①③正确且符合题意,入选;社会救助是保障社会成员生活安全和生存权利的“最后一道防线”,②错误,排除;社会保障是通过国民收入再分配,发挥收入分配调节器的作用,化解社会矛盾,促进社会公平正义,④说法有误,排除。
6. D **【解析】**该题考查全过程人民民主和我国民主的特征。国务院根据我国当前社会老龄化的现状,在充分调查研究、听取各方意见,特别是居委会和老年人的意见,并吸取各地的经验的基础上协商制定《积极发展老年助餐服务行动方案》。从人民民主的角度看,这一方案的制定是基于:我国的国家政权的人民性质,实现了人民民主和国家意志的统一,维护人民根本利益,满足人民对美好生活的需求,③④符合题意,入选;民主具有阶级性,没有全民民主,①说法错误,排除;②观点正确但不是原因而是做法,不符合题意,排除。
7. A **【解析】**该题考查全面推进依法治国的总目标。五年来,十三届全国人大及其常委会做好立法和法律监督工作,这表明全国人大及其常委会:贯彻实施宪法,完善中国特色社会主义法律体系,用好宪法赋予人大的监督权,以良法促进发展,保障善治,①②符合题意,入选;全面推进依法治国是一个系统工程,是国家治理领域一场广泛而深刻的革命,需要付出长期艰苦的努力,“已经实现法治中国的目标”说法不妥,③错误,排除;材料中没有涉及形成完善党内法规体系,也不是人大的职责,④不符合题意,排除。
8. B **【解析】**该题考查马克思主义哲学的基本特征。马克思主义哲学的基本特征之一是实践性,实践观点是马克思主义哲学的核心观点,马克思主义哲学在科学实践观的基础上,坚持从实际出发认识周围世界,第一次在科学的基础上实现了唯物主义与辩证法的有机结合,实现了唯物辩证的自然观与历史观的统一,实现了在实践基础上的科学性和革命性的统一,因此①③正确且符合题意,入选;马克思主义哲学是随着实践的发展而发展的,不可能为中国革命和建设提出具体的方法,②观点错误,排除;在历史观中,马克思主义哲学从实践出发理解社会存在和发展,实现了唯物辩证的自然观与历史观的统一,④观点有误,排除。
9. C **【解析】**该题考查经济基础与上层建筑的相互作用及其矛盾运动,社会存在与社会意识辩证关系原理。教育属于上层建筑,培养人才为经济基础服务。从历史唯物主义的角度看,湖南省《意见》的下发和贯彻体现了:上层建筑要适合经济基础的发展状况,先进的社会意识对社会发展起积极的推动作用,②③观点正确且符合题意,入选;“客观符合主观”说法错误,应该是主观符合客观,①排除;材料讲的是教育改革,不是物质生活资料生产,④观点正确但不符合题意,排除。
10. B **【解析】**该题考查文化创造性转化和创新性发展。纪录片《遇见最极致的中国》用匠心打造“极致”,这部作品的成功之处在于采用新载体创造了适合时代社会发展要求的文化形式,做到了艺术性和思想性的统一,满足人民不断增长的精神文化需要,①符合题意,入选;“运用现代流行艺术就能使作品创造极致的效果”的说法夸大了现代流行艺术的作用,一部作品的成功其原因也是多方面的,②观点片面,排除;题干中没有讲到文化对外交流,③观点正确但与材料无关,排除。

思想政治参考答案—1

11. B 【解析】该题考查影响国际关系的主要因素。共建“一带一路”倡议提出 10 年来所取得的成就表明：中国的发展得益于国际社会，也为全球发展作出了贡献，国家间的共同利益是国家合作的基础，合作共赢是最大公约数，①②符合题意，入选；和平是发展的前提，发展是和平的基础，③错误，排除；维护国家利益是主权国家对外活动的出发点，④错误，排除。
12. A 【解析】该题考查联合国及其作用。联合国安理会负有维护国际和平与安全的主要责任，在解决事关世界和平与安全的全球和地区问题上具有重要作用，因此在解决巴以冲突中联合国安理会应发挥重要作用，联合国大会第一委员会处理裁军、威胁和平的国际挑战等国际安全事务，并应对国际安全制度中的挑战，①②正确，入选；保护和改善全球环境，各国应坚持共同但有区别的责任原则，③说法错误，排除；联合国环境规划署是负责全球资源合理利用和推动全球环境可持续发展工作的，“处理公共卫生危机中的心理健康问题”属于世界卫生组织的议题，④不符合题意，排除。
13. D 【解析】该题考查夫妻地位平等。夫妻人身关系是指夫妻双方在家中的人格、身份、地位等方面的权利和义务关系，根据法律规定和题干所述王某与李某的情况，夫妻在婚姻家庭中地位平等，双方应该相互尊重、自由平等，D 观点正确且符合题意，入选；夫妻双方感情破裂可以选择协议离婚，若离婚时有纠纷可选择诉讼离婚，“应该选择诉讼离婚”的说法不准确，A 排除；李某当全职太太是家庭的原因，夫妻在共同财产的分配上是平等的，B 说法错误，排除；王某婚后收入属于共同财产，C 错误，排除。
14. B 【解析】该题考查正确认识人民调解。人民调解是在人民调解委员会的组织下进行的调解，被誉为伟大的“东方经验”。人民调解要尊重当事人的权利，不得违背法律、法规和国家政策，不收取任何费用。人民调解的重要性在于：有利于实现矛盾纠纷源头化解，维护社会安定，人民调解员介入调解能提高以调解方式结案的民事案件结案率，②④观点正确且符合题意，入选；①是陈述一种现象，不是阐述重要性，不符合题意，排除；经人民法院依法确认有效的调解协议，具有强制执行效力，③观点错误，排除。
15. A 【解析】该题考查思维的基本形态。抽象思维和形象思维是思维的基本形态，如果人的思维抽象和概括了事物的共同属性，通过语词巩固下来，形成了概念，并以概念作为思维的基本单元，就属于抽象思维。如果人的思维抽象和概括的是事物的形象特征，并以感性形象作为思维的基本单元，就属于形象思维。杭州吉祥物的设计运用联想、想象和幻想等反映认识对象，体现思维表达的情感性；杭州吉祥物的设计主要是形象思维，其基本单元是形象性，但辅以抽象思维，做到了形象思维与抽象思维的有机结合，①③符合题意，入选。“主要运用概念、判断和推理，抽象和概括了事物的共同属性”，这是指抽象思维，在设计中主要是形象思维，②不符合题意，排除。这个设计运用形象思维，但人们要通过思维才能感受杭州“三大世界文化遗产”，并不能直观杭州“三大世界文化遗产”，④错误，排除。
16. B 【解析】该题考查质量互变、认识发展过程等知识点。神舟十七号顺利发射，完成与神舟十六号乘组在轨轮换，驻留约 6 个月，开展空间科学与应用载荷在轨等各项实(试)验，与神舟十八号载人飞船的来访对接，计划于明年 4 月左右返回。这反映出我国在航天科技的发展上把握了渐进性与飞跃性、连续性与间断性的统一，正确认识了事物的阶段性特征，推动实践创新，①③符合题意，入选；运用了思维的间接性把握事物的本质和规律，而不是事物共同的表象特征，②说法错误，排除；认识发展的历程是从感性具体到思维抽象，再到思维具体的过程，④说法错误，排除。

二、非选择题(本大题共 4 小题,共 52 分)

17. (1)①完整准确全面贯彻新发展理念,推动中国式现代化的发展,着力解决发展不平衡不充分问题。我国数字经济规模达 50.2 万亿元,占 GDP 比重 41.5%,这说明数字经济已成为中国式现代化发展的“稳定器”“加速器”。(总论新发展理念)
- ②数字经济具有创新性,发展数字经济有利于解决发展动力问题,提高自主创新能力,促进互联网、大数据、人工智能同实体经济深度融合,推动经济高质量发展。(创新发展)
- ③数字经济可以助力各地均衡发展,有利于贯彻协调发展理念,解决发展不平衡问题,不断增强发展整体性。(协调发展)
- ④数字技术赋能生态文明建设,将对绿色发展和生态保护起到促进作用,有利于建设人与自然和谐共生的中国式现代化。(绿色发展)
- ⑤数字经济正在改变人们的生活,提高人们的生活质量和效率,更好满足人民群众日益增长的美好生活需要,使人们有更多的获得感和幸福感,促进共享发展。(共享发展)
- 评分建议:每小点 2 分,任意答四点为满分。
- (2)①推动经济全球化朝着更加开放、包容、普惠、平衡、共赢的方向发展,让不同国家共享经济全球化的好处。雅万高铁的成功将推动印尼经济增长和改善人民生活。(印尼经济增长)
- ②中国是经济全球化的受益者和贡献者。雅万高铁的成功打造了中国高铁国际知名品牌,增强中国高铁的国际竞争力,有利于中国高铁积极开拓国际市场,推动中国高铁走向世界。(中国走向世界)
- ③经济全球化把世界各国的经济联系在一起。雅万高铁的成功说明中国与印尼共同发展,将促进“一带一路”设施联通,让沿线各国共同分享中国的发展机遇,帮助其实现发展目标。(一带一路发展)
- ④中国积极推动经济全球化的发展,同世界深度互动。雅万高铁的成功为世界树立了互利共赢的典范,通过协商为应对共同的挑战找到共赢的解决方案,为世界经济增长挖掘新的动力。(世界经济增长)
- 评分建议:从印尼、中国、一带一路、世界四个方面谈影响,每个小点 2 分,共 8 分。
18. ①法律是社会生活中所有人都应遵守的基本规范。未成年人要尊法学法守法用法,提高法律素养,能正确分辨网络信息,依法依规上网。(学法用法)
- ②创新社会治理工作方式,提高社会治理法治化水平,政府要依法打击网络犯罪,网络违法犯罪行为得到有效遏制,为未成年人

思想政治参考答案—2

健康成长创设一个良好的法治环境。(创设环境)

③做到权利与义务相统一,全体社会成员的权利得以实现,未成年人的权益得到保护,同时又要履行法律规定的义务,未成年人要克服沉迷网络的错误倾向。(权利义务)

评分建议:第1、2小点各3分,第3小点2分,总分8分。

19. 劳动仲裁委员会支持张某,认定公司解除劳动合同违法,解除无效。(仲裁意见)(1分)

理由:(6分,每小点2分)

①劳动法规定:劳动者必须按照合同约定完成工作,遵守用人单位的各项规章制度。张某父亲患重病病危,在事发紧急的情况下,已经向公司请假,在照顾患病父亲期间也将其父患病的相关资料传给了公司。(法律依据)

②成年子女对父母有赡养的义务,张某因父亲病重需要陪护,向公司申请事假,履行赡养父母的义务,既遵守了法律和公司纪律,也弘扬了传统美德。(事实依据)

③用人单位必须按照合同约定履行对劳动者的各项义务,并不得随意解除劳动合同。公司在明知张某父亲重病的情况下,仍以请假材料不全,请假未批不到岗,构成旷工为由解除其劳动合同,违背了劳动法有关规定,既侵犯了张某的合法权利,也违背了公序良俗原则。(公司违法)

评分建议:仲裁1分,理由3点,每小点2分,共7分。

20. (1)①认识发展具有反复性、无限性和上升性,正确的认识往往需要经过实践、认识、再实践、再认识的多次反复才能完成,要求我们与时俱进,开拓创新。(2分)

②亲诚惠容从理念到行动,从愿景到现实,思想内涵不断丰富,实践效果持续显现,经历了不断探索和逐步完善的过程;(2分)10年来,中国坚持亲诚惠容理念,与周边国家携手前行,取得了巨大成就,并将这个理念不断深化发展;(2分)在新的时代背景下,将赋予亲诚惠容理念新的内涵,弘扬以和平、合作、包容、融合为核心的亚洲价值观,让中国式现代化更多惠及周边,共同推进亚洲现代化进程。(2分)

(2)①文化具有引领风尚、教育人民、服务社会、推动发展的功能。亲诚惠容的周边外交理念是一种先进文化,它能推动社会向前发展。10年来,中国积极践行这一重要理念,与周边国家携手前行,在国际风云激荡中守护来之不易的和平安宁。(总体论述)

②先进文化引导人们认识真善美,为人民提供精神指引。在亲诚惠容的周边外交理念的指引下,中国已同周边国家建立了形式多样的合作关系,成为最大贸易伙伴。(引领风尚)

③先进文化对提高社会文明程度具有重要作用,为中国式现代化建设提供思想引领和精神动力。践行亲诚惠容的外交理念,既有利于中国的安定和发展,更惠及周边,共同推进亚洲现代化进程,使中国高质量发展与良好周边环境相互促进、相得益彰。(推动发展)

评分建议:第1小点3分,第2、3小点各2分,共7分。

(3)示例:

超前思维是有超前意识的思维。超前思维具有探索性,青年人要善于反思、勇于质疑,在实践中树立正确的人生理想并为之努力奋斗;超前思维具有预测性,推想长沙未来的发展状况,根据长沙的发展给自己提出不同的要求,有坚定的意志和决心去实现自己的预期目标;超前思维具有不确定性,在为长沙发展作贡献的过程中,因受主客观条件的影响,可能会出现困难和曲折,我们要创造有利的条件,促使事物向有利于人们预测的方向发展。

评分建议:主题明确1分,超前思维的三个特征论证清晰且学科术语使用规范4分,字数150字以上1分,共6分。

评分等级量表:

等级水平	等级要求
水平4(5~6分)	观点鲜明,能明确表达自己的见解;能紧扣主题展开论述;知识运用准确、贴切;逻辑严密,条理清晰
水平3(3~4分)	观点比较明确,能表达自己的见解;能扣住主题展开论述;知识运用比较准确、贴切;逻辑性较强,有条理
水平2(1~2分)	观点不明确;论述不能集中指向主题、罗列知识;知识运用不准确;论述缺乏逻辑,条理性差
水平1(0分)	应答与试题无关,或重复试题内容,或没有应答

姓名_____

机密★启用前

准考证号_____

炎德·英才·名校联考联合体 2024 届高三第四次联考

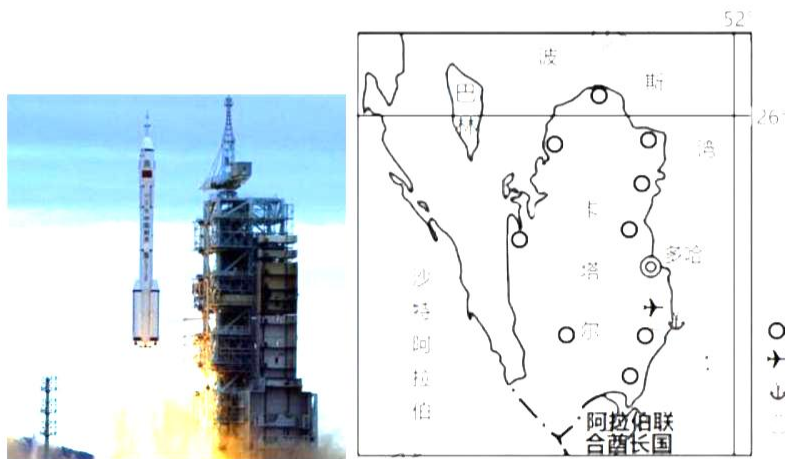
地 理

注意事项:

- 1.答卷前,考生务必将自己的姓名、准考证号填写在答题卡上。
- 2.回答选择题时,选出每小题答案后,用铅笔把答题卡上对应题目的答案标号涂黑。如需改动,用橡皮擦干净后,再选涂其他答案标号。回答非选择题时,将答案写在答题卡上。写在本试卷上无效。
- 3.考试结束后,将本试题卷和答题卡一并交回。

一、选择题(本大题共 16 小题,每小题 3 分,共 48 分。每小题只有一个正确选项。)

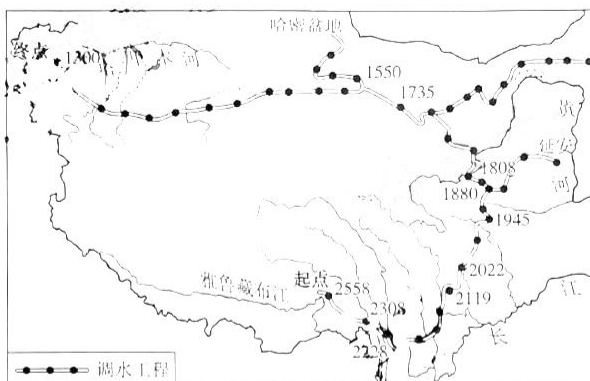
北京时间 2023 年 11 月 1 日 6 时 50 分,我国在太原卫星发射中心使用长征六号改运载火箭,成功将天绘五号卫星发射升空,卫星顺利进入预定轨道,发射任务获得圆满成功。一架飞往卡塔尔(见图 2)的飞机自东向西飞行,飞机上的人拍摄到的卫星升空图(见图 1)。据此完成 1~2 题。



- 1.本次卫星发射时,与北京处于同一日期的范围约占全球
A.5/11 B.1/2 C.3/4 D.1/3
- 2.卡塔尔采用当地区时作为标准时间,若飞机到达卡塔尔时为 8 时 55 分,此时飞机自拍摄到卫星升空图后又飞行了
A.7 小时 5 分 B.8 小时 4 分 C.6 小时 10 分 D.4 小时 30 分

地理试题 第 1 页(共 8 页)

红旗河西部调水工程是指将青藏高原东南部丰沛的水资源调往西北地区。该方案以雅鲁藏布江、怒江、澜沧江等水量充沛、利用率低、高程较高的大江大河为水源，以绕行青藏高原的全程自流方式调水，设计总调水量每年 600 亿立方米。红旗河河西走廊段拟采用长距离开挖明渠的形式进行调水。下图为红旗河调水工程图。据此完成 3~5 题。



3. 该工程计划实施的原因有

- ①调入区与调出区气候差异大 ②调入区与调出区经济差异大 ③当地可调水量较为充足
④调出区经济发达，人口密集

- A. ①② B. ②⑧ C. ①③ D. ③④

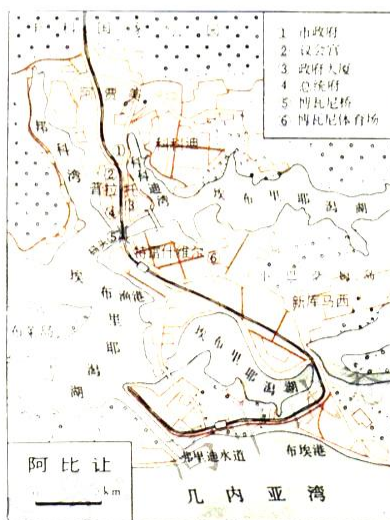
4. 河西走廊段的调水工程的实施最可能会

- A. 加剧沿岸地区盐碱化 B. 改变周围地区的水质
C. 加剧当地荒漠化进程 D. 生物多样性锐减

5. 工程采用绕行青藏高原自流方式调水，主要目的是

- A. 减轻污染 B. 降低成本 C. 增加水量 D. 减轻盐碱化

阿比让港口位于科特迪瓦东南沿海埃布里耶潟湖口东岸，濒临几内亚湾的北侧，是科特迪瓦的最大港口，也是西非最大的集装箱港口。阿比让港口成为西非可可咖啡、香蕉等热带农作物的主要出口港。埃布里耶湖的南岸、北岸、中心岛都有桥梁连接，并有贯穿南北的铁路线，当地地形崎岖，岛屿众多、水波浪动力环境复杂。阿比让的港口建设在不断地建设和扩大中。右图为阿比让示意图。据此完成 6~8 题。



6. 面对岛屿众多，水环境复杂的现状，阿比让港口在建设过程中，宜采取的措施有

- A. 增加陆域，归顺水流
B. 填海造陆，提升城市等级
C. 增加沿岸高铁建设
D. 河流改道，实现河海联运

7.阿比让港口建设发展的主要意义在于

- A.降低运输成本 B.改变运输方式 C.带动经济发展 D.缓解人地紧张

8.目前阿比让港口成为西非热带农产品主要的出口基地，主要原因在于

- ①精深加工，产业链完善 ②港口优良，规模宏大 ③热带农产品产量大 ④关税费用低，收益大

- A.①② B.②③ C.③④ D.①③

贡嘎山位于四川省甘孜藏族自治州境内，属于横断山区的一部分，深受太平洋水汽影响。贡嘎山有时会出现一种奇妙的自然现象——“戴帽云”，像是给山戴上帽子，帽状云是在温度适宜，山顶气流稳定和低水汽条件下形成的地形云。气象谚语称：“有雨山带帽，无雨山半腰”。下图为戴帽云的分布示意图。据此完成9~11题。

9.贡嘎山最容易形成帽状云的是

- A.西坡 B.东坡
C.南坡 D.北坡

10.帽状云多发生在高海拔的孤立山峰，原因是

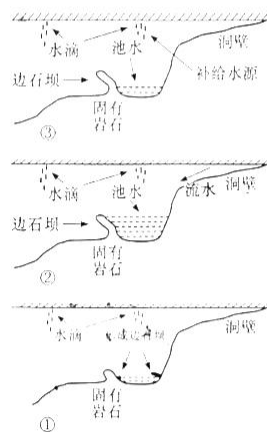
- A.大气的温度、湿度整体较低
B.受外界影响小，易达到平衡状态
C.不受地形阻挡，便于水汽输送
D.冰雪融水较少，水汽较少



11.“无雨山半腰”景观的出现，主要是因为

- A.太阳辐射强，水汽迅速上升 B.大气保温作用弱，水汽凝结
C.受地形阻挡，水汽无法抬升 D.海陆风强烈，海洋水汽冷却

边石坝是坡地或沟谷中大量结晶型钙华快速沉积形成的小型梯田状地貌的石埂边坝。金丝瓜洞位于贵州省丹寨县城金丝瓜洞村境内，该洞发育于娄山关群的灰色中—厚层夹薄层细晶白云岩地层中。洞内沉积物较为丰富，拥有丰富多样的洞内边石坝类型，边石坝内池水清澈透亮。右图为边石坝形成过程示意图。据此完成12~14题。



12.形成右图所示边石坝需要

- ①水自洞顶向下滴落 ②水自下向上渗出 ③水的流动性较强
④相对静止的薄层

- A.①② B.②③
C.①③ D.①④

13.边石坝最终形态的形成，主要条件是

- A.地下水补给水源丰富 B.洞壁流水流速加快
C.碳酸钙沉淀，水源补给下降 D.当地泥沙沉积严重

14.池水较地面水流更为清澈透亮的主要原因是

- A.地下环境幽静，人为影响小 B.汇水量大，长期堆积
C.沿裂隙下渗过滤，泥沙含量少 D.降水变化，流速加快

地理试题 第3页(共8页)

溶解氧是指水中溶解的氧量，是评估天然水体被污染后降解污染物自净能力的重要指标。溶解氧含量的变化与水温、盐度、有机物质分解和生物活动关系密切。右图示意天津近岸海水中溶解氧含量与温度的关系。据此完成 15~16 题。



15. 中国近海水体溶解氧低值区主要集中于

- A. 春季 B. 夏季
C. 秋季 D. 冬季

16. 世界上容易出现溶解氧低值区的海域有

- A. 甘本海 B. 波罗的海 C. 巴伦支海 D. 白令海

二、非选择题(共 52 分)

17. 阅读图文材料，回答下列问题。(12 分)

冰间湖是指在冬季，当外界环境达到结冰条件时，冰在较长时间或长期保持无冰或者薄冰覆盖的冰间开阔水域。在过去几十年，由于气候变暖，北极地区的冰间湖数量不断增多，面积也有所扩大。白令海峡及附近区域的冰间湖主要位于北部半岛附近，受风驱动，形成规模各异的冰间湖。下图为白令海及附近区域的冰间湖分布状况(图 1)和大陆架冰间湖和深水冰间湖的形成机制示意图(图 2)，



图 1

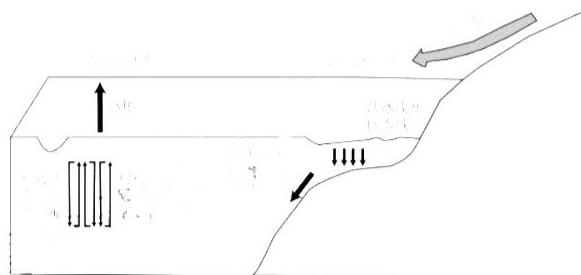


图 2

(1)试利用形成机制示意图分析风驱动的冰间湖形成过程。(4分)

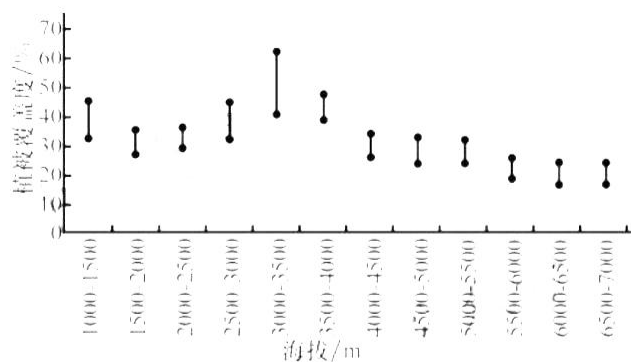
(2)偏南风影响下的苏厄德半岛南侧冰间湖面积往往较偏北风影响下半岛北侧的冰间湖面积大，试分析原因。(4分)

(3)根据科学研究证实，冰间湖面积扩大会促使极地气温上升，试阐述理由。(4分)

18. 阅读图文材料，回答下列问题。(14分)

植被作为自然生态系统的重要因素和环境组成，能够反映自然地域综合体在气候变化与人类活动影响下的特征变化。植被覆盖度反映了植物进行光合作用面积的大小以及植被生长的茂密程度。气候、地形、人类活动都会对植被覆盖度产生影响。植被覆盖度的变化反映了当地环境的变化。克里雅河流域位于塔克拉玛干沙漠南缘、发源于昆仑山主峰的乌斯腾格山北坡，属于典型的绿洲—荒漠生态系统，山脚地区植被稀少且多为荒漠植被，山腰部分生长有冷杉、云杉等森林。下图示意克里雅河流域不同海拔高度植被覆盖度年际变化。

地理试题 第5页(共8页)



(1)根据图中信息，说出自1500米以上不同海拔高度植被覆盖率年际变化，并指出影响因素。

(2)推测半山腰出现冷杉、云杉的主要原因。(4分)

(3)根据科学研究发现，克里雅河流域山麓地区多为荒漠植被且植被稀少，试分析其原因。(4分)

19. 阅读图文材料，回答下列问题。(14分)

我国东南部某西北方向环山的S市面对城市快速发展出现的一系列问题。为了贯彻生态保护与高质量发展的重大国家战略，经过多年建设，逐渐扩建形成了以交通线为纽带，以地形为依托的“一纵一横多领域”空间布局模式，并对相关产业进行了升级。目前工业区分布于郊区快速交通线附近，下图为当地发展模式图。



(1) 说出工业区分布于郊区快速交通线附近的优点。(3分)

(2) 从推动城市发展角度，分析S城空间布局模式变化及产业升级的积极意义。(8分)

(3) 分析“一纵一横多领域”空间布局模式的优势。

20. 阅读材料，回答下列问题。(12分)

阿尔山位于北疆边陲内蒙古自治区东部，一条哈拉哈河贯穿阿尔山地区，数万年火山活动给当地带来肥沃土壤和涌动的地下活泉。据科学考证，由于活泉经过火山凝灰岩，加之漫长的渗透过程，水中富含微量元素。2017年，伊利集团在这个北纬47度、被大自然眷顾的地区建厂，并逐渐形成水源生产—净化—销售及旅游观光为一体的产业链，极大地带动了阿尔山地区的发展。

(1) 分析伊利集团在阿尔山建厂的原因。(3分)

(2) 指出完善产业链对当地发展起到的促进作用。(6分)

(3) 请为企业自身的发展建设提出合理化建议。(3分)

关于我们

自主选拔在线是致力于提供新高考生涯规划、强基计划、综合评价、三位一体、学科竞赛等政策资讯的升学服务平台。总部坐落于北京，旗下拥有网站（[网址：www.zizzs.com](http://www.zizzs.com)）和微信公众平台等媒体矩阵，用户群体涵盖全国 90% 以上的重点中学师生及家长，在全国新高考、自主选拔领域首屈一指。

如需第一时间获取相关资讯及备考指南，请关注**自主选拔在线**官方微信信号：**zizzsw**。



 微信搜一搜

 自主选拔在线

