

2023~2024 学年高三核心模拟卷(中)

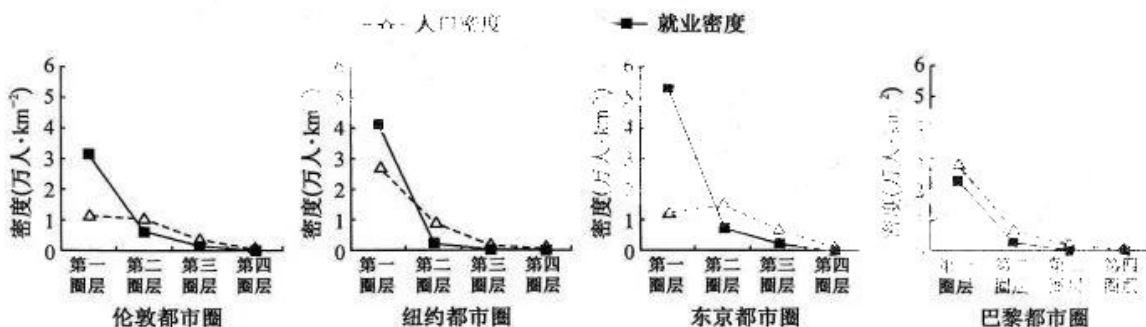
文科综合(三)

注意事项:

1. 本卷满分 300 分,考试时间 150 分钟。答题前,先将自己的姓名、准考证号填写在试题卷和答题卡上,并将准考证号条形码粘贴在答题卡上的指定位置。
2. 选择题的作答:每小题选出答案后,用 2B 铅笔把答题卡上对应题目的答案标号涂黑。写在试题卷、草稿纸和答题卡上的非答题区域均无效。
3. 非选择题的作答:用签字笔直接答在答题卡上对应的答题区域内。写在试题卷、草稿纸和答题卡上的非答题区域均无效。
4. 考试结束后,请将本试题卷和答题卡一并上交。

一、选择题:本大题共 35 小题,每小题 4 分,共 140 分。在每小题给出的四个选项中,只有一项是符合题目要求的。

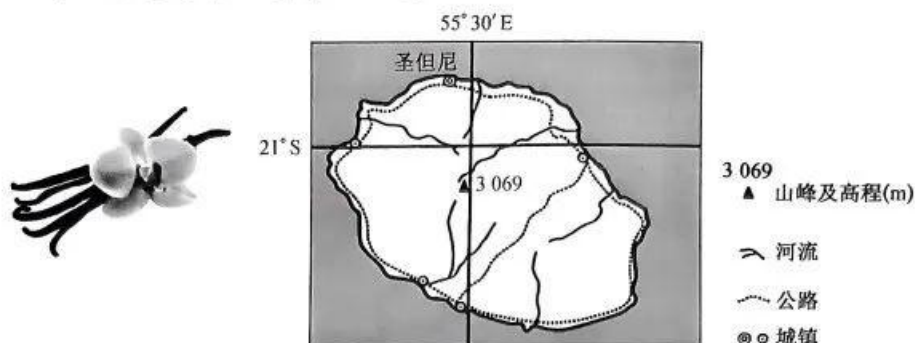
就业密度是指单位面积内就业的人口数量,就业中心是指就业密度显著大于周边的地区。下图分别示意近年世界四大都市圈不同圈层内人口密度与就业密度分布。据此完成 1~3 题。



1. 该年世界四大都市圈中
 - A. 伦敦都市圈第一圈层人口密度最大
 - B. 东京都市圈人口密度与就业密度呈正相关
 - C. 纽约都市圈第一圈层就业人数最少
 - D. 巴黎都市圈人口密度与就业密度呈正相关
2. 各都市圈就业中心的形成原因是
 - A. 交通便捷
 - B. 居住区密集
 - C. 产业集中
 - D. 环境质量好
3. 各都市圈就业中心平均通勤时间最短的是
 - A. 伦敦都市圈
 - B. 纽约都市圈
 - C. 东京都市圈
 - D. 巴黎都市圈

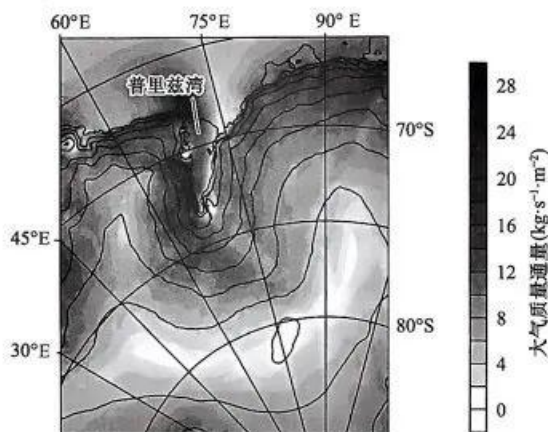
香荚兰喜温暖湿润、雨量充沛的气候环境,但一年中需要约 2 个月的干旱期。法属留尼汪岛是最早成功移栽香荚兰的地区,天然香兰素提取加工产业目前仍有保留。天然香兰素由香荚兰提取而来,常被

用于食品、化妆品等行业,但目前市场上多采用由纸浆废液提取的合成香兰素。下图分别示意香荚兰照片与法属留尼汪岛地理位置。据此完成4~6题。



4. 香荚兰原产地可能位于
①马达加斯加 ②墨西哥 ③加拿大 ④新西兰
A. ①② B. ②③ C. ③④ D. ①④
5. 法属留尼汪岛传统香兰素提取加工产业仍有保留的原因有
①降水充沛,地形平坦 ②经济欠发达 ③消费市场较稳定 ④火山活动活跃
A. ①② B. ②③ C. ③④ D. ①④
6. 市场上多采用合成香兰素的原因最可能是
A. 用途广 B. 质量高
C. 无污染 D. 成本低

南极大陆冰盖辐射冷却使低层大气湿度降低,密度增大,冰盖上的冷空气沿斜坡加速向下流动从而形成下降风。普里兹湾地区位于南极大陆边缘,受南极下降风影响较明显。下图示意南极普里兹湾沿岸地区某月平均近地面大气质量通量(单位时间内通过单位面积的大气质量)分布,图中实线表示等高距为400米的等高线分布。据此完成7~8题。



7. 普里兹湾大气质量通量较高的地区
①地形陡峭 ②风速较大 ③冰盖较厚 ④湿度更小
A. ①② B. ①③ C. ②④ D. ③④
8. 受下降风影响,普里兹湾
A. 海流下沉明显 B. 浮冰较少
C. 渔业资源匮乏 D. 海雾较多

5 000 万年前青藏高原南临气候温暖湿润的印度洋,属于热带森林气候。由于印度洋板块和亚欧板块碰撞挤压,青藏高原持续上升,其气候与植被也发生了变化,但其热带森林仍有保留。下图示意某典型热带雨林植被在我国青藏高原地区分布。据此完成 9~11 题。



9. 5 000 万年前至今,青藏高原气候与植被变化状况是

- ①气候趋于凉爽、干燥 ②气候趋于寒冷、潮湿 ③森林由雨林逐渐演变为阔叶林——针叶林——草甸草原 ④森林由雨林逐渐演变为硬叶林——针叶林——荒漠草原

- A. ②④ B. ③④ C. ①③ D. ①③

10. 热带雨林植被仍可在青藏高原保留的主要原因是其分布区域

- A. 北有高山阻挡,南有季风深入 B. 海拔高,光照强
C. 北有河流流经,南有肥沃土壤 D. 山谷深,气温高

11. 若采用人工种植的方式保护该热带雨林群系,有学者建议种植在错那县,推测其理由是

- A. 降水较丰富 B. 县域面积大
C. 环境较稳定 D. 人类活动少

12. 2023 年 8 月 7 日,纪念水洞沟遗址发现 100 周年系列活动之“世纪华彩水洞沟”展览开展。展览共分为“中国旧石器始于水洞沟”“中苏合作 院士亲临”“独立发掘 成果丰硕”“中国旧石器时代考古学的文艺复兴”“新希望 新技术 新模式 新起点”五个部分。距今四万年前的水洞沟人

- ①出现脑力劳动和体力劳动分工 ②共同劳动、平均分配劳动产品 ③土地已经变成人们的私有财产 ④通过氏族议事会管理集体事务

- A. ①② B. ①③ C. ②④ D. ③④

13. 习近平总书记指出:“人民性是马克思主义的本质属性,党的理论是来自人民、为了人民、造福人民的理论,人民的创造性实践是理论创新的不竭源泉。”习近平新时代中国特色社会主义思想蕴含的人民观,坚持历史唯物主义的基本原理,在新时代中国特色社会主义实践中丰富发展了马克思主义人民观。由此可见,习近平新时代中国特色社会主义思想

- ①为发展马克思主义作出了原创性贡献 ②是实现中华民族伟大复兴的行动指南 ③最为核心和关键的组成部分是人民观 ④是人民的理论和不断发展开放的理论

- A. ①③ B. ①④ C. ②③ D. ②④

【高三核心模拟卷(中)·文综(三) 第 3 页(共 12 页)】

14. 财富中文网 2023 年 7 月 25 日发布的 2023 年《财富》中国 500 强排行榜显示,国家电网有限公司以 5 300 亿美元的营收位居榜首,中国石油和中国石化分列榜单第二位和第三位。这一成就
- ①彰显出我国营商环境改善,不同所有制经济平等参与市场竞争 ②意味着我国公有制经济在国民经济中所占比重有了大幅度提高 ③得益于我国积极探索公有制多种实现形式,增强国有经济控制力 ④得益于我国进行国有企业混合所有制改革,推动公有制经济壮大
- A. ①② B. ①③ C. ②④ D. ③④
15. 据国家统计局数据显示,二季度,中部、西部地区生产总值同比分别增长 2.3%和 2%,增速均快于全国。上半年中部、西部地区规模以上工业增加值同比均增长 7.3%,快于东部地区 5.1 个百分点。中部、西部地区固定资产投资分别增长 10.7%和 8%,分别快于东部地区 6.2 和 3.5 个百分点。由此可见
- ①我国促进区域经济协调发展取得积极成效 ②我国城乡一体化发展正不断推进成绩斐然 ③国家宏观调控是区域协调发展的重要举措 ④新时代我国经济发展的整体性进一步提高
- A. ①② B. ①④ C. ②③ D. ③④
16. 某地党委深入学习贯彻党的二十大精神,在主题教育上下功夫、出实招,以党章学习为牵引、以警示教育为抓手、以红色资源为载体,探索灵活多样、内容丰富的活动载体,不断提升全体党员干部政治觉悟,知敬畏、存戒惧、守底线,增强党员责任感、荣誉感、归属感。上述做法旨在
- ①创新党的执政方式,筑牢党员理想信念之基 ②加强思想政治建设,不断提升党员政治站位 ③加强党风廉政建设,推动落实全面从严治党 ④强化党员底线意识,不断自我净化自我完善
- A. ①③ B. ②④ C. ①② D. ②④
17. 《无锡市燃气管理条例》经江苏省人大常委会会议批准,2023 年 5 月 1 日起施行。《条例》规定,使用燃气的餐饮等行业的经营单位、学校、医院、养老机构、宗教活动场所、机关单位食堂等应安装燃气泄漏安全保护装置并保障其正常使用。《条例》的制定和实施
- ①是民主集中制调动地方立法积极性的体现 ②表明政府的职能部门受司法机关的监督 ③属于法律体系的完善,有助于建设法治国家 ④说明我国的宗教团体自觉接受政府的管理
- A. ①② B. ①③ C. ②④ D. ③④
18. 2023 年 7 月 26 日,国际科学期刊《自然》杂志(Nature)发表了围绕中国天眼 FAST 的最新科研成果。武汉大学物理科学与技术学院天文学系与中国科学院国家天文台联合领导的国际合作研究论文“微类星体中的亚秒级周期射电振荡”,揭示了黑洞喷流的复杂动力学特性。该科研成果说明
- ①日益完备的认识工具能够促进认识的发展 ②具体科学领域的进步能够促进哲学的发展 ③世界上只有未知之物,而没有不可知之物 ④对任何事物的认识都不是一次就能完成的
- A. ①③ B. ①④ C. ②③ D. ②④
19. 在中国人民解放军建军 96 周年之际,中央宣传部、中央军委政治工作部联合发布 13 名“最美新时代革命军人”。潘朝、陈刚果、叶升学等 13 名官兵,是全军部队强化思想引领、强化担当作为、强化工作落实,奋力推进新时代强军事业中涌现的先进典型。表彰“最美新时代革命军人”,有助于
- ①为广大官兵提供精神指引,为强军事业提供智力支持 ②增强中华文明传播力影响力,加强国际传播能力建设 ③激发官兵的精神力量,争当“四有”新时代革命军人 ④激励广大官兵奋力开创国防和军队现代化建设新局面
- A. ①② B. ①③ C. ②④ D. ③④

20. 2023年8月9日,美国总统签署行政命令,授权美国财政部长限制美国对包括中国在内的受关注国家的“敏感技术”投资,主要涉及半导体和微电子、量子信息技术、人工智能这三个领域。中方对美方执意出台对华投资限制措施强烈不满、坚决反对,已向美方提出严正交涉。美国上述做法
- ①是赤裸裸的科技霸凌,严重违反公平竞争原则 ②不利于全球化,必将遭到世界所有国家的反对
③再次验证了全球化不但是机遇,也是严峻挑战 ④真实目的是维护其经济霸权地位,谋一己私利
- A. ①② B. ①④ C. ②③ D. ③④
21. 2023年8月5日,菲律宾2艘运补船和2艘海警船未经中国政府批准,非法闯入中国南沙群岛仁爱礁邻近海域,试图向非法“坐滩”在仁爱礁的菲律宾军舰“马德雷山号”运送除生活物资以外的建筑材料。中国海警依法实施必要管控,对菲搭载违规建材的船只进行了拦阻。中国海警的上述举措
- ①兼顾了菲律宾的合理关切,有利于推动世界和平 ②是在我国管辖的海域范围内行使管辖权和自卫权
③是通过履行国际义务坚定维护我国的国家利益 ④彰显我国坚定维护国家的领土主权和海洋权益
- A. ①③ B. ①④ C. ②③ D. ②④
22. 李某与吴某等四人一同就餐后在江边码头散步。因琐事发生争执,吴某跳入长江,李某跳江施救,吴某获救,李某不幸溺亡。吴某垫付打捞尸体费用6000元。后李某的父母以吴某等人为被告诉至法院,请求判令吴某等赔偿因李某死亡产生的各项赔偿款800000元。该案中
- ①吴某没有向李某求救无需做出补偿 ②吴某作为受益人应当给予适当补偿
③打捞费6000元可视为已经给付的补偿费用 ④一同就餐的另外两个人应负连带责任
- A. ①② B. ①④ C. ③④ D. ③④
23. 波兰总理莫拉维茨基宣布,波兰、保加利亚、匈牙利、斯洛伐克和罗马尼亚五国已签署一项联合立场文件,希望在2023年9月15日之后延长五国对乌克兰四种谷物的进口禁令,直至2023年年底。他表示,“如果欧盟委员会不同意制定共同的法规来延长这一禁令,我们就自己动手。”以他的这句话为前提,可必然推出的结论是
- ①只有五国自己动手,欧盟才会不同意制定法规 ②只有欧盟同意制定法规,五国才不会自己动手
③如果五国自己动手,说明欧盟不同意制定法规 ④如果五国自己动手,说明欧盟同意了制定法规
- A. ①② B. ①④ C. ②③ D. ③④
24. 鸟纹——对太阳的崇拜,从史前开始出现,太阳的象征——三足鸟纹(三足鸟)屡屡出现在汉墓壁画、画像石等之上。新石器时代有了蛙纹崇拜,后在发展过程中,不断添加了桂树、嫦娥、玉兔捣药等等,但“蛙—蟾蜍”作为月亮形象的核心这一点没有根本性的改变,下图所示为唐代的月宫故事铜镜。材料可用于说明




唐代的月宫故事铜镜

- A. 文化汇融催生国家文明 B. 中华文明具有多元一体的特点
C. 中华文明的传承性特点 D. 古代中国的区域联系日趋频繁

【高三核心模拟卷(中)·文综(三) 第5页(共12页)】

—XRB

25. 汉武帝时期,设刺史,刺史“秩六百石”,其主要职能是监察地方官员。《汉书》中有宣帝时期的益州刺史王襄“欲宣风化于众庶”,益州刺史王尊“怀来徼外”等的记载。中平元年(公元184年),贾琮临危受命为交阯刺史,根据当地实情,招抚流民安居定业,免除徭役,诛杀大害,选用官吏。这可用来说明汉代
- A. 国家治理能力进一步提升
B. 刺史监察权逐步异化
C. 中央与地方矛盾逐步缓和
D. 刺史的权力逐渐减弱
26. 贾思勰在《齐民要术》中说:“凡人家种田,须量己力,宁可少好,不可多恶。”而当时北方亦有“顷不比亩善”的农谚。而《晋书·博玄传》中对晋初“耕夫务多种而耕不熟,徒丧功力而无收”的情况提出批评。这表明当时
- A. 农业经营模式发生改变
B. 传统经济政策得以实施
C. 生态农学观念已经出现
D. 精耕细作农业备受重视
27. 《廿二史札记》谓:“明大学士本无属员,杨士奇等加官既尊,始设中书舍人,取能书者为之,不由吏部铨选。”明神宗即位,张居正当国,“以尊主权、课吏职、信赏罚、一号令为主。虽万里外,朝下而夕奉行”。史谓:“部权尽归内阁,逡巡请事如属吏,祖制由此变”。这可用于说明,明朝时期
- A. 君主专制统治日益强化
B. 内阁已经取代六部
C. 内阁成为代行合一机构
D. 君权受到内阁制约
28. 郑观应在《盛世危言·道器》和“西学”篇中巧妙地将政教刑法摒弃于“道”之外,并归结为人学,使其居于“道”、“器”之间(如下图所示)。这一理论



- A. 动摇了封建理论的根基
B. 折射出全面西化思潮出现
C. 有利于其新思想的传播
D. 主张推翻传统的君主政制
29. 毛泽东在《湖南农民运动考察报告》中描述过这样一些场景:一个绅士模样的人在路上碰了一个农民,那绅士摆格不肯让路,那农民便愤然说:“土豪劣绅!晓得三民主义吗?”长沙近郊菜园农民进城卖菜,老被警察欺负。现在,农民可找到武器了,这武器就是三民主义。当警察打骂卖菜农民时,农民便立即抬出三民主义以相抵制。这些情形出现的历史背景是
- A. 国民革命运动的开展
B. 农村革命根据地的广泛建立
C. 土地改革的全面推行
D. 中国革命中心由城市转向农村
30. 1940年,陕甘宁边区党、政、军、民、学都参加到大生产运动中,中央领导人以身作则,亲自动手。晋察冀边区规定了奖励修复滩地的办法,华中抗日根据地采取耕牛登记、解决种子、低息贷款、发展副业等措施,军民共建边区。这些举措
- A. 实现了党员结构的不断优化
B. 体现了中共践行群众路线
C. 使中国抗战进程发生重大转变
D. 巩固了抗日民族统一战线

31. 下表所示为 1978 年出国考察潮。这次出国考察潮

时间	代表团团长	出访目的地
1978 年 3 月~4 月	李一氓	南斯拉夫、罗马尼亚
1978 年 3 月~4 月	林乎加	日本
1978 年 5 月~6 月	谷牧	西欧五国(法国、瑞士、比利时、丹麦、西德)
1978 年 1 月~1979 年 2 月	邓小平	缅甸、尼泊尔、朝鲜、日本、泰国、马来西亚、新加坡和美国

- A. 标志着美国“孤立”中国政策的失败
B. 改变了计划经济的主导地位
C. 改变了国人对市场经济体制的认识
D. 推动了改革开放决策的出台
32. 有学者说：“无论是 15 世纪的航海图，还是 17、18 世纪流行的环球地图与旅行指南，欧洲人绘制的地图上面都标示着如南美的‘食人生番’、非洲的‘狗头人’、中东与亚洲的‘野蛮人’、‘异教徒’等。”据此可知，近代以来欧洲的地图绘制
- A. 意在彰显殖民活动的正当性
B. 体现了殖民主义的双重使命
C. 表明国家力量推动殖民扩张
D. 旨在传播资本主义进步文明
33. 有学者说：“1823 年，《门罗宣言》对梅特涅和神圣同盟的伙伴来说，是一个沉重的打击，而对年轻的美人来说则是一个胜利，它将隔开美国与欧洲的大西洋当作明确的界线。《门罗宣言》更进一步宣称，欧洲国家不得干涉美国事务。而门罗总统对美国事务的定义涵盖整个西半球，的确够广泛了”。该学者意在强调《门罗宣言》
- A. 阻止了欧洲国家争夺世界霸权
B. 缓解了拉美各国的政局动荡
C. 是美国在美洲进行扩张的工具
D. 维护了拉丁美洲国家的主权
34. 美国学者科恩指出：“因为当时苏联领导集团害怕帝国主义会在 1927 年对苏联发动战争——这种忧惧在多数派和反对派于 1927 年 1 月以后发表的言论中屡有反映。苏联人普遍觉得苏维埃政权的喘息时间有可能骤然终止。”基于这种“忧惧”，苏联
- A. 鼓励多种所有制经济共同发展
B. 实行农业集体化和计划经济体制
C. 用固定粮食税取代余粮征集制
D. 化外部危机为本国经济建设契机
35. 2023 年 9 月，联合国粮食及农业组织启动一项应急计划，计划筹集 1.23 亿美元，向苏丹 17 个粮食不安全形势最严峻的州提供紧急援助。与此同时，国际原子能机构总干事格罗西对乌克兰扎波罗热核电站开展实地访问，再一次重申有关核电站的安全倡议。这表明
- A. 国际政治经济新秩序即将建立
B. 当今全球治理的主要力量已发生重大变化
C. 发展中国家的国际影响力提升
D. 联合国在全球治理体系中发挥着重要作用

二、非选择题：本大题包括 9 小题，共 160 分。

36. 阅读图文材料，完成下列要求。(28 分)

海工装备是人类开发、利用和保护海洋活动中使用的各类装备的总称，是海洋产业价值链的核心环节。江门市位于珠江三角洲西岸城市中心，是粤港澳大湾区重要节点，海岸线漫长，海岛众多，造船历史悠久，是广东省重要的海工装备制造基地。近年来，江门市大力推动海工装备产业向集群化、高端化发展。下图示意江门市位置。

【高三核心模拟卷(中)·文综(三) 第 7 页(共 12 页)】

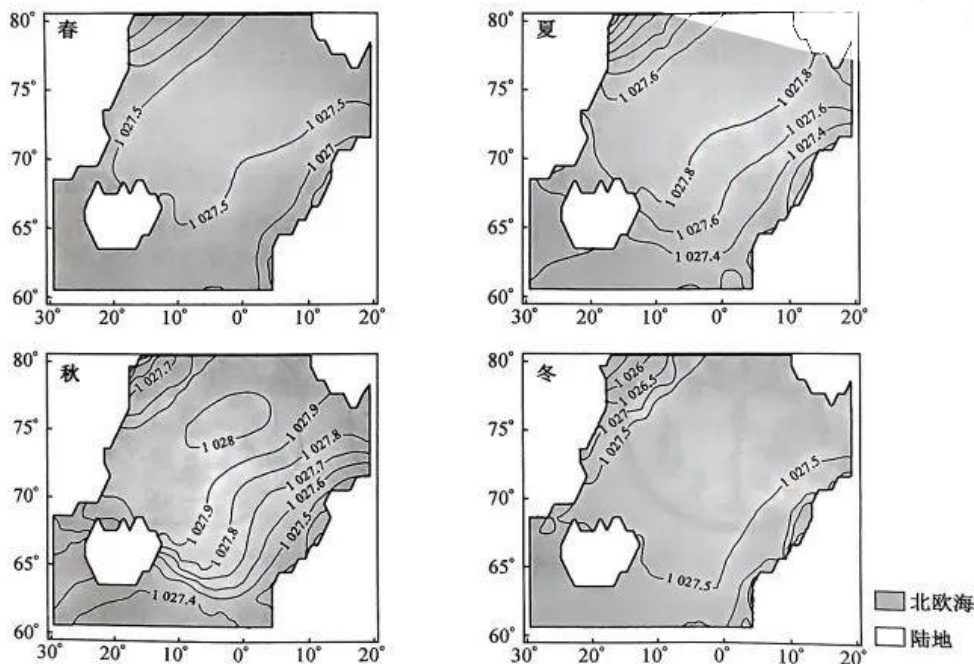
11/13



- (1) 指出江门市发展海工装备的有利区位条件。(6分)
- (2) 分别说明江门市海工装备产业集群化、高端化带来的有利影响。(8分)
- (3) 围绕海工装备制造, 指出江门市可发展的其他产业。(6分)
- (4) 简述发展海工装备制造对维护我国海洋权益的意义。(8分)

37. 阅读图文材料, 完成下列要求。(38分)

北海海是格陵兰海、冰岛海、挪威海的统称, 位于北冰洋和大西洋的交接地带。北海海海水以“深海瀑布”的形式进入北大西洋, 是北大西洋深层水的重要来源, 也是全球热盐环流(海洋中由海水密度驱动的大洋环流)的主要驱动力。下图示意某年不同季节北海海100米深海水平均密度(kg/m^3)分布。



【高三核心模拟卷(中)·文综(三) 第8页(共12页)】

VKB

- (1)说明北欧海 100 米深海水平平均密度的分布特点。(4 分)
- (2)简述北欧海海水以“深海瀑布”的形式进入北大西洋的过程。(6 分)
- (3)指出北欧海海水“深海瀑布”最显著的季节,并推测其可能原因。(6 分)
- (4)推测未来北欧海 100 米深海水平平均密度变化趋势,并说明理由。(6 分)
- (5)若北欧海 100 米深海水平平均密度减小,分析其对我国冬季东部地区气温的影响。(6 分)

38. 阅读材料,完成下列要求。(12 分)

2023 年 5 月 31 日,国务院办公厅下发了《关于印发国务院 2023 年度立法工作计划的通知》。通知提出,要强化责任担当,切实抓好立法工作计划的执行。

通知提出,要坚持把党的二十大精神贯彻落实到立法工作全过程和各方面,不断推动新时代新征程立法工作展现新气象、实现新作为、取得新成效。要紧紧围绕党的二十大作出的重大决策部署、提出的目标任务,深入分析推进中国式现代化的立法需求,坚持突出重点、急用先行,科学合理安排立法项目,更好服务保障党和国家重大决策部署。

通知提出,起草部门要认真履行起草工作职责,扎实做好调研论证、意见征集、风险评估等工作,按照立法工作计划要求,高标准高质量完成起草任务。要深入调查研究,坚持问题导向,准确把握工作中存在的突出问题,研究提出有针对性的解决方案。要注重听取各方面意见,涉及其他部门职责的要充分协商,涉及部门职责分工、行政许可、财政支持、税收优惠政策的应当征得机构编制、审改、财政、税务等有关部门同意。

结合材料,运用政治与法治知识,分析该通知所提要求的合理性。

39. 阅读材料,完成下列要求。(10 分)

2023 年上半年,我国货物贸易进出口总值 20.1 万亿元人民币,同比增长 2.1%,规模创历史新高。

2023 年上半年,我国民营企业进出口 10.59 万亿元,同比增长 8.9%,占进出口总值的 52.7%,同比提升 3.3 个百分点。同期,外商投资企业进出口 6.16 万亿元,国有企业进出口 3.29 万亿元,分别占进出口总值的 30.7%和 16.4%。

2023 年上半年,我国对“一带一路”沿线国家进出口增长 9.8%,高出整体增速 7.7 个百分点,占 34.3%,同比提升 2.4 个百分点。我国对第一大贸易伙伴东盟进出口 3.08 万亿元,同比增长 5.4%,占进出口总值的 15.3%;对欧盟进出口 2.75 万亿元,增长 1.9%,占 13.7%;对美国进出口 2.25 万亿元,下降 8.4%,占 11.2%。

2023 年上半年,我国机电产品出口 6.66 万亿元,同比增长 6.3%,占出口总值的 58.2%,同比提升 1.4 个百分点。

结合材料,运用“经济全球化与中国”的知识,说明我国货物贸易进出口规模扩大对世界的积极影响。

40. 阅读材料,完成下列要求。(20分)

【划定生态保护红线】

美丽中国建设,好的生态环境是基础。划定生态保护红线的最终目的是为了实现在高质量发展,使良好生态环境成为人民幸福生活的增长点,成为经济社会持续健康发展的支撑点,成为展现我国良好形象的发力点。在具体划定过程中,国家坚持“应划尽划”与实事求是相结合,将生态功能极重要区和生态极脆弱区识别出来,划入生态保护红线。

(1)结合材料,运用唯物论的知识,说明如何实现高质量发展。(10分)

【提升生态环境质量】

牢牢守住生态保护红线,是我们每个人都应该积极践行的责任。当前,我国生态环境质量持续好转,这更坚定了我们要以持之以恒的态度、攻城拔寨的拼劲,一茬接着一茬干,一本蓝图绘到底。

(2)结合材料,运用辩证思维的知识,说明如何提升生态环境质量。(10分)

41. 阅读材料,完成下列要求。(10分)

2023年8月15日,知名星空摄影师戴建峰称自己亲手拍摄的照片,被视觉中国致电称是侵权使用,还被要求赔偿8万余元。其向视觉中国发问,希望得到一个合理解释。当日晚,视觉中国官方回应称这是一个“误解”,表示:经初步核实,他们拥有对包括涉事相关图片在内的完整的销售权利,涉事图片的销售授权链条清晰完整。次日上午,戴建峰转发视觉中国此前的解释声明,并称不接受视觉中国将此事定性为“误解”,希望视觉中国立即停止侵权行为。

不难看出,摄影师戴建峰认为视觉中国无权使用自己摄影创作的图片,更无权以此索赔和继续销售;而视觉中国则认为其是经第三方授权的销售与维权,只是由于种种原因维权到原作者头上,是一个“误会”,且持开放态度解决误解。

结合材料,运用法律与生活知识,分别说明摄影师戴建峰在什么情况下构成侵权,视觉中国在什么情况下构成侵权。



42. 阅读材料,完成下列要求。(25分)

材料一

17世纪后期以来,清政府财政长期盈余,即使是十九世纪六七十年代,仍能保持盈亏的大体均衡。甲午中日战争后,清廷开支急剧上涨,入不敷出状态愈演愈烈。清政府不得不推行改革,力求财政的“近代化”。考察东西洋各国的大臣回国后提出效仿东西各国,设财政部、会计检察院等,慈禧等最终弃“财政部”不用,改户部为自古已有的“度支”,对会计检察院等更是置之不理。1908年,清廷决议“采行新的预决算制度,欲整齐天下之财政”,具体的过程中,各省与度支部的主张并不相同,特别是涉及到各省岁入、岁出的安排,在各省造册上报的省预算中,体现出保护地方利益、推诿抵制的倾向。清政府为推行“新政”、摊派赔款等,默许地方就地筹款,国家传统税收外的各种捐税逐渐取得了合法地位,一时间民心涣散,民变四起。

——摘编自王燕《晚清财政变革与国计民生》

材料二

伴随着国力不断增强,新中国成立70年间,财政收入从1950年的62亿元增长到2018年的18.3万亿元,财政支出则从68亿元提高到22.1万亿元。长期计划经济时期生产建设型财政之后,逐渐演化为社会主义市场经济时期的公共财政,以2018年为例,教育、社会保障和就业、城乡社区等支出占全国财政支出的比重分别为14.6%、12.3%、10.3%,均超过了10%。财政政策在历经长时期的紧缩流动之后,自1998年以来逐渐走向主动积极,成为国家实施宏观经济调控的两个重要工具之一。我国长期实行的高度集权的统收统支模式,在20世纪90年代的分税制改革后,明确了地方财政地位,注入了确定性,充分调动了地方各级政府当家理财的积极性、主动性。

——摘编自王基宇《新中国财政70年回眸与展望》

- (1)根据材料一并结合所学知识,说明晚清财政近代化转型的背景并分析其失败的原因。(12分)
(2)根据材料二并结合所学知识,概括新中国财政治理的变迁并分析其意义。(13分)

43. 阅读材料,完成下列要求。(12分)

材料

长期以来,西方资本主义国家凭借其先发优势,制造并标榜以“私有制+自由市场+分权型现代化国家机构”为“方程式”的资本主义现代化发展模式作为实现现代化的必由之路。20世纪70年代,美国哈佛大学亨廷顿教授把它归纳为如下九个特征:

- ①现代化是革命的过程。从传统社会向现代社会的转变,只能与人类起源的变化和从原始社会向文明社会的变化相比拟。
- ②现代化是复杂的过程。它实际上包含着人类思想和行为一切领域的变化。
- ③现代化是系统的过程。一个因素的变化将联系并影响到其他各种因素的变化。
- ④现代化是全球的过程。现代化起源于15世纪和16世纪的欧洲,但现在已经成为全世界的现象。

【高三核心模拟卷(中)·文综(三) 第11页(共12页)】

- ⑤现代化是长期的过程。现代化所涉及的整个变化,需要时间才能解决。
- ⑥现代化是有阶段的过程。一切社会进行现代化的过程,有可能区别出不同的水平或阶段。
- ⑦现代化是趋同的过程。传统社会以很多不同的类型而存在,现代社会却基本是相似的。
- ⑧现代化是不可逆的过程。虽然在现代化过程中某些方面可能出现暂时的挫折和偶然的倒退,但在整体上现代化是一个长期的趋向。
- ⑨现代化是进步的过程。在转变时期,现代化的代价和痛苦是巨大的;从长远看,现代化增加了人类在文化和物质方面的幸福。

——摘编自亨廷顿《文明的冲突》

根据材料,围绕“现代化之路”自拟一个具体的论题,并运用所学中国史的相关知识对其进行简要阐述。(要求:论题明确,史实准确,史论结合,逻辑清晰。)

4. 阅读材料,完成下列要求。(15分)

材料一

在英国的影响下,法国“近求技术先得月”,法国尤其在纺织业和采煤业逐渐发展起来,许多生产部门开始使用简单机器,不少人认识到妇女在生产活动中的积极作用,下层女性的职业教育开始起步,有知识、有抱负的妇女通过沙龙和阅读进入了以前专为男人享有的知识领域。

——摘编自葛大明《启蒙时代的法国女性和女性观》

材料二

加莱大区女性识字率

	农村识字率	城市识字率	总览
18世纪中	39.3	51.3	45.3
18世纪末	34.8	55.4	45.1
1806~1815年	34.7	59.4	47.04

启蒙运动时期法国女性受教育途径主要包括:一是比较狭义的学校教育,附属于圣母唱诗班或大教堂的付费小学校、寄宿学校、慈善性质的堂区学校,以及没那么系统的、比较广义的教育,比如参加沙龙和演讲讨论会。从1820年到1830年,女性读物的数量与1750年到1760年对比增加了10倍。占有所有青年文学读物的近六分之一。

——摘编自曾咏柳《法国启蒙运动时期的女子教育研究(1680~1789)》

- (1)根据材料一并结合所学知识,分析法国女子教育兴起的背景。(9分)
- (2)根据材料一、二并结合所学知识,概括法国女子教育的特点。(6分)

关于我们

自主选拔在线是致力于提供新高考生涯规划、强基计划、综合评价、三位一体、学科竞赛等政策资讯的升学服务平台。总部坐落于北京，旗下拥有网站（[网址：www.zizzs.com](http://www.zizzs.com)）和微信公众平台等媒体矩阵，用户群体涵盖全国 90% 以上的重点中学师生及家长，在全国新高考、自主选拔领域首屈一指。

如需第一时间获取相关资讯及备考指南，请关注**自主选拔在线**官方微信号：**zizzsw**。

