

## 历史试卷

本试卷共6页,20小题,满分100分。考试用时75分钟。

## 注意事项:

1. 答卷前,考生务必用黑色字迹的钢笔或签字笔将自己的姓名、考生号、考场号和座位号填写在答题卡上。将条形码横贴在答题卡右上角“条形码粘贴处”。
2. 作答选择题时,选出每小题答案后,用2B铅笔在答题卡上对应题目选项的答案信息点涂黑;如需改动,用橡皮擦干净后,再选涂其他答案,答案不能答在试卷上。
3. 非选择题必须用黑色字迹的钢笔或签字笔作答,答案必须写在答题卡各题目指定区域内相应位置上;如需改动,先划掉原来的答案,然后再写上新的答案;不准使用铅笔和涂改液。不按以上要求作答的答案无效。
4. 考生必须保持答题卡的整洁。考试结束后,请将答题卡交回。

一、选择题:本题共16小题,每小题3分,共48分。在每小题给出的四个选项中,只有一项是符合题目要求的。

1. 下列选项中,材料与结论之间逻辑关系正确的是

选项	材料	结论
A	龙山文化朱封大墓内,发现有各种精美陶器、骨器、玉器等随葬品的单人木椁墓。	龙山文化已经出现私有财产
B	《尚书·梓材》:“若兹监,惟曰欲至于万年,惟王子子子孙孙永保民。”	商朝时期原始民主传统形成
C	《春秋左传正义·定公十年》:“中国有礼仪之大,故称夏;有服章之美,谓之华。”	春秋时期流行华夏认同观念
D	《史记·商君列传》:“民有二男以上不分异者,倍其赋。”	战国时期赋役加重趋势明显

2. 《九章算术》记载了不少基层官员面临的实际问题,包括“方田”讲田亩面积计算;“衰分”讨论按比例分配赋税与徭役;“商功”解决筑城、开渠等土木工程所遇到的各种体积计算问题等。这反映汉代
- A. 基层官员的日常公务繁重  
B. 注重数学教育  
C. 科技适应国家治理的需要  
D. 土地兼并严重
3. 北魏孝明帝以考试选拔御史,同时射策者800余人,高第者24人;孝庄帝时朝廷动荡不安,仍以考试选任散骑常侍、散骑侍郎;北朝的考试动辄数百、数千人,吏部任官除察举之外仍需考试。这有助于
- A. 创新政治制度  
B. 消弭民族隔阂  
C. 巩固国家统一  
D. 提高军事实力

4. 新罗使用唐代年号,采用唐朝历法,汉字是官方文字,男女服装、婚丧嫁娶同汉族习俗一样。朝鲜半岛的留学生可以参加唐朝的科举考试,及第可以做官。这说明了当时
- A. 对外政策发生了根本性变化  
B. 唐朝的繁荣昌盛  
C. 唐文化兼具包容性和辐射力  
D. 中朝关系较和睦
5. 范仲淹认为商人“上以利吾国,下以藩吾身”;北宋纪传体史书《东都事略》载:“行商坐贾,通货殖财,四民之益也”。这体现了宋代
- A. 人身依附关系逐渐松弛  
B. 商人政治地位提高  
C. 对传统经济政策的反思  
D. 经济结构发生变动
6. 有学者评价某一制度:“是全面实现人丁徭役税从土地税里征收的制度,使得人口税与财产税合一……实质上是政府从分征人口税、财产税转变为征收单一的财产税。”“做到赋役合一”。这一制度是
- A. 租庸调制  
B. 里甲制度  
C. 一条鞭法  
D. 摊丁入亩
7. 1864年,两广总督毛鸿宾仿京师同文馆建广州同文馆,聘请美国人教习西文,招收学生学习英文,是为广州第一所外国语学校。与此前后,购买、仿制西式船炮有所开展或酝酿。这些举措旨在
- A. 促进近代教育兴起  
B. 学习西方先进技术  
C. 镇压太平天国运动  
D. 探求强国御侮之策
8. 民国六年有人在日记中写道:“山西督军兼省长阎锡山,复辟以来不受山西巡抚之命,而反发兵出晋赴京讨张勋,指张勋为叛逆,抑何悖谬若此耶?”这反映
- A. 讨伐复辟的行为被作者认可  
B. 作者思想具有保守性  
C. 当时民主共和观念深入人心  
D. 地方军阀势力的庞大
9. 1932年,国民党军队在苏区挨村挨户地“清剿”红军,使得大批贫苦农民放弃家园跟随红军进入大别山,他们为红军探敌情、送消息;国民党军队烧山毁林,他们就到处贴标语:“树也砍不完,根也挖不尽,留得大山在,到处有红军。”上述现象反映了
- A. 国民党的统治面临崩溃  
B. 革命统一战线不断扩大  
C. 土地革命得到民众支持  
D. 红军亟须进行战略转移
10. 毛泽东在某次最高国务会议上所作的报告指出:苏联片面注重重工业,忽视农业和轻工业;在国家和农民的关系问题上把农民挖得很苦;把什么都集中到中央,地方一点机动权都没有。……中国应当找出一条符合中国情况的道路。该报告
- A. 反映党对建设社会主义有了新认识  
B. 标志党的工作重心发生了重大转移  
C. 推动社会主义建设总路线顺利实施  
D. 旨在揭露苏联经济体制存在的弊端

11. 公元前8—前6世纪,希腊有大小城邦千余个,与商业联系密切的约10个,且这些城邦与其他城邦一样,都把农业视为公民的第一产业,绝大多数公民仍是土地所有者和农夫。这说明当时希腊城邦
- A. 民主因素尚未出现  
B. 区域文明交流频繁  
C. 商人未获得公民权  
D. 属于农本经济社会
12. 图1所示的象钟是中世纪阿拉伯发明家加扎利撰写的《精巧机械装置的知识之书》中介绍的一种装置。此装置上的大象让人想到印度和非洲,龙让人想到中国,不死鸟让人想到古埃及。这反映了阿拉伯





图1

- A. 科技成就领先于世界  
B. 建立起地跨亚非欧的大帝国  
C. 文化具有多元融合性  
D. 成为东西方文化交流的桥梁
13. 宗教改革之前,英国主教群体在国家世俗和宗教事务上拥有诸多特权,如司法豁免等;宗教改革之后,主教的职能被限制在宗教领域,并被取消了一系列宗教特权。这一变化
- A. 巩固了天主教会的信仰基础  
B. 推动了英国的近代国家建构  
C. 勾勒了理性王国的发展蓝图  
D. 催生了英国君主的世俗权力
14. 1918年,列宁指出:“(帝国主义者)的肚子里正在成长着一个新的巨人”,“他在成长着,他一定会来援助我们。”“巨人”是指
- A. 反对西方殖民统治的力量  
B. 崛起的中小资产阶级  
C. 不断扩大的社会主义阵营  
D. 西方国家的革命力量
15. 20世纪30年代,美国发生了轰动世界的黑人种族主义案——斯科茨伯勒案,但美国并不特别在意国际社会对其种族问题的批评。战后,美国司法部在一系列涉及黑人民权的诉讼中反复强调,除非消除种族歧视和隔离,否则会重创美国的国家形象。对这一重大变化最合理的解释是
- A. 民权法规定禁止实行种族隔离制度  
B. 冷战影响了美国的民权运动  
C. 美国黑人掀起轰轰烈烈的民权运动  
D. 美国旨在改善与亚非拉关系

16. 图2 漫画为两伊战争(1980—1988年)期间出现的一幅漫画。该漫画描绘的场景是“伊朗猫”在“苏联熊”“美国鹰”和“英国狮”的阴影下,感受到“战略孤独”。该漫画反映了当时



THE CAT THAT WANTED TO BE ALONE

图2

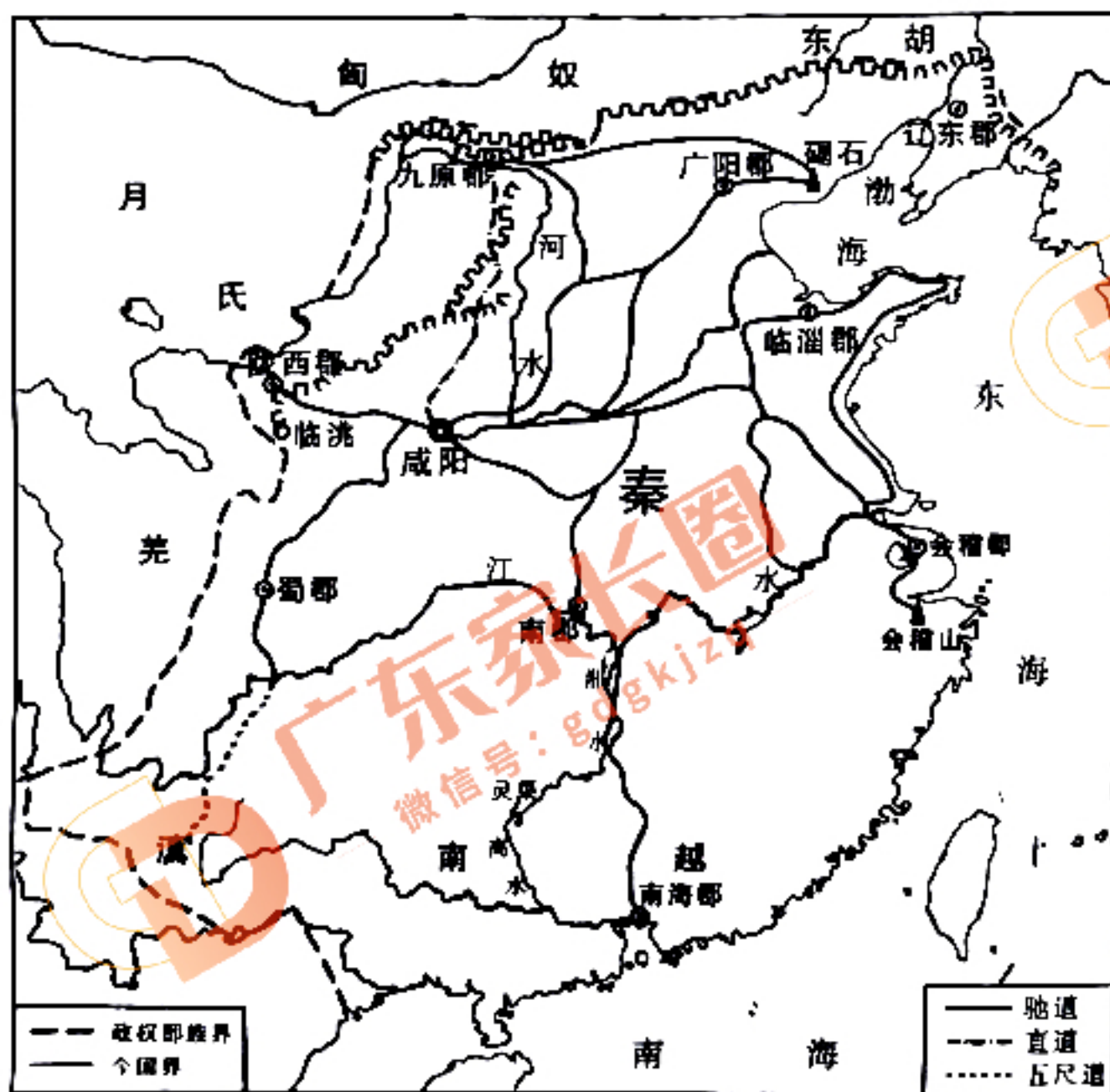
- A. 大国强权政治色彩浓厚
- B. 第三世界的影响力扩大
- C. 美苏之间关系走向缓和
- D. 英国国际地位超越欧盟

二、非选择题:本题共4小题,共52分。

17. 交通便利了人们的生活,促进了国家的政治、经济和文化进步。阅读材料并结合所学知识,完成下列要求。(14分)

材料一 有学者将交通系统列为统一国家赖以生存的首要组织,认为“交通系统之所以名列榜首,是因为它们是大一统国家赖以生存的主要制度”。

——摘编自[英]阿诺德·汤因比《历史研究》



▲ 秦朝道路示意图



▲ 元朝运河、海运路线图

图3

图4

材料二

表1 晚清兴修铁路曾引起的争论

观点一	“倘任其修筑开设铁路，洋人可任意往来……于大局更有关系”。 “而沿途之旅店，服贾之民车，驮载之骡马，皆歇业矣，是括天下平民之力而归之官也……与民争利，祸亦随之”。
观点二	“洋人之要挟否，视我国力之强弱。我苟能自强而使民物殷富，外人愈不敢肆其要求；我不能自强，则虽民物萧条，洋人亦必隐图其狡逞”。“铁路之利于漕务、赈务、商务、矿务、厘捐、旅行者，不可殫述”。

——摘编自《中国近代史资料丛刊·铁路史部分》

- (1) 结合材料一，提取图3信息分析秦朝陆路交通建设对巩固统一的作用。说明图4中元朝交通路线形成的原因。(8分)
- (2) 指出材料二中两种观点有何分歧。并就晚清修建铁路的影响谈谈你的看法。(6分)

18. 阅读材料并结合所学知识，完成下列要求。(14分)

材料一

表2 西班牙殖民时期古巴蔗糖产量情况表

年份	产量(单位:万吨)	年份	产量(单位:万吨)
1776	0.56	1850	29.4952
1819	3.8548	1859	53.6
1840	16.1248	1868	72.025

——摘编自赵长华《古巴糖业今昔》、陈路星《浅述18—20世纪古巴糖业的发展与萧条》

材料二 1898年古巴摆脱了西班牙殖民统治，建立了共和国，1901年在美国占领军政府的主持下，参照美国宪法制定了古巴宪法。1934年古美签订了“互惠贸易协定”，降低食糖、甜酒、烟叶等34种古巴农产品进入美国市场的关税；降低了近500种美国工业品进入古巴的关税。1948年，糖产量为580万吨，占古巴出口总值的90%，而且大部分出口到美国。到1959年古巴革命之前，美国资本掌握了古巴40%的原糖、50%的公用铁路以及90%的电话和发电企业。值得注意的是普通民众的生活并未有所改善，相反“促成了普遍的贫困”……以至于有学者指出蔗糖经济的迅猛发展并没有使古巴成为现代化国家，而是将古巴变成“假发展”国家。

——摘编自林震《1959年革命前古巴蔗糖业的发展及其影响》

- (1) 指出材料一中西巴蔗糖产量的变化趋势，并分析其影响。(6分)
- (2) 结合材料二，简析古巴被视为“假发展”国家的原因。(8分)

19. 中国共产党成立于中华民族危难之际,其发展史本身就是一部在风险与危机应对中不断化危为机的历史。阅读材料并结合所学知识,完成下列要求。(12分)

材料

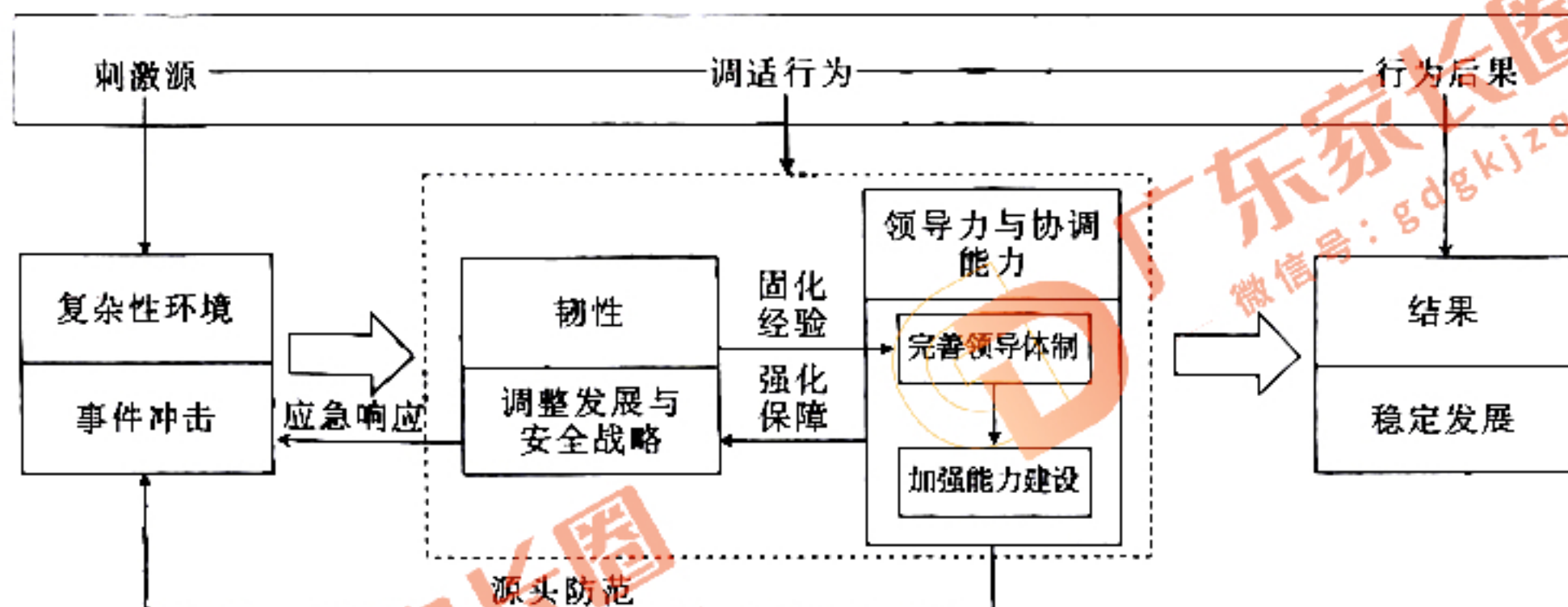


图5 风险与危机应对机制分析框架

——摘编自宋劲松等《中国共产党风险与危机应对机制研究》

围绕“中国共产党风险与危机应对机制”这一主题,根据分析框架中“刺激源——调适行为——行为后果”对应的若干要素,结合中国共产党革命或建设的史实进行阐述。(要求:论题明确,论证充分,史实准确,表述清晰)

20. 阅读材料并结合所学知识,完成下列要求。(12分)

材料一 20世纪上半叶,英国妇女运动主要围绕三个关键问题:(一)妇女应享有公民权,争取选举权成为妇女一种关键的诉求,被认为是改善妇女地位最重要的权利。(二)女性就业问题,男女两性机会应该均等。(三)女性应不应该避孕,应不应该以抚育子女为主要事业——仅以家庭为一生的舞台。

——摘编自裔昭印等著《西方妇女史》

材料二 1901—1911年涌现出的女子结社与团体多达四十余个,多数团体既热衷于妇女解放也热衷于政治斗争。1924年国民党一大后,国共两党分别确立了妇女运动方针,妇女运动被纳入了国民革命的轨道。抗日战争时期,抗日根据地成立了妇女联合会、妇女抗日救国会等妇女团体,这些团体担当了在广大农村组织妇女参加抗战的重任,也是推动妇女运动发展的巨大动力。

——摘编自杜芳琴《中国历史中的妇女与性别》

有学者提出,妇女运动是特定历史条件的产物。概括20世纪上半叶中英两国妇女运动诉求的不同之处,并论证该学者的观点。(要求:史实准确,史论结合,逻辑清晰)