

## 高三历史试题

2024.1

本试卷共 10 页，满分 100 分，考试时间 90 分钟。

注意事项：

1.答题前，考生先将自己的姓名、考生号、座号填写在相应位置，认真核对条形码上的姓名、考生号和座号，并将条形码粘贴在指定位置上。

2.选择题答案必须使用 2B 铅笔（按填涂样例）正确填涂；非选择题答案必须使用 0.5 毫米黑色签字笔书写，字体工整、笔迹清楚。

3.请按照题号在各题目的答题区域内作答，超出答题区域书写的答案无效；在草稿纸、试题卷上答题无效。保持卡面清洁，不折叠、不破损。

### 第 I 卷（选择题 共 44 分）

一、选择题：本大题共 22 小题，每小题 2 分，共 44 分。在每小题列出的四个选项中，只有一项是符合题目要求的。

1.河南新郑和密县两地的墓葬考古发现：大多数随葬石磨盘、石磨棒类工具的单人墓中，不见石铲、石镰、石斧类工具，反之亦然；在随葬这两类石器的一例合葬墓中，从陈放位置来看，两类工具也是“分属两个个体”。这说明当时（ ）

- A.出现了劳动分工  
B.产生了贫富分化  
C.确立了私有制度  
D.形成了阶级对立

2.魏国李悝变法中，要求百姓种田时“必杂五谷”“力耕数耘”，收获时“如寇盗之至”进行抢收，还要求农户“环庐树桑，菜茹有畦”。李悝此举（ ）

- A.体现了儒家政在得民的思想  
B.顺应了时局发展需求  
C.意在强调劳动生产的重要性  
D.源于劳作方式的转变

3.战国时期，墨子主张对守城有功的男子“爵二级”，荀子主张“虽庶人之子孙也，积文学，正身形，能属于礼义，则归之卿相士大夫”。这些主张（ ）

- A.体现了学术自由的社会价值  
B.旨在鼓励平民改变地位  
C.有助于社会等级关系的活化  
D.试图扩大社会统治基础

4.汉代重视发展私学，表 1 为汉代私学学习内容的简要情况。政府重视发展私学主要是为了（ ）

表 1


阶段	主要学习内容
蒙学教育	识字教育，多为姓氏、衣着、饮食等方面的日常用字
经书学习	《孝经》《论语》《诗经》《尚书》等
专经教授	经学、黄老之学、法律、天文、星历、卜筮之术、医学等

- A.凸显儒学独尊地位  
B.培养人才综合素质  
C.加强基层民众教化  
D.创新教育实施路径

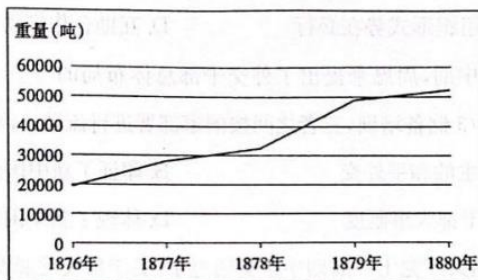
5.宋太宗曾下令两浙、岭南、福建各州官员鼓励百姓种植粟、麦、豆、黍等杂粮，江北诸州鼓励农民广种粳稻，种子由中央政府统一调配供应。这一举措得以实施是基于（ ）

- A.经济重心的南移  
B.劳作方式的改进  
C.分裂局面的结束  
D.民族交融的加强
- 6.如图是明代数学家程汝思在其著作《算法统宗》中出的一道算术题。这说明当时( )

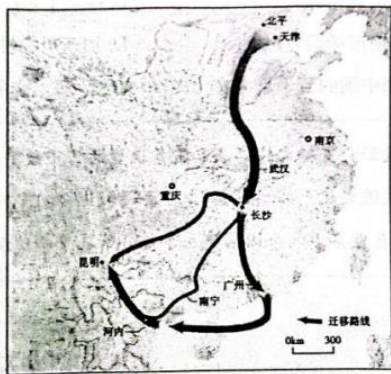
今有元、亨、利、贞四人合本经营。  
元出本银二十两，亨出本银三十两，  
利出本银四十两，贞出本银五十两，  
共一百四十两。  
至年终共得利银七十两。  
问：各该利若干？  
答：元该利一十两，亨该利一十五两，  
利该利二十两，贞该利二十五两。



- A.商业资本发展  
B.抑商政策弱化  
C.拜金风气渐盛  
D.科技应用广泛
- 7.嘉庆年间，安徽桐城祝氏宗族将订立的族规“呈县请批”，县批文说：“祝姓户族人等知悉，尔等务须……听从户尊长等开列规条，共相遵守。如有不遵约束者许该户长据实指名赴县具禀，以凭惩治。”这体现了当时基层治理的特点是( )
- A.家国双重治理结构升级  
B.慎刑罚而重教化  
C.以弥合官民矛盾为核心  
D.严控基层自治权
- 8.1858年，英、法、美三国胁迫清政府签订《通商章程善后条约》。该条约规定，凡进口洋货运销中国内地或出口土货从内地运销国外，除缴纳进口税或出口税外，需一次性另缴子口税以代替厘金。该规定( )
- A.减轻了清朝政府财政负担  
B.便利了列强对华经济侵略  
C.刺激了民族资本主义产生  
D.减少了海关关税征课所得
- 9.如图是中国在1876—1880年间钢铁进口量变化示意图。这一变化主要是由于( )



- A.民间设厂限制的放宽  
B.清朝政府的国防建设  
C.收回利权运动的推动  
D.列强侵华方式的转变
- 10.1931年,中共在江西德兴苏区设立了四大对外贸易处,履行“管理并监督苏区与非苏区的贸易,流通苏区与非苏区的经济”的职能,落实“保护贸易自由,准许外商经商”的政策。此举意在( )
- A.改善苏区经济窘况  
B.践行武装割据理论  
C.推动土地革命进展  
D.重构商品贸易体系
- 11.如图是某中学历史社团进行课题研究时使用的一幅示意图。该社团研究的课题是( )



- A.教育学术力量内迁  
B.民族工业向西南大后方转移  
C.中国远征军开赴战场  
D.人民解放军进军大西南
- 12.1951年,山西省长治地区的10个试点农业合作社通过集资或贷款购置了农具177件,改良了土壤341亩,粮食亩产和社员收入都大大超过了1950年的水平。这表明( )
- A.人民政府通过土改满足农民需求  
B.农业合作社是主要生产组织形式  
C.推广新式生产组织形式势在必行  
D.互助合作推动三大改造顺利开展
- 13.20世纪五十年代中期,周恩来提出了外交干部总体布局的“三三制”原则,即1/3在国内,1/3在国外,1/3储备培训,三者之间按国家部署进行流动。该举措( )
- A.开创了独立自主的和平外交  
B.印证了新中国外交政策的成熟  
C.建立了完备的干部人事制度  
D.体现了新中国外交的务实统筹

14.1979年9月,中国共产党十一届四中全会通过了《关于加快发展农业若干问题的决定》,如图内容为该文件的摘选。这些摘选内容的实施( )

·人民公社、生产大队和生产队的所有权和自主权应该受到国家法律的切实保护  
·人民公社各级经济组织必须认真执行各尽所能、按劳分配的原则  
·鼓励和支持农民经营家庭副业,增加个人收入  
·棉花、油料、糖料、畜产品、水产品、林产品等收购价格,也要分别情况,逐步做相应的提高

- A.实现了农副产品的自由流通  
B.推动了包产到户政策的落实  
C.确立了农产品价格市场调节机制  
D.加速了农村经济体制改革进程

15.如图是21世纪以来中国的若干重大文化文件、文化活动。这主要着眼于( )

2006年:《关于鼓励和支持文化产品和服务出口的若干政策》  
2011年:《关于促进文化产品和服务“走出去”2011—2015年总体规划》  
2004—2012年:在世界108个国家建立了400所孔子学院和500多个孔子课堂

- A.发展全球伙伴关系  
B.拓宽中国文化宣传范围  
C.争取国际竞争主动权  
D.为世界发展提供中国方案

16.《大唐西域记》对印度四大种姓的记载与古印度《梨俱吠陀》相比较有较大差异(如表2所示)。这一差异源于( )

表2

	《梨俱吠陀》 (成书于公元前1500—前900年)	《大唐西域记》 (成书于公元646年)
婆罗门	祭司	净行(祭司)
刹帝利	武士	王种
吠舍	农民	商贾
首陀罗	奴隶	农人

- A.阶层固化有所打破  
B.等级差异的制度化  
C.经济结构发生变动  
D.种姓制度长期存在

17.罗马帝国在行省只派一名军事长官任总督,也没有设置县级一类的机构和区划,当地人除了交税,其社会组织、生活方式、宗教和语言等一切照旧。这一状况( )

- A.导致地方治理水平低下  
B.推动了罗马法律的发展  
C.加剧了中央与地方矛盾  
D.促进帝国境内文化交融

18.中世纪的欧洲存在“特恩权”的封赏方式:由国王颁布专门的敕令,禁止地方政府官员和行政人员进入领主领地内去执行司法、治安和行政事务,将这些职能全部赏给领主或其代理人。这从实质上说明( )

- A.领主成为国王在地方统治的代表  
B.民族国家发展推动王权强大  
C.国王对领主自治权利的法律确认  
D.工商业发展推动城市的自治

19.表3是美、英、德、中四国某方面所占世界份额的变化情况。“某方面”指的是( )

表3

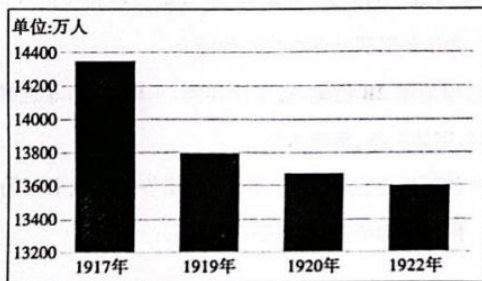
年份	1800年	1860年	1900年	1953年
美国	0.7	7.1	23.7	44.7
英国	4.1	19.9	18.5	8.4
德国	3.5	4.9	13.2	5.9
中国	33.3	19.5	6.3	2.3

A.殖民地数量      B.制造业总产量      C.对外贸易额      D.白银的存储量

20.19世纪中期,当法国主动和英国商量共同占领埃及的时候,英国首相表示:“我们并不想要埃及,就像一个脑子正常的人,并不希望拥有沿途客栈一样。他所要的只不过是这些客栈对他开放,当他来到时,客栈会提供羊排、晚餐和驿马,如此而已。”这是因为英国( )

A.无意扩大在埃及的权益      B.经济扩张方式转变  
C.殖民霸权逐步衰落      D.认识到埃及人民的反抗力量

21.如图反映的是俄国1917—1922年人口数量变化情况。与这一情况的出现密切相关的是( )



A.经济政策的调整      B.小农为主体的经济结构  
C.严峻的政治形势      D.工农业生产技术的落后

22.《大国的兴衰》一书中描述了这样一个情境:法国宁可承受严重超额的国防预算,也断然拒绝了美国提供的核武器,因为美国政府提出了附加条件。这一情境可能发生在20世纪( )

A.二三十年代      B.三四十年代      C.五六十年代      D.七八十年代

第II卷(非选择题 共56分)

二、非选择题:本大题共4小题,第23题14分,第24题14分,第25题14分,第26题14分,共56分。

23.(14分)阅读材料,回答问题。

唐代监察制度

唐代在前朝基础上设计、创建了监察制度,并在运行中对其不断调整。

理论与创建

商鞅认为“事同体一者,相监不可”,“相监”的前提是“利异而害不同”。唐代秉承这一理论并借鉴前代制度建设经验,设立御史台,对中央和地方百官进行监察。其中对地方既有监察御史的定期、常规巡察,也有临时、不定期的“遣使巡察”,两者职责有分工也有交叉,遇事可以互相商量、互相监督。

——据毛健《监督与制衡：唐代巡察制度的特征、运作及成效》等

问题与调整

696年，官员李峤上疏皇帝武则天：“诸道巡察使科目，凡四十四件，至于别作格、敕、令访察者，又有三十余条。……而每道所察文武官，多至二千余人……欲令曲尽行能，则皆不暇。”

——《唐会要》卷七十七

710年，侍御史杨孚，弹劾不避权贵，权贵毁之。上（唐睿宗）曰：“鹰搏狡兔，须急救之，不尔必反为所噬。御史绳奸愿亦然，苟非人主保卫之，则亦为奸愿所噬矣。”

——《资治通鉴》卷二百一十

唐政府停止执行繁杂严密的《风俗廉察四十八条》，制定了新“监察六条”作为监察的法律依据。把地方监察区“贞观十道”调整为“开元十五道”。如表4、表5所示。

表4 唐玄宗开元初制定的“监察六条”

其一	察官人善恶
其二	察户口流散，籍帐隐没，赋役不均
其三	察农桑不勤，仓库减耗
其四	察妖猾盗贼，不事生业，为私蠹害
其五	察德行孝悌，茂才异等，藏器晦迹，应时启用者
其六	察黠吏豪宗兼并纵暴，贫弱冤苦不能自申者

表5 “贞观十道”与“开元十五道”

	贞观十道	开元十五道
监察区（道）数量	10	15
下设州（郡）数量	322	327
下设县数量	1551	1613

——据周振鹤《中国行政区划通史·唐代卷》等

- (1) 该制度涉及到了哪些社会关系的协调？（6分）  
(2) 围绕该制度的“问题与调整”，谈谈你的认识。（8分）

24.（14分）阅读材料，回答问题。

时代的印记：校歌

校歌是一个时代的印记，是一个学校对内的号召和激励，对外的形象展示和宣言。

国旗招展，风和日丽，纪念庆嘉辰。革命功高，共和永固，专制一朝倾。独立精神，自由幸福，奴隶除名。二十世纪，辉煌灿烂，历史放光明。

——《湖南省汉寿女子小学校歌》（1915）

我们的园地，秀山之麓，杞湖之滨。我们的同学天真烂漫，我们的学习严肃活泼。德、智、体、群、美锻炼我们的身心。礼、义、廉、耻陶冶我们的品性。我们是“礼乐名邦”的小天使，我们是“士秀民良”的后备军。同学警醒！勿忘国难，勿耗光阴。大家努力求学，大家努力前进。

——《云南省通海县男子小学校歌》（1941）

结合材料，以“校歌与时代印记”为题写一则历史短文。（14分）（要求：表述成文，叙述完整；立论正确，史

论结合:逻辑严密,条理清晰。)

25. (14分) 阅读材料,回答问题。

一次对农民的调查

1989年,无锡县委宣传部采用调查问卷等方法对该县35个乡镇的万户农民进行了调查。如图是本次调查问卷问题的整理,表6是其中当时四个备受关注问题的调查数据统计情况。

调查问卷问题	
一、近三年的家庭收入情况	六、你进一步富裕需要的条件
二、近三年的家庭收入来源	七、你认为现在农村中最富的人是谁
三、你富起来主要靠什么	八、你对先富起来的人持什么态度
四、你富裕之后的追求	九、你对现在的生活状况是否满意
五、对子女读书要求	十、你意见最大的问题

表6

问题三	致富原因	党的政策	勤奋劳动	有技术	运气好	亲朋帮助
	累计率	57.24%	48.89%	30.45%	11.94%	8.42%

问题四	你富裕之后的追求	改善物质生活条件	丰富精神生活	提高自身素养	渴望别人理解	需要安全感
	累计率	56.5%	36.64%	20.14%	7.96%	4.9%

问题五	对子女读书要求	高中或中专	大学	小学或初中	不读书也行
	比例	50.97%	24.37%	16.16%	8.4%

问题八	对先富起来的人持什么态度	应给予支持	要一起富	应有所限制	其他
	比例	36.6%	33.5%	29.6%	0.3%

——据朱文华《改革大潮中的农民心态一瞥——对无锡县万户农民的调查》

(1) 本次调查为何如此设计问卷问题? (6分)

(2) 表6中数据反映了农民怎样的主流心态? (8分)

26. (14分) 阅读材料,回答问题。

“美好年代”

19世纪晚期至一战爆发前,法、英、美、俄等主要资本主义国家政局相对稳定,社会各个领域迅速发展,被西方一些学者称作为“美好年代”。但是,另外一些学者对此表示反对,认为“美好年代”与事实不符。

表7 “美好年代”中的巴黎

时间	事件
1872	巴黎人口达到185万
1874	麦克马洪作为第三共和国第一任总统入住爱丽舍宫
1875	巴黎歌剧院正式开放

1879	在巴黎安装第一个电话系统
1883	成立第一个女子高中——菲妮罗高中
1884	法律强制要求街道安设垃圾桶
1885	市议会允许妇女在巴黎医院担任实习生
1889	出版第一本电话簿；博览会参观人数达到 2500 万人
1895	第一家老佛爷百货开业
1897	第一座电影院开业
1900	第二届夏季奥运会开幕；地铁 1 号线开通；法律通过允许妇女从事法律工作
1905	第一个地下公共厕所在玛德莲广场开放
1906	巴黎人口达到 272 万
1907	第一位女士获得在巴黎开出租车的执照
1909	巴黎建造第一条汽车单行道
1912	巴黎举办第一届世界网球锦标赛

——据滕子辰《“美好年代”巴黎的城市改造》

- (1) 巴黎是如何体现法国“美好年代”的？（6分）
- (2) 你能从哪些角度去证明“美好年代”与事实不符？请举例说明。（6分）
- (3) 综上，评价一个时代应坚持什么原则？（2分）



## 关于我们

齐鲁家长圈系业内权威、行业领先的自主选拔在线旗下子平台，集聚高考领域权威专家，运营团队均有多年高考特招研究经验，熟知山东新高考及特招政策，专为山东学子服务！聚焦山东新高考，提供新高考资讯、新高考政策解读、志愿填报、综合评价、强基计划、专项计划、双高艺体、选科、生涯规划等政策资讯服务，致力于做您的山东高考百科全书。

第一时间获取山东高考升学资讯，关注**齐鲁家长圈**微信号：**sdgkjzq**。



微信搜一搜

齐鲁家长圈

打开“微信 / 发现 / 搜一搜”搜索