

2023—2024 学年度上学期月考高三政治(B)

时间：75 分钟 分数：100 分

一、单选题

1. 走自己的路，是党的全部理论和实践立足点，更是党百年奋斗得出的历史结论。中国共产党和中国人民将在自己选择的道路上昂首阔步走下去，把中国发展进步的命运牢牢掌握在自己手中！由此可见，我国走好自己路需要坚持（ ）

①开放包容，虚心借鉴汲取世界各国现代化建设经验

②道路自信，以马克思主义为指导坚守中华文化立场

③守正创新，自信自立地走好中国式现代化发展道路

④独立自主，中国的事情须由中国人民自己当家作主

A. ①②

B. ①④

C. ②③

D. ③④

2. 十九大、十九届六中全会提出的“十个明确”“十四个坚持”“十三个方面成就”概括了习近平新时代中国特色社会主义思想的主要内容，三者彼此呼应、相互贯通，构成了系统全面、逻辑严密、内涵丰富、内在统一的科学理论体系。其中，“十三个方面成就”（ ）

①是实现第二个百年奋斗目标的“路线图”和“方法论”

②总结了新时代党和国家事业取得的历史性成就、发生的历史性变革

③是被实践证明了的关于中国革命和建设的正确的理论原则和经验总结

④以一系列重要原创性成果丰富发展了习近平新时代中国特色社会主义思想

A. ①③

B. ①④

C. ②③

D. ②④

3. 在追求现代化的艰苦卓绝奋斗中，中国共产党领导中国人民不仅创造了世所罕见的经济快速发展和社会长期稳定两大奇迹，而且成功走出了中国式现代化道路，创造了人类文明新形态，为人类实现现代化提供了新的选择。由此可见（ ）

①实现中国式现代化是中国共产党不懈奋斗的最高理想

②中国共产党始终坚持初心使命，不断逐梦现代化强国建设

③中国式现代化将推动世界文明朝着积极、向善的方向发展

④中国式现代化已成为广大发展中国家独立发展的必由之路

A. ①②

B. ①④

C. ②③

D. ③④

4. 我国鼓励发展股份合作新模式，探索土地流转入股，集体资产参股等多样化经营方式，实施农民合作社规范提升行动，支持发展“龙头企业牵头、合作社跟进、农户参与”的农业产业化联合体。目前，全国已登记农民合作社 225 万家，培育农业产业化联合体 7000 多个。鼓励发展股份合作新模式意在（ ）

①变更农村土地所有权性质，进一步盘活农村资源

②建立集体经济市场化运行机制，激发农村发展活力

③完善农村集体经济经营模式，壮大新型农村集体经济

④发挥互助性经济组织作用，扩大非公有制经济支配范围

A. ①②

B. ①④

C. ②③

D. ③④

5. 市场主体是经济发展的基本载体，是经济活动的主要参与者、就业机会的主要提供者、技术进步的主要推动者，在国家经济发展中发挥着十分重要的作用。只有有效激发各类市场主体活力，才能为构建新发展格局、推动高质量发展提供重要动力。下列措施推导正确的是（ ）

①实施税收优惠支持政策→提高增值税起征点→减轻企业税收负担→提振企业市场信心

②下调金融机构存款准备金率→扩大信贷投放规模→解决企业融资难问题→降低企业投资风险

③深化要素价格市场化改革→减少市场价格波动→稳定企业营收预期→提高企业市场占有率

④健全公平竞争审查制度→强化反垄断监管→防止资本无序扩张→保护中小企业生存发展空间

A. ①③

B. ②④

C. ②③

D. ①④

6. 2023年7月16日，第九届全国社会保障学术大会在北京国二招宾馆举行，第十一届全国人大常委会委员长、中国社会保障学会名誉会长华建敏在讲话中指出，建设中国特色社会保障体系在中国式现代化全面提速的过程中也进入了关键期。要公平对待每个公民并确保其享受相应的社会保障权益，建设更高质量的社会保障体系，必须（ ）

①加快健全覆盖全民、统筹城乡、公平统一、可持续的多层次社会保障体系

②坚持社会保障水平是经济发展的基础的原则

③更多地维护好弱势群体的利益，缩小贫富差距，促进社会和谐发展

④由政府主导，通过国家财政解决社保资金问题

A. ①②

B. ①③

C. ②④

D. ③④

7. 2023年7月，习近平总书记在四川考察时强调，检验调查研究成效，要看是否摸清社情民意、是否解决实际问题。主题教育开展以来，广大党员、干部聚焦主责主业，从群众急难愁盼问题入手开展调查研究，把社情民意收集上来，把有效举措落实下去。摸清社情民意（ ）

①是中国特色社会主义制度的最大优势

②是密切联系群众、强化责任担当的有效途径

③是对实事求是、求真务实优良传统的继承和弘扬

④能为新时代党和国家事业发展提供根本遵循

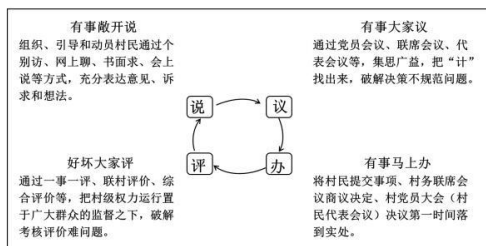
A. ①②

B. ①④

C. ②③

D. ③④

8. 某村在完善乡村治理中，构建了以党组织为核心，以村民“说、议、办、评”为主要内容的说事体系



该村的做法（ ）

- ①创新“说议办评”工作机制，提高基层治理能力
- ②畅通民意诉求渠道，完善基层群众自治组织形式
- ③发挥基层党组织领导作用，凝聚村民自治合力
- ④保障村民的决策权，调动村民民主参与积极性

A. ①③ B. ①④ C. ②③ D. ②④

9. 十四届全国人大常委会第六次会议 10 月 24 日表决通过《中华人民共和国爱国主义教育法》，突出学校和家庭对青少年和儿童的爱国主义教育，并对公职人员、村居民、港澳台同胞的爱国主义教育分别作出相应规定。爱国主义教育法，对于振奋民族精神、凝聚人民力量，推进强国建设、民族复兴，具有十分重大而深远的意义。这说明（ ）

- ①全国人大常委会作为最高国家权力机关依法行使国家立法权
- ②科学立法符合国情和实际，使法律符合社会发展的需求
- ③人民代表大会制度的基本功能是把人民意志转化为党的意志
- ④科学立法要合理设定权利与义务、权力与责任

A. ①② B. ①③ C. ②④ D. ③④

10. 数字化就是利用物联网技术进一步推动设备、设施的数据采集，利用人工智能技术实现智能化，以提升管理、生产、生活等方面的效率和能力。数字技术已经极大地改变了世界，也对人的思维和行为产生了巨大的冲击。数字技术在很多领域能代替人脑的部分功能，甚至能完成人不能完成的工作。由此可见（ ）

- ①利用规律造福人类是数字技术发展的最终目的
- ②大脑结构复杂、组织严密，是意识产生的物质基础
- ③随着大数据的发展，人工智能终将代替人脑的思维
- ④大数据新成果进一步印证了意识是人脑对物质世界的反映

A. ①② B. ①④ C. ②③ D. ③④

11. 共建一带一路，十年征程再出发。2023 年 10 月 18 日，习近平总书记在第三届“一带一路”国际合作高峰论坛开幕式上发表主旨演讲，指出“世界好，中国才会好；中国好，世界会更好”“只要各国合作的愿望、协调的行动，天堑可以变通途，‘陆锁国’可以变成‘陆联国’，发展的洼地可以变成繁荣的高地。”

由此可见（ ）



- ①矛盾双方在一定条件下可以相互转化
- ②整体的功能存在于事物各个部分之中
- ③各国合作的愿望是天堑变通途的基础
- ④对外开放是国家繁荣发展的必由之路


A. ①② B. ①④ C. ②③ D. ③④

12. 毛泽东同志说：“要知道，一个队伍经常是不大整齐的，所以就要常常喊看齐，向左看齐，向右看齐，向中间看齐，我们要向中央基准看齐，向大会基准看齐。看齐是原则，有偏差是实际生活，有了偏差，就喊看齐。”下列诗句与这段话蕴含的道理相同或相似的是（ ）

- ①沉舟侧畔千帆过，病树前头万木春
- ②不谋全局者，不足以谋一域
- ③横看成岭侧成峰，远近高低各不同
- ④花在树则生，离枝则死

A. ①② B. ①③ C. ②④ D. ③④

13. 2023 年是习主席提出共建“一带一路”倡议十周年。10 月 23 日，以共建“一带一路”倡议为创作语境的人文雕塑《丝路金桥》在深圳落成。这座雕塑作品以艺术为媒介，弘扬“和平合作、开放包容、互学互鉴、互利共赢”的丝路精神。在漫长历史长河中，桥是全人类文明史上最具共鸣的标识性的符号和概念之一。这些桥不仅是一种工具，更是一种文化，一个时代的符号。雕塑《丝路金桥》（ ）



- ①来源于创造者的创造灵感
- ②通过艺术之美传达中国精神和中国价值
- ③作为文化载体，表达和展现着丰富的文化内涵
- ④既具有中国特色，也具有人类文明进步成果的特殊性

A. ①③ B. ①④ C. ②③ D. ②④

14. 2023年9月23日傍晚，承载着105791208位“数字火炬手”力量的数字人火炬手，迈着坚定的步伐，跨过钱塘江，走入杭州亚运会主体育场，完成了全球首个数字点火仪式。这次点火仪式首创了一种万众参与、数实融合的数字点火仪式，让每个人都能在数字世界里参与亚运，弘扬奥林匹克精神。数字点火仪式的成功（ ）

- ①说明了科技决定文化发展，助力中国文化走向世界
- ②满足了全球观众的文化需求，丰富了人们的文化生活
- ③展现了中国的时代活力，增强了中国人的民族自豪感
- ④体现了科技赋能体育事业发展，提升了我国文化软实力

A. ①② B. ①③ C. ②④ D. ③④

15. 2023年10月18日，第三届“一带一路”国际合作高峰论坛在北京举行。国家主席习近平出席高峰论坛开幕式并发表主旨演讲，这是“一带一路”框架下最高规格的国际活动，主题为“高质量共建‘一带一路’，携手实现共同发展繁荣”。本届论坛不仅是纪念“一带一路”倡议提出10周年最隆重的活动，也是各方共商共建高质量“一带一路”合作的重要平台。10年来，中国与共建国家广泛开展教育、科学、文化、旅游等领域合作，真正实现了通民心、达民意、惠民生。为了持续推动“一带一路”健康发展，更好地造福人类，需要（ ）

- ①摒弃西式现代化，建立“一带一路”国家合作治理体系
- ②借助固有联系，推进“一带一路”国家开放与合作进程
- ③坚持系统优化，“一带一路”国家携手共建人类命运共同体
- ④立足于人民需要，为“一带一路”国家高质量发展赋能增效

A. ①③ B. ③④ C. ②④ D. ②③

16. 2023年10月12日，联合国人权理事会第54届会议以协商一致方式通过中国和玻利维亚、埃及、巴基斯坦、南非等国共同提交的消除不平等背景下促进和保护经社文（经济、社会、文化）权利在内的各项人权的决议。决议获得发展中国家广泛支持，80个国家加入共同提案国，美国、法国、德国等国发言感谢中方所做积极努力，表示愿意参加协商一致。可见（ ）

- ①中国坚持独立自主的外交立场，致力于推动构建公正包容的国际秩序

②决议顺应了多边人权体系发展的历史潮流，旨在推动发展中国家人权事业的健康发展

③联合国竭力推动消除不平等背景下各国人权事业的同步发展

④求同存异、凝聚共识才能寻求不同立场之间的最大公约数

A. ①②

B. ①④

C. ②③

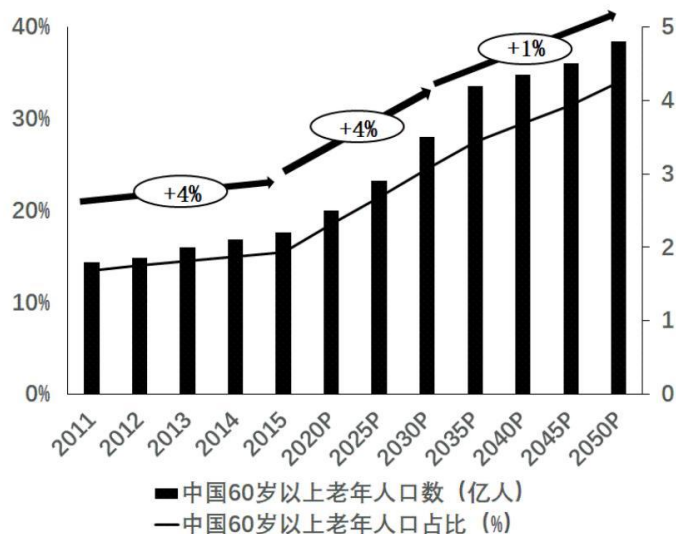
D. ③④

二、材料分析题(共 52 分)

17. 阅读材料，完成下列要求。

“十四五”规划纲要将“积极应对人口老龄化”上升为国家战略。

材料一 中国老年人口数量变化以及趋势测算



注：2023 年我国养老产业规模达到 13 万亿元，预计 2030 年达到 20 万亿元。

材料二 随着我国经济发展，老年人的消费观念、生活方式不断更新，消费规模持续扩大。但在养老市场，老年人往往难以买到称心的老龄用品；老龄用品企业普遍欠缺精准定位和基础研究，同质化现象较严重；老年人药品、保健品市场乱象频出，商家通过销售质量低劣、假冒伪劣商品获取利润，不正当竞争现象仍然存在；多个消费领域利用老年人追求健康长寿的心理和信息不对称劣势，夸大宣传、诱导消费甚至进行诈骗，使不少老年人身心遭受严重伤害。同时，现有养老服务市场中高端产品不足的现象还比较普遍。如何冲破这种束缚，探索出一种创新发展模式，是积极应对人口老龄化的迫切问题。

(1) 概述材料一反映的经济信息。

(2) 结合材料二，运用《经济与社会》的相关知识，说明如何冲破制约老年消费市场发展的束缚以积极应对人口老龄化。

18. 阅读材料，完成要求。

跨越 20 年，“东北振兴”这一宏大命题从未离开过人们的视野。

2003年，党中央作出实施东北地区等老工业基地振兴战略的重大决策，拉开了东北老工业基地振兴战略的序幕。

2015年，习近平总书记主持召开座谈会，强调东北地区要增强内生发展活力和动力，精准发力，扎实工作，加快老工业基地振兴发展。

2018年，习近平总书记主持召开深入推进东北振兴座谈会，从优化营商环境、培育壮大新动能、更好支持生态建设和粮食生产等六方面作出重要指示。

2023年9月7日，习近平总书记主持召开新时代推动东北全面振兴座谈会，强调推动东北全面振兴要全面贯彻新发展理念，坚持加大支持力度和激发内生动力相结合，走出一条高质量发展、可持续振兴的新路子；要优化干部队伍结构，引导党员干部树立正确的政绩观，提高专业化素质，加强党风廉政建设。构建亲清统一的新型政商关系。

2023年10月27日，习近平总书记主持召开中共中央政治局会议，审议《关于进一步推动新时代东北全面振兴取得新突破若干政策措施的意见》。会议要求，要把党的领导贯穿新时代推动东北全面振兴全过程、各领域、各环节，加强东北地区各级党组织和领导班子建设，加强党风廉政建设，进一步优化政治生态，以新风正气振奋发展信心。

从振兴老工业基地，到全面振兴，再到高质量发展、可持续振兴，党的领导和党的建设始终是东北全面振兴的根本保证。

党的领导和党的建设是东北全面振兴的根本保证。结合材料，运用《政治与法治》知识对此加以阐释。

19. 阅读材料，回答问题。

长江是中华民族的母亲河，是我国重要的生态安全屏障，是中华民族发展的重要支撑。长江经济带腹地辽阔，地跨沿江11省市，面积约205万平方公里。一条长江，关乎着近4亿人的饮水安全和健康。

2023年10月12日，习近平总书记在江西省南昌市主持召开进一步推动长江经济带高质量发展座谈会并发表重要讲话，强调“谋长远之势、行长久之策、建久安之基，进一步推动长江经济带高质量发展，更好支撑和服务中国式现代化”，为在强国建设、民族复兴的新征程上进一步推动长江经济带高质量发展指明了前进方向、提供了重要遵循。

习近平总书记强调：“从长远来看，推动长江经济带高质量发展，根本上依赖于长江流域高质量的生态环境。要毫不动摇坚持共抓大保护、不搞大开发，在高水平保护上下更大功夫。”要保持共抓大保护的战略定力，协同推进降碳、减污、扩绿、增长，激发全流域参与生态保护的积极性，统筹兼顾长江流域的生态保护和开发利用，以高水平保护为高质量发展提供重要支撑。要更好发挥长江经济带的独特优势，把长江经济带的科研优势、人才优势转化为发展优势，以高水平科技创新培育高质量发展新动能。要坚持把强化区域协同融通作为关键着力点，促进区域协调发展，以高水平协同联动形成高质量发展整体合力。

结合材料，运用矛盾分析法，说明长江经济带建设怎样才能实现“谋长远之势、行长久之策、建久安之基”。

20. 阅读材料，完成下列要求。

材料一 18日，在第三届“一带一路”国际合作高峰论坛开幕式上，习近平主席发表主旨演讲，全面总结共建“一带一路”10年来的成绩和经验，宣布中国支持高质量共建“一带一路”的八项行动，倡导各方继续弘扬丝路精神，推动共建“一带一路”进入高质量发展的新阶段，为实现世界各国的现代化而不懈努力。

10年来，中国同各国坚守初心、携手同行，推动“一带一路”国际合作从无到有，蓬勃发展，取得丰硕成果。150多个国家、30多个国际组织签署共建“一带一路”合作文件……共建“一带一路”坚持共商共建共享，跨越不同文明、文化、社会制度、发展阶段差异，开辟了各国交往的新路径，搭建起国际合作的新框架，汇集着人类共同发展的最大公约数，共同绘就了联结世界、美美与共的壮阔画卷。共建“一带一路”源自中国，成果和机遇属于世界。共商共建共享原则和丝路精神是共建“一带一路”不断走深走实的成功密码，也是推动“一带一路”合作行稳致远的不竭动力。

材料二 10年来的实践充分证明，共建“一带一路”顺潮流、得民心、惠民生、利天下，“汇集着人类共同发展的最大公约数”，“站在了历史正确一边，符合时代进步的逻辑，走的是人间正道”。

(1) 结合材料一，运用当代国际政治与经济相关知识，分析共建一带一路行稳致远不断走深走实的成功密码。

(2) 结合材料二，运用价值判断和价值选择有关知识对共建一带一路倡议做出评价。

(3) “一带一路”发展需要人才支持，假如让你为“一带一路”建设选择人才，你会制定怎样的条件？（要求：写出两个）并写出对应的哲学依据。

关于我们

自主选拔在线是致力于提供新高考生涯规划、强基计划、综合评价、三位一体、学科竞赛等政策资讯的升学服务平台。总部坐落于北京，旗下拥有网站（[网址: www.zizzs.com](http://www.zizzs.com)）和微信公众平台等媒体矩阵，用户群体涵盖全国 90% 以上的重点中学师生及家长，在全国新高考、自主选拔领域首屈一指。

如需第一时间获取相关资讯及备考指南，请关注**自主选拔在线**官方微信号：**zizzsw**。

