

机密★启用前 【考试时间：12月29日 9:00—11:30】  
昆明市第一中学郑重声明：严禁提前考试、发放及网络传播试卷，违反此规定者取消其联考资格，并追究经济 and 法律责任；对于首位举报者，经核实奖励2000元。举报电话：0871-65325731

## 昆明市第一中学2024届高中新课标高三第五次二轮复习检测 文科综合试卷

命题人：沈洪健 濮晓婷 王国利 李兆林 谭毅 金雯莉 张旭 何钰婷 唐英铭 夏仁贵  
祝光华 胡新荣 张慰

审题人：昆一中高三年级文科综合命题组

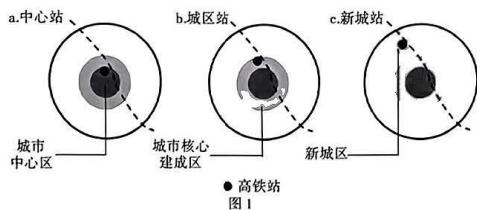
本试卷分选择题和非选择题两部分。满分300分，考试时间150分钟。

### 注意事项：

- 答题前，考生务必用黑色碳素笔将自己的姓名、准考证号、考场号、座位号在答题卡上填写清楚，并请认真填涂准考证号。
- 每小题选出答案后，用2B铅笔把答题卡上对应题目的答案标号涂黑。如需改动，用橡皮擦擦干净后，再涂其他答案标号。答在试卷上的答案无效。

一、选择题：本题共35个小题，每小题4分，共140分，在每小题给出的四个选项中，只有一项是符合题目要求的。

高铁站作为高铁线上的综合交通枢纽，日渐成为城市经济发展的新型空间。结合城市圈层等理论、高铁站在城市的区位关系等因素，高铁站布局可分为中心站、城区站和新城站3类不同的区位类型(图1)。目前我国部分高铁新城呈现产业结构单一的特点，如以安徽省宿州东站为代表的高铁新城在高铁站周边大搞房地产“圈地运动”，最终沦为“鬼城”。据此完成1~3题。



- 影响高铁站周边产业布局的主要区位因素是  
A. 市场需求 B. 交通运输 C. 科技水平 D. 政策引导
- 当高铁站的等级规模相同时，站区内的产业数量与规模大体上会呈现出a→b→c规律性衰减的特征，造成该现象的原因可能是  
A. 土地规模和建设成本差异大 B. 辐射区域和功能定位不同  
C. 交通通达性呈向外递减趋势 D. 开发程度和经济密度不同

文科综合·第1页(共12页)

中对以宿州东站为代表的高铁新城问题，高铁新城建设应注意

- 加强政府管理，禁止房产开发
- 进行科学规划，实现功能分区
- 完善基础设施，优化产业配置
- 集约利用土地，发展配套设施

先锋树种是指那些常在裸地或无林地上天然更新、自然生长成林的树种。白桦是拓荒的先锋树种，采伐后的荒山或火烧后林地上快速生长组成极纯群落，在我国东北地区广泛分布。图2为我国白桦水平分布图，图3为我国白桦林垂直分布图。据此完成4~6题。

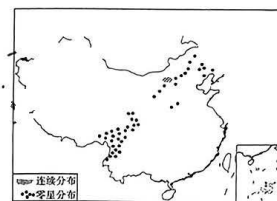


图2

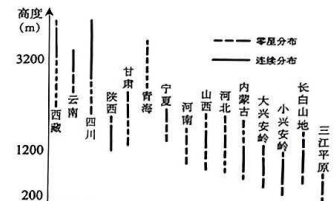
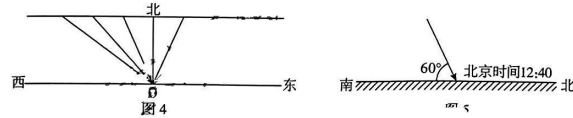


图3


- 桦林连续分布区域主要地带性植被为  
A. 亚寒带针叶林 B. 温带针阔混交林  
C. 亚热带常绿阔叶林 D. 温带草原
- 我国东北地区，火烧后林地白桦快速生长组成极纯群落的原因是  
A. 光照条件好，生长空间充足 B. 有机质含量高，土壤肥沃  
C. 太阳辐射强，热量条件优越 D. 年降水量大，水分条件好
- 三江平原白桦林垂直分布范围比青海海拔低，是因为三江平原  
①地形地势低 ②水分充足 ③纬度高 ④光照充足  
A. ①② B. ②③ C. ①③ D. ②④
- 风蚀扬尘天气往往是影响我国西北地区空气质量的首要因素，对人类生产生活有着重要的影响。冬季，受强冷空气影响的沙尘雨雪混合天气，对当地农业生产影响较大，更影响大气能见度变化，新疆城市能见度普遍低于北疆城市，傍晚至凌晨时段都明显较低。据此完成7~9题。
- 对于北疆，南疆地区能见度普遍较低的主要原因是  
A. 地表沙源物质较多 B. 土壤冰雪覆盖明显  
C. 人类活动影响较大 D. 天山准静止锋影响
- 傍晚至凌晨时段大气能见度明显较低，主要是近地面  
A. 污染物明显增多 B. 水汽含量增多  
C. 大气层结较稳定 D. 风速达最大值
- 面对强冷空气影响的沙尘雨雪混合天气，新疆农业生产应做好  
①棚膜加固 ②地膜覆盖 ③间作套种 ④适时冬灌  
A. ①②③ B. ②③④ C. ①③④ D. ①②④

文科综合·第2页(共12页)

高二下学期，我国两位同学在同一天观测本地太阳。图4为甲同学正午前后每隔相同时间测得的旗杆影子变化情况，杆影最短时影长与旗杆高度相同，此时北京时间12:00。图5是乙同学测得的当地某时刻太阳高度。据此完成10~11题。

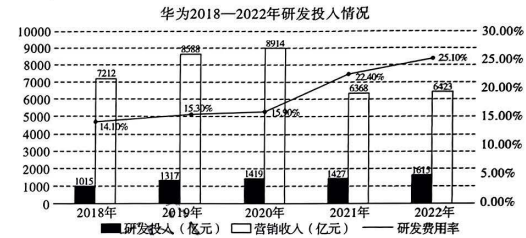


10. 此日为  
A. 春分日                      B. 夏至日                      C. 秋分日                      D. 冬至日
11. 两同学所在地  
A. 甲地比乙地昼长短                      B. 甲地比乙地日出早  
C. 甲地比乙地昼长长                      D. 甲地比乙地日出晚
12. 1848年2月，《共产党宣言》发表，标志着科学社会主义的诞生，其主要内容之一：总结了工人运动的经验和教训，阐明了建立无产阶级政党的必要性，特别指~~出~~无产阶级政党的科学领导是共产主义远大目标能实现的关键。由此可知  
①无产阶级在中国共产党的领导下进行推翻资产阶级统治的斗争  
②《共产党宣言》奠定了马克思主义政党学说的理论基础  
③共产党的诞生奠定了科学社会主义的组织基础和实践基础  
④科学理论指导下的无产阶级政党具有远大的理想和奋斗目标  
A. ①②                      B. ③④                      C. ①③                      D. ②④
13. 2023年是新民主主义革命胜利104周年。在新民主主义革命时期，中国共产党团结带领各族人民，经过28年的浴血奋战和顽强奋斗，推翻了帝国主义、封建主义、官僚资本主义三座大山，建立了人民当家作主的新中国。下列关于新民主主义革命认识正确的有  
A. 始于十月革命给中国送来了马克思列宁主义  
B. 为实现中国式现代化创造了根本的社会条件  
C. 是实现中华民族解放、独立、自由的胜利征程  
D. 完成了中华民族有史以来最深刻最伟大的社会变革
14. 近日，国家知识产权局对全国20个省的1万多个专利权人开展专利产业化过程中的主要制约因素进行专题调研，调研结果见下图：

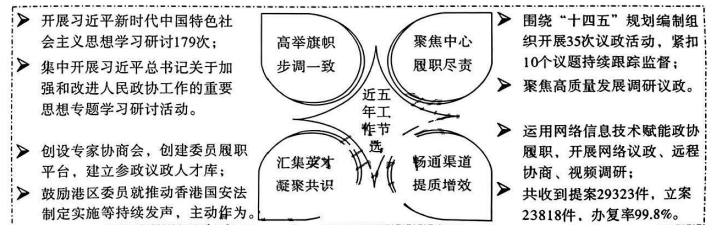


文科综合·第3页(共12页)

- 解决图表中最突出的两个问题，直接的措施有  
①推广专利应用，形成专利与产业融合的良好循环                      ②制定和实施高端专业人才的培养机制和引进政策  
③政府不断优化创新服务，全面提升服务质量水平                      ④发挥市场对资本、设备、场地配置的决定性作用  
A. ①③                      B. ②④                      C. ②③                      D. ①④
15. 近几年来，华为公司在电信设备和信息技术领域不断创新发展，打破了西方国家长期的技术封锁，成为了全球领先的科技公司之一。下图是该公司研发投入情况



- 由此可知，华为  
①加大技术研发投入宏观调控，研发费用率逐年上升  
②不畏西方制裁，加大自主创新，盈利能力不断提升  
③核心技术的突破有利于增强应对脱钩断链风险能力  
④增强商品国际竞争力，垄断技术稳定产业链供应链  
A. ①②                      B. ②③                      C. ①④                      D. ③④
- 人民政协立足新起点，迈向新征程，始终保持奋发有为的精神状态，切实扛起责任担当，把人民政协制度坚持好，把人民政协事业发展好，把更多的人团结在党的周围：



- 材料表明人民政协  
①坚持党的领导，充分发挥中国特色社会主义制度的优势  
②发挥爱国统一战线组织的优势和作用，强化专政职能  
③聚焦党和国家中心任务，为实现高质量发展建言献策  
④畅通反映社情民意的渠道，参与领导和保障人民当家作主  
A. ①③                      B. ②④                      C. ①④                      D. ②③

文科综合·第4页(共12页)

17. 2023年11月1日,云南省政府牵头组织省委网信办、省高级人民法院、省人民检察院、省公安厅、省通信管理局召开会议,部署推进打击治理电信网络诈骗违法犯罪工作,保护人民财产安全;全省16个州市同步启动反诈集中宣传行动。打击网络诈骗违法犯罪行为要求
- ①政府依法行政坚守维护社会公平正义的最后一道防线  
②法院属于人民民主专政性质,守护好人民的精神家园  
③一手抓法治严打犯罪,一手抓预防提高全民反诈意识  
④构建打击治理电信网络诈骗犯罪责任共同体
- A. ①②      B. ①④      C. ②③      D. ③④
18. 2023年11月15日,应美国总统拜登邀请,习近平主席在美国旧金山举行中美元首会晤,双方共同有效管控分歧,对今后发展两国关系及解决当前国际局势形成了一些共识。中美建交44年来,两国关系经历过不少风浪颠簸,一次次从低谷重回正道,最终又回到合作共赢的大方向,这是两国关系的“常规”。材料蕴含的哲理是
- A. 思维与存在的同一性不断深化人们对中美关系的认识  
B. 中美关系在矛盾的同一性与斗争性的相互转化中发展  
C. 中美关系通过量变与质变两个途径实现曲折中发展  
D. 中美两国关系发展总是前进性与曲折性的相互统一
19. 2023年6月26日,十四届全国人大常委会第三次会议首次审议通过了爱国主义教育法草案,规定了爱国主义教育的内涵目标、指导思想和总体要求、领导体制、工作原则、教育内容,规定了有关部门的工作职责和爱国主义教育的支持保障措施等。通过立法保障爱国主义教育的原因有
- A. 爱国主义教育是中华民族精神的核心和本源  
B. 为实现中国梦提供强大精神动力的重要举措  
C. 爱国主义是中国人民同心同德、自强不息的精神纽带  
D. 是坚定文化自信,传承中华优秀传统文化的重要举措
20. 2023年11月21日,国家主席习近平出席金砖国家领导人巴以问题特别视频峰会,并发表题为《推动停火止战 实现持久和平安全》的重要讲话指出,我们就巴以问题协调立场、采取行动,为扩员后的“金砖合作”开了个好头。材料说明
- ①金砖国家成为当今世界区域合作的典范和维和力量  
②中方为开创金砖合作新时代贡献中国智慧、中国力量  
③巴以双方停火止战,才能实现世界持久和平与安全  
④中国一直努力推动金砖国家合作机制的形成和发展
- A. ①②      B. ②④      C. ①③      D. ③④
21. 2023年11月5日至10日,主题为“新时代共享未来”的第六届中国国际进口博览会在国家会展中心(上海)成功举办,展客商数量为历届之最,意向成交金额784.1亿美元,比上届增长6.7%。六大展区展品科技感强,题材新颖,亮点纷呈,442项代表性首发新产品、新技术、新服务集中展示。创新孵化专区吸引来自39个国家和地区的超过300个创新项目参展,超过前两届的总和。本届进博会的成功举办说明

- A. 科技赋能成为主流趋势,创新引领成为共同主题  
B. 经济全球化助力各国高质量发展和实现高品质生活  
C. 进博会成为构建双循环新发展格局的重要动力  
D. 参加进博会成为各个国家实现发展的必然选择

22. 对漫画《定金》的理解不正确的选项有

- ①买方要求卖方返还买房订金是合法行为  
②买卖双方言而有信,违约有责  
③卖方违约,买方可以要求返还双倍定金  
④订立合同意味合同生效,卖方不退定金

A. ①②      B. ②③      C. ①④      D. ③④

23. 下图是第19届杭州亚运会吉祥物组合,“琮琤”以机器人的造型代表世界遗产良渚古城遗址,名字源于良渚古城遗址出土的代表性文物玉琮。“莲莲”以机器人的造型代表世界遗产西湖,名字源于西湖中无穷碧色的接天莲叶。“宸宸”以机器人的造型代表世界遗产京杭大运河,名字源于京杭大运河杭州段的标志性建筑拱宸桥。从思维基本形态的特征角度来看,亚运会吉祥物的设计体现了

- ①以人感觉到或想象到的事物为起点的抽象思维  
②设计者从思维抽象再到感性具体的思维发展过程  
③形象思维运行方式的想象性和思维表达的情感性  
④源于生活、高于生活的形象设计其结果具有独特性

A. ①②      B. ②④      C. ①③      D. ③④

24. 殷商卜辞中,前期商王名号以祖、父、兄等连上天干称之,如祖甲、父乙,与当时普通贵族无异;后期商王则冠以康、武、文等美称,称为康丁、武乙、文丁;后又将上帝名号拿来,称帝乙、帝辛。这一变化说明

- A. 殷商神权不断强化      B. 血缘贵族逐渐消亡  
C. 早期王权逐步加强      D. 人文气息取代迷信

25. “中正”是魏晋时对人物的才德、人品评议的机构。西晋时,长史韩预、治书侍御史陈寿举行有亏,清议沸腾,中正张辅贬降其乡品。南朝刘宋时,范泰、王准之、司马珣之“并居丧无礼”,范泰不及时奔赴嫡母之疾,触犯清议,均遭御史中丞劾奏。这种变化可以用来说明

- A. 官员选任重视道德品行      B. 乡评清议影响行政制度  
C. 监察制度维护纲常伦理      D. 九品中正制度受到冲击

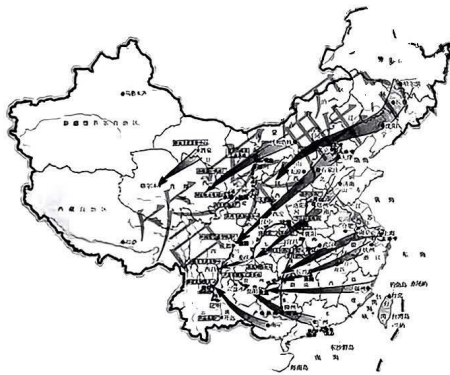
26. 南唐采纳了宋齐丘的建议,将钱折成实物,如将钱折成了轴、绢、绵本色征收;还实行了虚估制度,史载:“是时,绢每匹市价五百文,轴六百文,绵每两十五文,齐丘请给为一贯七百,轴为二贯四百,绵为四十文。”这些做法

- A. 适应了赋税制度改革      B. 有利于农业生产发展  
C. 促进了商品经济发展      D. 增加了政府的财政收入



杭州2022年第19届亚运会吉祥物  
Mascots of the 19th Asian Games Hangzhou 2022

27. 康熙乾隆三位皇帝统治期间，均重视大规模编纂丛书、丛书，如康熙统治期间编成《康熙字典》《韵府》《性理精义》，雍正年间编成《古今图书集成》，乾隆年间编成《四库全书》。这些举措意在
- A. 构建统治正统形象  
B. 巩固理学正统地位  
C. 保存传统文化典籍  
D. 消除满汉民族对立
28. 1945年9月，晋冀鲁豫行署颁布征收军鞋的训令规定，富中农以上负担军鞋，以户为单位，每军鞋1双；富中农以上之花户，除每户1双外，每30亩加1双鞋。1946年前后，晋冀鲁豫边区鞋以小米折价购买，“平均每双25斤小米，太行30斤，太岳35斤”。这说明当时
- A. 新民主主义政策可有效推行  
B. 民族统一战线得到群众拥护  
C. 经济利益是群众拥军的前提  
D. 解放战争的进程正快速推进
29. 由下面这幅地图可知



- A. 中国国防安全面临严峻形势  
B. 一五计划注重区域均衡发展  
C. 抗战西迁推动了西部近代化  
D. 西部大开发战略正有序推进
30. 据古典作家记载，占领印度河上游后，亚历山大执意要向恒河流域和东边的**大海**进军。他误以为，东边的大海是和赫卡尼亚海(里海)连在一起的，他所知的整个**大地**都由海洋所环抱。据此可能，亚历山大的最终目标是
- A. 占领印度  
B. 形成海上霸权  
C. 征服世界  
D. 控制波斯帝国
31. 1166年，英国国王亨利二世颁布《克拉伦登诏令》，派遣两名王室法官巡回全国审案。此后于1176年颁布《北安普敦法令》，将全国划分为6个巡回区，成立6个巡回审判小组，分赴各巡回区受理案件。这些举措
- A. 推动普通法系形成  
B. 建立了中央集权制度  
C. 确立法律至上原则  
D. 强化了国王的统治权

文科综合·第7页(共12页)

32. 据统计，伦敦港口，就棉纺工业而言，其出口从1797年的一百五十万英镑激增到1800年的六百万英镑；原棉进口从1797年的七十三万四千磅激增到1800年的一百六十六万三千磅。同年(1800年)，还出口了二百万吨煤和一百五十万吨生铁和熟铁。伦敦港口的状况主要得益于
- A. 工业革命的拓展  
B. 英法战争的刺激  
C. 自由主义的盛行  
D. 殖民帝国的建立
33. 1848年，英国学者约翰·穆勒写道：“我不能以老派政治经济学家普遍表现出来的那种朴素的厌恶心情看待资本和财富的静止状态。我倾向于认为，整体说来，静止状态要比我们当前的状态好得多。”据此可知，约翰·穆勒
- A. 接受了马克思主义理论  
B. 反思资本主义的社会影响  
C. 主张自由主义经济政策  
D. 为英国发展变缓进行辩护
34. 二战后，国际法的领域大量扩张，国际组织数量激增，在裁军、防止核武器及生化武器扩散、人权、环境、海洋、外层空间等方面，颁布了一系列具有国际法性质的公约或宣言。对世界和平与发展作出了积极的贡献。这种状况可以用来说明
- A. 美苏奉行霸权主义不得人心  
B. 国际关系的民主化趋势加强  
C. 科技革命影响国际关系走向  
D. 雅尔塔体系受到冲击并瓦解
35. 1973年，阿根廷总统胡安·庇隆面对记者采访时说道：“三十年前，我在阿根廷就提出了第三立场，当时看来是空想，但是随着时间的逝去，现在占世界人口四分之三的国家都站在这个立场上，称为第三世界。”胡安·庇隆意在强调
- A. 反对霸权主义  
B. 摆脱门罗主义  
C. 争取民族独立  
D. 联合第三世界

二、非选择题：本题共9小题，共160分。

36. 阅读材料，完成下列问题。(26分)

新疆曾是古地中海的一部分，位于新疆南部博孜克尔河下游冲积平原上的红旗农场，土地盐碱度高，地表水质也与海水十分接近。2022年的中央一号文件提出，研究制定盐碱地综合利用规划和实施方案，S公司获得了某些研究所、大学盐碱地“海水”养殖技术支持，利用红旗农场特有的盐碱地特质，往水里添加微量元素和益生菌，还原出适合不同海产品生长的人工海水。采用温棚恒温集中育苗，在盐碱地、河道滩涂建设鱼塘养殖石斑鱼、南美白对虾、鲍鱼、龙虾等多品种“海货”。红旗农场积极发展冷链物流建设，助力市场开发。图6为新疆区域及红旗农场位置示意图。



图6

文科综合·第8页(共12页)

- (1)简述红旗农场冲积平原盐碱土盐类物质的来源。(8分)
- (2)简述红旗农场“海货”养殖有利的自然条件。(6分)
- (3)从气候角度,分析温棚灌溉集中管带的作用。(6分)
- (4)说明冷链物流对红旗农场“海货”养殖的意义。(6分)

37. 阅读图文材料,完成下列要求。(30分)

意大利的西西里岛在地质历史时期曾经是海洋,后随亚欧板块与非洲板块的挤压隆起形成岛屿,至今多火山、地震活动,其埃特纳火山(3326米)是欧洲最高、最活跃的火山。在阿格里真托的海边,有一独特的白色石灰岩悬崖,纯天然的白色岩石(质地的石灰岩呈白色),镶嵌在蓝色的海天里,坐在这里观景甚为浪漫。白色沙滩和悬崖被视作西西里岛最美的风景线,而西西里岛东部局部海岸还有另类的黑沙滩出现。

西西里岛盛产柑橘、柠檬和油橄榄,由于其发展农林业的良好自然环境,历史上被称为“金盆地”。西西里岛与亚平宁半岛之间隔墨西拿海峡,这里是重要的水上运输通道,运输繁忙。

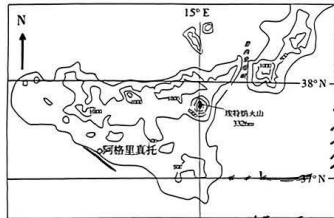


图7



图8

- (1)请阐述阿格里真托海边白色石灰岩悬崖的形成过程。(6分)
- (2)埃特纳火山海拔高达3326米,请分析其高耸的原因。(6分)
- (3)分析西西里岛东部局部海岸另类的黑沙滩的形成原因。(6分)
- (4)分析西西里岛历史上被称为“金盆地”的自然条件。(6分)
- (5)有说墨西拿海峡正在变窄,也有说正在变宽。你支持哪种观点?请说出理由。(6分)

38. 阅读材料,完成下列要求。(12分)

山东临沂市临沭县蛟龙镇人大聚焦村民生活中的实际问题,充分发挥代表主体作用,与相关职能部门共同进行研判,探索推行“无痕调解”新模式,坚持“有礼有节,不卑不亢,公平公正,坚持原则”指引基层调解工作,立足群众、依靠群众,坚持“群众事和群众商量着办”,实现了乡治传

统与法治社会的优势互补,促进了情理法三者的深度融合,实现了调解效力的最大化。对信访人诉求和邻里矛盾纠纷,在安排法律工作者、人民调解员释法明理解惑的基础上,让群众公开评议相关部门的处置和答复是否合理,矛盾纠纷各方哪方有错,错在哪里。公布“红黑榜”,引导村民明辨是非,对好人好事进行表扬,对违背公序良俗、不守村规民约等行为进行披露。

2020年6月至2023年11月,蛟龙镇人大通过“无痕调解”模式,成功化解南窝沟村93户村民群体性土地租赁纠纷案、沙岭村群体性土地排水纠纷案、下宅子村28户村民土地租赁纠纷案等疑难、复杂、重大群体性纠纷592起,为群众挽回损失2682万余元,极大减轻了蛟龙镇信访维稳压力,为维护农村社会稳定做出了突出贡献。

“无痕调解”是全过程人民民主的生动实践之一。结合材料并运用《政治与法治》的相关知识,分析说明“无痕调解”模式是如何发展全过程人民民主的。(12分)

39. 阅读材料,完成下列要求。(10分)

共建“一带一路”倡议源于中国,成果惠及世界。

2023年10月18日,国家主席习近平在北京出席第三届“一带一路”国际合作高峰论坛开幕式,并发表题为《建设开放包容、互联互通、共同发展的世界》的主旨演讲指出:今年是我提出共建“一带一路”倡议10周年。提出这一倡议的初心,是借鉴古丝绸之路,以互联互通为主线,同各国加强政策沟通、设施联通、贸易畅通、资金融通、民心相通,为世界经济注入新动能,为全球发展开辟新空间,为国际经济合作打造新平台。10年来,我国已与150多个国家、30多个国际组织签署了230多份共建“一带一路”合作文件,跨越不同文明、文化、社会制度、发展阶段差异,开辟了各国交往的新路径,搭建起国际合作的新框架,汇集着人类共同发展的最大公约数。习近平宣布中国支持高质量共建“一带一路”的八项行动,为实现世界各国的现代化作出不懈努力,共同推动构建人类命运共同体。

习近平主席在“一带一路”国际合作高峰论坛的讲话赢得与会各国领导人的高度认同,他们愿继续深化合作,携手打造下一个“金色十年”。

(1)结合材料,阐释习近平主席在“一带一路”国际合作高峰论坛的讲话是如何体现我国外交政策的。(6分)

(2)结合材料,运用国际关系的知识,分析与会各国领导人为何愿继续深化合作,携手打造下一个“金色十年”。(4分)

40. 阅读材料,完成下列要求。(20分)

文化兴则国运兴,文化强则民族强。

材料一 正本清源、守正创新。2023年10月7—8日,全国宣传思想文化工作会议在北京召开,会议首次提出“习近平文化思想”。习近平文化思想明确提出着力加强党对宣传思想文化工作的领导,着力建设具有强大凝聚力和引领力的社会主义意识形态,着力培育和践行社会主义核心价值观,着力提升新闻舆论传播力引导力影响力公信力,着力赓续中华文脉、推动中华优秀传统文化创造性转化和创新性发展,着力推动文化事业和文化产业繁荣发展,着力加强国际传播能力建设、促进文明交流互鉴;要求宣传思想文化工作做到坚定文化自信、秉持开放包容、坚持守正创新。

材料二 思想之光，照亮奋进之路，这十年我国社会主义现代化建设取得历史性成就、发生历史性变革。从2018年8月全国宣传思想工作会议以“九个坚持”概括宣传思想工作的规律性认识，到党的二十大从五个方面重点部署文化建设工作，从今年6月文化传承发展座谈会对于“两个结合”特别是“第二个结合”的深刻阐述，到此次会议提出的“七个着力”的重要要求，丰富和发展了马克思主义文化理论，构成了习近平新时代中国特色社会主义思想的“文化篇”，必将随着实践深入不断丰富发展。

(1)结合材料一、运用提高创新思维能力的知识，说明文化建设中如何做到文化创新。(10分)

(2)习近平文化思想的产生和深化过程，反映了中国共产党在新时代对文化创新认识的发展。结合材料二，运用探索认识的奥秘的知识对此观点进行分析。(10分)

41. 阅读材料，完成下列要求。(10分)

“街拍”成为我国年轻人一项新的街头文化活动，是网红为博取网友关注，与摄影师沟通剧本后进行的即兴表演。一次专业的街拍，摄影师会捕捉到被拍者的神态，包括清晰的面部表情、衣着搭配和穿戴品牌等细节。

昆明光华街、大理古城、丽江古城，都是云南著名的街拍地。2023年国庆节，街拍摄影师王先生，在大理古城应穿戴白族服饰少女的邀请进行拍摄时，拍入了路人李女士的首像，并上传到社交平台，赚取流量及商业收入。对此，李女士要求王先生停止侵权行为，并赔偿损失；双方多次协商未果，李女士将王先生诉至法院。据此回答。

- (1)王先生称李女士闯入自己的拍摄镜头，无需担责。请运用《法律与生活》的相关知识对此观点进行评析。(5分)
- (2)李女士的诉讼理由及诉讼需要准备哪些材料。(5分)

42. 阅读材料，完成下列要求。(25分)

材料一 19世纪被称为历史学的世纪。现代科学史学依靠民族国家档案来撰写历史，延续启蒙家哲学的理念，梳理现代宪政的发展史，以现代民主国家作为历史的目标，歌颂民族国家所取得的前所未有之成功，对现代民主政治的达成不无欣喜，自信于西方列强主导下两世界体系。其建立起关于人类历史演化的宏大叙事。通过比较，他们认为西方世界的兴起是历史的必然，先进的西方列强乃是西方落后国家发展的榜样。

材料二 19世纪末20世纪初，流亡日本的梁启超在接触西方现代史学之后，敏锐地觉察到其迥异于中国史学的研究和比较单元。根据这一判断，“中国史学”知有朝廷而不知有国家“知有个人而不知有群体”。经过沉潜反思，梁启超后来在影响深远的《中国历史研究法》中抓住了现代西方史学之根基——民族国家。

经历了欧战之后，西方世界一片迷惘，站在西方世界之外的梁启超也及时调整了自己的观点。他对国家不再抱有那么强烈的兴奋劲，对史学的发展复有更清醒的认识：“近今史学之进步有两特征。其一，为客观的资料之整理……如此则史学立于‘真’的基础之上”；“其二，为主观的观念之革新——以史为人类活态之再现，而非其僵死之展览；为全社会之业影，而非一人一家之谱录”。

——摘编自张其成《中国史学史研究入门》等

- (1)根据材料一和所学知识，分析“19世纪被称为历史学的世纪”的原因。(8分)
- (2)根据材料一、二和所学知识，叙述西方历史学影响中国近代梁启超史学的历史过程。(10分)
- (3)根据材料一、二和所学知识，指出现代历史学对非西方国家近代革命历程的影响。(7分)

43. 阅读材料，完成下列要求。(12分)

材料 工业革命难于开创，但易于模仿和调适。在欧洲各地，从意大利北部到加泰罗尼亚，从乌拉尔山到大西洋，从美国到日本，到处都有成功的调适者。各国政府都致力于增加利调和减少弊端。工业化在各地是按照当地的传统来调适的。政治革命恰恰相反，似乎易于开创，但难于模仿。受传统影响，政权和新兴权力运作者在不同的现代化道路之间做出选择。因此，无论是在工业革命还是在政治革命过程中，传统既没有彻底断裂，也不是简单地延续。

十一 摘编自[英]迈克尔·曼《社会权力的来源》

结合材料与所学世界史的相关知识，围绕“革命与传统”自行拟定一个具体的论题，并就所拟论题进行简要阐述。(要求：明确写出所拟论题，简述需有史实依据。)

44. 阅读材料，完成下列要求。(15分)

材料一 现代中国是世界粮食进口大国。1871—1873年，中国进口大米41.6万公担(1公担=100公斤)。到1909—1911年，进口大米猛增至373.2公担，增加约8倍。上海是主要粮食进口地区。上海开埠后，粮食需求量不断上升，大米进口量由1913年的0.012万公担上升到1922年的98.08万公担。面粉进口则由1864年的0.63万公担增至1900年的16.91万公担。其次，广州开埠后也成为主要的粮食进口口岸，1912—1918年，广东每年平均进口大米、面粉等各类粮食8亿斤。福州、厦门被迫开放为通商口岸，外国大米源源不断地以低价向福建倾销。

材料二 新中国成立后，政府带领人民自力更生，大力发展粮食生产，仅占世界7%左右的耕地，养活了占世界22%的人口。1995年与1949年相比，粮食总产量增长近3倍多。目前，中国粮食总产量位居世界第一，人均380公斤左右，达到世界平均水平(人均241公斤、水产品21公斤、禽蛋14公斤、水果35公斤、蔬菜198公斤，均超过世界平均水平。据联合国粮农组织统计，在20世纪80年代世界增产的谷物中，中国占31%的份额。

- 据汪德平《近代中国粮食国际贸易研究》
- 据国务院新闻办《中国的粮食问题》(1996年)
- (1)根据材料一并结合所学知识，分析近代中国成为世界粮食进口大国的原因。(8分)
- (2)根据材料一、二结合所学知识，分析新中国成立后我国粮食产量持续增长的意义。(7分)

## 关于我们

自主选拔在线是致力于提供新高考生涯规划、强基计划、综合评价、三位一体、学科竞赛等政策资讯的升学服务平台。总部坐落于北京，旗下拥有网站（[网址：  
www.zizzs.com](http://www.zizzs.com)）和微信公众平台等媒体矩阵，用户群体涵盖全国 90% 以上的重点中学师生及家长，在全国新高考、自主选拔领域首屈一指。

如需第一时间获取相关资讯及备考指南，请关注**自主选拔在线**官方微信号：[zizzsw](https://www.zizzs.com)。



微信搜一搜

自主选拔在线