

绝密★启用前

焦作市普通高中 2023—2024 学年(上)高二期末考试

思想政治

考生注意:

1. 答题前,考生务必将自己的姓名、考生号填写在试卷和答题卡上,并将考生号条形码粘贴在答题卡上的指定位置。
2. 回答选择题时,选出每小题答案后,用铅笔把答题卡对应题目的答案标号涂黑。如需改动,用橡皮擦干净后,再选涂其他答案标号。回答非选择题时,将答案写在答题卡上。写在本试卷上无效。
3. 考试结束后,将本试卷和答题卡一并交回。

一、选择题:本题共 15 小题,每小题 3 分,共 45 分。在每小题给出的四个选项中,只有一项是符合题目要求的。

1. 甘东南活动构造区位于中国南北地震带北部,受欧亚板块与印度板块的长期挤压作用,该区构造活动强烈,发育着东昆仑断裂、西秦岭北缘断裂、临潭—宕昌断裂、光盖山—迭山断裂、迭部—白龙江断裂等多条深大断裂。2023 年 12 月 18 日晚,甘肃积石山县发生 6.2 级地震,造成重大人员伤亡。这说明
 - ①运动是物质固有的根本属性和存在方式
 - ②物质运动不是杂乱无章的有其客观规律
 - ③规律的客观性使人类在其面前无能为力
 - ④人类可能动地认识世界但不能改造世界

A. ①② B. ①④ C. ②③ D. ③④
2. 现在很多父母都比较重视孩子的教育,为了不让孩子输在起跑线上,给孩子报各种各样的培训班。下列漫画启示我们



- ①充分发挥正确意识的能动作用
 - ②注重量的积累,促成质的飞跃
 - ③勇于面对学习中的困难和挑战
 - ④要一切从实际出发,实事求是
- A. ①② B. ①④ C. ②③ D. ③④

思想政治试题 第 1 页(共 8 页)

座位号 _____

考场号 _____

考生号 _____

姓名 _____

班级 _____

学校 _____

线
订
装

3. 2023 年 12 月 11 日召开的中央经济工作会议强调,高质量发展是全面建设社会主义现代化国家的首要任务。做好 2024 年经济工作,要围绕推动高质量发展,突出重点,把握关键。以科技创新引领现代化产业体系建设,发展新质生产力,提升产业链供应链韧性和安全水平。这体现了
- ①搞好部分、能促进事物的整体发展 ②分清主流,把握主要矛盾主要方面
③立足整体,就能实现整体最优目标 ④抓住重点,集中力量解决主要矛盾
- A. ①③ B. ①④ C. ②③ D. ②④
4. 习近平总书记在党的二十大报告中强调:“中国式现代化为人类实现现代化提供了新的选择,中国共产党和中国人民为解决人类面临的共同问题提供更多更好的中国智慧、中国方案、中国力量,为人类和平与发展崇高事业作出新的更大的贡献!”这表明
- A. 经过实践检验的认识才是真理 B. 矛盾贯穿于每一事物发展的始终
C. 真理具有普适性不受条件限制 D. 任何事物都是共性与个性的统一
5. 2023 年 10 月 26 日 19 时 34 分,神舟十七号航天员汤洪波、唐胜杰、江新林入驻“天宫”。来自河南的江新林的人生像“开挂”了一般实现“三连跳”:在地上驾驶过坦克,在天上飞过战斗机,现在在太空驾乘飞船。越飞越高的背后是他矢志报国、勤奋学习、苦练本领……江新林之所以成功是因为他
- ①全面提高个人素质 ②充分发挥主观能动性
③依靠价值观的指引 ④以人民群众利益为重
- A. ①② B. ①④ C. ②③ D. ③④
6. 纽约联合国总部的官方假日由联合国大会批准,每年一般为 10 天,包括东道国美国的法定节日和重要的宗教节假日。2023 年 12 月 22 日,第 78 届联合国大会协商一致通过决议,将春节(农历新年)确定为联合国假日。春节成为联合国假日
- ①充分展现了中华文明的传播力影响力 ②将有力促进世界不同文明的交流互鉴
③进一步佐证了中国传统文化的优越性 ④体现了中华文化得到世界的广泛认同
- A. ①② B. ①③ C. ②④ D. ③④
7. 近期,一部名为《逃出大英博物馆》的微短剧火爆出圈,成为今年热度最高的短剧之一。该剧以拟人化的手法,讲述一盏化为人形的中华缠枝纹薄胎玉壶独自逃离大英博物馆后,偶遇在海外工作的中国记者,并请求其帮助自己回国的故事。它深深撼动着中国人的内心,契合了中国人内心对那些流失海外文物的牵挂之情。该短剧的成功启示我们
- ①立足时代之基,创作要反映人民心声
②文化兴国运兴,要有鉴别地加以继承
③坚持博采众长,吸收有益的文化成果
④文化教化育人,引导人们认识真善美
- A. ①② B. ①④ C. ②③ D. ③④

8. 阅读《我国公众安全观与安全感调查报告(2023)》数据,可以得出的正确结论是

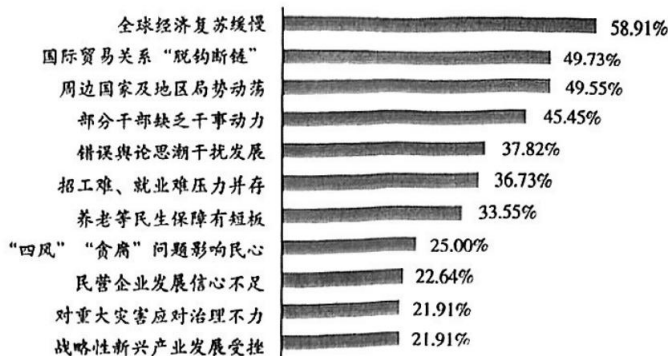


图1 受访者认为这些风险问题可能影响国家安全




图2 受访者个人最为关注哪类安全问题

- ①国际安全成为深度融入世界的中国维护国家安全的基础
 ②国内安全对实现人民群众美好生活向往具有基础保障作用
 ③有效维护国家安全需要坚持统筹兼顾的总体国家安全观
 ④影响国家安全的因素由传统安全威胁变为非传统安全威胁
- A. ①③ B. ②③ C. ①④ D. ②④
9. 近年来,美国将中国视作“最严峻的竞争对手”“系统性挑战”,言必提竞争,美国对华战略竞争也在一步步体系化、阵营化、意识形态化。在亚太地区推行所谓“印太战略”,诱拉地区国家建立以遏制中国为主要目的的盟友体系;兜售“印太经济框架”,强化“五眼联盟”,炮制“四边机制”、拼凑三边安全伙伴关系,逼迫地区国家选边站队……一系列带有“新冷战”色彩的对华政策非但没有取得预期效果,且越发不得人心。这表明
- ①竞争对抗不符合时代潮流,更解决不了美国的问题和世界面临的挑战
 ②和平共处五项原则是中美外交政策的基石,竞争不是中美关系的选项
 ③当今时代,政治多极化、经济全球化和国际关系民主化进程不可逆转
 ④中美滑入“新冷战”深渊,根源在于美方一些人对中美关系认知错误
- A. ①② B. ①③ C. ②④ D. ③④

10. 新中国成立 70 多年来,中国没有主动挑起过任何一场战争和冲突,没有侵占过别国一寸土地,是唯一将和平发展写入宪法和执政党党章、上升为国家意志的大国。中国坚持对话而不对抗、结伴而不结盟,奉行合作共赢开放战略,追求的不是独善其身的现代化,而是愿同各国一道,实现和平发展、互利合作、共同繁荣的世界现代化!这告诉我们

- ①维护世界和平、促进共同发展是我国外交政策的基本立场
- ②中华人民共和国成立以来,中国始终以谈判与对话解决国际纠纷
- ③中国共产党领导中国致力于和平发展构建人类命运共同体
- ④一个和平、稳定、繁荣的中国对世界不是威胁而是机遇

A. ①② B. ①④ C. ②③ D. ③④

11. FOREX(外汇交易)市场——银行同业市场,每天全球有价证券市场的交易量大约为3 000 亿美元,而每天外汇交易量将近 6 万亿美元。外汇交易通过电话和电脑终端,在全球几百家银行间同时进行。外汇交易主要体现了

- A. 金融全球化 B. 贸易全球化 C. 生产全球化 D. 服务全球化

12. 共建“一带一路”倡议源自中国,成果和机遇属于世界。截至目前,中国已经与 150 多个国家和 30 多个国际组织签署了共建“一带一路”合作文件。十年来,中国与共建国家进出口总额累计达到 19.1 万亿美元,年均增长 6.4%,累计对共建国家的直接投资超过 2 400 亿美元。据世界银行研究报告,“一带一路”合作使相关国家 760 万人摆脱极端贫困、3 200 万人摆脱中度贫困,使全球收入增加 0.7%至 2.9%。一系列数据说明,我国

- ①为世界发展提供了机遇 ②赢得了良好的国际环境
- ③是经济全球化的贡献者 ④是此倡议的最大受益者

A. ①② B. ①③ C. ②④ D. ③④

2023 年 10 月 7 日,巴勒斯坦伊斯兰抵抗运动(哈马斯)宣布对以色列采取代号“阿克萨洪水”的军事行动。回答 13~14 题。

13. 有一位记者在加沙地区采访一位小男孩,问他长大后有什么梦想?男孩平静回答道:我在巴勒斯坦长不大,因为我们在大街上随时有可能失去生命……这段采访对话从一个侧面体现了

- A. 世界的和平与发展面临着严峻的挑战 B. 世界多极化步履维艰、征途并不平坦
- C. 战争因素的增长超过了和平因素增长 D. 战乱、冲突成为经济发展的重大障碍

14. 为援助巴勒斯坦难民,联合国大会于 1949 年 12 月 8 日通过决议,决定建立联合国近东巴勒斯坦难民救济和工程处(简称近东救济工程处)。随着时间的推移,该处已由重救济发展到主要兴办教育、提供卫生保健以及提供社会服务。2023 年新一轮巴以冲突爆发以来,该机构在加沙地带征用的学校和其他避难所已至少收容了 40 万巴勒斯坦人。该机构

- ①在和平解决巴以冲突中发挥着决定性作用
- ②为巴勒斯坦难民提供了重要的人道主义援助
- ③在促进加沙地带发展方面作出了重要贡献

思想政治试题 第 4 页(共 8 页)

④是维护巴勒斯坦地区和平与安全的重要力量

A. ①③

B. ①④

C. ②③

D. ②④

15. 深化与跨国公司合作是河南省提高开放水平的重要抓手、推动高质量发展的重要动力。

目前,已有 198 家世界 500 强企业落户河南。在 2023 年 9 月 6 日举行的河南与跨国公司合作交流会上,现场签约 39 个项目,其中投资项目 27 个,合同投资额 179 亿元;贸易合同 6 个,合同贸易额 268 亿元;战略合作协议 6 个。河南省与跨国公司合作共赢之“群”越来越大,体现了

①经济全球化背景下河南积极践行对外开放

②跨国公司是经济全球化加速发展根本动因

③在经济全球化进程中河南省面临风险加剧

④跨国公司为经济全球化提供强有力的载体

A. ①③

B. ①④

C. ②③

D. ②④

二、非选择题:本题共 4 小题,共 55 分。

16. 阅读材料,完成下列要求。(8 分)

2023 年 11 月 30 日,迪拜。

在人们经历气候变化导致的全球变暖、气象灾害频发、健康威胁加剧的一年之后,世界的聚光灯对准这里。《联合国气候变化框架公约》第二十八次缔约方大会(COP28)在万众瞩目中如期开幕。

在“加时”一天后,大会就《巴黎协定》首次全球盘点、减缓、适应、资金、损失与损害、公正转型等多项议题达成的“阿联酋共识”指出,为了将“控制升温 1.5 摄氏度”目标保持在可实现范围内,全球需要迅速、大规模、持续不断地减少温室气体排放。敦促各缔约方尽快采取气候行动以完成下述目标:到 2030 年,全球可再生能源装机增加两倍,全球年均能效增加一倍……中国代表团团长赵英民表示,首次全球气候盘点开启了全球气候进程的新篇章,总结了成绩和缺口,进一步巩固了全球不可逆转的绿色低碳转型趋势,为未来指明了方向,向国际社会发出了强有力的积极信号,具有重要里程碑意义。

结合材料,运用“社会存在与社会意识”知识,说明为什么“阿联酋共识”具有重要的里程碑意义。

17. 阅读材料,完成下列要求。(17分)

“古木穹枝云里欢,浓荫蔽日隐童年”“孔明庙前有老柏,柯如青铜根如石”。古树名木见证了千百年来的自然变迁和社会发展,记载着民族悠久的历史 and 灿烂的文化,传递着世界的风云变幻和入间的沧海桑田,是国家的宝贵财富,是森林资源中的瑰宝,更是具有生命力的活文物、活化石。保护古树名木,精心挖掘整理背后动人故事和精神价值,讲好并传承好这些故事,让古树名木真正成为有记忆的地标、可触摸的历史,成为坚定文化自信的有力支撑。

我国幅员辽阔,历史悠久,古树名木众多。第二次全国古树名木资源普查结果显示,全国普查范围内古树名木共计508.19万株,其中散生在广大城乡的有122.13万株,以古树群形式分布的有386.06万株,5000年以上树龄的古树有5株。它们是自然与文化的共同遗存,是大自然和祖先留下的宝贵财富。

古树名木的保护是一项系统性工程,需要搭建好制度框架,抓好制度执行。我国古代就有“官民相禁剪伐”“交树交印”等树木保护制度。今天做好古树名木保护要坚持守正创新,既从历史中寻找行之有效的护木经验,也要依托智能化、数字化技术手段,完善古树名木数据库,建设信息管理平台,形成精细化、网格化管理格局。

(1)结合材料,运用“文化传承与文化创新”知识,分析保护古树名木的文化价值。(9分)

(2)结合材料,运用“探索认识的奥秘”知识,说明如何做好古树名木保护工作。(8分)

18. 阅读材料,完成下列要求。(12分)

2023年10月30日举行的中央金融工作会议总结了党的十八大以来以来的金融工作,对其进行肯定的同时,也提出了现阶段所遇到的新问题和新的挑战。

会议强调,金融是国民经济的血脉,是国家核心竞争力的重要组成部分,要加快建设金融强国,全面加强金融监管,完善金融体制,优化金融服务,防范化解风险。并指出,要坚定不移走中国特色金融发展之路,推动我国金融高质量发展,不断开创新时代金融工作新局面,为以中国式现代化全面推进强国建设、民族复兴伟业提供有力支撑。

结合材料,运用唯物辩证法知识,分析中央金融工作会议是如何加快金融强国建设的。

19. 阅读材料,完成下列要求。(18分)

2023年以来,全球商品贸易出口走弱,主要贸易大国对外贸易均出现了负增长。世界贸易组织2023年10月5日公布的全球贸易最新预测,将今年的世界货物贸易增长预期从先前的1.7%下调至0.8%,明显低于过去12年2.6%的平均水平。我国稳外贸确实有压力、有挑战。

据我国海关统计,我国已经连续6年保持世界第一货物贸易国地位,2022年外贸规模已突破40万亿元,2023年前10个月,我国货物贸易进出口总值34.32万亿元,同比增速由前三季度微降0.2%转为增长0.03%。从月度看,10月当月进出口总值3.54万亿元,月度增速由6月起连续4个月同比下降转为增长0.9%。

近两年,我国外贸发展一大显著变化就是电动载人汽车、锂离子蓄电池、太阳能电池等“新三样”产品出口表现十分亮眼。前三季度,我国“新三样”产品合计出口7989.9亿元,同比增长41.7%。目前,我国跨境电商主体超10万家,直播电商、社交电商、外贸综合

思想政治试题 第7页(共8页)

服务平台等新模式不断涌现。2023 年前三季度,我国跨境电商进出口 1.7 万亿元,同比增长 14.4%。

2023 年前 10 个月,我国与东盟贸易总值为 5.23 万亿元,同比增长 0.9%,占我国外贸总值的 15.2%。同期,我国对共建“一带一路”国家合计进出口 15.96 万亿元,同比增长 3.2%。

中国外贸双转正凸显增长韧性,国际货币基金组织(IMF)公布最新报告,将 2023 年中国经济增长预测从 5%上调至 5.4%。IMF 驻华首席代表巴奈特日前表示:“中国仍然是全球经济增长最大引擎,贡献全球增长量的 1/3。”

(1) 结合材料,运用《当代国际政治与经济》的知识,对我国 2023 年的外贸进出口形势作出研判并说明理由。(10 分)

(2) 结合材料,运用《当代国际政治与经济》的知识,分析中国何以成为全球经济增长最大引擎。(8 分)

绝密★启用前

试卷类型:专版

2023—2024 学年(上)高二年级期末考试

思想政治

考生注意:

1. 答题前,考生务必将自己的姓名、考生号填写在试卷和答题卡上,并将考生号条形码粘贴在答题卡上的指定位置。
2. 回答选择题时,选出每小题答案后,用铅笔把答题卡对应题目的答案标号涂黑。如需改动,用橡皮擦干净后,再选涂其他答案标号。回答非选择题时,将答案写在答题卡上。写在本试卷上无效。
3. 考试结束后,将本试卷和答题卡一并交回。

一、选择题:本题共 15 小题,每小题 3 分,共 45 分。在每小题给出的四个选项中,只有一项是符合题目要求的。

1. 甘东南活动构造区位于中国南北地震带北部,受欧亚板块与印度板块的长期挤压作用,该区构造活动强烈,发育着东昆仑断裂、西秦岭北缘断裂、临潭—宕昌断裂、光盖山—迭山断裂、迭部—白龙江断裂等多条深大断裂。2023 年 12 月 18 日晚,甘肃积石山县发生 6.2 级地震,造成重大人员伤亡。这说明
 - ①运动是物质固有的根本属性和存在方式
 - ②物质运动不是杂乱无章的有其客观规律
 - ③规律的客观性使人类在其面前无能为力
 - ④人类可能动地认识世界但不能改造世界A. ①② B. ①④ C. ②③ D. ③④
2. 现在很多父母都比较重视孩子的教育,为了不让孩子输在起跑线上,给孩子报各种各样的培训班。下列漫画启示我们



- ①充分发挥正确意识的能动作用
- ②注重量的积累,促成质的飞跃

思想政治(专版)试题 第 1 页(共 8 页)

8. 阅读《我国公众安全观与安全感调查报告(2023)》数据,可以得出的正确结论是

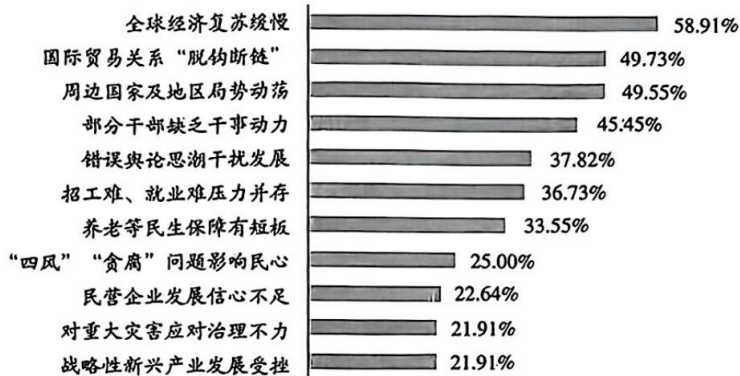


图1 受访者认为这些风险问题可能影响国家安全

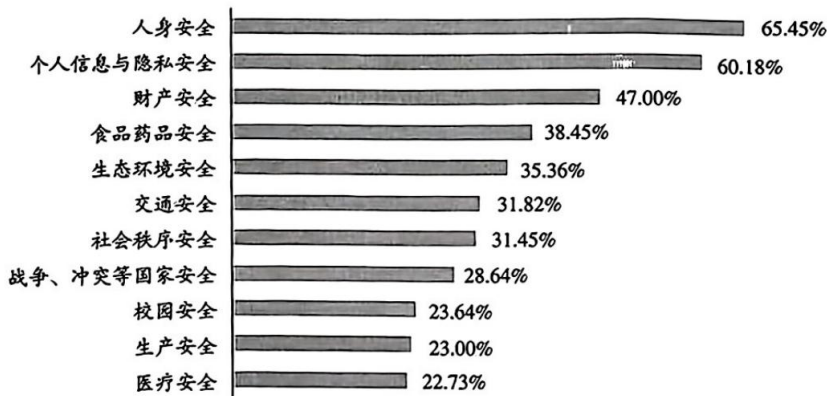


图2 受访者个人最为关注哪类安全问题

- ①国际安全成为深度融入世界的中国维护国家安全的基础
- ②国内安全对实现人民群众美好生活向往具有基础保障作用
- ③有效维护国家安全需要坚持统筹兼顾的总体国家安全观
- ④影响国家安全的因素由传统安全威胁变为非传统安全威胁

A. ①③ B. ②③ C. ①④ D. ②④

9. 近年来,美国将中国视作“最严峻的竞争对手”“系统性挑战”,言必提竞争,美国对华战略竞争也在一步步体系化、阵营化、意识形态化。在亚太地区推行所谓“印太战略”,诱拉地区国家建立以遏制中国为主要目的的盟友体系;兜售“印太经济框架”,强化“五眼联盟”,炮制“四边机制”、拼凑三边安全伙伴关系,逼迫地区国家选边站队……一系列带有“新冷战”色彩的对华政策非但没有取得预期效果,且越发不得人心。这表明

- ①竞争对抗不符合时代潮流,更解决不了美国的问题和世界面临的挑战
- ②和平共处五项原则是中美外交政策的基石,竞争不是中美关系的选项
- ③当今时代,政治多极化、经济全球化和国际关系民主化进程不可逆转
- ④中美滑入“新冷战”深渊,根源在于美方一些人对中美关系认知错误

A. ①② B. ①③ C. ②④ D. ③④

10. 新中国成立 70 多年来,中国没有主动挑起过任何一场战争和冲突,没有侵占过别国一寸土地,是唯一将和平发展写入宪法和执政党党章、上升为国家意志的大国。中国坚持对话而不对抗、结伴而不结盟,奉行合作共赢开放战略,追求的不是独善其身的现代化,而是愿同各国一道,实现和平发展、互利合作、共同繁荣的世界现代化! 这告诉我们

- ①维护世界和平、促进共同发展是我国外交政策的基本立场
- ②中华人民共和国成立以来,中国始终以谈判与对话解决国际纠纷
- ③中国共产党领导中国致力于和平发展构建人类命运共同体
- ④一个和平、稳定、繁荣的中国对世界不是威胁而是机遇

A. ①② B. ①④ C. ②③ D. ③④

11. FOREX(外汇交易)市场——银行同业市场,每天全球有价证券市场的交易量大约为3 000 亿美元,而每天外汇交易量将近 6 万亿美元。外汇交易通过电话和电脑终端,在全球几百家银行间同时进行。外汇交易主要体现了

- A. 金融全球化 B. 贸易全球化 C. 生产全球化 D. 服务全球化

12. 共建“一带一路”倡议源自中国,成果和机遇属于世界。截至目前,中国已经与 150 多个国家和 30 多个国际组织签署了共建“一带一路”合作文件。十年来,中国与共建国家进出口总额累计达到 19.1 万亿美元,年均增长 6.4%,累计对共建国家的直接投资超过 2 400 亿美元。据世界银行研究报告,“一带一路”合作使相关国家 760 万人摆脱极端贫困、3 200 万人摆脱中度贫困,使全球收入增加 0.7% 至 2.9%。一系列数据说明,我国

- ①为世界发展提供了机遇 ②赢得了良好的国际环境
- ③是经济全球化的贡献者 ④是此倡议的最大受益者

A. ①② B. ①③ C. ②④ D. ③④

2023 年 10 月 7 日,巴勒斯坦伊斯兰抵抗运动(哈马斯)宣布对以色列采取代号“阿克萨洪水”的军事行动。回答 13~14 题。

13. 有一位记者在加沙地区采访一位小男孩,问他长大后有什么梦想? 男孩平静回答道:我在巴勒斯坦长不大,因为我们在大街上随时有可能失去生命……这段采访对话从一个侧面体现了

- A. 世界的和平与发展面临着严峻的挑战 B. 世界多极化步履维艰、征途并不平坦
- C. 战争因素的增长超过了和平因素增长 D. 战乱、冲突成为经济发展的重大障碍

14. 为援助巴勒斯坦难民,联合国大会于 1949 年 12 月 8 日通过决议,决定建立联合国近东巴勒斯坦难民救济和工程处(简称近东救济工程处)。随着时间的推移,该处已由重救济发展到主要兴办教育、提供卫生保健以及提供社会服务。2023 年新一轮巴以冲突爆发以来该机构在加沙地带征用的学校和其他避难所已至少收容了 40 万巴勒斯坦人。该机构

- ①在和平解决巴以冲突中发挥着决定性作用
- ②为巴勒斯坦难民提供了重要的人道主义援助
- ③在促进加沙地带发展方面作出了重要贡献

④是维护巴勒斯坦地区和平与安全的重要力量

A. ①③

B. ①④

C. ②③

D. ②④

15. 2023年8月24日,金砖国家领导人第十五次会晤召开特别记者会,宣布金砖国家扩员。阿根廷、埃及、埃塞俄比亚、伊朗、沙特阿拉伯、阿联酋获邀加入金砖国家合作机制。从最初的4个成员国到现在的11个成员国。另外还有20多个国家正式申请加入金砖国家合作机制。金砖扩容

①有力推动了世界格局朝着多极化方向发展

②充分彰显了金砖合作机制的生命力、吸引力

③表明金砖国家不搞封闭,是各国团结合作的平台

④意味着金砖国家已成为践行多边主义的最佳场所

A. ①②

B. ①③

C. ②④

D. ③④

二、非选择题:本题共4小题,共55分。

16. 阅读材料,完成下列要求。(10分)

2023年11月30日,迪拜。

在人们经历气候变化导致的全球变暖、气象灾害频发、健康威胁加剧的一年之后,世界的聚光灯对准这里。《联合国气候变化框架公约》第二十八次缔约方大会(COP28)在万众瞩目中如期开幕。

在“加时”一天后,大会就《巴黎协定》首次全球盘点、减缓、适应、资金、损失与损害、公正转型等多项议题达成的“阿联酋共识”指出,为了将“控制升温1.5摄氏度”目标保持在可实现范围内,全球需要迅速、大规模、持续不断地减少温室气体排放。敦促各缔约方尽快采取气候行动以完成下述目标:到2030年,全球可再生能源装机增加两倍,全球年均能效增加一倍……中国代表团团长赵英民表示,首次全球气候盘点开启了全球气候进程的新篇章,总结了成绩和缺口,进一步巩固了全球不可逆转的绿色低碳转型趋势,为未来指明了方向,向国际社会发出了强有力的积极信号,具有重要里程碑意义。

结合材料,运用“社会存在与社会意识”知识,说明为什么“阿联酋共识”具有重要的里程碑意义。

17. 阅读材料,完成下列要求。(19分)

“古木穹枝云里欢,浓荫蔽日隐童年”“孔明庙前有老柏,柯如青铜根如石”。古树名木见证了千百年来的自然变迁和社会发展,记载着民族悠久的历史 and 灿烂的文化,传递着世界的风云变幻和人间的沧海桑田,是国家的宝贵财富,是森林资源中的瑰宝,更是具有生命力的活文物、活化石。保护古树名木,精心挖掘整理背后动人故事和精神价值,讲好并传承好这些故事,让古树名木真正成为有记忆的地标、可触摸的历史,成为坚定文化自信的有力支撑。

我国幅员辽阔,历史悠久,古树名木众多。第二次全国古树名木资源普查结果显示,全国普查范围内古树名木共计508.19万株,其中散生在广大城乡的有122.13万株,以古树群形式分布的有386.06万株,5000年以上树龄的古树有5株。它们是自然与文化的共同遗存,是大自然和祖先留下的宝贵财富。

古树名木的保护是一项系统性工程,需要搭建好制度框架,抓好制度执行。我国古代就有“官民相禁剪伐”“交树交印”等树木保护制度。今天做好古树名木保护要坚持守正创新,既从历史中寻找行之有效的护木经验,也要依托智能化、数字化技术手段,完善古树名木数据库,建设信息管理平台,形成精细化、网格化管理格局。

(1)结合材料,运用“文化传承与文化创新”知识,分析保护古树名木的文化价值。(9分)

(2)结合材料,运用“探索认识的奥秘”知识,说明如何做好古树名木保护工作。(10分)

18. 阅读材料,完成下列要求。(8分)

多哈论坛一般每年举办一届,主要聚焦地区和国际形势、全球挑战等议题。2023年12月10日第21届多哈论坛召开,围绕巴以冲突、地缘政治、能源安全、可持续发展、数字经济等议题展开讨论。

联合国秘书长古特雷斯10日在卡塔尔出席多哈论坛时说,和平解决国际争端的主要平台受困于地缘政治分歧,但他不会放弃推动加沙人道主义停火。古特雷斯当天在第21届多哈论坛开幕式上致辞,敦促联合国安理会努力避免加沙地带的人道灾难,并再次呼吁实现人道主义停火,“遗憾的是,安理会未能做到……我承诺我不会放弃”。

据悉,美国8日否决了安理会一份旨在推动实现巴以人道主义停火的决议草案。多国对此表示失望和遗憾。

结合材料,运用《当代国际政治与经济》的知识,谈谈你对联合国的认识。

19. 阅读材料,完成下列要求。(18分)

2023年以来,全球商品贸易出口走弱,主要贸易大国对外贸易均出现了负增长。世界贸易组织2023年10月5日公布的全球贸易最新预测,将今年的世界货物贸易增长预期从先前的1.7%下调至0.8%,明显低于过去12年2.6%的平均水平。我国稳外贸确实有压力、有挑战。

据我国海关统计,我国已经连续6年保持世界第一货物贸易国地位,2022年外贸规模已突破40万亿元,2023年前10个月,我国货物贸易进出口总值34.32万亿元,同比增速由前三季度微降0.2%转为增长0.03%。从月度看,10月当月进出口总值3.54万亿元,月度增速由6月起连续4个月同比下降转为增长0.9%,

近两年,我国外贸发展一大显著变化就是电动载人汽车、锂离子蓄电池、太阳能电池等“新三样”产品出口表现十分亮眼。前三季度,我国“新三样”产品合计出口7989.9亿元,同比增长41.7%。目前,我国跨境电商主体超10万家,直播电商、社交电商、外贸综合服务平台等新模式不断涌现。2023年前三季度,我国跨境电商进出口1.7万亿元,同比增

长 14.4%。

2023 年前 10 个月,我国与东盟贸易总值为 5.23 万亿元,同比增长 0.9%,占我国外贸总值的 15.2%。同期,我国对共建“一带一路”国家合计进出口 15.96 万亿元,同比增长 3.2%。

中国外贸双转正凸显增长韧性,国际货币基金组织(IMF)公布最新报告,将 2023 年中国经济增长预测从 5%上调至 5.4%。IMF 驻华首席代表巴奈特日前表示:“中国仍然是全球经济增长最大引擎,贡献全球增长量的 1/3。”

(1) 结合材料,运用《当代国际政治与经济》的知识,对我国 2023 年的外贸进出口形势作出研判并说明理由。(10 分)

(2) 结合材料,运用《当代国际政治与经济》的知识,分析中国何以成为全球经济增长最大引擎。(8 分)

2023—2024 学年(上)高二年级期末考试

思想政治(专版)答案

1~15 题,每小题 3 分,共 45 分。

1. 答案 A

命题透析 本题以甘肃积石山县发生 6.2 级地震为情境,考查运动的规律性的知识,主要考查科学精神学科素养。

思路点拨 受欧亚板块与印度板块的长期挤压作用,甘东南活动构造区构造活动强烈,甘肃积石山县发生 6.2 级地震,体现了世界的物质性,物质是运动的,有其自身的规律,①②正确。人类可以认识规律、利用规律,为人类造福,③④错误。

2. 答案 B

命题透析 本题以漫画为情境,考查一切从实际出发的知识,主要考查科学精神学科素养。

思路点拨 漫画中家长给孩子报各种培训班、兴趣班,显然超出了孩子的学习承受能力,违背了孩子的成长规律,不利于孩子的健康成长。这启示我们要充分发挥正确意识的能动作用,坚持一切从实际出发,①④正确。②③与漫画主旨不符。

3. 答案 B

命题透析 本题以中央经济工作会议要求高质量发展为情境,考查联系观、矛盾观等知识,主要考查科学精神学科素养。

思路点拨 材料中“以科技创新引领现代化产业体系建设”“突出重点,把握关键”,体现了搞好部分,集中力量解决主要矛盾,①④正确。②材料没有体现。③说法太绝对。

4. 答案 D

命题透析 本题以中国式现代化为人类实现现代化提供了新的选择为情境,考查矛盾的普遍性与特殊性的知识,主要考查科学精神学科素养。

思路点拨 中国式现代化为人类实现现代化提供了新的选择,说明每个国家虽然都有自己特殊的国情,但都包含着社会实践的共性,任何事物都是共性与个性的统一,D 项符合题意。A 项说法片面。B 项与题目主旨不符。真理是具体的有条件的,C 项错误。

5. 答案 A

命题透析 本题以神舟十七号航天员江新林的“开挂”人生为情境,考查价值的创造与实现的知识,主要考查科学精神学科素养。

思路点拨 越飞越高的背后是他矢志报国、勤奋学习、苦练本领,可见正是因为充分发挥主观能动性,全面提高个人的素质,江新林才有了“开挂”人生,①②符合题意。创造和实现人生价值,需要有坚定的理想信念,需要正确价值观的指引,③说法不严谨。材料没有涉及以人民群众利益为重,④与题意不符。

6. 答案 A

命题透析 本题以春节成为联合国假日为情境,考查中华优秀传统文化、文化传播的相关知识,主要考查科学精神学科素养。

思路点拨 春节作为中国传统民俗节日,不仅是阖家团圆、辞旧迎新的日子,传承着和平、和睦、和谐等中华文

明理念,也承载着家庭和睦、社会包容、人与自然和谐共生等全人类共同价值。春节成为联合国假日,充分展现了中华文明的传播力影响力,将有力促进世界不同文明的交流互鉴,①②正确。③“优越性”说法错误,各民族文化没有优劣之分。④“认同”说法错误,各民族认同本民族文化。

7. 答案 D

命题透析 本题以柬埔寨新一任首相任命为情境,考查政体的知识,主要考查科学精神学科素养。

思路点拨 从材料中国王任命洪玛奈为新一任首相,内阁成员名单呈交给第七届国会审议表决等信息,可以看出柬埔寨的政体是议会制君主立宪制,D项正确。

8. 答案 B

命题透析 本题以《我国公众安全观与安全感调查报告(2023)》数据为情境,考查总体国家安全观等知识,主要考查政治认同学科素养。

思路点拨 从两个图表的对比看,受访者更为关注与个人基本生活需求紧密相关的国内安全问题,这些问题既涉及生存问题,更涉及高质量发展问题,②可选。经济安全是基础,国际安全是依托,①错误。从两个图表看,影响国家安全和人民安全(也是国家安全)的因素错综复杂,这些因素都要重视,③符合题意。霸权主义和强权政治是传统安全威胁,这种威胁在“脱钩断链”、战争与冲突、地区动荡中都有其影子,因此,传统安全威胁依然是影响我国国家安全的因素,④错误。

9. 答案 B

命题透析 本题以美国对华遏制政策为情境,考查世界多极化的知识,主要考查科学精神学科素养。

思路点拨 美方对华认知错误,大搞阵营对抗、“筑墙设垒”“脱钩断链”、逼迫地区国家选边站队,实质是霸权主义、强权政治、保护主义,这与和平、合作、发展的时代潮流相悖,与世界多极化、经济全球化和国际关系民主化的潮流相悖,因此“没有取得预期效果,且越发不得人心”,①③符合题意。和平共处五项原则是我国外交政策的基石,②错误。近年来,中美关系遭遇严峻困难,但滑入“新冷战”深渊的说法夸大其词,④错误。

10. 答案 D

命题透析 本题以习近平出席美国友好团体联合欢迎宴会发表演讲为情境,考查我国外交政策、促进和平与发展的因素、构建人类命运共同体等知识,主要考查政治认同学科素养。

思路点拨 维护世界和平、促进共同发展是我国外交政策的宗旨,①错误。中国没有主动挑起过任何一场战争和冲突,但不惧怕强加于中国的战争,如抗美援朝战争、对越自卫反击战等,谈判与对话是中国解决国际纠纷的主要手段,不是唯一手段,②错误。中国追求和平发展、互利合作、共同繁荣的世界现代化,即致力于构建人类命运共同体,③④符合题意。

11. 答案 A

命题透析 本题以外汇交易市场为情境,考查经济全球化的主要表现的知识,主要考查科学精神学科素养。

思路点拨 材料反映了全球外汇交易市场每天的交易额惊人,这主要体现了金融全球化,A正确。

12. 答案 B

命题透析 本题以我国“一带一路”倡议十年来取得的一系列成就为情境,考查经济全球化与中国的知识,主要考查政治认同学科素养。

思路点拨 “一带一路”倡议提出十年来我国取得的一系列成就,说明我国以新发展为世界提供新机遇,更好惠及各国人民,为经济全球化作出了中国贡献,①③入选。我国经济社会发展需要良好的国际环境,但材料没有涉及,②不选。材料显示共建“一带一路”以我国发展为契机,让更多国家搭上我国发展快车,帮助其实现发展目标,④表述不准确。

关于我们

自主选拔在线是致力于提供新高考、强基计划、综合评价、三位一体、学科竞赛、少年班、研学实践、综合素质评价、新高考选科、大学专业、志愿填报、港澳升学、中外合作校、大学保研留学等政策资讯的服务平台。总部坐落于北京，旗下拥有网站（网址：www.zizzs.com）和微信公众平台等媒体矩阵，用户群体涵盖全国 90% 以上的重点中学师生及家长，在全国新高考、自主选拔领域首屈一指。

如需第一时间获取相关资讯及备考指南，请关注**自主选拔在线**官方微信号：**zizzsw**。

