

## 西安中学 2023-2024 学年度第一学期期末考试

### 高三文科综合试题

(考试时间 150 分钟 满分 300 分) 命题人: 何小艳 李静 邢莹莹

#### 第 I 卷 (选择题 共 140 分)

本卷共 35 小题, 每小题 4 分, 共 140 分。在每小题给出的四个选项中, 只有一项是符合题目要求的。

我国 B 企业是全球领先的新能源汽车制造商之一, 图 1 示意 B 企业的发展历程。据此完成 1~3 题。

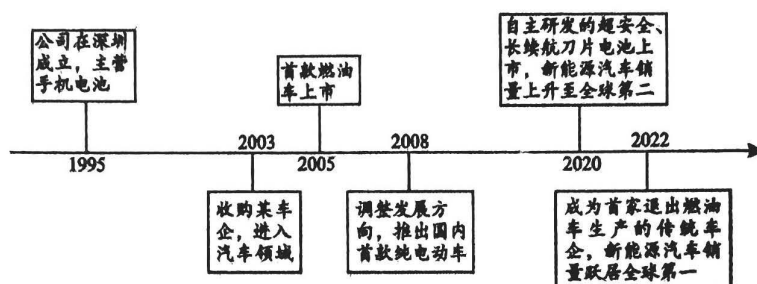


图 1

1. 该企业推出的首款燃油车借鉴了国际某著名汽车品牌的外观设计, 主要目的是  
A. 降低生产成本  
B. 降低市场风险  
C. 拓展国际市场  
D. 加强技术合作
2. 该企业发展成为全球领先的新能源汽车制造商, 主要依赖于  
A. 政策扶持  
B. 市场潜力  
C. 科技创新  
D. 产业基础
3. 2022 年, 该企业主动停止燃油车生产, 主要是为了  
A. 降低企业生产成本  
B. 降低消费者用车成本  
C. 提高汽车研发费用  
D. 提升新能源汽车产能

2023 年 9 月 17 日, 中国云南“普洱景迈山古茶林文化景观”获准成为全球首个茶主题世界文化遗产。该村寨的先民在海拔较高的天然林、地势低平的各村寨

之间开发片状茶林，片状茶林之间保留了40米宽的天然林作为防护林，片状茶林之内保留了部分高大乔木和具有特有香味的树种，形成“林下茶”种植模式。当地村民充分利用天然森林生态系统，形成包括古茶林、传统村落在内的林茶共生、人地和谐的独特文化景观。据此完成4~5题。

4. 古茶林之间保留较宽自然林作为防护林的最主要目的是
- A. 保持茶林内部的气温                      B. 调节茶林内部的湿度
- C. 阻隔茶林之间的虫害                      D. 涵养茶林外围的水分
5. 下列有关“林下茶”种植模式最突出的优势，正确的是
- A. 特有香味的树种主要改善大气质量    B. 茶林中高大乔木的主要作用是防风
- C. 天然生态系统有助于提高茶叶的品质    D. 能大量减少茶农采茶时的劳动强度

冰山会受各种因素影响而发生运动，冰山犁沟是高纬度大陆架上冰山撞击海底，发生龙骨（冰山海平面以下部分）犁耕作用，形成犁沟和犁脊（如图所示）。据此完成6~8题。

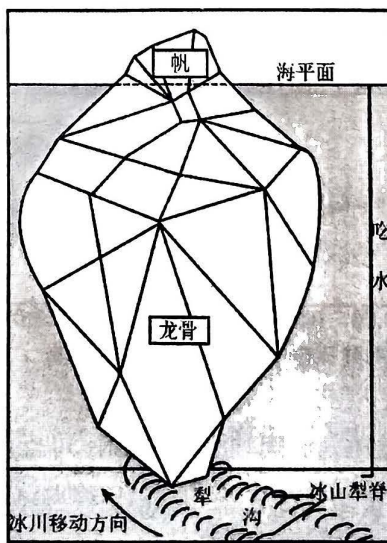


图2

6. 冰山运动过程中会接地搁浅，在此期间冰山底部与海底基岩之间发生相对滑动形成犁沟和犁脊的最主要动力是
- A. 洋流                      B. 波浪                      C. 潮汐                      D. 信风

7. 龙骨犁耕作用形成犁沟及犁脊，其形成过程是
- A. 冰山漂移—冰山犁底—冰架断裂—冰山犁沟—冰山犁脊  
 B. 冰山漂移—冰架断裂—冰山犁底—冰山犁沟—冰山犁脊  
 C. 冰架断裂—冰山犁底—冰山漂移—冰山犁沟—冰山犁脊  
 D. 冰架断裂—冰山漂移—冰山犁底—冰山犁沟—冰山犁脊

8. 推测冰山犁沟的大小和形状主要取决于

- ①冰山大小      ②海水盐度      ③海水温度      ④海水深度
- A. ①③      B. ①④      C. ②③      D. ②④

近地面大气臭氧浓度与氮氧化物、碳氢化物含量，气温以及紫外线强度呈正相关，与空气湿度呈负相关。研究发现，我国北方某城市臭氧浓度受海陆风影响显著。下图示意该市春季有无海陆风影响的两天中臭氧浓度日变化及海陆风影响当日风向和风速变化。据此完成9~11题。

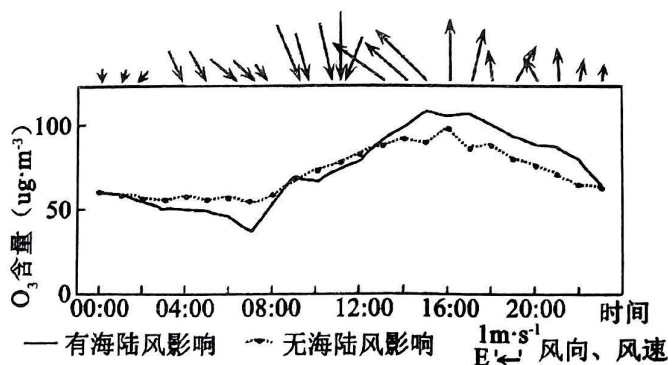


图3

9. 据海陆风影响当日风向和风速变化信息，可推测
- A. 海洋位于城市东南方向      B. 海风风力较陆风风力弱  
 C. 13时前后海风转为陆风      D. 20时前后陆风转为海风
10. 海陆风对该城市臭氧浓度影响显著的主要原因是受
- A. 陆风影响，污染物难扩散      B. 海风影响，污染物回流多  
 C. 陆风影响，空气湿度较小      D. 海风影响，气温相对偏高
11. 与晴天比较，阴天臭氧浓度

- ①峰值时间提前 ②峰值时间滞后 ③峰值更高 ④峰值更低
- A. ①③      B. ②③      C. ①④      D. ②④
12. 2023年，氛围经济火爆出圈。围炉煮茶、露营等活动营造的氛围及体验式、沉浸式消费，附加社交、情怀、文化、娱乐、治愈等元素，备受人们青睐。在某电商平台，灯、画、音响等商品，被商家标上与“氛围感”相关的关键词后，获得了超30%以上的交易指数增长。对此认识正确的是
- ①这类商品的价值主要来自于经营者营造的独特“氛围感”  
②人们进行氛围消费时追求情感满足超越产品本身的功能  
③氛围消费流行说明我国居民消费已由生存型转向享受型  
④发展氛围经济要找准产品文化特色与消费需求的契合点
- A. ①③      B. ①④      C. ②③      D. ②④
13. 2023年11月30日，人民币兑美元中间价报7.1018，上调13点。这一变化将对我国对外经济造成一定影响。若不考虑其他因素，下列推导正确的是
- ①美元升值→间接降低出口产品价格→增强出口产品价格优势→提高出口企业的国际竞争力  
②美元贬值→中国人海外消费成本下降→国人出境旅游、留学增加→中国消费结构升级  
③人民币升值→我国企业进口美国商品增加→美元对外支付相应增加→我国的外汇储备规模减少  
④人民币贬值→人民币兑换的美元减少→中国企业在美投资成本上升→中企对美投资意愿降低
- A. ①②      B. ①④      C. ②③      D. ③④
14. 新质生产力是2023年十大流行语之一，它是摆脱了传统增长路径、符合高质量发展要求的生产力，是科技创新在其中发挥主导作用的生产力，区别于依靠大量资源投入、高度消耗资源能源的生产力发展方式，涉及领域新、技术含量高、依靠创新驱动是其中关键。根据材料，发展新质生产力需要

- ①强化企业科技创新主体地位，塑造新优势  
②培育战略性新兴产业，增强发展新动能  
③增加生产要素投入，适度扩大产业规模  
④优化人力资本结构，发展劳动密集型产业
- A. ①②      B. ①③      C. ②④      D. ③④
15. 2023年8月，国务院印发《关于提高个人所得税有关专项附加扣除标准的通知》：自2023年1月1日起，3岁以下婴幼儿照护、子女教育专项附加扣除标准由现行每孩每月1000元提高到2000元；赡养老人专项附加扣除标准，由每月2000元提高到3000元。其中，独生子女按照每月3000元的标准定额扣除，非独生子女与兄弟姐妹分摊每月3000元的扣除额度。上述措施
- ①属于再分配调节机制，有利于缩小收入分配差距，规范收入分配秩序  
②将替代《个人所得税法》的规定，进一步调节收入，实现社会公平  
③可以增加居民的可支配收入，从而发挥税收对经济发展的基础性作用  
④相当于提高了全年个税起征点，可以缓解“上有老下有小”家庭的压力
- A. ①②      B. ①④      C. ②③      D. ②④
16. 2023年以来，某市以社区党组织为主体，联合属地机关、企事业单位、经济组织和社会组织等，组建社区党委或者党总支，通过“要事同办”，解决了小区没有物业管理、环境较差、停车位、邻里关系紧张等一系列问题，共绘基层治理“同心建”实现“要事同办”有利于
- ①创新基层社会治理模式，推进基层治理效能提升  
②完善基层自治组织，促进居民直接行使民主权利  
③强化党建引领作用，把党的组织优势转化为治理优势  
④整合基层行政综合执法力量，解决基层治理难题
- A. ①②      B. ①③      C. ②③      D. ③④

17. 2023 年是毛泽东同志批示学习推广“枫桥经验”60 周年暨习近平总书记指示坚持和发展“枫桥经验”20 周年。为推进“枫桥式人民法庭”建设，某镇建立“一村一法官”工作机制，在全镇 55 个村庄设立法官工作站，通过实行“包村法官”分片责任制，及时为群众提供对接立案、全程调解、法律咨询、普法宣传等司法服务，推动村里纠纷在村里解决。这启示我们要

- ①提供多元司法服务，妥善化解纠纷
- ②推动基层治理法治化，践行司法为民理念
- ③简化司法程序，提高司法效率
- ④构建阳光司法机制，推进公正司法

A. ①②                      B. ①④                      C. ②③                      D. ③④

18. 2023 年 12 月，全国人大常委会代表工作委员会组织召开首届全国人大代表建议办理工作座谈。会上通报十四届全国人大一次会议期间，共收到代表提出建议 8314 件，主要涉及着力推动高质量发展、增进民生福祉等，经逐件研究分析，分别交由 204 家单位研究办理，目前已经全部办理完毕并答复代表。上述材料表明

- ①国家机关要支持和服务代表密切联系人民群众，实现民有所呼、我有所应
- ②人大代表作为党和国家联系人民群众桥梁，要认真履行提案权和监督权
- ③做好代表建议工作要重视全过程沟通，加强代表建议前、后的协调和督办
- ④代表工作委员会是全国人大的专门委员会，主要负责人大代表履职相关工作

A. ①②                      B. ①③                      C. ②③                      D. ③④

19. 2023 年 9 月 9 日，由全国工商联指导，由中国民营文化产业商会主办的“2023 中国文化产业峰会”在隋唐丝绸之路起点——西安大唐西市成功举办。会上，大唐西市集团联合国内外数十家机构秉承“和平合作、开放包容、互学互鉴、互利共赢”丝路精神打造的“文化数字丝绸之路”正式开通。举办以上活动有利于

示能5并总平武区置半固 00 “剑登林麻” “气辨区学示批志同浓教手县半 830S .51

- ①促进文化与经济相交融，提升文化这一硬实力
  - ②坚定文化自信，持续扩大中华文化国际影响力
  - ③推进文化数字化资源整合，推动文化产业转型
  - ④汇聚民营企业合力，使其成为文化发展的主导
- A. ①②                      B. ①④                      C. ②③                      D. ③④

20. 2023年9月30日是我国第10个烈士纪念日。当天上午，向人民英雄敬献花篮仪式连续第10年隆重举行，习近平总书记等党和国家领导人出席。我国设立并持续开展烈士纪念日活动，向英雄致敬，有利于

- ①实现中华优秀传统文化创造性转化，促进不同文化相互交流
- ②丰富中华民族精神，使之随着时代的变化而不断丰富发展
- ③培育和践行社会主义核心价值观，发挥优秀文化引领发展的作用
- ④弘扬伟大的中华民族精神，为新征程提供强大的精神动力

A. ①②                      B. ①④                      C. ②③                      D. ③④

21. 2023年10月，中核地质科技团队在内蒙古包头研究发现了新矿物“铈包头矿”，这为我国战略性关键金属的开发利用提供了新方向。铈是金属材料中的

- “贵族”，除用作制造超导磁体、控制核聚变、航天导航装置外，还在医疗、电子、化学、特种合金以及尖端技术等方面都具有不可替代的地位。这说明
- ①把握事物联系的多样性有利于价值的创造性实现
  - ②事物联系的多样性决定于人类实践活动的多样性
  - ③实践可以把自在事物的联系转化为人为事物的联系
  - ④人为事物的联系比自在事物的联系更高级、更复杂

A. ①②                      B. ①③                      C. ②④                      D. ③④

22. 2023年8月15日是首个“全国生态日”，青山区“长江·青山湿地——生态环境公益修复基地”正式揭牌，武汉再添生态环境修复基地。针对早些年因围湖造田、房地产开发导致的湖泊萎缩、湿地生态系统破坏。近年来，武汉市践行生态文明理念，探索出“立法在先、全局规划、智慧管理、多方联动”的治

理经验，获得了“国际湿地城市”的殊荣。武汉市的转型发展表明

- ①人的认识是主观与客观具体的历史的统一
- ②发展的本质是新事物对旧事物的辩证否定
- ③实践基础上的理论创新是社会发展的根本动力
- ④运用综合思维认识和处理问题能促进系统优化

A. ①③                  B. ①④                  C. ②③                  D. ②④

23. 李保东秘书长在 2023 年博鳌亚洲论坛闭幕新闻发布会上指出，当前，人类社会面临着疫情、地区冲突、发展不平衡、气候变化等诸多挑战，世界形势中充满着不稳定不确定性。一个碎片化的世界和推崇保护主义的世界是开历史倒车，会增加世界发展中的不确定因素。这启示我们

- ①克服矛盾的斗争性，利用同一性推动事物发展
- ②整体部分既区别又联系，要坚持二者辩证统一
- ③发挥主观能动性必须以尊重联系客观性为前提
- ④立足事物的关键部分，促进事物整体功能发挥

A. ①②                  B. ①④                  C. ②③                  D. ③④

24. 《诗经》作为中国历史上第一部诗歌总集，作品产生的地域广大，年代漫长，作者社会地位也很复杂，但是《诗经》的变异性却很少，形式比较统一，连很难统一的韵也比较一致。这说明

- A. 西周统一集权大为加强
- B. 蛮夷戎狄逐渐融入华夏族
- C. 事关礼乐经过一定整理
- D. 反映了南北方联系的加强

25. “十恶”（一为谋反，二为谋大逆，三为谋叛，四为恶逆，五为不道，六为大不敬，七为不孝，八为不睦，九为不义，十为内乱。）作为古代刑法中的罪名，始于北齐法律“重罪十条”。隋代《开皇律》首次确立“十恶”之罪以后，历代封建法典皆将之作为不赦之重罪。对此解释合理的是

- A. “十恶不赦”体现了法家严刑峻法
- B. “十恶之罪”危害封建制度的核心
- C. “十恶不赦”强化了君主专制集权
- D. “十恶之罪”体现了法律的儒学化



26. 宋代商人人数众多，资金雄厚“百万者至多，十万而上，比比皆是”。范仲淹《四民诗》说“上以利吾国，下以藩吾身。吾商则何罪，君子耻为邻。”李觏在《富国策》中阐述了“商人众则入税多”的观点，与儒家“工商众则国贫”传统观点截然相反。其原因是
- A. 商品经济快速发展  
B. 商人地位有所提高  
C. 四民社会结构松动  
D. 社会观念有所变化
27. 康熙曾创行密折制度，经常指令一些亲近大臣、内务府出差官员如织造曹寅、李煦等人，刺探绅民动向，查访某些官员的言行，留意所在地区雨水、米价，用折子随时秘密奏闻。创制密折制度的主要目的是
- A. 提高政府的行政效率  
B. 规范国家的管理机制  
C. 强化君主的独裁统治  
D. 丰富皇帝的信息来源
28. 1876年，《申报》就中国是否应仿行机器织布进行了一场讨论，连续发文多篇，大加倡导。该报主笔说，他数年前就曾提议“购齐西国织造各布机器”“仿织洋布，定易销售”，但应者寥寥。现在他的主张却得到了社会舆论的广泛支持。这一变化反映了当时的中国
- A. 政府积极推行重商主义政策  
B. 工业文明的优势被认同  
C. 开始兴起“实业救国”思潮  
D. 国人市场意识逐渐加强
29. 1920年，矛盾在《现在文学家的责任是什么？》一文中明确指出：文学“不是‘浓情’和‘艳意’做成的”“不是茶余酒后消遣的东西！”他还说“文学是为表现人生而作的。文学家所欲表现的人生决不是一人一家的人生乃是一社会一民族的人生。”这反映出
- A. 忽视了文学的游戏消遣功能  
B. 新文学取代旧文学的趋势  
C. 改变文学导向成为国民共识  
D. 马克思主义影响日益增强
30. 下图反映的是中国20世纪50年代至70年代城镇人口数的变化情况。其中，导致从A到B变化的主要原因是

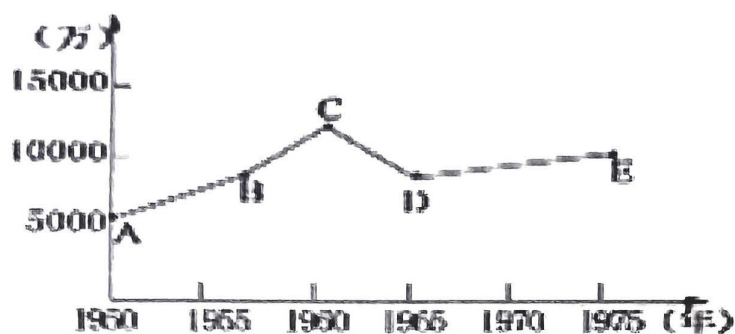


图 4

- A. 党和国家工作重心的转移  
B. 社会主义建设的全面展开  
C. 人民公社化运动的开展  
D. 新民主主义革命的大胜利
31. 1986 年，有美国学者撰文指出，中国不能从凯恩斯主义的管理手法上学到什么东西……它促进了经济的名义上的增长而实际上却是通货膨胀，而中国倒是可以从某些保守主义信条中获益。该文
- A. 服务国有企业改革的不断深入  
B. 全面剖析西方经济体制的实质  
C. 鼓吹自由放任的市场经济体制  
D. 契合中国摆脱传统模式的需要
32. 雅典没有全职军队，没有所谓的“常备军”，所有的军人都是兼职的。一旦战争爆发，不管是经商或务农的公民都要放下日常营生，聚合成军。农民步兵常是阿里斯托芬喜剧中的主角，公共艺术品如帕特农神庙中，理想的公民形象就是步兵。这说明雅典
- A. 公民必须能征善战  
B. 全民皆兵好战风气  
C. 城邦实行公民政治  
D. 军队是民主的源头
33. 1831 年，辉格党在下院公布了改革方案，提出取消一批衰败选区的资格，把议席分配给人口众多的城镇，主要是工业城镇。实现财产资格制……城镇统一标准，实行 10 镑房产持有者选举权。这一方案
- A. 完善了英国资产阶级代议制  
B. 获得了英国各阶级的普遍欢迎  
C. 缓和了工人与资本家的矛盾  
D. 有助于政体的稳定和经济发展

34. 1920年，英国工党秘书C·R布克斯顿访问俄国。他关于俄国农民态度的报告，记录了与农民的对话“农民们对现状有什么看法？”“革命是一件好事，每个人都赞成革命。他们虽然不喜欢布尔什维克，但他们喜欢革命”。该报告
- A. 解释了布尔什维克获胜的原因                      B. 是对苏俄武装干涉的借口  
C. 意在说明新经济政策的必要性                      D. 歪曲了战时共产主义政策
35. 1960年14个石油出口国组成石油输出国组织（欧佩克），旨在抑制外国公司素来享有的垄断权。1973年阿以战争中，欧佩克削减石油产量，使油价翻了两倍，在西欧、日本和美国引起了深切的忧虑，加剧了早已开始的通货膨胀。这表明
- A. 经济全球化进程进一步加快                      B. 石油在国际事务中扮演重要角色  
C. 经济的区域集团化成就显著                      D. 世界经济主导力量即将发生变化

## 第II卷 (非选择题 共160分)

本卷包括必考题和选考题两部分。第36~42题为必考题，每个试题考生都必须作答。第43~47题为选考题，考生根据要求作答。

36. 阅读图文材料，完成下列要求。(22分)

汉江发源于秦岭南坡，流经汉中盆地，是长江重要的支流。地质历史时期秦岭曾多次间歇性抬升，促使汉江干流南移，北侧支流水系发生明显变化。秦岭南麓发育有数量较多、规模较大的冲积扇。下图为汉中盆地水系、地形分布图。

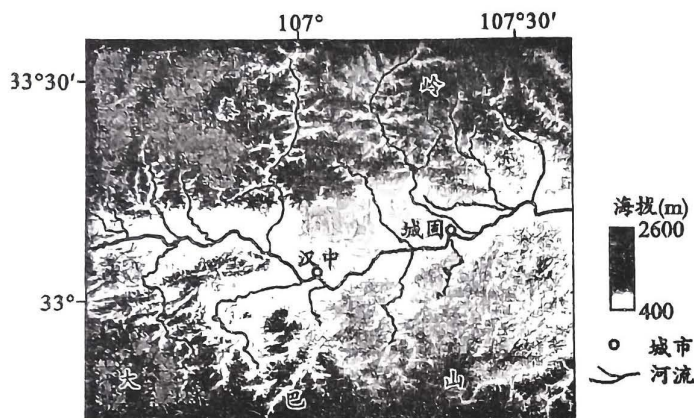


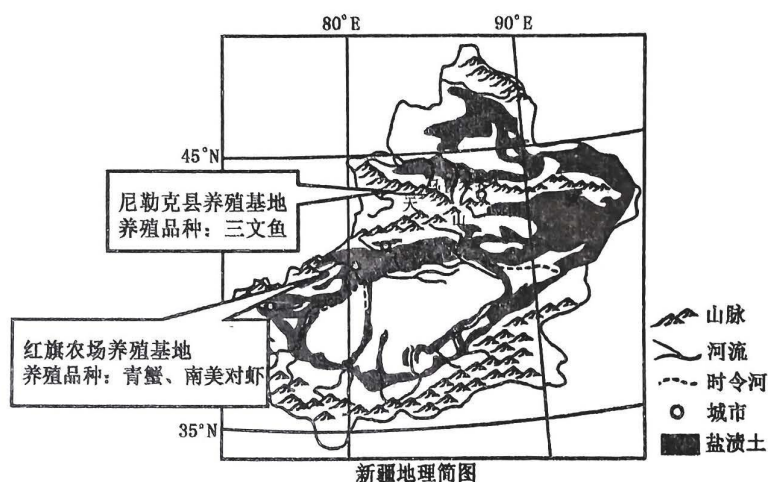
图5

- (1) 推测汉中至城固段汉江的河道特征，并说明其形成原因。(8分)
- (2) 分析秦岭抬升对汉江北岸支流水系特征的影响。(8分)
- (3) 与秦岭南麓相比，分析大巴山北麓冲积扇数量少、规模小的主要原因。(6分)

37. 阅读图文材料，完成下列问题。（24分）

材料一：尼勒克县位于新疆伊犁地区东北部，中天山西段，近年来当地利用有利自然优势，发展冷水鱼养殖产业。三文鱼适宜生长在低温清澈的冷水环境中，尼勒克县其生产的三文鱼口感鲜香，甜美，这种海鲜陆养的方式备受好评。目前尼勒克县在伊犁州政府大力支持下，已形成集养殖，加工，销售于一体的产业集群，远销海外，为当地创收。

材料二：新疆红旗农场位于天山北麓冲积—洪积形成的山前倾斜平原，地表水质和海水很接近且富含钾钙镁元素。红旗农场在地势低洼的盐碱地上建起了第一个智能生态海产养殖基地。该农场采用盐碱水质综合改良调控技术，利用盐碱地、河道滩涂建设鱼塘和温棚养殖基地，将当地的盐碱水调配成与天然海水水质接近的人工海水，实现“海鲜陆养”，成功试养了石斑鱼、南美白对虾、鲍鱼、龙虾等多种海鲜。目前，该农场的“海鲜”产品已上架各大商超和电商销售平台，同时出口俄罗斯、马来西亚等国。下图为新疆区域示意图。



新疆地理简图  
图6

- (1) 试从水体的角度，说明新疆发展海水养殖的有利条件。（8分）
- (2) 结合材料和所学知识，说明新疆海鲜养殖的局限性。（8分）
- (3) 请为红旗农场海鲜养殖产业的可持续发展提出可行性措施。（8分）

38. 阅读材料，完成下列要求。（14分）

2023年是全面贯彻落实党的二十大精神开局之年，高质量发展是全面建设社会主义现代化国家的首要任务。

2023年前三季度我国经济发展数据再增信心。一、三次产业投资规模持续扩大，其中，高新技术产业投资增长11.4%，新能源汽车、锂电池、光伏电池“新三样”继续保持较快增长势头。二、平均全国城镇调查失业率是5.3%，比上年同期回落0.3个百分点，而且逐月好转。三、居民收入稳定增长，全国居民收入前三季度同比实际增长5.9%，高于GDP增长。四、最终消费支出对经济增长贡献率是83.2%，拉动GDP增长4.4个百分点；资本形成总额对经济增长贡献率是29.8%，拉动GDP增长1.6个百分点。

结合材料运用经济生活的相关知识，推断2023年前三季度我国经济高质量发展的具体路径。

39. 阅读材料，完成下列要求。（12分）

2023年10月，十四届全国人大常委会表决通过《中华人民共和国爱国主义教育法》，自2024年1月1日起施行。

2019年11月，党中央印发《新时代爱国主义教育实施纲要》，对新时代爱国主义教育作出全面部署，党的二十大报告再次明确提出要深化爱国主义教育。我国宪法规定，国家要在人民中进行爱国主义教育；公民有维护国家统一和全国各民族团结，维护祖国的安全、荣誉和利益的义务。根据党中央批准的立法工作安排，中央宣传部和全国人大常委会法工委经过深入调查研究、广泛征求了有关方面特别是基层立法联系点的意见和建议，反复修改完善，形成了《中华人民共和国爱国主义教育法(草案)》，并最终表决通过。该法明确规定，任何公民和组织都应当弘扬爱国主义精神，自觉维护国家安全，荣誉和利益。

制定爱国主义教育法，以法治方式推动和保障新时代爱国主义教育，对于振奋民族精神、凝聚人民力量，推进强国建设、民族复兴，具有十分重大而深远的意义。

结合材料，运用政治生活的相关知识，说明制定爱国主义教育法是新时代科学立法的生动实践。

40. 阅读材料，完成下列要求。（26分）

党的二十大报告强调，中国式现代化不只是体现在物质层面，不局限于传统的、单纯意义上的经济增长，而是物质文明和精神文明相协调的现代化，既要物质财富极大丰富，也要精神财富极大丰富。

物质贫困不是社会主义。我国仍处于并将长期处于社会主义初级阶段，仍然是世界最大的发展中国家，社会主要矛盾是人民日益增长的美好生活需要和不平衡不充分的发展之间的矛盾。这就决定了我们必须聚精会神搞建设、一心一意谋发展，为实现中华民族伟大复兴奠定雄厚的物质基础。

精神贫乏也不是社会主义。我们要搞好精神文明创建活动，把精神文明建设的成果转化为物质文明的强大动力，建设社会主义文化强国；还要积极发展社会主义先进文化，弘扬革命文化，传承中华优秀传统文化，厚植文化根基，凝聚复兴伟力，推动社会主义各项事业全面兴盛；更要用习近平新时代中国特色社会主义思想武装全党、教育人民，巩固全党全国各族人民团结奋斗的共同思想基础，不断提升国家文化软实力和中华文化影响力。

（1）结合材料并运用矛盾同一性的知识，说明你对中国式现代化必须“是物质文明与精神文明相协调的现代化”的理解。（10分）

（2）结合材料并运用文化生活的相关知识，论述“精神贫乏也不是社会主义”的理由。（12分）

（3）结合材料中有关中国式现代化的相关论述，为如何实现中国式现代化提两条建议。（4分）

41. 阅读材料，完成下列要求。（25分）

材料一

山东大学是抗战前全国仅有的十所国立大学之一。1935年第二届共毕业93人：中国文学系30人，外国文学系19人，数学系11人，物理系10人，化学系13人，生物系10人。毕业生的首选职业是中学教员，愿意从事这项工作的共有55人，占毕业生总数的59%。中文系和外文系的学生大多选择做中学教员，少数则希望在行政、军事、银行或新闻业服务，还有3人希望服务于边疆的政治教育工作。数学系有9人希望担任中学教员或在行政机关工作。化学系有11人选择从事化学工业技术工作，有2人希望担任中学教员。物理和生物学系的学生则多数希望进入学术机关或者从事技术工作，只有少数愿意成为中学教员。

——摘编自王勇忠《民国时期大学毕业生的就业观》

材料二

一份人才招聘启事

1981年9月17日，深圳市蛇口工业区在《广州日报》登载了一份人才招聘启事。

为适应我区建设发展需要，经上级批准，拟在广州招收一批有志于企业管理的技术人才，进行企业管理、外贸业务和商业英语等知识的培训，为期一年。结业后，由我区统一分配到区内各企业工作、凡符合下述条件的职工均可报考：

- 1) 坚持四项基本原则，道德品质好，谈吐及待人接物坚持“五讲四美”；
- 2) 大专院校理工和财经专业毕业，有一定的实际工作经验；
- 3) 具有初等英语基础；
- 4) 有一定的社会知识和中文水平；
- 5) 年龄在45岁以下，身体健康。

——据南兆旭《深圳记忆：1949—2009》

(1) 根据材料一并结合所学知识，简析影响山东大学毕业生职业选择的因素。（8分）



(2) 根据材料二并结合所学知识, 概括 20 世纪 80 年代深圳特区人才需求的特点及背景。(12 分)

(3) 综合上述材料, 可以拓展我们对职业规划的哪些认识?(5 分)

42. 阅读材料, 完成下列要求。(12 分)

#### 材料

历史可以帮助我们变得更加明智, 它还可以告诉我们采取某些行动可能会带来什么样的后果。但是历史中没有明确的蓝图可以帮助我们按照自己的意愿塑造未来。每一个历史事件都是由各种因素、人物或年代共同发力的特殊产物。然而, 通过回顾过去, 我们可以得到一些有用的教训, 来指导我们如何继续前进, 同时也能得到一些警告, 来了解究竟哪些事可能发生, 哪些事不可能发生。我们必须谨记, 应当尽可能地放宽回顾历史的眼界, 如果只是一味寻找那些能够支持我们做出决定的历史经验, 我们将会遇到麻烦。

——摘编自玛格丽特·麦克米伦《历史的运用与滥用》

根据材料并结合世界现代史的史实, 围绕“历史事件的产生与教训”自拟一个论题, 并进行简要阐释。(要求: 论题正确, 持论有据, 逻辑清晰)

请考生在 43、44 两道地理题中任选一题作答。如果多做，则按所做的第一个题目计分。

43. (10 分) 【地理—选修 3：旅游地理】

逆向康养旅游是指低海拔的游客前往高海拔地区，通过旅游活动以提高人体免疫力的康养旅游。高原医学研究认为，在进入高原的过程中，旅游者先在较低海拔的高原上居住一段时间，让身体得到一定的适应习服，然后再到达中、等海拔地区并停留一段时间，最后到达预定的高度。青海各市州海拔 2000—3700 米不等，地貌以山地为主，平地、丘陵两种地貌兼有，属高原大陆性气候。青海省独特的天然资源和人文资源就是最好的逆向康养生态环境。

分析青海发展逆向康养旅游的有利条件。

44. (10 分) 【地理—选修 6：环境保护】

草海国家级自然保护区是我国三大高原湖泊之一、中国 I 级重要湿地，位于云贵高原中部。20 世纪 50 年代以来，受经济开发和自然因素影响，草海生态系统一度濒临崩溃。2014 年，当地开始采取抢救性措施；2018 年，草海全面启动整顿修复工作，昔日喧嚷的草海终于能休养生息。但是没想到，由于湖泊相对封闭，2020 年开始，草鱼、鲤鱼等迅速生长繁殖，远远超出环境承载能力，出现“鱼满为患”。

简述“鱼满为患”产生的环境问题并提出应对措施。

请考生在 45、46、47 三道历史题中任选一题作答。如果多做，则按所做的第一个题目计分。

45.【历史——选修 1：历史上重大改革回眸】（15 分）

材料

1895 年 6 月，康有为在上书光绪皇帝时提出了设议郎的主张，表达了对议会制度的构想。他从“先王之治天下，无不与民共之”立论，回顾了中国古代帝王“同忧共患，结合民志”的措施，主张学习汉代，通过地方乡贤和官员推选并由皇帝裁定议郎人选。当选的议郎入值武英殿，随时准备接受皇帝的质询，并得以“上驳诏书，下达民词”。遇到国家内外重大政务和筹饷事宜，则由议郎集中会议，并以超过三分之二的多数意见形成决议。议郎一年一任，但民众满意的可以继续留任。

——据茅海建《戊戌时期康有为、梁启超的议会思想》等

(1) 根据材料并结合所学知识，概括康有为所设计的议郎制度的特点。（8 分）

(2) 根据材料并结合所学知识，指出影响康有为议郎制度设计的主要原因。（7 分）

46.【历史——选修 3：20 世纪的战争与和平】（15 分）

材料

一战期间，英国曾对美国展开战争宣传，说：“德国士兵曾砍断了比利时儿童的手指，把战俘钉在十字架上。”这大大地激发了美国人民的仇恨，一种原始的疯狂与冲动控制着人们的心灵。在新英格兰举行的一次群众集会上，有人提出，抓住德皇以后，要把他下滚油锅。这时，“整个观众席都站了起来，歇斯底里地尖叫，表示赞同”。

俄国布尔什维克党也利用战争造成的危机，在工人、士兵中宣传革命思想，主张变对外战争为国内战争，趁机推翻资产阶级统治。这在俄国变成了现实。

——摘编自熊伟民《第一次世界大战的遗产》

- (1) 根据材料并结合所学知识，指出英国和布尔什维克党在战争宣传目的上的差异。(6分)
- (2) 根据材料并结合所学知识，说明英俄两国宣传的实际效果及其对一战的影响。(9分)

47. 【历史——选修4：中外历史人物评说】(15分)

材料

中国传统史家对王安石变法的评论基本持否定态度，认为变法不仅带来一系列社会问题，而且也引起了激烈的“党争”，导致了北宋的灭亡。但也有不同的看法。北宋黄庭坚云：“余尝熟观其（王安石）风度，真视富贵如浮云，不溺于财利酒色，一世之伟人也。”近代梁启超评论王安石及其新法，则用社会主义学说类比王安石的新法措施，把王安石称为社会主义学说的先行者，为王安石及其变法彻底翻了案。梁启超的观点，得到了多人认可，成为20世纪前半叶的主流观点。毛泽东在给学长萧子升的信中提到：“（王安石）可谓有专门之学者矣，而卒以败者，无通识，并不周知社会之故，而行不迨之策也。”

——摘编自韩峰《王安石的官场沉浮》

- (1) 根据材料并结合所学知识，传统史家、黄庭坚、毛泽东评价王安石的着眼点有何不同？(9分)
- (2) 根据材料并结合所学知识，简析梁启超这样评价王安石的原因。(6分)

## 关于我们

自主选拔在线是致力于提供新高考生涯规划、强基计划、综合评价、三位一体、学科竞赛等政策资讯的升学服务平台。总部坐落于北京，旗下拥有网站（[网址：www.zizzs.com](http://www.zizzs.com)）和微信公众平台等媒体矩阵，用户群体涵盖全国 90% 以上的重点中学师生及家长，在全国新高考、自主选拔领域首屈一指。

如需第一时间获取相关资讯及备考指南，请关注**自主选拔在线**官方微信信号：**zizzsw**。

