

## 2023~2024 学年高三核心模拟卷(中)

### 文科综合(二)

#### 注意事项:

1. 本卷满分 300 分,考试时间 150 分钟。答题前,先将自己的姓名、准考证号填写在试题卷和答题卡上,并将准考证号条形码粘贴在答题卡上的指定位置。
2. 选择题的作答:每小题选出答案后,用 2B 铅笔把答题卡上对应题目的答案标号涂黑。写在试题卷、草稿纸和答题卡上的非答题区域均无效。
3. 非选择题的作答:用签字笔直接答在答题卡上对应的答题区域内。写在试题卷、草稿纸和答题卡上的非答题区域均无效。
4. 考试结束后,请将本试题卷和答题卡一并上交。

一、选择题:本大题共 35 小题,每小题 4 分,共 140 分。在每小题给出的四个选项中,只有一项是符合题目要求的。

北京市以北京城“中轴对称、左城右市、北枕居庸,南襟河济,诚天府之国”。改革开放后,北京市因城市快速扩张,面临诸多环境问题。为此,韧性城市建设方案被纳入北京市城市规划建设管理全过程。韧性城市指在面临各种冲击时,能保持基本功能并快速恢复正常运行状态的城市。下表示意 1916~2020 年北京市城市面积扩张情况。据此完成 1~3 题。

项目 \ 时段	时段				
	1916~1949 年	1949~1979 年	1979~1999 年	1999~2010 年	2010~2020 年
城市土地面积(km <sup>2</sup> )	35.31	112.54	466.06	1012.17	1512.89
城市扩展面积(km <sup>2</sup> )	77.23	353.52	572.01	701.17	572.89
城市扩展速率(km <sup>2</sup> /a)	2.34	12.19	26.00	70.12	57.29
城市扩展强度(%)	0.01	0.07	3.49	4.26	3.49

1. 1916~2020 年北京市城镇化速度是
  - A. 缓慢—加速—减速
  - B. 减速—缓慢—加速
  - C. 缓慢—加速—加速
  - D. 加速—减速—减速
2. 2010 年以后北京市城市土地面积的扩张方向最可能是
  - A. 北部和西部
  - B. 东部和南部
  - C. 南部和北部
  - D. 西部和东部
3. 下列自然灾害对北京市韧性城市建设挑战最大的是
  - A. 持续干旱
  - B. 深秋寒潮
  - C. 持续高温
  - D. 极端暴雨

山东省是我国第一大农产品出口基地,以出口水果、蔬菜及食用菌为主,日本是其第一大目标市场。自日本施行“肯定列表制度”后对进口农产品检验宽度及检验指标要求更严格,给山东农产品出口带来严峻挑战。为此,山东省政府鼓励出口企业建立“公司+基地+标准化”的管理模式,同时提高农药检







15. 2023年8月9日,比亚迪第500万辆新能源车——一辆腾势N7正式下线。从2012年到2022年,比亚迪在核心技术上持续投入。比亚迪是全球首个达成第500万辆新能源汽车下线的车企,这既是比亚迪的高光时刻,也是中国汽车品牌的高光时刻。比亚迪的成功
- ①说明科技创新能够为高质量发展注入活力 ②对于实现放弃传统能源的战略有重要意义 ③有助于我国不断提高支柱产业的基础地位 ④彰显我国制造业崛起,实体经济不断壮大
- A. ①②                      B. ①④                      C. ②③                      D. ③④
16. “党支部建在司局、党小组建在处室”,是中央和国家机关基层组织体系的一个特点。商务部印发《开展党建联学共建 促进商贸流通行业高质量发展的工作方案》等相关文件,推动机关司局与行业组织建立常态化跨部门、跨行业党建联学共建机制,形成工作合力。上述举措
- ①把商务部党的组织优势转化为治理效能 ②提升商务部党组织履行经济建设职能的能力 ③旨在把商务部基层党组织建成坚强的战斗堡垒 ④是商务部优化行政资源、提高行政效率的有效实践
- A. ①③                      B. ①④                      C. ②③                      D. ②④
17. 党的二十大对深化党和国家机构改革作出重要部署。深化全国人大机构改革作为党和国家机构改革的一项重要任务,重点是组建全国人大常委会代表工作委员会。十四届全国人大常委会第三次会议作出关于设立全国人大常委会代表工作委员会的决定。下列选项中属于该机构主要职责的是
- ①通过法定程序把党的主张上升为国家意志 ②负责全国人大代表议案建议工作的统筹管理 ③明确全国人大代表的权利、义务及其实现形式 ④承担代表联系群众等有关制度制定和指导协调工作
- A. ①②                      B. ③④                      C. ②③                      D. ②④
18. 2023“齐鲁最美科技工作者”张福伟,从医35年,不仅治愈了成千上万名皮肤领域的疑难重症患者,还带领团队创新研究出了能够精准辨别皮肤细菌致病菌的高科技方案,改变了以往“一人患病,全村服药”的传统预防模式,把麻风防治模式从“具传染性”具传染性”提升到“非传染性”非传染性”新阶段,使我国麻风防治研究水平稳居世界前列。材料表明,张福伟
- ①在价值选择基础上作出了价值判断 ②在医疗实践中作出了自觉的价值选择 ③利用社会提供的医疗条件实现自身价值 ④始终把服务患者作为自己最高价值追求
- A. ①③                      B. ①④                      C. ②③                      D. ②④
19. 关于端午节的来历,时至今日说法甚多,诸如:纪念屈原说,吴越民族图腾祭说,起于三代夏至节说,恶月恶日驱避说……作为我国重要的传统节日之一,端午节承载着厚重的传统文化。从包粽子,到佩香囊,从插艾草,到挂菖蒲,端午习俗形式多样(如图所示);龙舟节、天中节、端阳节、浴兰节、诗人节……端午节别名众多。



从材料可以看出

- ①经过岁月沉淀,端午节被赋予了多重意义 ②端午活动多种多样,端午文化因交流交融而璀璨
- ③我们要重视近年来中华传统节日日渐淡化的问题 ④端午习俗赋予生活仪式感,端午文化根植人心
- A. ①③                      B. ①④                      C. ②③                      D. ②④



20. 从调降冻猪肉、冻鳄梨等 850 余项商品进口关税税率,到大幅压缩进口整体通关时间,再到广交会、服贸会、进博会、东博会的相继举行,一个拥有 14 亿人口的中国市场潜力正不断激发,为世界各国创造更多需求。中国上述举措
- ①彰显中国加快构建新发展格局,同世界共享机遇,共同发展 ②反映中国坚持自力更生,把发展主动权牢牢掌握在自己手中 ③表明中国积极提高开放水平,推动经济全球化朝正确方向发展 ④推动我国放宽市场准入,促使更多优质企业更好地“走进来”
- A. ①③                      B. ①④                      C. ②③                      D. ②④
21. 2023 年 7 月 4 日,习近平在上合组织成员国元首理事会第 23 次会议上发表讲话指出,要加强战略沟通和协作,倡导以对话消弥分歧、以合作超越竞争,切实尊重彼此核心利益和重大关切,坚定支持彼此实现发展振兴。欢迎伊朗正式加入“上合大家庭”,期待白俄罗斯尽快完成加入上合组织程序。可见,上合组织
- ①是政府间、区域性、专门性国际组织 ②成为相互信任、平等对话、互利合作的典范 ③不断壮大,国际影响力和吸引力提高 ④筑牢地区安全屏障,新型同盟关系日渐巩固
- A. ①②                      B. ①④                      C. ②③                      D. ③④
22. 钟家兄妹均拒绝赡养 89 岁高龄父亲钟某。钟某不得已,只好与村民委员会达成遗赠扶养协议:钟某将其个人所有的价值 150 万元房屋遗赠村民委员会,村民委员会负责钟某生养死葬。钟家兄妹在钟某去世前,均争讼取得继承权。对该案例解读正确的是
- ①村民委员会不属于法定继承人,因而遗赠扶养协议无效 ②钟某通过遗赠扶养协议处理遗产,使自己晚年生活得到保障 ③敬老扶义善,钟家兄妹因未赡养父亲钟某才丧失了遗产继承权 ④遗赠扶养协议的法律效力优先于法定继承,钟家兄妹的诉讼请求得不到法律支持
- A. ①②                      B. ①③                      C. ②③                      D. ③④
- 23.

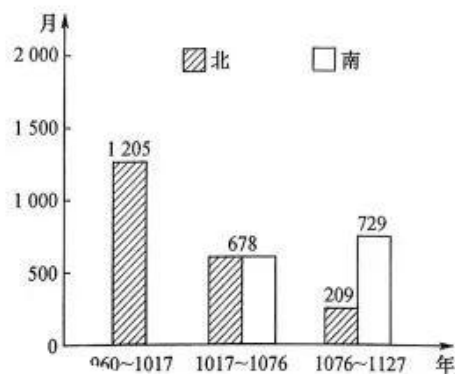
秋思  
唐·白居易  
夕照红于烧,晴空碧胜蓝。  
兽形云不一,弓势月初三。  
雁思来天北,砧愁满水南。  
萧条秋气味,未老已深谙。

- 对该诗诗句理解正确的是
- ①“夕照红于烧,晴空碧胜蓝”——采用类比推理描述晚霞和晴空的美丽景色  
②“兽形云不一,弓势月初三”——采用形象思维生动、形象、逼真地描绘云和月  
③“雁思来天北,砧愁满水南”——运用联想思维由鸿雁南飞想到了戍边的亲人  
④“萧条秋气味,未老已深谙”——运用不完全归纳推理得出对萧瑟秋意的认识
- A. ①③                      B. ②③                      C. ①④                      D. ②④
24. 考古探明陶寺遗址的中期城址约 280 万平方米,呈典型的“回”字形,具备双城制结构,分布有宫殿区、大型礼制建筑、手工业区、王陵区、仓储区、普通居民区等,功能齐备。陶寺的观象台是迄今发现的世界上最早的观象台,这与《尚书·尧典》中尧“观象授时”的记载相符。这可以用于研究当时
- A. 形成了发达的公共权力                      B. 黄河流域文明处于领先的地位  
C. 农耕文明呈现多元一体                      D. 陶寺遗址具备国家的初始形态

25. 下表所示为广州汉墓出土的铁器变化情况。广州汉墓出土铁器的变化

时代 \ 类型	墓数	出土铁器墓数	铁器墓数占墓总数比	其中铁兵器与铜兵器比
西汉早期	200 余	61	30%	3 : 4
西汉中晚和东汉	236	47	20%	1 : 5


- A. 表明汉兵器制造水平提高  
B. 说明国家的统治倚重于北方经济  
C. 缘于国家经济政策的调整  
D. 体现出社会经济呈现地域性特征
26. 下面所示为北宋时期南北方士人任职宰相的时间分布变化情况。这种变化



- A. 揭示出古代解任宰相制度的必然走向  
B. 与北宋区域经济的发展相适应  
C. 反映出北宋君主专制较唐代有所强化  
D. 标志着古代官僚政治走向成熟
27. 至元八年(1271年),元廷“分大理国三十三部为三府,十一年(1274年),又置郡县,各半行赋役,施政化,与中州等”,并在当地设立了联系全国的驿站交通网。设立“宣慰司,掌理地方事务,下设州县,行省有政令则布于下,郡县有请则为达于省……其在远服,又有招讨使,宣慰使,元帅府等,各有差等”。由此可见,元代
- A. 重视维护国家的统一局面  
B. 行省设置使国家军政大权旁落  
C. 决策机制逐步走向专业化  
D. 取士选才呈现公平开放的特色
28. 道光二十二年(1842年),负责同英方善后谈判的钦差大臣伊里布等人在致璞鼎查照会中提出对行商制进行适当保留;次年,清廷颁发致通商五口钦差督抚三衙《告示》中提出:“我皇上准许予广州等五口通商,将议定和约恩准施行……从此干戈永息、业利无穷。”这反映出当时
- A. 西方列强对中国的侵略有其历史必然性  
B. 近代外交观念影响中国  
C. 清廷仍固守“天朝上国”的传统外交观念  
D. 中华民族主权意识增强
29. 鲁迅作为新文化运动的旗手,他要求冲破一切传统思想,从而使得中国人摆脱“苦于背了这些古老的鬼魂”。也就是要求中国人民打破封建文化的桎梏,从而成为拥有民主和科学觉悟的人,以便形成更加坚决地反帝反封建的主力军。由此可见,鲁迅
- A. 促进了近代中国思想格局多元化发展  
B. 推动新文化运动性质发生根本转变  
C. 强调伦理问题和社会问题的同等重要  
D. 坚持思想启蒙和社会政治革命并举



30. 下图所示是 20 世纪 30 年代初时任中华苏维埃共和国临时中央政府出版处处长黄亚光发表的漫画。该作品反映了



- A. 革命统一战线日益巩固  
B. 党内的右倾错误得到彻底清算  
C. 土地革命斗争成效显著  
D. “工农武装割据”得到全党认同
31. 2016 年 5 月 1 日起,“营改增”试点在我国各地区各行业全面推开,实现了货物和服务行业增值税全覆盖。2017 年以来,增值税率由原来的 17%、13% 两档下调至 13%、9%;并努力完善退税制度,降低企业退税难度。由此可知,我国增值税改革
- A. 扩大了国营企业的经营自主权  
B. 助力了产业结构升级与企业创新  
C. 加快了国有企业实施“走出去”战略  
D. 开辟了中国特色社会主义新道路
32. 印度有人种博物馆、语言博物馆和宗教博物馆之称。如果以时间和语言区域划分,印度可分为吠陀文化、雅利安文化、达罗毗荼文化、阿萨姆文化等。如果按宗教派别区分有婆罗门文化、佛教文化、伊斯兰教文化、基督教文化和锡克教文化等。上述材料旨在说明印度文化具有
- A. 多样性  
B. 统一性  
C. 宗教性  
D. 世界性
33. 阿格斯提诺·利弗(1473~1546 年)提出了美的自然主义理论。他认为美就是自然的東西,他不断地发明新技术,从而接近了艺术的主要目标,即摹仿自然。而达·芬奇认为“画家要完成自己的作品必须考虑十个不同于雕塑家的主题:光、影、色彩……位置、距离、移动及其他”。这反映出
- A. 人类自我意识开始觉醒  
B. 近代人文思想还带有神学印记  
C. 非宗教的理性时代来临  
D. 人文主义推动近代科技的发展
34. 下表是学者对 1832 年议会改革前后英国贸易政策所作的论述。据此可知,此次改革

事件	标准	制度	利益(主要利益集团)	信息	政策
1820 年陈情书		未改革,土地贵族掌握立法权	地产精英(关注国内市场)	海外信息流通不畅	《谷物法》《航海条例》《海军学徒法》《布料法》等
1832 年议会改革		改革中,给予新兴阶级选举权,贵族议员不再提名下院议员等	土地贵族没落,新兴的贸易商人力量日益壮大	海外信息主要由自由商人提供	废除《谷物法》《航海条例》运动进行中,《互惠关税法案》出台
1840 年鸦片战争		选举权逐渐向新兴阶级倾斜,立法权不再是贵族特权	自由商人崛起(实际上组建了“东印度与中国协会”)	由以马地臣、查顿为代表的自由商人为议会和政府提供情报	废除《谷物法》《航海条例》运动进行中

- A. 赢得了民众的普遍支持  
B. 导致传统贵族政治的终结  
C. 提高了政府的工作效率  
D. 利于自由主义政策的推行

【高三核心模拟卷(中)·文综(二) 第 7 页(共 12 页)】

XKB

35. 下表所示为 1945~1953 年杜鲁门政府高级官员的企业背景。这一现象可用于研究

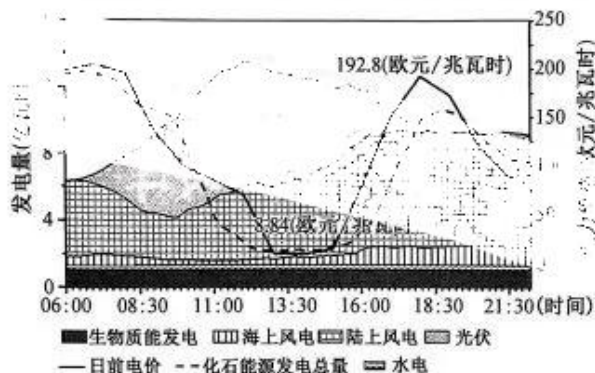
职位	姓名	上任前与大企业(财团)的关系
总统	哈里·杜鲁门	摩根财团和东部财团
国务卿	小爱德华·斯威丁纽斯	美国钢铁公司董事长
	乔治·马歇尔	泛美航空公司董事
	迪安·艾奇逊	摩根财团
国际开发顾问委员会主席	纳尔逊·洛克菲勒	洛克菲勒财团老板
世界银行行长	约翰·迈克洛伊	大通曼哈顿银行董事长

- A. 国家垄断资本主义迅速发展  
B. 战后美国对外经济扩张的必然性  
C. 美国从孤立主义走向全球主义  
D. 资本主义世界经济体系的建立

二、非选择题:本大题包括 9 小题,共 160 分。

36. 阅读图文材料,完成下列要求。(28 分)

德国是全球可再生能源转型的先行者,1962 年至今该国进行三次能源转型:从煤炭到油气、从油气到核电、从核电到可再生能源。因可再生电力的波动性,德国从电力市场、灵活性电源、储能、电网和预测等方面灵活运行电力系统。下图示意 2022 年 3 月 19 日部分时段德国可再生能源发电量与日前电价(德国电网运营商提前发布当日一天内的电价信息,以供电厂和消费者参考决策)变化情况。



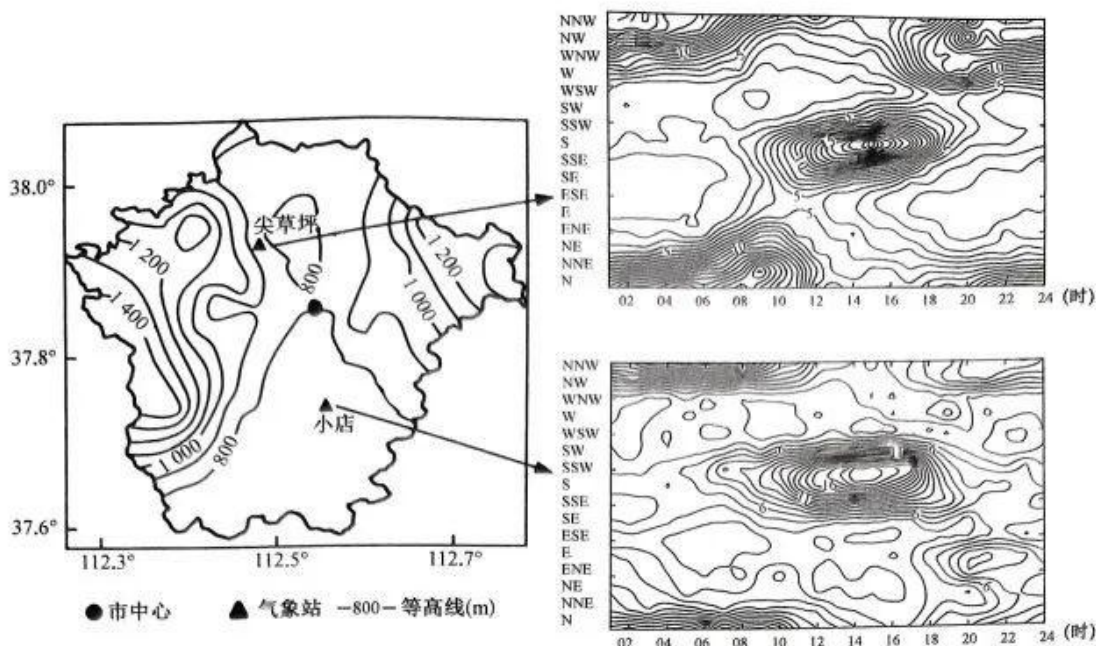
- (1) 分别指出 3 月 19 日德国日前电价与可再生能源、化石能源发电量的相关性。(6 分)  
 (2) 据图分析 3 月 19 日德国日前电价变化特点的成因。(6 分)  
 (3) 简述德国电价采用灵活定价策略的重要意义。(8 分)  
 (4) 据德国能源转型及灵活运行电力系统,请你为我国能源转型及电力发展提出合理建议。(8 分)

37. 阅读图文材料,完成下列要求。(28 分)

太原市地处山西省中部,地势北高南低。受山地—平原的共同作用,城区实测风表现出明显的山谷风特征,加之当地较明显的热岛环流,对污染物的扩散、输送产生直接影响。下图示意某月太原市城区地形特征及尖草坪(北部城区)和小店(南部城区)2 个气象观测站实测风频(单位:次)日变化统计。

【高三核心模拟卷(中)·文综(二) 第 8 页(共 12 页)】





- (1)指出图中太原市城区的山谷风风向。(4分)
- (2)说明太原市中心城区山谷风风速的日变化特征。(6分)
- (3)指出尖草坪与小店气象站山谷风转换时的风力强弱及时间差异。(6分)
- (4)若某日太原市一天天气为阴天天气,请分析该日山谷风的变化情况。(6分)
- (5)据图分析山谷风对太原市城区污染物的影响。(6分)

38. 阅读材料,完成下列要求。(12分)

2023年6月14日,国新办就优化营商环境重点领域改革举行例行吹风会。吹风会强调,要加快完成与《优化营商环境条例》要求不一致的法规政策文件修订废止工作,积极推进反不正当竞争法修订;出台网络交易监管、互联网广告、严重违法失信名单管理等领域规章;防止“任性执法、类案不同罚、过度处罚”等;根据企业信用状况,采取差异化的监管措施;严禁未经法定程序要求普遍停产停业,杜绝“一刀切”“运动式”执法。提速税费智能办理,2023年再对13项涉税费资料实行容缺办理,再对6项税务证明事项实行告知承诺制,减少资料报送。强化智慧监管,建立全量电子营业执照库,积极拓展应用场景。

结合材料,运用政治与法治知识,分析优化营商环境重点领域改革对法治政府建设提出的要求。

39. 阅读材料,完成下列要求。(10分)

“2023年是我提出共建‘一带一路’倡议十周年。这个倡议的根本出发点和落脚点,就是探索远亲近邻共同发展的新办法,开拓造福各国、惠及世界的‘幸福路’。”习近平主席一语道明中国倡议的初心。拉动近万亿美元投资规模,形成3000多个合作项目,为沿线国家创造42万个工作岗位……“中

【高三核心模拟卷(中)·文综(二) 第9页(共12页)】

方将举办第三届“一带一路”国际合作高峰论坛,欢迎各方参加论坛活动,共同把这条造福世界的幸福之路铺得更宽更远”,习近平主席向世界发出新的“丝路邀约”。

“一带一路”倡议提升了我国的国际影响力。结合材料,运用“多极化趋势”的知识;对该观点进行说明。

40. 阅读材料,完成下列要求。(20分)

**【在漫长历史进程中不断吸纳外来文化的精华】**

中华文明是在中国大地上产生的文明,也是同其他文明不断交流互鉴而形成的文明。在漫长历史进程中不断吸纳外来文化的精华,是成就中华民族特色和文化精神的重要原因、重要路径。在文明交流融合的历史大势下,中国从本国、本民族的实际出发,以批判的精神兼收并蓄、取长补短、择善而从,以此来丰富和发展中华文化,不断增加中华文化的广度和厚度。

(1)结合材料,运用矛盾特殊性的相关知识,说明如何推动中华文明进步。(10分)

**【积极推动不同文明互尊互信、和谐共生】**

在人类历史的漫长进程中,世界各民族创造了具有自身特点和标识的文明。每一种文明都蕴含了自己的价值观、世界观、宇宙观、人生观、审美观、文化观。不同文明之间平等交流、互学互鉴,将为人类破解时代难题、实现共同发展提供强大的精神指引。

世界上有200多个国家和地区,2500多个民族和多种宗教。如果只有一种生活方式,只有一种语言,只有一种音乐,只有一种服饰,那是不可想象的。中国坚持以文明交流超越文明隔阂,以文明互鉴超越文明冲突,以文明共存超越文明优越,弘扬中华文明蕴含的全人类共同价值,推动构建人类命运共同体。

(2)结合材料,运用创新思维的知识,就如何破解时代难题提出自己的看法。(10分)

41. 阅读材料,完成下列要求。(10分)

齐某与某文化公司签订《培训协议》,约定由该公司对齐某进行泰拳培训,除非公司存在故意或者重大过失,否则在培训中受伤的后果应由齐某自行承担。课程开始前,该公司临时将原泰拳教练更换为散打教练为齐某授课;课程即将结束时,教练安排齐某与另一名泰拳学员郝某进行摔跤对练,并未按照规定在旁进行指导保护。齐某在正常对练中倒地受伤,起诉请求该公司及郝某共同赔偿其医疗费等损失。

结合材料,运用法律与生活知识,分析法院应如何判决。



42. 阅读材料,完成下列要求。(25分)

材料一

中国进口货物构成统计(1920~1936年)

(%)

年份	生产资料				消费资料		
	合计	机器及大工具	原料	建筑用品、设备、小工具、器材、半制品、材料、燃料等	合计	消费品原料	直接消费资料
1920	28.5	3.2	0.2	25.1	71.5	16.9	54.6
1930	26.9	3.7	1.9	21.3	73.1	17.3	55.8
1936	44.4	6.1	2.7	35.6	55.5	13.0	42.5

中国出口货物构成统计(1929~1936年)

(%)

年份	茶	丝	豆	豆饼	棉花	棉纱	桐油	猪鬃	蛋	锡	钨砂	花生
1929~1931	3.6	12.1	14.8	5.5	2.9	2.9	2.7	1.1	5.0	0.8	0.3	2.2
1933	5.6	7.8	0.8	*	4.9	6.5	4.9	2.0	5.9	3.3	0.5	2.8
			1.3	*	2.8	5.8	4.9	2.8	5.6	2.6	1.1	2.2
					3.8	3.3	7.3	2.8	5.6	3.5	1.2	3.5
1936							10.3	3.5	5.9	3.8	1.3	1.6

摘编自曹晋文《制度变迁与近代中国的对外贸易——以1911~1936年南京国民政府的对外贸易为例》

材料二

1995年~2005年间,WTO成员向我国发起的反倾销、反补贴、保障措施和特殊保障措施达到716件,我国已连续10年成为遭受反倾销调查最多的国家。一直以来,低廉的劳动力价格和资源成本是支撑中国劳动密集型产品的优势所在,而目前中国外贸发展已逐渐进入了高成本时期,劳动力成本和资源成本的压力在逐步上升。我国出口贸易额的55%以上来自加工贸易,整体技术层次较低,高附加值产品比重不大,持续发展的基础较为薄弱。进入新世纪以来,全球经济不平衡日益成为威胁当前世界经济发展的一个重要因素……从货物进出口占国际市场份额由2012年的10.4%提升到2021年的13.5%,保持全球货物贸易第一大国地位,到过去10年对外签署的自贸协定数由10个增加到19个,向更高标准迈进,再到推进与“一带一路”沿线国家的境外合作工业园区项目,为46个国家创造39.2万个就业岗位……

——摘编自张太原 李俊峰 陈启清《新时期我国对外贸易发展的挑战和对策》

- (1)根据材料一并结合所学知识,概括1920~1936年中国对外贸易发展的特点,并简要分析其特点的成因。(12分)
- (2)根据材料二并结合所学知识,指出新时期我国对外贸易发展面临的主要挑战及对策,并说明新时期我国对外贸易发展的积极意义。(13分)

43. 阅读材料,完成下列要求。(12分)

材料

20世纪90年代以来,学界先后出现多种中国古代政治制度研究的理路,邓小南倡导的“活”的制度史即为其中代表。所谓“活”的制度史,按照邓小南定义,是指“一种从现实出发,注重发展变迁、注重相互关系的研究范式”。这种研究理路,“不再拘泥于典章的梳理,转而同时注意其功能与效用,注重动态的实施方式与运作过程”。“活”的制度则依附于现实政治而生,变动不居关于此,邓小南提示了两个视角。其一,作为“过程”的制度史。她认为,“官僚政治制度不等于静止的政府形态与组织法,制度的形成及运行本身是一动态的历史过程,有‘运作’、有‘过程’才有‘制度’,不处于运作过程之中也就无所谓‘制度’”。这里的“过程”其实包括两重含义——历史性和现实性。其二,作为“关系”的制度史。“所谓‘关系’,既包括一制度与它制度相互之间的外在关系,也包括决定制度本身性质的内在关系。”

——摘编自孙正军《何为制度——中国古代政治制度研究的三种理路》

根据材料并结合所学中国古代史相关知识,就“中国古代政治文明的发展”拟定一个具体的论题,并进行简要阐述。(要求:论题明确,史论结合,逻辑严谨,表述清晰。)

44. 阅读材料,完成下列要求。(15分)

材料一

尼克松在竞选期间就曾对其顾问们说,“我已经得出这样的结论,这场战争是无法打赢的”。他多次表示“我不打算像约翰逊那样告终,我要结束这场战争,而且要快”。他表示的结束高战争的基本思路,即设法与北越和中国接触,通过谈判谋求“体面的”和平。

——摘编自赵学功《略论尼克松政府的越南战争政策》

材料二

海湾战争爆发当天,布什指出:“海湾危机是一个严重的事态,但也为历史性的合作和建立世界新秩序提供了大好机会。”“一个完全不同于我们所知的世界。一个法律的统治将代替生存斗争统治的世界。一个国家将意识到对自由与正义具有责任的世界。一个强者尊重弱者权利的世界。”

——摘编自《美国外交思想史》582~583页

(1)根据材料一、二并结合所学知识,概括尼克松谋求越南战争“体面的”和平的背景。(6分)

(2)根据材料一、二并结合所学知识,简析越南战争与海湾战争的主要不同。(9分)



## 关于我们

自主选拔在线是致力于提供新高考生涯规划、强基计划、综合评价、三位一体、学科竞赛等政策资讯的升学服务平台。总部坐落于北京，旗下拥有网站（[网址：www.zizzs.com](http://www.zizzs.com)）和微信公众平台等媒体矩阵，用户群体涵盖全国 90% 以上的重点中学师生及家长，在全国新高考、自主选拔领域首屈一指。

如需第一时间获取相关资讯及备考指南，请关注**自主选拔在线**官方微信号：**zizzsw**。

