

## 2023~2024 学年高三核心模拟卷(中)

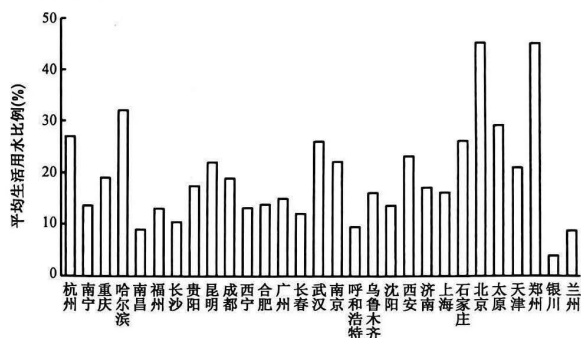
### 文科综合(五)

#### 注意事项:

1. 本卷满分 300 分,考试时间 150 分钟。答题前,先将自己的姓名、准考证号填写在试题卷和答题卡上,并将准考证号条形码粘贴在答题卡上的指定位置。
2. 选择题的作答:每小题选出答案后,用 2B 铅笔把答题卡上对应题目的答案标号涂黑。写在试题卷、草稿纸和答题卡上的非答题区域均无效。
3. 非选择题的作答:用签字笔直接答在答题卡上对应的答题区域内。写在试题卷、草稿纸和答题卡上的非答题区域均无效。
4. 考试结束后,请将本试题卷和答题卡一并上交。

一、选择题:本大题共 35 小题,每小题 4 分,共 140 分。在每小题给出的四个选项中,只有一项是符合题目要求的。

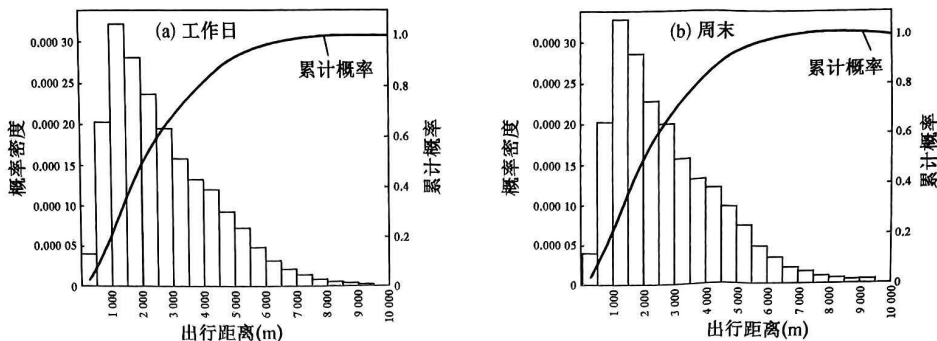
水资源作为人类生存与发展的必需资源,是社会持续发展的物质基础和支持条件之一。下图示意 2010~2020 年我国主要城市平均生活用水比例。据此完成 1~3 题。



1. 与呼和浩特相比,北京平均生活用水比例状况表明该城市
  - A. 水资源总量较大
  - B. 人口规模相对较大
  - C. 工业生产规模小
  - D. 生活用水价格较低
2. 银川平均生活用水比例最低,最可能是因为
  - A. 工业污染较严重
  - B. 人口流失较严重
  - C. 水资源利用率高
  - D. 灌溉用水占比大
3. 优化华北平原地区城市平均生活用水比例,应
  - ①提高民众节水意识
  - ②扩大城市发展规模
  - ③提高水资源利用率
  - ④增大跨流域调水量
  - A. ①②
  - B. ②④
  - C. ①③
  - D. ③④

波士顿一直居于美国最适合骑行与步行城市之列,是北美较早开放共享单车系统的城市之一。波士顿共享单车工作日的平均骑行量为 1.1 万次/天,而周末为 0.9 万次/天。下图示意工作日和周末波士顿

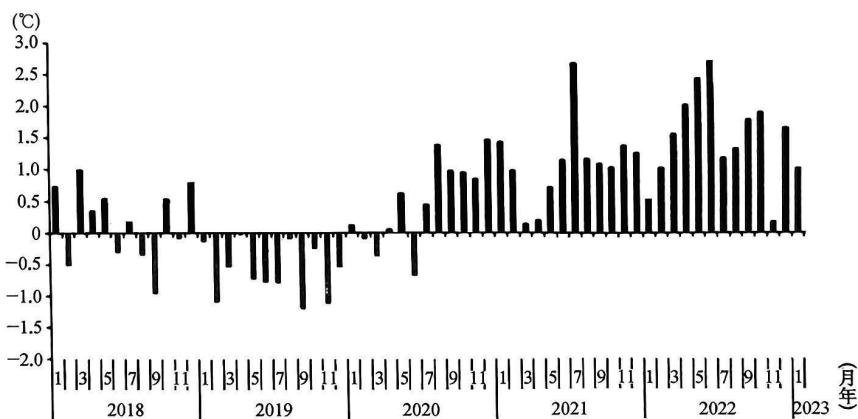
共享单车出行距离概率分布。据此完成4~6题。



注：概率密度指事件随机发生的几率；累计概率是指一个事件发生的概率，是该事件发生的次数与总次数之比。

4. 从波士顿共享单车出行距离概率分布来看
  - A. 1~1.5 km 骑行量最多
  - B. 在 3 km 处骑行累计概率达到 0.5
  - C. 8 km 以上已无人骑行
  - D. 骑行量与出行距离呈正相关关系
5. 与工作日相比，推测周末波士顿共享单车
  - A. 骑行量较大
  - B. 休闲区的骑行量下降明显
  - C. 骑行目的多样
  - D. 行政区骑行量大于居住区
6. 与波士顿共享单车骑行量大呈显著负相关的是
  - A. 人口数量多
  - B. 距中心商务区的距离较远
  - C. 路网密度大
  - D. 单车停靠站点地铁接入度高

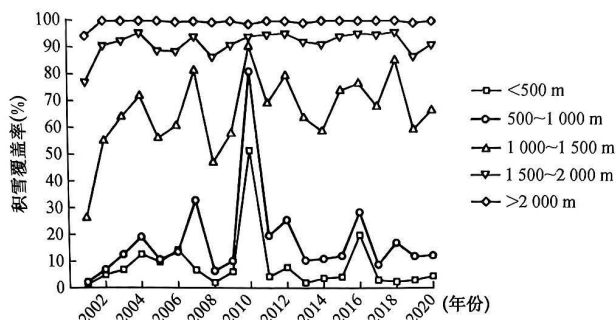
ENSO 是低纬度的海—气相互作用现象，在海洋方面表现为厄尔尼诺—拉尼娜的转变，在大气方面表现为南方涛动(SOI)。受 ENSO 影响，2022 年冬季(2021 年 12 月至 2022 年 2 月)我国中东部地区总体偏冷。下图示意 2018 年 1 月至 2023 年 1 月 SOI 指数逐月监测实况，其负向变化为厄尔尼诺现象，正向变化为拉尼娜现象。据此完成 7~9 题。



7. 与 2022 年相比，2019 年
  - A. 东南信风减弱
  - B. 赤道太平洋中东部表层海水温度下降
  - C. 德雷克海峡海冰增加
  - D. 赤道太平洋东部海域上升补偿流增强

8. 2022 年可能出现的现象是
- A. 赤道附近表层海水运动速度变慢  
B. 南赤道暖流的势力增强  
C. 赤道太平洋东、西部温度差异减小  
D. 秘鲁沿岸海雾发生频率减少
9. 2022 年冬季我国中东部地区总体偏冷, 主要是因为 ENSO 导致
- A. 亚洲高压势力减弱  
B. 我国冬季降水增多  
C. 日本暖流势力减弱  
D. 海陆温度差异增大

地形是影响新疆阿尔泰山积雪时空分布变化的重要因素之一。阿尔泰山各坡向积雪覆盖率差异显著, 最高值出现在其西北坡。下图示意 2001~2020 年新疆阿尔泰山不同海拔年均积雪覆盖率情况。据此完成 10~11 题。



10. 2001~2020 年, 阿尔泰山地区出现过一次极端暴雪天气, 最可能是在
- A. 2001 年  
B. 2007 年  
C. 2010 年  
D. 2018 年
11. 阿尔泰山西北坡积雪覆盖率最高, 主要是因为西北坡
- A. 位于阳坡  
B. 坡度较缓  
C. 海拔较低  
D. 水汽充足
12. 进入新时代, 我们党对共同富裕的认识进一步深化。习近平总书记指出: “实现共同富裕不仅是经济问题, 而且是关系党的执政基础的重大政治问题”“让发展成果更多更公平惠及全体人民, 不断促进人的全面发展, 朝着实现全体人民共同富裕不断迈进”。关于共同富裕, 下列解读正确的是
- ①是社会主义生产关系特点的体现 ②是解决社会基本矛盾的根本途径 ③充分彰显了社会主义制度优越性 ④是社会化大生产发展的必然结果
- A. ①③  
B. ①④  
C. ②③  
D. ②④
13. 下图是 1978~2000 年我国国内生产总值以及人均国内生产总值图表:

年份	国内生产总值(亿元)	人均国内生产总值(元)
1978	3 645	381
1980	4 546	463
1985	9 016	858
1990	18 668	1 644
1995	60 794	5 046
2000	99 215	7 858

【高三核心模拟卷(中)·文综(五) 第 3 页(共 12 页)】

XKB

在此期间,我国经济发展的可能因素是

- ①改革开放确定了我国经济社会的社会主义方向 ②社会主义革命向纵深发展,为经济发展提供保障 ③改革开放是“第二次革命”,调整了生产关系 ④改革开放是强国之路,是我国经济发展的动力
- A. ①② B. ①④ C. ②③ D. ③④

14. 为深入实施扩大内需战略,充分发挥消费对经济发展的基础性作用,不断增强高质量发展的持久动力,国家采取多项措施恢复和扩大消费。恢复和扩大消费的路径是

- ①共建医疗联合体→优化医疗资源配置→提高医疗服务水平→提升健康消费  
②挖掘特色文化资源→推动文旅深度融合→扩大景区建设规模→丰富文旅消费  
③适度增发专项债→完善数字基础设施→传统消费数字化转型→壮大数字消费  
④发展绿色消费市场→推动绿色产品升级→形成低碳生活方式→推广绿色消费

- A. ①② B. ①③ C. ②④ D. ③④

15. 2023年6月21日,国务院国资委党委召开扩大会议,提出要加快发展战略性新兴产业和未来产业,支持中央企业牵头建立更多的创新联合体,加大重点技术布局 and 全链条融合创新力度,推动基础研究、应用研究、产业化全链条融合发展,打造一批世界级战略性新兴产业集群。可见,中央企业必须

- ①以需求牵引,加快推进产学研深度融合 ②加强宏观调控,促进产业链和供应链安全 ③增强影响力,服务于国家总体战略目标 ④激发创新活力,强化关键核心技术攻关

- A. ①② B. ①③ C. ②④ D. ③④

16. 2023年8月2日,深圳市政协举行“一起来商量”市领导与委员面对面协商座谈会,为深圳加快推动制造业高端化、智能化、绿色化发展积极建言献策。市政府要求相关职能部门认真分析相关意见建议,抓落实,重结果,见成效,共同推动深圳市制造业高质量发展。材料表明

- ①政协作为政府职能部门赋能地方发展 ②协商民主是社会主义民主的重要形式 ③优化政协职能利于政府更好发挥作用 ④政协在国家治理体系中发挥重要作用

- A. ①③ B. ①④ C. ②③ D. ②④

17. 2023年6月26日,十四届全国人大常委会第三次会议对《中华人民共和国爱国主义教育法(草案)》进行了审议。《草案》在规定面向全体公民开展爱国主义教育的同时,突出学校和家庭对青少年和儿童的教育,并对公职人员、企业事业单位职工、村居民、代表性人士、教职人员和信教群众、港澳台同胞和海外侨胞等不同群体的爱国主义教育,分别作出针对性规定。此举

- A. 说明全国人大常委会行使审议权  
B. 是我国最高权力机关推进法治建设  
C. 有利于完善我国社会主义法治体系  
D. 体现了我国权力机关的最高法律地位

18. 漫画蕴含的哲学道理是

- ①实现崇高的社会理想需要砥砺自我  
②价值观对人的实践活动有导向作用  
③意识可以能动地指导人们改造世界  
④社会条件是实现人生价值的前提

- A. ①② B. ①④  
C. ②③ D. ③④



19. 歌曲《罗刹海市》脱胎于《聊斋志异》而又区别于原著,受古典文学影响而富有民间色彩,同时不乏对社会现实的思考。随着歌曲的广泛传唱,蒲松龄故居也吸引了来自全国各地的游客。由此可见  
①包容性赋予中华文化强大的影响力 ②要坚持向后看,坚守中华文化立场 ③优秀文化对人的活动具有重要影响 ④文化交融是文化创新的重要途径  
A. ①③ B. ①④ C. ②③ D. ②④
20. 2023年8月5日,菲律宾不顾我国一再劝阻和警告,仍执意派出2艘船只擅自闯入仁爱礁海域,违反《南海各方行为宣言》。我国海警船依法予以拦阻,并采取了警示性执法措施。我国在仁爱礁问题上的立场是明确的、坚定的,我国将继续采取必要措施坚定捍卫国家主权。捍卫国家主权的依据是  
①国家主权是一个国家最重要的构成要素 ②国家主权是一国政治文明的重要制度载体 ③国家主权是现代国家得以存在的法理依据 ④国家主权是我国人民当家作主最高实现形式  
A. ①② B. ①③ C. ②④ D. ③④
21. 2023年是中国和欧盟建立全面战略伙伴关系20周年。中欧双方高层互动频繁,为双边经贸合作指明方向,注入新动能。中欧合作能够不断充实拓展双方合作内涵,为双方经济发展注入新的动力,为变乱交织的国际局势提供更多确定性和稳定性。材料说明  
①中欧间的共同利益是双方合作的基础 ②世界多极化趋势是不可阻挡的历史潮流 ③中欧合作能促进世界和平与发展事业 ④中国和欧盟致力于推动世界一体化进程  
A. ①③ B. ①④ C. ②③ D. ②④
22. 7周岁的小苏在广场骑扭扭车将6周岁的小张撞倒,导致小张左腿骨裂,后送医治疗,花了2000元的医疗费。事后,小张父母要求小苏父母承担2000元医疗费,以及1000元的交通费、误工费。小苏父母以儿子年幼为由拒绝,小张父母遂将小苏父母告上了法庭。对此案认识正确的是  
①小张的身体健康权利遭到了小苏的侵害 ②该案属于民事案件,适用于过错推定原则 ③小苏父母应为小苏的违约行为承担责任 ④小苏父母作为小苏的监护人应承担侵权责任  
A. ①② B. ①④ C. ②③ D. ③④
23. 孩子不愿意做爸爸留的课外作业,于是爸爸灵机一动说:“儿子,我来做作业,你来检查如何?”孩子高兴地答应了,并且把爸爸的“作业”认真地检查了一遍,还列出算式给爸爸讲解了一遍。不过他可能怎么也不明白为什么爸爸把所有作业都做错了。这告诉我们  
①对事物进行反向思考有时会有意想不到的效果 ②聚合思维有利于得出合乎逻辑的解决问题的方案 ③迁移是实现思维抽象到思维具体的重要手段 ④逆向思维有利于实现思维创新以促进实践发展  
A. ①② B. ①④ C. ②③ D. ③④
24. 下面所示为春秋战国时期不同史籍对“入仕”或“参政”的相关记载。这可用于佐证这一时期

记 载	出 处
“官职可以重求,爵禄可以货得”	《韩非子·亡征》
“子赣(贡)既学于仲尼,退而仕于卫,废著鬻财于曹、鲁之间……所至,国君无不分庭与之抗礼”	《史记·货殖列传》
“濮阳人吕不韦贾于邯郸……今建国立君,泽可以遗世。愿往事之”	《战国策·秦策五》

- A. 官僚政治取代了贵族政治 B. 权力集中依赖文化统一  
C. 商业成为政治统治的支柱 D. 社会阶层的流动性增强

【高三核心模拟卷(中)·文综(五) 第5页(共12页)】

XKB

25. 魏晋时期,“州”发展为一级行政单位,且州郡数量不断增殖,人口不过汉代的几分之一,州郡县数却远超东汉,地方上为增加将帅资位而建州郡,还有为了羁縻“异国之人”而设州县者,刺史守令皆用豪酋。这一时期州郡的增殖
- A. 表明疆域扩大导致机构的增加  
B. 旨在推进民族交融的进程  
C. 折射出政权统治蕴含重大危机  
D. 加强了封建君主专制统治
26. 有学者指出:在宋朝仅凭借商业信用实现割裂货币材质与货币的价值很难成功,正所谓“王者制钱”,交子产生于民间的商品交换,但若无强制意志,纸币的产生与流通不会进行得如此顺畅。该学者意在强调宋朝交子产生与流通源于
- A. 铜钱流通难以满足市场的需求  
B. 经济发展和政府政策双重推动力  
C. 传统重农抑商政策的深刻影响  
D. 赋税和徭役征收呈现货币化趋势
27. 洪武元年(1368年),明太祖下令“改天下山长为训导,书院田皆令人官”,洪武五年(1372年)又下令“革罢训导,弟子员归于邑学,书院因以不治,而祀亦废”;与此同时大力发展官学,“内设国学,外设郡学及社学,且专宪臣以董之”,以至有“无地而不设之学,无人而不纳之教”的说法。这些做法
- A. 意在促进地方教育体系的建设与发展  
B. 迎合了加强专制统治的需要  
C. 反映出人文环境与人才选拔互相影响  
D. 强化了民间书院的教化功能
28. 戊戌政变后,与康有为、梁启超联系紧密的张荫桓被捕入狱,押解戍边途中路经直隶省城保定,观者万数,咸呼曰:“此老如此形容,富贵已极,犹不知足,尚妄思作皇帝耶?何如杀却,岂不省事?”这反映出
- A. 维新思想已触及封建专制制度  
B. 救亡图存的时代主题尚未形成  
C. 新旧阵营的斗争渗透民间社会  
D. 维新运动的社会基础较为薄弱
29. 下图为1915年9月马星驰创作的漫画《请愿之今昔观》。该漫画揭示了当时



- A. 民主共和观念未能深入人心  
B. 辛亥革命失败是历史的必然  
C. 新旧军阀均在民间钳制舆论  
D. 复辟帝制以民主手段为伪装
30. 1941年3月,国民政府设立农民节,作为全国性的节日,提出农民节大会的口号为“一、庆祝农民节要尊重农民地位;二、纪念农民节要感谢农民贡献;三、纪念农民节要感谢身手万能的农民”,并于1944年增定感功节,与农民节合并举行,扩大庆祝。农民节的举办
- A. 利于应对根据地的土地革命  
B. 旨在继承新三民主义的革命纲领  
C. 适应了民族战争的现实需要  
D. 极大增强了敌后战场的武装力量
31. 1952年至1953年,北京历史博物馆制定了“中国通史陈列”的新原则,即“把主要力量放在生产工具、生产关系上”,增加以汉画像石等为载体的牛耕图和收获图,减少展示文化艺术或宫廷生活的陈列品。北京历史博物馆的这一举措

- A. 凸显了文化建设的人民性  
B. 顺应了全面建设社会主义的需要  
C. 印证党工作重心发生转移  
D. 折射出经济建设与文化发展割裂
32. 12世纪时,在意大利的部分地区,拥有城市土地的贵族由于“建筑房屋的地面价值已经大大地提高”,他们认为将这些土地“卖给市民是有利的”,于是越来越多地迁往乡间,以摆脱收入锐减、经济拮据的窘境。这一现象
- A. 源于当时社会阶级结构的变动  
B. 折射出社会转型的趋势  
C. 得益于市民政治地位快速提升  
D. 推动了西欧城市的产生
33. 有人在评论文艺复兴中的时代巨人时指出:“给资产阶级的现代统治打下基础的人物,绝不是囿于小市民习气的人。相反地,成为时代特征的冒险精神,或多或少感染了这些人物。”如但丁青年时参加过代表新兴市民阶级的斗争,曾任佛罗伦萨行政官。该学者意在强调文艺复兴
- A. 蕴含着一定的现实斗争精神  
B. 迎合了资本主义扩张的时代要求  
C. 以新兴资产阶级为先锋力量  
D. 促使人文主义精神内涵得到丰富
34. 在国民自卫军得到胜利后,巴黎公社中央委员会指出:“这个议会可叫公社议会,或就叫公社”,“公社委员应担负本区的行政领导工作”,每一名公社委员既是10个行政机构委员会中的一名委员,同时也肩负其选区的行政领导工作,并指出这样可杜绝“三权分立”下行政权力的虚假性。这一规定
- A. 导致公权力缺乏有效的制约  
B. 表明尚未建立权责分明的领导体制  
C. 有助于保障人民主权的实现  
D. 完善了公社社会主义民主政治基础
35. 下面是拉美国家1970~1980年商品贸易情况表(单位:%)。据此可推知,这一时期拉美国家

	1970		1980	
	出口	进口	出口	进口
初级产品	52.0	14.5	49.2	29.6
农业	29.9	7.6	16.5	7.1
矿业	7.4	1.1	4.7	1.1
能源	14.7	5.9	28.1	21.5
制成品	47.4	85.0	50.0	70.0
传统制成品	20.5	14.7	21.2	13.1
食品、饲料和烟草	15.3	4.1	15.0	4.8
其他传统制成品	5.2	10.6	6.2	8.3
规模集约化制成品	23.8	27.6	23.1	23.1
耐用品	0.6	9.8	2.1	9.2
技术扩散制成品	2.4	32.8	3.5	24.5
其他商品	0.6	0.5	0.8	0.4
总计	100.0	100.0	100.0	100.0

- A. 外向型经济模式成为主导  
B. 完全摆脱了殖民主义的经济控制  
C. 与发达国家间的差距缩小  
D. 在国际分工中优势得到一定提升

二、非选择题:本大题包括 9 小题,共 160 分。

36. 阅读图文材料,完成下列要求。(28 分)

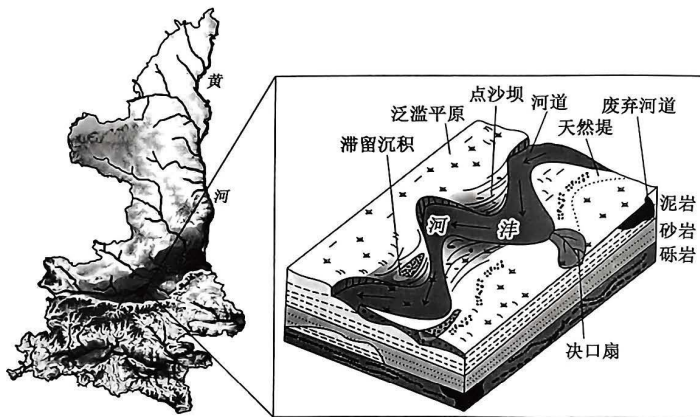
作为世界上最繁忙、利用率最高的国际大港之一,新加坡智慧港口的探索与实践总体处于世界领先水平。智慧港口建设主要包括为港口用户和运营商提供一站式服务和智能技术辅助、主动交通管理和智能人机交互系统、智能化锚地管理和航道优化、开发绿色终端设备和电力系统等。2023 年 9 月 22 日发布的《新华—波罗的海国际航运中心发展指数报告》显示,新加坡连续十年蝉联“全球最顶尖国际航运中心”。下图示意新加坡港位置。



- (1) 简析新加坡能够连续十年蝉联“全球最顶尖国际航运中心”的原因。(6 分)
- (2) 指出新加坡智慧港口发挥的主要作用。(6 分)
- (3) 推测未来新加坡智慧港口的发展趋势。(8 分)
- (4) 简述新加坡智慧港口建设对我国的启示。(8 分)

37. 阅读图文材料,完成下列要求。(28 分)

泔河是黄河支流渭河右岸一级支流,位于关中盆地中部。下图示意泔河地理位置及泔河某河段沉积体沉积模式,泔河沉积体是一个发育滞留沉积、点沙坝(形成于曲流河凸岸的堆积地貌,可发育成锥形河漫滩)、决口扇及河漫滩沉积微相的曲流河沉积体。泔河现代沉积体主要为砂岩和泥岩,含砂率 $>35\%$ ,且砂岩原生孔隙保存较完整,泔河流域具有较为优越的油气聚集成藏条件。河流搬运的碎屑物质需有足够的沉积空间才可沉积,研究发现,气候的变化会影响其可容空间的大小,干季河床沉积物粒径较大,湿季沉积物粒径较小。



【高三核心模拟卷(中)·文综(五) 第 8 页(共 12 页)】

XKB

考号  
姓名  
班级  
学号



- (1)从形状、沉积颗粒分布和发育规模三方面,指出图示决口扇的主要特点。(6分)
- (2)说出点沙坝滩体发育成锥形河漫滩的主要变化。(6分)
- (3)简析图示河道废弃的原因。(4分)
- (4)推测洋河流域利于油气聚集成藏的条件。(6分)
- (5)干季河床沉积物粒径较大,湿季沉积物粒径较小。试对此作出合理解释。(6分)

38. 阅读材料,完成下列要求。(12分)

近年,淮北市杜集区紧紧围绕“四手抓”,按照“突出重点、攻克难点、打造亮点”的工作思路,为建设美好乡村按下“快捷键”。

抓农民需求,形成“条目式”清单。为提升群众幸福感,杜集区从治理村庄“脏、乱、差”入手,加大农村人居环境整治工作力度,形成体制健全、保障到位、工作落实、规范运行、长效治理的环境管护格局。

抓组织活力,建立网格“1+1”模式。通过广泛动员、大力宣传,从党员户开始整治庭院,改善个人卫生习惯,发挥村民议事会、道德评议会、红白理事会、禁毒禁赌会的作用,破除封建陋习,形成移风易俗新风尚。

抓积分兑换,实施乡村治理积分制,结合党建引领信用村乡风文明评议,采取“积分改变习惯、勤劳改变生活,环境提振精气神、共建美好新生活”的模式,让村民养成主动参与村庄管理的良好习惯。

抓移风易俗,通过开展身边好人、优秀志愿者、“最美家庭、好媳妇、好婆婆、三八红旗手、最美巾帼志愿者”等系列评比活动,宣传推广身边人、身边事的先进典型。

结合材料,运用政治与法治知识,说明杜集区是如何建设美好乡村的。

39. 阅读材料,完成下列要求。(10分)

2023年上半年,我国机电产品出口6.66万亿元,同比增长6.3%,占出口总值的58.2%,同比提升1.4个百分点;其中,电工器材、汽车及其零配件、通用机械设备分别出口6360.6亿、6211.9亿、2004.4亿元,分别增长27.7%、58.5%、12.2%。同期,劳动密集型产品出口1.97万亿元,增长0.04%;其中,服装及衣着附件、塑料制品、鞋靴分别出口5169.4亿、3434.2亿、1729.3亿元,分别增长0.7%、3.2%、0.4%。

运用“经济全球化”的知识,对材料进行解读。

40. 阅读材料,完成下列要求。(20分)

中国画一般称之为丹青,主要指的是画在绢、纸上并加以装裱的卷轴画,它是用中国所独有的毛笔、水墨和颜料,依照长期形成的表现形式及艺术法则而创作出的绘画。按其使用材料和表现方法,又可细分为水墨画、重彩、浅绛、工笔、写意、白描等;按其题材又有人物画、山水画、花鸟画等。

西画指区别于中国传统绘画体系的西方绘画。西画包括油画、水彩画、水粉画、版画、铅笔画等许多画种。传统的西洋画注重写实,以透视和明暗方法表现物象的体积、质感和空间感,并要求表现物体在一定光源照射下所呈现的色彩效果。

中国画不重背景,例如画竹,几枝悬挂空中,四周都是白纸。写人物,一个人悬挂空中,好像驾云一般。故中国画的画纸,留出空白余地甚多。中国画重传神,故必删除琐碎而特写其主题,以求印象的鲜明。西洋画则不然,凡物必有背景,故画面全部填涂,不留空白。西洋画重写实,故必描背景。

西洋画注重透视法,力求肖似真物,故非常讲究透视法。西洋画中的市街、房屋、家具、器物等,形体都很正确,竞同真物一样。中国画则不然,注重意境,不欢喜画市街、房屋、家具、器物等立体相很显著的东西,而欢喜写云、山、树、瀑布等远望如天然平面物的东西,偶然描房屋器物,亦不讲究透视法,而任意表现。

国画大多以黑白色为主,以单一的墨水来绘出一整张画。国画擅长以黑白两种颜色相搭,虚实结合,以有限的物质激发观者无限的想象,给观者带来十足的精神享受,这就是国画的魅力所在。

当代画家在厚重的中国传统绘画的浸润下,借鉴西画的创作手法,创作出了无数绘画佳作。



中国画



西画

- (1)结合材料,运用具体问题具体分析的知识,分析正确区分中国画和西画的作用。(10分)
- (2)结合材料,运用想象的知识,说明中国画的魅力所在。(10分)

41. 阅读材料,完成下列要求。(10分)

老张是国企退休人员,育有一子一女,晚年因病致残,生活全靠老伴和出嫁的女儿照料。儿子高中辍学在家,游手好闲,嗜赌成性,常因赌博问题和父母闹矛盾,7年前以外出打工为名离家出走,从此杳无音讯。2023年初,老张立下遗嘱,将自己的婚前往房分给自己的老伴,自己积累多年的50万元退休金,分40万给自己的老伴,10万给自己的女儿,遗嘱中只字未提自己的儿子。生活富足的儿子得知情况,将老张告上法庭,以其是法定继承人、母亲和姐姐无权继承父亲遗产为由,要求法院判决该遗嘱无效。

结合材料,运用法律与生活知识,指出法院会不会支持老张儿子的诉求,并说明理由。

42. 阅读材料,完成下列要求。(25分)

材料一

1870年,原幕府事务局大译官创办了近代第一份日报——《横滨每日新闻》;1872年,《东京日日新闻》成为了明治政府的御用报纸,并得到数位政治家的鼎力支持。19世纪70年代,《读卖新闻》等宣传自由民权运动的“大新闻”报纸陆续问世,而带有娱乐色彩的“小新闻”也崭露头角。1875年明治政府颁布《新闻纸条例》,明确规定“凡欲发行报纸者,必须向内务省提出申请,获得许可”。19世纪90年代,全国性商业报纸开始出现,从社会大众角度剖析政治问题,报道内容也更倾向平民化。20世纪初,日本报业依靠兼并、垄断组成股份制企业,《每日新闻》《朝日新闻》《读卖新闻》成为日本三大报,从此“三足鼎立”。

——摘编自尹娜《19世纪末至20世纪初日本报业的发展与嬗变》

材料二

鸦片战争后,一批开明人士在香港、上海等沿海城市将封建社会类似报纸的“瓦版”同西方报刊模式相结合,创办了近代中文报刊。第二次鸦片战争后,上海取代香港成为新的报业重心,这一时期参与报刊创办的无论是近代知识分子还是洋务派官员或商人,都将报道重点放在了西式文明上,如王韬创办的《循环日报》针砭时弊,并倡导言论自由,随后创办的《上海新报》等也成为鼓吹兴办洋务的主阵地。此外,《申报》发表了若干评论时务和为中国富强献策、揭发基层苛政的论说文。而这一时期多数办报不以盈利为目的,很多报纸从创刊到停刊只有短短几个月,因此《申报》等采用优惠宣传的方法,推出类似于现在报纸的“广告套餐”,以寻求资金。

——摘编自曾浩《19世纪中后期中国近代报业生态环境研究》

- (1)根据材料一并结合所学知识,概括19世纪70年代至20世纪初日本自办报业形成和发展的特点及其影响。(14分)
- (2)根据材料一、二并结合所学知识,指出相比于日本,近代早期中国自办报业的不同之处。(8分)
- (3)综合上述材料并结合所学知识,谈谈近代中日两国自办报业对当今我国报业发展的启示。(3分)

43. 阅读材料,完成下列要求。(12分)

材料

历史上对王安石变法的几次演绎

时期	代表观点
南宋至清朝中期	范冲等人修定的《神宗实录》、宋孝宗时期修撰的《四朝国史》、元朝编修的《宋史》三部官修史书认为王安石变法“变乱祖宗法度”,以至“祸国殃民”,将诸多新法视为“聚敛至术”,理财思想视为兴利之道,“弱民兴利”
晚清至民国时期	龚自珍推崇王安石,认为“荆公(王安石)受谤七百有余年”;梁启超评价王安石是“三代以下唯一完人”,青苗法和市易法实为近代文明国家的银行雏形,免役法则“与今世各文明国收所得税之法正同”;孙中山认为王安石的“权制兼并,均济贫乏”思想与民生思想相吻合
新中国建立后	漆侠等学者称赞王安石是改良主义者和革新派斗士,“宋代的社会生产,在整个封建时代居于两个马鞍形的最高峰,王安石变法时期的社会生产,则居于这个最高峰的最高点”

——摘编自夏莹《王安石变法的历史演绎及原因》

根据材料并结合所学知识,对王安石变法的历史演绎作出解释。(要求:论述充分,史论结合,表达清晰。)

44. 阅读材料,完成下列要求。(15分)

材料

“傻子”大讨论

20世纪70年代末80年代初,大量知青返乡给城市就业带来了空前压力,于是中共中央指出必须着重开辟在集体经济和个体经济中的就业渠道。“大门”开了一条缝,胆子大的人就先干了起来。

年广久,安徽省芜湖市人,因炒得一手好瓜子,于是乘着“东风”开办了“傻子瓜子”,凭借着价廉物美和热情大方的售卖方式收获了大批顾客。尝到了甜头的年广久,请了12个雇工从事瓜子炒制和售卖,雇工人数短时间内快速扩大。而这却造成了长达几年的“大讨论”,围绕“个体户到底雇几个人算是剥削”“年广久是不是资本家”等一系列的讨论在全国范围内展开。在一次全国工商会议上,有人提出年广久雇工人数超过国家规定,对国营、集体商业形成不利影响,应该限制其发展,应用国营和集体的形式逐步代替个体。1984年,邓小平在中央顾问委员会上明确指出:“你解决了一个‘傻子瓜子’,会牵动人心不安,没有益处。让‘傻子瓜子’经营一段,怕什么?伤害了社会主义了吗?”邓小平讲话以后,关于雇工问题的讨论渐渐消失无声了,年广久的“傻子瓜子”生意日益红火。

——摘编自孙一枚《1979:“傻子瓜子”引发雇工大讨论》

根据材料并结合所学知识,对改革开放初期“傻子瓜子”问题的讨论进行探讨。

密封线内不要答题

## 关于我们

自主选拔在线是致力于提供新高考生涯规划、强基计划、综合评价、三位一体、学科竞赛等政策资讯的升学服务平台。总部坐落于北京，旗下拥有网站（[网址：www.zizzs.com](http://www.zizzs.com)）和微信公众平台等媒体矩阵，用户群体涵盖全国 90% 以上的重点中学师生及家长，在全国新高考、自主选拔领域首屈一指。

如需第一时间获取相关资讯及备考指南，请关注**自主选拔在线**官方微信号：**zizzsw**。

