

考号
姓名
班级
学校
县(市、区)

2023 年秋期高中三年级期终质量评估 文科综合能力测试

注意事项:

1. 本试卷分第I卷(选择题)和第II卷(非选择题)两部分。满分 300 分,考试时间 150 分钟。答卷前,考生务必将自己的姓名、准考证号填写在试卷和答题卡上。
2. 回答第I卷时,选出每小题答案后,用 2B 铅笔把答题卡上对应题目的答案标号框涂黑,如需改动,用橡皮擦干净后,再选涂其他答案标号框,写在本试卷上无效。
3. 回答第II卷时,将答案写在答题卡上,写在本试卷和草稿纸上无效。
4. 考试结束,务必将试题卷和答题卡一并交回。
5. 本试卷共 16 页。如遇缺页、漏页、字迹不清等情况,考生须及时报告监考老师。

第I卷 选择题

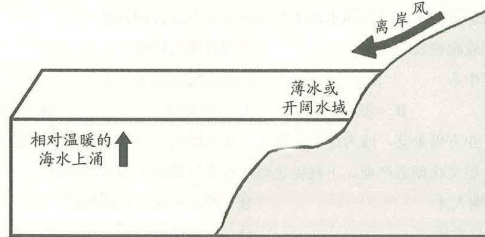
一、选择题(本题共 35 小题。每小题 4 分,共 140 分。在每小题给出的四个选项中,只有一项是符合题目要求的。)

预制菜是指已经在工厂洗好、切好而且还搭配好的菜式,只需进行简单的加工或者加调料包进行烹饪,就可以搬上餐桌进行食用,但是多为半熟制品或熟制品,容易变质。另外预制菜久放后,其中无机盐会逐渐转化为亚硝酸盐,为延长保质期多加入大量的调料和防腐剂。

1. 从食品安全角度考虑,下列说法中符合预制菜未来发展方向的是

- ①选用高品质食材 ②依托电商平台拓展客源 ③加大宣传力度
④定期对预制菜质量进行检测 ⑤控制调料和添加剂用量
- A. ①②③ B. ②③④ C. ①④⑤ D. ③④⑤

冰间湖是极地海域出现的一种特有现象,是指在达到结冰的天气条件下,仍长期保持无冰或被薄冰覆盖的冰间开阔水域。冰间湖主要有两类:一是风或洋流驱动形成的潜热型冰间湖(海面不断结冰,但冰不断被风或者洋流带走,导致海面无冰),二是海洋热量(主要是上升暖流)驱动形成的感热型冰间湖(又称显热型冰间湖,水面温度较高,一直不结冰)。下图示意北冰洋深水冰间湖和大陆架冰间湖的形成机制。



高三文科综合 第1页(共16页)

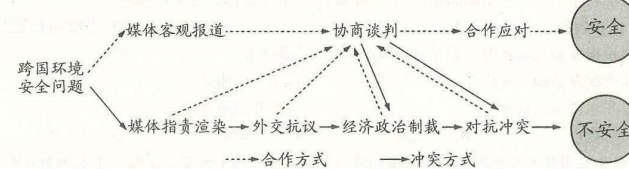
2. 下列关于北冰洋大陆架冰间湖的类型及成因表述正确的是

- A. 潜热型 温暖海水上涌 B. 感热型 温暖海水上涌
C. 感热型 离岸风吹拂 D. 潜热型 离岸风吹拂

3. 夏季北冰洋冰间湖面积扩大的原因叙述不正确的是

- A. 夏季昼长,太阳高度角增大,获得太阳辐射多,水温较高,海面不易结冰
B. 夏季海水密度升高,海面不易结冰
C. 夏季海一气相互作用强烈,蒸发水汽较多,大气保温增强,冰间湖周围水温升高
D. 夏季海冰面积和厚度变小,海水吸收的太阳辐射增多

2023 年 8 月 24 日,日本正式将福岛第一核电站内储存的核废水排入太平洋,遭到国内外质疑和反对。日本这种做法极其不负责任,将严重损害国际公共健康安全和周边国家人民切身利益。国家之间应对国家间环境安全问题,有冲突与合作两种方式(如下图)。



4. 各国抵制日本福岛核废水的排放原因不正确的是

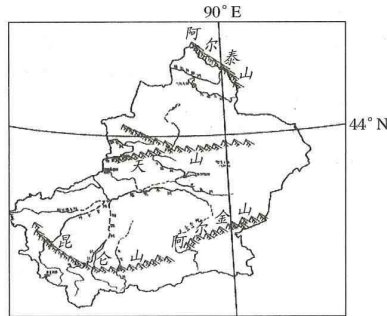
- A. 污染物在海洋生物体内富集,食用后危害人类健康
B. 污染物扩散,使海水水质下降,海洋生态遭破坏
C. 导致浮游植物死亡,使二氧化碳吸收量减少,加剧温室效应
D. 海水污染加剧,易引发赤潮、风暴潮等多种海洋灾害

5. 从国家安全角度,针对材料中反映的问题,我国政府应采取的措施合理的是

- ①污染物顺北太平洋暖流向东运动,对我国影响不大,暂时顺其自然
②开展我国海域海洋辐射环境监测
③全面暂停进口日本水产品
④保留作出进一步反应的权利
- A. ①②③ B. ②③④ C. ①③④ D. ①②④

“海鲜陆养”是指在内陆采用“盐碱水改良养殖”,主要养殖鱼、虾、贝类等海产品。新疆地处西北内陆,天然水域广阔,类型多样,高山湖泊及盐碱地众多,适合利用盐碱水进行海鲜养殖,澳洲龙虾、南美白对虾、石斑鱼、海鲈鱼等海产,都在新疆实现了规模化养殖。积极发展盐碱水养殖海鲜,是践行大食物观,改善居民生活的重要举措。

高三文科综合 第2页(共16页)



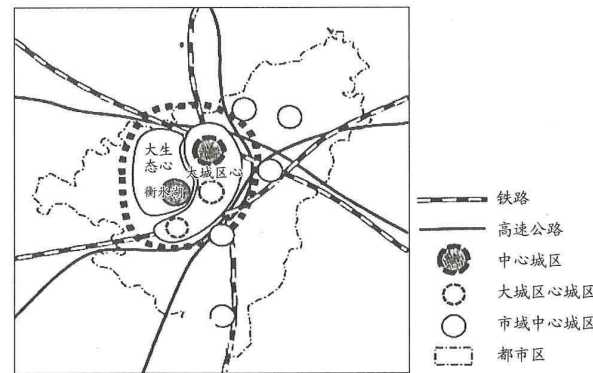
6. 与海水养殖相比, 对新疆高山湖泊“海鲜陆养”不利条件的表述不正确的是
A. 水温较低 B. 水体盐度较低 C. 温差变化大 D. 养殖空间范围大
7. 新疆积极发展盐碱水海鲜养殖对当地产生的有利影响是
①促进饮食结构多元化 ②促进产业升级
③提高水产养殖技术 ④增加就业机会
A. ①③④ B. ①②④ C. ①②③ D. ②③④

某校学生团队利用暑假到四川峨眉山进行研学实践。团队分若干小组, 下表为某6人小组中领的任务清单。

任务类型	自然地理类项目				
任务区域	峨眉山金顶景区冷杉林区域, 海拔范围约 3000~3077 米				
调查内容	冷杉林下自然植物群落特征, 包括林下灌木、草本植物的物种丰富度(数量及优势物种)、垂直结构(垂直分层)、水平结构(植株大小、覆盖度)等, 为研究该区域生物多样性提供数据支撑				
调查方法	样方法: 样方也叫样本, 是从研究对象的总体中抽取出来的部分个体的集合。进行植物群落特征调查时, 通常从研究区域内实地抽取若干个样方, 通过统计其平均值来表征该研究区域内整个群落				
调查时间	时间: 半天				
调查分工	分工: 每 2 人负责一个样方内全部植株数据采集				
数据采集	植株编号	物种名称		
	1				
	2				
				
群落特征数据采集表					

8. 为保证样方取样的科学性, 并按时完成调查任务, 下列样方选址的区域最合理的是
A. 人类干扰少的自然林区 B. 野生动物较多的地区
C. 交通比较完善的地区 D. 地势陡峭的悬崖峭壁区
9. 结合该研学活动调查内容, 数据采集时除植株编号、物种名称外, 你认为还要采集哪些信息
①植株的数量 ②高度和粗细 ③地理位置 ④植株覆盖面积
⑤土壤厚度 ⑥野生动物数量
A. ①⑤⑥ B. ③④⑤ C. ①②④ D. ②③⑥

衡水市位于河北省东南部, 为适应京津冀一体化和衡水市长远发展需求, 优化资源配置, 协调城乡建设, 实现社会、经济、人口、资源、环境可持续发展, 该市特编制城市总体规划, 形成“一核三轴三区”的城镇空间结构。下图示意衡水市都市圈规划图。据此完成 10~11 题。



10. 结合材料信息推断下列适合衡水市中心城区未来发展方向的是
①完善基础设施建设 ②改善环境质量
③建设物流中心 ④提升综合服务功能
A. ①②③ B. ②③④ C. ①②④ D. ①③④
11. 文化创意产业方兴未艾, 成为近年来城市产业发展的生力军, 该区域规划中的大生态心区域适宜发展文化创意产业。下列促进该产业发展措施中不合理的是
A. 引进高端人才 B. 遍地开花, 全面发展
C. 政府政策支持 D. 扩大招商引资

考号
姓名
班级
学校
县(市、区)

12. 新时代十年来,党和国家事业取得了历史性成就、发生了历史性变革,在党史、新中国史、改革开放史、社会主义发展史、中华民族发展史上具有里程碑意义。新时代十年伟大成就取得的原因是

- ①坚持全面深化改革破除了阻碍经济发展的体制机制障碍
- ②中国梦基本实现为新时代十年伟大成就奠定了物质基础
- ③坚持以习近平新时代中国特色社会主义思想凝心聚魂
- ④实现全面建成小康社会目标,人民生活水平显著提高

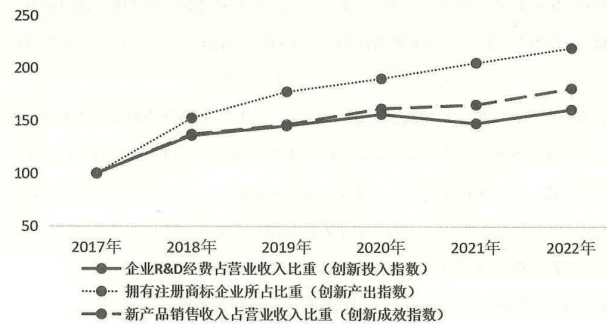
A. ①② B. ①③ C. ②④ D. ③④

13. 新华社刊发的文章《中国没有辜负社会主义》指出,在中国共产党领导人民的顽强奋斗中,伟大的事业青春盎然,我们无比自豪,中国没有辜负社会主义!以下能体现“中国没有辜负社会主义”的是

- ①新生的社会主义激活了人民的能量、增进了人民福祉
- ②中国特色社会主义伟大实践使科学社会主义焕发生机
- ③社会主义改革开放,为人类社会发展提供了基本遵循
- ④推进马克思主义中国化时代化,发展了社会主义理论

A. ①② B. ①③ C. ②④ D. ③④

14. 2017—2022年中国企业创新指数(2017年=100)



注: 1. 企业(R&D)经费是指企业科研经费;
2. 企业指标的数据口径为规模以上工业企业。

高三文科综合 第5页(共16页)

上述结果表明

- ①企业持续创新,促进数字经济和实体经济的融合
- ②企业发挥创新主体的作用,推动科技与经济融合
- ③企业创新优化产品结构,塑造发展新动能新优势
- ④企业活力是其创新之源,提升了成果转化的质量

A. ①③ B. ①④ C. ②③ D. ②④

15. 近年来,“知识+带货”这种新型商业模式赢得了观众的好感,知识主播用直播的方式分享商品的文化趣味和文化知识,还原了商品本身蕴含的知识价值、文化价值和文化情怀,受到消费者的广泛青睐。知识主播文化带货

- ①借助新媒体传播渠道,创新了消费文化的新场景
- ②创新产品销售方式,提高了文化产业质量和效益
- ③发挥了市场决定作用,利于扩大文化价值的传播
- ④联通产业上下游,保障产业链供应链的安全稳定

A. ①③ B. ①④ C. ②③ D. ②④


16. 2023年12月召开的中央经济工作会议指出,进一步推动经济回升向好需要克服一些困难和挑战,主要是有效需求不足、国内大循环存在堵点等。做好明年经济工作,要统筹扩大内需和深化供给侧结构性改革,巩固和增强经济回升向好态势。实现上述目标,下列传导路径正确的是

- ①完善收入分配→降低赡养老人专项附加扣除标准→增加居民收入→提升居民消费能力
- ②科技赋能发展→促进线上线下消费有机融合创新→拓展新型消费模式→激发消费活力
- ③增发专项国债→用于灾后建设→发挥有效供给的关键作用→深化供给侧结构性改革
- ④完善农村物流配送体系→畅通国内大循环→拓展消费新空间→促进经济高质量发展

A. ①③ B. ①④ C. ②③ D. ②④

17. 某社区通过居民推荐、居委会审核、群众评议的方式选出有热心、威信高的100多名老党员、老干部、老教师、老公安、老居民等“五老”成员,联合物业、楼栋长及部分人大代表、政协委员、法律工作者等,组建矛盾调解工作站,帮助居民群众解决烦心事、日常琐事,使居民之间的关系更加和谐。上述矛盾调解工作站的组建

高三文科综合 第6页(共16页)

- ①构建治理共同体，发挥了中国特色基层治理的显著优势
②厘清不同主体权责边界，推进了基层治理社会化法治化
③探索分级处理基层事务制度，打造了共建共治共享格局
④激发多元参与治理的活力，有效提升治理的力度和温度
- A. ①③ B. ①④ C. ②③ D. ②④
18. 2023年9月，国务院常务会议通过的《未成年人网络保护条例》规定，健全未成年人网络保护机制、保护未成年人个人信息、防治未成年人沉迷网络等内容，明确政府、企业、学校、家庭等在未成年人网络保护工作中的职责和法律责任。这表明
- ①国务院行使立法权，依法保障未成年人的身心健康
②立法机关立良善之法，旨在完善国家法律法规体系
③行政机关依法履职，科学合理配置政府部门间关系
④立法工作顺应时代发展要求，提高管理和效能
- A. ①③ B. ①④ C. ②③ D. ②④
19. 漫画：“一个人最可怕的不是失败，而是他在失败的阴影下看不到阳光。”从辩证法的角度看，这启示我们
- ①在统一中把握对立，促使事物向有利方面转化
②在对立中把握统一，促使事物向有利方面转化
③积极发挥主观能动性，推动量变到质变的飞跃
④积极发挥主观能动性，正确处理复杂多样联系
- A. ①③ B. ①④ C. ②③ D. ②④
- 
20. “时代楷模”钱海军从事电力服务工作30年来，爱岗敬业、学用结合，从一名普通的电力工人成长为单位的技术能手、有口皆碑的“万能电工”。他利用业余时间开展志愿服务23年，同时带动身边的人开展志愿服务和公益慈善行动，被授予全国劳动模范、全国“最美志愿者”等称号。这启示我们
- ①要善于利用社会提供的客观条件实现人生价值
②要以人民为中心作出正确价值判断和价值选择
③全面提高个人的素质是实现人生价值的根本途径
④要在实践基础上实现自我价值与社会价值的统一
- A. ①② B. ①③ C. ②④ D. ③④

21. 云南普洱景迈山古茶林文化景观是一部活的中国茶史，传统的“林下茶种植”是人类早期利用茶树的活态样本；“山共林、林生茶、茶绕村、人养茶”的景观格局，承载着“林茶共生、人地共荣”的朴素生态智慧；千百年来世代居民种茶制茶、食茶用茶、品茶咏茶、敬茶爱茶，实证了中国茶文化的悠久历史。由此可见
- ①中华茶文化源远流长，具有强大的连续性
②人民群众既是茶文化的创造者，也是享受者
③茶树是中华茶文化传承和发展的主要载体
④对茶文化的创新性发展是创造性转化的前提
- A. ①② B. ①③ C. ②④ D. ③④
22. 2023年11月，习近平在亚太经合组织(APEC)第三十次领导人非正式会议上指出，亚太经合组织建立以来，始终走在全球开放发展的前沿，创造了举世瞩目的“亚太奇迹”。新的历史起点上，中国将继续与亚太各方坚持普惠共享，共同做大亚太发展蛋糕，建设开放、活力、强韧、和平的亚太共同体。对此认识正确的是
- ①中国作为APEC的重要成员国，致力于构建开放型亚太经济、助力世界经济发展
②APEC致力于促进亚太区域经济可持续增长和繁荣，建设活力和谐的亚太大家庭
③APEC是亚太国家间政治、经济、文化等交流合作的纽带，是全球治理的重要载体
④APEC作为当今国际社会重要的行为体，坚持以集体行动推进合作、反对单边行动
- A. ①② B. ①④ C. ②③ D. ③④
23. 14周岁的李某在父母不知情的情况下，通过某平台从王某经营的网店购买游戏装备共支付16652元，李某父母次日发现后，及时与王某联系，表示对李某的付款行为不予追认并要求退款，王某不同意退款，李某父母诉至人民法院。关于本案下列说法正确的是
- ①王某需要增强法律意识，不与未成年人进行商品买卖
②李某的巨额购买支付行为与其年龄、智力等不相符合
③李某属于限制民事行为能力人，因此其购买支付行为无效
④李某父母未尽到相应的监护职责，应承担相应的举证责任
- A. ①② B. ①③ C. ②④ D. ③④

考号

姓名

班级

学校

县(市、区)

省

市

省

24. 2001年,山西襄汾陶寺发掘出了南墙、东墙,这是中原地区最大的史前城址之一。域内外发现了大型“王墓”、礼乐重器及高等级的夯土建筑。陶寺遗址的发现说明
- A. 早期文明多元一体的特点 B. 长江流域向阶级社会发展
C. 贫富分化加剧的发展趋势 D. 复杂化社会组织可能存在
25. 战国时期的各国变法,普遍推行赋税制度包括军赋方面的改革,如鲁国的“作丘甲”(以“丘”为单位征收车马兵甲)“初税亩”“用田赋”、郑国的“作丘赋”、楚国的“量入修赋,赋车籍马”、陈国的“赋封田”,等等。这些举措旨在
- A. 体现以民为本的追求 B. 构建中央集权的体制
C. 应对战乱纷争的局面 D. 削弱世袭贵族的特权
26. 《盐铁论》记载了桑弘羊与贤良方正就专卖制度的辩论经过,桑弘羊认为,“富国非一道”,“富国何必用本农,足民何必井田也”,并以此作为盐铁官营、均输、榷酒政策的理论依据。汉代专卖制度的实行
- A. 淡化了重农抑商的政策 B. 激化了矛盾导致王朝覆灭
C. 推动了工商业迅速发展 D. 体现了国家对经济的干预
27. 据记载,宋代,尤其是在南宋时期,学者们对科举考试试卷选本中优秀诗文进行圈点与品评蔚然成风,诗文评点也成为文学评论中的一种全新体裁,并涌现出了吕祖谦、谢枋得、刘辰翁等一些评点名家。这些现象的出现
- A. 表明主流文学体裁发生改变 B. 与主流选官制度引发的文化需求相关
C. 反映了文人雅趣与市井风情 D. 缘于文学艺术作品世俗化倾向的显现
28. 王阳明主张“致良知”,“良知”即“天理”,是先天就具备的,是“圣人”和“愚夫愚妇”共同具备的。这一认识
- A. 吸收借鉴了西方的民主思想 B. 颠覆了传统社会的等级观念
C. 暗含否定权威利于思想解放 D. 继承发展了儒家的民本思想
29. 蒋廷黻在《中国近代史》中指出:“广东地方官商最感《南京条约》给他们私人利益的打击”,“《南京条约》以后,他们的意外财源都禁绝了,难怪他们要恨外国人。广州的商人方面也是如此。”对此解读合理的是
- A. 协定关税阻碍了民族工商业发展 B. 巨额赔款加重清政府财政负担
C. 列强侵略冲击中国传统经济结构 D. 鸦片战争后中国商贸中心转移
30. 林毓生教授曾经分析:新文化运动以来,中国知识分子借西方个人主义的思想与价值支援并辩解反传统运动,但是个人应当作目的,不可当做手段,个人的自主独立源于个人

高三文科综合 第9页(共16页)

本身价值的体认遭到了曲解。这一分析的主旨是

- A. 新文化运动是一场反传统的运动 B. 个体主义在近代中国影响力有限
C. 新文化运动并没有实现个体主义 D. 新文化运动重视个体自由和尊严
31. 斯塔夫里阿诺斯在《全球通史》中指出:“种植作物能养活的人口要比采集食物所能养活的人口多得多。……农业生产率的提高则使食物有了剩余,从而使社会能够供养新产生的祭司阶级、军队和官吏。……文字就是祭司们发明出来用以记事的。”这说明
- A. 文字的产生是人类进入文明社会的唯一标志
B. 农业的产生是人类迈向文明的重要前提之一
C. 古代文明产生于祭司对神灵真诚的崇拜
D. 私有制的产生是人类文明进步的体现
32. 约1230年编成的《萨克森法鉴》是中世纪德意志习惯法的汇编,其中写道:“一个人在他的国王逆法律而行时,可以抗拒国王和法官,甚至可以参与发动对他的战争……他并不由此而违背其效忠义务”。这说明中世纪的德意志
- A. 领主与附庸都受封建法律保护 B. 国王与贵族之间的矛盾尖锐
C. 要求实行君主立宪的呼声高涨 D. 君与臣形成平等的契约关系
33. 1515年,英国政治家托马斯·莫尔完成著名的《乌托邦》。他在书中批判了英国现行的政治和社会制度,主张实行民主制度,所有公职人员由人民选举产生,国家元首也由选举产生,重大问题由乌托邦全体居民讨论。莫尔的主张
- A. 体现了人文主义时代的政治诉求 B. 反映了欧洲民族国家意识的形成
C. 推动了科学社会主义理论的诞生 D. 设计了未来资产阶级的理性王国
34. 1849年,美国南方各州坚持要在新加入各州推行奴隶制,北方各州则认为应通过国会表决定禁止在新领地实行奴隶制。1850年,南北方代表经过几个月的国会辩论,在北方制定了严厉的《逃奴法》后,南方最终同意新领地以自由州身份加入联邦。这表明,当时美国
- A. 种植园主的势力日渐削弱 B. 国会权力得到进一步扩大
C. 南北矛盾与政治妥协并存 D. 联邦体制的弊端日益凸显
35. 反经济全球化的存在一定程度上使发达国家看到,如果穷国与富国之间日益扩大的发展差距得不到有效的控制和缓解,不但世界安全和稳定会受到威胁,而且它们自身的发展也将面临困境。由此推知,反经济全球化
- A. 扼制了发达国家的霸权主义行径 B. 有利于世界经济朝互利共赢方向发展
C. 有助于国际政治形势的稳定发展 D. 解决了发达国家与发展中国家的矛盾

高三文科综合 第10页(共16页)

5

官方微信公众账号: zizzsw

官方网站: www.zizs.com

咨询热线: 010-5601 9830

微信客服: zizzs2018

第II卷 非选择题

二、非选择题（本题共9小题，共160分。）

（说明：地理部分2题，共56分；思想政治部分4题，共52分；历史部分3题，共52分）

36.（30分）阅读图文材料，完成下列问题。

帕米尔高原，地处中亚东南部、中国的最西端，山体高大，平均海拔4500米以上，帕米尔高原被南北走向的科学院山分为东西两部分。东西部差异显著，西帕米尔绝对高度和相对高度都很大，河网密度大，切割深，地表遭受破坏严重。东帕米尔高原绝对高度较大，高原特征显著，谷地宽广。在海拔4000~5000米高处有冰碛平原和荒漠平原。

帕米尔高原是古代丝绸之路的咽喉要道，唐朝玄奘在《大唐西域记》里对帕米尔高原描述“……据两雪山间，故寒风凄劲，春夏飞雪，昼夜飘风……。元朝马可·波罗在《马可波罗行纪》中对帕米尔高原记载如下：此地海拔很高，而且气温很低，行人看不见任何飞鸟。寒冷异常，难以生起火来。行人感觉到的热力也不如其他地方感觉到的，烧烤或煮制食物也不容易熟。



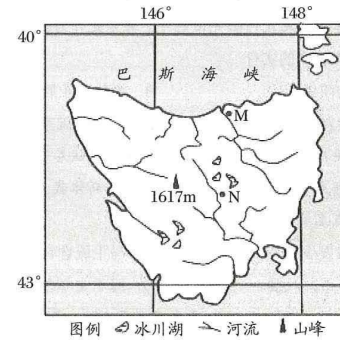
- 根据图文材料，概括帕米尔高原的地形空间分布特点。（6分）
- 描述帕米尔高原东西两侧降水量的差异，并分析原因。（6分）
- 试推测西帕米尔高原上两山之间，夏季飞雪的形成过程。（6分）
- 帕米尔高原夜间寒冷，但过往行人却不轻易生火取暖，请说明原因。（6分）
- 东帕米尔海拔4000-5000米处多冰碛平原，描述该地多冰碛平原发育的过程。（6分）

37.（26分）阅读图文材料，完成下列问题。

材料一：塔斯马尼亚岛位于澳大利亚的东南面，被称为“世界的尽头”，自然资源丰富多样。该岛地势中高周低，河谷众多。塔斯马尼亚岛位于温带，北部较潮湿，植被茂密。该岛南部相对干旱，适宜需水量较少农业活动进行。

材料二：二十世纪中期岛上中部和西部地区已有多个小型水电开发，后拟建大型水利工程，曾受到生态保护者的强烈抗议，1983年在高尔唐河上建设大坝引起一场政治危机，震撼了整个澳大利亚。

材料三：接近原生态的自然环境和优美的自然风光，吸引了越来越多来自国内外的游客前来观光。图示意塔斯马尼亚岛位置。



- 比较M、N两地土壤肥力的差异并分析形成原因。（6分）
- 结合材料一相关信息，你认为塔斯马尼亚南部应该大力发展畜牧业还是小麦种植业，请任选其一并阐明理由。（8分）
- 推测该岛当时拟建大型水利工程遭到居民强烈反对的原因。（6分）
- 请您为塔斯马尼亚岛旅游业的可持续发展提供建议。（6分）

考号

姓名

班级

学校

县(市、区)

38. 阅读材料,完成下列要求。(22分)

习近平总书记指出:“我们党历史这么长、规模这么大、执政这么久,如何跳出治乱兴衰的历史周期率?毛泽东同志在延安的窑洞里给出了第一个答案,这就是‘只有让人民来监督政府,政府才不敢松懈’。经过百年奋斗特别是党的十八大以来新的实践,我们党又给出了第二个答案,这就是自我革命。”两个答案,从探寻党和人民的关系,到将目光放到党的自身、反求诸己,是一脉相承的,是走好“赶考”之路的清醒坚定,是走得再远都不会忘记的初心使命和历史自信。

一百年来,党外靠发展人民民主,接受人民监督,内靠全面从严治党、推进自我革命,勇于坚持真理、修正错误,勇于刀刃向内、刮骨疗毒,保证了党长盛不衰、不断发展壮大。党的十八大以来,我们继承和发展马克思主义建党学说,总结运用党的百年奋斗历史经验,对建设什么样的长期执政的马克思主义政党、怎样建设长期执政的马克思主义政党的规律性认识达到了新高度,全面从严治党探索出依靠党的自我革命跳出历史周期率的成功路径。

(1) 运用政治与法治知识,说明上述材料中中国共产党的做法对党跳出历史周期率的意义。(12分)

(2) 人民民主和党的自我革命是跳出历史周期率的成功路径。结合材料并运用“社会历史发展的规律”知识对此加以说明。(10分)

39. 阅读材料,完成下列要求。(10分)

近年来,艺术史研究呈现“向内”和“向外”之争。本土艺术史的研究者认为,艺术研究要“向内”,即关注艺术作品可见的本体,致力于分析视觉文本、笔墨语言、风格形式等,认为多元的“向外”研究视角忽略了艺术本体,弱化了艺术审美,“跨界”和“交叉”存在学科边界不清的风险。海外归国艺术史研究者认为,艺术研究要“向外”,把艺术史和语言学、历史学、人类学、考古学等结合起来,丰富研究的内容和角度等,认为“向内”研究文化视角单一,不利于实现艺术史与更多学科、多元文化的共创共生。

人们对艺术史研究的认识在争论中向前发展。结合材料并运用认识论知识加以说明。(10分)

高三文科综合 第13页(共16页)

40. 阅读材料,完成下列要求。(10分)

2022年10月,党的二十大报告强调,中国式现代化是走和平发展道路的现代化。我们坚定站在历史正确的一边、站在人类文明进步的一边,高举和平、发展、合作、共赢旗帜,在维护世界和平与发展中谋求自身发展,又以自身发展维护世界和平与发展。

2023年11月,国家主席习近平在美国访问时再次指出:“新中国成立70多年来,中国没有主动挑起过任何一场战争和冲突,没有侵占过别国一寸土地,是唯一将和平发展写入宪法、上升为国家意志的大国。中国是现行国际秩序的受益者和维护者。”

假如你将代表中国出席联合国安理会召开的和平发展论坛,请拟一份发言提纲,简要阐明中国的立场。(10分)

41. 阅读材料,完成下列要求。(10分)

小沈在某交易平台看到尹某发布出售的二手品牌手机,经线上沟通并预付定金600元后成功提交订单,随即尹某将该二手手机打包后交予快递公司,发往订单地址。运输途中,小沈与尹某联系表示反悔,但遭到尹某拒绝。不料,该商品在运输途中丢失,小沈再次联系尹某表示不想再购买该二手手机,并要求尹某返还定金,尹某再次拒绝。

结合材料并运用法律与生活知识,分析小沈和尹某的行为和要求是否合理并阐明理由。(10分)

42. (25分) 阅读材料,回答下列问题:

材料一 “民权”泛指人民的权力。近代中国最急迫的任务是“救亡御侮”,这一任务被“士人”们直接凝练在“民权”思想之中,郑观应在《盛世危言》中提出:“苟欲安内攘外,君国子民,持公法以保太平之局,其必自设立议院始矣。”资产阶级改良派“民权”思想中的“民”,主要包括封建官僚、封建绅士集团和由科举制度产生的封建功名之士。谭嗣同指出:“苟有绅权,即不必有议院之名,已有议院之实矣。”传统儒家文化讲究“中庸”,资产阶级改良派认为“民

高三文科综合 第14页(共16页)

权”不是和“君权”对立，而是共存的，这体现了“中庸”政治的要旨。西方近代的“民权”思想从学理上对封建君主专制进行了根本否定，启蒙思想家所提倡的“社会契约”、“天赋人权”成为其后反封建斗争的有力武器，起到了理性启蒙的作用，其“民权”的实质是资产阶级的权力。

——摘编自王先民《近代中国早期“民权”思想探迹》

材料二 “七七”事变爆发后，中国共产党深切认识到，只有建立起包括各阶级、阶层和党派、团体的民主联合政权，才能最终夺取抗战的胜利。与此同时，民族资产阶级纷纷加入抗战队伍，各民主党派、无党派人士、开明绅士也都积极响应中国共产党的号召，自觉投身抗日战争。1940年初，陕甘宁边区延安中县五乡在征粮过程中，乡政府通过民选方式组建征粮委员会，27名委员中共党员9名，占三分之一，其余均为党外人士，这是抗日民主政权的大胆尝试和成功实践。1940年底，国民党断绝给八路军军饷，并派重兵围困陕甘宁边区，使边区的经济社会状况几度陷入绝境。为战胜困难，必须要团结各阶级、阶层和党派团体的力量，才能确保根据地的生存和发展。“三三制”政权，有效化解了抗日根据地的内部风险和矛盾，为抗日战争的最终胜利，发挥了不可替代的作用。

——摘编自尹恒《简述抗战时期陕甘宁边区的“三三制”政权》

- (1) 根据材料一，概括近代中国资产阶级改良派与西方启蒙思想家“民权”思想的不同，并结合所学知识分析其原因。(12分)
- (2) 根据材料二并结合所学知识，分析“三三制”政权形成的原因及其意义。(13分)

43. (12分) 阅读材料，完成下列要求：

材料 有学者对中世纪以来的世界历史作了如下概括：

第一阶段(500年—1500年)：东强西弱，东富西穷，东稳西乱，东进西滞，东学西传。

第二阶段(1500—19世纪初)：西升东降，同时东强西弱，东富西滞。

第三阶段(19世纪初—1945年)：西强东弱，西富东穷，西扩东衰，西学东渐，以西塑东，东西格局发生逆转。

第四阶段(从20世纪中期至今)：西强东弱，东升西降，东西相持，多极平衡。

高三文科综合 第15页(共16页)

(注：“东”指以中国为代表的东方，“西”指以西欧为代表的西方)

——摘编自李兴《世界史“西方中心论”破解与“三大体系”构建初探》

根据材料，选取其中任意一个阶段，结合所学知识进行阐述。(要求：明确写出所选阶段，史实正确，阐述全面，论证合理)

44. (15分) 阅读材料，回答下列问题：

材料一 中国古代的对外交往主要沿传统的陆上和海上丝绸之路进行，分别从西域、东南亚地区向西延伸。随着中央王朝统治中心的东移，海上丝绸之路逐渐成为主要路线。随着地理视野的扩大，对外交往的距离由近及远，从西太平洋地区拓展到印度洋地区。交往的对象——“四夷”，由最初的王朝域内边疆部族，扩展到王朝周边的政权，再到更远的域外地区。在官方发展对外交往的同时，始终存在着民间对外交往，它们共同构成中国对外交往的内容。汉代张骞通西域，唐代玄奘西游天竺，鉴真东渡日本，明代郑和下西洋，都是中国主动发展对外交往的典型代表。

——摘编自刘祥学《远迹安妥共享太平——中国古代对外交往的宗旨》

材料二 清朝以武力迫使朝鲜称臣纳贡之后，琉球、安南、暹罗、缅甸等先后成为清朝的朝贡国。基于中国中心和中外一统的传统理念，清朝亦曾将包括荷兰在内的西洋诸国视为朝贡国。清朝将三跪九叩礼作为最重要的朝贡礼仪，要求所有朝贡使臣觐见时比照中国臣子行此礼，以彰显其共主地位。清代朝贡体制主要涉及朝贡国对清廷的称臣纳贡和清廷对朝贡国的册封赏赐。清廷将“厚往薄来”的传统理念用于对外交往的具体实践，主要手段就是开展朝贡贸易。其主体是各国使团在华朝贡期间所进行的贸易活动。

——摘编自李云泉《再论清代朝贡体制》

- (1) 根据材料一，概括中国古代对外交往的特点。(8分)
- (2) 根据材料二并结合所学知识，概括清代朝贡制度的基本内涵并加以评价。(7分)

高三文科综合 第16页(共16页)

关于我们

自主选拔在线是致力于提供新高考生涯规划、强基计划、综合评价、三位一体、学科竞赛等政策资讯的升学服务平台。总部坐落于北京，旗下拥有网站（[网址：
www.zizzs.com](http://www.zizzs.com)）和微信公众平台等媒体矩阵，用户群体涵盖全国 90% 以上的重点中学师生及家长，在全国新高考、自主选拔领域首屈一指。

如需第一时间获取相关资讯及备考指南，请关注**自主选拔在线**官方微信号：[zizzsw](https://www.zizzs.com)。



 微信搜一搜

 自主选拔在线