

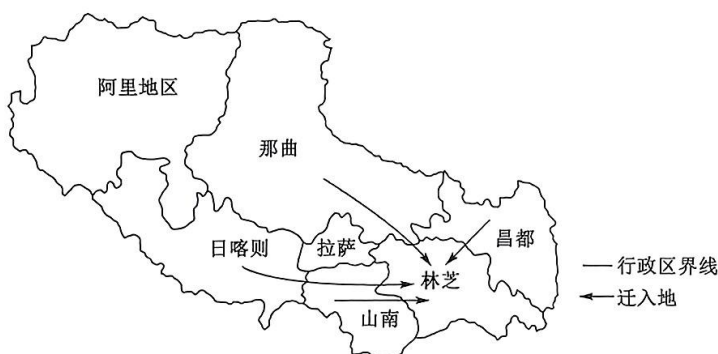
高三文科综合

考生注意：

1. 本试卷分选择题和非选择题两部分。满分 300 分，考试时间 150 分钟。
2. 答题前，考生务必用直径 0.5 毫米黑色墨水签字笔将密封线内项目填写清楚。
3. 考生作答时，请将答案答在答题卡上。选择题每小题选出答案后，用 2B 铅笔把答题卡上对应题目的答案标号涂黑；非选择题请用直径 0.5 毫米黑色墨水签字笔在答题卡上各题的答题区域内作答，**超出答题区域书写的答案无效，在试题卷、草稿纸上作答无效。**
4. 本卷命题范围：高考范围。

一、选择题：本大题共 35 小题，每小题 4 分，共 140 分。在每小题给出的四个选项中，只有一项是符合题目要求的。

20 世纪 90 年代以来，西藏自治区以分批次、整村搬迁方式进行区内人口迁移，其中南部的林芝市是主要迁入地之一。迁入的居民以少数民族为主，在迁入地组成新村落。下图示意西藏自治区区内人口迁移主要方向。据此完成 1~3 题。



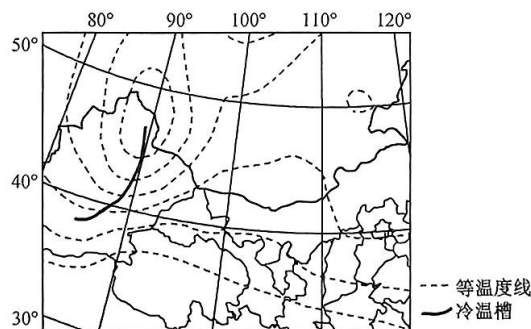
1. 西藏自治区以分批次、整村搬迁方式进行区内人口迁移，其主要目的是
A. 放缓人口增长速度
B. 均衡区域人口分布
C. 促进城乡产业融合
D. 推进生态环境建设
2. 林芝市成为人口主要迁入地，主要得益于
A. 环境承载力高
B. 距离迁出地近
C. 人口分布较少
D. 民族构成多样
3. 对于搬迁后的居民，当地政府最需要
A. 保持居民原生产方式
B. 提高当地城镇化水平
C. 解决居民的就业问题
D. 复原搬迁前生活环境

过江通道对打破自然阻隔、推动跨江融合、支撑长江经济带发展具有重要意义。下表示意截至2021年6月长江干线过江通道建设情况。《长江干线过江通道布局规划(2020—2035年)》明确规定,南京以下河段干线过江通道以过江隧道形式为主。据此完成4~6题。

地区	功能分类(座)					密度		
	公路	铁路	城市道路	城市轨道	多功能	岸线长度视角 (座/100 km)	GDP 视角 (座/10 ⁴ 亿元)	常住人口视角 (座/10 ⁷ 人)
上游	39	8	15	0	8	1.35	16.53	11.16
中游	14	0	6	3	7	4.08	12.35	9.92
下游	16	2	2	2	6	2.98	2.14	3.03

4. 目前长江干线过江通道的主体形式是
- A. 过江公路
B. 过江铁路
C. 城市道路
D. 城市轨道
5. 与上中游地区相比,下游地区长江干线过江通道
- A. 与区域人口匹配度好
B. 跨江段平均长度短
C. 数量多且岸线密度大
D. 对经济支撑力度小
6. 南京以下河段干线通道未来规划以过江隧道形式为主,主要有利于
- A. 减少建设成本
B. 减少对长江航运干扰
C. 减少洪涝灾害
D. 缩短跨江距离和时间

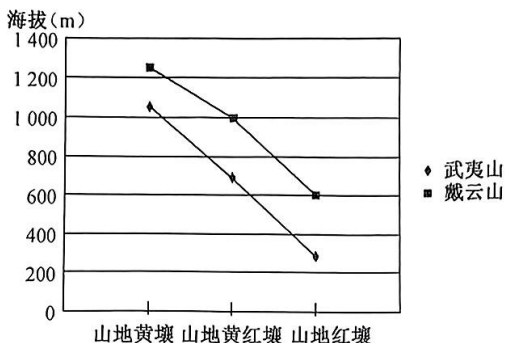
下图示意某年2月份甘肃河西走廊附近一次天气过程500 hPa等压线下温度变化形势场,在该天气的影响下,当地户外生产生活受到严重的影响,图示时刻亚洲高压势力强盛,盛行干冷的西北风,图中有冷温槽(从低温度线延伸出来的区域)形成,冷温槽附近天气变化较明显。据此完成7~8题。



7. 图示冷温槽附近
- A. 温度较两侧低
B. 风力相对较小
C. 大气稳定
D. 水汽含量丰富
8. 在该天气过程影响下,河西走廊地区可能
- A. 出现持续性降雨
B. 地面辐射增强
C. 大气能见度降低
D. 气温先升后降

戴云山(海拔 1 685 m)和武夷山(海拔 2 158 m)同位于福建省,是我国大陆东南沿海地区主要山地。

下图示意戴云山与武夷山三类土壤分布海拔垂直下限。据此完成 9~11 题。



9. 图示两大山地
- A. 戴云山的纬度更低
B. 降水差异较大
C. 武夷山热量更丰富
D. 山麓植被不同
10. 相较于山地红壤,山地黄壤
- A. 土壤温度高
B. 水分相对不足
C. 土壤黏性强
D. 有机质含量高
11. 随着全球变暖,戴云山和武夷山
- A. 山地自然带向低海拔处延伸
B. 山地红壤分布海拔上限升高
C. 高海拔的植被分布范围增大
D. 土壤有机质的含量总体提高
12. 2023 年是我国自贸试验区建设 10 周年。10 年来,自贸试验区从上海扬帆起航,不断扩围发展,21 个自贸试验区基本形成覆盖东西南北中的试点格局。目前,自贸试验区以不到千分之四的国土面积,实现了占全国 18.4% 的外商投资。自贸试验区是
- ①中国进入新时代的标志 ②高水平开放的重要窗口 ③高速发展的示范平台 ④扩大改革开放的新高地
- A. ①②
B. ①③
C. ②④
D. ③④
13. 按照党中央要求,从 2023 年 9 月开始至 2024 年 1 月底,第二批学习贯彻习近平新时代中国特色社会主义思想主题教育在省以下各级机关及其直属单位和其他基层党组织中开展。开展这一主题教育活动,是基于习近平新时代中国特色社会主义思想
- ①立足于中国改革开放的伟大实践 ②为现代化建设提供了现成的答案 ③是推动中华民族复兴的行动指南 ④顺应时代之变、回答了时代之问
- A. ①②
B. ①④
C. ②③
D. ③④
14. 习近平总书记指出,“坚持多劳多得,鼓励勤劳致富,完善促进机会公平、维护社会公平正义的制度机制,让每个人都获得发展自我和奉献社会的机会,共同享有人生出彩的机会,共同享有梦想成真的机会”。下列属于促进社会公平的措施有

- ①构建股权激励机制,统筹企业与员工的利益关系 ②完善按要素参与分配机制,增加居民财产性收入 ③做好多层次医疗保障的衔接,完善医疗救助制度 ④健全就业公共服务体系,加强困难群体就业帮扶
- A. ①② B. ①④ C. ②③ D. ③④
15. 2023年10月24日,十四届全国人大常委会第六次会议表决通过了关于批准国务院增发国债和2023年中央预算调整方案的决议,明确中央财政将增发2023年国债1万亿元,集中力量支持灾后恢复重建和弥补防灾减灾救灾短板。该政策带来的影响是
- ①增加市场货币供应,降低企业融资成本 ②加强基础设施建设,补齐减灾救灾短板 ③带动国内需求,巩固经济回升向好态势 ④增加国家财政收入,实现财政收支平衡
- A. ①② B. ①④ C. ②③ D. ③④
16. 2023年10月27日,中共中央政治局就铸牢中华民族共同体意识进行第九次集体学习。习近平总书记在主持学习时强调,铸牢中华民族共同体意识,就是要引导各族人民牢固树立休戚与共、荣辱与共、生死与共、命运与共的共同体理念。落实这一要求,需要
- ①增强中华民族的凝聚力向心力和整合力 ②深化爱国主义教育,促进民族交往交融 ③推动形成平等团结互助和谐的民族关系 ④统一各民族的文化,系牢民族团结纽带
- A. ①② B. ①③ C. ②④ D. ③④
17. 2023年10月20日,国务院召开常务会议,审议通过《国务院关于取消和调整一批罚款事项的决定》。根据会议审议,本次拟一揽子取消和调整行政法规、部门规章中的33个罚款事项。此举的意义在于
- ①打造法治化的营商环境,促进社会发展 ②从源头上杜绝以罚代管的逐利执法行为 ③建设智能高效、公开透明的阳光型政府 ④推进行政机关文明执法,促进公平公正
- A. ①③ B. ①④ C. ②③ D. ②④
18. 2023年10月30日,习近平在同全国妇联新一届领导班子成员集体谈话时强调,家庭和睦、家教良好、家风端正,子女才能健康成长,社会才能健康发展。做好妇女工作,不仅关系妇女自身发展,而且关系家庭和睦、社会和谐,关系国家发展、民族进步。这启示我们
- ①事物间的联系是普遍的,不存在孤立的事物 ②任何两个事物之间都存在这样或那样的联系 ③把握联系多样性,推动事物向有利方向发展 ④优化组合事物的各个部分,以增加整体功能
- A. ①② B. ①③ C. ②④ D. ③④
19. 自新时代以来,中国戏剧创作者把越来越多的优秀作品带到了国际舞台。这些在海外广受好评的作品用创新表达的方式注入了本民族的精神力量与独特的美学韵味,在海外的接受度也在一路走高,获得了观众的共鸣与共情。可见
- ①中国戏剧文化既有民族性又有世界性 ②中国戏剧文化的国际影响力与日俱增 ③中外文化在相互交流过程中走向趋同 ④中华文化创新要吸收外国的优秀文化
- A. ①② B. ①④ C. ②③ D. ③④

20. 2023年10月28日,巴勒斯坦问题联合国大会紧急特别会议通过决议,呼吁在加沙立即进行人道主义休战。中国在表决中投赞成票并参与共提。这表明
- ①和平因素的增长有利于抑制战事的蔓延 ②维护世界和平是国家对外活动的出发点 ③联合国成为推动世界共同发展的促进者 ④中国是维护世界和平与安全的坚定力量
- A. ①③ B. ①④ C. ②③ D. ②④
21. 2023年8月,对于日本排放核污水,各方态度不一:美国表示满意、英国相信安全、法国只是关注、德国希望安全、加拿大表示理解、澳大利亚表示理解和支持、韩国声称公众无需担心……朝鲜表示谴责并称这是“不可饶恕的反人类罪行”、俄罗斯表示担忧、中国坚决反对和强烈谴责!据此,可以推测
- ①各国的国家实力悬殊较大 ②国家发展利益存在着分歧 ③国际关系的形式复杂多样 ④各国文化背景的差异明显
- A. ①② B. ①④ C. ②③ D. ③④
22. 阮某遭遇车祸大出血,需立即输血,可医院中没有合适的血浆,病人赵某的血型正好符合。在征得双方同意后,从赵某身上抽血输给阮某。一个月后,痊愈的阮某发现自己得了肝炎,怀疑是上次输血引起的。于是到门诊部询问赵某地址,但社区门诊却拒绝提供,说输血时是经过双方同意的。阮某随即把社区门诊告上法庭。关于本案
- ①决定诉讼的胜负是生活事实而不是法律事实 ②阮某无需对因输血而患上肝炎承担举证责任 ③门诊若征得双方同意则无需对治疗后果负责 ④门诊若能证明阮某患病与输血无关则不担责
- A. ①③ B. ①④ C. ②③ D. ②④
23. 学生周某找李老师请教问题,李老师的住所有四个单元。周某不知道李老师住在哪个单元的三层,就敲开了一户人家的门询问。这家人分别回答如下:女孩说住在一单元,男孩说住在二单元,妈妈说住在三单元,爸爸说住在四单元,爷爷说他不可能住在四单元。事实上,这家人的回答中只有一句话是真的。据此可以推断李老师住在
- A. 第一单元 B. 第二单元 C. 第三单元 D. 第四单元
24. 孔子认为,先王按土地的肥瘠分配土地,按照劳力的强弱征收田赋……按照利润和财产征收商税;“任力以夫,而议其老幼。于是乎有鰥、寡、孤、疾,有军旅之出则征之,无则已(有战事才征召他们,无战事时则免除)……先王以为是。”据此可知,孔子
- A. 代表了下层百姓的利益 B. 倡导敬天保民的治国理念
C. 意在恢复西周礼乐制度 D. 主张赋役征收应注重实际
25. 有学者指出,在“僮仆成军,闭门为市”的魏晋庄园中,却广泛存在着只经营农林牧渔等副业的“以要利人”现象,一时间“公侯之尊,莫不殖之园圃之田,而收市井之利……莫以为耻”。据此可知,这一时期
- A. 封建庄园的市场因素增强 B. 农业种植结构发生变化
C. 土地兼并与商业垄断并存 D. 小农经济得到持续发展

26. 下面是元代宰相任期统计表。所示现象

官衔	总在位时间	平均每次任职时间	平均每人任职时间
宰相整体	12 413 月(1034 年 5 月)	20.6 月(近 1 年 9 月)	27.8 月(近 2 年 4 月)
右丞相	1 290 月(107 年 6 月)	29.3 月(2 年 5 月)	34.9 月(近 2 年 11 月)
左丞相	866 月(72 年 2 月)	17.3 月(1 年 5 月)	21.7 月(近 1 年 10 月)
平章政事	4 402 月(366 年 10 月)	18.5 月(近 1 年 7 月)	22.3 月(1 年 10 月)
参知政事	2 819 月(234 年 11 月)	13.2 月(1 年 1 月)	14.1 月(1 年 2 月)

- A. 说明皇权与相权矛盾尖锐
B. 体现出官僚政治走向成熟
C. 折射出封建君主专制加强
D. 有效提升了国家治理效能
27. 卫所手工业是明朝地方手工业中一个特殊组成部分,明前期“各处承造军器合用物料,系军卫者,军卫自办”;明中期以后,部分内陆卫所则出现了“每年每人征工食银五两”的筹备方式。这一变化
- A. 提高了官营手工业的生产技术
B. 顺应了赋役改革的需要
C. 加强了政府对工匠的人身控制
D. 确保了军备产品的质量
28. 魏源把“富民”划分为“有田之富民”和“无田之富民”,他认为当务之急不仅是要解决前者“岁输租税,供徭役,事事受制于官”的弊病,使之“敢顾家业”,更要兼顾后者,提出“末富”“缓本急标”的颠覆性理论。魏源的这一思想
- A. 深刻反思了传统农本思想
B. 迎合了实业救国的思潮
C. 阐明师夷长技的具体方式
D. 认识到商业的经世价值
29. 下表为 1873~1893 年中国进口货物分类统计情况(单位:%)。据此可知,这一时期

年份	生产资料				消费资料		
	机器及大工具	原料	建筑用品;设备(包括车船);小工具;器材;半成品;材料;燃料等	合计	消费品原料	直接消费资料	合计
1873 年	—	—	8.1	8.1	8.5	83.4	91.9
1893 年	0.6	—	7.8	8.4	13.0	78.6	91.6

- A. 中国政府主动融入国际市场
B. 中国经济近代化转型艰难
C. 列强主要侵华方式发生变化
D. 企业产销结合模式的普及
30. 民国初年,政党活动多围绕政党领袖进行,各党派争相邀请名流出任党首,跨党现象十分普遍,如梁启超有 3 个党籍、汤化龙有 6 个党籍。各党派凭借招揽的精英彼此攻讦,相互掣肘,而“平民翻为旁观看热闹之闲”。这可用于说明当时
- A. 政党政治难以有效运作
B. 资产阶级政党已沦为专制统治的工具
C. 制度缺陷导致党争不断
D. 精英政治与大众民主间矛盾难以调和

31. 下面是米谷于 1950 年创作的漫画《部分工商业的过去、现在和未来》。该漫画意在揭示

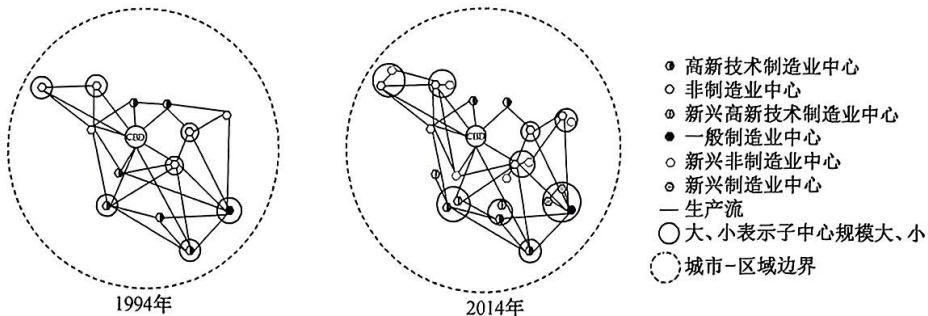


- A. 国家工业化建设成效显著
B. 社会主义制度的优越性
C. 新民主主义经济充满活力
D. 经济体制改革不断推进
32. 比利时历史学家冈绍夫指出,西欧早期封臣制度源自“委身制”,委身是从社会中自由人与自由人之间的一种保护关系演变而来,其关键词是“保护”,因此中世纪的西欧存在着以保护为原则的个体联合的政体形式。这一形式
- A. 反映出社会等级制度森严
B. 强化了庄园中的人身依附关系
C. 表明专制集权制得以确立
D. 成为巩固封建统治的重要因素
33. 苏格兰学者休谟(1711~1776年)曾对当时流行的“与别国贸易其实是别国要赚我们的钱”的“贸易猜忌说”进行谴责,他指出并不存在总想着“从经济上搞垮邻国”的现象,“各国优势不同,彼此互通有无,不必担心恶性竞争的发生”。休谟意在说明
- A. 经济民族主义产生具有必然性
B. 自由贸易符合国家利益
C. 政府应实行重商主义经济政策
D. 市场具有宏观调控作用
34. 有学者指出,19世纪后期,美国全国铁路网的形成使各个工业部门内有可能将原料、生产加工、销售等环节有机地联系在一起,铁路公司为拉拢大主顾,不惜采取回扣、退款、优惠运费等手段。该学者意在强调美国铁路的发展
- A. 极大地拓展了商品销售市场
B. 推动生产和资本高度集中
C. 促使美国成为世界投资中心
D. 增强了垄断资本的支配力
35. 20世纪70年代后,英国首相对高级文官“不能掌握本届政府施政意图”的弊病颇有怨言。为此,撒切尔夫人要求高级文官接受议会特别委员会的日常问责,布莱尔成立的首相办公室特别顾问更是可以直接向文官下达指令和指导意。这些举措
- A. 推动了文官的政治化趋向
B. 旨在迎合国家干预经济的需要
C. 有效保证了政策的连续性
D. 增进了立法权与行政权的配合

二、非选择题:本大题包括 9 小题,共 160 分。

36. 阅读图文材料,完成下列要求。(28 分)

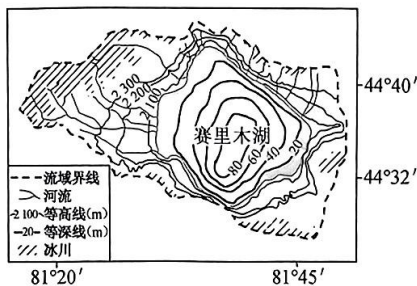
洛杉矶位于美国西海岸的“阳光地带”,是美国第二大城市和重要的科技研究中心,拥有大量独住房房和庞大的高速公路系统。与众多大都市区不同,洛杉矶未经历工业在中心城区大量集聚的阶段,边缘城市是推动经济发展、产业布局的主体,形成了“外强中弱”的发展格局。随着技术进步、生产关系变化等,洛杉矶都市区进行产业转型升级并调整产业分工,产业空间组织也随之发生演变。下图示意 1994 年、2014 年洛杉矶产业演变形态。



- (1)从产业发展角度,说明洛杉矶都市区形成“外强中弱”发展格局的原因。(8 分)
- (2)指出洛杉矶产业空间演变特征,并分析其形成条件。(8 分)
- (3)简述洛杉矶发展高新技术制造业的优势。(6 分)
- (4)分析洛杉矶产业演变对区域发展的影响。(6 分)

37. 阅读图文材料,完成下列要求。(28 分)

赛里木湖位于新疆天山西北部山间盆地内,是新疆面积最大的高山冷水湖。末次冰期以来,赛里木湖湖岸带由于湖水的蒸发作用,导致碳酸盐类矿物结晶,并与湖岸沙砾堆积胶结,在湖岸高地水陆相互交替作用下形成了湖滩岩地貌。图 1 示意赛里木湖地理位置,图 2 示意赛里木湖南岸湖积台地剖面。



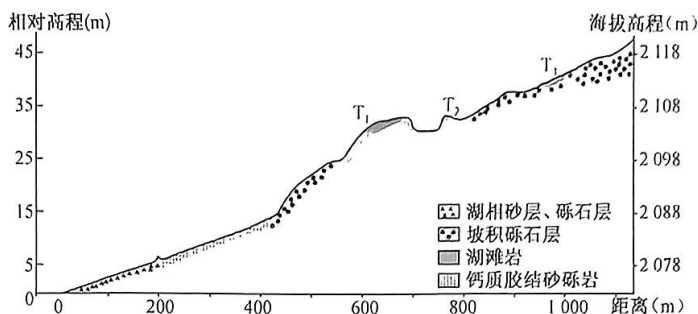


图 2

- (1) 简述赛里木湖的形成过程。(6分)
- (2) 说明赛里木湖水温低的原因。(6分)
- (3) 指出 T_1 、 T_2 、 T_3 三处湖滩岩形成早晚, 并说明理由。(6分)
- (4) 推测赛里木湖盐度空间分布差异, 并说明依据。(6分)
- (5) 分析赛里木湖南部较北部更易形成湖滩岩的原因。(4分)

38. 阅读材料, 完成下列要求。(12分)

国家安全是安邦定国的重要基石, 国家安全法治化是实现国家安全目标的重要保障, 提高国家安全法治化水平是国家安全发展的必由之路。

“十三五”期间, 按照总体国家安全观的要求, 我国国家安全体系主体框架不断完善、工作协调机制日益健全, 国家安全法治化水平大幅提升。但是, 国家安全法治建设仍然存在一些短板: 一是目前宪法和刑法比较关注传统安全领域, 但对非传统安全或者新兴安全领域的关注比较缺乏, 特别是新兴领域; 二是部分国家安全法规国法在实施过程中也出现了“变通、空转”现象, 包括法律、政策不实施、虚执行、假执行等具体表现。国家安全法治实施缺少必要的外部约束和驱动力, 在一些国家安全领域, 执法检查阙如; 三是国家安全对于基层群众来说认识还很模糊, 了解不全面。党和国家安全的方针、政策、法律法规和加强国家安全的重大举措宣传不够深入, 群众安全知识水平不高。

结合材料, 运用政治与法治知识, 说明我国应如何补齐国家安全法治建设的短板。

39. 阅读材料, 完成下列要求。(10分)

2023年10月15日至11月4日, 第134届广交会在广州举办。本届广交会分为三期, 分别聚焦“先进制造”“大家居”“美好生活”等主题, 不同的专业板块亮点纷呈, 为客商一站式采购提供更多便利。在本届广交会的第二期举办了广交会设计创新奖颁奖仪式, 鼓励企业研发创新。脚踩充电的电子体重秤、VR平衡车、太阳能背包……本届广交会上智能化产品足足有约11万件, 吸引了广大国内

外采购商。自本届广交会开幕以来,截至2023年10月25日,来自“一带一路”共建国家的采购商共9.6万人,占比64.1%。第一期线下出口成交123.3亿美元,较上届增长9.2%,其中“一带一路”共建国家成交占比超过五成。

结合材料,运用当代国际政治与经济知识,说明中国举行广交会对全球经济的积极影响。

40. 阅读材料,完成下列要求。(20分)

2023年以来,中国电影市场呈现良好势头。截至11月14日,2023年电影总票房为500.01亿元,总观影人次为11.79亿。

材料一 暑期档电影呈现出“百花齐放、群雄逐鹿”的多强格局。《长安三万里》将唐诗、诗人命运和历史浮沉紧密结合,唤醒国人血脉深处文化DNA;《八角笼中》以粗砺质感包裹贫困、留守儿童等议题,讲述贫困山区草根少年“逆天改命”的努力;《封神第一部:朝歌风云》则以当代视角解读,深挖封神故事内蕴的“何以华夏”价值观,家庭中的善意、对亲情伦理的维护、正义取代邪恶等,成为周朝翦商、华夏文明新生的生动注脚;《孤注一掷》聚焦网络诈骗、《消失的她》改编真实案件,让观众感受现实的厚重、触摸现实的温度……这几部影片位列暑期档期票房前五,贡献超六成票房。

材料二 近年来,观看网络首发电影的群体增多,更多影院外的观影空间涌现。流媒体平台通过大数据与计算模型对观众喜好进行精准画像,实现量身定制,让人们随时随地畅享观影体验。新形势下,中国电影人应以质量为先,努力创作出一批从优秀传统历史文化、人民群众现实生活汲取灵感、质量过硬的上乘之作;同时,适应观影新需求,与流媒体平台融合发展,中国电影票房必然不断做大做强。

(1)有同学根据材料一作出判断:电影高票房的成功因素就在于,或尊重中华传统文化与历史,或立足时代与生活讴歌人民群众伟大实践。请运用逻辑与思维知识,对以上判断的逻辑性质加以分析。(10分)

(2)结合材料二,运用“寻觅社会的真谛”的知识,说明如何保持电影市场良好势头。(10分)

41. 阅读材料,完成下列要求。(10分)

2012年,尤某(男)与曾某(女)育有一子小尤。2017年,尤某与曾某协议离婚,约定小尤的抚养权归尤某,曾某每月支付抚养费并可每周探望小尤一次。2022年,小尤书写了一份《声明》,称难以接受妈妈探望时对其发问、使其陷入父母纷争的尴尬境地的行为,拒绝妈妈探望。尤某遂向法院提起诉讼,主张曾某探望不利于孩子身心健康,请求法院判令中止曾某对孩子的探望权。庭审中,曾某辩称,

自己从未侵害孩子的合法权益,孩子出现烦躁、敏感、逃避的情绪是父亲尤某对孩子灌输的思想与自我认知错位所致,而不是对母亲探望的抗拒心理。法院经审理,本着保护未成年人利益最大化的原则,驳回了尤某关于中止曾某探望权的申请。

结合材料,运用法律与生活知识,说明法院不予支持尤某关于中止曾某探望权的主张的理由,并给曾某行使其探望权提出合理建议。

42. 阅读材料,完成下列要求。(25分)

材料一

政党起初并非与议会相伴而生,而是伴随着中产阶级崛起、更好地与王权斗争演化而来的,此后政党团体进入议会。来自同一或不同政党且不会在选举中发生竞争冲突的议员所形成组织团体,使同一议会党团的党员在议会中的步调保持一致。为拉拢选票,党团改革设立了内部管理机构,如德国的监察委员会、仲裁委员会等。立法、监督、人事裁决、财政审议等,都属于政党团体的工作范畴,他们通过各种说服方法,甚至是金钱交换、政党忠诚参与到政治生活中。二战后,德国《基本法》《联邦议院议员法》等对议会政党团体的权利、薪酬规范等作出明确的规定,并制定了《德国联邦议院成员行为准则》以确保公众可以随时获取关于每个成员的活动信息。

材料二

人大党组是中国共产党在人大的领导机构——常委会中所建立的核心小组。1925年党的四大在《对于组织问题之议决案》中规定应组织党团;新中国建立后,1954年的第一届全国人大第一次全体会议决定全国人大常委会设立机关党组;1978年后,人大党组制度重新确立。常委会党组负责审议立法规划后报请中央批准、按照规则完成向中央的请示报告任务。人大党组有义务监督好本单位的政治、纪律,并且在本单位起带头引领作用,实现党对人大工作领导,更好地服务于民。

——以上材料均摘编自马颖《中国人大党组制度与英德议会党团制度比较研究》

- (1) 根据材料一并结合所学知识,概括西方议会党团制度的主要特征,并简析该制度形成和发展的原因。(12分)
- (2) 根据材料二并结合所学知识,指出相比于西方议会党团制度,中国人大党组制度的不同之处。综合上述材料,谈谈对当代中国人大党组制度建设的启示。(13分)

43. 阅读材料,完成下列要求。(12分)

材料

我们尝试着以不同的文化发展,观察三个阶段的特性:一是突破,二是转型,三是僵化。任何文化都会转变,且难有任何一个单一的因素能造成大幅度转变,一定要在许多因素辐辏在一起时发生。有些文化也曾经历较为剧烈的转化,若是没有外来文化或新文化加入的刺激时,就会“结晶”或“僵化”。

——摘编自许倬云《中国古代文化的特质》

从材料中任选一个角度,围绕“中国古代文化”这一主题自拟论题,并结合所学知识进行阐述。(12分)(要求:论题明确;表述成文;史论结合;逻辑清晰。)

44. 阅读材料,完成下列要求。(15分)

材料

19世纪后期,清政府日益认识到“船炮机器之用,非铁不济,非煤不济”。于是张之洞筹建煤钢厂,他联络驻英公使采购机炉等装备,并将厂址设置在汉阳,然而汉阳煤炭资源并不丰富,且“中国官吏、工匠所未见”。随后,清政府拨款和盐课税厘金二百多万两白银,1894年,汉阳铁厂正式投入生产。

然而创办初期,因战争赔款等原因,张之洞不得不保奏盛宣怀督办铁厂。盛宣怀从轮船招商局、通商银行等招得股本200万两白银,并与日本制铁所签订“煤焦铁矿互售合同”,用大冶矿石换日本焦炭。

1908年,汉阳铁厂、大冶铁矿和萍乡煤矿正式组成汉冶萍煤铁厂矿有限公司(简称汉冶萍公司),正式注册改为商办,公司钢铁产品质量提升,远销欧美,一些官僚、地主、商人对厂矿投资较前踊跃。一战后,钢铁价格猛跌,汉冶萍公司也在巨额借款和军阀屠戮矿工中于1925年宣告破产。

——摘编自丘亮辉《试论汉冶萍公司的经验和教训》

(1)根据材料并结合所学知识,概括不同时期推动汉冶萍公司发展的因素。(10分)

(2)根据材料并结合所学知识,说明汉冶萍公司最终走向衰败的教训。(5分)

关于我们

自主选拔在线是致力于提供新高考生涯规划、强基计划、综合评价、三位一体、学科竞赛等政策资讯的升学服务平台。总部坐落于北京，旗下拥有网站（[网址：www.zizzs.com](http://www.zizzs.com)）和微信公众平台等媒体矩阵，用户群体涵盖全国 90% 以上的重点中学师生及家长，在全国新高考、自主选拔领域首屈一指。

如需第一时间获取相关资讯及备考指南，请关注**自主选拔在线**官方微信号：**zizzsw**。

