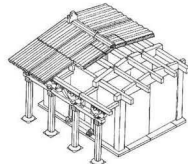


绝密★启用前

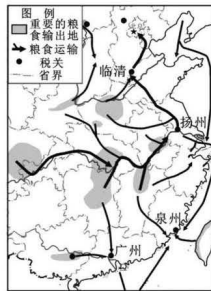
江苏省 2023—2024 学年高三上学期期末迎考卷 历 史

注意事项:

1. 本试卷共 100 分,考试用时 75 分钟。
 2. 答题前,考生务必将班级、姓名、学号写在密封线内。
- 一、选择题:本大题共 16 题,每题 3 分,共 48 分。在每小题列出的四个选项中,只有一项最符合题目要求。
1. 良渚古国文化辐射及扩张能力可以说是出乎想象的。从陕西延安芦山峁、山西襄汾陶寺到长江中下游的湖北石家河、安徽江淮地区、江西筑卫城以至广东石峡、海丰等处都发现了良渚文化因素。这表明,良渚文明 ()
A. 促进早期社会发展 B. 推动各地区独立发展
C. 统治范围比较广大 D. 长期领先于黄河流域
 2. 《九章算术》以实际问题为导向,其主要例题以解决土地的丈量与赋税计算、粮食加工与兑换比率、徭役均输的征发摊派、商品流通与关税等问题为主。由此可知,《九章算术》 ()
A. 佐证两汉民众赋役负担较沉重 B. 在中国数学史上占有重要的地位
C. 与我国古代国家治理密切相关 D. 说明古代赋税制度臻于科学完善



3. 大同云冈石窟昙曜五窟椭圆形平面、穹隆顶的窟形应是云冈创造的新模式,表达了将象征皇帝的佛像供奉进鲜卑族游牧生活的传统居室——穹庐中。随后,云冈石窟的窟形经历了从“穹庐”到“殿堂”(如图示意)的转变。主导其变更的是 ()
A. 佛教中国化的完成 B. 民族交融的历史进程
C. 北方民居长期演变 D. 国家治理体系的成熟
4. 北宋苏辙认为:“富民之家,取有余以贷不足。虽有倍称之息,而子本债,官不为理。偿还之日,布缕菽粟、鸡豚狗彘,百物皆售,州县晏然处曲直之断,而民自相养,盖亦足矣。”苏辙的主张 ()
A. 促成基层市场繁荣 B. 与王安石变法方针相左
C. 导致土地兼并严重 D. 强调国家干预民间借贷



5. 右图所示为清代前期粮食运输状况。这可以用来说明 ()
- A. 长途贸易繁荣
B. 美洲作物开始传入
C. 国内关税减少
D. 农民依赖多种经营
6. 19 世纪 70 年代中后期,我国多地遭遇特大旱灾,轮船招商局垫付采买了大量赈粮并亏本承运。同时为保证西征军饷,清廷暂缓购置军舰,大幅减少天津机器局的经费。这主要表明 ()
- A. 边疆危机阻断洋务新政 B. 清廷救济依赖民间自筹
C. 洋务运动增强赈灾能力 D. 近代化的环境日趋恶化
7. 下表为中国近代部分铁路修筑信息一览表,表中轨距的差异体现出 ()

名称	修筑时间(年)	路段	全长(公里)	轨距(毫米)
中东铁路	1897—1903	满洲里—哈尔滨—绥芬河,南至大连	2 400	1 524
胶济铁路	1899—1904	青岛—济南	395	1 435
道清铁路	1902—1907	道口—焦作	154	1 435
滇越铁路	1903—1910	昆明—河口	468	1 000
安奉铁路	1904—1905	丹东—沈阳	302	762
津浦铁路	1908—1912	天津—南京	1 013	1 485

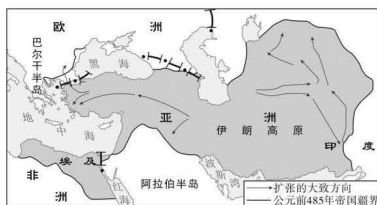
- A. 近代中国铁路技术的落后 B. 不同地区地质条件的特点
C. 列强在华争夺铁路修筑权 D. 列强工业革命进程的差异
8. 1906 年 4 月,农工商部为了树立农业模范,成立了中央直属的农事试验场,负责甄选优良的作物品种,改良传统落后的农业生产技术。截至 1911 年,全国已经开设 20 多处较大规模的农事试验场,更有诸多民间的小规模农事试验所层出不穷。这些举措 ()
- A. 促进设施农业的萌发 B. 利于向近代农业转型
C. 成为清末新政的重心 D. 缓解清朝的统治危机
9. 据国民政府统计,1935 年全国共发生工业灾害 2 655 次,伤亡 5 629 人,损失估计为 1 027.2 万元。而据当时工业安全协会推测,全国工厂在 1935 年可能发生的灾害在 18 032 次以上,伤亡人数至少为 22 568,损失估计至少有 2 172.6 万元。这表明 ()
- A. 近代工厂制度有待健全 B. 国民政府轻视工业
C. 侵华战争制约工业发展 D. 民国缺乏社会保障

10. 20 世纪 50 年代,西方国家对埃及实行经济制裁。中国在 1954—1955 年向埃及购买 3 000 多万美元的棉花和棉纱之后,于 1956 年再次购买 1 000 万英镑埃棉,其中现汇支付 590 万英镑。新中国这些举措意在 ()

- A. 加速工业化建设 B. 支持民族解放运动
C. 转变外交的重心 D. 声援不结盟运动

11. 1964 年,我国 50 多个少数民族中有 44 个民族尚未离开传统聚居区,到 2000 年,有 28 个少数民族遍布全国所有省级行政区,少数民族在全国分布范围显著扩大。这表明 ()

- A. 民族区域自治难以为继 B. 西部大开发取得显著成效
C. 改革开放促进人口流动 D. 民族迁徙促进了民族交融



12. 右图最适宜于探究 ()

- A. 两河流域早期文明
B. 地中海时代的来临
C. 古代帝国扩张潜能
D. 中古亚洲帝国扩张

13. 1609 年,格劳秀斯出版了《海上自由论》一书,首先提出海洋不应成为任何国家的财产的主张。他认为:“海洋是取之不尽用之不竭的,是不可占领的,应向所有国家和人民开放,供他们自由使用。”这些主张旨在 ()

- A. 确定国际法的主体 B. 争夺亚洲新航路的主导权
C. 打击西葡垄断地位 D. 服务于荷兰商业贸易扩张

14. 19 世纪 70 年代,在拉丁美洲出现了第一批工人组织,并开始传播马克思主义。1872 年,阿根廷成立了第一国际支部,并派代表出席了海牙代表大会。90 年代,相继成立阿根廷社会党、智利社会党以及乌拉圭和巴西的社会主义小组。该现象的根源在于,拉丁美洲各国 ()

- A. 民族资本主义的成长 B. 民族资产阶级的软弱
C. 无产阶级最具革命性 D. 民族民主意识的增强

15. 下表呈现的是 20 世纪 20 年代苏联关于社会主义建设的言论。这说明当时 ()

时间	言论	来源
1925 年 12 月	私人资本在其作用相对降低的情况下有了绝对增长……农村富农经济随着农村分化的加剧而日益增长;城市新资产阶级也在日益增长	联共(布)第十四次代表大会关于工业化的决议
1927 年 11 月	2 500 万小农户是俄国资本主义势力的根源。逐渐从这一大批人中间出现的富农阶层,正在重演资本主义原始积累的过程,在社会主义的基础下埋藏一个大地雷	《真理报》

- A. 战时共产主义政策引发讨论 B. 新经济政策的实施成效甚微

C. 优先发展重工业成为必然选择 D. 苏联模式即将取代新经济政策

16. 二战期间,英国政府鼓吹“人民战争”,以战争对英国文明和民众的威胁展开宣传。同时,英国知识界也借助“人民战争”话语表达对时局的关切,部分知识精英群体甚至将目光转向了工人阶级,认为工人阶级的使命是推动英国社会制度变革,如赛琳娜·托德指出二战期间是英国工人阶级成为“人民”的关键时期。这表明 ()

- A. 英国工人阶级登上政治舞台 B. 统一战线扩展到了国内
C. 政府和进步知识界立场一致 D. 正义战争推动社会进步

二、非选择题:本大题共 4 题,满分 52 分。

17. (16 分)阅读材料,完成下列要求。

材料一 中国的天子与“四夷”的君长之间的关系,在名义上是类似于分封制下天子与诸侯之间的君臣关系,是宗主与藩属之间的关系。明廷将国际贸易看作“怀柔远人”的手段,永乐时期,有人建议明成祖对进贡船只征税以增加收入,明成祖却说,“商税者,国家以抑逐末之民,岂以为利?今夷人慕义远来,乃欲侵其利,所得几何,而亏辱大体多矣。”并不支持商人从事国际贸易。华与夷的关系是互惠互利的关系,只是双方利益诉求有所不同。

材料二 西欧政治上的分散性使得国家之间存在着很强的竞争性。竞争的外在压力,促使各国君主都十分重视国家力量的加强。强调在竞争中谋求生存之道,因此其政策目标在于国家强大;此外,注重商业利益,强调从国际贸易中增强国家势力的重要性。西欧国家普遍采取了支持商人开拓市场的贸易政策。国家常常采取武力手段支持商人开拓贸易,这个贸易世界是依靠军事与暴力形成的,带有征服与被征服、剥削与被剥削、掠夺与被掠夺的不平等性。

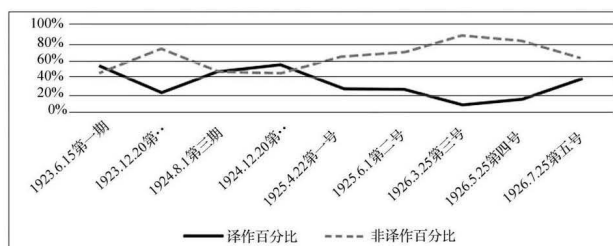
——摘编自骆昭东《朝贡贸易与仗剑经商:全球经济视角下的明清外贸政策》

(1) 据材料并结合所学知识,概括明代中国与同时代西欧各国在同时代海外贸易政策上的主要差异。(8 分)

(2) 据材料并结合所学知识,简析明代海外贸易政策的影响。(8 分)

18. (12 分)阅读材料,完成下列要求。

材料



《新青年》季刊、不定期刊译文与非译文比重图

不同于 1923 年以前的《新青年》将马克思主义作为西方思想文化的一种来传播,1923—1926 年的《新青年》成为专门宣传马克思主义的阵地,坚定的马克思主义者在这里与反马克思主义者和非马克思主义者进行辩论。在系统介绍马克思主义基本理论的同时,《新青年》的文章中不乏涉及中国具体革命事件,并试图用马克思主义的理论和外国社会革命运动的经验对中国革命运动进行深刻剖析和反思,这些成为马克思主义中国化的理论与实践相结合的起点。之后,中国共产党人在实践中找到了一条农村包围城市、武装夺取政权的工农结合的革命道路,使中国革命不断走向胜利,最终建立了新中国。

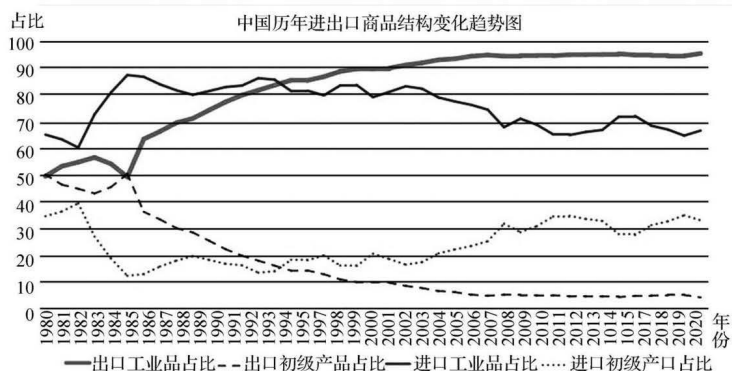
——摘编自王泽、高天宇《国民革命时期马克思主义中国化早期探索研究》

(1) 据材料并结合所学知识,概括 1923 年前后《新青年》传播马克思主义的变化,指出其变化原因。(6 分)

(2) 据材料并结合所学知识,说明这一时期马克思主义传播的主要影响。(6 分)

19. (12 分) 阅读材料,完成下列要求。

材料



上图是《1980—2020年中国进出口商品结构变化趋势图》。从材料中提取两则信息,结合所学知识拟定一个论题并加以论述。(要求:论题明确,持论有据,表述清晰)

20. (12分)阅读材料,完成下列要求。

材料 1947年7月26日,印度孟买几乎所有的报纸都报道了一则新闻,称甘地的私人医生罗伊(B. C. Roy)在访问伊利诺伊州的迪凯特镇时,当地一家餐厅拒绝向他提供服务。罗伊把这种歧视归咎于“美国的种姓制度”,并称一想到此事竟然发生在一个因伟人林肯而神圣的小镇就深感失望和烦恼。这类事件破坏了美国打造的“良好”国家形象。黑人等社会力量从中看到了美国在海外宣传中的困境,并利用种族关系的国际维度,促进国内黑人民权改革共识的形成,迫使美国政府进行民权立法。白人社会中的有识之士同样认识到,唯有进行黑人民权改革,才能改善美国作为“自由世界领袖”的形象。1957年美国国会通过了重建以来的第一部《民权法》,1960年又制定了新的《民权法》。美国在20世纪60年代中期消除了法律上的种族歧视和隔离制度,缓解了美国在种族关系上的形象危机。但是,种族歧视问题在很多方面依然存在,且根深蒂固,这远非美国的“宣传”所能解决。

——摘编自谢国荣《种族问题与冷战初期美国的对外宣传》

(1) 据材料并结合所学知识,概括说明推动美国黑人民权法案制定的原因。(6分)

(2) 据材料并结合所学知识,简要评价美国的种族歧视问题。(6分)

关于我们

自主选拔在线是致力于提供新高考生涯规划、强基计划、综合评价、三位一体、学科竞赛等政策资讯的升学服务平台。总部坐落于北京，旗下拥有网站（[网址：www.zizzs.com](http://www.zizzs.com)）和微信公众平台等媒体矩阵，用户群体涵盖全国 90% 以上的重点中学师生及家长，在全国新高考、自主选拔领域首屈一指。如需第一时间获取相关资讯及备考指南，请关注**自主选拔在线**官方微信号：**zizzsw**。



 微信搜一搜

 自主选拔在线