

2023~2024 学年高三核心模拟卷(中)

文科综合(一)

注意事项:

1. 本卷满分 300 分,考试时间 150 分钟。答题前,先将自己的姓名、准考证号填写在试题卷和答题卡上,并将准考证号条形码粘贴在答题卡上的指定位置。
2. 选择题的作答:每小题选出答案后,用 2B 铅笔把答题卡上对应题目的答案标号涂黑。写在试题卷、草稿纸和答题卡上的非答题区域均无效。
3. 非选择题的作答:用签字笔直接答在答题卡上对应的答题区域内。写在试题卷、草稿纸和答题卡上的非答题区域均无效。
4. 考试结束后,请将本试题卷和答题卡一并上交。

一、选择题:本大题共 35 小题,每小题 4 分,共 140 分。在每小题给出的四个选项中,只有一项是符合题目要求的。

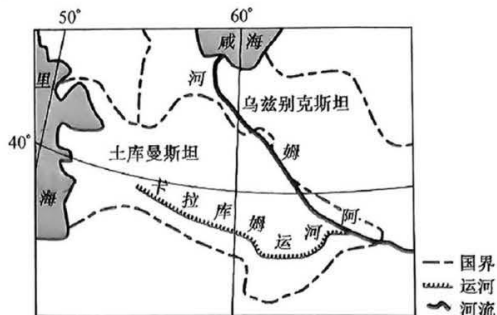
2023 年 3 月 31 日,“盘锦碱地柿子”亮相我国第二十二届绿色食品博览会,相关企业在展会官方直播间以“直播+电商”方式进行线上推介。“盘锦碱地柿子”生长在独特的高盐碱土壤和灌溉水的自然环境中,肉厚味甜、风味独特,营养价值高。近年来,“盘锦碱地柿子”产业不断发展壮大。下图示意盘锦市地理位置及周边地区。据此完成 1~3 题。



1. 企业在展会官方直播间以“直播+电商”方式进行线上推介,可以
A. 提高品质 B. 增加产品种类 C. 提高单产 D. 扩大市场份额
2. “盘锦碱地柿子”产业不断发展壮大,主要得益于
A. 产品品质优 B. 从业人员多 C. 生产成本低 D. 附加值较高
3. 近年来,最有可能大力推广种植“盘锦碱地柿子”的城市是
A. 辽阳市 B. 沈阳市 C. 营口市 D. 鞍山市

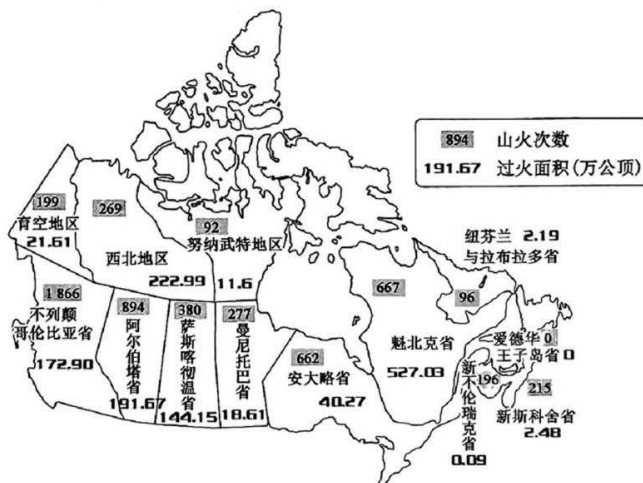
土库曼斯坦位于中亚西南部,东接阿姆河,西濒里海,国土面积 49.12 万平方千米,全境大部是低地,平原多在海拔 200 米以下,80% 的领土被卡拉库姆沙漠覆盖。土库曼斯坦石油、天然气资源丰富,主要种

植棉花和小麦。卡拉库姆运河修建后,在该国东南部形成一条农业绿色走廊。下图示意卡拉库姆运河地理位置。据此完成4~6题。



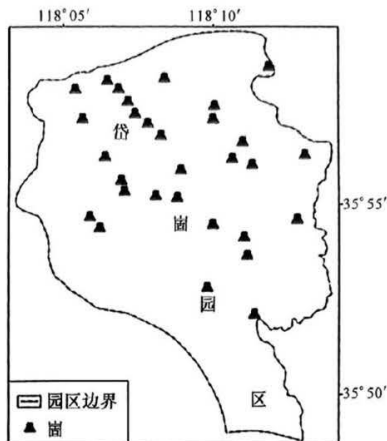
4. 土库曼斯坦 80% 的领土被卡拉库姆沙漠覆盖, 主要是因为
- A. 油气开采, 植被破坏较严重
B. 深居内陆, 风化较强烈
C. 海水入侵, 土壤盐渍化严重
D. 种植棉花, 地力消耗大
5. 卡拉库姆运河修建后, 咸海
- A. 引水灌溉减少
B. 湖水外流减少
C. 水循环速度变快
D. 水位明显下降
6. 推测目前卡拉库姆运河面临的主要困境是
- ①蒸发、渗漏严重 ②维护成本较高 ③水质污染严重 ④货物运输需求小
- A. ①②
B. ①④
C. ②③
D. ③④

加拿大的山火通常从每年 5 月开始, 但 2023 年山火开始早, 燃烧面积大, 野火数量创历史新高, 山火释放的 PM_{2.5} 长距离跨境传输, 波及世界多个国家和地区。截至 2023 年 8 月 21 日, 加拿大已经发生 5 813 次山火, 总过火面积超 1 355 万公顷, 如下图所示。据此完成 7~8 题。



7. 加拿大的山火通常从每年 5 月开始, 是因为此时
- A. 土壤养分不足
B. 地面风力小
C. 气温回升显著
D. 植被盖度高
8. 相较阿尔伯塔省, 不列颠哥伦比亚省山火次数较多, 最可能是因为该省
- A. 山火扩散速度快
B. 森林覆盖率高
C. 受寒流影响显著
D. 过火面积较小

岱崮地貌是山东省临沂市境内沂蒙山世界地质公园特有的一种地貌景观,形态具有方山特征,顶平、身陡、麓缓,如下左图所示。崮体主要由两部分构成,顶部为寒武纪(距今约 5.41 亿~4.85 亿年)厚层石灰岩,下部以泥岩、粉砂岩夹薄层泥灰岩为主,厚度远大于崮顶。下右图示意沂蒙山地质公园岱崮园区 30 座崮分布。据此完成 9~11 题。



9. 与岱崮地貌形态特征关联性最大的是
A. 地层岩性 B. 断层发育 C. 褶皱隆起 D. 地壳抬升
10. 岱崮园区崮分布较为集中,说明寒武纪时期这里
A. 变质作用异常活跃 B. 冰川众多,湿地广布
C. 可能为温暖的浅海 D. 蒸发旺盛,气候干旱
11. 在地壳稳定的情况下,岱崮园区 30 座崮的演化趋势最可能是
A. 连成一片 B. 整体消失 C. 整体扩张 D. 基本稳定
12. 马克思的亲密战友恩格斯说,马克思在人类思想史上有两个伟大发现,一是在继承前人先进思想的基础上,发现了唯物史观,由此“发现了人类历史的发展规律”;二是在唯物史观指导下发现了剩余价值,由此“发现了现代资本主义生产方式和它所产生的资产阶级社会的特殊的运动规律”。这两个“伟大发现”
①都旨在揭示人类社会发展的规律 ②为科学社会主义的创立奠定了理论基础 ③使社会主义实现了由空想到科学的伟大飞跃 ④仅从抽象的理性原则出发谴责资本主义制度的缺陷
A. ①② B. ①④ C. ②③ D. ③④
13. 1953 年春,中国土地改革基本完成,但农业个体经济存在分散、脆弱的缺陷。于是,党又先后发布了《中共中央关于农业生产互助合作的决议》和《中共中央关于发展农业合作社的决议》,中国农村开始了互助合作运动。到 1956 年底,基本实现了农业合作化。我国走农业合作化道路
①为实现由新民主主义向社会主义的过渡创造了前提条件 ②推动中国从新民主主义社会进入社会主义初级阶段 ③因土地实现由“公有→私有→公有”而极大解放生产力 ④以新的经验和思想丰富了马克思主义的科学社会主义理论
A. ①② B. ②④ C. ①③ D. ③④
14. 为了解决土地细碎化问题,中央出台了一系列文件和政策,其中之一就是土地大合并。这项改革旨在将多块零散的土地合并成一块大田,实现“一户一地”或者是“一村一地”的目标。这一政策的作用路径是

- ①土地集中经营→大规模机械化作业→降低农业生产成本→提高生产效益
②重置土地承包权→推动所有权改革→调整原先土地格局→培植种田大户
③村民以土地入股→大幅增加耕地面积→实现农业现代化→增加农民收入
④推动土地流转→减少土地浪费→有效保护耕地资源→维护国家粮食安全
- A. ①② B. ①④ C. ②③ D. ③④
15. 2023年7月28日公布的《关于做好2023年城乡居民基本医疗保障工作的通知》明确,2023年城乡居民基本医疗保险筹资标准为1020元。根据新规,居民医保人均财政补助标准将提高30元,达到每人每年640元。与此同时,个人缴费标准也将同步提高,每人每年380元。上述调整
- ①旨在进一步提升居民医保的可负担性和保障水平 ②体现了我国完善社会保障体系要做到权责明确 ③能够在完善初次分配基础上,促进社会公平正义 ④通过引导社会力量参与,推动形成多元化保障格局
- A. ①② B. ①④ C. ②③ D. ③④
16. 2023年9月1日,十四届全国人大常委会第五次会议闭幕。会议表决通过了新修订的行政复议法、外国国家豁免法、关于修改民事诉讼法的决定,表决前,会议还听取了这些法律草案审议结果的报告。会议还审议国务院关于确保国家粮食安全工作情况的报告并开展专题询问。从上述会议内容可以看出
- ①全国人大常委会通过公开征求意见实现科学立法 ②全国人大常委会通过立法创制国家的其他制度 ③全国人大常委会通过行使监督权监督国务院工作 ④全国人大常委会通过行使质询权提高监督实效性
- A. ①③ B. ①④ C. ②③ D. ②④
17. 从列出“免罚清单”“轻罚清单”,到发布“柔性执法实施办法”……近年来,海南各级政府不断优化调整执法方式,探索“轻微免罚”“轻微减罚”等容错纠错机制,以柔性执法传递法治温度,获得群众和市场主体好评。上述举措意在
- ①减轻行政处罚力度,提升执法机关公信力 ②加强人权司法保障,提高遵纪守法自觉性 ③创新执法方式,营造包容审慎的监管环境 ④坚持文明执法,力求实现执法效果最大化
- A. ①② B. ①③ C. ②④ D. ③④
18. 漫画《有备无患》提醒我们,要
- ①看到长远联系,把握事物发展的必然趋势
②把握联系多样性,一切以地点、条件为转移
③坚持矛盾分析法,做到两点论和重点论的统一
④承认矛盾普遍性,用矛盾双方的对立推动事物发展
- A. ①② B. ①④
C. ②③ D. ③④
19. 展开历史长卷,从赵武灵王胡服骑射,到北魏孝文帝汉化改革;从“洛阳家家学胡乐”到“万里羌人尽汉歌”;从边疆民族习用“上衣下裳”“雅歌儒服”,到中原盛行“上衣下裤”、胡衣胡帽,以及今天随处可见的舞狮、胡琴、旗袍等,展现了各民族文化的互鉴融通。这说明
- ①中华文化精彩纷呈,具有兼收并蓄的包容性 ②中华文明是由各民族优秀文化百川汇流而成




- ③各民族社会生活丰富多彩决定了文化多样性 ④我国不同民族的文化在相互交流中融为一体
A. ①② B. ①③ C. ②④ D. ③④
20. 在 2023 年 8 月 23 日举行的金砖国家领导人第十五次会晤中,金砖国家领导人一致同意,邀请沙特、埃及、阿联酋、阿根廷、伊朗、埃塞俄比亚作为新成员加入金砖,并欢迎其他有意愿并符合条件的发展中国家成为金砖伙伴国。金砖扩员必将
- ①汇聚南北合作新共识,增添和平发展正能量 ②有力推进世界多极化和国际关系民主化势头
③拓展“金砖+”合作模式,丰富创新金砖精神 ④提升新兴市场和发展中国家在国际事务中的代表性
A. ①③ B. ①④ C. ②③ D. ②④
21. 商务部数据显示,2023 年 1—7 月,全国实际使用外资金额 7667.1 亿元人民币。其中,制造业实际使用外资金额 1968.5 亿元人民币,增速保持稳定。高技术产业实际使用外资增长 3.8%,其中高技术制造业增长 25.3%。由此可见,我国
- ①引资质量持续提升,结构不断优化 ②为高新技术产业投资提供了良好的环境 ③始终把独立自主、自力更生作为自己的出发点 ④贸易投资自由化便利化政策推动外商创新投资方式
A. ①② B. ①④ C. ②③ D. ③④
22. 2021 年 11 月,申请人某建材公司与被申请人某建筑公司签署《物资采购合同》,约定申请人为被申请人某房地产项目工程供货。2023 年 5 月,双方当事人通过《企业对账函》确定最终结算金额为 800 余万元,但仍有 197 万余元未予支付,故申请人请求仲裁庭裁决被申请人支付剩余欠付货款和仲裁费。被申请人对申请人主张的货款金额无异议,但认为案涉合同约定的付款条件尚未成就,故不同意支付上述货款。据此,下列说法正确的是
- ①申请人与被申请人已自愿订立有效仲裁协议 ②仲裁庭对本案裁决一经作出,即发生法律效力
③当事一方对仲裁不服的,可以向人民法院起诉 ④仲裁裁决是本案便捷、经济、最佳的化解纠纷方式
A. ①② B. ①④ C. ②③ D. ③④
23. 王同学说:“对夏天的虫子无法谈论冬天的冰,因为它根本活不到冬天,自然不知道冬天的冰是什么样的。同样的道理,大学生刚毕业,如果不锻炼两年,怎能做好销售工作呢?”下列与王同学所犯逻辑错误最相似的是
- ①对于是否批准这几家公司货款的议题,我完全同意你的看法,但还有一点小异议 ②鲁侯为供养海鸟,派人敬酒,演奏音乐,准备牛、羊、猪肉等。三天后海鸟死了 ③微型小说有故事情节,短篇小说有故事情节。所以,所有小说都是有故事情节的 ④人脑用多了会受到损害。因为人脑是物质的,机器用久了会磨损,人脑也不例外
A. ①② B. ②④ C. ①③ D. ③④
24. 仰韶文化的扩张与激荡形成了具有明显的一致性的中原龙山文化。在其直接影响下,原来属于大汶口文化范畴的河南东部地区,开始出现了面貌接近中原文化的造律台文化等一系列文化演进过程,与炎黄二族经过涿鹿之战进一步打击地处东部的蚩尤族的历史进程是大体吻合的。而中原龙山文化向南深入到江汉平原,则和传说中尧舜禹时期中原集团征伐三苗可以相互印证。这可用于说明
- A. 中原文化推动了中华文明形成的进程 B. 考古发掘与文献记载互证才有价值
C. 兼收并蓄政策促进了中原文化的崛起 D. 中华文明起源呈现出多元一体格局

25. 下表所示为目前出土的 13 幅汉代牛耕图画像石的具体分布情况。对此解读正确的是, 汉代

出土省份	牛耕图画像石出土地点
陕西	米脂、绥德、西安碑林、陕北
山东	滕县宏道院、邹城市西粉厂
山西	平陆枣园
内蒙古	和林格尔(2 幅壁画)
江苏	泗洪重岗、睢宁双沟镇

- A. 铁犁牛耕技术已推广
B. 农业集体耕作制度出现新形态
C. 农学研究的重大突破
D. 农本观念在中原地区影响深厚
26. 《宋史》载, 有人制定“新历二十卷”, 便“拜司天监”赐官; 制定“乾元历”颇为精密, “皆优赐束帛”; 有人献所制火药、火球、火蒺藜, 项绾“献海战船式, 各赐缗钱。”这些记载
- A. 实证了当时天文学的领先地位
B. 可用于说明宋代科技发展的重要原因
C. 折射了宋王朝国防形势的严峻
D. 表明宋人科学文化素养得到很大提升
27. 顾炎武主张, 史学研究要彻底地贯彻价值中立原则, 绝对不能以政治伦理的需要而改变历史, 甚至歪曲事实。他提出历史学具有三大功能: 首先是“鉴往训今”, 即总结历史经验; 其次是“引古筹今”, 即吸取经邦智慧; 最后是“稽天成德”, 即不断完善世界历史文化。据此可知, 顾炎武
- A. 推崇格物致知
B. 强调知行合一
C. 提倡经世致用
D. 否定君主专制
28. 下图为英国海军军官斯托达德于清道光二十二年战事当天绘制的版画《镇江西门》。图中配文: “镇江府是南部诸省的要冲, 是南京赖以防守外国侵略的外港……它有大量爱国的群众和一支坚定的鞑靶军守卫, 征服它对我军来说既有必要, 也是荣耀。”与该版画相关的历史事件



- A. 改变了当时西学东渐的内容
B. 适应了列强进行大规模资本输出的需求
C. 是中国近代化开始的标志
D. 使中国开始沦为半殖民地半封建社会

29. 下表是 1921~1929 年中国共产党党员社会成分比例统计表。这一变化的主要原因是

年份	知识分子党员占比	工人党员占比	农民党员占比	其他成分党员占比
1921 ^①				
1922		10.76%		
1923	60.95%	39.05%		
1926 ^②	27.35%	60%	11.75%	
1927	19.1%	50.8%	18.7%	
1928	0.9%	10.9%	76.6%	5.6%
1929 ^③		23.4%	47%	

(①根据中共早期组织成员研究成果认定为 58 人; ②因没有全国统计数字, 主要是广东、北方、江浙、湖南等地区的统计。③仅据中央根据地的党员分析。)

- A. “左”倾错误思想得到纠正
B. 国民革命运动的兴起
C. 农村包围城市道路的实践
D. 西方列强侵略的加剧

30. 右图为 1950 年古一舟创作的年画《劳动换来光荣》。该作品



- A. 展示了社会主义农村新面貌
 - B. 宣扬了社会文明新风尚
 - C. 反映了农业改造的成果显著
 - D. 得益于“双百”方针提出
31. 1979 年 3 月 1 日, 国务院决定对粮食、棉花、油料、生猪、菜牛、菜羊、鲜蛋、水产品等 18 种主要农副产品平均提价 24.8% 收购, 并对粮棉油等实行超购加价政策。其中, 粮食超购加价 50%, 棉花统购价超购加价 30%。这一举措
- A. 激发了农村发展的内在动力
 - B. 推动了城乡经营方式改革
 - C. 满足了新兴工业城市的需求
 - D. 促进了社会主义制度完善
32. 在古希腊, 大多数城邦禁止男子独身, 柏拉图在《法律篇》中曾告诫雅典青年应该在 30~35 岁时成婚。公元前 18 年, 古罗马通过了《朱里亚婚姻法》, 规定 25~60 岁的男子必须结婚, 违犯者将丧失自由继承遗产的权利。这些规定
- A. 强调法律在国家治理中的作用
 - B. 剥夺了公民的婚姻自由
 - C. 维护了其民主制度的长远发展
 - D. 凸显集体利益至上理念
33. 据统计, “光荣革命”后, 一年内议会开会的时间超过以前 10 年议会开会时间的总和。在 1696 年以前, 威廉确曾否决 5 个法案, 但它们经议会再次讨论通过后都成为正式法律。此后, 威廉未再行使否决权。这反映出当时英国
- A. 国王已经统而不治
 - B. 权力结构发生变动
 - C. 贵族制度已经瓦解
 - D. 权力的制约与平衡
34. 列宁提出, 国家将一些投资大的产业和自然资源出租给外国资本家经营。外国资本家在无产阶级监督下, 在一定的条件内开展业务。1921 年, 《租让制法令》在俄共第十次代表大会上获得批准。据此可知, 《租让制法令》
- A. 适应了当时战时经济体制的需要
 - B. 使苏联迅速实现了社会主义工业化
 - C. 是对马克思主义的重大理论创新
 - D. 表明苏俄承认私营经济的合法地位
35. 1951 年, 美国制定了国家储存计划, 即“在国家紧急状态下, 这些关键材料的供应在我们最需要的那一刻可能被切断, 所以需要大量的材料储备”, 下表是美国国家储存材料的主要用途和来源(部分)。美国的这一计划

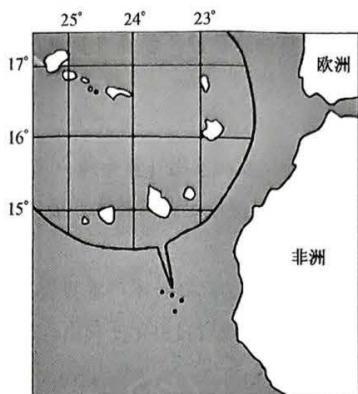
材料名称	主要用途	来源
石棉	高温绝缘, 阻燃纺织品, 保护装置过滤器	南非, 津巴布韦, 玻利维亚联盟
椰子油	杀菌剂, 消毒剂, 润滑剂, 香料	印度尼西亚, 菲律宾
镉	轴承, 防护涂层, 铜, 金和银的硬化剂	美国, 加拿大, 墨西哥, 秘鲁, 澳大利亚
铜	外壳, 旋转带, 电导体, 铸造产品	美国, 智利, 加拿大, 南非
蓝宝石	高温耐火材料	印度, 肯尼亚
铅	弹药, 电池, 焊料	美国, 加拿大, 墨西哥, 秘鲁, 澳大利亚
钨丝	高温合金, 电子管, 穿甲弹	中国, 韩国, 澳大利亚, 巴西, 玻利维亚, 秘鲁, 美国
羊毛	军用和民用服装, 毯子	美国, 澳大利亚, 新西兰, 南非联盟

- A. 暴露出美国控制世界的野心
- B. 客观上推动了经济全球化
- C. 意味着控制世界的能力增强
- D. 源于朝鲜战争形势的变化

二、非选择题:本大题包括 9 小题,共 160 分。

36. 阅读图文材料,完成下列要求。(28 分)

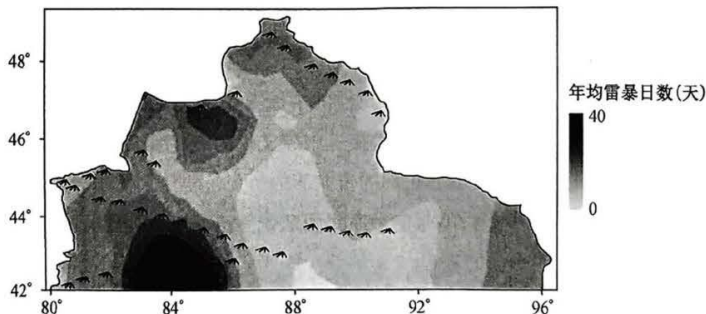
2023 年 8 月 30 日,中国—联合国粮农组织(FAO)——佛得角南南合作项目行前会以线上线下的方式举行,我国 6 名农业专家自 8 月 31 日起陆续启程赴佛得角执行农业南南合作项目。佛得角是大西洋上的群岛国家,人口约 59.3 万,国土面积 4 033 平方千米,地形以山地为主,气候干燥,蒸发量大,粮食自给率较低。下图示意佛得角地理位置。



- (1) 简析佛得角粮食自给率较低的可能原因。(6 分)
- (2) 指出农业南南合作项目中我国对佛得角农业进行技术援助的主要方面。(8 分)
- (3) 简述农业南南合作项目对佛得角农业发展的积极影响。(6 分)
- (4) 请你为佛得角农业的可持续发展提出可行性建议。(8 分)

37. 阅读图文材料,完成下列要求。(28 分)

北疆地区位于天山山脉北部,地形以山地和盆地为主,多沙漠、戈壁,雷暴多发。相关研究显示,北疆地区年均雷暴日数空间分布与地形地势有一定的相关性。下图示意北疆地区年均雷暴日数分布。近年来,北疆地区年均雷暴日数总体呈减少趋势。



【高三核心模拟卷(中)·文综(一) 第 8 页(共 12 页)】

XKB

密封线内不要答题

考号
姓名
班级
学校

题
答
要
不
内
封
密

- (1)指出北疆地区年均雷暴日数的空间分布特点。(4分)
- (2)解释北疆地区年均雷暴日数空间分布与地形地势的相关性。(6分)
- (3)推测北疆地区雷暴多发的季节及原因。(6分)
- (4)简析雷暴天气对北疆地区的主要危害。(6分)
- (5)推测近年来北疆地区年均雷暴日数总体呈减少趋势的原因。(6分)

38. 阅读材料,完成下列要求。(12分)

2023年7月20日,四川省深化“温暖人社”建设推动人社事业高质量发展工作会议在德阳召开。会议指出,实施“温暖人社”建设三年行动,顺应了新时代人民对美好生活向往新需求、深化“放管服”改革新要求。三年来,全省人力资源社会保障系统坚持群众满意价值取向,锚定提升人社服务软实力目标,大力实施“通办服务”行动,人社公共服务标准化试点顺利推进,减证便民取得实效,“一网通办”能力明显提升,人社服务下沉下延,企业群众办事“中梗阻”得到有效疏通;大力实施“智慧服务”行动,信息基础底座不断夯实,“一卡通”加速发展,线上渠道更加完善,人社数据共享和信息支撑能力显著增强;大力实施“优质服务”行动,干部队伍得到历练淬炼,评价监督体系不断完善,“温暖人社”声音有力唱响,人社专业化服务能力有效提升。

结合材料,运用政治与法治知识,说明四川是如何推动人社事业高质量发展的。

39. 阅读材料,完成下列要求。(10分)

关于印发深化医药卫生体制改革2023年下半年重点工作任务的通知

国卫体改发(2023)23号

各省、自治区、直辖市人民政府,新疆生产建设兵团,国务院有关部委、有关直属机构:

《深化医药卫生体制改革2023年下半年重点工作任务》已经国务院同意,现印发给你们,请结合实际,认真组织实施。

国家卫生健康委 国家发展改革委
财政部 人力资源社会保障部
国家医保局 国家药监局

2023年7月21日

结合材料,运用“国家的结构形式”的知识,说明该通知的合理性。

40. 阅读材料,完成下列要求。(20分)

【爱国主义教育法治化】

2023年6月26日,爱国主义教育法草案首次提请十四届全国人大常委会第三次会议审议。

我国向来重视爱国主义这一课。无论是学前教育、义务教育,还是大学教育、职业教育,爱国主义教育都是核心内容之一。着眼当下,随着社会利益分化、观念多元多变,爱国主义教育也面临着如何更好更有效开展的现实问题。目前,我国爱国主义教育制度分散于近200部法律法规和近40部党内法规中。在大量立法实践之上,以一部总则性、综合性、基础性的法律将爱国教育纳入法治轨道,发挥法治科学、长效、规范的优势,推动形成条修叶贯、配套成龙的爱国教育法治体系,对提升爱国教育实效具有根本性、全局性、长远性作用。

(1)结合材料,运用实践是认识的基础的原理,说明我国建立和完善爱国教育法律法规体系的原因。(10分)

【学校开展常态化爱国主义教育】

为了传承和弘扬爱国主义精神,凝聚全面建设社会主义现代化国家、全面推进中华民族伟大复兴的磅礴力量,国家将爱国主义教育纳入国民教育体系。各级各类学校应当将爱国主义教育贯穿学校教育全过程,并将爱国主义教育内容融入各类学科中;应当针对各年龄段学生特点,确定爱国主义教育的重点内容,采取丰富适宜的教学方式,增强爱国主义教育的针对性、系统性和亲和力;应当将课堂教学与课外实践相结合,把爱国主义教育内容融入学校各类主题活动。

(2)结合材料,运用创新思维的知识,说明学校如何开展爱国主义教育。(10分)

41. 阅读材料,完成下列要求。(10分)

案例一 飞某公司系医疗设备生产企业,其为保护设备维修软件及计算机系统安全,开发了安全防护程序及“加密狗”工具。刘某未经飞某公司许可,从网上购得盗版“加密狗”,并利用电商平台向他人销售提供。经鉴定,盗版“加密狗”能够避开安全防护程序,获得受保护软件、文件的浏览使用权限。此外,刘某未经许可,通过分享网盘链接等方式向他人销售飞某公司维修软件等作品。至案发,刘某非法经营数额共计人民币15万余元。

案例二 请求人甲工艺品厂发现乙工艺品加工部未经其许可,生产制造了以其专利产品为零部件的祭祀用品,并在市场上销售。经比对,被控侵权产品与涉案专利仅有一个技术特征不完全相同,但属于以基本相同的手段实现基本相同的功能,构成等同技术特征;且被请求人未能提供证据佐证,不能确定其具有先用权。

结合材料,运用法律与生活知识,指出两则案例所涉知识产权的具体类别,并说明惩治上述侵权行为的意义。

42. 阅读材料,完成下列要求。(25分)

材料一

重建后的雅典卫城,城内建筑群没有中轴线,不苛求对称,建筑物利用复杂的地势而建,彰显着城邦精神与寄托。数量可观的公共建筑与简朴狭小的私人建筑形成了鲜明的对比,突出雅典城邦民主政治的特色,也从深层次反映了雅典政治文明内核。古典时期的雅典城城市居民有着平等的居住条件,无论是穷人还是富人都混住在一起,没有区别,仅在用地大小与住宅质量上有所区别,且这种差别也要控制在较小的范围内。雅典人将极大的智慧与热情投入到高高的卫城山上,以塑造他们的城邦精神和理想国,圣地卫城汇聚了当时最杰出的工匠、技师,耗费了大量的人力、物力、财力而建成。新修建的卫城如伯里克利所想的那样,在古典时期一直是雅典城邦精神的化身和有形体现,是雅典人甚至是希腊人心中最神圣的地方,人们在每年的节庆日里结成队伍去那里膜拜神明,祈求和平,分享祭品。

——摘编自白继萍《古典时期雅典城的城市布局及规划思想研究》

材料二

汉长安城位于今西安西北部渭河南岸的台地上,地势南高北低,从整体外形上看是一个斗形城市,所以有“城南为南斗形,北为北斗形,至今人呼汉京城为斗城是也”的说法。汉长安城营建工程贯穿了整个西汉时期。城市中、南部是以宫殿、官署及贵族府邸等组成的政治活动中心,而市坊及居民区等经济区集中在城北。在汉长安城的建设中,许多宫殿的命名以及修建都比附着天上的星辰,如昆明池、飞廉馆、太液池、桂观等,这种思想立即浸透在城市设计规划当中,渗透着君权至上、不可轻蔑的含义。西汉末年,统治者在长安城南郊修建了明堂、辟雍、社稷等大规模的礼制性建筑群。

——摘编自白继萍《古典时期雅典城的城市布局及规划思想研究——兼与汉长安城比较》

- (1)根据材料一,概括古代雅典城市规划的思想。(10分)
- (2)根据材料一、二并结合所学知识,分析西汉时期与古代雅典城市建设的异同,并分析产生差异的主要因素。(15分)

43. 阅读材料,完成下列要求。(12分)

材料

观诸中国从古典的王朝国家认同到具有近代意义的民族国家认同的转变,民族国家认同经历了传统的“天下”观念与王朝国家认同出现危机的阶段。20世纪初民族国家实体创建,表征具有近代意义的民族国家认同初步确立。民国以来,“中华民族”“新中国”两词被各派政治力量用于表达各自诉求。中国共产党在民主革命时期使用两词表达对中华国家建设、中华民族构建的主张。民主革命时期,早期马克思主义者、中国共产党人的“新中国”话语,先后有五四时期的“青春中国”“少年中国”、大革命时期的“真正民主共和国”、土地革命战争时期的“苏维埃新中国”、全面抗战时期的“新民主主义新中国”与解放战争时期的“人民民主新中国”。此后,新中国进入到重要的建设时期,迅速恢复国民经济、巩固人民民主专政,实行社会主义改造并探索社会主义中国的建设道路。

——摘编自俞祖华《民主革命时期中共“新中国”“中华民族”话语权的交集互动》

根据材料并结合所学知识,围绕“近代民族国家的认同建构”,就中国近代史某个阶段或整体拟定一个具体的论题,并进行简要阐述。(要求:论题明确,史论结合,逻辑严谨,表述清晰。)

44. 阅读材料,完成下列要求。(15分)

材料一

时期	里程(公里)		投资主体和方式
1876~1912年	9 100	1 800	清政府拨款、赎回、商办
		7 300	列强贷款直接投资
1912~1927年	4 000		北洋军阀政府利用列强贷款
1928~1937年	3 700		中外合办(官僚资本和西方垄断资本)
1928~1931年	900		省商合营
1937~1945年	1 900		国民政府采用征用民工、拆用旧轨和滥发货币的办法
1931~1945年	900	5 700	日本利用掠夺中国的财富和中国劳工修建
		900	
1876~1949年	建成铁路 26 200 公里,期间拆毁 3 600 公里,至 1949 年大陆剩余铁路仅 22 600 公里		

——摘编自金士宣 徐文述《中国铁路发展史(1876~1949)》

材料二

当前,我国铁路营业里程突破 15 万公里,高铁里程超过 4 万公里;“四纵四横”高铁网提前建成,“八纵八横”高铁网加速成型,我国铁路基础设施已经实现由“大”到“强”。网络购票、电子客票刷脸进站、移动支付、在线选座、互联网订餐、便捷换乘智能导航及网上发货等便民利民服务举措的推出让铁路的服务供给有了质的跃升。全面构建起人防、物防、技防“三位一体”安全保障体系,不断完善铁路安全生产的责任链条、制度成果、管理办法、风险防控和工作机制,扎实推进铁路安全生产治理体系和治理能力现代化,加强绿色基础设施建设,推广新能源、智能化、数字化、轻量化交通装备,鼓励引导绿色出行,让交通更加环保。目前,我国在世界五大洲的数十个国家有铁路合作项目,国际市场占有率稳步提升。其中,雅万高铁等“一带一路”重点工程已有序推进;中欧班列作为共建“一带一路”的标志性项目,有力促进了各沿线国家的经贸往来。

——摘编自张娜《中国铁路在推动中国式现代化进程中的作用》

- (1) 根据材料一并结合所学知识,概括近代中国铁路发展的特点及其历史影响。(6分)
- (2) 根据材料二并结合所学知识,指出推动中国铁路现代化的主要路径,并说明中国铁路现代化的重要意义。(9分)

关于我们

自主选拔在线是致力于提供新高考生涯规划、强基计划、综合评价、三位一体、学科竞赛等政策资讯的升学服务平台。总部坐落于北京，旗下拥有网站（[网址: www.zizzs.com](http://www.zizzs.com)）和微信公众平台等媒体矩阵，用户群体涵盖全国 90% 以上的重点中学师生及家长，在全国新高考、自主选拔领域首屈一指。

如需第一时间获取相关资讯及备考指南，请关注**自主选拔在线**官方微信号：**zizzsw**。

