

绝密★考试结束前

浙江省普通高校招生选考科目模拟考试

历史试题

姓名：_____ 准考证号：_____

考生须知：

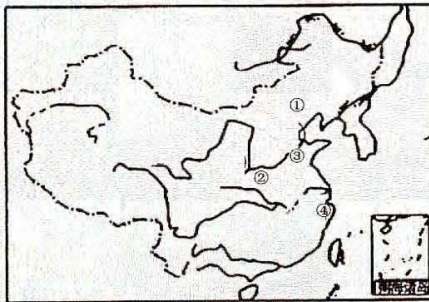
1. 本卷满分 100 分，考试时间 90 分钟；
2. 答题前，在答题卷指定区域填写班级、姓名、考场、座位号及准考证号并核对条形码信息；
3. 所有答案必须写在答题卷上，写在试卷上无效，考试结束后，只需上交答题卷；

选择题部分

一、选择题 I（本大题共 15 题，每小题 2 分，共 30 分。每小题列出的四个备选项中只有一个是符合题目要求的，不选、多选、错选均不得分）

1. 读图阅史，把握时空。右图是新石器时代部分文化遗址分布图。下列各项中，信息解读正确的是

- A. ①处出土精美玉器，还出现大规模的祭坛和神庙
- B. ②处典型器物是黑陶，以粟为主要栽培作物
- C. ③处居民最早种植水稻，并掌握了养蚕缫丝的技术
- D. ④处典型器物是彩绘陶器，以水稻为主要栽培作物



2. “秦汉时期，它位居上卿，银印青绶，职掌副丞相，秩二千石。”下列关于“它”说法正确的是

- A. 掌管图籍、文书，最高监察官
- B. 最高武官，掌军事
- C. 掌握财政大权，分割宰相权力
- D. 执行机构，长官尚书令

3. 北魏在均田制的实施过程中，荫附户问题突出。孝文帝采纳大臣李冲实行三长制的建议，“应效法古制，五家设一邻长，五邻设一里长，五里设一党长……三年无过失者则升一等”。多数农民拥护新制度，“于是海内安之”。据此推断，三长制的推行

- A. 是古代地方行政机构的演变
- B. 有利于加强国家的基层治理
- C. 加速了北方的民族交融趋势
- D. 促进了租庸调制的广泛推广

4. 《资治通鉴》记载：“先计州县每岁所应费用及上供之数而赋于人，量出以制入。户无主、客，以见居为簿；人无丁中，以贫富为差”。下列选项中，与这一赋税制度的产生处于同一朝代的有

- ①当铺取得合法地位，成为独立金融机构
- ②尚书省的礼部及鸿胪寺负责民族事务
- ③出现了类似于现代汇票的“飞钱”
- ④主张顿悟成佛的禅宗成为主流

- A. ①②③
- B. ①②④
- C. ②③④
- D. ①②③④

5. 鸦片战争后的谈判中，“负责交涉条约的人如伊里布、耆英，黄恩彤诸人知道战前广东地方官吏的苛捐杂税是引起战争原因之一……新的税则平均到百分之五……负交涉责任者计算以后海关的收入比以前还要多，所以他们洋洋得意，以为他们的外交成功。”这反映出当时

- A. 部分官员思想认识较为开明
- B. 官僚阶层缺乏近代外交观念
- C. 经世致用的新思想较为流行
- D. 协定关税利于增加政府收入

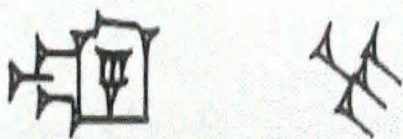
6. 孙中山在庆祝《民报》的纪元节的大会上说：“照现在的政治论起来，就算汉人为君主，也不能不革命。法兰西大革命及俄罗斯革命，本没有种族问题，却纯是政治问题；法兰西民主政体已经成立，俄罗斯虚无党也终要达这目的。中国革命之后，这种政体最为相宜，这也是人人晓得的。”这种政体

- A. 符合近代民权主义理论
- B. 开始了政党政治的尝试
- C. 是君主专制政体的延续
- D. 直接导致辛亥革命失败

7. 《中国共产党的九十年》评价中共的某次会议：“在中国革命处于严重危机的情况下，会议及时制定出继续进行革命的新方针，使党在政治上大进了一步。……中国革命从此开始由大革命到土地革命兴起的历史性转变。”这次会议召开于如图中的



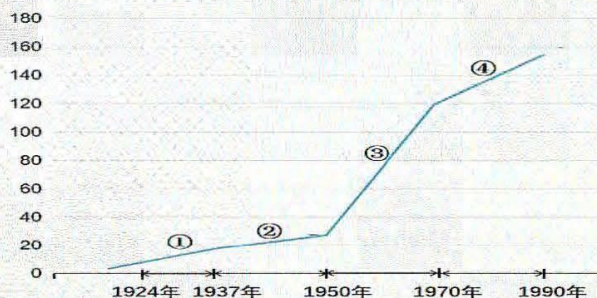
- A. ① B. ② C. ③ D. ④
8. 新中国成立初期，故宫博物院进行了陈列改革，将满清帝后的生活资料及享用服饰与农民的生活用品采取对比陈设的形式，以突出阶级压迫和物质生活上的差异。这次改革
- A. 凸显了故宫文物丰富性 B. 实现了博物馆管理的现代化
C. 确立了故宫的教育功能 D. 增强了群众对新政权的认同
9. 1979年9月，我国决定将农业事业费和支援社队的支出在国家总支出中所占的比重逐步提高到8%左右；对农业的贷款，从现在起到1985年，要比过去增长1倍以上。这一决定
- A. 适应了市场经济发展需要 B. 改变了农村土地所有制的性质
C. 强化了人民公社管理体制 D. 有利于推动农村经济体制改革
10. 如图为一种古代文字中“吃”“大麦”的书写形式，与这种文字相关的说法错误的是



- ①曾在古代阿兹特克地区流行 ②是迄今所知世界上最早的文字
③儒略历使用该种文字记载 ④成为今天欧洲几乎所有字母文字的源头
- A. ①②③ B. ①②④ C. ②③④ D. ①③④
11. 英国人麦杜思于1847年出版的《中国札记》，目的就是呼吁建立起向全体国民开放的竞争性考试制度。他认为：“应该像中国近千年来几乎一成不变地实行科举制那样，只有考试合格者才能获准在英国三大行政部门各个分支机构任职。”麦杜思设想的“竞争性考试制度”
- ①受到中国科举制的启发 ②英国最初尝试于东印度公司
③克里米亚战争后在英国正式建立 ④导致国家财政负担沉重、效率低下
- A. ①② B. ①②③ C. ①③ D. ②③④
12. 联合国人居组织1996年发布的《伊斯坦布尔宣言》强调：“我们的城市必须成为人类能够过上尊严的、健康、安全、幸福和充满希望的美满生活的地方。”城市居住条件的改善和基础设施的发展让市民生活更美好。下列与之相关的史实表述正确的有
- ①19世纪以来，钢铁管道应用于水网建设
②20世纪以来，集中供暖和制冷得到推广
③19世纪下半叶，德国人发明了电梯，便捷了人们的生活
④19世纪70年代，钢筋混凝土技术首次运用于比利时的住宅项目
- A. ①②③ B. ①②④ C. ①③④ D. ②③④
13. 19世纪末到20世纪初，世界殖民体系最终形成。在殖民体系的形成过程中，亚非拉人民也掀起了轰轰烈烈的民族解放运动。如表是亚非拉民族解放运动概况，由表格信息可知

	拉丁美洲独立	亚洲觉醒	非洲抗争
主要途径	独立战争	民主革命	武装斗争
主要反抗对象	西班牙、葡萄牙	英国	英国、意大利等
领导阶级	大地主	民族资产阶级	政党、宗教、皇帝等

- A. 英国是占有殖民地最广阔的国家
B. 亚洲资本主义发展水平世界领先
C. 民族解放运动呈现出多元化特征
D. 拉美走上了独立自主发展的道路
14. 观察下表，下列对苏联（俄）四个阶段钢铁工业发展状况的影响因素分析正确的是
苏联（俄）钢产量变化表（单位：百万吨）



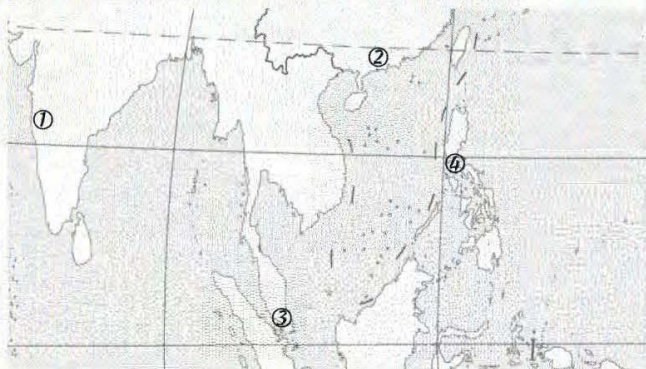
- A. ①两个“五年计划”的实施
B. ②推行“新经济体制”改革
C. ③通过租让制引入外国资本
D. ④计划经济体制的突破
15. 欧盟是一个结合政治和经济实体的区域一体化组织，在世界上具有重要影响。欧盟的目标是“通过建立一个没有内部边界的空间来加强经济和社会的协调发展，并建立一个最终将实施统一货币的经济和货币联盟，以促进成员国经济和社会的平衡发展”和“通过实施共同的外交和安全政策在国际舞台上发扬联盟的个性”。以下对欧盟的解读正确的有
- ①是经济政治一体化程度最高的区域组织
②是推动世界多极化趋势的重要因素
③是世界上最大的区域性国际组织
④是当今全球经济治理的主要平台
- A. ①②③
B. ①②④
C. ②③
D. ③④

二、选择题II（本大题共6题，每小题3分，共18分。每小题列出的四个备选项中只有一个是符合题目要求的，不选、多选、错选均不得分）

16. 辽圣宗曾多次重九登高，“赐群臣菊花酒”，以后相沿不改；西夏第二位皇帝李谅祚即位后，“遵大汉礼仪以更蕃俗，求中朝典册用仰华风”。这两则史料可以说明
- A. 大一统政治局面的形成
B. 民族政权实现礼法结合
C. 华夏认同浸润国家治理
D. 中华文化推崇经世致用
17. 有学者认为：“罗马的贵族奴隶主阶级，从掠夺战争中得到了大量的财富和土地，尤其是奴隶。他们使用大量奴隶劳动，组织奴隶制大庄园，生产谷物、经济作物或者经营畜牧业……充足的供给加强了其军事实力，使得古罗马的扩张战争的胜利消息频传。”据此可说明
- ①对外战争使罗马小农经济逐渐破产
②战俘是罗马劳动力的重要来源
③庄园式劳作是罗马主要的劳作方式
④对外战争促进了罗马农业发展
- A. ①②
B. ③④
C. ①③
D. ②④
18. 下图为舒高第的个人简介，他的经历折射出当时

舒高第，浙江镇海人。1859年留学美国，毕业于哥伦比亚大学医学院，获得医学博士学位。1877年任上海广方言馆英文教习，1878年舒高第兼任江南制造总局翻译馆的翻译。他翻译的图书多达25种，包括军事类9部，医学类6部，矿冶类5部，农学类2部，政治类1部，航海类1部，铁路建造类1部。

- A. 洋务运动留学取得成效
B. 制度变革成为社会诉求
C. 个人发展融入时代主题
D. 国人救亡意识日益高涨
19. 恩格斯曾对英、法资产阶级革命进行比较：“在英国，革命以前和革命以后的制度之间的继承关系，地主和资本家之间的妥协，表现在……被虔诚地保存下来这方面。在法国，革命同过去的传统完全决裂。它扫清了封建制度的最后遗迹，并且在民法典中把古代罗马法……巧妙地运用于现代的资本主义条件……”由此可见，恩格斯评价两国革命的历史标准是基于
- A. 法律制度完备
B. 思想解放程度
C. 工业水平高低
D. 社会形态演进
20. “中国往往是大帆船贸易货物的主要来源，就新西班牙（墨西哥及其附近广大地区）的人民来说，大帆船就是中国船，▲就是中国与墨西哥之间的转运站，作为大帆船贸易的最重要商品的中国丝货，都以它为集散地而横渡太平洋。”▲在下图中的位置是



- A. ①
B. ②
C. ③
D. ④
- 浙考神墙750
21. 有学者论及“记忆被曲解”的现象，指出“一贯型和善变型指的是人们根据自己的意愿和观念，重新塑造或美化自己过去的经历。事后聪明型指的是人们用现在的知识去分析过去的事情。唯我型是说在对现实的感知和对记忆的精心编排上，自我扮演着重要角色。模板型指的是记忆在人们世界观形成的过程中起到了重要作用，尽管人们对这种影响未必很清楚。”该现象对史学研究的启示是
- A. 文献史料更具有历史的实录感
B. 对史料的辨析应该注重去伪与存真
C. 个人回忆存在美化自我的价值取向
D. 史家务使头脑有如明镜，清光如洗

非选择题部分

三、非选择题（本大题共 3 小题，其中第 22 题 20 分，第 23 题 20 分，第 24 题 12 分，共 52 分）

22. 阅读材料，完成下列要求。（20 分）

材料一

曾侯乙编钟于 1978 年出土于湖北随州曾侯乙墓，是战国早期曾国国君的一套大型青铜礼乐重器。两周时期，礼乐制度发达，钟文化也蔚为大观，曾侯乙编钟正是这种礼乐文化集大成的产物。编钟的铸造集中反映了范铸技术的新水平。全套编钟共 65 件，钟架长 7.48 米、高 2.65 米，钟体总重量达 2500 多公斤，是名副其实的编钟之王。编钟及钟架、钟钩上共有铭文 3755 字，内容为编号、记事、标音及乐律理论，称得上是中国最早的音律学专著。对编钟的研究，印证了七声音阶、十二律、十二个半音体系、一钟双音、和声概念在中国先秦的存在。同时，这些文字也是楚系文字的重要组成部分，其书法总体偏于美术化，是南方花体篆书的典型。

——摘编自刘玉堂、张硕《文化史视野下的曾侯乙编钟》

材料二

在唐宋时期。家训得到了充分的发展和重视，出现了家训的范式，并且在方法上、形式上得到了进一步的丰富和发展，形成了相对系统的家法和族规，从而家训开始以一种系统化的形态出现。同时儒学的重新整合和复兴，为唐宋时期家训的理论化奠定了思想基础。……新儒学的出现，使唐宋家训开始理论化，从而为唐宋家训由上而下的系统发展提供了理论上的准备。

——摘编自陈志勇《唐宋家训发展演变模式探析》

材料三

新文化运动将鸦片战争以来国人追求思想解放的潮流提升到了“对传统求解放”这样更加自觉和深刻的层面上来。同时，长期积累的盲从西方的非理性倾向也被放大了。“对西方求解放”这一新的诉求的提出，不仅是欧战后西方现代思潮变动的的影响所致，更重要的是体现了新文化运动对自身的可贵超越。

——摘自郑师渠《完整理解五四新文化运动的思想解放内涵》

(1) 根据材料一，概括曾侯乙编钟所体现的中华文化元素。结合所学，指出商周时期青铜器铭文的史料价值并简述该时期青铜铸造业发展概况。(8分)

(2) 根据材料二，简要指出唐宋时期家训呈现的新特征。结合所学，分析“新儒学”对宋朝基层教化所起的作用。(5分)

(3) 根据材料三，结合所学，分别指出新文化运动时期“对传统求解放”和“对西方求解放”的主要表现，并分析新文化运动实现“可贵超越”的原因。(7分)

23. 阅读材料，完成下列问题。(20分)

材料一

《坤輿万国全图》是明万历年间利玛窦和李之藻合作绘制的世界地图，通幅纵168.7厘米，横380.2厘米，全图完全用中文标注地名。主图为椭圆形的世界地图，包括欧洲、非洲、南北美洲、南极洲以及大西洋、太平洋、印度洋、北冰洋。此外，还附有一些小幅的天文图和地理图，例如天地仪图、日月食图等。主图采用了16世纪世界地图编绘时流行的椭圆投影，大洲轮廓与实际海陆轮廓基本一致，但中国、美洲的经度误差较大，并且改变了欧洲以本初子午线置于地图中央的传统，使中国正好出现在地图中央，迎合了当时中国“天下中心”的观念。图中的中国部分，主要参考了《大明一统志》中的附图以及《广輿图》《古今形胜之图》等中国地图。

——摘编自故宫博物院《图文天下——明清輿地学要籍》等

材料二

对于中世纪前期的法国人来说，世界上只存在希伯来语、希腊语和拉丁语，它们都是《圣经》所使用的语言。相比之下，只适用于以巴黎为中心的法兰西岛范围内的法语，只是一个小的支流，属于方言土语。1330年，巴黎的法兰西岛方言被腓力六世指定为国王语言，王权所在地巴黎的地区方言演变成具有高于其他方言地位的共同日常交际用语。法国在路易十四之后发展成为欧洲强权，18世纪欧洲各国贵族也欣赏法国贵族的生活方式，法语变成欧洲各国的宫廷语言。如1714年《拉斯塔特条约》签订以后，欧洲的一切国际条约都以法语书写为主。

——摘编自陈文海《民族语言·民族文化·民族国家——法国中世纪后期语言文化的民族化进程探析》

材料三

二战后，法国追随美国，拒绝承认新中国。新中国支持越南人民抗击法国的解放战争取得胜利。1954年中法两国总理首次会晤，打开了两国关系的新起点。进入20世纪60年代，新中国的国际影响力日益增大，中法关系迎来历史性转折。1963年，正值中法两国核武器试验最关键的时候，《部分禁止核试验条约》的共同声明在伦敦、莫斯科和华盛顿签署，这加速了两国接触。同时，毛泽东多次强调争取“间接同盟军”的重要性并重新解释他的中间地带思想。1964年1月，中法发布联合公报建交。

——摘编自张锡昌《影响世界格局的“外交核爆炸”》等

高三历史试题 第5页(共6页)

- (1) 根据材料一, 概括《坤輿万国全图》绘制的特点。结合时代背景, 分析该图具备这些特点的原因。(8分)
- (2) 根据材料二, 结合所学, 概括法语的“民族化进程”, 并分析法语发展的影响。(6分)
- (3) 根据材料三, 概括20世纪五六十年代中法两国由敌对到建交的原因, 并用一句话概括中法建交对新中国外交局面的意义。(6分)

24. 阅读材料, 完成下列要求。(12分)

材料 1820—1948年世界贸易增长率与世界工业生产增长率比较表

时段	世界贸易年均增长率(%)	世界工业生产年均增长率(%)
1820—1840年	2.81	2.9
1840—1860年	4.84	3.5
1860—1870年	5.53	2.9
1870—1900年	3.2	3.7
1900—1913年	3.7	4.2
1913—1929年	0.7	2.7
1929—1938年	-1.2	2.0
1938—1948年	0.0	4.1

——摘编自姚曾荫《国际贸易概论》

根据材料并结合所学知识, 自选一个时段, 自拟论题, 对影响世界贸易增长率的主要因素加以分析论述。(要求: 观点正确, 史论结合, 逻辑严谨, 论证充分)

关于我们

自主选拔在线是致力于提供新高考生涯规划、强基计划、综合评价、三位一体、学科竞赛等政策资讯的升学服务平台。总部坐落于北京，旗下拥有网站（[网址：www.zizzs.com](http://www.zizzs.com)）和微信公众平台等媒体矩阵，用户群体涵盖全国 90% 以上的重点中学师生及家长，在全国新高考、自主选拔领域首屈一指。

如需第一时间获取相关资讯及备考指南，请关注**自主选拔在线**官方微信信号：**zizzsw**。

