

## 2023~2024 学年高三核心模拟卷(中)

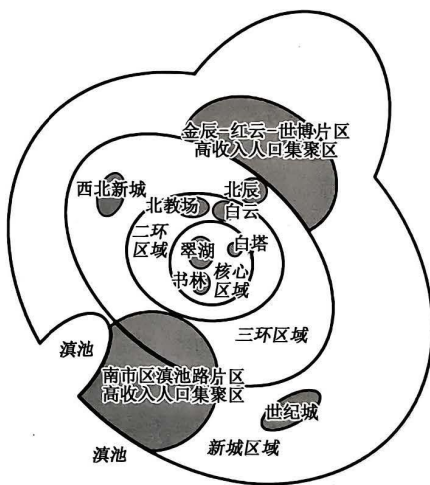
### 文科综合(六)

#### 注意事项:

1. 本卷满分 300 分,考试时间 150 分钟。答题前,先将自己的姓名、准考证号填写在试题卷和答题卡上,并将准考证号条形码粘贴在答题卡上的指定位置。
2. 选择题的作答:每小题选出答案后,用 2B 铅笔把答题卡上对应题目的答案标号涂黑。写在试题卷、草稿纸和答题卡上的非答题区域均无效。
3. 非选择题的作答:用签字笔直接答在答题卡上对应的答题区域内。写在试题卷、草稿纸和答题卡上的非答题区域均无效。
4. 考试结束后,请将本试题卷和答题卡一并上交。

一、选择题:本大题共 35 小题,每小题 4 分,共 140 分。在每小题给出的四个选项中,只有一项是符合题目要求的。

高收入人口在居住选择中具有更大的选择权和主导权,往往居住在城市中较宜居的位置。昆明主城区是昆明城市功能的核心区域。下图示意昆明主城区街区高收入人口居住空间结构。据此完成 1~3 题。



1. 推测对高收入人口居住区位选择影响最大的因素是  
A. 地铁可达性  
B. 居住人口密度  
C. 办公便利性  
D. 周边居住环境
2. 图中两大高收入人口集聚区形成的共同原因最可能是  
A. 政策推动  
B. 制造业较为发达  
C. 高校集聚  
D. 濒临山脉或湖泊

3. 昆明主城区西北部建设的西北新城并没有形成集中连片的高收入人口集聚区, 主要是因为该区域

- A. 距城市中心区较近  
B. 生态环境质量差  
C. 公共服务功能不足  
D. 房产的价格过高

泛亚铁路是一个贯通欧亚大陆的货运铁路网络, 其建设利于加速亚太地区经济一体化进程。铁路“走出去”是我国铁路总公司企业化发展的必然要求, 合作建设和运营泛亚铁路可为我国铁路“走出去”起到示范引领作用。下表示意构想的泛亚铁路网规划。据此完成 4~6 题。

名称	覆盖范围
东北亚通道	连接中国、朝鲜半岛、蒙古、哈萨克斯坦和俄罗斯
东南亚通道	覆盖东盟, 连接马来半岛、柬埔寨、越南和中国
南部通道	从云南和泰国起, 经缅甸、孟加拉国、印度、巴基斯坦和伊朗到达土耳其
北部通道	从芬兰起, 经俄罗斯, 至伊朗、哈萨克斯坦、土库曼斯坦和乌兹别克斯坦, 总长 8.1 万 km, 联通 28 国家

4. 泛亚铁路北部通道建设面临的主要困难是

- A. 冻土广布  
B. 基建投资大  
C. 地震频繁  
D. 移民数量多

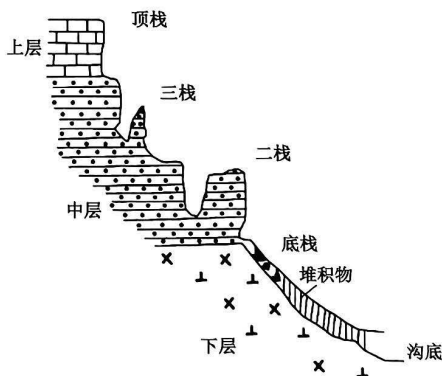
5. 我国与外国合作建设和运营泛亚铁路的主要目的是

- ①传播先进的铁路技术 ②引进高端人才和装备 ③增强国际市场竞争力 ④扩大铁路网的辐射力  
A. ①②  
B. ②④  
C. ①③  
D. ③④

6. 泛亚铁路建设利于加速亚太地区经济一体化进程, 主要体现在

- A. 创造大量高技术就业岗位  
B. 解决东南亚铁路运力不足状况  
C. 实现区域货物贸易一体化  
D. 使得地区间产业得到均衡发展

太行山的中、南段发育了典型的嶂石岩地貌, 其形态特征为色红、顶平、身陡、棱角明显。这一地貌的岩层大致可分为三层: 下层是元古界(距今 25 亿~8 亿年)变质岩; 中层为元古界砂岩和砂质页岩; 上层则是寒武纪(距今 5.41 亿~4.85 亿年)含砾粗砂岩、砾岩, 上覆泥灰岩。嶂石岩地貌形成的重要动力来自横向楔状侵蚀作用和横向掏蚀卸荷作用。下图示意太行山嶂石岩地貌剖面。据此完成 7~8 题。



7. 嶂石岩中层地貌形成过程最可能为

- A. 固结成岩—外力侵蚀—变质作用  
B. 岩浆活动—地壳抬升—外力侵蚀  
C. 固结成岩—地壳抬升—外力侵蚀  
D. 地壳抬升—外力侵蚀—岩浆活动

8. 与太行山嶂石岩横向掏蚀卸荷作用成因相关性最大的是

- A. 岩壁坡度  
B. 岩石性质差异  
C. 植被盖度  
D. 构造运动变化

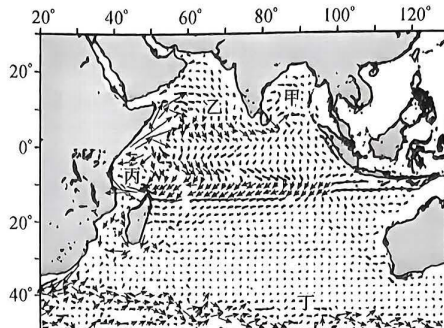
海洋混合层是指海洋—大气相互作用和风浪搅拌作用使海洋近表层产生的厚度一定、水温均一的水层。右图示意印度洋多年平均7月混合层平均水平流速矢量(流体水平平流的方向和强度)的平面分布。据此完成9~11题。

9. 与 $0^{\circ}\sim 20^{\circ}\text{S}$ 相比, $20^{\circ}\text{S}\sim 40^{\circ}\text{S}$ 的印度洋海域

- A. 盐度的水平梯度变化小
- B. 降水较多,盐度较低
- C. 混合层平均水平流速大
- D. 蒸发较弱,盐度较高

10. 推测印度洋混合层平均盐度最高的海域位于

- A. 甲
- B. 乙
- C. 丙
- D. 丁



11. 7月,阿拉伯海西部海域盐度变化趋势及原因分别是

- A. 升高 径流量减少
- B. 降低 降水量增大
- C. 升高 蒸发量变大
- D. 降低 低盐水注入

12. 2023年7月13日,代表16万演艺人员的美国演员工会及广播电视艺人联合会宣布,他们与制片公司的谈判破裂,确定从即日起进行罢工。本次大罢工,原因除了演员、编剧与资方的薪资矛盾外,人工智能(AI)可能取代演员和编剧的威胁成为主要原因。由此可以推断出

- ①科技进步并没有消除无产阶级与资产阶级的矛盾
- ②资本主义生产关系成为生产力进一步发展的障碍
- ③资本主义社会隐蔽的剥削方式越来越暴露无遗
- ④现代资本主义国家工人福利待遇的提高的虚假性

- A. ①②
- B. ①③
- C. ②④
- D. ③④

13. “不坚持社会主义,不改革开放,不发展经济,不改善人民生活,只能是死路一条。基本路线要管一百年,动摇不得。只有坚持这条路线,人民才会相信你,拥护你。谁要改变三中全会以来的路线、方针、政策,老百姓不答应,谁就会被打倒。”与该论断的观点一致的是

- ①社会主义的根本任务是发展生产力,贫穷并不是社会主义
- ②改革开放和社会主义建设新时期为现代化建设提供了根本遵循
- ③广大人民群众是改革开放的实践者、参与者和贡献者
- ④改革是社会主义更新与完善的方式,发展与壮大的方式

- A. ①②
- B. ①④
- C. ②③
- D. ③④

14. 2023年7月24日,文旅部发布《关于进一步提升暑期旅游景区开放管理水平的通知》,加大对“黄牛”、第三方平台违规囤票、倒票,再高价兜售等行为的打击力度,同时完善旅游景区门票分销系统,有效防止“黄牛”挤占票源。文旅部的上述举措

- ①旨在加强旅游市场秩序监管,净化旅游消费环境
- ②有助于维护景区游览秩序,不断扩大旅游资源供给
- ③是基于市场调节自身固有的无法克服的自发性弊端
- ④说明个别行业和领域适度限制资本扩张的必要性

- A. ①②
- B. ①③
- C. ②④
- D. ③④

15. 自 2023 年 7 月 1 日起,上海市最低生活保障标准,从每人每月 1 420 元调整为每人每月 1 510 元;重残无业人员、司法老残等 3 类对象,从每人每月 1 850 元调整为每人每月 1 970 元,增加 120 元;失业保险金和工伤保险待遇标准也都进行了上调。上述调整
- ①根本原因是上海市经济持续健康发展 ②充分体现了以人民为中心的发展思想 ③能普遍提高上海市居民的转移性收入 ④符合社会保障“应保尽保”原则的要求
- A. ①②                      B. ①④                      C. ②③                      D. ③④
16. 山东省鱼台县委、县政府陆续组织全县各村委与老人、子女签订《赡养老人三方协议》,用制度、用法律约束子女,形成了子女赡养老人的长效机制。签订协议后,子女须定期将赡养费交给村委,村委再将费用转交给老人。这
- ①说明上级政府的支持有助于基层政府开展工作 ②体现了党和政府在农村基层自治中的积极作用 ③是基层自治工作方式创新促进社会和谐的体现 ④表明《三方协议》为村民自治提供了法律依据
- A. ①②                      B. ①④                      C. ②③                      D. ③④
17. 2023 年 7 月 25 日,《刑法修正案(十二)草案》提请十四届全国人大常委会第四次会议审议。针对一些行贿人以单位名义行贿,规避处罚,导致案件处理不平衡,惩处力度不足的问题,草案将单位行贿罪刑罚由原来最高判处五年有期徒刑的一档刑罚,修改为两档刑罚:“三年以下有期徒刑或者拘役,并处罚金”和“三年以上十年以下有期徒刑,并处罚金”。这一调整
- ①体现了科学立法的要求,有助于立管用之法 ②是基于执法从严才能有效遏制各类犯罪行为 ③是为了与新时代中国特色社会主义实践相适应 ④缘于法律条款越细致越有利于规范人们的行为
- A. ①②                      B. ①③                      C. ②④                      D. ③④
18. 为减少患者就医过程中的时间消耗,广东珠海、深圳、广州多地上线试行“信用就医”,让患者看病再也无需奔波缴费了。“信用就医”将信用体系与就医服务相融合,参保人在挂号、检查、取药等环节无需进行任何付费操作。这蕴含的哲理是
- ①人民群众始终是社会发展和进步的引领者和主力军 ②要想成功开展实践活动就必须充分发挥主观能动性 ③充分利用社会提供的客观条件有助于实现人生价值 ④价值判断和价值选择要自觉站在最广大人民的立场上
- A. ①③                      B. ①④                      C. ②③                      D. ②④
19. 系列节目《课本中的苏轼》对接广大师生学习诵读需要,根据朗诵中普遍存在的实际问题,通过探访、讲解、诵读和互动等方式,实地实景详细讲解中小学教材中 12 篇苏轼诗词及其朗诵技巧,以专家示范、学生朗读等形式,帮助观众体悟苏轼诗词的音韵美、节奏美、意境美。这有助于
- ①融通中外文化资源,实现综合创新 ②为广大青少年的发展提供方向保证 ③实现中华优秀传统文化的创造性转化 ④弘扬博大精深的中华优秀传统文化
- A. ①②                      B. ①③                      C. ②④                      D. ③④
20. 2023 年 7 月 28 日,中国常驻联合国副代表耿爽在安理会维和行动保护平民问题公开会上发言,呼吁安理会尽快解除对有关非洲国家的制裁。耿爽说,安理会的制裁措施严重制约了有关非洲国家履行保护平民职责的能力,应当尽快解除。上述发言
- ①表明中国推动世界多极化,帮助提升非洲的国际话语权 ②符合我国维护世界和平、促进共同发展的外交政策宗旨 ③是为了推动国际秩序朝着更加公正更加合理的方向发展 ④说明我国维护本国国家利益的同时兼顾他国的合理关切
- A. ①②                      B. ①④                      C. ②③                      D. ③④

21. 美国政府接连不断对我国发起芯片之战,不但未能阻挡我国芯片崛起的步伐,反而让美国芯片巨头集体撑不住了。2023年7月17日,美国高通、英特尔、英伟达三大芯片巨头集体赶赴华盛顿请愿,要求放宽对中国芯片制裁的管控。英特尔 CEO 发出警告:如果没有来自中国的订单,全球最大芯片制造基地也没必要建了。可见,三大芯片巨头提出上述要求的原因是
- ①美国芯片企业不愿失去中国这个巨大的芯片市场 ②作为高端工业核心产品,芯片的地位越来越重要 ③我国加大研发力度,即将在芯片领域有重大突破 ④美国对中国芯片制裁管控的损失远远大于收益
- A. ①③                                      B. ①④                                      C. ②③                                      D. ②④
22. 田某竞聘上了某红酒公司销售员的职位,双方约定按月支付其 4 000 元工资,但公司未与他签订劳动合同。入职三个月之后,销售业绩达标的田某却未得到工资,于是向公司提出辞职,并要求公司支付他自入职至今拖欠的工资。红酒公司以田某销售业绩不佳为由拒绝支付拖欠的工资款。田某遂向劳动仲裁委员会提起了劳动仲裁。对此仲裁合理的是
- ①补签劳动合同不得解除劳动关系 ②同意田某终止劳动关系的诉求 ③公司只补发田某三个月的工资 ④公司须支付工作期间双倍的工资
- A. ①②                                      B. ①③                                      C. ②④                                      D. ③④
23. 2023年7月14日,我国外交部发言人表示:美方关于涉疆问题的一些不实指控可以堪称本世纪最大的谎言之一。“说到侵犯人权,过去 40 年间,新疆维吾尔族的人口已经从 555 万增加到了 1 168 万,是 40 年前的两倍还多。美方见过这样的人口或者说种族的灭绝吗?”如果把我国发言人的反驳看成一个假言推理,我国发言人的推理形式是
- A. 通过肯定充分条件假言判断的前件肯定其后件  
B. 通过肯定必要条件假言判断的前件肯定其后件  
C. 通过否定充分条件假言判断的后件否定其前件  
D. 通过否定必要条件假言判断的后件否定其前件
24. 《荀子》中记载了春秋战国时期中原地区土特产交易情况:“北海则有走马吠犬焉,然而中国得而畜使之。南海则有羽翮、齿革、曾青、丹干焉,然而中国得而财之。东海则有紫紵、鱼盐焉,然而中国得而衣食之。”这一交易情况
- A. 印证了社会大分工的出现                                      B. 得益于诸侯国间的通商政策  
C. 表明商人社会地位的提升                                      D. 促进了长途贩运贸易的兴盛
25. 有学者对曹丕的“诗赋不必寓教化”的观点进行评述时指出,曹丕的这个时代可以说是“文学的自觉的时代”,当时所谓“风骨”“风韵”“意象”的产生均源自于文人的“自觉意识”。这种“自觉意识”
- A. 体现出文学重视个性与法度                                      B. 可用于研究南北文化的差异  
C. 受到社会变革与动荡的影响                                      D. 印证思想融合成为时代主题
26. 下面所示是部分史籍对北宋时期政治现象的有关记载。据此可知,北宋时期

记 载	出 处
“普(赵普)曰:‘……且刑赏者,天下之刑赏,非陛下之刑赏也,岂得以喜怒专之。’上弗听……普立于宫门,良久不去,帝竟其请”	《续资治通鉴长编》
“章圣朝,帑藏盈溢,其名数皆籍于三司,其总数在三司使得知之。章圣屡欲知其数,宰相李文靖沉终不肯令供,恐其知数而广用也”	《宋宰辅编年录校补》
“臣等伏睹陛下以灾变屡见,飞蝗为孽,责躬引过,祈于天地、宗庙、社稷,不令殃及万方……避正殿,撤常膳,深自刻责,思所以致之及政治之理,以至册免三公者有之”	《续资治通鉴长编》

【高三核心模拟卷(中)·文综(六) 第 5 页(共 12 页)】

XKB



- A. 士大夫政治具有较大影响力  
B. 官僚政治开始走向成熟  
C. 崇文抑武政策致使君权式微  
D. 中央集权制度得到加强
27. 明初承袭元制,匠户“役皆永充”“以原报抄籍贯为定”。洪武十九年(1386年)规定:“令籍诸工匠;其丁力,定以三年为班……如期交代,名约轮班匠。”成化年间(1465~1487年),“轮班工匠有愿出银价者,免赴京”,如不愿者,在“充役”后的“剩余”亦可“利归于己”。这种变革
- A. 促成了工匠社会地位的提高  
B. 瓦解了官营手工业的地位  
C. 表明雇佣成为主要用工方式  
D. 有益于民营手工业的发展
28. 清光绪初年,“天下有事,功名多途”逐渐取代“以试为选”的“主流”文人追求,出现了新的“仕官捷径”。据王韬《弢园文录外编》记载:“凡属洋务人员,例可获优缺,擢高官,而每为上游所器重,侧席谘求……无不自命为治国之能员、救时之良相。”这一现象
- A. 源于洋务运动路线发生转变  
B. 表明地方实力派势力剧增  
C. 说明民族国家建构意识增强  
D. 反映出社会转型期的特点
29. 右表所示为近代中国具有较大影响力的报刊之一——《大公报》上1914~1918年刊登的外商广告情况(单位:个)。这一情况
- A. 印证了列强侵华方式发生转变  
B. 深受当时国际形势的影响  
C. 折射出新闻传媒引领政治变革  
D. 刺激了实业救国思潮兴起
30. 学者王奇生指出,1915~1925年间中国三次声势浩大的集体运动(即1915年反“二十一条”、1919年五四运动、1925年五卅运动),就动员规模而言呈现出递增的态势——“事件”——“运动”——“革命”,而这三次危机的“口号”却呈现出“亡国”——“亡省”——“亡人”的递减格局。造成这种演变的重要原因是
- A. 新旧民主主义革命目标不同  
B. 列强殖民侵略力度增强  
C. 国民民族主义意识逐步提高  
D. 共产国际的介入与指导
31. 下面是1978~1989年中国财政收支占比情况表(单位:%)。据此可推知,这一时期中国

时间	国别	
	英国	日本
1914年1月~3月	15	9
1916年6月~8月	5	6
1918年9月~11月	6	13

	中央收入占比	地方收入占比	中央支出占比	地方支出占比
1978	15.5	84.5	47.4	52.6
1979	20.2	79.8	51.1	48.9
1980	24.5	75.5	54.3	45.7
1981	26.5	73.5	55.0	45.0
1982	28.6	71.4	53.0	47.0
1983	35.8	64.2	53.9	46.1
1984	40.5	59.5	52.5	47.5
1985	38.4	61.6	39.7	60.3
1986	36.7	63.3	37.9	62.1
1987	33.5	66.5	37.4	62.6
1988	32.9	67.1	33.9	66.1
1989	30.9	69.1	31.5	68.5

- A. 经济发展活力得到激发  
B. 城乡二元结构得到了局部调整  
C. 公有制的主导地位改变  
D. 市场成为资源配置的决定要素
32. 亚述帝国时期,基层法庭中没有专业法官,最常见的审判人员为由国王任命的市长和“剃头官”等城镇官员。此外,庭审流程上,“返回法庭”的环节不再采用,多是在市长介入下一次性达成“和解”或裁决。这表明亚述帝国时期
- A. 司法活动更加公正化和规范化  
B. 司法审判摆脱形式主义  
C. 统治者侧重拓展法律适用范围  
D. 司法渗透鲜明的专制性
33. 加尔文教教义突出各种“约”,特别是与以上帝作为见证的、上帝与人民直接立的约,同时加尔文引使徒的话为依据:“顺从神,不顺从人,是应当的,高傲的君主们完全瞎了眼,以至于他们以为自己就是上帝。”这些思想
- A. 顺应了资本原始积累的要求  
B. 有利于推动西方政治近代化转型  
C. 推动了近代民族主义的兴起  
D. 意在运用世俗权力拓展教会影响
34. 下面是 1882 年普鲁士不同等级城市职业分布比重情况(单位:%)。据此可知,当时普鲁士

	超过 100 000 人的大城市	20 000~100 000 人的中等城市	5 000~20 000 人的小城市	2 000~5 000 人的城镇	2 000 人以下
农、林、渔业	1.1	3.3	10.3	27.7	68.6
建筑与工业	49.7	51	52.1	46.6	20.9
贸易与交通	22.1	16	12.3	9.5	3.7
国内服务	6	5.4	5	3.6	0.7

- A. 城乡资源整合促进了优势互补  
B. 城市格局以中小城市为主体  
C. 城市间工业化水平存在着差异  
D. 科技进步推动中间阶层发展
35. 下面是 1962 年英国迈克尔·康明斯发表的漫画《比骆驼穿针还难》,漫画中的四个人物分别是英国首相哈罗德·麦克米伦(骆驼脸者)、美国总统肯尼迪(持剪刀者)、法国总统和德国总理(针眼脸者)。该漫画揭示了

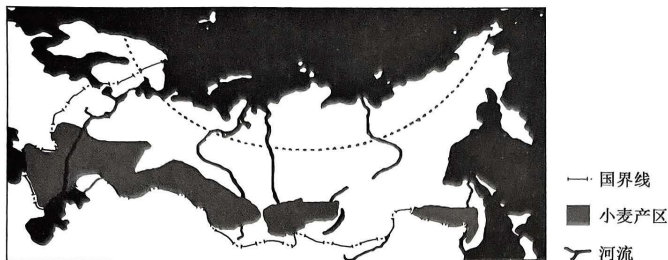


- A. 欧洲共同体内部离心力增强  
B. 区域集团化深受国家利益的制约  
C. 大国强权政治影响国际安全  
D. 两极格局促使国际经济合作困难

二、非选择题：本大题包括 9 小题，共 160 分。

36. 阅读图文材料，完成下列要求。(28 分)

俄罗斯拥有小麦生产的天然优势，是全球小麦主要出口国，其出口国家以周边邻国和非洲为主。与美国、加拿大等传统小麦生产国相比，俄罗斯小麦单产较低。小麦是我国净进口的大宗农产品之一，主要的进口来源国有加拿大、美国等，从俄罗斯进口小麦的数量非常少。下图示意俄罗斯小麦产区分布。



- (1) 指出俄罗斯种植小麦的天然优势。(8 分)
- (2) 与美国、加拿大等国相比，推测俄罗斯小麦单产较低的可能原因。(8 分)
- (3) 分析我国从俄罗斯进口小麦数量少的主要原因。(6 分)
- (4) 俄罗斯小麦出口对非洲影响力强，试对此作出合理解释。(6 分)

37. 阅读图文材料，完成下列要求。(28 分)

受副热带高压等因素的影响，我国东南沿海地区是台风登陆的主要区域。1949~2022 年数据显示，广东为全国台风登陆次数最多的省份。研究发现，广东地区在台风来临前一般天气晴朗。图 1 示意我国东南沿海主要省(区、市)，图 2 示意 2000~2022 年各月登陆我国台风数量及其占比。

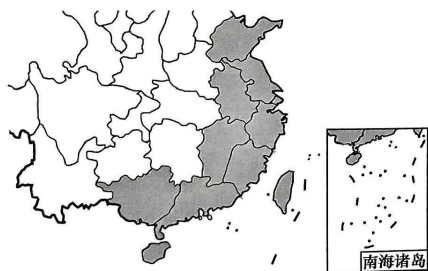


图 1

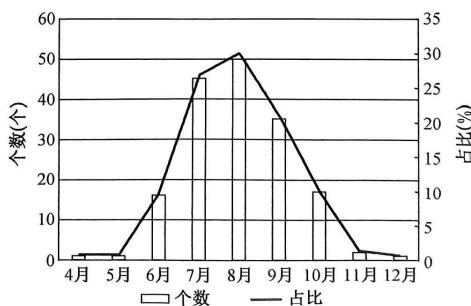


图 2



- (1)分析广东成为全国台风登陆次数最多的省份的主要原因。(6分)
- (2)简析广东地区在台风来临前一般天气晴朗的原因。(4分)
- (3)指出2000~2022年登陆我国台风数量最多的月份,并说明原因。(8分)
- (4)近年来,台风对我国造成的损失呈下降的趋势,试说明理由。(4分)
- (5)在全球气候变暖的大背景下,推测登陆我国台风的主要变化。(6分)

38. 阅读材料,完成下列要求。(12分)

2023年6月30日,中共中央政治局召开会议,审议《关于支持高标准高质量建设雄安新区若干政策措施的意见》。

会议强调,要结合雄安新区现阶段的实际需要,紧紧围绕疏解人员利益关切,有针对性地采取支持措施。要积极探索和遵循城市建设发展规律,强化节约集约、绿色低碳,合理把握建设规模和节奏,创造“雄安质量”。要坚持探索创新、先行先试,处理好当前和长远、政府和市场等关系,有针对性地推动相关领域改革创新举措在雄安新区落地实施。要聚焦城市治理架构、公共服务制度等,加强雄安新区未来城市建设运营管理体制的前瞻设计,积极探索具有中国特色的现代化城市治理新模式。中央和国家机关有关部门要主动指导服务,同向发力、形成合力,创造性地贯彻落实,阶段性进行总结评估,确保各项政策落地见效,推动雄安新区建设不断取得新进展、迈上新台阶。

结合材料,运用政治与法治知识,分析党在雄安新区建设中的作用。

39. 阅读材料,完成下列要求。(10分)

2023年第一季度,中国大陆个人电脑出货量为890万台。联想仍位居中国个人电脑厂商之首,达到330万台,市场份额达36.7%;华为本季度表现强劲,个人电脑出货量增长34%,接近100万台,位居第二,市场份额达10.7%;第三名惠普出货量下降幅度较少,市场份额达10.2%;戴尔在中国五大厂商中的个人电脑出货量跌幅最大,减少45%,位列第四,市场份额达8.5%。

早在2023年1月份,戴尔就向美国政府表忠心,说是要杜绝使用来自中国大陆的零部件,而且还明确告知合作供应商必须要大幅减少中国大陆的供货,声称要在2025年年底将50%的产能撤出中国大陆。这次在中国市场出货量直接暴跌45%,是戴尔公司没有想到的。对此,中国网友的评论是:“戴尔想要‘去中国化’,却反被中国消费者‘去戴尔化’!”

结合材料,运用当代国际政治与经济知识,说明戴尔“去中国化”决策失败的必然性。

40. 阅读材料,完成下列要求。(20分)

**【中华文明与文化自信】**

随着“盛世中华 何以中国”网上主题宣传启动,由中外记者、专家学者等组成的采访团从陕西西安出发,开启一段精彩的探源之旅,帮助我们破译文明密码、坚定文化自信。

文化自信是一个国家、一个民族发展中更基本、更深沉、更持久的力量。“盛世中华 何以中国”网上主题宣传,透过文物、遗产、文字,让人们愈发惊叹于中华文明的博大精深、源远流长。从包含丰富知识的经史子集、算术方技,到彰显深邃智慧的四书五经、六韬三略,从展示高超技艺的玉雕铜器、陶瓷丝织,到蕴含高雅趣味的琴棋书画、诗词歌赋,数不胜数的文化创造使我们的文化自信更加坚定。

(1)结合材料,运用意识的作用的知识,说明举办“盛世中华 何以中国”网上主题宣传活动的意义。(10分)

**【文化传承和发展】**

“盛世中华 何以中国”网上主题宣传启动仪式围绕习近平总书记在文化传承发展座谈会上提出的中华文明的“五个突出特性”,来自网信、文物、媒体领域的嘉宾们进行主题分享:用“一把手铲”和“一片甲骨”的故事讲述中华文明源远流长;分享古丝绸之路上的文明互鉴之美,坚定“我心归处是中华”的文化自信;探索以文化“两创”赋予新时代中国特色社会主义文化新形态的新表达,展现中华优秀传统文化在青少年群体中绽放的传承发展力量。

(2)指出“用‘一把手铲’和‘一片甲骨’的故事讲述中华文明源远流长”属于哪种推理方式,并运用这种推理方式,选取一件熟悉的物品阐明中华文化源远流长、博大精深。(10分)

41. 阅读材料,完成下列要求。(10分)

汪某与李某婚内育有汪甲等子女。龚某与汪甲系夫妻,两人亦育有两位子女。汪甲于2016年4月去世,未留有遗嘱。2023年9月12日,汪某与李某以公证方式签署《放弃汪甲遗产继承声明书》,表示自愿、不可撤销地放弃对汪甲遗产的法定继承权。2023年10月12日,汪某、李某称受骗签署相关材料,放弃继承并非真实意思表示,遂提起诉讼请求分割汪甲的遗产。

结合材料,运用法律与生活知识,判断汪某、李某的诉讼请求是否合理,并说明理由。

42. 阅读材料,完成下列要求。(25分)

材料一

《齐东野语》记载,“自为遇仙酒肆……遂为湖山旗亭之甲”。宋代时期,这种供人休息驻足的旗亭大量兴建,不少商家因地制宜地在此开设酒肆、茶肆之类。在汴京、洛阳、临安等大城市中,街道不断被拓宽,城中河堤修葺一新,“浮铺”“车担”等流动小贩穿梭其中,成为百姓休闲、赏景、作诗、品茗和社交的绝佳场所,不同身份、职业的人活跃其中,通宵达旦。节日期间,皇帝更是在御街进行“赐御酒”“撒金钱”活动。《岁时广记》“探春游”中载:“大抵都城(汴京)左近皆是园圃,百里之内并无闲地,并纵人赏玩。”此类的城市公共空间在两宋时期得到快速发展,宋政府在节假日活动期间加强治安、消防等方面的管控;并为防止民众对公共场所地的侵占和破坏,政府数次组织对乱建房舍的拆除、雇佣民众对园圃和街道清洁及对恶意破坏市容卫生人员的抓捕。

——摘编自吴彩霞《试论宋代的城市公共空间》

材料二

1951年,中共中央指出,“在城市建设计划中,应贯彻为生产,为人民服务的观点”,同时规定允许使用地方财政进行市政工业设施及城市公共空间的修建。各城市采用以工代赈的方法,结合爱国卫生运动,发动群众,清运垃圾、疏浚河道、开辟苗圃、恢复整理旧有公园。1953年后,在苏联专家的指导下,国家投资与城市规划局对公共空间的人均面积、功能分区和分布等进行了针对新建城市 and 旧城市的不同远景规划。除了拓宽马路、规划道路信号灯等,新建城市广场成为这一时期城市建设的亮点,最主要和常见的城市广场是大规模群众性的政治集会场所,空间尺度追求宏大、空间气氛追求宏伟,如北京天安门广场、成都人民广场;此外交通广场广泛筹建,尤其是火车站前广场、机场航运枢纽站广场,不仅解决了人流、车流的集散,也成为旅客的短暂休闲、休憩空间。

——摘编自周波《城市公共空间的历史演变——以20世纪下半叶中国城市公共空间演变为研究重心》

- (1)根据材料一并结合所学知识,概括宋朝城市公共空间的特点,并指出其发展的原因。(14分)
- (2)根据材料二并结合所学知识,指出与宋朝时期相比,20世纪50年代中国城市公共空间发展的表现。综合上述材料,谈谈你对城市公共空间的认识。(11分)

43. 阅读材料,完成下列要求。(12分)

材料

在两千多年的西方政治哲学史上,政治哲学家关注和研究了许多问题。其中有些问题是自古至今政治哲学家始终关注的,有些问题是近现代才关注的,有些是理论问题,有些是实践问题,这些问题之间存在着极其复杂的关联。下面是西方政治哲学重点关注的八大问题。

【高三核心模拟卷(中)·文综(六) 第11页(共12页)】

XKB

理想社会问题
社会公正问题
国家产生的正当性及其应然本质问题
政体和制度的合理性问题
权力的合法性和制约性
法治的重要性及其与自然法的关系问题
公民社会及其与国家关系问题
公民的德性和权利问题

——摘编自江畅《西方政治哲学重点关注的八大问题》

从材料中选取一个或多个角度，自拟论题，并结合所学世界史的相关知识对其加以阐述。（要求：论题明确，持论有据，阐述充分，表达清晰。）

44. 阅读材料，完成下列要求。（15分）

材料

1944年9月15日，林伯渠在重庆举行的三届三次国民参政会上代表中国共产党提出“立即结束一党统治的局面，由国民政府召开各党各派、各抗日部队、各地方政府、各人民团体的代表开国事会议，组织各抗日党派联合政府”，指出唯有联合政府才能“新天下耳目，振奋全国人心，鼓励前方士气，以加强全国团结，集中全国人材，集中全国力量”。

1945年4月，毛泽东在《论联合政府》中指出联合政府是“一个以全国绝对大多数人民为基础而在工人阶级领导之下的统一战线的民主联盟”；1946年，周恩来指出“政协就是党派会议，在政协决议中承认了联合政府。照政协的决议改组的政府，就是联合政府”。

1947年10月10日，中国共产党在《中国人民解放军宣言》中提出“联合工农兵学商各被压迫阶级、各人民团体、各民主党派、各少数民族、各地华侨和其他爱国分子，组成民族统一战线，打倒蒋介石独裁政府，成立民主联合政府”。

——摘编自严志才《中国共产党的“联合政府”口号的演变》

根据材料并结合所学知识，概括中国共产党“联合政府”口号的演变及其影响。

## 关于我们

自主选拔在线是致力于提供新高考生涯规划、强基计划、综合评价、三位一体、学科竞赛等政策资讯的升学服务平台。总部坐落于北京，旗下拥有网站（[网址：www.zizzs.com](http://www.zizzs.com)）和微信公众平台等媒体矩阵，用户群体涵盖全国 90% 以上的重点中学师生及家长，在全国新高考、自主选拔领域首屈一指。

如需第一时间获取相关资讯及备考指南，请关注**自主选拔在线**官方微信信号：**zizzsw**。

