

姓名: _____ 准考证号: _____

秘密★启用前

2023-2024 学年第一学期高三年级联考

文科综合试题

(考试时间 150 分钟, 满分 300 分)

注意事项:

1. 答题前, 考生先将自己的姓名、准考证号填写清楚, 将条形码准确粘贴在条形码区域内。
2. 全部答案在答题卡上完成, 答在本试题上无效。
3. 回答选择题时, 选出每小题答案后, 用 2B 铅笔把答题卡上对应题目的答案标号涂黑。如需改动, 用橡皮擦干净后, 再选涂其他答案标号。回答非选择题时, 将答案用 0.5mm 的黑色笔迹签字笔写在答题卡上。
4. 考试结束后, 将本试题和答题卡一并交回。

一、选择题: 本大题共 35 小题, 每小题 4 分, 共 140 分。在每小题给出的四个选项中, 只有一项是符合题目要求的。

S 村位于贵州省盘州市北部, 曾是该地最偏远贫困的少数民族地区。该村立足旅游资源, 实施产业富村、商贸活村、生态立村、旅游兴村、科技强村, 建成百姓富、生态美的乡村发展示范区域, 通过三变模式(资源变资产、资金变股金、农民变股东), 走出了一条新道路, 实现了自身的转型升级。据此完成 1~3 题。

1. 推测 S 村面临的主要生态环境问题是

- A. 沙漠化 B. 红漠化 C. 石漠化 D. 盐渍化

2. “三变模式”对当地产业结构转型升级的作用主要体现在

- A. 整合资源盘活乡村资源 B. 创新农业生产经营体系
C. 增强村民参与的积极性 D. 入股分红增加村民收益

3. 该村“产业富村”中的产业包括

- ①商品谷物种植 ②高原湿地公园 ③农业休闲旅游 ④红木木材加工

- A. ①③ B. ①④ C. ②③ D. ②④

位于山西北部的应县瓷石资源丰富, 陶瓷生产历史悠久。应县陶瓷始于北宋, 盛于明清, 2013 年, “应县陶瓷”获中国地理标志商标。近年来应县陶瓷产业崛起, 生产规模不断扩大, 年产日用瓷可达 10 亿件, 产品远销国内外, 被称为“中国北方日用瓷都”。据此完成 4~5 题。

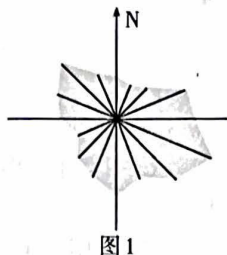
4. 应县陶瓷产业兴起的主要区位因素是

- A. 原料燃料丰富 B. 生产历史悠久 C. 水陆交通便利 D. 市场需求量大

5. 与景德镇陶瓷相比,应县陶瓷需

- A. 转型发展建筑用瓷
B. 加大品牌宣传力度
C. 降低生产能源消耗
D. 扩大陶瓷生产规模


我国城镇化面临大气污染严重、城市雾霾频发、热岛效应严重等诸多挑战。在规划设计中,如何通过城市结构优化和空间形态控制达到改善城市微气候环境的目的,是当前城市规划研究中的重要问题。图1示意我国北方T市风向玫瑰图。据此完成6~8题。




6. 为缓解雾霾和热岛效应问题,该市通风廊道的主要延伸方向为

- A. 西北-东南
B. 东-西
C. 东北-西南
D. 南-北

7. 为达到夏季通风散热、冬季防风防寒且尽量避免静风的目的,该市中心城区居住街坊(高层为7层以上,多层为7层或以下)适宜采用的布局模式为



①点式高层



②板式高层+点式高层



③板式多层+点式高层



④板式多层+点式高层

- A. ①
B. ②
C. ③
D. ④

8. 为优化城区微气候环境,该城市空间优化布局策略合理的是

- A. 街道与冬季风平行、与夏季风垂直
B. 南高北低差异化的街区围合度
C. 小街廓、密路网、高密度建筑布局
D. 北高南低和错落式的高层建筑布局

曾是我国第二大咸水湖的罗布泊,因塔里木河补给水源减少,于1972年干涸。在20世纪90年代人们在干涸的罗布泊发现了大规模的卤水钾盐矿,为了规模化生产钾肥,人类“营造”了一片面积达200平方千米的湖面,干涸的罗布泊再次复活,百里盐河和万顷盐池重现碧波荡漾。据此完成9~11题。

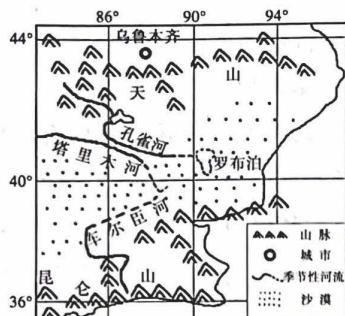


图2



图3

9. 推测罗布泊湖泊消失的原因可能为
A. 引湖水灌溉 B. 围湖造田 C. 引河水灌溉 D. 降水减少
10. 罗布泊重现碧波荡漾的水源来源于
A. 河水 B. 大气降水 C. 高山冰川融水 D. 地下水
11. 罗布泊复活可能导致周边地区
A. 昼夜温差增大 B. 生物多样性增加
C. 荒漠化加剧 D. 空气湿度减小
12. “自由人的联合体”是马克思对共产主义理想社会的本质规定，“天下为公”则是中国古代哲人的大同理想。现如今，人类命运共同体理念彰显了中国将本国命运与世界命运紧密联系在一起的价值取向。据此，下列认识正确的是
①马克思主义与中华优秀传统文化有相同的文化基因
②人类命运共同体理念贯穿了马克思主义的价值追求
③人类命运共同体理念汲取了中华优秀传统文化精华
④马克思主义作为永恒真理没有过时也永远不会过时
A. ①② B. ①④ C. ②③ D. ③④
13. 中国式现代化深深植根于中华优秀传统文化，打破了“现代化=西方化”的迷思，展现了不同于西方现代化模式的新图景，拓展了发展中国家走向现代化的路径选择。这表明中国式现代化
①充分展现了中国共产党坚持守正创新理论逻辑
②是广大发展中国家创造人民美好生活的必由之路
③为人类对更好社会制度的探索提供了中国方案
④为人类实现现代化提供了根本范式和中国智慧
A. ①② B. ①③ C. ②④ D. ③④
14. 安徽是农村改革的发源地，以敢闯敢试、敢为人先的改革精神闻名天下。站在新的“改革窗口期”，开展形式多样的“小田变大田”探索实践，成为了安徽促进农田增量、农业增效、农民增收的新举措。关于这一举措发挥作用的过程，下列分析正确的是
①田块拆零并整→推动高标准农田建设→提升耕地产出效益→促进农民增收
②加快土地流转→农民摆脱土地的羁绊→向二三产业集中→实现多渠道增收
③发展适度规模经营→盘活集体资产→壮大村集体经济→发展成果农民共享
④整合土地资源→减轻农民劳动负担→实现农田集中管理→全体农民奔小康
A. ①② B. ①④ C. ②③ D. ③④

15. 随着科技的发展,数字经济已无处不在。在此影响下,产品的价值链也在发生着根本性的变化。例如,智能家居产品不仅仅是一个物理产品,它还可以通过联网、收集数据、远程控制等,为用户提供更加便捷、智能的生活体验。这种基于数据的价值创造将会
- ①加速制造业的服务化转型,为制造业打开新的增长空间
②极大地降低企业的经营风险,为企业带来新的收入来源
③用数字化赋能新消费,快速提升用户的消费效率和数量
④助力企业运用数据有效捕捉消费需求,推进供给侧改革
- A. ①② B. ①④ C. ②③ D. ③④
16. “中国共产党始终是人民的党。危难之际,我们党的各级组织和党员干部,都会为人民冲在第一线。”这是习近平总书记在北京、河北看望慰问受灾群众时的讲话。从中我们可以感受到
- ①中国共产党人立足广大人民需要,改进工作作风
②中国共产党人不忘初心,不断增强“四个意识”
③中国共产党饱含人民情怀,始终坚持为民执政
④党员的先锋模范作用是党的先锋队性质的体现
- A. ①② B. ①③ C. ②④ D. ③④
17. 针对部分单位存在的外聘法律顾问“聘而不问”“问质不高”等问题,某地探索建立了党政机关法律顾问“让数据跑起来”的考核评价新机制,通过“指尖可达、无线追问”的党政法律顾问服务,让公众零距离零成本享受高质量的法律服务。此举
- ①旨在创新行政机关涉法事务和法律服务供给与管理模式
②有利于加强公共法律服务体系建设,落实依法治国方略
③通过实时监督顾问履职,有利于健全党内民主监督机制
④意在推动法治政府建设数字化转型,提高行政服务水平
- A. ①② B. ①③ C. ②④ D. ③④
18. 贵州“村BA”强势出圈、临沂郯城村民把秸秆变成工艺品实现点“草”成金、江西婺源加快农文旅融合让“梦里老家”可触可感……近年来,越来越多的地方深挖乡村文化资源,强化文化赋能,取得积极成效。乡村发展文化产业,有利于
- ①以文塑形,打造村庄独特品牌,实现经济效益居首位
②以文铸魂,固守乡土文化记忆,赓续中华文脉强自信
③以文润村,促进农文旅深度融合,全面推进乡村振兴
④以文富民,让农民实实在在既“富口袋”又“富脑袋”
- A. ①② B. ①③ C. ②④ D. ③④
19. “成长路上,所有曾经吃过的苦,都会变成未来回忆的甜。”习近平总书记在给中国农业大学科技小院同学们的回信中,对同学们提出的“青年人就要‘自找苦吃’”这一体会给予了充分肯定。这其中蕴含的哲学道理是
- ①矛盾双方相互包含,共处于同一个统一体中
②矛盾双方相互渗透,在相互统一中推动发展
③矛盾双方相互贯通,在一定条件下会相互转化
④矛盾既对立又统一,同一性与斗争性相互转化
- A. ①② B. ①③ C. ②④ D. ③④

2023年11月16日至17日,亚太经合组织第三十次领导人非正式会议在美国举行。国家主席习近平出席会议并发表重要讲话。据此回答20~21题。

20. 亚太经合组织是亚太地区重要的经济合作论坛,自成立以来在推动区域贸易投资自由化、加强成员间经济技术合作等方面发挥了不可替代的作用。关于亚太经合组织,下列认识正确的是

- ①它有效实现了成员国间经济和政治的全方位合作
- ②它秉持开放的地区主义构筑包容普惠的合作架构
- ③它是当今世界一体化程度最高的区域性国际组织
- ④它在组织方式上坚持单边行动与集体行动相结合

A. ①③ B. ①④ C. ②③ D. ②④

21. 习近平主席指出:“中国已经成为最佳投资目的地的代名词,下一个‘中国’,还是中国,欢迎各国工商界朋友们继续投资中国、深耕中国!”这是基于

- ①中国经济韧性强潜力足,已经实现全面开放
- ②中国的产业体系配套完整,且市场规模庞大
- ③中国拥有高素质劳动者和企业家的人才优势
- ④中国具有社会主义市场经济的根本制度优势

A. ①② B. ①④ C. ②③ D. ③④

22. 近日,某大学生在H餐厅用餐时,认为消毒餐具每套收费1元是不合理的,于是用餐后将餐具打包带走,此事引发网络热议。对此,下列认识正确的是

- ①该餐厅收取餐具费的行为侵害了消费者的知情权
- ②该餐厅的行为违背了民事合同中的诚信公平原则
- ③大学生付费后将餐具带走是合理的并值得提倡的
- ④消费者有权向消费者协会或者市场监管部门投诉

A. ①③ B. ①④ C. ②③ D. ②④

23. 山西博物院推出的“鸟尊”系列文创雪糕(如图4),优选了芒果味和抹茶味。两种口味的黄色和绿色,使观众直观了解到青铜器的前世今生,在全国文博界引起广泛关注。这种借味蕾串联古今的文创产品体现了



图4

- ①形象思维可以给予文化创意以艺术性的表达
- ②抽象思维会让文化创意的深度得到有效提高
- ③超前思维可以给予文化创意以新的产品定位
- ④联想思维可以更进一步拓展文化创意的边界

A. ①② B. ①④ C. ②③ D. ③④

24. 春秋战国时期,农家代表人物许行提出“君民并耕”之说,要求人人都成为自食其力的劳动者;墨家代表人物墨子提出“节葬”的主张,认为葬礼不分贵贱,一律“桐棺三寸”,也不需要守丧。上述主张反映了当时

- A. 农民阶级的平均思想
- B. 重农抑商的不断发展
- C. 社会阶层的分化加剧
- D. 社会思想的融合趋势

高三文综试题 第5页(共12页)

- 33.《共产党宣言》刚出版时,还未讲到如何对待旧的国家机器的问题。6月巴黎爆发了工人阶级反对资产阶级临时政府的起义,革命在法国局部冲破了资产阶级革命的范畴。马克思与恩格斯参加了这场革命,他们总结革命教训时提出了“打碎”的思想。这表明马克思主义
- A. 指导了巴黎公社革命
B. 在实践中不断丰富发展
C. 揭露了资本主义弊端
D. 继承法国大革命的精神
- 34.《谢尔曼法》是1890年美国国会制定的第一部反托拉斯法,也是美国历史上第一个授权联邦政府控制、干预经济的法案。该法规定:凡以托拉斯形式订立契约、实行合并或阴谋限制贸易的行为,均属违法。该法案的诞生
- A. 肯定了国家干预私人经济活动的必要性
B. 标志着国家的宏观调控成为了普遍手段
C. 防止了自由放任政策对西方国家的影响
D. 反映了反垄断成为社会运动的主流方向
- 35.戴高乐执政时期,1959年,法国宣布接受殖民地阿尔及利亚的民族自决,由此开始告别殖民主义。1963年,法国和联邦德国签订《法德友好条约》。1964年,法国与新中国建交。1966年,法国宣布退出北约。据此可知,戴高乐政府
- A. 重新确立了世界大国地位
B. 致力于推动欧洲走向联合
C. 忽视意识形态之间的分歧
D. 奉行独立自主的外交政策

二、非选择题:本大题包括10小题,共160分。

36. 阅读图文材料,完成下列要求。(22分)

位于黄河三角洲、渤海湾畔的山东省滨海镇(如图5)曾因土地盐碱化程度高而严重影响经济发展。近年来,当地立足滩涂资源优势,培育适合生长在高盐度海水(含盐量为普通海水的2-3倍)中的盐田虾。当地丰富的微生物、天然晒盐场、高海水盐度和广袤的滩涂与湿地环境,为盐田虾生长提供绝佳条件。盐田虾营养丰富、口味鲜美,受到国内外市场的青睐。当地不断探索“示范区+企业+合作社+养殖户”订单式盐田虾产业发展模式,打造“盐田虾”产业链条,推进盐田虾品牌绿色化、优质化、特色化,带动周边养殖户致富增收,助力推动乡村振兴。

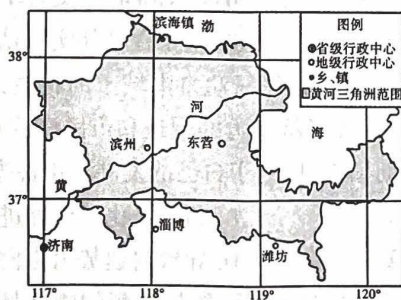


图5

- (1)与新疆、宁夏相比,说明滨海镇养殖盐田虾的有利市场因素。(6分)
- (2)从海水盐度的角度,分析滨海镇进行盐田虾养殖的有利条件。(8分)
- (3)简述滨海镇实施“示范区+企业+合作社+养殖户”订单式盐田虾养殖模式时,建立企业对盐田虾产业产生的积极意义。(8分)

37. 阅读图文材料,完成下列要求。(18分)

土林是一种由土状堆积物(第四系湖相、河流相的粘土、砂、砾石的松散堆积物)在干燥气候环境中,受季节性雨水的淋蚀、冲刷而成的成群柱状地形,因远望如林而得名。土林一般在盆地或谷地内出现,以云南元谋干热盆地中发现的最为典型,反映了古地理变迁和地貌发育过程。

元谋土林景观形态各异,按其成因和土柱的形态特征,可分为四种类型:土芽型、古堡型、尖笋型、铁帽型(地层中的铁质经地表水洗刷,溶解析出、渗透、淋滤至不透水层沉淀,富集胶结,形成铁帽)。其中铁帽型土林作为一种典型的土林类别,分布最广、形态高大,可以挺立百年不倒,但是近年来,元谋土林出现了柱体破损或倒塌的现象。图6示意元谋位置,图7为元谋铁帽型土林景观。

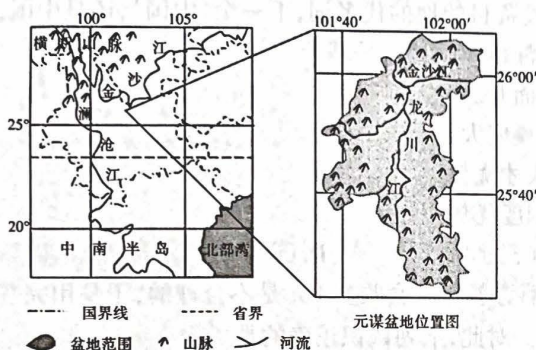


图6



图7

- (1)从地质作用角度,推测元谋土林的形成过程。(6分)
- (2)分析铁帽型土林形态高大、挺立百年不倒的原因。(6分)
- (3)针对元谋土林柱体破损或倒塌的现象,请为土林的保护提出建议。(6分)

38. 阅读图文材料,完成下列要求。(16分)

多年冻土指地表下一定深度内地温持续两年以上处于 0°C 以下的土层。近年来,随着全球气候的变化,以及降水、地下径流、植被覆盖程度、人类活动等的影响,青藏高原黄河源区的冻土发生了明显变化,并对该地的自然环境产生了影响。多年冻土对土壤活动层中水分和养分的保持起着关键作用,经研究发现,黄河源区多年冻土发育的低洼地是高寒草甸、沼泽等植被的集中分布区。图8示意黄河源区多年(含预测)冻土的变化过程。

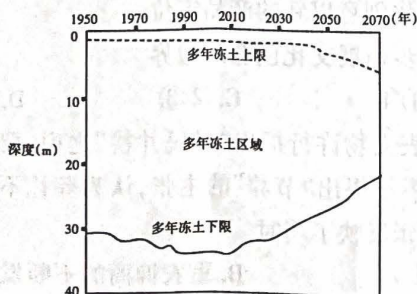


图8

- (1)概括1950—2070年黄河源区多年冻土的空间变化特点。(4分)
(2)说明导致黄河源区多年冻土变化的主要人为影响方式。(6分)
(3)从多年冻土的角度,分析黄河源区多年冻土发育的低洼地成为高寒植被集中分布区的主要原因。(6分)

39. 阅读材料,完成下列要求。(12分)

2023年是毛泽东同志批示学习推广“枫桥经验”60周年暨习近平总书记指示坚持和发展“枫桥经验”20周年。9月20日,习近平总书记在“枫桥经验”发源地浙江省诸暨市枫桥镇考察时强调,要坚持好、发展好新时代“枫桥经验”。

新时代“枫桥经验”总结起来就是四个“更加”:一是更加强调党的领导,把党的政治优势、组织优势、密切联系群众优势不断转化为基层治理效能;二是更加彰显法治思维,形成办事依法、遇事找法、解决问题用法、化解矛盾靠法的浓厚氛围;三是更加突出科技支撑,完善网格化管理、精细化服务、信息化支撑的基层治理平台;四是更加注重社会参与,健全共建共治共享的社会治理制度。

结合材料,运用《政治与法治》的相关知识,说明基层治理应如何坚持和发展好新时代“枫桥经验”。

40. 阅读材料,完成下列要求。(10分)

2023年是共建“一带一路”倡议提出十周年。十年来,“一带一路”不断拓展合作领域,已成为当今世界范围最广、规模最大的国际合作平台。

◆在“硬联通”方面,中老铁路、雅万高铁等一批批标志性项目陆续建成并投运,中欧班列开辟了亚欧陆路运输新通道,“丝路海运”国际航线网络遍及全球,“六廊六路多国多港”的互联互通架构基本形成。

◆在“软联通”方面,中国与共建国家持续深化规则标准等领域合作,与65个国家标准化机构和国际组织签署了107份标准化合作协议,与112个国家和地区签署了避免双重征税协定。

◆在“心联通”方面,中国与45个共建国家和地区签署高等教育学历学位互认协议,与144个共建国家签署文化和旅游领域合作文件,打造了“鲁班工坊”“菌草”等一批“小而美”合作品牌。

结合材料,运用《当代国际政治与经济》的相关知识,阐述中国在推动共建“一带一路”高质量发展中发挥的作用。

41. 阅读材料,完成下列要求。(21分)

2023年,中央广播电视总台打造以“纪录·时代答卷”为主题的系列纪录片,向海内外观众讲述新时代的中国故事。

◆“纪录·此身天地”用万物生长回答生命,展现中国的自然景观、文化遗产等,以国际化视角反映当下中国的发展成就。其中与意大利、德国电视机构联合推出的《飞越丝绸之路》,将最新的探索 and 发现展现给全世界。

◆“纪录·时代万象”用人间烟火回答生活,充满人情味和生活态。特别是《舌尖上的中国4》构建起中国人关于饮食的集体记忆,继续探寻世代中国人以食为媒、生生不息、天人合一的处世哲学和生存智慧。

◆“纪录·千年一瞬”用历史沧桑回答岁月,用多样艺术手法演绎东方美学,成为彰显文化自信的亮丽名片。例如《画里话外》梳理中国古典绘画艺术,利用最新的动画技术,延展古画中“历史的定格瞬间”。

◆“纪录·星球宇宙”用辽阔宇宙回答未来,突破时空局限,为全球纪录片爱好者带来全新的视听体验。其中《北纬三十度》带领观众透视文明的起源和演进路径,展现文明交融互鉴成果,探索人类文明未来的可能。

总台手握“深耕内容 锻造精品”的收视密码,成功走出了一条独家独特独创的精品创作之路,受到业内人士和广大观众的一致好评。

(1)结合材料,运用《哲学与文化》的相关知识,谈谈中央广播电视总台是如何成功走出独家独特独创的精品创作之路的。(12分)

(2)结合材料,运用《逻辑与思维》的相关知识,分析中央广播电视总台是如何运用科学思维方法来打造优质纪录片的。(9分)

42. 阅读材料,完成下列要求。(9分)

【基本案情】近日,6岁男孩在小区楼下玩耍时突觉脖子痛。家人发现孩子衣服被从高空抛下的烟头烧了个大窟窿,险些烧到皮肤,四处寻找丢烟头的人,没人承认,遂选择报警。辖区民警接警后,立即赶赴现场,通过多种方式寻找肇事者,未果,经报单位同意后决定对全楼住户进行DNA采集。随后民警安排技术人员提取了涉事烟头上的DNA,并对该楼栋案发时在家的160余名业主进行了采血。采血结束后,杨某坦白是自己扔的烟头。

【法律在线】此案发生后,引起网友的诸多质疑。如果你是民警,请运用《法律与生活》的相关知识,在线回答网友质疑。

网友甲:DNA检测一次高达上千元,本次检测涉及160余名业主,检测费用应该由谁承担?为什么?

民警:①_____。(3分)

网友乙:辖区民警强制采集楼内居民DNA,是否有侵犯隐私的嫌疑?为什么?

民警:②_____。(4分)

网友丙:高空抛物是否违法?为什么?

民警:③_____。(2分)

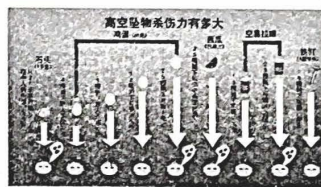


图9

43. 阅读材料,完成下列要求。(25分)

材料一 明末清初的著名思想家顾炎武,学识渊博,身体力行,把书本知识和实地调查相结合,写出《天下郡国利病书》等著作。在《与友人论学书》中,他谈到为学应该“博学于文”和“行己有耻”。他在其代表作《日知录》中提到“以天下之权,寄天下之人”,“易姓改号,谓之亡国。仁义充塞而至于率兽食人,人将相食,谓之亡天下。”

——摘编自马执斌《明清时期的文化》

材料二 近代启蒙的根本含义是人性的觉醒、个性的解放、人格的独立。而中国从19世纪末开始的启蒙运动,是一场在民族危机的刺激下兴起来的,以救亡图存为目的,以制度改革为主旨的政治启蒙运动,它对于个性解放并不很关注。“天赋人权”的呼喊和“新民”的鼓吹,是在20世纪的头一个十年出现的,但是它们却被淹没在政治论战和武

装革命的波涛中,只是到了新文化运动时期,中国的启蒙运动才把唤醒“国民之自觉”作为根本任务。

——摘编自张岱年等《中国文化概论》

材料三 每个时代都有每个时代的精神,每个时代都有每个时代的价值观念。国有四维,礼义廉耻,“四维不张,国乃灭亡。”这是中国先人对当时核心价值观的认识。在当代中国,我们的民族、我们的国家应该坚守什么样的核心价值观?这个问题,是一个理论问题,也是一个实践问题。经过反复征求意见,综合各方面认识,我们要倡导富强、民主、文明、和谐,倡导自由、平等、公正、法治,倡导爱国、敬业、诚信、友善,积极培育和践行社会主义核心价值观。

——摘编自习近平《青年要自觉践行社会主义核心价值观》

- (1)根据材料一,概括顾炎武的主张。(6分)
- (2)根据材料二并结合所学知识,指出近代思想主张的变化并分析其成因。(12分)
- (3)根据材料三并结合所学知识,简析践行社会主义核心价值观的历史意义和现实意义。(7分)

44. 阅读材料,完成下列要求。(12分)

材料 学术界认为,世界现代化是突破原有的农业大生产力形态向工业大生产力形态引起的社会巨变。在具体阐述现代化的进程时,有学者提出了这一世界规模的大变革经历了三次发展浪潮和经济现代化发展的三大阶段(经济起飞、向技术成熟推进、大众高消费)的观点,如图10所示。

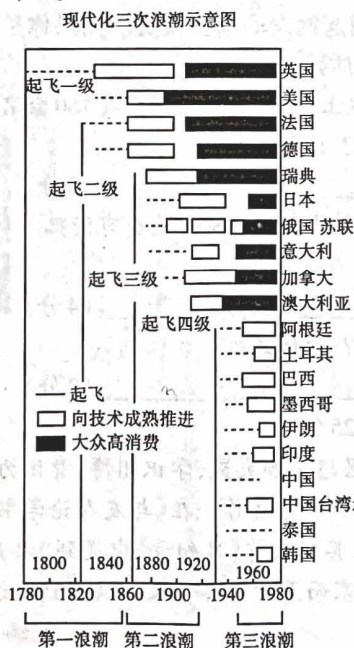


图10

——摘编自罗荣渠《现代化新论——世界与中国的现代化进程》

根据材料并结合所学知识,概括一个世界经济现代化的发展趋势,并予以阐述。(要求:趋势表述明确,史论结合,逻辑严密。)

45. 阅读材料,完成下列要求。(15分)

材料一 非西方国家和地区的史学是学习西方史学后建立的,缺乏从自己的历史出发建立的理论,因此现在的世界史只是一种准世界史。

——摘自马克垚《困境与反思:“欧洲中心论”的破除与世界史的创立》(2006年)

材料二

表 《全球史评论》刊载论文统计表(单位:篇)

辑号	出版年份	主题	论文数	译文	国内	理论和评论	实证	转载
3	2010年	中外文明互动	17	5	12	3	14	0
4	2011年	全球环境史	13	8	5	8	5	2
5	2012年	文明、相遇、互动、共生	16	5	11	4	12	2
7	2015年	多维视角下的地方与全球	13	6	7	6	7	3
11	2016年	欧亚大陆的联系与交流	9	3	6	3	6	2
13	2017年	跨文化视野中的“他者”	15	1	14	4	11	0
14	2018年	全球视野下的环境史	10	3	7	4	6	2
15	2018年	全球视野下的中国、周边与世界	12	0	12	5	7	2
16	2019年	全球史视角的妇女与性别研究	12	5	7	2	10	2
17	2019年	世界历史中的中国	11	0	11	3	8	2

——统计摘编自《全球史评论》

(1)根据材料一、二,概括当代中国全球史研究的特点。(6分)

(2)根据材料一、二并结合所学知识,简析中国全球史研究的意义。(9分)

关于我们

自主选拔在线是致力于提供新高考生涯规划、强基计划、综合评价、三位一体、学科竞赛等政策资讯的升学服务平台。总部坐落于北京，旗下拥有网站（[网址：www.zizzs.com](http://www.zizzs.com)）和微信公众平台等媒体矩阵，用户群体涵盖全国 90% 以上的重点中学师生及家长，在全国新高考、自主选拔领域首屈一指。

如需第一时间获取相关资讯及备考指南，请关注**自主选拔在线**官方微信信号：**zizzsw**。

