

2024 届高三一轮复习联考(三)全国卷

文科综合

注意事项:

- 1.答卷前,考生务必将自己的姓名、考生号等填写在答题卡上。
- 2.回答选择题时,选出每小题答案后,用铅笔把答题卡上对应题目的答案标号涂黑。如需改动,用橡皮擦干净后,再选涂其他答案标号。回答非选择题时,将答案写在答题卡上。写在本试卷上无效。
- 3.考试结束后,将本试卷和答题卡一并交回。考试时间 150 分钟,满分 300 分

一、选择题:本题共 35 小题,每小题 4 分,共 140 分。在每小题给出的四个选项中,只有一项是最符合题目要求的。

无人机遥感技术作为航空遥感手段近年来被广泛应用于地质灾害防治工作。在地形高低起伏较大的情况下,无人机可以根据地形起伏自适应改变飞行高度。下图示意无人机遥感工作场景。据此完成 1~2 题。



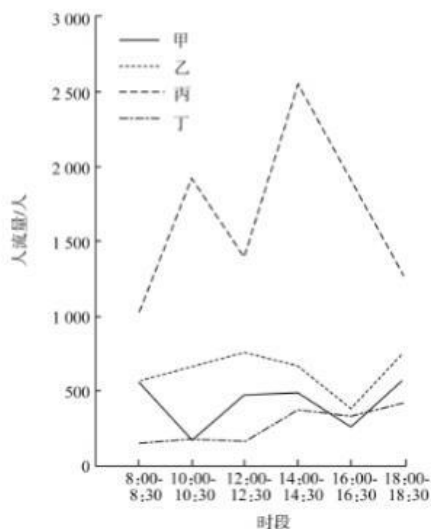
- 1.与卫星遥感相比,无人机遥感
A.机动灵活 B.作业成本高 C.获取面积广 D.数据传输慢
- 2.无人机根据地形起伏自适应改变飞行高度主要是为了
A.减少地面干扰 B.节省能源消耗 C.缩短测量时间 D.提高测量精度

温室技术是以色列生态农业系统中的重要组成部分。在以色列北部缺水地区,温室和鱼塘连接在了一起,靠地热水(地下水在深度大于 30 米的地方温度保持相对稳定)加热温室和鱼塘,之后用于灌溉。据此完成 3~4 题。

- 3.将温室与鱼塘连接在一起,可以
A.调节温室内部湿度 B.调整农业生产结构
C.减少农业化肥施用 D.提高鱼产品的价格
- 4.与太阳能相比,利用地热水加热温室的优势是
A.污染小 B.稳定性好 C.技术要求低 D.成本低

下图示意重庆市北碚区城区 4 个功能区(居住区、文化区、商业区、城区主干道)道路人流量在某日部分时段的分布。据此完成 5~6 题。





5. 图中甲功能区为
A. 商业区 B. 文化区 C. 居住区 D. 城区主干道
6. 图中各时段
A. 文化区人流量变化受学生上下学时间影响大
B. 城区主干道人流量变化一天内出现两次高峰
C. 商业区与文化区人流量变化具有明显相关性
D. 居住区在中午时段的人流量达到一天中最大

奥地利首都维也纳森林资源丰富，坚持采用“近自然林业”理念建设森林绿带。森林开发由初期的城市森林、农田扩展到自然保护区，以及城市内部的花园、公园、开放空间等，有效缓解了城市热岛效应。维也纳被称为“森林城市”。据此完成 7~9 题。

7. 维也纳坚持采用“近自然林业”理念建设森林绿带的主要目的是
A. 发展旅游产业 B. 保护生态系统 C. 降低维护成本 D. 迎合大众审美
8. 维也纳森林绿带由城市森林演变为城市内部的花园、公园、开放空间等过程中
A. 生态功能提升 B. 破碎程度加剧 C. 规模不断减小 D. 向远郊区延伸
9. 为加强维也纳“森林城市”建设，当地政府应
A. 增加绿带植被种类，提高生物多样性
B. 建设绿道，连接绿带与城市内部空间
C. 建保护区，绿带内严禁任何商业开发
D. 提高经济林比重，增加绿带木材产出

渝鄂边界区位于重庆市和湖北省交界地带，拥有丰富的自然资源和人文旅游资源，具有相似的自然地理特征和人文历史环境，但区域之间经济联系水平普遍不高，是典型的经济发展“洼地”。下图示意渝鄂边界区旅游经济联系强度空间关系，线段粗细代表联系强度。据此完成 10~11 题。

后重建、推动京津冀科技协同发展、加快建设京津冀医养结合养老服务体系、激发民营经济活力、促进沿海经济发展等提出意见和建议。这表明

- ①各民主党派作为参政党，通过政治协商管理地方事务
- ②中国共产党作为执政党，坚持科学、民主和依法执政
- ③各民主党派是中国共产党的好参谋、好帮手、好同事
- ④民主党派坚持中国共产党的领导，助力经济社会发展

A.①② B.①④ C.②③ D.③④

15.2023年8月4日至7日，江苏省党政代表团到新疆学习考察。长期以来，江苏省把对口援疆工作摆在重要位置，在人才、资金、项目等方面给予新疆大力支持，为促进新疆改革发展稳定作出了重要贡献，促进各族干部群众交往交流交融。开展对口援疆工作有利于

- ①加强民族交流，建立新型社会主义民族关系
- ②促进各民族共同繁荣，推动新疆地区高质量发展
- ③保证国家统一，实现各民族人民共同当家作主
- ④增进民族团结，铸牢中华民族共同体意识

A.①③ B.①④ C.②③ D.②④

16.当地时间2023年8月9日，美国总统拜登签署限制美国主体投资中国半导体和微电子、量子信息技术和人工智能领域三大新兴领域的行政令。同时，美国要求同盟国和友好国家也采取同样的措施。对此，日本与韩国担心受连累，忧心忡忡。日本与韩国担心受连累是基于

- ①国家利益是国际关系的决定性因素
- ②主权国家是国际关系的主要参加者
- ③竞争、合作与冲突是国际关系的基本内容
- ④国际关系的实质是一种利益关系

A.①③ B.①④ C.②③ D.②④

17.中欧班列被誉为“钢铁驼队”，自开通以来始终驰而不息、一路畅通，受到越来越多沿线国家的青睐。截至2023年上半年，中欧班列历年累计开行已超过7.3万列，发送货物690万标准箱。中欧班列运送的不仅是琳琅满目的商品，还有中国坚持与世界各国互惠互利、合作共赢的理念，更有中国与沿线国家共享机遇、共同发展的决心。材料说明我国

- ①在维护他国利益的同时，兼顾本国合理关切
- ②主导世界多极化发展，推动构建人类命运共同体
- ③在谋求自身发展的同时，促进沿线各国经济发展
- ④坚持互利互惠合作共赢，发挥负责任大国的作用

A.①② B.①④ C.②③ D.③④

18.近年来，河北省石家庄市大力推进新型公共文化空间建设，依托城市公园引入公共图书馆资源，打造内设阅览区、休闲区、园艺生活区等惠民空间的城市公园书房，提升了市民的阅读体验。该举措

- ①是完善全民终身学习教育体系的一次生动实践
- ②表明文化与政治相互交融、相互影响、相互制约
- ③是基于文化对人的影响来自特定的文化环境
- ④体现了文化影响人们的交往行为和交往方式

A.①③ B.①④ C.②③ D.②④

19.早在古代，中国瓷器便开始传入阿拉伯世界。随着丝绸之路的发展，瓷器逐渐成为重

要的贸易品之一。在阿拉伯国家,中国瓷器以其独特的工艺和美丽的装饰受到人们的喜爱,成为贵族和王室的收藏品。在许多阿拉伯国家的历史遗址中,人们都可以找到中国瓷器的身影。材料说明

- ①瓷器是中国和阿拉伯文化交融的重要见证
 - ②商业贸易是文化交流和传播的重要途径
 - ③在中外文明交往中要充分吸收外来文化
 - ④中国传统文化的优越性在交流中得以彰显
- A.①② B.①④ C.②③ D.③④

20.人民网永新3月29日电,新学期以来,江西省吉安市永新县各中小学积极贯彻落实双减政策,充分利用课后服务时间,邀请当地技能大师进校园,开设油纸伞制作、貌鼓、钟表维修、雕刻等传统技艺体验课程,让孩子们近距离感受中华传统文化的魅力。传统文化进校园

- ①是新时代促进青年学生全面发展的根本途径
 - ②是基于教育是人类特有的传承文化的能动性活动
 - ③能在丰富校园生活的同时增强学生的文化自信
 - ④说明推动社会实践的发展是文化创新的根本目的
- A.①③ B.①④ C.②③ D.②④

21.山东菏泽的牡丹文化历史悠久、底蕴深厚。从诗词散文到绘画工艺等,牡丹以各种形态融入人们日常生活的各个部分,与人们的生活生产息息相关。近年来,菏泽牡丹走上世界舞台,在一系列国事活动中,花开盛世,入景入画,讲好“国色天香”的中国故事,成为促进文化交流的“特使”。菏泽牡丹走上世界舞台,讲好“国色天香”的中国故事

- ①有助于中华文化走向世界,增进各国对中华文化的认同
 - ②说明中华文化的力量熔铸在民族的创造力、生命力之中
 - ③能够让国际社会了解源远流长、博大精深的中华文化
 - ④需要立足社会实践,发掘牡丹文化与日常生活的联系
- A.①② B.①④ C.②③ D.③④

22.2023年7月10日,中央网信办发布《关于加强“自媒体”管理的通知》,从13个方面对加强“自媒体”管理、压实网络平台信息内容管理主体责任、推动形成良好网络舆论生态提出了明确要求,剑指“自媒体”乱象,可谓条条回应期待、击中要害。加强“自媒体”管理

- ①是基于文化市场具有自发性,会引发令人忧虑的现象
 - ②能够推动网络平台切实履行主体责任,加强市场监管
 - ③能够推动自媒体健康发展,满足人民对所有文化的需求
 - ④旨在规范文化传媒市场秩序,打造风清气正的网络环境
- A.①② B.①④ C.②③ D.③④

23.随着“盛世中华何以中国”网上主题宣传活动启动,由中外记者、专家学者等组成的采访团,从古丝绸之路的起点西安出发,开启了一段精彩的文脉探源之旅。采访团到访黄帝陵轩辕庙,瞻仰5000年黄帝手植柏的苍劲挺拔;在芦山峁遗址与石峁遗址,感受4000年前“万邦来朝”的都城盛景;在宝鸡青铜器博物馆,感悟3000年前的西周先秦文明……该活动的开展

- ①说明了文化自信来自对自身文化生命力的坚定信念
 - ②有助于引导人们做中华优秀传统文化的忠实传承者
 - ③生动凸显了中华传统文化已经成为中华民族的基因
 - ④表明文化自信表现为对社会主义文化强国目标充满信心
- A.①② B.①③ C.②④ D.③④

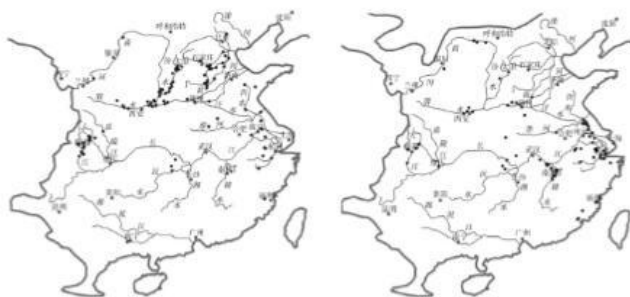
24.周初统治者在进行分封时,不仅分封同姓王与功臣,同时针对前朝贵族,采取了分而治之的手段,并给予部分优待,将中原地带以及在此生活的前朝遗民作为分封的内容重新给予了前朝贵族。统治者此举旨在

- A.消除商朝残余势力 B.维持政权的稳定性
C.加速国家统一进程 D.传播华夏认同观念

25.铜鱼形扁壶流行于西汉中期至东汉,但与战国至汉初常见于中原地区的椭腹扁壶有所不同,其形象来源于对北方草原民族皮囊壶的模仿,而铸造工艺以及通过鱼(余)谐音祈祝吉祥和丰产的文化习俗则来源于中原。这反映了汉代

- A.丝绸之路促进了中外交流 B.金属铸造工艺更加的精巧
C.民族交融得到进一步发展 D.少数民族封建化进程加快

26.以下两图分别为唐朝前期和后期的农田水利工程分布情况。这一变化



- A.体现了政治局势的变动 B.揭开了江南开发的序幕
C.促成了经济重心的南移 D.加速了唐朝的分崩离析

27.与唐代相比,宋代绘画出现了新的特点,如山水画方面,马远、夏珪就很少用色;花鸟画方面,文人画家文同、尹白等用墨色取代了色彩;人物画方面,李公麟用“白描”取代五代重彩人物画,改变了人物画的造型传统。这种改变

- A.反映了格物致知的绘画特色 B.体现出了国势衰微的时代特征
C.表达了消极避世的外事态度 D.符合对意境和笔墨情趣的追求

28.1904年,陈独秀发表《论戏曲》,公开提倡戏曲“采用西法,戏中夹些演说,大可长人识见”。同年,柳亚子在《二十世纪大舞台》杂志的发刊词中直接祭出“戏剧改良”旗号,期盼“河山还我,建独立之阁”。他们此举旨在

- A.宣传新文化运动以实现思想解放 B.追求政治改良实现民族独立
C.传播革命思想以建立民主共和国 D.通过思想启蒙进行救亡图存

29.1936年8月,毛泽东曾在给傅作义的信中说:“今之大计,退则亡,抗则存;自相煎艾则亡,举国奋战则存。弟等频年呼吁,要求全国各界一致联合……组织国防政府。”该信件

- A.促成了北伐战争的基本胜利 B.反映了抗日救亡运动的日益高涨
C.推动了战略决战的胜利进程 D.受到了抗日民族统一战线的影响

30.以下内容出自万隆会议通过的《关于促进世界和平与合作的宣言》。据此可知万隆会议

- (2) 尊重一切国家的主权和领土完整
(4) 不干预或干涉他国内政
(6) 不使用集体防御的安排来为任何一个大国的特殊利益服务,任何国家不对其他国家施加压力
(9) 促进相互的利益和合作

- A. 矛头直指美国霸权主义 B. 促进了和平共处五项原则出台
C. 旨在变革全球治理体系 D. 有利于我国外交新局面的开拓
31. 下表为 1979 年和 1985 年我国进出口领域部分产品所占比例情况。这一变化

	进口机器等制造业产品所占比例	出口农产品等初级产品所占比例
1979 年	71.8%	53.6%
1985 年	87.4%	51.5%

- A. 得益于工业体系的完善 B. 促成了国企改革到来
C. 有利于产业结构的调整 D. 体现了外贸规模的扩大
32. 17 世纪的德意志天文学家克卜勒以数学推算出行星绕日的椭圆形轨道, 证明了地动说。这反映了在科学研究方法上的重大成就是
A. 首先提出“地球绕日说”并挑战“地心说” B. 以古代权威解释支配自然的法则
C. 以理性寻找支配人类社会行为的法则 D. 运用理性去解释支配自然的法则
33. 公元 1400—1800 年世界主要贸易路线和白银流向示意图。对示意图解读正确的是



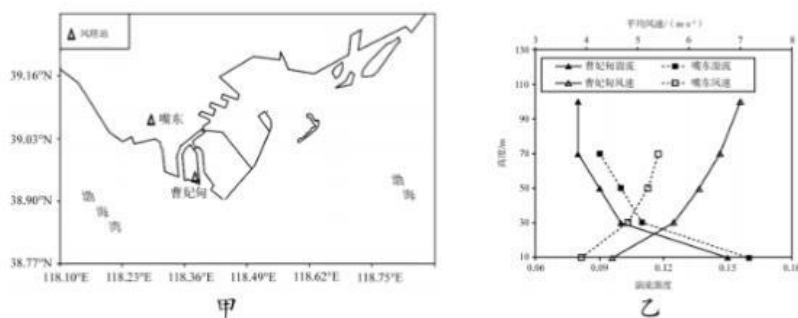
- A. 中国在中欧贸易中处于明显优势 B. 麦哲伦环球航行推动了全球贸易的发展
C. 传统丝绸之路完全被新航路取代 D. 西欧经济政策由重商主义转向自由主义
34. 19 世纪 70 年代, 德国学者杜林宣布改信社会主义, 自诩为社会主义的“行家”, 提出了“一切经济现象都应该由政治原因来解释, 即由暴力来解释”的观点。对此, 恩格斯撰文指出, 社会发展的决定性因素不是暴力, 而是经济条件。恩格斯此举
A. 立足于帝国主义时代 B. 推动了欧洲工人运动的兴起
C. 捍卫了科学社会主义 D. 丰富了无产阶级专政的思想
35. 1841 年, 英国的托马斯·库克开启了商业化团队观光的时代。10 年后, 库克推出了首个欧洲大陆游套餐, 这趟旅行从英国出发, 途经比利时的安特卫普和布鲁塞尔、德国的科隆和法兰克福, 再经法国的斯特拉斯堡, 最终到达巴黎, 参观世博会。库克在 1872 年还推出了历时 222 天, 全程 4 万公里的环球旅行团。旅游方式的变革得益于
A. 中间阶层发展趋于稳定 B. 工业化进程的深入
C. 人们生活方式出现变革 D. 垄断组织产生发展

二、非选择题 共 160 分，第 36~42 题为必考题，每个试题考生都必须作答。第 43~47 题为选考题，考生根据要求作答。

(一) 必考题：共 135 分。

36. 阅读图文资料，完成下列要求。(24 分)

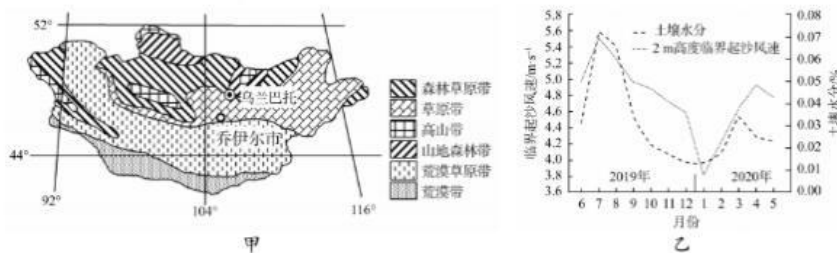
当风速增加到很大时，若垂直方向上温差大，在大气扰动作用下，风场中会产生许多小漩涡，这种运动称为湍流。渤海湾北岸海上风电资源丰富，风电场选址受湍流、风速等风场状况影响大。图甲示意渤海湾北岸曹妃甸、嘴东风塔站位置，其中曹妃甸风塔地处吹沙造地而成的曹妃甸海岛。图乙示意两站点湍流强度和风速随高度的变化特征。



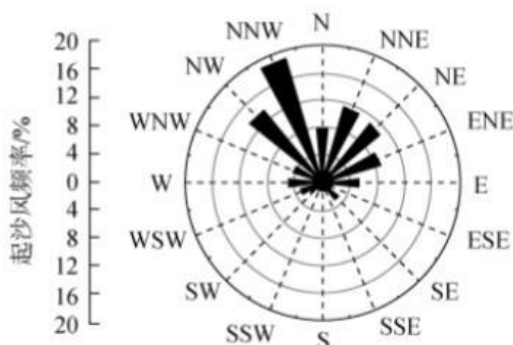
- (1) 比较曹妃甸和嘴东湍流、风速随高度变化的异同。(18 分)
- (2) 分析曹妃甸与嘴东湍流强度差异的原因。(6 分)
- (3) 与嘴东相比，评价曹妃甸风电场建设的风场条件。(6 分)
- (4) 结合渤海湾北部风场特点，对该区域风电场选址提出建议。(4 分)

37. 阅读图文资料，完成下列要求。(22 分)

临界起沙风速是指地表沙粒受到风力作用，由静止状态进入运动状态的临界风速。蒙古乔伊尔市为温带大陆性气候，冬春季节多大风天气，年平均降水 200~300mm，草地退化严重。图甲示意蒙古植被分布，图乙示意乔伊尔市 2019 年 6 月~2020 年 5 月土壤水分与临界起沙风速(2m 高度)随时间变化。



- (1) 分析乔伊尔市草地退化严重的自然原因。(6 分)
- (2) 简述土壤水分与临界起沙风速的关系。(4 分)
- (3) 判断 2019 年 6 月~2020 年 5 月乔伊尔市风沙危害最严重的时间段，并说明判断理由。(6 分)
- (4) 下图示意乔伊尔市全年平均起沙风频率玫瑰图，描述起沙风频率分布特点，并指出风沙输送的方向。(6 分)



38. 阅读材料，完成下列要求。(12分)

2023年以来，在恩施州委的坚强领导、湖北省人大的精心指导下，恩施州以“聚力共同缔造”为主题，开展“1+N”代表行动，8600余名人大代表以高度的政治自觉，以代表小组为基本单元深入基层，运用共同缔造理念，听民声、汇民意、集民智、解民忧，脚踏实地，善作善成。全州各级人大代表走好新时期群众路线，访农家、走田埂、跑工地、进企业、开展调查研究，推动解决群众反映的突出问题。全州80多个乡镇同步开展民生实事人大代表票决制专题调研。恩施州围绕人大代表票决的“城市入河排污口整治”等项目进行调研督办，提出相应的建议，加快推动项目建设。截至6月30日，恩施州代表行动共发现和收集问题1082个，形成书面建议485件，目前已办结建议452件，人大代表与人民群众联系更为紧密，“家、站”常用，代表常来、实事常办已成为闭会期间代表工作新常态，用人大代表的辛苦指数换来群众的幸福指数，用实际行动书写全过程人民民主恩施答卷。

恩施州开展的“1+N”代表行动是践行全过程人民民主的生动实践，结合材料并运用政治生活的知识，谈谈你对这一做法的理解。

39. 阅读材料，完成下列要求。(14分)

新修订的《中华人民共和国体育法》(以下简称《体育法》)自2023年1月1日起施行。安徽省认真贯彻实施《体育法》，全面实施省委、省政府《体育强省建设方案》，主动融入长三角一体化发展，围绕弘扬主旋律，推动体育文化高质量发展，不断扩大体育文化影响力，突出精神传承、宣传展示、体育交流，用体育精神凝聚奋进力量，扩大安徽体育朋友圈；精心组织体育文化优秀项目、体育旅游精品项目参加中国体育文化博览会、中国体育旅游博览会；抓住“国际博物馆日”“六一儿童节”“全民健身日”等重要节日节点，积极开展体育文化体验、体育文化研学、体育科普体验等特色活动，传播健身知识、弘扬体育文化；统筹推进群众体育、竞技体育、体育产业、体育文化和体育组织发展，奋力推动各项工作迈上新台阶，为体育强国建设和全面建设社会主义现代化国家、实现中华民族伟大复兴贡献体育力量。

结合材料并运用文化生活知识，说明安徽加快体育强省建设对推动中华民族伟大复兴的意义。

40. 阅读材料，完成下列要求。(26分)

党的二十大报告对“增强中华文明传播力影响力”作出重要部署。这一战略部署为提高国家文化软实力、发展人类文明新形态提供了新遵循和新指引。

面对当前复杂的国际情势与新媒体环境，如何用好国际化传播平台，讲好中国故事、

传播好中国声音?全国政协把“增强中华文明传播力影响力”作为 2023 年重点协商议题之一,并于 5 月 16 日通过专题协商会形式进行协商建言。此前,为了详细了解各地在传承弘扬中华优秀传统文化、增强中华文明传播力影响力等方面的经验做法、现状问题,全国政协文化文史和学习委员会组织专题调研组赴香港、河南和广西调研并同当地政府相关部门负责人、基层单位工作人员、专家学者等面对面交流,了解情况、听取意见、凝聚共识,并对贯彻落实习近平总书记重要指示精神和党中央决策部署进行协商式监督。另外,在扎实做好“线下”调查研究、交流探讨的同时,还在“线上”主题议政群开展了广泛的学习讨论,进一步拓展了专题协商会的“物理”边界,为更多委员开辟了建言的第二通道。同时,通过调研,调研组还了解到,各地在推动中华文明国际传播过程中还存在一味迎合国外口味,缺乏中国特色;传播主体结构相对单一、传播内容不够丰富生动、传播方式有些不相适应、传播能力还需不断加强等一些共性的深层次问题。

(1)人民政协在推动讲好中国故事、传播好中国声音中发挥着重要作用,请结合材料并运用政治生活的知识,对此加以说明。(10 分)

(2)结合材料并运用文化生活知识,说明如何更好地讲好中国故事,推动中华文明国际传播。(12 分)

(3)中国青年是中国故事的重要讲述者、中国声音的重要传播者,正吸引着来自各方越来越多的关注和重视,在国际传播中发挥着越来越重要的作用。请你从文化的角度就中国青年如何讲好中国故事、传递中国声音提出两条建议。(4 分)

41.阅读材料,完成下列要求。(25 分)

材料一 我国古代职业教育涉及到冶炼铸造、纺织造器、农医兵器等关系国计民生的各个领域。倡导“博通物理”的辩证思想是其指导思想,即培养善于将事物综合起来,进行整体研究,在把握事物普遍规律的**基础上**,具体掌握一技一艺之理。在我国古代,国家统治者常运用手中的权力,集中国家力量,总结推广来自民间的创造、发明。如汉武帝为了推行赵过的代田法,命各郡守派遣所属县令、乡民等到京师培训,学成结业后负责教民。从“六艺”之教为发端的官学教育到专科学校的创建与发展,从劝课农桑的社会教化到官府作坊艺徒制的建立,从民间的世袭相传到师徒相传,我国古代的职业教育经久不衰。

——摘编自徐东《我国古代职业教育的发展》

材料二 1850 年,德国各地已出现了大量矿业、纺织、机器制造业、冶金等职业学校。同年,对地方工业学校进行改革,制订出全国统一的标准。根据这个标准,建立了统一的中等工业专门学校,并在教学内容方面增设了力学、化学实验等实习课程。1870 年,进一步将工业学校改为 3 年制,又增加了测量学、机械设计等课程。同时,联邦宪法还规定工厂所在地要建立补习学校,农村农闲季节也要开办各类学校,训练农民的生产技能。1890 年召开教育会议之后,电力等科学技术教育在德国受到了更大的重视。19 世纪晚期,英国开始模仿德国,着手本国的职业教育改革。

——摘编自楚汉《近代德国教育改革述评》等

(1)根据材料一并结合所学知识,概括中国古代职业教育的特点并分析其特点形成的原因。(12 分)

(2)根据材料二并结合所学知识,说明 19 世纪德国职业教育发展的趋势及影响。(13 分)

42.阅读材料,完成下列要求。(12 分)

静悄悄的革命:工业社会的来临

材料一 下图为发表于 1843 年英国《笨拙》杂志的漫画《穷人国和富人国的写

照》。该画还为资本家设计了一句道白：“尽管说煤窖里的境遇仍相当悲惨，但它也带来了许多奢华与享受，了解这一点也就可以让人欣慰了。”



漫画《穷人国和富人国的写照》

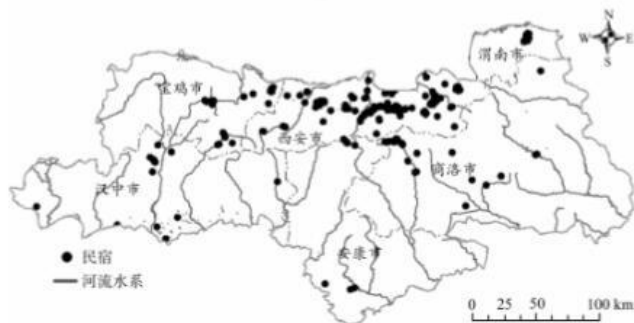
材料二 英国政府适应工业社会发展的法律文件：1846 年废除《谷物法》，1849 年废除《航海条例》，1842 年颁布《矿井法》，1844 年颁布《工厂法》，1847 年颁布《十小时工作日法案》，1848 年颁布《公共卫生法》，1834 年颁布《济贫法修正案》，1876 年颁布《河流防污法》。——摘编自武寅主编《简明世界历史读本》等

根据材料并结合所学，分析说明“第一次工业革命深刻影响了英国社会发展”。

(二) 选考题：共 25 分。请考生从 2 道地理选考题、3 道历史选考题中每科任选一题作答。如果多做，则每科按所做的第一题计分。

43. 【地理——选修 3: 旅游地理】(10 分)

乡村民宿是指将农村空闲的农家房屋或闲置的厂房改建成为游客提供住宿、餐饮和农村旅游体验的旅游住宿模式。秦岭是长江流域和黄河流域分水岭，沟壑纵横，河流广泛发育。下图示意秦岭陕西段乡村民宿与水系分布。



- (1) 描述秦岭陕西段民宿分布特点。(4 分)
- (2) 简述水系对当地民宿发展的作用。(6 分)

44. 【地理——选修 6: 环境保护】(10 分)

20 世纪 70、80 年代以来，城市废弃垃圾场的改造项目逐渐增多。废弃垃圾场不仅会对城市景观产生巨大的负面影响，还会持续不断地污染土壤和水源。城市废弃垃圾场改造对区域生态系统的稳定和居民生活质量的提升有着积极的意义。

- (1) 分析 20 世纪 70、80 年代以来，城市废弃垃圾场改造项目逐渐增多的原因。(6 分)
- (2) 推测城市废弃垃圾场改造的方向。(4 分)

45.【历史——选修1:历史上重大改革回眸】(15分)

材料 隋朝建立后,沿用了北周的音乐制度。隋文帝认为肃清北周的痕迹十分重要,大臣们则认为将隋朝的礼乐全面恢复为华夏正统之音更为重要。于是隋文帝“命工人齐树提检校乐府,改换声律,益不能通”。这时,大臣郑译出来主持继续改革。他从胡人乐师苏祇婆的胡琵琶音律中推测出古乐的七调十二律,后来经过博士何妥等人的干涉,以“黄钟一宫,不假余律”的方法暂时结束了此次音乐制度的更改。不过,随着平陈后更加正统的南朝旧乐来到北方,新一轮改革又开始了。史载:今平蒋州,又得陈氏正乐。史传相承,以为合古。且观其曲体,用声有次,请修缉之,以备雅乐。……后周所造者,皆是新造,杂有边裔之声。戎音乱华,皆不可用。请悉停之。……及大业中,炀帝乃定《西凉》《龟兹》《天竺》《高丽》……以为《九部》。乐器工依创造既成,大备于兹矣。

——摘编自曾磊《隋文帝对礼乐典章文化的改革》

- (1)根据材料并结合所学知识,概括隋朝音乐制度改革的特点。(8分)
- (2)根据材料并结合所学知识,说明隋朝音乐制度改革的影响。(7分)

46.【历史——选修3:20世纪的战争与和平】(15分)

材料 20世纪二十年代,派一支大舰队到远东制服日本是英国海军的主要战略任务。1938年1月,海军大臣提出:“1937年5月向自治领作出的承诺(向远东派一支大舰队)应予修正”。1939年2月,外交部要求派舰队到远东作为外交的后盾,海军部予以回绝。法国也表示“如果(英国)舰队驶往远东,法国将撒手不管中欧和东欧的抵抗”。同时,派舰队去远东的做法也违反了海军集中力量对付主要敌人的传统。这样,英国海军的远东战略从原先的进攻转向防御。为此,英国在远东更迫切希望得到美国的援助。在中日战争问题上,英国逐渐趋向于走“中间路线”。七七事变后,英国一直拒绝对华援助,中日战争进入相持状态后,英国开始和美国一起援助中国。……40年代初,英军在新加坡向日军缴械,英国在远东的声誉一落千丈。英国在远东的失败,某种程度上预示将来英国将不得不无可奈何地从远东退出

——摘编自周旭东《二战爆发前后英国海军战略与远东政策的演变》

- (1)根据材料并结合所学知识,概括二战爆发前后英国远东政策发生变化的原因。(8分)
- (2)根据材料并结合所学知识,分析二战爆发前后英国远东政策发生变化的影响。(7分)

47.【历史——选修4:中外历史人物评说】(15分)

材料 洋务派官员丁宝桢在创办山东和四川两大机器局的过程中,“决不用一洋人指示”。他认为“中国知用洋枪而不能自造洋枪,非受制于洋人,即受骗于洋行,非计之得者也”“设厂内地,不为彼族所覬覦,万一别有他事,仍可闭关自造,不致受制于人”。同时,他指出“从前中国各厂雇用洋匠,少则七八名至一二十名,每名工值发费二三千金,统计各洋匠一岁所费已逾巨万”,但“外洋兵官能熟练枪炮者究亦不可多得,间或有之又不愿受聘,即或受雇亦多不能尽力传授,概属虚文”。为此,他招揽了“心思精密,于机器、洋务颇能讲求,而事事踏实”的徐建寅、薛福辰、曾昭吉等人。在他们的筹划下,两大机器局相继开办并取得了显著成绩,如川督刘秉璋就承认“该局(四川机器局)专铸铜帽、后门枪弹药及赶造洋火药较有把握”。但李鸿章也曾提到过“仿造马梯尼后门枪……机簧不灵,弹子不一,准头不远,较英国所制大逊”

——摘编自向中银《浅析丁宝桢“拒聘洋员”的原因》

- (1)根据材料并结合所学知识,概括丁宝桢“拒聘洋员”的原因。(8分)
- (2)根据材料并结合所学知识,分析丁宝桢“拒聘洋员”的影响。(7分)

2024 届高三一轮复习联考(三) 历史参考答案及评分意见

1. B【解析】根据材料及所学可知,周武王通过分封前朝贵族,维护其所得利益,拉拢前朝贵族以强化对新政权的认可,从而维系周的统治,B项正确。题干表述与消除商朝残余势力明显不符,排除A项;材料主旨与国家统一无关,排除C项;华夏认同观念在当时尚未产生,排除D项。

2. B【解析】据材料可知,春秋后期至战国时期,贵族礼仪式的战争形式逐渐退出历史舞台,这表明“礼”在传统价值观念中的地位不断下降,故B项正确。西周时期儒学尚未产生,排除A项;农战思想是指重视农业和战争,主张两者结合,材料与此无关,排除C项;材料中对比了两个时期兵学思想的变化,由注重礼仪变为注重谋略,并不涉及战争性质,排除D项。

3. C【解析】根据材料“形象来源于对北方草原民族皮囊壶的模仿,而铸造工艺以及通过鱼(余)谐音……来源于中原”,由此可知西汉中期至东汉时期扁壶的形象和文化寓意都发生变化,结合所学可知汉武帝时期北击匈奴,取得河套后大量迁徙中原及南方汉人屯田实边,推动了民族的交融,从而产生了这一兼具游牧民族特色和中原文化的器具,C项正确。材料中是中原与边疆游牧民族之间的交流,并非中外,排除A项;材料中只是提到铸造工艺来源于中原,体现不出铸造工艺如何,且不符合材料主旨,排除B项;材料中强调中原汉族与少数民族的融合,少数民族封建化是指生产方式、文化制度向封建化转变,与材料主旨不符,排除D项。

4. A【解析】据材料及所学可知,安史之乱后,北方地区长期战乱,而江南地区则相对稳定,随着经济开发,水利建设也不断展开,A项正确。魏晋南北朝时期,江南就已经开始开发了,排除B项;经济重心南移完成是在宋代,排除C项;材料只是体现了北方水利工程建设的减少,无法得出与唐朝分崩离析的关系,排除D项。

5. D【解析】材料主要体现了在宋代绘画中,色彩的地位下降,更加注重意境,笔墨趣味取代色彩渲染。这体现了当时理学对艺术精神的影响,故D项正确。题干主旨与格物致知的内涵不符,排除A项;材料主旨体现不出国势衰微及消极避世等,排除B、C两项。

6. C【解析】根据材料可知,宋代军粮消费巨大,且边疆地区运输困难,商人介入军粮的购贮与运输后,利用商人在流通领域的作用,从而扩大了粮食作为商品的供应范围,推动了粮食的商品化发展,C项正确。材料中并未涉及国家赋税征收标准,无法得知加重了人民的赋税负担,排除A项;材料中只提到商人介入了军粮的购贮与运输,并没有涉及财政负担以及商人地位的内容,排除B、D两项。

7. A【解析】据图中信息“状元及第、一品当朝、名登金榜、位列三台”等信息及所学可知,这反映了古人激励学子学业精进、早登朝堂的希望,体现了积极入世实现政治抱负的社会理念,A项正确。材料体现不出科举制度的完善,排除B项;中国古代的民俗钱币是一种文化风尚,民俗钱币上的内容寄托了吉祥美好的愿望,表达了人们对美好生活的向往,故体现不出商品经济的发达,同时与迷信思想无关,排除C、D两项。

8. C【解析】据图中信息及所学可知,清代人口增加导致人均耕地面积整体呈下降趋势,为提高粮食产量,高产农作物逐步在华北平原推广,这引起粮食种植结构的变动,C项正确。A、B两项表述与史实明显不符,排除;材料只是体现了北方地区三省人均耕地的变化情况,体现不出区域经济的差异,排除D项。

9. D【解析】根据“非好勤远略也。彼以商贾为本计,得一埔头,则擅其利权而专于我”及所学可知,徐继畲认识到工商业的发展是导致列强扩张的根本所在,故D项正确。鸦片战争后,中国卷入世界市场,排除A项;中国落后的根本原因在于封建制度的落后,排除B项;徐继畲是近代开眼看世界的先驱之一,但他的这一观点并未引发思想解放潮流,排除C项。

10. D【解析】根据“夹些演说,大可长人识见”“河山还我,建独立之阁”及所学可知,他们希望通过戏剧进行思想启蒙,发挥戏剧应有的社会作用,从而达到思想解放与救亡图存的目的,故D项正确。新文化运动是从1915年陈独秀创办《青年杂志》开始的,排除A项;材料主旨与政治改良无关,排除B项;陈独秀的观点体现不出革命思想,排除C项。

11. A【解析】根据材料“每名工人每月的薪水为8两银子,这在中国是相当丰厚的”“上海兵工厂培训过的工头看着”及所学知识可知,洋务派创立的上海机器制造总局成为中国早期技术工人孕育之地,影响了后期中国工业的发展。西北内陆工人的薪水在晚清时处于较高的水准,可知晚清大力发展军事工业,综

一轮复习联考(三) 历史答案 第1页(共4页)

合以上信息可知,这符合晚清工业发展的特点,A项正确。材料未体现“洋务企业分布范围广泛”,排除B项;中国工人阶级诞生于19世纪中期的外商企业中,排除C项;实业救国思潮兴起于19世纪末,且材料中的企业为兵工厂,与实业救国无关,排除D项。

12. B【解析】从右表可以看出,1919—1927年侨资的瞩目焦点已转移到房地产业上,占40.33%。这表明侨资对在国内投资“生产”已兴趣不大,宁愿“小本经营”,将资金汇集到受供需影响较小、流通性不大、“保守”的房地产业,这主要是因为一战结束帝国主义卷土重来及国内政局的动荡导致工商业的发展环境恶化,B项正确。停滞势头与史实明显不符,排除A项;这一时期虽时局动荡,但北洋军阀依然采取了鼓励工商业发展的措施,排除C项;根据投资额的对比可知D项表述与史实不符,排除。

13. B【解析】据材料“1936年8月”“退则亡,抗则存;自相煎艾则亡,举国奋战则存”“要求全国各界一致联合……组织国防政府”等信息及所学可知,该信写于抗日救亡运动日益高涨的背景之下,且当时抗日民族统一战线尚未形成,B项正确,排除D项。北伐战争于1928年就已结束,排除A项;材料内容出现于抗日战争时期,与解放战争时期的战略决战无关,排除C项。

14. D【解析】根据材料可知,陈云的观点强调了轻工业和重工业协调发展,重视民生,这一思想吸取了苏联经济建设中的教训,D项正确。由“将两个并重是错误的”可知,没有违背优先发展重工业的原则,排除A项;结合所学可知,“一五”计划优先发展重工业,排除B项;优先发展重工业和稳定民生,是符合当时国情和任务的,排除C项。

15. D【解析】据表格内容可知,万隆会议所确立的这些原则实际上是我国和平共处五项原则的引申和发展,这有利于20世纪50年代外交新局面的开拓,如建交高潮的到来等,故D项正确。材料体现不出矛头直指美国霸权主义,排除A项;1955年召开万隆会议,和平共处五项原则出台于1953年,排除B项;万隆会议的主要目的是促进亚非国家之间的经济文化交流,争取和维护民族独立与发展,而不是变革全球治理体系,排除C项。

16. C【解析】根据材料可知,与1979年相比,1985年进口机器等制造业产品比例明显提升,出口初级产品比例有所下降,这有利于我国制造业的发展,进而推动产业结构调整,C项正确。A项“完善”与史实不符,排除;国企改革全面展开是在1984年,排除B项;材料体现不出外贸规模的扩大,排除D项。

17. C【解析】据材料可知,“世界革命”“帝国主义”等出现的频率逐渐减少乃至消失,“独立自主”“和平共处”“第三世界”等出现频率较高,这与改革开放前后国内外形势的变化基本相符,C项正确。东欧剧变、苏联解体之际,我国的外部环境也十分严峻,排除A项;B、D两项表述过于绝对,排除。

18. A【解析】根据誓词内容及所学可知,雅典此举主要强调了陪审员“依法判决”的职责,要求陪审员依据“城邦法律和公民大会法令进行公正的判决”“禁止出现损害‘雅典民众’的行为”,维护了法律和公民大会的权威,以及雅典公民的利益,而作为民主政治基础的整个法律体系则要求禁止出现任何损害雅典民主政体的行为,A项正确。民众范围广泛,包括妇女、奴隶等,这与雅典民主实质明显不符,排除B项;雅典民主主要是为了维护奴隶主阶层的利益,排除C项;材料主旨与简化民主运作程序无关,排除D项。

19. B【解析】马其顿国王亚历山大深受希腊文化熏陶,在帝国内建立许多希腊式城市以传播希腊文化,但他却在征服埃及后祭拜埃及的太阳神,由此可见其统治政策采取开明怀柔的态度,尊重各地原有的宗教与生活习惯,B项正确。亚历山大远征虽然在扩张过程中吸收和融合了其他文化,但主要是尊重被征服地区的宗教和习惯,因此说推崇埃及文化为文化主流是错误的,排除A项;公元前6世纪,波斯建立起第一个地跨亚非欧的帝国,排除C项;亚历山大东征扩展了希腊文化的影响力,但与材料主旨不符,材料强调亚历山大对被征服地区文化的尊重,排除D项。

20. C【解析】据材料“1450年”“古登堡发明了印刷机”“归功于威尼斯印刷商”“其中罗马法学家、政治家西塞罗的作品最受欢迎”“古希腊作家的作品也大量涌入市场”等信息及所学可知,欧洲印刷术的进步促进了文艺复兴的进程,C项正确。“古希腊作家的作品也大量涌入市场”与A项表述不符,排除;材料体现不出民主精神的传播,排除B项;人文思想兴起于古希腊时期,排除D项。

21. D【解析】克卜勒用数学方法推算出行星椭圆形轨道绕太阳运转,证明了地动说,反映了17世纪科学成为探求自然和解决各种问题的方法,即是秉持理性态度去印证自然现象,而不盲从过去的理论,D项正确,排除B项;哥白尼提出日心说,挑战地心说,排除A项;材料中的内容是天文数学家揭示自然法则,而

不是人类社会行为法则,且以理性寻找支配人类行为的法则是18世纪启蒙运动的特色,排除C项。

22. C【解析】材料揭示了1878年恩格斯代表作《反杜林论》撰写的历史背景及主要观点。材料中杜林的思想歪曲了经济和政治暴力的关系,混淆了人们对马克思主义的正确理解,恩格斯的文章有利于人们正确认识唯物主义,从而捍卫了科学社会主义,C项正确。19世纪末20世纪初资本主义进入帝国主义时代,排除A项;欧洲工人运动兴起于19世纪三四十年代,排除B项;材料没有解释无产阶级专政思想,排除D项。

23. B【解析】根据材料并结合所学知识可知,19世纪随着工业革命地开展,火车、汽船等交通工具得到应用,使远程团体出游成为可能,另外工厂制度的普及以及休假制度的形成,人们对工作外的娱乐休闲生活的追求使得越来越多的人选择出门度假,旅行团的出现可以满足多人旅行和节省旅游成本的作用,这些都得益于工业化的深入发展,B项正确。20世纪80年代,发达国家中间阶层的发展趋于稳定,与材料时间不符,排除A项;旅游方式的变革是人们生活方式变革的一种表现,二者没有因果关系,排除C项;垄断组织产生发展是在19世纪末20世纪初以后,是生产过于集中后,生产组织与管理方式发生的重大变革,与材料主旨和时间均不符,排除D项。

24. D【解析】据材料及所学可知,外国资本的大量涌入,冲击了拉美各国的民族工业,加剧了列强对拉美各国的掠夺与剥削,进一步恶化了拉美各国经济发展的内部环境,从而严重阻碍了拉美各国民族资本主义的发展,故D项正确。材料中1913年英国在拉美的投资明显多于美德,但这与其实力对比明显不符,故列强在拉美的投资额无法直接反映其实力大小,排除A项;造成拉美单一经济体系形成的主要原因在于殖民地时代西、葡实行的旧式封建土地所有制(建立生产结构单一的大庄园),排除B项;1913年世界殖民体系业已形成,排除C项。

25. 【参考答案】

(1)特点:教育内容丰富(涉及领域广泛);教育(或理念)思想先进;教育行为具有强制性;教育形式(或途径)多样等。(6分,答出3点即可)

原因:农业手工业的发展;中央集权体制的影响;传统文化思想的影响等。(6分)

(2)趋势:国家日益重视(立法保证);与社会需要紧密结合;涉及领域日益广泛;日益规范化(或课程体系逐步完善);教育规模不断扩大;教学培训途径或方式更加多元等。(7分,每点2分,任答4点得7分)

影响:奠定了德国现代职业教育的基础,完善了教育体系;适应了德国工业化发展的需要(或为德国两次工业革命提供了技术人才);为其他国家和地区的职业教育提供了借鉴;在一定程度上缓和了社会矛盾,稳定了社会秩序等。(6分,答出3点即可)

【解析】(1)第一小问特点,根据“涉及到冶炼铸造、纺织造器、农医兵器等关系国计民生的各个领域”可得出教育内容丰富(涉及领域广泛);根据“辩证思想是其指导思想,即培养善于将事物综合起来,进行整体研究,在把握事物普遍规律的基础上,具体掌握一技一艺之理”可得出教育(或理念)思想先进;根据“国家统治者常运用手中的权力,集中国家力量,总结推广来自民间的创造、发明”可得出教育行为具有强制性;根据“从‘六艺’之教为发端的官学教育到专科学校的创建与发展,从劝课农桑的社会教化到官府作坊艺徒制的建立,从民间的世袭相传到师徒相传”可得出教育形式(或途径)多样等。第二小问原因,可根据特点从经济、政治及思想三个角度进行分析。

(2)第一小问趋势,根据“对地方工业学校进行改革”“联邦宪法还规定”“1890年召开教育会议”及所学可得出国家日益重视(立法保证);根据“1850年,德国各地已出现了大量矿业、纺织、机器制造业、冶金等职业学校”“并在教学内容方面增设了力学、化学实验等实习课程”“又增加了测量学、机械设计等课程”“电力等科学技术教育在德国受到了更大的重视”及所学可得出与社会需要紧密结合、涉及领域日益广泛等;根据“制订出全国统一的标准。根据这个标准,建立了统一的中等工业专门学校”“1870年,进一步将工业学校改为3年制”及所学可得出日益规范化(或课程体系逐步完善)、教育规模不断扩大等;根据“规定工厂所在地要建立补习学校,农村农闲季节也要开办各类学校,训练农民的生产技能”及所学可得出教学培训途径或方式更加多元等。第二小问影响,首先从职业教育的角度出发,分析其对德国教育的影响;接着从人才培养角度分析其对两次工业革命的影响;再次,根据“英国开始模仿德国,着手本国的职业教育改革”及所学可从对其他国家和地区的影响角度进行分析,最后可从稳定社会秩序等角度进行分析。

26.【参考答案】

示例

时代中的婚姻变革

随着资产阶级民主革命运动和女子解放运动的高涨,婚姻变革的浪潮兴起。资产阶级革命派将传统婚姻与专制制度联系起来加以批判,并将“婚姻自由”与追求自由平等的革命要求结合起来。(3分)

婚姻变革表现出新旧杂陈的某些特质。首先是婚姻观念的变化,在尊重父母之命、媒妁之辞的同时,更要经过夫妇双方同意,从而增强了男女婚姻自主的观念。其次是新式婚礼的形式趋于简单,铲除了传统婚礼过程中的很多陈规陋习。再次是新式婚礼的证婚人宣读婚书、主婚人宣读训词等仪式,具有近代婚姻的法制性和契约性,以及模仿西方的痕迹。(9分)

“婚姻自由”观念的兴起,传统婚礼向新式婚礼的转变,不但逐渐冲击和改变了传统的婚姻习俗,更增强了人们的婚姻自主意识和自由观念,也成为近代妇女解放的一个重要组成部分。(3分)

(说明:“背景”3分,“主体论述”9分,“总结升华”3分。示例仅供参考。)

【解析】材料一引自近代资产阶级革命派金天翮(金一)的《女界钟》一书。《女界钟》是中国近代第一部论述妇女问题的专著,旨在敲响女界革命的警钟,唤醒女同胞为争取自己的权利而努力。材料二选自清末民初徐珂所辑《清稗类钞》“婚姻类”中的“文明结婚”条,从材料的叙述中可以看到晚清时期婚姻变革中出现了新旧杂陈的特点,结合材料和所学进行分析,最后总结婚姻变革的时代意义。

层次要求:

(1~5分)层次1:提取信息不够准确,不能在婚姻变革和相关历史现象之间建立起简单联系,没有简要说明;不能表述成文,思路不清,词不达意。

(6~10分)层次2:提取材料信息准确,能把婚姻变革的内容与历史史实建立联系,并加以简要说明;能表述成文,思路不够清晰,语言不够流畅。

(11~15分)层次3:提取材料信息准确,能结合时代背景,在婚姻变革和相关历史现象之间建立起密切联系,并在概括归纳的基础上,进行完整、充分的阐释说明;能表述成文,思路清晰,逻辑严密,语言流畅。

27.【参考答案】

第一次工业革命对英国社会发展的影响主要表现在社会经济、阶级结构、社会运动和社会治理等方面。

社会经济方面,第一次工业革命大大提高了生产力,使得社会财富增加,但财富大多集中在资本家及一些上中层集团手中,资本家过着奢靡的生活。同时,社会贫富分化严重,与富有的资本家相比,工人生活贫困、生产条件和居住条件恶劣,使用童工、女工的现象普遍;社会阶级结构也发生了变化,由之前的贵族、中间阶层和普通大众组成的社会结构中新增了工业无产阶级和工业资产阶级;随着阶级矛盾的不断加深,工人运动随之兴起,如早期工人运动、英国宪章运动等,工人运动的不断发展,也推动了马克思主义的诞生;社会治理改革方面,工人阶级和工业资产阶级力量的壮大,英国不得不进行一系列民主化改革和逐步建立并完善社会保障制度,加之工业资本主义经济的快速发展,英国推行自由主义经济思想,进一步推动了国家法制化建设。(12分,从四个方面作答,每点3分)

(开放性试题,答案仅供参考,答案涉及生产组织形式的变革[工厂制出现],城市化发展,工业革命对环境的污染等内容,可酌情给分。)

【解析】材料一,从漫画创作的历史背景来看,英国的工业革命已基本完成,两大阶级的对立已十分明显。画面分作上下两层,上层的空间较小,但上层的资本家却高高在上,过着醉生梦死的生活;下层的空间较大,但却布满了狭窄的煤炭矿道,使用童工运煤,充塞着极端贫困的工人及其家属。漫画还为那群恬不知耻的资本家设计了一句道白。漫画形象地揭示了穷人国和富人国的巨大差距。材料二,为了适应工业社会的发展,英国进行法制化建设,废除了阻碍经济发展的一系列旧法令。特别是贫困造成的巨大社会问题,以及人们的经济和政治斗争,迫使资本家及其代理人改变社会治理方式,不断进行社会改革。分析说明“第一次工业革命深刻影响了英国社会发展”,需要提取材料一、二的有效信息,并结合所学知识,从生产力提高和财富增加、贫富分化严重、社会阶级结构、工人运动兴起、社会治理改革等方面进行说明。

2024 届高三一轮复习联考(三)全国卷文综政治参考答案及评分意见

12.D 【解析】本题考查发展更高层次开放型经济的知识。根据跨境电商的内涵以及跨境电商乘风而上,已成为我国电子商务和对外贸易增长的新“发动机”,迸发出前所未有的发展潜力,可知发展跨境电商有利于拓展我国对外贸易,培育贸易新业态新模式,增添发展新动力,推动建设开放型世界经济,③④符合题意。发展跨境电商能降低外贸企业的交易成本,但不一定能提高外贸企业利润率,①错误。材料体现的是进出口贸易,不涉及“引进来”和“走出去”并重,②不符合题意。故选 D。

13.D 【解析】本题考查人大的知识。全国人大常委会开展科技进步法执法检查,聚焦科技进步法贯彻实施的重点难点问题,以法治力量保障和推动科技创新,有利于加强法律实施情况监督,推动科技进步法贯彻落实到位,推动我国实现高水平科技自立自强、建设科技强国,②④符合题意。企业在科技创新中居于主体地位,①错误。人民代表大会制度在我国政治制度体系中居于核心地位,③错误。故选 D。

14.D 【解析】本题考查民主党派的知。材料强调,在中共河北省委召开的党外人士座谈会上,民主党派就灾后重建和经济工作提出了相关意见和建议,这表明中国共产党和各民主党派是共同致力于社会主义现代化事业的亲密友党,各民主党派坚持中国共产党的领导,是中国共产党的好参谋、好帮手、好同事,助力经济社会发展,③④符合题意。民主党派是我国的参政党,不能管理地方事务,①错误。材料不涉及依法执政,②不符合题意。故选 D。

15.D 【解析】本题考查民族区域自治的知识。开展对口援疆工作有利于促进各民族共同繁荣,推动新疆地区高质量发展,促进新疆改革发展稳定,有助于促进各族干部群众交往交流交融,增进民族团结,铸牢中华民族共同体意识,②④符合题意。我国新型社会主义民族关系已经建立,①错误。新中国成立后,各民族人民已经当家作主,③错误。故选 D。

16.B 【解析】本题考查国际关系的知识。日本与韩国担心受连累其实就是担心其国家利益受损,体现了国际关系的实质是一种利益关系,国家利益是国际关系的决定性因素,①④符合题意。②与题干不构成因果联系,排除。竞争、合作与冲突是国际关系的基本形式,而且该题肢与题干不构成因果联系,③排除。故选 B。

17.D 【解析】本题考查我国外交的知识。中国坚持与世界各国互惠互利、合作共赢的理念,更有与沿线国家共享机遇、共同发展的决心。这表明我国在谋求自身发展的同时,发挥负责任大国的作用,坚持互利互惠合作共赢,促进沿线各国经济发展,③④符合题意。我国在维护自身利益的同时,兼顾他国合理关切,①错误。我国积极推动世界多极化发展,但不主导世界多极化发展,②错误。故选 D。

18.A 【解析】本题考查文化对人的影响的知识。河北省石家庄市大力推进新型公共文化空间建设,是基于文化对人的影响来自特定的文化环境;营造良好的文化氛围,提升市民的阅读体验,是完善全民终身学习教育体系的一次生动实践,①③符合题意。②④不符合题意。故选 A。

19.A 【解析】本题考查文化交流和传播的知识。中国瓷器很早以前便传入阿拉伯世界,而且在许多阿拉伯国家的历史遗址中,都可以找到中国瓷器的身影,这表明瓷器是中国和阿拉伯文化交融的重要见证,①符合题意。随着丝绸之路的发展,瓷器逐渐成为重要的贸易品之一,表明商业贸易是文化交流和传播的重要途径,②符合题意。材料不涉及吸收外来文化,且应吸收外来文化的有益成果,排除③。各民族文化一律平等,“中国传统文化的优越性”的说法错误,④排除。故选 A。

20.C 【解析】本题考查教育在文化传承中的作用的知。传统文化进校园是基于教育是人类特有的传承文化的能动性活动,能让孩子们近距离感受中华传统文化的魅力,能

在丰富校园生活的同时增强学生的文化自信,②③符合题意。传统文化进校园能够促进青年学生全面发展,但不是根本途径,①错误。材料不涉及文化创新,也不涉及文化创新的根本目的是什么,④不符合题意。故选C。

21.D 【解析】本题考查中华文化的知识。从诗词散文到绘画工艺等,牡丹以各种形态融入人们日常生活的各个部分,与人们的生活生产息息相关。近年来,菏泽牡丹走上世界舞台,成为促进文化交流的“特使”。这说明菏泽牡丹走上世界舞台,讲好“国色天香”的中国故事需要立足社会实践,发掘牡丹文化与日常生活的联系,有助于中华文化走向世界,能够让国际社会了解源远流长、博大精深的中华文化,③④符合题意。应认同本民族文化,尊重其他民族文化,①错误。材料不涉及中华文化的力量熔铸在民族的创造力、生命力之中,②不符合题意。故选D。

22.B 【解析】本题考查文化生活的“喜”与“忧”的知识。我国加强“自媒体”管理,以推动形成良好网络舆论生态,是基于文化市场具有自发性,会引发令人忧虑的现象,旨在规范文化传媒市场秩序,打造风清气正的网络环境,①④符合题意。加强市场监管的主体是政府,②错误。满足人们对优秀文化的需求,而不是所有文化的需求,③错误。故选B。

23.A 【解析】本题考查文化自信的知识。随着“盛世中华何以中国”网上主题宣传活动启动,人们开启了一段精彩的探源之旅,感受中华文化的源远流长、博大精深,说明文化自信来自对自身文化生命力的坚定信念,有助于引导人们做中华优秀传统文化的忠实传承者,①②符合题意。中华优秀传统文化是中华民族的主基因,③错误。材料不涉及社会主义文化强国目标,④不符合题意。故选A。

38.【参考答案】①全过程人民民主是社会主义民主政治的本质属性,是最广泛、最真实、最管用的民主。②坚持党的领导,积极发展基层民主,充分听取群众意见和建议,保障人民依法行使民主权利。③发挥人大代表的作用,密切人大代表同人民群众的联系,更好地反映群众意愿,创新基层人大代表工作方式,积极回应人民群众的新要求新期待,推进和监督地方政府工作。④贯彻民主集中制原则,协调一致地工作,维护好人民群众的合法权益。(每点3分,共12分)

【解析】本题考查人大代表、人民民主的知识。材料中,“用实际行动书写全过程人民民主恩施答卷”,体现了全过程人民民主是社会主义民主政治的本质属性,是最广泛、最真实、最管用的民主。材料中,“恩施州委的坚强领导”,体现了坚持党的领导。材料中,“全州各级人大代表走好新时期群众路线,访农家、走田埂、跑工地、进企业、开展调查研究,推动解决群众反映的突出问题”,体现了发挥人大代表的作用,密切人大代表同人民群众的联系,更好地反映群众意愿。材料中,“全州80多个乡镇同步开展民生实事人大代表票决制专题调研。恩施州围绕人大代表票决的‘城市入河排污口整治’等项目进行调研督办,提出相应的建议,加快推动项目建设”,体现了创新基层人大代表工作方式,积极回应人民群众的新要求新期待,推进和监督地方政府工作。材料中,“在恩施州委的坚强领导,在湖北省人大的精心指导下,恩施州以‘聚力共同缔造’为主题,开展‘1+N’代表行动”,体现了贯彻民主集中制原则。

39.【参考答案】①文化是一种精神力量,能够在人的实践中转化为物质力量,对社会发展产生深刻影响。积极传承体育精神能够为推动中华民族伟大复兴提供强大的精神动力。(3分)②优秀文化塑造人生,开展有关体育运动健康有益的特色活动可以丰富人的精神世界,增强人的精神力量,促进人的全面发展,为推动中华民族伟大复兴打下坚实的人才基础。(3分)③加强体育文化交流,精心组织体育文化优秀项目、体育旅游精品项目参加中国体育文化博览会、中国体育旅游博览会,有利于推动中华文化在世界的传播,增强中华文化的国际吸引力和影响力,提高我国文化竞争力,助推实现中华民族伟大复兴伟

大复兴。(4分)④统筹推进体育产业和体育事业发展,传播健身知识、弘扬体育文化,有利于体育强国建设加速推进,有助于提高人们的思想道德修养和科学文化修养,能为推动中华民族伟大复兴培养时代新人。(4分)

【解析】本题考查文化的作用、文化交流等知识。材料中,“用体育精神凝聚奋进力量”,体现了文化是一种精神力量,能够在人的实践中转化为物质力量,对社会发展产生深刻影响。材料中,“积极开展体育文化体验、体育文化研学、体育科普体验等特色活动,传播健身知识、弘扬体育文化”,体现了优秀文化塑造人生,优秀文化丰富人的精神世界、增强人的精神力量、促进人的全面发展。材料中,“精心组织体育文化优秀项目、体育旅游精品项目参加中国体育文化博览会、中国体育旅游博览会”,体现了安徽加快体育强省建设有利于推动中华文化在世界的传播,增强中华文化的国际吸引力和影响力,提高我国文化竞争力。材料中,“统筹推进群众体育、竞技体育、体育产业、体育文化和体育组织发展”“传播健身知识、弘扬体育文化”,体现了安徽加快体育强省建设有助于提高人们的思想道德修养和科学文化修养,能为推动中华民族伟大复兴培养时代新人。

40.【参考答案】(1)①人民政协是中国人民爱国统一战线组织,是国家治理体系的重要组成部分,履行政治协商、参政议政、民主监督的职能。(2分)②政协委员深入实际,了解情况、听取意见,为推动讲好中国故事、传播好中国声音建言献策。(2分)③召开专题协商会,聚焦增强中华文明传播力影响力,发挥协商民主的独特优势。(2分)④借助互联网技术,搭建协商平台,拓宽协商渠道,进行更大范围的群策群力,让更多委员参与议题讨论交流。(2分)⑤积极开展民主监督,推动地方各级政府服务国家战略,贯彻执行党的有关增强中华文明传播力影响力的决策部署,更好地发出中国声音、讲好中国故事、展示中国形象。(2分)

(2)①要坚持马克思主义在意识形态领域的指导地位,坚持中华文化立场和正确的舆论导向。(2分)②要优化人才结构,加强国际传播人才队伍建设,全面提高国际传播人才的综合素养和业务能力。(2分)③要着力丰富传播内容,使中国故事生动丰满、中国声音动听感人,提高中华文化国际传播力影响力。(2分)④要推动中华优秀传统文化创造性转化、创新性发展,发挥中华文化独特魅力,增强中国故事的吸引力。(3分)⑤要着力构筑传播平台、拓宽传播渠道,创新传播方式,将中国故事和中国声音发出来、传出去,将中国精神和中国风貌阐释好、展现好。(3分)

(3)示例:①中国青年要坚定文化自信,树立民族自信心和自豪感。②中国青年要借助现代传媒,创新讲好中国故事的方式方法。③从自身做起,从身边的每一件小事做起,积极以实际行动维护国家形象。(每点2分,共4分,回答两点即可)

【解析】(1)本问考查人民政协的知识。材料中,人民政协在推动讲好中国故事、传播好中国声音中发挥着重要作用,可联系人民政协的地位和职能。材料中,“全国政协文史和学习委员会组织专题调研组赴香港、河南和广西调研并同当地政府相关部门负责人、基层单位工作人员、专家学者等面对面交流,了解情况、听取意见、凝聚共识”,体现了政协委员深入实际,了解情况、听取意见,为推动讲好中国故事、传播好中国声音建言献策。材料中,“通过专题协商会形式进行协商建言”,体现了召开专题协商会,聚焦增强中华文明传播力影响力,发挥协商民主的独特优势。材料中,“在‘线上’主题议政群开展了广泛的学习讨论,进一步拓展了专题协商会的‘物理’边界,为更多委员开辟了建言的第二通道”,体现了拓宽协商渠道,进行更大范围的群策群力,让更多委员参与议题讨论交流。材料中,“对贯彻落实习近平总书记重要指示精神和党中央决策部署进行协商式监督”,体现了积极开展民主监督,推动地方各级政府贯彻执行党的有关增强中华文明传播力影响力的决策部署。

(2)本问考查发展中国特色社会主义文化的知识。材料中,“一味迎合国外口味”,体现了

要坚持马克思主义在意识形态领域的指导地位，坚持中华文化立场和正确的舆论导向。材料中，“传播主体结构相对单一”，体现了要优化人才结构，加强国际传播人才队伍建设，全面提高国际传播人才的综合素养和业务能力。材料中，“传播内容不够丰富生动”，体现了要着力丰富传播内容，使中国故事生动丰满、中国声音动听感人，提高中华文化国际传播力影响力。材料中，“缺乏中国特色”，体现了要推动中华优秀传统文化创造性转化、创新性发展，发挥中华文化独特魅力，增强中国故事的吸引力。材料中，“传播方式有些不相适应、传播能力还需不断加强”，体现了要着力构筑传播平台、拓宽传播渠道、创新传播方式，将中国故事和中国声音发出来、传出去，将中国精神和中国风貌阐释好、展现好。

(3)本问属于开放性试题，围绕主题回答，言之有理即可。



2024 届高三一轮复习联考(三)

地理参考答案及评分意见

1. A 【解析】从无人机遥感工作场景图可以观察到,无人机遥感测量高度远远低于卫星遥感,因此与卫星遥感相比,无人机遥感机动灵活,A 正确;无人机遥感作业成本低,B 错误;卫星遥感高度高,获取信息面积广,C 错误;无人机遥感数据传输快,高效便捷,D 错误。故选 A。

2. D 【解析】在地形高低起伏较大的情况下,无人机可以根据地形起伏自适应改变飞行高度,既能保证影像重叠度,又能确保影像获取的质量,从而提高测量精度,D 正确;减少地面干扰不是主要目的,A 错误;不断改变飞行高度不利于节省能源消耗、缩短测量时间,B、C 错误。故选 D。

3. B 【解析】从表中数据可以看出,该日永暑岛(9°40'N,112°53'E)地方时 6:00 和 18:00 太阳高度大于零,因此昼长夜短,为夏半年。故选 B。

4. C 【解析】从表中当地正午时刻的太阳高度可以看出,地方时 12:00 时,永暑岛(9°40'N,112°53'E)太阳高度为 79°,西沙岛的太阳高度为 86°。根据正午太阳高度的计算公式可以得出,两地正午太阳高度的差值=两地的纬度差,因此西沙岛与永暑岛的纬度差约为 7°。根据永暑岛的纬度可计算出西沙岛的纬度约为 16°40'N 或 2°40'N。故选 C。

5. A 【解析】太阳高度是影响太阳辐射大小的重要因素,太阳辐射量大小是空调负荷设计的重要参考因素,A 正确;潮汐现象是太阳、月球对地球的引力引起的海水周期性涨落的现象,与太阳高度无关,B 错误;台风天气是洋面温度上升引起的,与太阳高度无关,C 错误;太阳高度对大气质量没有影响,D 错误。故选 A。

6. C 【解析】材料中提出图示为重庆市北碚区城区 4 个功能区(居住区、文化区、商业区、城区主干道)道路人流量在某日部分时段分布。从图中可以看出,甲功能区人流量在上下班时间出现高峰,图示时段(白天)人流量整体较低,与居住区的人流量变化特点相符合。故选 C。

7. A 【解析】结合上题及时段人流量变化特点可以推断出,甲为居住区、乙为文化区、丙为商业区、丁为城区主干道。文化区人流量变化在学生上下学时间出现高峰,A 正确;图示时段无法判断城区主干道人流量在一天内的变化,B 错误;商业区与居住区人流量变化具有明显的相关性(负相关),C 错误;居住区人流量达到最大值应为上下班时间,D 错误。故选 A。

8. B 【解析】首先应理解题干中的“近自然林业”理念。“近自然林业”即使森林保持原始风貌的天然林状态,有利于保护当地的生态系统,B 正确;发展旅游业不一定采用“近自然林业”理念建设森林,从材料中也可以看出,发展旅游业不是森林绿带建设的主要目的,A 错误;采用“近自然林业”理念建设森林绿带也需要日常管理维护,C 错误;迎合大众审美不是主要目的,D 错误。故选 B。

9. A 【解析】材料中提出,森林开发由初期的城市森林、农田扩展到自然保护区,以及城市内部的花园、公园、开放空间等,有效缓解了城市热岛效应,维也纳被称为“森林城市”。因此,在这个过程中,森林的生产功能减弱,生态功能提升,A 正确;随着绿带的建设,绿带规模会不断扩大,连续性增强,且绿带不断向城市内部延伸,B、C、D 错误。故选 A。

10. B 【解析】维也纳森林绿带建设采用“近自然林业”理念,因此不应人为增加绿带内植被种类,提高生物多样性,A 错误;通过绿道建设,连接绿带与城市内部空间,使城市森林更高效地发挥生态服务功能和休闲游憩功能,B 正确;建保护区,绿带内严禁任何商业开发不利于经济可持续发展,C 错误;提高经济林比重,增加绿带木材产出与“近自然林业”理念相违背,D 错误。故选 B。

11. C 【解析】从图中可以看出,开挖沟渠后碌曲县湿地面积有所增加,玛曲县湿地面积变化较小,若尔盖县和红原县湿地面积减小明显,湿地景观变化差异较大,A 错误、C 正确;开挖沟渠后湿地景观仍主要集中在若尔盖县、玛曲县与红原县内,并没有趋向于均衡分布,B 错误;总体来看,湿地斑块数量呈减小变化,D 错误。故选 C。

12. C 【解析】结合上题分析可知,与开挖沟渠前相比,开挖沟渠后当地湿地面积减少。据此推断出,开挖沟渠可以使沼泽湿地的水排出。材料中提出,当地位于青藏高原的东北部,为高原湿地,湿地排水后利于草类生长,可以促进畜牧业发展。因此当地开挖沟渠是为了发展畜牧业,与灌溉农业、水产养殖业、内河航运业无关。故选 C。

13. D 【解析】结合上题分析可知,当地开挖沟渠是为了发展草原畜牧业,人工沟渠与自然水道的连接扩展了排水网络,进一步促进了沼泽湿地的减少,D正确;人工沟渠与自然水道相连加快了排水速度,湿地萎缩,不利于提高生物多样性和增加水资源储量,A、B错误;人工沟渠修建与地质灾害关系较小,C错误。故选D。

14. D 【解析】从图中可以看出,海拔较低的山地边缘地区年累计太阳辐射较低,海拔较高的山体内部,年累计太阳辐射较高,因此影响图示区域年太阳辐射分布的主要因素是地形,D正确;受西风影响,阿尔卑斯山海拔较高处多地形雨,年累计太阳辐射应该较小,与图示不符,A、C错误;植被对年累计太阳辐射分布影响小,B错误。故选D。

15. B 【解析】从图中可以看出,与山地边缘相比,阿尔卑斯山体内部吸收了更多的太阳辐射,从而导致山体内部具有更高的夏季温度与更长生长季的气候条件,适宜树木生存的温度环境,为山体内部林线出现在更高海拔地区提供了重要的温度条件。因此,受年太阳辐射分布影响,阿尔卑斯山林线由山地边缘到内部逐渐升高。故选B。

16. D 【解析】全球气候变暖是缓慢变化的,不会导致阿尔卑斯山林线上部乔木快速发育,A错误;气候变暖导致冰川融化,山体吸收太阳辐射能力增强,山地气温上升,会导致高山草甸面积增大、冰川消融加快,B、C错误;气温升高,蒸发加剧,加之冰川萎缩,山地气候趋于干旱,会导致耐旱植被增多,D正确。故选D。

17. A 【解析】材料中提出,以色列北部气候干旱缺水,将温室与鱼塘连接在一起,通过地热水加热鱼塘可以增大蒸发量,调节温室内部湿度,A正确;温室与鱼塘连接对农业生产结构没有影响,B错误;材料中无法得出农业化肥施用量减少,C错误;温室与鱼塘连接对渔产品的价格影响小,D错误。故选A。

18. B 【解析】材料中提出,地下水在深度大于30米的地方温度保持相对稳定,因此利用地热水工程量较大,且对技术要求高,成本较高,C、D错误;太阳能为清洁能源,与太阳能相比,地热能并没有污染小的优势,A错误;太阳能受自然条件影响大,稳定性差,与太阳能相比,利用地热水加热温室稳定性好,B正确。故选B。

19. C 【解析】读图可以看出,渝鄂边界区旅游经济联系强度西高东低。故选C。

20. D 【解析】材料中提出,渝鄂边界区位于重庆市和湖北省交界地带,拥有丰富的自然资源和人文旅游资源,具有相似的自然地理特征和人文历史环境,因此该区域文化认同相近,①错误;行政区交界地带往往交通薄弱,不利于经济联系,②正确;从图中可以看出,该区域缺少大城市的辐射带动作用,③正确;受行政区划隔离影响,该区经济发展各自为政,不利于经济联系,④正确。故选D。

21. 【参考答案】(1)相同点:湍流强度随高度增大而减小,且高度越高湍流强度减小的趋势越平缓;平均风速随高度的增大而增大,且高度越高风速增大的趋势越平缓。

不同点:曹妃甸不同海拔湍流强度小于嘴东;曹妃甸不同海拔风速大于嘴东。

(每点2分,答出3点得6分)

(2)曹妃甸为海岛,受海洋影响大;与陆地相比,海洋比热容大,垂直方向上温差小,湍流强度小;海洋下垫面单一,大气扰动作用小,湍流强度小。(每点2分,答出2点得4分)

(3)有利条件:湍流弱,对发电设施破坏小;风速大,风能资源丰富。

不利条件:偶发强风会对发电设施造成破坏。

(每点2分,答出2点得4分)

【解析】第(1)问,读图乙可以看出,两风塔站湍流强度随高度增大而减小,且高度越高湍流强度减小的趋势越平缓;平均风速随高度的增大而增大,且高度越高风速增大的趋势越平缓,与湍流强度的变化相反。两风塔站的不同点表现为:曹妃甸不同海拔湍流强度小于嘴东;曹妃甸不同海拔风速大于嘴东。第(2)问,材料中指出,当风速增加到很大时,若垂直方向上温差大,风场中有许多小漩涡,这种运动称为湍流。从湍流强度来看,由于海水热容量高于陆地,近海面层温度梯度小于同时的陆上近地层,且海洋下垫面整体比陆地下垫面更简单、平滑,因此更靠近海洋的曹妃甸风塔湍流强度整体小于嘴东风塔的湍流强度。第(3)问,材料中提出,渤海湾北岸海上风电资源丰富,风电场选址受湍流、风速等风场状况影响大。因此,评价风电场建设的场场条件要从湍流和风速两个角度答题,并注意从有利条件和不利条件组织答案。从有利条件来看,曹妃甸湍流弱,对发电设施破坏小;风速大,风能资源丰富。从不利

条件来看,曹妃甸风速较大,偶发强风会对发电设施造成破坏。

22.【参考答案】(1)年平均降水少,且降水集中,气候干旱;处于草原带与荒漠草原带过渡区,生态环境脆弱;温带大陆性气候,大风天气多,风沙危害严重。(每点2分,答出2点得4分)

(2)土壤水分含量较高时,临界起沙风速较大(或土壤水分含量较低时,临界起沙风速较小);临界起沙风速和土壤水分表现出相同的变化趋势。(每点1分,答出2点得2分)

(3)2019年12月~2020年3月。(2分,时间段内都可给分)该时间段内植被覆盖率低,土壤水分含量少,地表多松散物质;多大风天气,且起沙风速较低,风沙天气多发。(每点2分,答出2点得4分)

【解析】第(1)问,材料中提出乔伊尔市为温带大陆性气候,冬春季节多大风天气,年平均降水200~300mm,可以推断出年平均降水少,且降水集中,气候干旱;温带大陆性气候,大风天气多,风沙危害严重。从图I中可以看出,乔伊尔市处于草原带与荒漠草原带过渡区,生态环境脆弱,对环境变化和人类干扰较为敏感,草原一旦被破坏,很难恢复。第(2)问,从图II中可以看出,土壤水分与临界起沙风速两条曲线大体呈正相关,土壤水分含量高时,临界起沙风速较大,临界起沙风速和土壤水分表现出相同的变化趋势。第(3)问,观察图II,2019年12月~2020年3月时间段内土壤水分含量少,地表多松散物质,易引发风沙危害;结合所学知识,该时段内植被覆盖率低,地表缺乏植被保护,易起沙;材料中提出冬春季节多大风,且从图II中可以看出图示时段起沙风速较低,风沙天气多发。

23.【参考答案】(1)农业主要分布于山前倾斜平原区。该区域地形平坦,土层深厚,土壤肥力较高;受地表水和地下水补给,水资源较丰富;当地农业为绿洲农业,平原区有水渠分布,便于灌溉。(每点2分,答出3点得6分)

(2)明渠(土渠)引水灌溉,水资源下渗、蒸发量大;采用大水漫灌的方式,水资源浪费严重;农业种植结构不合理,棉花耗水量大;水资源分配不合理,水资源利用效率低。(每点2分,答出2点得4分)

(3)加大水利设施投入,变明渠为暗渠;改变传统灌溉方式,变大水漫灌为滴管、喷灌;改变农业种植结构,减少耗水量大的作物种植,发展节水农业;采取河长制,健全水资源管理制度等。(每点2分,答出2点得4分)

【解析】第(1)问,农业生产需要较平坦的地形、肥沃的土壤、充足的灌溉水源等。山前倾斜平原区地形平坦,土层深厚,土壤肥力较高;受地表水和地下水补给,水资源较丰富;当地农业为绿洲农业,图中可以看出山前倾斜平原区有水渠分布,便于灌溉。第(2)问,材料中提出,目前,流域内农业以棉花种植为主,明渠(部分为土渠)引水、大水漫灌等落后的灌溉方式普遍存在,水资源利用效率低下,水资源利用和分配极不均匀。因此造成当地水资源利用效率低的主要原因应从水利设施、灌溉方式、农业结构、水资源分配等方面作答。第(3)问,为提高该流域水资源利用效率提出可行性措施应针对第(2)问水资源利用率低的原因回答,从提高水利设施水平、改变灌溉方式、改善农业种植结构和加强水资源管理等方面作答。

关于我们

自主选拔在线是致力于提供新高考生涯规划、强基计划、综合评价、三位一体、学科竞赛等政策资讯的升学服务平台。总部坐落于北京，旗下拥有网站（网址：www.zizzs.com）和微信公众平台等媒体矩阵，用户群体涵盖全国 90% 以上的重点中学师生及家长，在全国新高考、自主选拔领域首屈一指。

如需第一时间获取相关资讯及备考指南，请关注**自主选拔在线**官方微信号：**zizzsw**。



微信搜一搜

自主选拔在线

