

## 2024 届广东省高三 12 月联考 历史试题

### 注意事项:

1. 答卷前,考生务必将自己的姓名、考场号、座位号、准考证号填写在答题卡上。
2. 回答选择题时,选出每小题答案后,用铅笔把答题卡上对应题目的答案标号涂黑。如需改动,用橡皮擦干净后,再选涂其他答案标号。回答非选择题时,将答案写在答题卡上。写在本试卷上无效。
3. 考试结束后,将本试卷和答题卡一并交回。

考试时间为 75 分钟,满分 100 分

一、选择题:本题共 16 小题,每小题 3 分,共 48 分。每小题给出的四个选项中,只有一项是符合题目要求的。

1. 在 1979 年发表的论文《广汉出土的玉石器》中将三星堆遗址视为“古代蜀国一个重要的政治中心”。下列考古成果最能支持这一观点的是
  - A. 三星堆发现大量的高品级的器物带有明显礼仪或礼制特征
  - B. 研究发现三星堆可能在成都平原的对外交流中处于枢纽地位
  - C. 三星堆发掘出土的人像、金杖、金面罩等造型前所未见
  - D. 三星堆遗址处在川西平原北部商周遗存的分布中心上
2. 尚书在汉初是隶属九卿之一的少府,汉武帝之后逐渐发展成为行政中枢机关——尚书台,参与皇帝决策,起草皇帝诏书,还可以对三公的行政工作实行监督检查。三公府对尚书起草的诏书也可拒绝执行。这反映了汉代
  - A. 实现了中枢权力相互制衡
  - B. 存在官僚党派斗争
  - C. 确立皇帝执掌的中朝机制
  - D. 君主专制得到强化
3. 春秋时期,老子提出“知常曰明;不知常,妄作凶”;鲁国闵子马认为“祸福无门,唯人自召”;郑子产提出“天道远,人道迩,非所及也”的观点。以上观点说明当时
  - A. 敬天保民思想的形成
  - B. 社会思想充满忧患意识
  - C. 天人之间的联系加深
  - D. 人自我主体意识的显现
4. 魏晋南北朝时期,匈奴人刘渊建立汉国(前赵),因当年刘邦曾以公主“妻冒顿”,因此匈奴成了“汉氏之甥”;鲜卑人建前燕、后燕、南燕、西燕,自认“其先有熊氏之苗裔”,“有熊氏”则是黄帝部落的称谓;羌人姚萇建立大秦政权,称“禹封舜少子于西戎,世为羌酋”。这反映了
  - A. 边疆民族不断内迁
  - B. 华夏认同观念凸显
  - C. 民族矛盾得到缓和
  - D. 少数民族的封建化

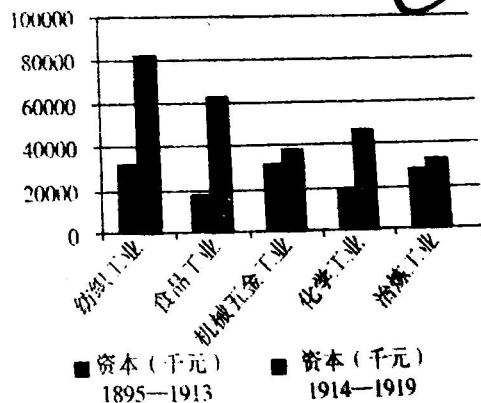
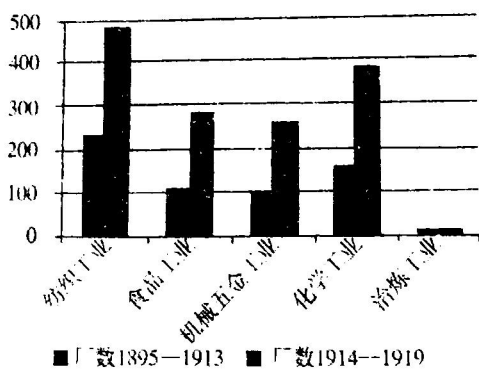
历史试题 第一卷 一

5. 下表为南宋时期主要省份公共工程数量表。据此能说明

朝代	陕西	河南	山西	直隶	江苏	浙江	江西	福建
唐	32	11	32	24	18	44	20	29
北宋	12	7	25	20	43	86	18	45
金以及同时期的南宋	4	2	14	4	74	185	36	63

- A. 政府财政负担的加重  
B. 北方经济呈现衰退  
C. 国家治理能力的提升  
D. 经济重心逐渐南移
6. 南宋陆九渊发挥传统儒家的“天人合一”观点,提倡“心即理”,万物皆自心发。朱熹则从吸收佛家“体用合一”观点的途径,主张“性即理”,万物皆是理的体现,人心只是其一。二者的思想
- A. 均是主观唯心主义  
B. 体现格物致知的求理方法  
C. 认为事物根源是理  
D. 具有朴素的唯物主义思想
7. 明清时期以讲史、公案、灵怪故事为题材的话本和小说颇为流行,这里的讲史,严格地说,主要是民间传说。在版式形式上均有插图,插图上有题目,揭示图画内容,与正文交相呼应。这反映了
- A. 文艺的大众化通俗化  
B. 市民阶层娱乐活动丰富  
C. 工商业资产阶级兴起  
D. 民众生活水平得到提高
8. 1873年,英国学者赖尔的地质学理论经由华蘅芳等人翻译介绍到中国,受到中国进步人士的欢迎。赖尔在其理论中批判了作为主流学说的“灾变论”对地质进化的解释,认为它忽视了事物量的变化和渐进过程,把“超自然力”看成是引起灾变的原因。由此可知,赖尔的地质学理论在中国的传播
- A. 适应了中国社会变革  
B. 得到了民众普遍认可  
C. 动摇了传统主流思想  
D. 开启了西学东渐序幕

9. 下图是中国近代工业厂数和资本统计图(部分),对这一时期工业发展情况的解读正确的是



- A. 政府放宽了民间设厂限制  
B. 帝国主义放松了对中国经济侵略  
C. 工业结构发展更趋于均衡  
D. 国民经济建设运动开展成效显著


10. “这场战役,既打破了日军打击中国第二战区部队,从右翼配合日军华北主力在平汉路作战的战略企图,又顿挫了日军向山西腹地深入的进攻势头,挫伤了日军的锐气,使之再不敢贸然深入,从而有力地支援了正面战场的抗战。”这场战役是
- A. 台儿庄大捷  
B. 平津战役  
C. 平型关战役  
D. 淞沪会战
11. 下表是 1952 年对 23 个省 15432 个农户的生产工具情况调查表

农户占有生产工具统计			贫农	中农
占有耕畜/户	犁/户	水车/户	购买商品货币支出	135.5
0.54 头	0.54 部	0.1 架	购买生产工具支出	3.5
				208.4
				7.6

- 这可以用来说明
- A. 土地改革势在必行  
B. 国民经济结构比例失衡  
C. 农村经济得到恢复  
D. 农业合作化的现实要求
12. 1949 年以前,石家庄的服装业基本上是私人个体手工业和工场作坊式的生产。1951 年,有 70 名职工的石家庄市新华服装成立。到 1957 年,石家庄拥有了棉纺织行业、印染行业、针织复制业、服装鞋帽业等,成为华北地区重要棉纺织工业基地。石家庄的转变主要是由于
- A. 棉花种植业的广泛发展  
B. “一五”计划的实施  
C. 现代企业制度普遍确立  
D. 国民经济调整完成
13. 2023 年 9 月 13 日下午,国家主席在人民大会堂同来华进行国事访问的委内瑞拉总统马杜罗举行会谈。会谈后,两国元首共同见证签署共建“一带一路”、经贸、教育、旅游、科技、卫生、航天、民航等领域多项双边合作文件。上述材料充分说明
- A. 国际新秩序得到建立  
B. 新兴经济体引领国际合作  
C. 区域集团化稳步前进  
D. 中国发展成果惠及世界
14. 有学者指出,陶片放逐法总算为解决领袖之间的政治冲突找到了一个相对缓和的办法:通过公民团体的命令,将其中一方有条件地流放国外。但失败者的被流放不是直接源自政治对手,而是雅典公民的选择。据此可知,这一权力运作方式折射出当时雅典
- A. 社会矛盾日趋缓和  
B. 贵族寡头色彩浓厚  
C. 公民掌握国家权力  
D. 法庭关注公平正义
15. 中世纪时期,欧洲神学家从《圣经》中引申出寡妇守贞不二的理论,力倡宗教禁欲主义。庄园主们为增加劳动人口则“百般纵容寡妇们结婚,如果她们拒绝或拖延,就会被罚款”。这反映出中世纪的欧洲
- A. 宗教的地位高于法律  
B. 教会与王权之间存在矛盾  
C. 神权与世俗权力并立  
D. 处于天主教会的统治之下
16. 撰写于 1206 年的《精巧机械装置的知识之书》在阿拉伯机械史中具有重要意义,书中记载了一种水力自动计时的时钟(如图所示)。该造型中,龙代表中国,大象让人想到印度和非洲,

历史试题 第 3 页(共 6 页)

不死鸟让人想到埃及,水利装置则不禁让人想到古希腊。这反映了阿拉伯



- A. 文化具有包容性
- B. 帝国疆域范围辽阔
- C. 商路繁荣辐射远
- D. 科学技术成就领先

二、非选择题:本题共4小题,共52分。

17. 阅读材料,完成下列要求。(14分)

材料一 中国古代商贸往来通道涉及疆土内外,这些通道,有用商品特征命名的丝路、茶路、皮货路、药材路等;有用线路地理特征命名的草原路、沙漠路、海洋路等;还有以交通工具命名的骆驼之路、马队之路、船队之路等。中央政府与周边民族地区和域外各国开展以进贡和回赐为特征的以物易物的朝贡贸易,唐宋明各朝各代的茶马互市等等,构成了中华民族独有的商贸历史文化遗产。

——摘编自王如芹《中国商路》

材料二 隋唐首都长安,是一座拥有近百万人口的东方世界最大的都会,许多国家的使节、学者、商人、僧侣聚集在这里,长期居住于长安的就达万家以上,许多人广置田宅,生儿育女,有的还被唐朝授予官职。波斯的摩尼教、大秦的景教等都在长安扎了根,不同宗教和睦相处、互不冲突的现象,在世界史上罕见。中亚、西亚人来到长安不仅带来了他们的生活习俗,也将西域的音乐、舞蹈、绘画引入长安,给中国传统文化注入了新的气息,推动了唐代文化成为中华文明史上的一座高峰。

——摘编自袁行霈主编《中华文明史》

(1) 根据材料一,概括中国古代商路的特点。(5分)

(2) 根据材料一、二并结合所学知识,对唐文化的发展情况进行评析。(9分)

开放包容



18. 阅读材料,完成下列要求。(12分)

**坊市界限**  
材料一 建隆三年(962年),宋太祖下令将坊墙撤除,由此形成了“街市结合”的城市体制。城市当中,店铺日夜均可经营。宋代坊郭户籍政策是政府对商人为城市做出贡献的奖励,这样一来,商人就成了真正意义上的城里人。城市经济的类型也趋于多样化,有工商型、商业型、手工型等。商业化的娱乐活动对他们来说如同家常便饭,极大丰富了人民的精神享受。为了适应海外贸易,宋朝的港口城市也逐渐增加。宋代社会各界人士纷纷加入商人行列,经商甚至成为一种风尚。宋代以服饰论尊卑的制度也逐渐动摇,到南宋时贵贱着裳相差无几的现象时有发生。宋代大城市周围的市镇比小城市密集的多,农村劳动力也大量迁入,人口多到朝廷需颁布政令来控制。但坊市界限的打破也造成了秩序的混乱,官商勾结、骚扰百姓的现象层出不穷。此外,农村人口的迁入也使流民、难民散布城市当中,烧杀抢掠事件发生更为频繁。

——摘编自司马少府《宋代城市是怎么样?浅谈宋代城市发展》

材料二 伴随着生产力水平的提高、商品经济的发展及手工业、农业的分离和日益专门化,大约在11世纪以后,西欧城市兴起了。在中世纪时代,西欧城市是封建领主政治的对立物。大批手工业者、农奴为逃避封建主的奴役进入城市。城市不仅成为逃亡者的避难所,也危害了封建主的利益,而且城市从产生之日起,市民就为自身利益、摆脱封建领主的盘剥而与其斗争,争取自治,甚至因此发动起义。中古西欧城市培养了新的阶级——市民阶级,也是日后推翻封建社会的主力。

——摘编自杨超《论中古西欧城市产生的原因兼评西方学者的学术观点》

(1) 根据材料一并结合所学知识,分析宋代城市发展的影响。(6分)

(2) 根据材料二并结合所学知识,概括中古时期西欧城市兴起的特点及原因。(6分)

19. 阅读材料,完成下列要求。(14分)

材料一 20世纪50年代,毛泽东认为:社会变革实际上就是指主要社会关系、生产关系的革命,在广义上它统指“关于社会制度方面的由私有制到公有制的革命”,而技术变革则是指“进行技术方面的由手工业生产到大规模现代化机器革命”,社会革命与技术革命并不是“两次革命”,“这两种革命是结合在一起的”。

——摘编自韩保江《中国经济体制改革发展史》

三大改造

材料二 1981年汕头市的非公有制经济进入了发展的“黄金时代”//到2003年下半年汕头有非公有制经济组织6.87万家,涉及农业、工业、商贸、房地产、交通运输、电子信息、旅游服务等行业//2009年,全市民营工业总产值占全部工业总产值的69.6%;私营企业出口总额比2003年增长2.4倍,占全市出口比重的42.9%//全市形成了电子信息、纺织服装等8大优势产业集群//到2016年1月,现有民营经济单位16.9万家,占全市经济单位的97.7%。与此同时,拥有全国五分之四的玩具上市企业,现有“新三板”挂牌企业均为民营企业,民营企业在资本市场非常活跃。

——摘编自杨玉民《改革开放40年汕头非公有制经济发展的实践与探索》

(1)根据材料一并结合所学,指出20世纪50年代初中国共产党将“两种革命结合在一起的”的做法,并简析“两种革命”实施的历史意义。(6分)

(2)根据材料二,指出1981年以来汕头非公有制经济进入“黄金时代”的表现,结合所学,从改革开放政策的角度,分析“黄金时代”出现并不断发展的原因。(8分)

20. 阅读材料,完成下列要求。(12分)

材料 自鸦片战争以来,在西方的挑战持续震撼长达近六十年之后,中国士绅精英与民众才真正开始动员起来,并投身于一场前所未有的现代化变革进程。自19世纪末期以来,为了摆脱民族危机和实现富强,中国政治精英与知识精英在思想与精神生活方面,面临前所未有的新问题,他们为应付这种问题作出了各种选择。19世纪与20世纪之交的二十年,是一个具有特殊历史意义的时期,中国人开始自觉地通过体制创新来谋求国家富强。这些选择中有的较为激进,有的则相对保守,彼此相互冲突对立,种种选择又与社会变迁中出现的种种不同的既得利益的考虑与动机复杂地交织在一起。中国从此也就在这种种选择的交替中,从传统社会向更具现代性特征的社会进行转变。

——摘编自萧功秦《危机中的变革:清末现代化进程中的激进与保守》

提取材料中有关近代中国“现代化变革”的相关信息,自拟论题,并结合中国近代史的具体史实予以阐释。(要求:论题明确,史论结合,逻辑清晰。)

## 关于我们

自主选拔在线是致力于提供新高考生涯规划、强基计划、综合评价、三位一体、学科竞赛等政策资讯的升学服务平台。总部坐落于北京，旗下拥有网站（[网址: www.zizzs.com](http://www.zizzs.com)）和微信公众平台等媒体矩阵，用户群体涵盖全国90%以上的重点中学师生及家长，在全国新高考、自主选拔领域首屈一指。

如需第一时间获取相关资讯及备考指南，请关注**自主选拔在线**官方微信号：**zizzsw**。



微信搜一搜

自主选拔在线

