

镇江市 2023~2024 学年度第一学期期中试卷  
思想政治 2023. 11

注意事项

考生在答题前请认真阅读本注意事项及各题答题要求

1. 本试卷共 8 页，满分为 100 分-课标试卷，考试时间为 75 分钟。考试结束后，请将本试卷和答题卡一并交回。
2. 答题前，请务必将自己的姓名、准考证号用 0.5 毫米黑色墨水的签字笔填写在试卷及答题卡的规定位置。
3. 请认真核对监考员在答题卡上所粘贴的条形码上的姓名、准考证号与本人是否相符。
4. 作答选择题  
上对应选项的方框涂满、涂黑；如需改动，请用橡皮擦干净后，再选涂其他答案。作答非选择题-高考 Q 群 742926234-公众号：课标试卷，必须用 0.5 毫米黑色墨水的签字笔在答题卡上的指定位置作答，在其他位置作答一律无效。
5. 如需作图，必须用 2B 铅笔绘、写清楚，线条、符号等须加黑、加粗。

一、单项选择题 共 15 题，每题 3 分，共 45 分。每题只有一个选项最符合题意。

1. 过去 10 年，中国推动“一带一路”取得实打实、沉甸甸的丰硕成果，共同绘就联结世界、美美与共的壮阔画卷。一座座水电站、风电站，一条条输油、输气管道，让发展中国家绿色低碳发展的梦想得以点亮，成为新时代可持续发展的绿洲、灯塔。由此可见（ ）

- A. 中国特色社会主义进入新时代，社会主要矛盾发生变化
- B. 实现中国梦给世界各国发展带来的既是机遇也是挑战
- C. 中国梦是奉献世界的梦，它同世界人民的梦想息息相关
- D. 实现中国梦就是要实现国家富强、民族振兴和人民幸福

2. 空想社会主义者认为一个国家的政治制度、法律决定其经济状况，而政治制度、法律的好与坏，又决定于人的理性，只有进行完善的道德教育，改善人们的理性，才能保证有好的政治制度和法律，才能最终实现理想的社会。由该观点可以推断出，空想社会主义者（ ）

- A. 主张阶级调和，反对任何形式的阶级斗争
- B. 找到了建立新社会的强大力量和实现途径
- C. 没有能真正把握人类社会发展的客观规律
- D. 对资本主义社会进行了深刻的揭露和批判

3. 某地打造以家为中心、站为延伸、点为特色的人大代表履职平台体系，并逐渐制度化。该地以“家站点”为平台，充分发挥代表作用，开展法治宣传活动；以“家站点”为桥梁，开展接待选民活动，收集社情民意；以“家站点”为媒介，开展建议督办工作，依法履职行权。人大代表“家站点”（ ）

- A. 践行了全过程人民民主，保障了人民行使民主管理的权利
- B. 拓宽了社情民意收集渠道，增强了人大代表履职的规范性
- C. 密切人大代表与基层群众联系，开创了人大监督的新途径

D. 健全了立法机关和社会公众沟通机制，广泛凝聚社会共识

4. 随着数字技术的发展，建设数字法治政府逐渐成为现代化法治国家的必然选择。但目前，城乡数字发展不平衡、老年人数字接入有障碍的“数字鸿沟”；个人数据权利保护制度供给不足都阻碍着我国政府数字化和法治化协同推进。这说明，全面建设数字法治政府需要（ ）

①优化公共服务，保障人民群众共享数字化成果②推进政务公开，实现政府数据的共享和互通

③健全数字领域行政权力行使的法律规范体系

④革新政府治理方式，不断提高政务服务效能

A. ①③

B. ①④

C. ②③

D. ②④

5. 甲公司未经许可，采用技术手段和人工方式获取来源于乙公司运营的短视频平台发布的 5 万余条视频文件、1 万多个用户的公开信息、127 条评论内容，并通过该公司运营的 APP 向公众进行展示和传播，造成乙公司用户流量的流失及广告收益的减少。乙公司向法院提起诉讼，要求甲公司消除影响，并赔偿损失。本案中甲公司（ ）

A. 通过技术手段抓取公开数据资源，应承担违约责任

B. 违规获取用户个人信息，侵犯了消费者的隐私权

C. 未经许可使用他人作品，侵犯了乙公司的专利权

D. 违反诚实信用原则和商业道德，构成不正当竞争

6. 王某向张某借款 15000 元，张某爽快答应，直接微信转账 15000 元给了王某，并备注文字“不用着急还”。一年后，张某因急需用钱，联系王某时发现其停机“失联”。依据微信转账凭据，张某向人民法院提起诉讼。法院根据证据，判决王某偿还张某借款 15000 元及利息。对本案分析正确的是（ ）

A. 微信转账凭据作为物证，可以成为民事诉讼证据

B. 微信转账构成书面合同，且该合同为有效合同

C. 本案实行举证责任倒置原则，由王某负责举证

D. 若王某不服一审判决，可以自行选择上诉时间

7. 非法移民问题一直是欧洲面临的难点问题，2023 年 7 月 18 日，英国议会通过《非法移民法案》，旨在阻止非法入境者申请庇护并将他们转移到第三国，日前已可送交英国国王。法国参议院于 11 月 6 日也开始对政府的新移民法案展开辩论，该法案由总统推出，整体上得到法国人的支持，但能不能在国会通关还是未知之数。由此可见（ ）

A. 虽然都是民主政体的国家，但具体形式和运行方式不尽相同

B. 国体决定政体，政体体现国体，一定的政体服务于一定的国体

C. 一个国家采用何种国家结构形式，是多种因素综合作用的结果

D. 国家利益是具体的，维护国家利益的有力保障是强大的国家实力

8. 2023 年 9 月，非盟被吸纳成为 G20 的正式成员。中国是第一个公开表示支持非盟加入 G20 的成员国。非盟驻华代表感叹说西方发达国家对于非洲总是“承诺太多，行动太少”，像中国一样，把对非盟的承诺践行到底的国家“屈指可数”。材料说明（ ）

A. 国际组织是全球治理的重要载体

- B. 中国积极倡导国际关系民主化  
C. 非盟在国际上的影响力与日俱增  
D. 中国致力于推动世界多极化进程

9. 服装、家电、家具，曾经被称为外贸出口的“老三样”。如今，以电动载人汽车、太阳能电池、锂电池为代表的绿色产业“新三样”正加速“出海”（见图1）。据此，下列推断正确的是（ ）




图 1A. 非公有制经济不断发展壮大，成为技术创新的主体

- B. 我国绿色产业转型持续深入，为出口提供强大支撑  
C. 我国绿色产业的发展难以满足国际市场的旺盛需求  
D. 供需互促、畅通高效的国内大循环格局正逐步形成

10. 2020—2022年，我国城镇化率从62.7%增至65.2%。我国城镇化仍低于发达国家75%的平均水平，有至少10个百分点增长空间，提高城镇化水平将会有效推动投资和消费。这一机制的作用路径是（ ）

- A. 农业转移人口市民化→消费需求增长→催生新业态新模式→优化投资结构  
B. 加快土地经营权流转→增加农民财产性收入→更多农民进城落户→扩大城市消费规模  
C. 城镇化率不断提升→拉动城镇基础设施投资→生产要素向城镇聚集→投资效益提高  
D. 制定产业政策→深化户籍制度改革→推动农业转移人口落户→提升消费能力

11. “中国节日影像志”是通过影视技术手段记录中国各民族、各地区的传统节日，传播并客观反映节日的现状与特征。要做到该节日的跨文化传播，文本的书写需要思考如何在互动交流中既充分理解节日文化，又能够尊重国外观众对节日文化的理解。这一观点强调文化节目制作应该（ ）

- A. 坚持胸怀天下，保持开放心态  
B. 融通不同资源，实现综合创新  
C. 立足时代之基，回答时代问题  
D. 尊重差异，展现民族文化魅力

12. 求异法是人们探究因果联系的常用方法。下列属于运用求异法的是（ ）

- A. 研究表明，长时间的久坐状态与负面情绪密切相关，中断久坐状态并进行适当运动可以改善情绪状态，减轻焦虑和压力  
B. 研究显示，十分钟的短时课间身体活动可以有效地提升儿童的注意力及自尊，

进而有助于提高学习表现

C. 在其他条件相同情况下，睡了一觉的受试者记忆词组的效果要明显好于完全没合眼的人。由此可见，充足的睡眠有利于学习效率的提升

D. 有人调查了若干刑事案件发案率较低的地区，发现其他情况都不完全相同，但有一点是共同的，即这些地方的普法教育做得很好

13. 法官甲和法官乙在议论某一案件：

法官甲：“公诉机关的材料还不是充分、确凿的，所以说被告人构成犯罪”。

法官乙：“那么说，只能判决被告人不构成犯罪了。”

法官甲：“也不能说被告人不构成犯罪，他有很大的嫌疑。”

从逻辑思维的角度看，法官甲的说法（ ）

- A. 不能同假，其中必有一真
- B. 违背了思维的确定性要求
- C. 违背了思维的一致性要求
- D. 违背相容选言判断的逻辑规则

14. 图2漫画《遵守》（作者：张书信）讽刺了一些人想问题办事情（ ）




图2

- A. 忽视共性与个性的统一
- B. 未做到一切从实际出发
- C. 不懂得矛盾具有普遍性
- D. 没有树立正确的价值观

15. 马克思指出：“自然界没有造出任何机器，没有造出机车、铁路、电报、自动走锭精纺机等等。它们是人的产业劳动的产物，是转化为人的意志驾驭自然界的器官或者说在自然界实现人的意志的器官的自然物质。”这表明（ ）

- A. 实践具有社会历史性
- B. 人类社会具有物质性
- C. 人能够能动地改造世界
- D. 意识能动性受客观规律制约

## 二、非选择题

16. 顾某十几年前在楼顶上安装了太阳能热水器并一直正常使用。一段时间，天气预报多次发布预警信息，提醒市民本地会有台风过境，请对空调室外机、太阳能等及时加固，以防止坠落事件的发生。受强风雨天气影响，顾某家的热水器被吹落，将停在楼下的汽车砸得“面目全非”。事故发生后，保险公司对车主进行理赔，之后

要求顾某进行赔偿。顾某则认为，热水器坠落导致车辆被砸是自然灾害的结果，保险公司应自担损失。

请运用《法律与生活》知识，分析本案中的责任归属。（6分）

17. 化石燃料包括煤炭、石油和天然气等天然资源。作为全球能源的主要来源，长期以来受到各国政府的大力支持。根据国际货币基金组织的数据，2022年，全球对化石燃料的补贴达到7万亿美元，创下历史新高。这是因为各国政府为了保持能源价格稳定、促进经济增长加大了补贴力度。这对各国经济发展会带来好处，然而，从长远看，会对环境和经济带来严重的负面影响。

2023年6月10日，《联合国气候变化框架公约》附属机构举行了主题为“需要就化石燃料补贴改革和转变其他公共资金流向采取行动”会议，会上缔约方承诺逐步取消低效的化石燃料补贴。这也使得各国陷入从气候变迁与低碳转型的角度应该承诺终止化石燃料补贴，但中止补贴又容易导致能源价格不稳定，影响经济增长和社会稳定的两难境地。

结合材料，以“化石能源补贴的两难选择”为主题撰写一篇短评。（9分）

要求：①观点明确，紧扣主题，理由充分，合乎逻辑。

②运用《当代国际政治与经济》知识加以阐述。

③学科术语使用规范，字数250字左右。

18. 实践蕴含着丰富治理智慧。新征程上，各地强化“党建引领”理念，激活社会治理体系的基层细胞。

	<p>某社区党工委依托12345市民热线平台，加速推动“接诉即办”向“未诉先办、主动治理”延伸，从有一办一到“打包”解决从坐等诉求到主动出击，发现问题提前一步、解决困难向前一步，通过一个个热线诉求“小切口”撬动基层治理“大课题”。</p>	<p>某地成立由业委会，物业、楼道长、志愿者等力量组成的“红管家”服务队，实现小区党支部业委会和物业服务企业的横向融合，形成“党员分片，物业协管居民志愿”的协作方式，为社区治理提供了有益保障。</p>
--	---	--

<p>某地严格落实村党组织书记县级备案管理制度，突出政治标准，选优配强村级班子，及时调整不胜任不称职不合格“两委”干部，始终把软弱涣散基层党组织整顿作为基层党建工作中重中之重，把党的建设有效覆盖至基层“神经末梢”提升了基层治理</p>		
---	--	--

的效能。

结合材料，运用《政治与法治》的知识，分析党建引领是如何推进基层治理的。(12分)

19. 加工贸易，是指经营企业进口全部或者部分原辅材料、零部件、元器件、包装物料，经加工或装配后，将制成品重新出口的经营活动。改革开放以来至21世纪初期，加工贸易一直是我国深度融入全球价值链的主要渠道。然而，2008年全球金融危机以后，加工贸易出口在中国货物贸易出口中的占比逐年下降，对我国经济发展的贡献正不断边缘化。

但不容忽视的是，加工贸易在拉动就业方面仍然发挥着重要的作用。目前，我国已接连出台了相关政策引导加工贸易从东部向中西部、东北地区转移。但总的来看，加工贸易产能向中西部等地区转移面临着当地基础设施不完备和进出口便利程度的考验。一些加工贸易企业搬迁意愿有限，甚至更倾向于向东南亚地区进行转移。针对这一现象，有人担心我国加工贸易将面临艰难时刻，也有人认为不用担心，提升创新能力就能解决这一问题。

结合材料，综合运用《经济与社会》和《当代国际政治与经济》知识，对上述两种观点加以评析。(12分)

20. 互联网用户面对海量信息时，存在着难以获取自己所需信息的难题，容易引发担忧和焦虑。为了缓解人们的知识焦虑，诸多知识付费平台和相关产品应运而生。知识付费有助于缓解知识焦虑吗？某研究团队进行了深入研究，绘制出了“知识付费缓解知识焦虑的框架模型”(图3)。

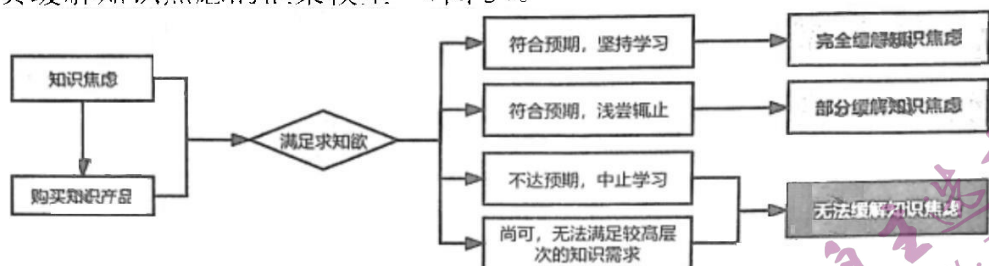


图3

该研究团队认为，知识付费能否缓解知识焦虑，首先在于知识付费产品本身的质量能否满足人们的预期；其次，购买知识产品并不等于获得知识，知识焦虑缓解须在满足自身预期的情况下长期的去学习；最后，当前的知识付费产品中很多都是内容提供者对知识进行的浓缩与加工，只能满足中低求知欲的群体，却无法缓解高求知欲者的知识焦虑。

(1) 运用唯物辩证法的知识，分析该研究团队的上述研究成果的合理性。(10分-课标试卷)

(2) 请以“有的知识付费能缓解知识焦虑”为结论，构建一个符合推理规则的三段论并对其做简要分析。(6分)

参考答案

一、单项选择题

1.C 2.C 3.B 4.A 5.D 6.B 7.A 8.D 9.B 10.B 11.D 12.C 13.A 14.D

15.C

二、非选择题

16. 不可抗力是指不能预见、不能避免并不能克服的客观情况。当地天气预报多次发布预警信息，顾某对此可能造成的影响理应知晓，也应对其热水器设备检查加固，以防止坠落事件的发生，不构成不可抗力。（3分）依照法律规定推定行为人有过错，其不能证明自己没有过错的，应当承担侵权责任。顾某家热水器坠落导致车辆被砸顾某存在明显过错，应当承担侵权责任。（3分）

17. 评分说明：

等级水平	分值	等级描述	答案特征
水平4	7—9分	能从为什么会陷入两难；要不要承担责任；如何承担责任三个角度进行评述，理由充分，逻辑性强。	思想有高度，认识深刻，逻辑清晰，语言表达流畅。
水平3	4—6分	上述三个角度中的两个角度进行评述，理由较充分，逻辑性较强。	认识较深刻，逻辑较清晰，语言表达较流畅。
水平2	1—3分	只从一个角度进行评述，理由不充分，逻辑性不强。	认识浅显，逻辑不清晰，语言表达不流畅。
水平1	0分-课标试卷	无应答，或应答与无关	答非所问。

答案示例

国家利益和国家实力是影响国际关系的决定性因素，国家间的共同利益是国家合作的基础，而利益对立则是引起国家冲突的根源。各国从气候变迁与低碳转型的角度承诺终止化石燃料补贴，但终止补贴又导致国内能源价格不稳定，影响本国经济增长和社会稳定，陷入两难境地，

和平和发展是当今时代的主题，但世界的和平和发展面临诸多难题和挑战，为应对全球气候治理难题，各国应承担应尽的国际义务和责任。各国应该共同维护以联合国为核心的国际体系、以国际法为基础的国际秩序，重信守诺，切实履行承诺和义务，携手推动一系列全球气候协定行稳致远。

18. 加强党的自身建设，提升基层党员的政治素养与领导水平，切实发挥党员干部先锋模范作用和基层党组织的战斗堡垒作用，有利于增强党组织政治功能和组织力，把党的组织优势更好转化为基层治理效能。（4分）社区党工委创新工作机制，践行全心全意为人民服务的宗旨，积极排解群众的困难诉求，有利于切实提升人民群众获得感、幸福感、安全感，提升基层社会治理能力。（4分）党支部、业委会和物业横向融合，健全了多方参与的基层治理机制，有助于实现社会利益的协调、社会矛盾的化解和社会共识的凝聚。（4分）

19. 随着我国经济发展进入新时代，我国经济已由高速增长转向高质量发展阶段。低附加值的加工贸易部分转移是我国建设现代化经济体系，实现高质量发展的必然结果。（3分）以人民为中心的发展思想要求我们不能忽视加工贸易对稳定国内就业起到的重要作用，对加工贸易往东南亚转移要引起重视。（3分）要贯彻创新发展理念，加强技术创新和研发能力，建设高水平开放型经济新体制，推动加工贸易转型

升级，应对加工贸易向东南亚转移。(3分)要实施区域协调发展战略，支持和鼓励西北地区、东北地区发展，增强配套能力，积极承接加工贸易技术转移，引导外贸产业在全国范围内合理布局。(3分)

20. (1) 量变是质变的必要准备，质变是量变的必然结果，要求我们注重量的积累。知识付费产品能否缓解知识焦虑还需要消费者长期坚持学习，不断积累知识储备，不能浅尝辄止。(3分)矛盾特殊性要求我们具体问题具体分析。不同的知识群体有不同的知识需求，目前的知识付费产品无法满足高求知欲的消费群体，要缓解高求知欲者的知识焦虑，要不断提升知识付费产品的层次。(3分)主要矛盾居于支配地位，对事物发展起决定作用，要求我们集中主要力量解决主要矛盾。知识付费产品本身质量是能否缓解知识焦虑的关键之所在，只有知识付费产品质量过硬才能满足消费者的预期，达到理想的效果。(4分)

(2) 三段论示例：(3分) 大前提：满足求知欲是能缓解知识焦虑的

小前提：有的知识付费是能满足求知欲的

结论：有的知识付费是能缓解知识焦虑的。

分析：(3分) ①大项、小项和中项分别出现两次。

②中项“满足求知欲”在前提中至少周延一次。

③前提中不周延的项“有的知识付费”在结论中不得周延。



## 关于我们

自主选拔在线是致力于提供新高考生涯规划、强基计划、综合评价、三位一体、学科竞赛等政策资讯的升学服务平台。总部坐落于北京，旗下拥有网站（[网址: www.zizzs.com](http://www.zizzs.com)）和微信公众平台等媒体矩阵，用户群体涵盖全国90%以上的重点中学师生及家长，在全国新高考、自主选拔领域首屈一指。

如需第一时间获取相关资讯及备考指南，请关注**自主选拔在线**官方微信号：**zizzsw**。



微信搜一搜

自主选拔在线