

2023 年甘肃省第三次高考诊断考试

文科综合能力测试

本试卷满分 300 分,考试时间 150 分钟。

注意事项:

1. 本试卷分第 I 卷(选择题)和第 II 卷(非选择题)两部分。答卷前,考生务必将自己的姓名、准考证号填写在试卷和答题卡上。
2. 回答第 I 卷时,选出每小题答案后,用 2B 铅笔把答题卡上对应题目的答案标号框涂黑。如需改动,用橡皮擦干净后,再选涂其他答案标号框。写在本试卷上无效。
3. 回答第 II 卷时,将答案写在答题卡上。写在本试卷和草稿纸上无效。
4. 考试结束后,将本试卷和答题卡一并交回。
5. 本试卷共 12 页,如遇缺页、漏页、字迹不清等情况,考生须及时报告监考老师。

第 I 卷(选择题 共 140 分)

本卷共 35 小题,每小题 4 分,共 140 分。在每小题给出的四个选项中,只有一项是符合题目要求的。

下图是某年二分二至日晨线时空分布情况,黑瞎子岛东端(48°27'N,135°05'E)是我国领土位置最东的地点。读图完成 1~2 题。



图 1

1. 晨线与图中甲线最接近的节气是 ()
 A. 寒露 B. 惊蛰 C. 芒种 D. 大雪
2. 在我国境内,黑瞎子岛每年日出最早的时间最接近 ()
 A. 1 天 B. 2 天 C. 3 个月 D. 半年

题
答
要
不
内
线
封
密
文
理
学
校
县
(
区
)

按国际标准,65岁及以上老年人口数量占总人口比例超过7%时,则意味着这个国家或地区进入老龄化;0—14岁人口占比20%—23%属于正常。2022年我国常住人口城镇化水平已经超过65%。读我国1990年以来人口相关统计图,回答3~5题。

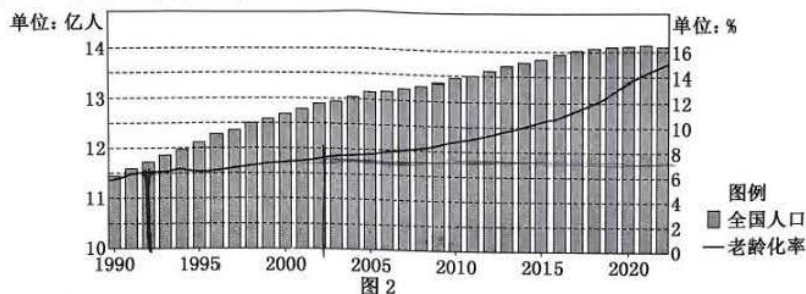


图2

3. 截止到2022年,我国 ()
- A. 步入老龄化阶段已有30年
B. 老年人口数量开始下降
C. 农村老龄化程度超过15%
D. 老年人口数量农村超过城镇
4. 对我国未来人口健康发展危害最大的是 ()
- A. 老年人口规模大
B. 老龄化速度加快
C. 少儿人口比例减小
D. 国民平均寿命延长
5. 为缓解2022年后人口数量变化的趋势,可以 ()
- ①提升子女教育费用 ②采用弹性工作制 ③兴建高等教育 ④为家庭提供医疗保健服务
- A. ①②
B. ②③
C. ③④
D. ②④

野生水稻是多年生植物,多生长于低、湿地区。我国某科研团队用野生稻与一年生栽培稻进行杂交,运用育种技术将野生稻的多年生和栽培稻的高产基因相结合,坚持探索20多年后,最终成功培育出多年生水稻(见右图)。早稻收割后,稻茬再次萌芽得到晚稻,像割韭菜一样连续多年收割,在零散地块均可方便种植。据此回答6~8题。



图3

6. 推测适宜野生水稻生长的地区最可能在 ()
- A. 三江平原
B. 银川平原
C. 鄱阳湖平原
D. 湟水谷地
7. 进一步增加粮食产量的根本出路在于 ()
- A. 向科技要单产、要效益
B. 扩大耕地面积多种粮食
C. 提高复种指数多产粮食
D. 扩大灌溉面积提高粮食产量
8. 推广种植多年生水稻会 ()
- A. 降低土壤肥力
B. 提高机械化水平
C. 降低生产成本
D. 提高劳动力需求

嶂石岩地貌是在太行山区发育的地貌类型,它由坚硬的石英砂岩和较薄而软的页岩、泥岩交互组成;山体底部的缓麓是震旦系片麻岩,部分山顶保留有奥陶系石灰岩。完整的嶂石岩地貌发育过程可分为幼年期、青年期、壮年期和老年期4个阶段,该地貌以延续不断的丹崖长墙、内凹于崖面的Ω形峡谷(如著名景点回音壁就是一个Ω形峡谷)以及一头开口的峡谷为特色。在垂直结构上,嶂石岩地貌呈现出“三崖两栈一墙一缓麓”陡缓坡相间分布的阶梯状序列(图4),结合该区域的某地剖面图(图5)完成9~11题。



图4

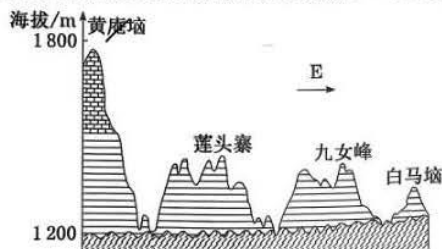


图5

9. 形成“三崖”的主要地质作用是 ()
A. 断层 B. 溯源侵蚀 C. 侧蚀 D. 崩塌
10. 剖面图中四个地点的景观分别代表了嶂石岩地貌发育的四个时期,处于壮年期的是 ()
A. 黄庵埭 B. 莲头寨 C. 九女峰 D. 白马埭
11. 嶂石岩地貌中,山体的缓坡台阶称为栈,位于山顶的栈称为埭。对于埭的说法,正确的是 ()
A. 由寒武系砂岩组成 B. 可能发育喀斯特地貌
C. 阔叶树林生长茂密 D. 是条件优越的农田
12. 在 2023 年 3 月 15 日的甘肃青岛供销社系统农产品产销对接活动中,青岛市 20 家供销社系统企业及当地采购商、甘肃省 51 家供销社系统企业成功签订 29 份农产品意向采购协议,总金额 7 000 余万元。基层供销社是以农民为主体、群众自愿入股组织起来的合作经济组织,在“供”的一侧整合资源,在“销”的一侧整合销售渠道,实现小农户融入大产业、对接大市场,克服农产品流通产业链长、流通环节多、上下游分散等弊端带来的风险。发挥基层供销社的功能有助于 ()
①更好地发挥计划经济的作用,高效配置农业经济资源 ②使社会再生产过程的决定性环节起到连接生产与消费的作用 ③更好地把集体经济与市场经济结合,提高农业经济效益 ④正确处理和理解农村生产关系,巩固公有制的主体地位
A. ①② B. ①③ C. ②④ D. ③④

13.

中信银行 2023 年 3 月 24 日披露的 2022 年年报信息	国家宏观经济政策信息
◎截至 2022 年末,客户存款余额(不含应计利息)50 993.48 亿元,比上年末增加 3 627.64 亿元,增长 7.66% ◎银行净息差为 1.97%,比上年下降 0.08 个百分点	◎2022 年以来,一年期和五年期以上贷款市场报价利率分别累计下调 15 个基点和 35 个基点 ◎2023 年 3 月 27 日,中国人民银行降低金融机构存款准备金率 0.25 个百分点

- 对上述材料解读合理的是 ()
①2022 年中信银行净息差下降意味着中信银行经济效益不佳 ②2022 年中信银行净息差下降与贷款市场报价利率下调有关 ③2023 年存款准备金率降低可改善银行净息差下降的情形 ④2023 年存款准备金率降低可以降低借款企业的融资成本
A. ②③ B. ①④ C. ①② D. ③④
14. 2023 年政府工作报告提出,保障国家粮食安全,大力实施乡村振兴战略。完善粮食生产支持政策,稳定种粮农民补贴,合理确定稻谷、小麦最低收购价,加大对产粮大县奖励力度,健全政策性农业保险制度。对于其影响,下面推导正确的是 ()
①稳定种粮农民补贴→提高农民劳动收入→改善农民生活质量和水平 ②合理确定稻谷、小麦最低收购价→引导农民投资方向→保障国家粮食安全 ③健全政策性农业保险制度→加强对农业生产的金融支持→减少农业经营风险的发生 ④完善粮食生产支持政策→坚持新型城镇化与农业现代化协调发展→推进中国式现代化进程
A. ①③ B. ②④ C. ①② D. ③④
15. 2022 年 12 月 26 日,国家市场监督管理总局披露了某平台滥用市场支配地位的有关情况:2014—2021 年,在国内中文学术文献网络数据库服务经营者合计服务收入中市场份额均超过 50%,超过 76% 的中文学术文献全文下载来自该平台;其数据库服务价格明显高于其他竞争者,滥用在国内中文学术文献网络数据库服务市场的支配地位,限定学术期刊出版单位、高校只能与该平台进行交易,以不公平的高价销售中文学术文献网络数据库服务。据此,市场监管总局依法对该平台作出罚款 8 760 万元的处罚并责令其全面整改。对此事件分析正确的有 ()
①滥用市场支配地位,不利于市场正当竞争,会影响科研学术创新和学术交流传播 ②市场主体应该遵守自愿、平等、公平、诚实守信的市场准入原则,不得实施收取暴利行为 ③政府必须恰当运用法律手段维护市场秩序,克服市场调节的弊端 ④社会主义市场经济能够进行科学的宏观调控,更好发挥市场的决定性作用
A. ①③ B. ②③ C. ①④ D. ②④

16. 中共中央、国务院印发的《党和国家机构改革方案》指出：“面对新时代新征程提出的新任务，党和国家机构设置和职能配置同全面建设社会主义现代化国家、全面推进中华民族伟大复兴的要求还不完全适应，同实现国家治理体系和治理能力现代化的要求还不完全适应，同构建高水平社会主义市场经济体制的要求还不完全适应，需要在巩固党和国家机构改革成果的基础上继续深化改革，对体制机制和机构职责进行调整和完善。”十四届全国人大一次会议第三次全体会议表决通过了国务院机构改革方案，根据该改革方案组建国家数据局，负责协调推进数据基础制度建设，统筹数据资源整合共享和开发利用，统筹推进数字中国、数字经济、数字社会规划和建设等。这体现的政治生活道理是 ()
- ①经济是政治的集中表现，改革体现人民群众根本利益 ②坚持和加强党的领导体现在党和国家工作的各个方面 ③国家性质和国家职能决定国家机构的设置 ④我国政府工作的基本原则是民主集中制原则
- A. ①④ B. ②③ C. ①② D. ③④
17. 在 2023 年 1 月 19 日召开的江苏省十四届人大一次会议上，习近平同志以全票当选第十四届全国人大代表，体现了 800 多名江苏省人大代表的共同意愿和 8 500 多万江苏儿女的衷心拥戴，凝聚着 14 亿多全国各族人民紧跟伟大复兴领航人奋力开创美好未来的坚定信心。这表明 ()
- ①为选举自己心中的当家人投票，是全过程人民民主的生动实践 ②人大代表作为国家权力机关的组成人员，通过间接选举产生 ③国家权力机关决定国家和社会或本行政区域内重大事项 ④在人民代表大会的活动中，必须坚持民主集中制，实行少数服从多数原则
- A. ①④ B. ①② C. ②③ D. ③④
18. 2022 年以来，内蒙古自治区包头市政协与包头市中级人民法院深入贯彻习近平总书记提出的“坚持和发展新时代‘枫桥经验’，把非诉讼纠纷解决机制挺在前面”指示精神，搭建了“政协+法院”调解平台，组织包头市各级政协委员广泛参与多元解纷，努力为人民群众提供高效率、低成本、不伤和气的纠纷解决方案。“政协+法院”调解平台的做法 ()
- ①体现了人民政协和人民法院在国家治理体系现代化中发挥不可替代的作用 ②表明人民法院具有保障人民民主，协调人民内部矛盾，维护社会秩序的职能 ③人民政协要围绕民主和专政两大主题，聚焦党和国家的中心任务展开工作 ④彰显出自治机关依法行使自治权，正确处理人民内部矛盾、促进民族团结
- A. ①② B. ③④ C. ①③ D. ②④
19. 2022 年 11 月 29 日，我国申报的“中国传统制茶技艺及其相关习俗”列入联合国教科文组织人类非物质文化遗产代表作名录。中国人自古就制茶和饮茶，制茶师根据当地风土，运用杀青、闷黄、渥堆、萎凋、做青、发酵、窈制等技艺，发展出 2 000 多种茶品供人饮用与分享，并由此形成了不同的习俗：云南白族逢年过节、宾客临门都要饮“三道茶”——一苦二甜三回味；广西瑶族喝油茶一般不少于三碗，有“三碗不见外”的寓意；四川南路边茶加入酥油、盐、核桃仁末，是藏族同胞必不可少的传统饮品。我国的传统制茶技艺及其相关习俗说明 ()
- ①传统习俗世代相传，对社会与人的发展起积极作用 ②我国古代科学技术源远流长，体现了中国人民的创造力 ③中华文化博大精深，具有明显的区域特征和鲜明的民族性 ④文化遗产是民族文化的集中展示，通过联合国教科文组织以名录的方式确立
- A. ①② B. ③④ C. ②③ D. ①④
- 2023 年 AI(人工智能)技术频现突破性进展，如 GPT-4 发布，文心一言上线等。据此回答 20、21 题。
20. 人民网党委书记指出：“当我们惊叹于各种神奇智能的时候，必须清醒地认识到，AI 大脑既是高科技的大脑，也是价值观的大脑。”她谈到，AI 平台是有立场的，AI 生成的内容是有导向的，所谓技术中性是不存在的，因此无论是喂养人工智能的语料数据，还是模型本身的算法，都必须高度关注其政治方向、舆论导向和价值取向，不能放任 AI 脱离人类的视野，积极探索 AI 应用与治理之道，这也是全国各级党媒党网应尽的责任。这些观点告诉我们 ()
- ①文化既包括具有意识形态性质的部分，又包括非意识形态的部分 ②中国共产党是先进文化的积极引领者，文化工作必须坚持党的领导 ③中国特色社会主义文化必须面向未来，不断融入以改革创新为核心的民族精神 ④置身于文化生活的海洋之中，必须明辨是非，发展先进文化、取缔落后文化
- A. ③④ B. ①② C. ①③ D. ②④

21. GPT-4、文心一言等 AI 技术能够流畅对答、辩证分析问题,甚至写代码、写剧本,这些进步 ()
①体现了创新推动了生产关系的变革 ②说明了意识能够促进客观事物的发展 ③印证了人能够能动地认识世界和能动地改造世界 ④表明了实践的发展延伸了人类的认识器官
A. ①② B. ②③ C. ①④ D. ③④
22. 与下面漫画《山不碎石 故能成其高》寓意相同的有 ()



图 6

- ①提纲挈领,纲举目张 ②一着不慎,满盘皆输 ③不入虎穴,焉得虎子 ④千里之行,始于足下
A. ①③ B. ①④ C. ②③ D. ②④
23. 2022 年个人所得税政策继续与时俱进:为了促进人口长期均衡发展,自 2022 年 1 月 1 日起,设立 3 岁以下婴幼儿照护个人所得税专项附加扣除,按照每个婴幼儿每月 1 000 元的标准定额扣除;为了积极应对人口老龄化,11 月 25 日个人养老金制度正式启动,对个人养老金实施递延纳税优惠政策,个人向个人养老金账户缴费,每年最高可以在综合所得或经营所得中税前扣除 12 000 元。此举 ()
①体现了社会存在决定于社会意识,社会意识随着社会存在的变化而变化 ②遵循了生产关系一定要适应生产力发展的规律 ③符合上层建筑为经济基础服务的要求 ④表明人口因素作为社会物质生活条件具有客观性
A. ①② B. ①③ C. ②④ D. ③④
24. 有学者曾言:“由于窃取诸侯名位者绝大多数是君主的兄弟同宗,因而战国时期诸侯宁肯让他们高爵厚禄、养尊处优,也不肯让他们掌握实权。”该学者所提到的历史现象 ()
A. 体现了分封体制的崩溃 B. 导致了贵族集团的衰落
C. 顺应了选官制度的变革 D. 反映了宗法观念的强化
25. 下表为汉代统治者为了贫民提供田地和生产资料的部分诏令。这表明在汉代 ()

时间	皇帝	诏令内容
前 67 年	宣帝	流民还归者,假(借)公田,贷种、食,且勿算事
前 48 年	元帝	江河陂湖园池属少府者以假贫民,勿租赋
2 年	平帝	募徙贫民……赐田宅什器,假与犁、牛、种、食
66 年	明帝	郡国以公田赐贫人各有差

- A. 休养生息政策贯彻始终 B. 传统农本思想受到重视
C. 豪强地主势力威胁皇权 D. 自耕农的队伍不断壮大
26. 唐代绘画可以说是一个色彩瑰丽的世界。而宋代推崇逸格的绘画,追求自然,颠覆了色彩在绘画中的地位。宋代画论还以雅俗之分,将文人笔墨视为雅趣,将色彩艳丽视为低俗。这一变化 ()
A. 体现了儒学平淡恬静的审美观念 B. 造成文人写意画一家独大的局面
C. 反映了理学格物致知的精神追求 D. 导致风俗画逐渐退出了历史舞台
27. 明代,用牛耕田,南北皆较普遍。但也有许多地方用人力耕具。如嘉靖年间,湖北鄖阳山区,使用人耕农具,“力省而功倍”,“百姓赖焉”;江南地区,有一种人力耕具,“一人一手之力,足敌两牛”。这主要表明当时 ()
A. 重视发挥人力数量优势 B. 区域生产力发展不平衡
C. 传统农耕技术停滞不前 D. 坚持农业生产的集约化
28. 19 世纪七、八十年代,《申报》报道了很多清政府赈灾的情况,并及时刊登有关救灾的大量广告。然而,九十年代以后,《申报》上有关清政府的报道越来越少,取而代之的是对地方督抚的报道越来越多。这表明 ()
A. 民主革命不断发展 B. 清政府分崩离析 C. 中央集权渐趋衰落 D. 洋务运动成效显著

◀ (14分)

29. 民国初期,女子初等教育初步确立。1912年至1916年四年间女学生人数增长缓慢,但在1918年至1919年开始出现快速增长,1923年时更是比1919年增长了近一倍。促成这一时期女学生人数快速增长的主要原因是 ()

- A. 民主共和思想深入人心
B. 马克思主义传播的扩大
C. 五四新文化运动的影响
D. 国民革命运动的兴起

30. 以下两图为画家古元创作于20世纪40年代不同时期的作品。这两幅作品主题的变化反映了 ()



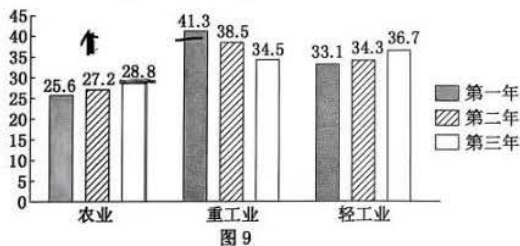
图7《减租会》



图8《烧毁地契》

- A. 民族矛盾的激化
B. 统一战线的解体
C. 国内形势的改变
D. 战略转折的到来

31. 图9为我国某一时期农、轻、重比重变化情况(单位:%)。这一时期 ()



- A. 工作重心发生转移
B. 土地改革正在进行
C. “一五”计划即将完成
D. 大炼钢铁运动盛行

32. 伯利克里执政时期,雅典绝大多数官职都不是通过选民投票而是抽签产生,上至执政官、议事会议员,下至基层单位德莫的长官,概莫能外。这一现象 ()

- A. 说明人民当家作主得以实现
B. 是雅典民主程序不完善的写照
C. 表明雅典民主改革极不彻底
D. 在一定程度上维护了民主平等

33. 19世纪前期,英国蒸汽机车的制造技术进一步改进。且到1831年,英国铁的价格只及1770年的31%。此时,英国熟铁不仅大量出口,而且价格大大低于瑞士条铁。这些现象 ()

- A. 推动了瓦特改良蒸汽机的推广
B. 表明英国产品质优价廉竞争力强
C. 说明工业革命侧重于重化工业
D. 推动了英国交通运输领域的革新

34. 1924年,苏联领导人布哈林指出,由于存在着大量的小农经济,苏联的经济技术极端落后,所以苏联要建立起的社会主义,“在发展的时期内将是一种落后的社会主义”,或叫作“亚细亚形式”的社会主义。这种观点 ()

- A. 是农业集体化运动的产物
B. 丰富了马克思主义的内涵
C. 表明新经济政策即将调整
D. 推动了苏联模式的建立

35. 据统计,从1954年到1970年,苏联对中东国家的经济援助共达26.76亿美元,占同期苏联对第三世界经济援助总额的39.6%。1954年至1972年,苏联仅对埃及等中东4国的军事援助就高达48.8亿美元,占同期苏联对第三世界军事援助总额的58%。苏联此举旨在 ()

- A. 对抗美国的遏制与包围
B. 推动冷战中心地区的转移
C. 巩固美苏争霸中的优势
D. 促进民族解放运动的发展

第Ⅱ卷(非选择题 共 160 分)

注意事项:

第Ⅱ卷需用黑色墨水签字笔在答题卡上书写作答,在试题卷上作答,答案无效。

本卷包括必考题和选考题两部分。第 36 题~第 42 题为必考题,每个试题考生都必须作答。第 43 题~第 47 题为选考题,考生根据要求作答。

36. 阅读图文材料,回答下列问题。(24 分)

上海是我国近代民族工业的发祥地,纺织、造船、机械、烟草、橡胶、钟表、光学等工业均发源于此;也是新中国最强大的工业城市,现有数量众多、分布广泛的工业遗产,70%的遗产沿“一江一河”分布(图 10)。近十多年来,不少工业遗产陆续被拆,存量递减,部分工业遗产已把机器设备拆除,保留下来的老工业建筑也只剩了个空壳子。

有政协委员认为,工业遗产不能进行破坏性改造,更不能全部清空,至少要保留一些承载记忆的老设备。近年来,沿岸工业遗产逐步由昔日的生产空间改造为生活空间。

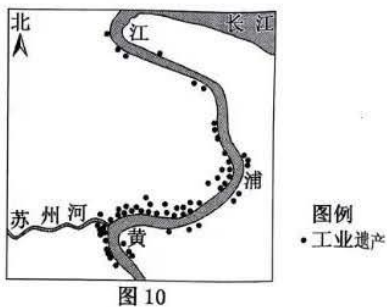


图 10

(1)描述图中工业遗产的分布特点。(4 分)

(2)分析上海形成这些工业遗产的因素。(8 分)

(3)推测上海工业遗产保护可能面临的阻力来源。(6 分)

(4)为上海工业遗产的再利用提出合理化建议。(6 分)

37. 读东北地区不同类型冻土分布图,回答下列问题。(22 分)

在大兴安岭林区,凡是有森林分布的地带,往往有多年冻土的存在;沼泽洼地地区的多年冻土常常与塔头(高出水面、最高可达 1 m 的草墩)分布一致。冻土分布较浅使树木的根系分布较浅,林木依靠冻结层之上滞留的水分维持生长。

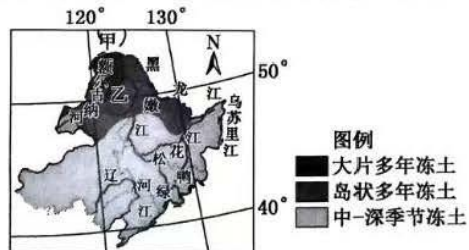


图 11 东北地区不同类型的冻土分布示意图

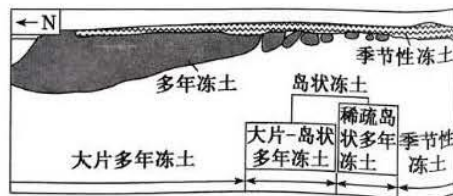


图 12 不同类型冻土分布示意图

(1)分析大兴安岭林区植被对本地多年冻土形成的影响。(4 分)

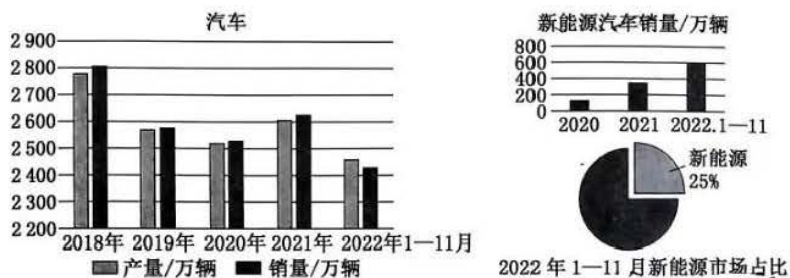
(2)在全球气候变暖形势下,该地区岛状冻土面积反而增加,试解释原因。(4分)

(3)比较近几十年来大片多年冻土区甲、乙两地冻土变化的差异。(8分)

(4)分析多年冻土长期退化导致森林资源减少的原因。(6分)

38. 阅读材料,回答问题。(14分)

材料一



材料二 加油站是指为汽车和其他机动车辆服务的、零售汽油和机油的补充站,一般为添加燃料油、润滑油等。汽车市场的变化,对加油站的经营提出了巨大考验。随着新能源汽车的不断发展,燃油车的份额进一步萎缩,不少加油站开始围绕客户需求、拓展非油业务,打造节能环保、高效快捷、多元化服务的“汽车驿站”,如某加油站秉持“以数据价值为基础”的经营理念,配备智慧油机、零管系统等软硬件一体的智慧解决方案,未来还将发展充电场站建设运营、便利店建设运营、非油品供应链、餐饮等多种车后服务。同时,我国也不断推出相关政策,积极支持加油站发展非油品业务。

政策名称	主要内容
《“十四五”国家综合防灾减灾规划》	健全完善航空应急救援体系,租购结合配备一批大型航空器,优化空域使用协调保障机制,加强航空救援站、野外停机坪、临时起降点、取水点、野外加油站等配套设施建设,建设航空应急服务基地
《关于搞活汽车流通 扩大汽车消费若干措施的通知》	积极支持充电设施建设,加快推进居住社区、停车场、加油站、高速公路服务区、客货运枢纽等充电设施建设,引导充电桩运营企业适当下调充电服务费
《关于完善能源绿色低碳转型体制机制和政策措施的意见》	鼓励传统加油站、加气站建设油气电氢一体化综合交通能源服务站。加强二氧化碳捕集利用与封存技术推广示范,扩大二氧化碳驱油技术应用,探索利用油气开采形成地下空间封存二氧化碳
《关于进一步提升电动汽车充电基础设施服务保障能力的实施意见》	在加油站、加气站建设安装充电设施应布置在辅助服务区内。充电设施业主、居住社区管理单位、售后维保单位等应加强充电设施安全管理,及时发现、消除安全隐患

(1)解读材料一所反映的经济信息。(4分)

(2)结合材料二,运用《经济生活》的相关知识,说明我国加油站是如何应对市场的变化、实现可持续发展的。(10分)

39. 阅读材料,回答问题。(12分)

2023年3月6日至10日,沙特阿拉伯国务大臣兼国家安全顾问和伊朗最高国家安全委员会秘书分别率两国代表团,在北京举行对话。3月10日,中国、沙特阿拉伯、伊朗在北京发表三方联合声明,宣布沙特、伊朗达成协议,同意恢复中断近7年的外交关系。中国不仅推动沙伊签订复交协议,更促进双方开展合作。根据中沙伊三方协议,除重建外交关系外,沙伊还同意重启两国于1998年5月27日签署的经济、贸易、投资、技术、科学、文化、体育和青年领域总协议,同时重启2001年4月17日签署的安全合作协议。不少外媒认为,中国做到了美国做不到的事,巴基斯坦媒体认为,化解中东“火药桶”,中国功莫大焉。

结合材料,运用“当代国际社会”的知识,分析中国为什么能够做到美国做不到的事,为化解中东“火药桶”作出莫大贡献。

40. 阅读材料,回答问题。(26分)

法治是互联网治理的基本方式。习近平总书记强调:“要坚持依法治网、依法办网、依法上网,让互联网在法治轨道上健康运行。”2023年3月16日,国务院新闻办公室发布《新时代的中国网络法治建设》白皮书,以详实数据和大量事实,全面介绍中国网络法治建设情况,分享中国网络法治建设的经验做法,为全球互联网治理提供了中国方案、贡献了中国智慧。

材料一 《新时代的中国网络法治建设》白皮书介绍,中国网络立法随着互联网发展经历了从无到有、从少到多、由点到面、由面到体的发展过程。

	时间	特点	网络立法聚焦
第一阶段	从1994年至1999年	接入互联网阶段	网络基础设施安全,即计算机系统安全和联网安全
第二阶段	从2000年至2011年	PC互联网阶段	侧重网络服务管理和内容管理
第三阶段	从2012年至今	移动互联网阶段	逐步趋向全面涵盖网络信息服务、信息化发展、网络安全保护等在内的网络综合治理

在这一进程中,中国制定出台网络领域立法140余部,基本形成了以宪法为根本,以法律、行政法规、部门规章和地方性法规、地方政府规章为依托,以传统立法为基础,以网络内容建设与管理、网络安全和信息化等网络专门立法为主干的网络法律体系,为网络强国建设提供了坚实的制度保障。

材料二 《新时代的中国网络法治建设》白皮书提出,提升全社会网络法治意识和素养。习近平总书记在党的二十大报告中提出,深入开展法治宣传教育,增强全民法治观念,努力使尊法学法守法用法在全社会蔚然成风。提升全社会网络法治意识和素养,是深入学习贯彻党的二十大精神、全面落实“八五”普法规划、加强网络法治宣传的重要举措。党的十八大以来,中国网络普法的制度设计日益完善,网络平台和媒体的公益普法功能日益突出,网络普法产品的供给日益丰富,线上普法和线下普法日益融合。目前,全国建立以普法为主要任务的公众号、客户端、视频号等超3万个。“中国普法”公众号2022年总阅读量达6.67亿,目前订阅用户已突破3000万。网络普法促进了法律知识的到达率、普及率、知晓率显著提升,权利与义务、个人自由与社会责任相统一的法治观念不断深入人心,尊法守法学法用法日益成为网络空间广泛共识和基本准则。

(1)结合材料,运用发展的观点,说明中国网络立法成就体现的哲学道理。(12分)

(2)结合材料,运用《文化生活》知识,分析应如何推进普法工作。(10分)

(3)为切实加大网暴治理力度,进一步压实网站平台主体责任,有效保障广大网民合法权益,2022年11月,中央网信办秘书局发布《关于切实加强网络暴力治理的通知》,对建立健全网暴预警预防机制、强化网暴当事人保护、严防网暴信息传播扩散等作出要求。

结合材料并运用所学知识,请你为我国打造一个更加向上向善、风清气正的网络空间提出两条宝贵建议。(4分)

41. 阅读材料,回答问题。(25分)

材料一 15世纪末至19世纪,全球人口分布发生了巨大的变化。殖民主义使得欧洲人作为水手、军人、农民、商人、僧侣以及行政人员迁居海外。至1760年,欧洲移居美国的人口仅为160万,之后,移民速度有所加快,整个18世纪,就有约150万英国人移居“新大陆”。欧洲人口大量外迁的同时,大量的非洲黑人被贩卖至美洲。据估计,到达美洲的黑人数量16世纪为90万,17世纪为275万,18世纪为700万。这期间,同时也发生了欧亚人口向南往太平洋岛屿的迁移。

——摘编自方英义《国际人口迁移后果的历史考察》

材料二 中国近代以前的农村人口迁移类型单调,迁移农民的出路和活动范围也极其有限。在外人叩关的隆隆炮声中,大量华工走向世界。清政府放弃了以往对东北的封禁政策,关内外大规模的区域性人口流动以空前的速度进行。伴随着中国经济领域的变化,城市移民也随之增加。从中国近代农村人口迁移的发展顺序看,20世纪之前,人口迁移的数量较少。在此之后,人口迁移在数量上有了很大突破。以上海为例,1870年有工人4908人,20世纪初达到14000人。据北京农商部调查,1914~1918年平均每年有400万农户约2000万农村人口离村,占全国农村人口的6%。另据调查,1931年无锡洛社镇离村率为21%,河北盐山为13.5%,山东费县高达60%。同时,在县内、省内、省际三个迁移方向中,省际迁移的比重最大。

——摘编自宫玉松《略论中国近代农村人口迁移的特点和性质》

(1)根据材料一并结合所学知识,概括15世纪末至19世纪世界人口迁移的特点及影响。(13分)

(2)根据材料二并结合所学知识,说明中国近代农村人口迁移的特点及原因。(12分)

42. 阅读材料,完成下列要求。(12分)

材料 新中国旅游事业发展简表(1949~1999年)

时期	阶段	概况
1949年10月~ 1964年5月	拓荒阶段	主要围绕外事和侨务活动展开。据统计,1955年初到1957年10月,共接待各国自费游客3385人,其中80%来自苏联和东欧国家
1964年6月~ 1978年12月	形成阶段	由发展国际旅游为主过渡到发展国内旅游为主,主要表现为:工会、妇联等团体组织劳动模范等去风景名胜地疗养旅游;各行各业到先进单位参观学习等。20世纪60年代中后期,外国游客几乎断绝。直到70年代中期,美国和日本的游客才有所增加
1978年12月~ 1984年9月	“双轨制” 发展阶段	外宾接待继续实行“定点”制,即定点饭店、定点商店等,外宾购物使用外汇券。深圳等经济特区率先成为旅游开放城市。到1984年旅游入境人数高达1285万人次,旅游收入高达11.3亿美元。这一时期,中国旅游产业仍以接待入境旅游者为主

第三次诊断文综试卷·第10页(共12页)

续表

时期	阶段	概况
1984年10月~ 1999年底	市场化 发展阶段	从1985年开始,旅行社具有了企业性质。1999年入境旅游人数达7 279万人次,外汇收入141亿美元,比1992年增长257%。从1995年开始,“双休日”旅游消费不断增加,国内度假型旅游产品开始盛行。1995年,国内旅游人数达6.29亿人次,国内旅游总收入1 375.7亿元。

——摘编自邵金萍《新中国60年旅游产业发展的回顾与总结》

从材料中提取两条或两条以上信息,拟定一个论题,并就所拟论题进行简要阐述。(要求:明确写出所拟论题,阐述须有史实依据。)

43. [地理——选修3:旅游地理](10分)

为全面推进乡村振兴,2023年的“中央一号文件”明确把“实施乡村休闲旅游精品工程,推动乡村民宿提质升级”作为“培育乡村新产业新业态”。

当前大多乡村旅游普遍采用农家乐的形式经营,民宿不重视装饰,缺乏特色,甚至基本的卫生条件也不能达到,不能将饮食、娱乐、休闲、住宿、人文情怀联系起来,更意识不到民宿能够成为吸引顾客的一种手段,对于顾客旅游体验的升华产生了抑制作用,制约了乡村旅游的发展。

指出民宿在旅游业中的作用,并为民宿的提质升级提供一些合理化的建议。

44. [地理——选修6:环境保护](10分)

2022年12月28日,三峡集团发布了一则消息,称全国首个开工建设的千万千瓦级的新能源大基地在内蒙古的库布齐沙漠开建。库布齐沙漠是国内第七大沙漠,曾是寸草不生的“死亡之海”,也是离北京较近的沙漠,而现在是在众多光伏发电企业扎堆的地方。国家发改委曾宣布要在西北的沙漠戈壁上建设总装机容量4.5亿千瓦的风电和光伏发电基地,相当于20个三峡大坝发电量的总和。



图14

指出沙漠戈壁光伏电站的生态意义。

45. [历史——选修1:历史上重大改革回眸](15分)

材料 王之春,晚清湘籍政治家、外交家。曾官至巡抚,又奉旨到访英、法、德、俄四国。他主张向西方学习,为国家自强御侮寻求道路,他对货币经济问题颇有见解。19世纪60年代以后,外国银行纷纷在华发行纸币,严重损害了国家经济利益。为此,他于1900年向朝廷上奏,提出“钞票之法”属于中国传统古法,主张在国内发行纸币。他认为“纸币既然到处可兑,何必尽领实银……此兑彼换,周转更灵”。他主张国家发行纸币之初,允许百姓使用纸币“完纳钱粮厘税”,认为“京内由户部先提一百万实银为本”。他还主张“创设中国银行”,专司纸币发行。同时,在他的认知里,机器铸造纸币,增加了制造成本,绝不是民间仓促间可以仿造的。

——摘编自刘长林《论王之春的货币改革思想》

(1)根据材料并结合所学知识,分析王之春纸币流通思想出现的原因。(7分)

(2)根据材料并结合所学知识,概括王之春纸币流通思想的主要内容。(8分)

46. [历史——选修3:20世纪的战争与和平](15分)

材料 二战时期,美国发行了大量战争宣传海报。海报的设计者们根据政府的要求提供作品,直到通过审核为止。这些海报的主题涵盖了参军动员、女性工作、节俭运动、保卫国家安全等。美国传统社会对黑人、亚裔等少数族裔群体并不宽容。但为了增强国家凝聚力,海报的人物形象塑造风格有所转变,少数族裔尤其是黑人的形象不再以丑化或讽刺为主,反之以鼓励黑人参军为主。这些海报还专门塑造了刚毅有力、勤俭节约、独立的女性形象,这为鼓励女性走出家门,参与战争起到了十分有效的激励作用。这类型战争宣传海报通常含有法西斯国家的领导人与国旗的标志性符号,以此突出敌人发动战争的丑恶形象。为了使战时海报宣传取得预期效果,政府还雇佣了大量专门负责分发战时宣传海报的工作人员。

——摘编自高宁馨《二战时期美国海报宣传研究》

(1)根据材料并结合所学知识,概括二战时期美国战争宣传海报的特点。(8分)

(2)根据材料并结合所学知识,概括二战时期美国战争宣传海报的意义。(7分)

47. [历史——选修4:中外历史人物评说](15分)

材料 阎立德(约596~656年),雍州万年人,出身于工程世家。阎立德从小就对建筑设计产生了浓厚的兴趣,他“机巧有思”,加之又得父亲指授,因而得以“早传家业”。贞观初,历任将作少匠、将作大匠、工部尚书。作为杰出的建筑设计大师,阎立德先后营建了献陵及昭陵。作为我国封建帝王陵园中面积最大、陪葬墓最多的昭陵,它改变了封土为陵的形制,墓室在山腰岩石间穿凿而成,后世唐代帝王陵墓基本均采用此制。他善于把建筑的美学充分地在建筑物中加以体现,如他将玉华宫设计为坐北朝南,以玉华川为基础依山而建,并将各宫殿与实际地势加以了有机的统一。……通过中轴方向两侧的陪衬以及轴线上的空间变化方式,对皇权的威严、庄重加以了充分的体现。阎立德营建的很多建筑都背依青山,面临绿水,疏泉抗殿,包山通苑,处于翠峰叠嶂、清泉潺潺的幽静之所。

摘编自温凯、陈跃《试论阎立德的建筑成就及设计特点》

(1)根据材料并结合所学知识,说明阎立德成为建筑大师的原因。(7分)

(2)根据材料并结合所学知识,概括阎立德的建筑设计特点。(8分)

关于我们

自主选拔在线是致力于提供新高考生涯规划、强基计划、综合评价、三位一体、学科竞赛等政策资讯的升学服务平台。总部坐落于北京，旗下拥有网站（[网址: www.zizzs.com](http://www.zizzs.com)）和微信公众平台等媒体矩阵，用户群体涵盖全国 90% 以上的重点中学师生及家长，在全国新高考、自主选拔领域首屈一指。

如需第一时间获取相关资讯及备考指南，请关注**自主选拔在线**官方微信信号：**zizzsw**。

