

绝密★启用前

2023 年普通高等学校全国统一模拟招生考试 新未来 5 月联考 文科综合


全卷满分 300 分,考试时间 150 分钟。

注意事项:

1. 答卷前,考生务必将自己的姓名、准考证号填写在答题卡上,并将条形码粘贴在答题卡上的指定位置。
2. 回答选择题时,选出每小题答案后,用铅笔把答题卡上对应题目的答案标号涂黑。如需改动,用橡皮擦干净后,再选涂其他答案标号。回答非选择题时,将答案写在答题卡上。写在本试卷上无效。
3. 回答选考题时,考生须按照题目要求作答,并用 2B 铅笔在答题卡上把所选题目的题号涂黑。
4. 考试结束后,将本试卷和答题卡一并收回。

一、选择题:本题共 35 小题,每小题 4 分,共 140 分。在每小题给出的四个选项中,只有一项是符合题目要求的。

山东省某中学开展乡村生产与生活的社会调查活动,下图示意小明同学聚居村庄周围的局部,村庄及周围地势平坦,水井周围的耕地较破碎,被分割成多个相对独立的小块,村中居民多保留传统生活方式,如喜欢挑井水饮用等。小明调查发现,距小路远近不同的草地,不同季节草的疏密有异。小明选择某一周观察该村日出情况时发现,日出时太阳方位逐日偏北,且其中有若干天的日出太阳方位关于道路对称。读图,完成 1~3 题。



1. 试推测水井周边耕地多分割成小块的原因是

- | | |
|---------|---------|
| A. 地势起伏 | B. 土壤肥力 |
| C. 人类活动 | D. 河流纵横 |

2. 下列时间中草的疏密差异最大的是

- | | | | |
|--------|--------|--------|---------|
| A. 2 月 | B. 5 月 | C. 8 月 | D. 10 月 |
|--------|--------|--------|---------|

文综试题 第 1 页(共 16 页)

考生号

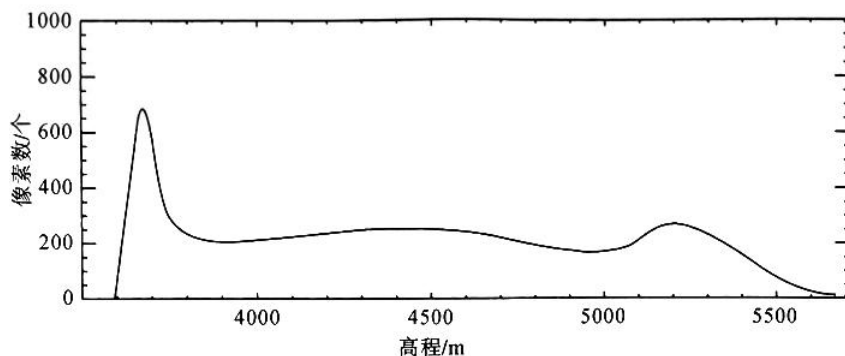
班级

姓名

3. 推测观察日出期间, 太阳直射点

- A. 直射赤道附近, 且向北移动
B. 直射 $23^{\circ}26'N$ 附近, 且向北移动
C. 直射赤道附近, 且向南移动
D. 直射 $23^{\circ}26'S$ 附近, 且向南移动

青藏高原某流域由山顶、高山剥蚀面、山坡、河谷组成, 雪线高度约 5 500 米。下图示意该流域地形高程统计分布(图中像素指组成图像的小方格, 是图像中不可分割的元素, 同一图像中像素个数与面积大小呈正比)。读图, 完成 4~5 题。



4. 与其上下两侧相比, 平均坡度明显偏小的范围是海拔

- A. 3 650 米附近
B. 4 500 米附近
C. 5 000 米附近
D. 5 200 米附近

5. 海拔 4 000~4 800 米范围主要的外力作用有

- ①流水侵蚀
②冰川侵蚀
③风力堆积
④冻融风化

- A. ①②
B. ①④
C. ②③
D. ③④

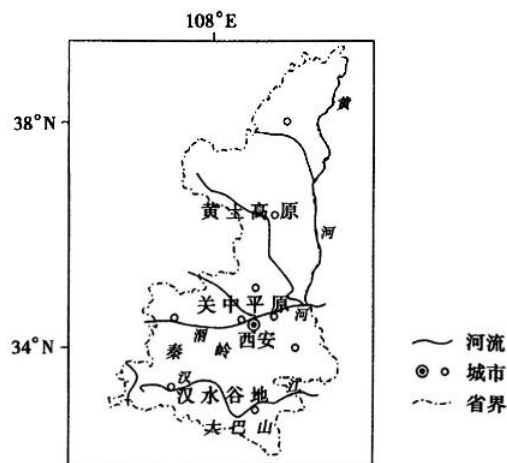
不同区域的乡村因自然禀赋和社会环境存在差异, 呈现出不同的变化脉络和发展态势。陕西省内地域差异明显, 乡村发展水平受不同要素的制约。某学者将陕西省乡村发展水平的影响要素归类并进行数据分析。右图示意陕西省主要城市分布。读图, 完成 6~8 题。

6. 陕西省乡村发展水平影响要素指标归类不合理的是

- A. 干燥度指数——气候条件
B. 道路长度——基础设施
C. 平均受教育年限——人力资本
D. 人均工业增加值——资源禀赋

7. 陕西省乡村发展水平受人力资本制约最小的是

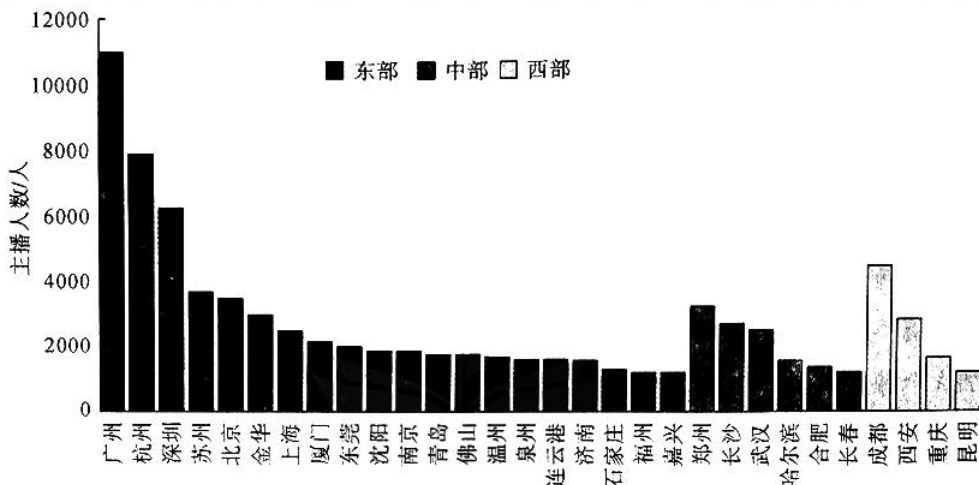
- A. 黄土高原
B. 关中平原
C. 秦巴山区
D. 汉水谷地



8. 为提高陕西省美丽乡村发展水平,建议

- ①矿业城市周边加大矿产勘探力度
②关中平原丰富都市农业种类
③黄土高原有序推动合村并居
④秦巴山区林地修筑度假别墅
- A. ①② B. ①④ C. ②③ D. ③④

直播带货作为粉丝经济与电商结合的新经济现象,其核心是通过直播方式与观众互动的带货主播。据统计,截至2020年7月,共有15万粉丝数量大于1万的有效带货主播(不含港澳台),涵盖了287个地级市(本题中的带货主播指通过直播或者在抖音小店上架商品的主播)。下图示意不同区域抖音带货主播人数分布(前30名城市)。读图,完成9~11题。



9. 下列关于带货主播人数前30名的城市及主播人数分布特点的叙述,正确的是

- A. 东部地区城市数量最多 B. 东部地区城市主播人数均多于中部
C. 城市人口数量越多,主播人数越多 D. 经济越发达的城市,主播人数越多

10. 与传统电商相比,直播带货的优点是

- A. 货源丰富 B. 价格优惠 C. 互动性更强 D. 运营成本低

11. 广州带货主播人数最多的原因最可能是

- A. 信息网络完善 B. 产品货源丰富 C. 科技发达 D. 人口文化素质高

12. 2023年4月,中央财政下达资金100亿元,向实际种粮农民发放一次性补贴。此次补贴对象为实际种粮者,包括利用自有承包地种粮的农民,流转土地种粮的大户、家庭农场、农民专业合作社、农业企业等新型农业经营主体,确保补贴资金落实到实际种粮的生产者手中。此举

- ①有利于增加农民财产性收入,实现乡村振兴
②旨在发展和壮大集体经济,促进农民增收致富
③是基于科学的宏观调控有利于实现粮食供求平衡
④体现政府运用积极的财政政策激发种粮农民积极性

- A. ①② B. ①③ C. ②④ D. ③④

13. 2023 年开年以来,水利系统上下联动,全面加快水利基础设施建设。2023 年一季度,全国完成水利建设投资 1898 亿元,同比增加 76.2%。下列关于水利建设投资对经济的影响传导正确的是
- A. 提高农业生产加工能力→提高农民的转移支付收入→促进农民增收致富→促进城乡协调发展
- B. 完善水利基础设施建设→增加财政支出→引导资源合理配置→促进农业经济发展
- C. 缓解农业资金投入困难→增强社会资本的控制力→拓展社会资本的融资渠道→推动农民高质量就业
- D. 加大水利基础设施投资→激发社会投资活力→扩大社会就业→推动经济发展
14. 2023 年 4 月,2023(第一届)全国产融合作大会公布,国家产融合作平台助企融资已突破 5000 亿元。平台自 2021 年 2 月正式上线以来,累计入库企业 18 万家,入驻金融和投资机构 1500 家,助企融资突破 5000 亿元。该平台的成立旨在
- ①探索金融改革创新实践,服务实体经济
②推进产融合作,提升产融合作质效
③释放货币市场流动性,缓解企业融资难问题
④加大金融产品创新力度,降低企业投资风险
- A. ①② B. ①③ C. ②④ D. ③④
15. 我国新能源汽车市场正逐步进入全面市场化拓展期,但仍然面临一些困局。2023 年我国新能源汽车行业发展存在日益突出的全球供应链危机、持续增加的成本压力、配套设施布局不均衡的关键制约等诸多挑战。为此,需要政府
- ①进行科学的宏观调控,保障产业链安全 ②履行经济建设职能,加强和优化公共服务
③坚持以市场为导向,提高自主创新能力 ④创新出口方式,利用国际市场和资源
- A. ①② B. ①③ C. ②④ D. ③④
16. 近年来,某镇开发“先锋领航·红链乡村”智慧党建云平台,该平台集学习推送、工作安排、实时监测、跟踪反馈等各项功能于一体,联户党员通过微信小程序便可实现联户走访问题提报,实现了群众需求数字化录入、平台化解决,通过云平台的信息发布,即时推送党的路线方针政策、二十大精神等相关内容,把党的声音传递到基层。由此可见,智慧党建云平台有利于
- ①推动党建工作提质增效,发挥基层党组织的自治作用
②贯彻以人民为中心的发展理念,夯实党的执政基础
③提升党员干部的理论素养,推动党的思想建设
④实现对党员干部的法制监督,强化基层党组织的作风建设
- A. ①② B. ①④ C. ②③ D. ③④

文综试题 第 4 页(共 16 页)

17. 从 2023 年起,全国政协的 34 个界别中首次出现了“环境资源界”这一界别。新设的环境资源界别有 85 人,是人数较多的界别,其成员包括环境资源领域的党政领导干部、专家学者等。这是全国政协首次设立环境资源界别,也是自 1993 年八届全国政协增设经济界别以来,首次增加新的界别。“环境资源界”界别的增设
- ①能更好反映社会各界愿望诉求,提升协商民主的有效性
 - ②能够更好聚合政协委员们对资源与环境可持续发展的意见建议
 - ③是基于人民政协是爱国统一战线的组织,履行生态文明建设的职能
 - ④是基于民主党派是国家治理体系的重要组成部分,履行参政议政职能
- A. ①② B. ①④ C. ②③ D. ③④
18. “风靡”H 市乡村的“屋场会”,把更多的普通群众、贫困户、乡贤能人、志愿者等吸纳进来,坚持“群众事和群众商量着办”。对信访人诉求和邻里矛盾纠纷,让群众公开评议相关部门的处置和答复是否合理,矛盾纠纷各方哪方有错,错在哪里。“屋场会”
- ①创新了基层政权治理模式,有效激发了基层治理的活力
 - ②可以使群众的诉求得到有效解决,保障人民的切身利益
 - ③丰富了我国基层群众自治制度的内容和形式,保障了人民群众决策权
 - ④搭建了民主平台,保障了人民的参与权、表达权、监督权
- A. ①② B. ①③ C. ②④ D. ③④
19. 大型历史文献丛书《复兴文库》精选了 1840 年鸦片战争以来同中华民族伟大复兴相关的重要文献,全景式记述了以中国共产党人为代表的中华优秀儿女为实现国家富强、民族振兴、人民幸福而不懈求索、百折不挠的历史足迹。编纂出版《复兴文库》可以
- ①为传承传统文化、发展社会主义先进文化提供物质载体
 - ②弘扬中华民族精神,培育和践行社会主义核心价值观
 - ③坚定人们的理想信念,为中华民族伟大复兴提供精神动力
 - ④提高科学文化修养,为培养时代新人提供智力支持
- A. ①② B. ①④ C. ②③ D. ③④
20. 2023 年 1 月 14 日至 2 月 5 日,北京市举办“2023 欢乐春节畅享京城”主题系列活动。活动期间,举行群众文化系列活动、非遗展示系列活动、文艺演出和艺术展览系列活动等八个系列 1500 余项 4000 余场次活动,为市民游客精心烹制假日文旅“大餐”。北京市举办“2023 欢乐春节畅享京城”主题系列活动有利于
- ①坚定我们的文化自信,促进文化强国建设
 - ②丰富文化遗产的内涵,为人们提供丰富的精神食粮
 - ③展现中华文化的魅力,激发人们对本民族文化的认同
 - ④承袭和弘扬中华传统文化,推动文化事业的健康发展
- A. ①② B. ①③ C. ②④ D. ③④

21. 2023 年以来,美国人工智能研究公司 OpenAI 推出的聊天机器及 ChatGPT 火爆全网。ChatGPT 让自然语言处理技术商业化落地,打开了消费端爆棚的大门,具有划时代的意义。但是我们也要正视 ChatGPT 面临的伦理挑战:它还会被人类不当使用,比如学生拿它写作业,黑客拿它写代码用于网络攻击等。上述材料告诉我们的哲学道理是
- ①新事物代替旧事物是渐进和连续的过程
 - ②要支持新事物的成长,同时采取必要措施预防不良因素影响
 - ③既要抓住主要矛盾,也要注意解决次要矛盾
 - ④要重视矛盾的主要方面,也不能忽视矛盾的次要方面
- A. ①② B. ①③ C. ②④ D. ③④
22. 2023 年 4 月 12 日,有“人造太阳”之称的全超导托卡马克核聚变实验装置(EAST)创造新的世界纪录,成功实现稳态高约束模式等离子体运行 403 秒,这是历经十二万多次实验取得的成功。但要造出能实用的“人造太阳”,需要上亿摄氏度的等离子体、超过千秒的连续运行时间和 1 兆安的等离子体电流,挑战极大。为此,全球科学家们已努力 70 多年。上述材料蕴含哲理是
- ①认识具有反复性和无限性,我们要在实践中追求和发展真理
 - ②对于复杂事物的正确认识必须从感性认识到理性认识才能完成
 - ③实践活动具有社会历史性的特征,人的实践是历史发展着的
 - ④实践活动具有主动创造性,可以通过实践创造出自然界中没有的物质
- A. ①② B. ①③ C. ②④ D. ③④
23. 2023 年,某区牢固树立和践行绿水青山就是金山银山的理念,站在人与自然和谐共生的高度谋求发展。在蓝天保卫战方面,将深化“0.1 微克”行动,强化 PM2.5 和 O₃ 协同控制;在碧水保卫战方面,强化水资源、水环境、水生态“三水”统筹等。通过系统保护和综合治理,推进区域协同共治。该区的做法给我们的哲学启示是
- ①要尊重自然规律,按客观规律办事
 - ②联系具有普遍性,要用联系的观点看问题
 - ③要将正确的思想意识作为实际工作的出发点
 - ④建立自在事物的联系需要正确发挥主观能动性
- A. ①② B. ①③ C. ②④ D. ③④
24. 孔子认为:“夫政者,正也。凡上者,民之表也,表正,则何物不正?”据此可知,孔子
- A. 维护儒家思想的正统地位
 - B. 强调统治者应加强道德修养
 - C. 宣扬君臣平等的民主思想
 - D. 对礼崩乐坏的现状深怀忧虑
25. 史载,东汉魏晋时期,乐则胡笛、箜篌,御则胡床,食则羌煮、貊炙,器则蛮盘,祠则胡天。对此合理的解释是
- A. 民族之间的交融进一步加强
 - B. 华夷之间的差别基本消失
 - C. 政府尊重少数民族风俗习惯
 - D. 各族同源共祖的观念滋生

26. 宋代,在边远地区的广西,农村的集市已发展成为定期的集市(当地称“圩”),“有的地方五天一圩,有的地方三天一圩,有的地方隔一天一圩”。这一现象反映出
- A. 市的发展突破时间限制
B. 城市经济职能增强
C. 农产品商品化程度提高
D. 经济重心南移完成
27. 明太祖洪武十年(1377年),有内侍久侍内廷,言论政事,即被太祖斥遣还乡,且终生不用,并说“其小忠小信足以固结君心,及其久也,假威窃权,势遂不可抑”。这反映出该时期
- A. 宦官专权的严重性
B. 君主专制日趋强化
C. 政治统治日益黑暗
D. 中枢机构发生变化
28. 在第二次鸦片战争期间,沙俄虽与英、法等国一起行动,但却一直以中间人的面貌出现,并曾正式致函清廷,表示愿意“调停”中国与列强之间的冲突。这使当时清廷上下形成了利用沙俄“调停”“以夷制夷”的共识。这反映出当时清政府
- A. 尚未认清帝国主义侵略本质
B. 注重捍卫国家主权
C. 逐渐放弃“天朝上国”的思维
D. 缺乏近代外交理念
29. 1902年至1913年,全国共创办各种女性报刊50余种。这个时期的女性报刊,其主流是以宣传女学和女权为宗旨,在当时中国产生了非凡的影响。这反映出
- A. 新文化运动的影响日益扩大
B. 大众传媒推动思想解放
C. 女性社会地位得到普遍提升
D. 妇女解放成为社会共识
30. 1937年4月,中共中央发出《告全党同志书》,指出:“我们要求全党同志在任何曲折变化的形势下,紧紧抓住中日两国间的基本矛盾,作为自己一切行动的基点,认定中华民族的最大敌人是日本帝国主义,并坚信这个敌人我们是能够战胜的。”这一宣言
- A. 壮大了反抗封建势力的力量
B. 巩固了国民革命的社会基础
C. 推动了土地革命的顺利开展
D. 顺应了民族战争形势的需要
31. “一五”计划时期,我国进口的物资以生产资料占绝对多数,例如在1954年的进口总额中,工业生产和其他建设所需物资占百分之88.5%,其中又以制造生产资料的物资占主要地位。这表明当时
- A. 对外贸易服务于国家生产建设需要
B. 国民经济结构得到了调整
C. 新中国打破了西方国家的经济封锁
D. 对外贸易政策具有灵活性
32. 古希腊剧作家欧里庇得斯(公元前480年—前406年)称:“城邦属于群众时,个人就会为了自己的利益,用语言迷惑群众,也许能暂时有利于群众,可是一旦出现错误,他就会通过诽谤别人来隐藏自己的错误,然而群众却可能毫无辨别。”这表明在古希腊
- A. 政治演说是公民参政的必经途径
B. 城邦事务掌握在演说家手中
C. 人文精神贯穿于政治生活的始终
D. 民主政治带有非理性的一面

33. 苏格兰宗教改革家诺克斯(1513—1572年)认为,在上帝那里,人与人的差别不在于是贵族还是平民,而在于信仰是否纯正,是否谨守圣约。据此可知,诺克斯

- A. 积极维护上帝权威
B. 反对封建君主专制
C. 强调公平平等思想
D. 努力践行民本理念

34. 下表为 1983—1984 年度英国税收与福利支出对收入的影响表(单位:英镑)。据此可以推知,英国福利国家制度

每月收入	50	80	100	130	200
儿童津贴	13.00	13.00	13.00	13.00	13.00
家庭津贴	22.55	17.60	13.89	8.29	0
家庭收入补助	22.50	7.50	0	0	0
家庭免费早餐	5.00	5.00	0	0	0
纳税	0	-7.88	-13.88	-19.88	-43.83
国民保险	-4.50	-7.20	-9.00	-10.80	-18.00
实际收入	108.55	108.00	104.01	110.61	151.12

- A. 体现了财富平均主义的原则
B. 平衡了社会各阶层的利益
C. 反映了资产阶级的利益诉求
D. 降低了人们工作的积极性
35. 据统计,2000 年美国大选花费的金钱高达 30 亿美元,比 4 年前高出 50%。2004 年大选花费接近 40 亿美元。所以有学者指出,“只要在联邦大选委员会那里查一下筹集资金的账户,就可以在大选之前知道大选的最终结果。”从中可以看出美国总统大选
- A. 成为两党政治斗争的工具
B. 带来经济发展新动力
C. 尽显金钱政治的本质特征
D. 呈现出公开性的特征

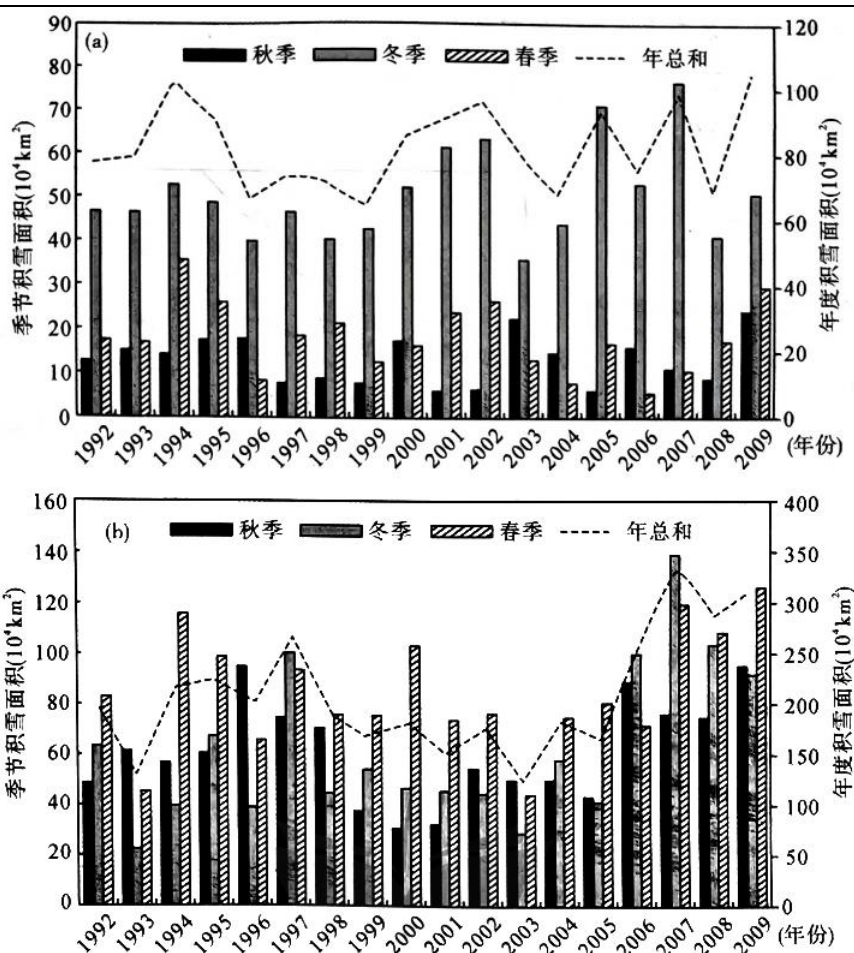
二、非选择题:共 160 分。第 36~42 题为必考题,每个试题考生都必须作答。第 43~47 题为选考题,考生根据要求作答。

(一)必考题:共 135 分。

36. 阅读图文材料,完成下列要求。(24 分)

积雪是指由降雪形成的覆盖在地球表面上的雪层,它是地面气温低于冰点的寒冷地区或寒冷季节的特殊自然景观和天气现象。季节性积雪是地表覆盖的重要组成部分之一,在北半球的冬季每年有 40% 的地表面积被积雪所覆盖,它对全球地表能量平衡、全球水循环以及气候变化都有重要影响。中国位于北半球,且疆域辽阔,每年冬春季节国内大部分地区都有降雪发生,部分地区更是常年有积雪覆盖。因此,能否获得准确的长时间序列和连续的积雪变化信息对研究我国生态环境、气候变化机制等至关重要。下图(a)(b)分别为新疆和青藏高原各季节及年积雪面积统计图。

文综试题 第 8 页(共 16 页)



- (1) 据图示积雪状况推测 2003 年的气候异常事件。(2 分)
- (2) 比较新疆与青藏高原最大积雪面积的季节差异, 并分析成因。(8 分)
- (3) 说出青藏高原比新疆积雪面积大的原因。(6 分)
- (4) 全球变暖对青藏高原的影响是有害而无益的。你对该观点是否赞同并说明理由。(8 分)

37. 阅读图文材料, 完成下列要求。(22 分)

奥伯霍夫为德国萨尔自然公园北侧的旅游小镇, 是滑雪爱好者前往萨尔自然公园各大滑雪场的接待点。2009 年奥伯霍夫建成了一座建筑面积约 1 万平方米的滑雪隧道(图 1)。滑雪隧道起点处海拔约 820 米, 内部雪道最长约 1 754 米, 最大高差 25 米, 由累积 2 000 多吨的预制钢筋混凝土构件在现场组装完成。奥伯霍夫滑雪隧道安装了超过 11 000 平方米

的隔热墙板,由安装在天花板上的四台造雪机补雪,保证一年四季可正常运营。目前,奥伯霍夫滑雪隧道已运营十余年,降低运营过程中的能耗是管理部门关注的重点。图2示意奥伯霍夫滑雪隧道的位置。




图1

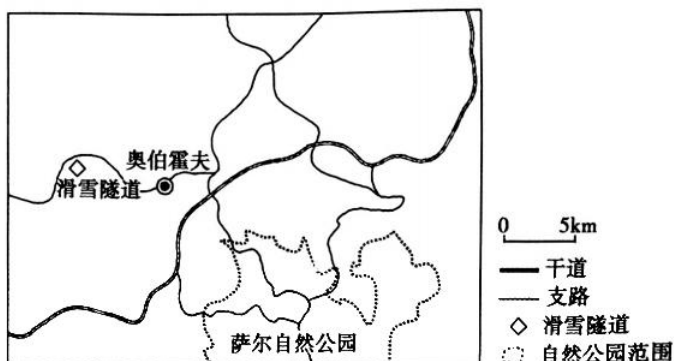


图2

- (1)简述德国在奥伯霍夫修筑滑雪隧道的有利条件。(6分)
- (2)分析滑雪隧道未布局在萨尔自然公园的原因。(6分)
- (3)与传统滑雪场相比,奥伯霍夫滑雪隧道建设成本较低,对此作出合理解释。(6分)
- (4)简述奥伯霍夫滑雪隧道运营过程中为降低能耗可采取的措施。(4分)

38. 阅读材料,完成下列要求。(14分)

十三届全国人大常委会第三十八次会议经表决,通过了关于修改对外贸易法的决定。新修改的对外贸易法,删除了关于对外贸易经营者备案登记的规定。

随着市场经济的发展,对外贸易经营者备案登记制已经不构成从事对外贸易业务的实质性壁垒,但对于企业来说,仍然是一个程序性的负担。此次删除关于对外贸易经营者备案登记的规定,意味着我国在对外贸易领域的简政放权有了进一步的重大进展。从审批到备案,再到现在取消备案,是我国推进“放管服”改革的重要一步,也是制度型开放的体现。取消对外贸易经营者备案登记之后,市场主体从事对外贸易活动更为便利,尤其是对刚进入外贸领域,或者想同时开展内贸和外贸业务的中小企业而言意义较大。

结合材料,运用经济生活知识,分析删除关于对外贸易经营者备案登记规定的积极意义。

39. 阅读材料,完成下列要求。(12分)

2023年3月,中共中央办公厅印发《关于在全党大兴调查研究的工作方案》并发出通知,要求各地区各部门结合实际认真贯彻落实。在全党大兴调查研究,并将其作为在全党开展的主题教育的重要内容。

在全党大兴调查研究,必须坚持党的群众路线,从群众中来、到群众中去,增进同人民群众的感情,真诚倾听群众呼声、真实反映群众愿望、真情关心群众疾苦。国内改革发展稳定面临不少深层次矛盾,躲不开、绕不过,各种风险挑战、困难问题比以往更加严峻复杂,迫切需要通过调查研究把握事物的本质和规律,找到破解难题的办法和路径。中国式现代化是前无古人的开创性事业,对各级干事创业的能力素质、作风方法提出了新的更高要求。只有大兴调查研究,使调查研究工作同中心工作和决策需要紧密结合起来,才能更好为科学决策服务。

结合材料,运用政治生活知识,分析在全党大兴调查研究的原因。

40. 阅读材料,完成下列要求。(26分)

2023年3月,工业和信息化部印发《国家工业遗产管理办法》(以下简称《办法》),明确支持利用国家工业遗产资源,开发具有生产流程体验、历史人文与科普教育、特色产品推广等功能的工业旅游项目,加强国家工业遗产管理。

国家工业遗产承载过社会经济发展重任,见证了新中国工业成长变迁,是宝贵的物质遗存。国家工业遗产更蕴含红色基因,体现着艰苦奋斗的拼搏精神、永不懈怠的进取精神、躬耕不辍的实干精神。妥善保护具有较高历史、社会、文化价值的工业遗产,合理利用老工业厂房等打造公共文创空间,能够向公众展现工业遗产的壮美,更是开展爱国主义教育、人文科普、特色旅游的良好载体和契机。

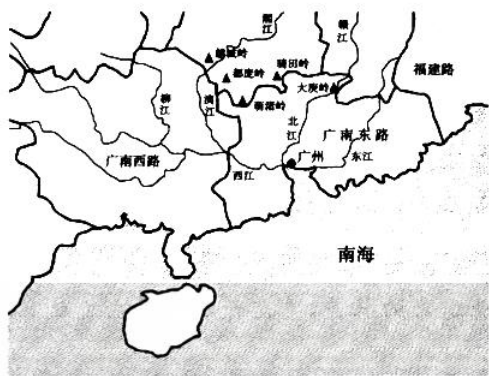
《办法》明确,参考借鉴世界文化遗产评价标准等经验做法,细化完善国家工业遗产认定评价的标准和指标。在此基础上,则要科学保护和利用。《办法》要求,国家工业遗产利用应注重生态保护、整体保护、周边保护,与自然人文和谐共生,推动保护利用与城市转型发展相结合。以此,确保可持续健康发展。有关工作更要突出重点。《办法》指出,鼓励和支持大运河、黄河、长江沿线城市和革命老区、老工业城市参与国家工业遗产保护利用。重点区域蕴含深厚历史和文化积淀,更具有发掘、保护、研究、展示、教育潜能。

文综试题 第11页(共16页)

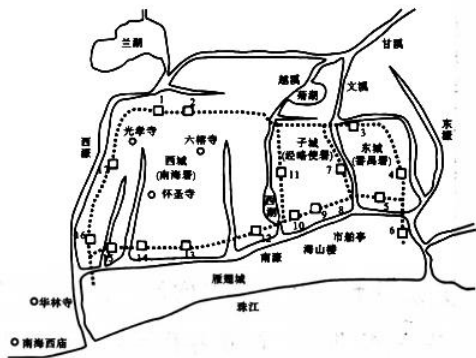
- (1)结合材料,运用文化生活知识,分析我国加强国家工业遗产管理的时代价值。(10分)
- (2)结合材料,运用矛盾观的知识,分析《办法》对工业遗产管理要求的合理性。(12分)
- (3)请你就如何宣传国家工业遗产提出两条合理化建议。(4分)

41. 阅读材料,完成下列要求。(25分)

材料一 宋代,广州成为我国最大的港口之一,也是世界级的商港,其贸易范围之广、商业发展之盛、经济作用之重,大大超过前代。北宋时期西夏崛起导致陆上丝绸之路受阻,宋政府规定“由广州路入朝……不得于西蕃出入”。雍熙四年(987年),宋太宗派遣内侍持敕书和金帛“各往海南诸蕃国,勾招进奉”。宋代广州,子城为三城核心,官衙区以经略安抚使司为中心,居于北部,朝南而治;而番禺县署和许多官员住宅却安排在东城,将交通便捷、位置优越的大片南部子城区域让位于商业区。西城因商业而兴,是主要的商业区和蕃商居住区。宋代广州形成了内外八港、城外三濠、城内六脉的水系格局,基本确立了广州港口城市的空间形态。广州的商业街市依托于大大小小的水道,形成以东濠、西濠和南濠为骨架,以珠三角细密水网为毛细血管的分布形态。随着对外贸易和海洋开发的日趋活跃,海神崇拜越来越流行,广州的真武大帝信仰、普陀山的观音信仰、湄洲岛的天后信仰,都是在宋朝兴起和盛行的。



广州的地理区位



宋代广州城市格局

——摘编自孙振亚《商业贸易影响下宋代广州城市风貌特征》

材料二 中国资本主义工商业在19世纪末、20世纪初和第一次世界大战期间,获得了较快的发展。广州城市的近代化也在这一阶段全面展开。据不完全统计,仅机器制造、火柴、橡胶、机器修理、纺织针织几个门类,1914~1921年间新办的企业就有20多家。1898年中国自办的第一家商办银行——中国通商银行在广州开设分行。民国建立后,城乡分治和实行

文综试题 第12页(共16页)

地方议会政治的呼声更加强烈,政府层面的酝酿筹划也一直在进行之中。到 20 年代初,广州已有各类新式学校 270 所,据不完全统计,“民国初年,仅广州市就有书局约 102 家”。1918 年广州市政公所成立后,对城市规划和建设更加重视,决定实施近代广州第一个大的市政建设工程。与此同时,近代新型知识分子群体在城市中的活动和影响力也明显增强,这一时期出现的众多新式社团、政党、学会、研究会、讲习所之类的组织,基本上都是他们的活跃之地。

——摘编自赵春晨《晚清民国时期广州城市近代化略论》

- (1) 根据材料一并结合所学知识,概括宋代广州对外贸易发展的原因,并分析商业贸易对广州的影响。(12 分)
- (2) 根据材料二并结合所学知识,指出清末民初广州城市的近代化的表现。(8 分)
- (3) 根据材料一、二并结合所学知识,谈谈你对中国城市发展的基本认识。(5 分)

42. 阅读材料,完成下列要求。(12 分)

材料 历史学家伊曼纽尔·沃勒斯坦指出,迄今为止,在全球范围内出现了 3 个世界性大国,17 世纪是荷兰的崛起,19 世纪是英国的崛起,20 世纪是美国的崛起。其中,经济因素对大国崛起的影响巨大。

经济体制的维度	荷兰、英国和美国崛起的历史表明,凡是能够成功崛起的大国都必须积极建立和培育自由竞争的市场经济体制,从而为其经济发展注入持久的活力
科技创新的维度	近代历史已雄辩地证明,科技创新在国家进步中扮演着重要的角色,能够崛起的大国不仅具有较强的技术创新能力,而且具有较强的技术转化和应用能力,持续的技术创新和先进的科研体系往往是大国崛起的重要因素
经济全球化的维度	从荷兰、英国和美国崛起的历程来看,能否构筑开放的贸易格局,将国内产业结构与国际分工有机衔接,在广阔的国际市场空间优化配置资源,是决定大国能否成功崛起的必要条件

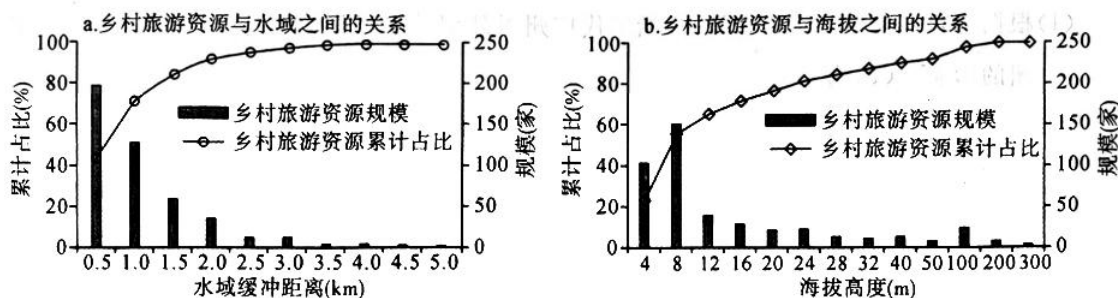
——摘编自温俊萍《经济史视野中的大国崛起——基于荷兰、英国和美国的经验》

围绕材料,选择一种观点或者自拟一个观点,并运用世界史的具体史实予以论述。(要求:观点明确,论证充分,史实准确,表述清晰)

(二)选考题:共 25 分。请考生从 2 道地理题、3 道历史题中每科任选一题作答。如果多做,则每科按所做的第一题计分。

43. [地理——选修 3:旅游地理](10 分)

空间集聚是乡村旅游开发的重要趋势,也是促进乡村旅游产业集约化、高质量发展,进一步助推乡村经济振兴的重要路径。2005~2018 年间苏南乡村旅游集聚开发发展较快,山水条件是影响乡村旅游集聚最基本的地理环境要素。下图示意苏南乡村旅游资源与水域、地形要素组合的数量关系。



指出苏南乡村旅游资源的分布特征,并简述乡村旅游集聚开发对当地的积极影响。

44. [地理——选修 6:环境保护](10 分)

青藏高原曾被认为具有天然的生态屏障,生物入侵难以发生,而最近的研究表明,人类活动已经导致鱼类入侵的发生。雅鲁藏布江流域成为西藏外来鱼类入侵的重灾区,外来鱼类广泛分布于雅鲁藏布江干、支流及其附属水体,外来鱼类入侵导致西藏本土鱼类资源衰退。

指出青藏高原曾被认为是天然生态屏障的自然原因,并说明鱼类入侵导致西藏本土鱼类衰退的主要原因。

45. [历史——选修 1:历史上重大改革回眸](15 分)

材料 1901 年 9 月,清廷下达编练新军的谕令,全国新军编练正式开始。1902 年初,袁世凯委派王英楷、王世珍等分赴河北等地,同地方官以摊派的方式精选壮丁 6000 人,在保定编伍训练,创建了北洋常备军。1903 年至 1905 年,北洋六镇编成。为使全国训练新军的制度统规划一,1903 年 12 月,朝廷在北京设立练兵处,负责全国练兵事宜。1904 年颁布了全国统一的《陆军营制饷章》,全国按照常备军、续备军、后备军的要求编练新军。1906 年改革官制,朝廷将兵部、练兵处与太仆寺合并,设立陆军部。袁世凯所属的第一、第三、第五、第六镇移交给陆军部统辖。到 1910 年,北洋六镇全部归陆军部统辖。1907 年 9 月,陆军部制定编练陆军三十六镇的计划,并按省分配年限。到 1911 年,辛亥革命前全国各省只练成 14 镇、18 混成协、11 标新军。

——摘编自李正军《清末新军与近代中国军事转型》

- (1)根据材料并结合所学知识,概括清末编练新军的背景。(8 分)
- (2)根据材料并结合所学知识,分析清末编练新军的影响。(7 分)

46. [历史——选修 3:20 世纪的战争与和平](15 分)

材料 对于德国而言,控制巴尔干半岛有助于德国在此地的资源保障,巴尔干半岛的矿产有铜、汞、铬、铅、锌、石油以及铁、煤,这些资源对于德国异常重要。另外控制巴尔干半岛后,德国可以进入黑海,其轰炸机可以从罗马尼亚起飞,直接轰炸苏联黑海舰队的锚地塞瓦斯托波尔。德国首先通过政治诱降和军事压力双重“攻击”,使罗马尼亚、保加利亚、匈牙利先后加入德意日军事同盟。1941 年 3 月初,德军 30 万人进入保加利亚,威胁南斯拉夫,不过南斯拉夫拒绝加入法西斯同盟。希特勒恼羞成怒,于 4 月 6 日出兵南斯拉夫,南首都贝尔格莱德在德机狂轰滥炸后,于 4 月 12 日陷落,政府流亡英国,但人民在共产党领导下开展了英勇的游击战。德国进攻南斯拉夫的同时,另派一支军队进攻希腊,5 月 27 日雅典陷落,希腊政府和援希英军撤往克里特岛。德军与退守该岛的英军展开激战。6 月 1 日,随着克里特岛战役结束,希腊全国沦亡,巴尔干战事告一段落。

——摘编自吴于廑、齐世荣《世界史·现代史编》

文综试题 第15页(共 16 页)

- (1)根据材料并结合所学知识,分析德国侵占巴尔干半岛的原因。(7分)
- (2)根据材料并结合所学知识,归纳德军侵占巴尔干半岛行动的特点。(8分)

47. [历史——选修4:中外历史人物评说](15分)

材料 种世衡(985—1045年),字仲平,河南洛阳人。世衡年少时,兄弟中有想分其资产者,他全数辞让给予,只取图书而已。种世衡任泾阳知县时,里胥王知谦非法谋利的事情败露,按律应判徒刑,王知谦逃走。等到朝廷大赦将至,王知谦便主动向官府自首,种世衡杖击王知谦后向州府请罪,知府李谿上奏释免其罪。后升任知青涧城事,间或出行部族,慰劳酋长,或者解下所佩的带子送给他们,所一属羌人部族都乐于为其所用。种世衡率领羌兵几千人以援救泾原,没人敢落后。曾劝课官吏百姓射箭,人人自励,都精于射箭,由是数年西夏不敢靠近环州境地。种世衡在边地数年,积聚谷物流通货物,所到之处不烦县官增兵增粮。善于安抚士兵。等到他去世时,羌人酋长数日早晚来哀悼他,青涧城和环州人都画其像立祠祭祀。

——摘编自白话《宋史·列传第九十四》

- (1)根据材料并结合所学知识,概括种世衡建立功业的原因。(6分)
- (2)根据材料并结合所学知识,归纳种世衡的品行。(9分)

2023 年普通高等学校全国统一模拟招生考试

新未来 5 月联考·文科综合

参考答案、提示及评分细则

1.【答案】C

【解析】水井周边地势平坦；同一块耕地土壤肥力相差不大；图中信息并没有显示河流存在，而华北地区也不可能河网密布；水井周边地势平坦，土层厚，土壤较肥沃，且有井水灌溉，生产条件较好，联产承包责任制实施时，为公平分配耕地，往往把农业生产条件好的耕地，分成多份，在耕种过程中分割形成相对独立的地块。

2.【答案】B

【解析】路边小草在降水多时生长茂盛，在气候寒冷时不易生长，疏密差异均较小。华北地区易发春旱，此时小草不易生长，但村民挑水时可能会把桶中的水洒在小路边，而导致小路边小草茂密，远离路边的草地小草稀疏，差异明显；10 月气温降低，草类枯萎，差异较小。

3.【答案】A

【解析】日出方位逐日向北移动，说明太阳直射点北移，日出方位角关于正东对称，说明太阳直射于赤道附近。

4.【答案】D

【解析】平均坡度小，意味着同样的海拔高程范围的占地面积大，即像素数多，应该选择图中像素数量的高值区，而海拔 3 650 米基本处于河谷，其下（3 600 米）像素数少并不是因为坡度大，而是因为河谷空间小。海拔 5 200 米附近为材料所述的高山剥蚀面。

5.【答案】B

【解析】海拔 1 000~1 800 米范围像素数较少，坡度较大，以侵蚀为主。由于尚未到雪线高度，难以发育大规模冰川，因此以流水侵蚀为主。高寒地区冻融风化强烈。

6.【答案】D

【解析】人均工业增加值属于经济发展水平的指标类型，资源禀赋类型可以包括耕地资源、农田条件甚至是旅游资源禀赋，但不包括经济产值、增加值。

7.【答案】B

【解析】由图可知，关中平原大城市较多，受大城市的技术扩散和观念传递的影响，关中平原乡村发展水平受人力资本制约最小。

8.【答案】C

【解析】矿业城市周边加大矿产勘探力度不利于可持续发展。①错误：关中平原大城市众多，乡村丰富都市农业种类能够发挥地缘优势。②正确：黄土高原生态脆弱，乡村有序推动合村并居能促进人地协调，也能集中布置公共服务设施，改善生活水平。③正确：秦巴山区林地修筑度假别墅会破坏植被。④错误。

9.【答案】A

【解析】由图可知，带货主播人数前 30 名的城市东部地区数量最多；东部城市主播人数不全都比中部和西部多；主播人数与城市人口数量 and 经济发展水平不完全呈正相关。

10.【答案】C

【解析】与传统电商相比，直播带货货源、价格和成本差异不大；直播带货有主播表演，与观众之间互动性更强。

11.【答案】B

【解析】直播带货的产品主要是轻工业产品，珠三角地区轻工业发达，产品丰富，为广州直播带货提供了丰富的货源。

12.【答案】D

【解析】发放补贴不属于财产性收入，而是属于转移支付收入，①错误；向种粮农民发放补贴目的不是为了发展和壮大集体经济，而是为了调动粮农种粮积极性，保障国家粮食安全，②错误；中央向种粮农民发放补贴，是基于科学的宏观调控有利于实现粮食供求平衡，也体现了政府运用积极的财政政策激发农民种粮积极性，③④正确。

13.【答案】D

文综答案 第 1 页(共 6 页)

- 【解析】**B 传导路径错误,应该是增加财政支出→引导资源合理配置→完善水利基础设施建设;缓解农业资金投入困难并不能增强社会资本的控制力,C 错误;提高农业生产加工能力并不能提高农民的转移支付收入,A 错误。
14. **【答案】**A
【解析】该平台的成立目的并不是释放货币市场流动性,③错误;该平台的成立也不会降低企业投资风险,④错误;该平台的成立旨在探索金融改革创新实践,服务实体经济,推进产融合作,提升产融合作质效,①②正确。
15. **【答案】**A
【解析】③④的主体属于企业而不是政府,排除;我国新能源汽车行业发展存在日益突出的全球供应链危机、持续增加的成本压力、配套设施布局不均衡的关键制约等诸多挑战,为此政府需要进行科学的宏观调控,保障产业链安全,履行经济建设职能,加强和优化公共服务,①②正确。
16. **【答案】**C
【解析】基层党组织不属于自治组织,①错误;材料没有涉及对党员干部的法制监督,④不符合题意。联户党员通过微信小程序便可实现联户走访问题提报,实现了群众需求数字化录入、平台化解决,通过云平台的信息发布,即时推送党的路线方针政策、二十大精神等相关内容,说明智慧党建云平台有利于贯彻以人民为中心的发展理念,夯实党的执政基础,提升党员干部的理论素养,推动党的思想建设,②③正确。
17. **【答案】**A
【解析】生态文明建设属于政府职能,③错误;材料反映的是人民政协而不是民主党派,④不符合题意。“环境资源界”界别的增设能更好反映社会各界愿望诉求,提升协商民主的有效性,能够更好聚合政协委员们对资源与环境可持续发展的意见建议,①②正确。
18. **【答案】**C
【解析】材料没有涉及基层政权治理,①不符合题意;人民群众可以参与民主决策但没有决策权,③错误。“屋场会”,把各界人民群众吸纳进来,坚持“群众事,和群众商量着办”,可以使群众的诉求得到有效解决,保障了人民的切身利益,搭建了民主平台,保障了人民的参与权、表达权、监督权,②④正确。
19. **【答案】**C
【解析】材料没有强调传统文化,编纂出版《复兴文库》可以为传承革命文化、发展社会主义先进文化提供物质载体,①错误;编纂出版《复兴文库》可以提高人们的思想道德修养,④错误。
20. **【答案】**B
【解析】举办该项活动并不能丰富文化遗产的内涵,②错误;举办此项活动有助于传承和弘扬中华优秀传统文化,排除①。①③属于北京市举办“2023 欢乐春节畅享京城”主题系列活动的意义,正确。
21. **【答案】**C
【解析】ChatGPT 是人类 AI 技术发展的新产品,代表科技发展新方向,具有划时代的意义,这是矛盾的主要方面,我们要重视矛盾的主要方面,也不能忽视矛盾的次要方面,同时,它也面临一些伦理挑战等是矛盾的次要方面。因此,我们要支持科技发展的新方向新成就,支持新事物的成长,同时也要采取必要措施预防不良因素影响,②④正确。新事物代替旧事物是一种渐进性和飞跃性的统一,间断性与连续性的统一,①错误;材料强调的是矛盾主次方面而不是主次矛盾,③不符合题意。
22. **【答案】**B
【解析】对于复杂事物的正确认识必须从实践到认识,再从认识到实践多次反复才能完成,②错误;实践活动具有主动创造性,可以通过实践创造出自然界中没有的物质具体形态,④错误;历经十二万多次实验取得的成功,说明认识具有反复性和无限性,我们要在实践中追求和发展真理,①正确;为此,全球科学家们已努力 70 多年,说明实践活动具有社会历史性的特征,人的实践是历史发展着的,③正确。
23. **【答案】**A
【解析】该区尊重自然规律,努力实现人与自然是和谐共生,①正确。该地强化 PM2.5 和 O₃ 协同控制,强化水资源、水环境、水生态“三水”统筹等,系统保护和综合治理,体现了联系的普遍性,②正确。办事情要一切从实际出发,③错误;自在事物的联系不是人们活动的产物,④错误。
24. **【答案】**B
【解析】材料大意为:“所谓政,就是正。凡是身居上位的人,都是百姓的表率,表率正,还有什么不正的呢?”由此可知,孔子强调统治者应该以身作则,加强道德修养,故 B 项正确;“儒家思想的正统地位”确立于西汉

- 时期,晚于孔子生活的时代“春秋晚期”,排除 A 项;孔子代表没落的奴隶主阶级的利益,排除 C 项;题干中未提及“对礼崩乐坏的态度”,排除 D 项。
- 25.【答案】A
【解析】材料中的现象体现了少数民族习俗对中原地区的影响,涉及到了衣食住行,这是当时民族间交融不断加强的产物,故 A 项正确;B 项中“基本消失”的说法过于绝对化,排除;题干中未提及政府对待少数民族习俗的态度以及“同源共祖”的观念,排除 C、D 两项。
- 26.【答案】C
【解析】由题干信息“农村的集市已发展成为定期的集市”可知,该时期,农村集市贸易繁荣,这体现了农产品商品化程度的提高,故 C 项正确;“突破时间限制”是指商业经营时间延长到夜晚,这在材料中没有体现,排除 A 项;B 项中“城市”的表述与题干中的信息“农村的集市”不符,排除;题干中未提及“经济重心的南移”,排除 D 项。
- 27.【答案】B
【解析】题干信息“内侍久侍内廷……被太祖斥遣还乡,且终生不用”“假威窃权,势遂不可抑”,体现了明太祖独裁专制以防宦官专权,故 B 项正确;A、C 两项均发生于明朝中后期,晚于题干中的时间“明太祖时期”,排除;题干中未提及中枢机构的变化,排除 D 项。
- 28.【答案】D
【解析】第二次鸦片战争期间,沙俄与英、法、美等国相互勾结,联合侵略中国,由题干中的信息“清廷上下形成了利用沙俄‘调停’‘以夷制夷’的共识”可知,该时期的清政府没有认清当时的国际局势,不了解沙俄的真实意图,缺乏近代外交经验,故 D 项正确;西方国家从自由资本主义阶段过渡到帝国主义阶段是在 19 世纪末 20 世纪初,与材料时间不符,排除 A 项;第二次鸦片战争期间,清政府对待西方列强的侵略行径基本上持妥协退让的态度,排除 B 项;C 项中“放弃‘天朝上国’思维”的表述与题干中的信息“以夷制夷”不符,排除。
- 29.【答案】B
【解析】由题干信息“女性报刊……以宣传女学和女权为宗旨,在当时中国产生了非凡的影响”可知,清末民初,女性报刊的创办促进了女性意识的觉醒,有利于思想解放,故 B 项正确;新文化运动兴起于 1915 年,晚于题干中的时间段“1902—1913 年”,排除 A 项;清末民初时,女性社会地位依然低下,并没有得到普遍提升,排除 C 项;“成为社会共识”表述过于夸大化,排除 D 项。
- 30.【答案】D
【解析】由题干中的信息“认定中华民族的最大敌人是日本帝国主义”可知,当时中国共产党已经意识到中国社会主要矛盾的变化,即将日本帝国主义与中华民族的矛盾当作当时中国面临的主要矛盾,故 D 项正确;题干中主张抗日,未提及“反封建”“土地革命”,排除 A、C 两项;国民革命失败于 1927 年,排除 B 项。
- 31.【答案】A
【解析】根据材料可知,一五计划期间,我国的进口产品以工业生产资料为主,这是为了满足一五计划的需要,以大力发展重工业,故 A 项正确。材料没有体现经济结构的调整和贸易政策的灵活性,排除 B、D 两项;通过大量进口工业生产资料并没有打破西方国家的经济封锁,排除 C 项。
- 32.【答案】D
【解析】由题干中的信息“用语言迷惑群众,……群众却可能毫无辨别”可知,古希腊存在国家权力滥用误用的现象,故 D 项正确。A 项中“必经途径”的说法过于夸大化,排除;雅典国家管理大权掌握在全体公民手里,排除 B 项;题干中未提及“人文精神的影响”,排除 C 项。
- 33.【答案】A
【解析】题干中的信息“在于信仰是否纯正,是否谨守圣约”体现了诺克斯对上帝权威的维护,故 A 项正确;题干中未提及“反对封建君主专制”和“践行民本”等主张,排除 B、D 两项;诺克斯强调的人与人的差别在于信仰,不涉及公平平等,排除 C 项。
- 34.【答案】D
【解析】由图表中的实际收入可知,英国福利国家制度导致每月收入 50 英镑的群体实际收入高于每月收入 80 英镑和 100 英镑的群体。这容易滋生懒惰情绪,与资产阶级的利益诉求不符,故 D 项正确,排除 B、C 两项;1983—1984 年间的英国属于资本主义社会,社会贫富差距悬殊,且福利制度并不遵循财富平均原则,排除 A 项。
- 35.【答案】C

【解析】由题干中相关数据的变化可知,美国总统大选是纯粹的有钱人的游戏,故C项正确。题干中未提及民主党和共和党之间的矛盾、美国总统大选对经济发展的影响,以及美国总统大选的公开性,排除A、B、D三项。

36. **【答案】**

(1)暖冬。(2分)

(2)新疆冬季积雪面积最大;(2分)成因:新疆纬度较高,冬季气温最低,春季气温回升,积雪融化,累积面积减少。(2分)青藏高原总体上春季积雪面积最大;(2分)成因:青藏高原海拔高,气温低,春季积雪持续积累。(2分)

(3)高原地形,积雪面积大;(2分)降雪量大;(2分)海拔高,气温低。(2分)

(4)赞成。理由:全球变暖,冰川积雪融化,导致青藏高原冰雪量减少,对全球气候和生态的调节功能下降;(4分)全球变暖导致青藏高原极端天气事件增加,自然灾害的频率增加。(4分)[或不赞成。理由:全球变暖,导致青藏高原冰川积雪面积减少,地表对太阳辐射反射率降低,吸收太阳辐射增多,气候变暖;(4分)气候变暖,积雪冰川融化,空气湿度增大,降水增加,植被覆盖率提高,同时利于农作物生长。(4分)]

【解析】(1)据图可知,2003年新疆和青藏高原积雪面积明显较低(尤其是冬季),说明该年冬季气温较高,为暖冬。

(2)积雪面积最大的季节,新疆为冬季,青藏高原为春季。这主要与气温变化有关,新疆春季气温回升快,积雪累积量减少;而青藏高原海拔高,春季部分时段气温低于0℃,积雪累积量持续增大。

(3)青藏高原积雪面积大,主要是青藏高原可积雪区域面积较大,降雪量大,气温低,不易融化,共同导致的。

(4)全球变暖对青藏高原的影响有利有弊。全球变暖导致青藏高原冰川积雪融化,生态环境恶化,极端天气事件增多;另一方面冰川积雪融化,加剧气温上升,降水增加改善农作物生长条件,提高植被覆盖率。

37. **【答案】**

(1)邻近自然公园,风景优美,环境质量好,吸引力强;(2分)靠近大型滑雪场,滑雪产业基础较好,配套完善;(2分)作为滑雪爱好者的接待点,潜在客源规模大。(2分)

(2)减轻对自然公园的干扰,保护生态;(2分)为室外滑雪场的发展预留空间;(2分)带动奥伯霍夫城镇不同方向的发展,平衡区域经济格局。(2分)

(3)占地面积小,用地成本低;(2分)地形坡度较小,工程难度低;(2分)采用预制构件组装,能降低建设成本。(2分)

(4)及时修复外立面的隔热墙板,保证其隔热保温性能;控制隧道内的温度,刚好满足积雪不会消融;大门保持关闭状态。(答对两点即可,4分)

【解析】(1)根据材料,奥伯霍夫邻近自然公园,且该自然公园为滑雪胜地,因此风景优美、配套完善,可以依托室外滑雪爱好者的食宿接待挖掘来到滑雪隧道的潜在客源。

(2)自然公园要考虑生态环境效益,且自然公园主要打造室外滑雪场,因此滑雪隧道避开自然公园,还能带动城镇另一方向的发展,促进区域发展均衡化。

(3)与传统户外滑雪场相比,滑雪隧道的成本较低主要可以从占地、施工等角度分析,尤其是注意滑雪隧道工程由累积2000多吨的预制钢筋混凝土构件在现场组装完成,属于装配式施工,能充分发挥不同地区的优势,降低成本。

(4)滑雪隧道节能降耗的核心在于保温隔热,可以从外立面、大门、内部温度调节等方面提出措施。

38. **【答案】**

删除关于对外贸易经营者备案登记的规定是扩大制度型开放,建设更高水平开放型经济新体制的重要举措,(3分)有利于推进对外贸易高质量发展;(3分)有利于优化营商环境,促进内外贸一体化,推动“国内国际双循环”新发展格局的形成;(4分)取消对外贸易经营者备案登记是与国际通行规则相衔接的体现,有助于中小企业充分利用国内国际两个市场、两种资源。(4分)

【解析】首先指出删除关于对外贸易经营者备案登记的规定属于扩大制度型开放,建设更高水平开放型经济新体制的重要举措,然后分析该举措对对外贸易发展、新发展格局形成和企业发展的积极意义。

39. **【答案】**

在全党大兴调查研究,是加强党的建设,推进党的建设新的伟大工程,保持党的先进性和纯洁性的需要;(3分)有利于密切党同人民群众的联系,站稳人民立场、始终坚持以人民为中心;(3分)有利于完善党的领导方式和执政方式,坚持科学执政和民主执政,确保立党为公,执政为民;(3分)有利于提高党的执政能力和

领导水平,巩固党的执政地位、执政基础。(3分)

【解析】本题属于原因类主观题,主体是中国共产党,结合材料,主要从党的建设、党与人民的关系、党的领导方式和执政方式、党的执政能力和执政地位等角度分析。

40. **【答案】**

(1) ①有利于丰富人民文化生活,提高公民的科学文化修养,提升群众获得感;②丰富文化多样性,促进文旅融合(或“推动当地文化事业和文化产业发展”);③促进革命文化和社会主义先进文化传播,弘扬和培育中华民族精神,增强文化自信(或“加强爱国主义、集体主义、社会主义教育,引导人们树立正确的历史观、民族观、国家观、文化观”);④培育社会主义核心价值观,加强理想信念教育(或“坚定共产主义远大理想和中国特色社会主义共同理想”);⑤弘扬工业精神,发展工业文化,提升中国工业软实力和中华文化影响力。(每点2分,共10分)

(2) 矛盾普遍性与矛盾特殊性相互联结。矛盾普遍性寓于特殊性之中,特殊性也离不开普遍性。要坚持共性与个性的统一。(3分)加强我国工业遗产管理,既要参考借鉴世界文化遗产评价标准等经验做法,也要结合我国的实际情况,完善国家工业遗产认定评价的标准和指标。(3分)主次矛盾和矛盾主次方面原理要求我们要坚持两点论与重点论的统一。(3分)国家工业遗产利用应注重生态保护、整体保护、周边保护,与自然人文和谐共生,推动保护利用与城市转型发展相结合,同时有关工作更要突出重点,抓好重点区域工业遗产保护利用。(3分)(其他答案,言之有理酌情给分)

(3) 答案示例:挖掘工业文化遗产的历史,开发文化创意产品;利用互联网平台发布工业文化遗产相关视频,宣传工业文化。(每点2分,共4分。言之有理即可)

【解析】第(1)问,主要从公民的文化生活和文化修养、文化多样性、革命文化和社会主义先进文化、社会主义核心价值观、中华文化影响力等角度阐述其时代价值。第(2)问,主要从矛盾普遍性与特殊性关系、主次矛盾和矛盾主次方面关系原理结合材料阐述。第(3)问属于开放性题目,围绕“宣传国家工业遗产”这个主题提出建议言之有理即可。

41. **【答案】**

(1) 原因:陆上丝绸之路受阻;广东环境相对稳定;地理位置优越,水系发达;宋朝实行积极的对外政策。(6分,答出三点即可)

影响:商贸经济主导了三城并立格局;商贸通航引发了内外水利建设;商贸交流丰富了地域建筑风格;催生了新的民间信仰。(6分,答出三点即可)

(2) 表现:城市产业结构更新;城市商业和金融业的转型;新式学校和大众传播业的大量涌现;新市政体制的萌芽和筹划;新型知识分子群体兴起发展。(8分,答出四点即可)

(3) 认识:城市发展与地理区域密切相关;时代环境对城市发展影响巨大;政府政策对城市转型作用明显等。(5分,每点2分,答出三点得满分,言之有理即可)

【解析】(1)宋代广东对外贸易发展的原因,客观方面是陆上丝绸之路受阻,宋朝实行积极的对外贸易政策;主观方面是宋代广东具有自身的优势,比如环境稳定、地理位置优越等。其影响则包括对广东城市结构的影响、对城市水利建设的影响、对当地建筑风格的影响、对民间信仰的影响。

(2)近代化的表现可以从城市产业结构、商业金融业转型、学校和传播业的发展、市政体制的建设以及社会群体的变化等方面作答。

(3)城市发展受地理环境、时代环境等多方面的影响,言之有理即可。

42. **【答案】**

示例:

观点:科技创新是决定大国崛起的关键因素。(2分)

论述:18世纪中期至19世纪初期,英国是世界技术发明的中心。瓦特改良蒸汽机、史蒂芬孙发明火车等,使英国工业革命深入开展,推动英国成为“世界工厂”,进而成为世界头号工业强国。19世纪晚期,英国依赖广阔的殖民地获取利润,丧失了技术革新的进取心,而后起的资本主义国家美国和德国则不断进行科技创新,引领人类进入电气时代,科技创新促使这两国快速崛起,19世纪末20世纪初工业产值分别跃升至世界第一位和第二位,成为新的世界工业强国。(8分)

总之,大国崛起依靠科技创新,而技术发明和广泛运用又推动了大国崛起。(2分)

(示例仅供参考,不作为评分的唯一标准)

【解析】本题属于开放性试题,学生只要围绕材料中的某一个观点进行论证阐述,言之有理即可。比如从科

技术创新的维度,可以得出科技创新助力大国崛起,论证部分选取英国或美国的科技发展;从经济全球化的维度可以得出要坚持开放的国际市场贸易,论证部分可以选取荷兰的崛起等。

评分细则

一等(12—9分)论点明确,要素分解全面、科学;论证充分,逻辑严密,表述清楚。

二等(8—5分)论点明确,要素比较全面,解析较全面,表述清楚。

三等(4—0分)论点不明确或偏离材料主题,解析欠缺说服力,表述不清楚。

43.【答案】

苏南乡村旅游资源的分布规模随距水域距离和海拔增加呈递减趋势。(2分)影响:乡村旅游集聚开发带来生态环境改善;(2分)利于民俗文化遗产;(2分)利于增加就业机会,增加收入;(2分)推动乡村基础设施建设,带动相关产业的发展,促进区域经济繁荣,提升地区形象。(2分)

【解析】获取解读图中信息可得出乡村旅游资源的分布随距水域距离增加而递减,随海拔增加,乡村旅游资源规模呈递减趋势。乡村旅游集聚开发对当地的积极影响可从社会、经济、生态、传承民俗文化、提升地区形象方面分析。

14.【答案】

青藏高原海拔高;(2分)高原周围有高大山脉环绕。(2分)原因:与本土鱼类竞争生存空间;(2分)与本土鱼类竞争食物资源;(2分)外来鱼类可能会捕食本土鱼类的卵和幼鱼,从而造成本土鱼类数量下降。(2分)

【解析】青藏高原被称为天然的生态屏障,是因为其海拔高,加之高原周围有高大山脉阻隔,外来物种难以进入。由于人类活动的影响,外来鱼类入侵后会占据本土鱼类的生存空间,破坏其栖息环境,抢夺本土鱼类有限的食物资源,甚至是食用本土鱼类的卵和幼鱼,从而导致本土鱼类衰退。

15.【答案】

(1)背景:民族危机和统治危机的加剧;清末新政的实施;民主革命开展;近代民族经济的发展;西方军事的影响。(8分,答出四点即可)

(2)影响:促进了清廷军事近代化的发展;一定程度上提高了军队的战斗力;加重了清政府的财政负担;未能挽救清朝统治,反而助力了民主革命的发生。(7分,每点2分,答出四点得满分)

【解析】(1)清末编练新军的背景可以从民族危机、清末新政、民主革命、经济发展、西方思想传播等角度作答。(2)清末编练新军的影响一方面是对清廷军事近代化的发展有所作用,提高了军队的战斗力;另一方面,它也加重了清政府的财政负担,最终未能挽救清朝统治。

16.【答案】

(1)原因:巴尔干地区战略地位重要;掠夺当地石油等资源的需要;从南翼包围苏联,实现其侵略计划的考量;控制亚非的霸权意图。(7分,每点2分,答出四点得满分)

(2)特点:以军事进攻为主,手段多样;一些国家投降,成为其仆从国;遭到部分国家人民英勇抵抗;侵占计划最终得逞。(8分,每点2分)

【解析】(1)德国侵占巴尔干半岛的原因可以从巴尔干地区战略地位重要、具有重要战略资源、包围苏联、控制亚非等角度作答。

(2)德军侵占巴尔干半岛行动手段多样,过程当中既有一些国家投降,也遭到部分国家人民英勇抵抗,但侵占计划最终得逞。

17.【答案】

(1)原因:民族政权的并立与冲突不断;北宋朝廷的重用;个人的谋略才能。(6分,每点2分)

(2)品行:德行高尚;刚正不阿;恩抚羌人;治边有方;边境稳固;物资充裕,不扰地方。(9分,每点2分,答出五点得满分)

【解析】(1)种世衡生活在北宋时期,他能够建立功业的原因一方面是客观环境,即北宋外患严重,与周边少数民族政权战争较多,另一方面则是他自身有才能谋略,得到朝廷重用。

(2)种世衡的品行可以从德行、恩抚羌人、治理边境、稳定地方等方面作答。

关于我们

自主选拔在线是致力于提供新高考生涯规划、强基计划、综合评价、三位一体、学科竞赛等政策资讯的升学服务平台。总部坐落于北京，旗下拥有网站（网址：www.zizzs.com）和微信公众平台等媒体矩阵，用户群体涵盖全国 90% 以上的重点中学师生及家长，在全国新高考、自主选拔领域首屈一指。

如需第一时间获取相关资讯及备考指南，请关注**自主选拔在线**官方微信号：**zizzsw**。

