

怀仁一中高三年级第二次模拟考试

文科综合

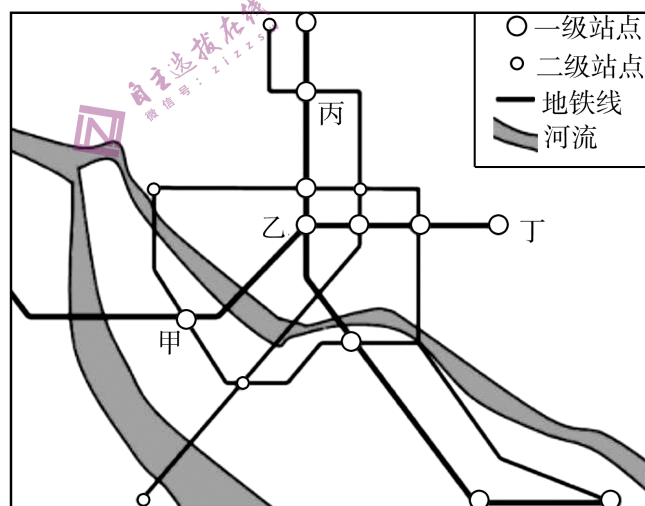
全卷满分 300 分,考试时间 150 分钟。

注意事项:

1. 答卷前,考生务必将自己的姓名、准考证号填写在答题卡上,并将条形码粘贴在答题卡上的指定位置。
2. 回答选择题时,选出每小题答案后,用铅笔把答题卡上对应题目的答案标号涂黑。如需改动,用橡皮擦干净后,再选涂其他答案标号。回答非选择题时,将答案写在答题卡上。写在本试卷上无效。
3. 考试结束后,将本试卷和答题卡一并收回。
4. 本卷主要考查内容:高考范围。

一、选择题:本题共 35 小题,每小题 4 分,共 140 分。在每小题给出的四个选项中,只有一项是符合题目要求的。

地铁是在城市中修建的快速、大运力、用电力牵引的轨道交通。列车在全封闭的线路上运行,位于中心城区的线路基本设在地下隧道内,中心城区以外的线路一般设在高架桥或地面上。而地铁的修建、选线以及数量都需要国务院批准后才能实施。下图为我国某城市地铁分布示意图。读图,完成 1~3 题。



1. 甲、乙、丙、丁四个一级站点中,商业网点密度布局最大的是

- A. 甲 B. 乙 C. 丙 D. 丁

2. 下列城市中,国务院可能最早批准修建地铁的是

- A. 兰州 B. 贵阳 C. 郑州 D. 上海

3. 2019年1月1日,济南市第一条地铁修建完工并通车。推测济南地铁修建姗姗来迟的原因可能是

- A. 高铁修建技术不成熟
- B. 人口数量少,市场需求小
- C. 地质、水文条件复杂
- D. 其他交通运输成熟且完善

熔岩台地是火山熔岩构成的台地,可以保护下伏岩层免受侵蚀,熔岩覆盖的地区相对高起,呈台地状,故称熔岩台地。在江苏盱眙地区的熔岩台地呈现多级阶梯状,层层叠叠,形成了独特的“火山梯田”景观,后期又不断演化为形似黄土高原的塬梁沟壑地貌。据此完成4~6题。

4. 形成熔岩台地的岩石

- A. 抗侵蚀能力强
- B. 层理结构明显
- C. 生物化石众多
- D. 少有金属矿产

5. 江苏盱眙地区“火山梯田”景观形成的最主要原因是

- A. 人工不断开凿
- B. 岩层比较坚硬
- C. 持续的火山喷发
- D. 阶段性岩浆活动

6. 形似黄土高原的塬梁沟壑地貌在江苏盱眙形成的关键是

- A. 风化作用
- B. 流水侵蚀
- C. 地壳运动
- D. 风力作用

内蒙古十大孔兑是内蒙古河段的主要产沙支流,毛不拉孔兑是十大支流之一。1989年7月21日,毛不拉孔兑的流域面降雨量(流域内单位面积上的平均降水量)为86.93 mm,2012年7月27日,毛不拉孔兑的流域面降雨量为85.7 mm。下面ab两图分别为毛不拉孔兑两次降水形成的洪水过程中流量和含沙量图。读图,完成7~8题。

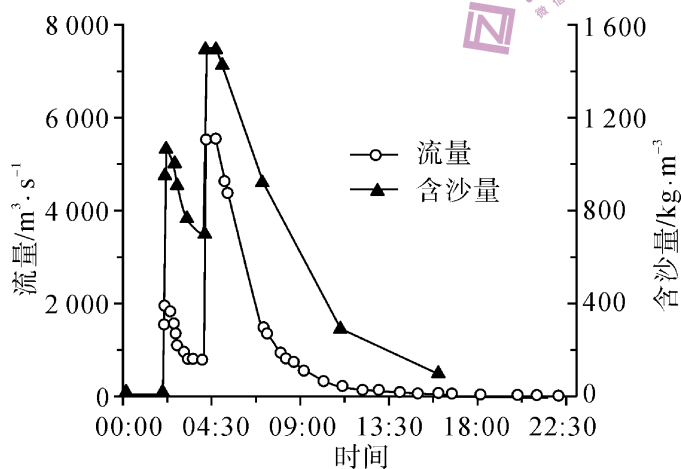


图 a 毛不拉孔兑 1989 年 7 月 21 日洪水过程

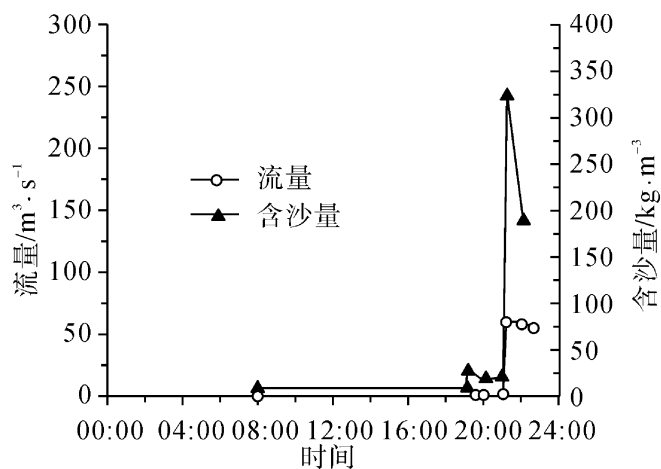


图 b 毛不拉孔兑 2012 年 7 月 27 日洪水过程

7. 据图可知

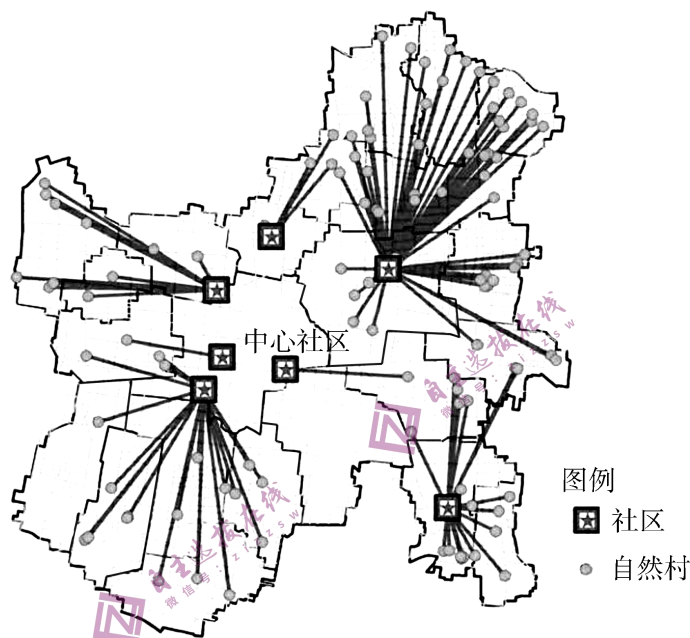
- A. a 流量陡涨陡落,含沙量小
- B. 流量与降水量最大值同步
- C. 与 a 相比,b 流量与含沙量均减小
- D. 含沙量变化滞后于流量

8. 两次洪水流量与含沙量差异形成的原因有

- ①退耕还林还草 ②修建淤地坝 ③降水量减少 ④建设草方格沙障

- A. ①② B. ①③ C. ②④ D. ③④

合村并居是为改善群众的生产生活环境,集约土地发展经济,将邻近自然村整合建立农村社区。下图示意华北平原大许镇合村并居路径,实现合村并居后,该镇仅下辖7个社区。读图,完成9~11题。



9. 并入大许镇中心社区的村庄较少,主要因为中心社区

- A. 基础设施老旧 B. 土地成本较高
C. 用地空间不足 D. 周边村庄较少

10. 合村并居后,村民居住条件明显改善体现在

- A. 住房面积扩大 B. 就业机会增加 C. 村庄环境提升 D. 耕作距离缩短

11. 与平原地区相比,山区合村并居更加普遍,主要是因为山区

- ①耕地位置分散 ②村庄数量较少 ③交通阻隔明显 ④生态保护需要

- A. ①② B. ①④ C. ②③ D. ③④

12. 习近平总书记说,历史已经并将继续证明,只有社会主义才能救中国,只有坚持和发展中国特色社会主义才能实现中华民族伟大复兴。下列能证明只有社会主义才能救中国的是

- ①成功实现“一化三改”,取得新民主主义革命伟大胜利 ②建立起独立的比较完整的工业体系和国民经济体系 ③建筑、交通运输等基础设施建设获得较快发展 ④社会主义建设经过严重曲折后,迎来了改革开放新时代

- A. ①② B. ①④ C. ②③ D. ③④

13. 改革开放以来,在邓小平理论、“三个代表”重要思想、科学发展观、习近平新时代中国特色社会主义思想等先进理论的正确指导下,我们实现了一个又一个的梦想。这些重大理论在本质上具有一致性。对这些重大理论“一致性”的理解正确的是
- ①都坚持和发展了中国特色社会主义 ②都是马克思主义的中国化时代化 ③都是 20 世纪推动中国历史前进的思想武器 ④都是 21 世纪中国社会主义现代化建设的产物
- A. ①② B. ①④ C. ②③ D. ③④
14. 我国芯片严重依赖进口。2021 年我国进口芯片金额高达 27934.8 亿人民币,同比增长 25.6%。面对这一强劲的市场需求,我国芯片科技型企业呈爆发式的增长,2022 年上半年,中国新增芯片相关企业 3.08 万家。这说明
- A. 竞争机制的作用带动了芯片产业的发展
B. “有形的手”引导着资源流向芯片产业
C. 供求机制的作用带动了芯片产业的发展
D. 价格机制的作用带动了芯片产业的发展
15. 某省积极探索“产城一体”的新路径,确立了“以强化产业支撑保障就业、以完善公共服务保障安居、以有序推进农业转移人口市民化保障城镇化健康发展”的工作思路。这说明该省
- ①坚持以人民为中心,创新发展理念 ②扩大城市规模,破解城乡二元结构 ③促进城乡协调发展,增强发展的整体性 ④坚持速度优先,加快新型城镇化的进程
- A. ①③ B. ①④ C. ②③ D. ②④
16. 与一般行政地方相比,中央政府在财政、税收和工农业发展等方面向民族自治地方提供更多的经济优惠政策。在资金投入上,近年来中央政府持续加大对民族自治地方的财政转移支付力度,并设立各种专项资金和临时性补助,扶持民族自治地方发展经济、社会和文化事业。中央的大力支持
- ①促进了各民族的共同发展和繁荣 ②提高了少数民族的政治经济地位 ③巩固和发展了社会主义民族关系 ④赋予了民族自治地方更多自治权
- A. ①② B. ①③ C. ②④ D. ③④
17. 要推动我国经济社会持续健康发展,不断开拓中国特色社会主义事业更加广阔的发展前景,必须全面推进社会主义法治国家建设。全面推进依法治国
- ①必须坚持依法治国、依法执政、依法行政共同推进 ②要实现文明立法、科学执法、公正司法、平等守法 ③总目标在于坚持和完善共建共治共享的社会治理制度 ④必须坚持法治国家、法治政府、法治社会一体建设
- A. ①② B. ②③ C. ③④ D. ①④

18. 行百里者半九十。中华民族伟大复兴,绝不是轻轻松松、敲锣打鼓就能实现的。全党必须准备付出更为艰巨、更为艰苦的努力。这要求我们
- ①既要脚踏实地,埋头苦干,又要果断抓住时机,促成质变 ②既要彻底否定原有理论,又要立足实践创立新思想、新观念 ③既要解放思想,与时俱进,又要突破客观规律和条件束缚 ④既要对未来充满信心,又要勇敢地面对困难、挫折与考验
- A. ①② B. ①④ C. ②③ D. ③④
19. “牵头”二字是基层工作中的高频用词。现实中需要一个部门牵头、其他部门配合的工作不少。操心但不包办,协调但不越位,督导但不旁观,靠前支持但不居功抢功,则是牵好头的法宝。据此,下列说法正确的是
- ①“牵头”部门作为关键部分,会影响整体工作的实效 ②“牵头”部门需要抓主流,着重把握矛盾的主要方面 ③“牵好头”需要学会用综合的思维方式认识 and 解决问题 ④“牵好头”要充分发挥主观能动性,改变规律造福于人
- A. ①③ B. ①④ C. ②③ D. ②④
20. 2022年10月,土耳其中东技术大学孔子学院在土耳其总统府开设为期约四个月的中文课堂,授课对象主要为总统府工作人员,这一活动进一步促进了两国人民在历史文化和语言领域的交流,加深彼此的了解,促进两国文化的发展。这表明
- ①文化是民族的,各民族文化具有个性 ②包容性是世界各民族文化的重要特征 ③文化交流构成了文化发展的重要动力 ④不同民族文化能够平等交流相互借鉴
- A. ①② B. ①③ C. ②④ D. ③④
21. 上合组织的经济总量接近20万亿美元,比成立之初增加了13倍多,对外贸易总额达到6.6万亿美元,比20年前增加了100倍。上合组织旺盛的生命力、强劲的合作力,吸引了更多国家申请加入。这是因为上合组织
- ①各成员国之间优势互补、互利共赢 ②深化多边合作,强化结盟伙伴关系 ③在促进地区发展方面发挥重要作用 ④承认多样性,强调灵活性、渐进性
- A. ①② B. ①③ C. ②④ D. ③④
22. 小王开车过程中,由于前方大货车挡住了视线,导致他闯了红灯,被交通部门罚款后,小王觉得很不公平,为讨回公道,小王可以采取的方式有
- ①向交警部门申请行政复议 ②申请仲裁委员会仲裁 ③请人民调解委员会调解 ④向法院提起诉讼
- A. ①③ B. ①④ C. ②③ D. ②④

23. 中国式现代化是人口规模巨大的现代化,是全体人民共同富裕的现代化,是物质文明和精神文明相协调的现代化,是人与自然和谐共生的现代化,是走和平发展道路的现代化。这一判断的类型是

- A. 假言判断 B. 关系判断 C. 选言判断 D. 联言判断

24. 据《左传》记载,孔子曾感叹曰:“吾闻之,‘天子失官,学在四夷’,犹信。”孔子所说的这一状况

- A. 导致天子失势诸侯争霸 B. 有利于华夏认同观念的发展
C. 促进了百家争鸣的出现 D. 为统一多民族国家奠定基础

25. 下图所示的打马球是骑在马上用球杖击球入门的一种体育运动。唐时,从贵族到平民,从宫廷到军队,从男人到女人,从接待外客到集会庆贺,该运动风靡全社会。这主要是因为



- A. 社会局势长期稳定 B. 社会成员身份趋于平等
C. 商品经济高度发展 D. 马球运动与时代相契合

26. 有学者考证,北宋中期以前,只有少数人的墓中有绘制的壁画,内容以仪仗图、天象图居多;北宋中晚期,大量的墓葬中出现壁画,内容以表现家境富足、家庭和美居多。该变化反映了

- A. 社会成员身份趋于平等 B. 民众审美旨趣发生改变
C. 社会风气更加开放包容 D. 儒家伦理观念受到冲击

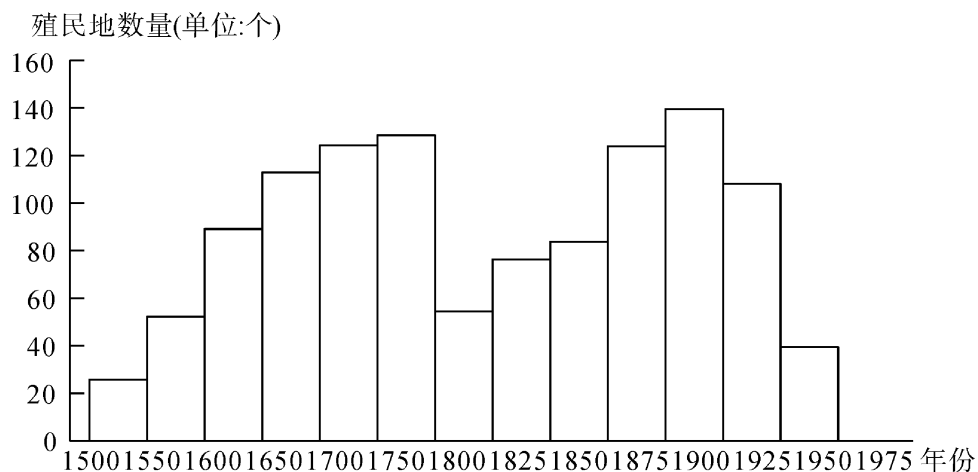
27. 明朝藏区政教势力赴京入贡,中央往往赏赐茶叶以还礼,入贡者将茶叶带回藏区高价出售,史称“贡回市茶”,“诸番恋贡市之利……终明世无番寇之患”。藏区赴内地的贡道也逐渐与茶马商道合流,变成内地物资输往藏区的通道。据此分析,“贡回市茶”有利于

- A. 促进边疆民族的社会转型 B. 实现中央对藏区的直接管理
C. 推动边疆社会的经济发展 D. 终结边疆地区对中央的威胁

28. 1862年,淮军进行改制,组建淮军洋枪队。此外,李鸿章还建立了独立的洋炮队。此后,清廷发布谕旨,整顿驻扎京师的八旗兵,组建神机营,并命满洲贵族崇厚组建了天津洋枪队。清廷此举旨在 全科试题免费下载公众号《高中僧课堂》

- A. 加快嫡系部队近代化进程 B. 防止汉族官员尾大不掉
C. 平衡中央与地方军事力量 D. 维护满洲贵族统治秩序

29. 1949年1月,中共中央政治局指出,美国政府“在人民解放军接近于全国胜利时,甚至不惜用承认人民共和国的方法,以求取得合法地位,实施这一‘内部破坏’的政策。对于这一帝国主义的阴谋计划,我们必须提高警惕性,并坚决地将其击破。”这
- A. 影响了新中国初期的外交走向
B. 反映出民族矛盾影响到战争形势
C. 表明中华民族独立仍面临挑战
D. 体现了我党民主革命原则的调整
30. 古代雅典城邦主要机构包括执政官、公民大会、五百人会议、民众法庭,古代罗马共和国的主要机构包括执政官、公民大会、元老院、保民官。两者之间的本质区别在于
- A. 执政官数量不同
B. 民主政治与贵族政治的不同
C. 古雅典更重视法律建设
D. 古罗马更重视平民利益
31. 11—12世纪,西欧城市市民争取城市自治和反封建贵族的意识强烈,威尼斯、佛罗伦萨、巴黎、伦敦等争取城市自治和反封建贵族的故事在西欧市民间广泛流传,并为市民称颂。这反映出当时
- A. 市民浮躁落后的社会心态
B. 资本主义经济快速发展
C. 市民文化日益的消极世俗
D. 市民阶层的权利诉求
32. 光荣革命后,英国文官队伍继续扩大,国王总是利用职位肥缺收买议员,另一方面,文官的录用由各部大臣或各下属机构的负责人根据个人意愿任命,他们往往利用手中的权力,向求职者索取佣金。这些表明当时英国文官的选任
- A. 封建色彩较为浓厚
B. 国王有最终决定权
C. 腐败现象较为普遍
D. 有严格的录用程序
33. 二战后初期,许多国家都需要大量的美元填补其财政赤字和支付从美国进口的商品,但由于美元与黄金的固定兑换比例,美国无法开动印钞机大量印发钞票,这就形成了“美元荒”的现象。这一现象说明
- A. 布雷顿森林体系存在弊端
B. 战后各国间商贸竞争激烈
C. 美国经济霸主地位被冲击
D. 西方由此陷入了经济滞胀
34. 下图为殖民扩张和收缩的两个长周期示意图(1500—1975年),其中两次殖民收缩期出现的共同原因是



A. 冷战的发展与多极力量的成长

B. 殖民地人民的觉醒与独立运动

C. 两次大战削弱宗主国与苏联的成功实践

D. 启蒙思想的传播与拿破仑战争的影响

35. 美国著名史学家文安立 2005 年已经提出“全球冷战”的概念,但是,2017 年他却给自己的冷战通史著作取名《冷战:一部世界史》,刻意回避了“全球”这一概念:没有“全球冷战”,所以也就不可能写出一本像样的冷战全球史。对此理解正确的是

A. 冷战与全球化存在着直接对立

B. 美国已经放弃对全球化的关注

C. 冷战的核心实际是大国的对抗

D. 冷战没有影响到全球经济进步

二、非选择题:共 160 分。

36. 阅读材料,完成下列要求。(30 分)

国家发改委等八部门联合发布的《关于支持“飞地经济”发展的指导意见》(下称“意见”)明确支持发展“飞地经济”模式,通过税收分享、指标分享、土地成本分担等机制,促进飞出地与飞入地之间形成发展合力。一时间,各地区围绕《意见》的落实,积极探索各种模式的共建园区,掀起新一轮共建园区发展的高潮。贵州 9 个市(州)与广东省 7 市各合作共建 1 个工业园区,包括惠州—黔西南州共建工业产业园、深圳—贵阳合作共建产业园区等,围绕“广东企业+贵州资源、广东研发+贵州制造、广东总部+贵州基地、广东市场+贵州产品”等模式。构建“一业为主、多业融合、共生发展”的共建专业园区,成为贵州承接广东产业转移的重要基地。

(1)说出共建产业园区对贵州的有利影响。(8 分)

(2)列举贵州承接产业转移应该采取的措施。(6 分)

(3)指出广东和贵州在合作过程中各自的优势。(8 分)

(4)有人提出,接受产业转移就像“引狼入室”,因而反对接受产业转移。假如你是贵州人,你是否支持贵州接受产业转移,并说明理由。(8 分)

37. 阅读图文材料,完成下列要求。(26 分)

奎斯布河发源于非洲内陆高地,向西流入大西洋,全长 440 千米。距今 7 000~5 000 年前,非洲气候湿润,之后气候变干,目前该地盛行偏南风,降水量自东向西递减,沿海地区降水量几乎为零。奎斯布河作为地貌景观界线,南侧为纳米布沙漠,北侧为岩石戈壁。纳米布沙漠多高大沙山,组成沙山的沙丘砂平均粒径较大。奎斯布河历史上多摆动,河岸发育多级阶地,低级阶地和洪泛平原之间形成河岸沙丘,沙丘内部有较多灌木残骸,洪泛平原上发育以金合欢树为主的狭窄河岸树林。20 世纪 70 年代,奎斯布河上游修筑多座大坝,此后洪泛平原上的金合欢树逐渐大量死亡。下面图 1 示意奎斯布河流域位置,图 2 示意奎斯布河典型河岸剖面。

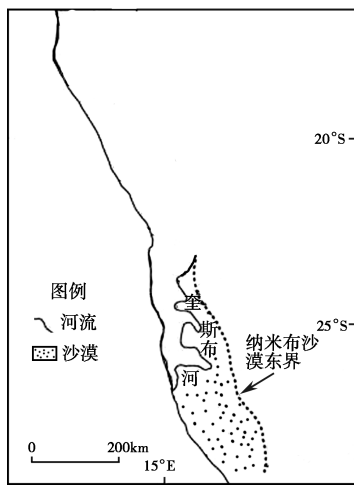


图 1

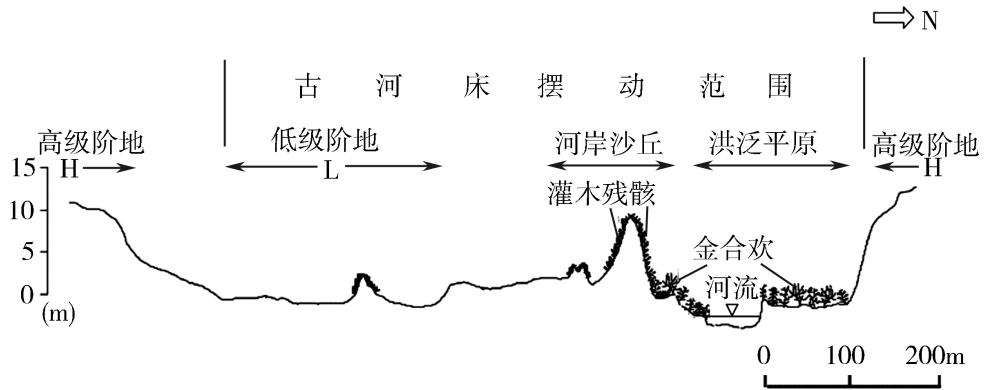


图 2

- (1)分析奎斯布河成为纳米布沙漠北界的原因。(6分)
- (2)说明在低级阶地和洪泛平原之间形成河岸沙丘的过程。(8分)
- (3)洪泛平原上的金合欢树大量死亡,对此作出合理解释。(6分)
- (4)简述金合欢树大量死亡对奎斯布河水文特征的影响。(6分)

38. 阅读材料,回答下列要求。(14分)

2022年7月25日,第二届中国国际消费品博览会在海南海口开幕。本届消博会是以“共享开放、共创美好生活”为主题的盛会,让全球客商分享了中国机遇,赢得国内外广泛赞誉。

据统计,本届消博会展览总面积10万平方米,其中国际展区8万平方米。进场观众超28万人次,各类采购商和专业观众数量超4万人。来自60多个国家2800多个品牌集中展示消费精品。有200多个品牌发布600多个新品,一大批来自世界各地的新产品、新技术、新服务闪耀绽放。

从广交会、服贸会、进博会到消博会……开放大门越开越大的中国携手世界共享机遇、共创未来。

举办消博会既是中国的机遇,也是世界的机遇。结合材料,运用《经济与社会》《当代国际政治与经济》的知识对此加以说明。

39. 阅读材料,完成下列要求。(10分)

“立善法于天下,则天下治;立善法于一国,则一国治。”法律是治国之重器,良法是善治之前提。适应信息技术和互联网的迅猛发展,立法拥抱电商时代,使电子商务不再是法外之地,个人信息保护法筑牢法治防火墙,最大限度保护个人信息权益。反电信网络诈骗法草案

即将提请审议,有望对电信网络诈骗形成全链条打击。全国人大常委会以良法善治保障经济高质量发展,助推社会高效能治理,守护百姓高品质生活。据此,王同学认为“建设法治中国要坚持良法之治,只要完善法律体系,就能建设法治国家”。

结合材料,运用法治中国建设的相关知识,对王同学的观点进行评析。

40. 阅读材料,完成下列要求。(8分)

建设生态文明是关系人民福祉、关乎民族未来的千年大计。我们要在“美丽中国”理念的指导下,脚踏实地、不懈努力,一步一个脚印,改变过多依赖增加物质资源消耗、过多依赖规模粗放扩张的发展模式,把发展的基点放到创新上来,让绿色消费成为社会风尚,这样才能实现经济发展和生态环境保护的“双赢”。持续推进生态文明建设,绿色发展,是长远之策,不是权宜之计,要坚定不移地走“绿水青山就是金山银山”之路,不断提高人民群众对生态环境改善的获得感、幸福感、安全感。

运用“量变与质变的辩证关系”的知识分析我们应如何进行生态文明建设。

41. 阅读材料,完成下列要求。(8分)

2021年9月16日,2021“中国希腊文化和旅游年”在希腊雅典古市集遗址拉开序幕。作为开幕式的重要环节之一,中国美术馆馆长吴为山的青铜组雕《神遇——孔子与苏格拉底的对话》隆重揭幕。该作品以“对话”为主题,以写意雕塑表现孔子和苏格拉底的睿智与风采、精神与哲思,具有宏阔的时空观。两位分别代表不同文化的圣哲,跨越千年进行着思想的交流、灵魂的对话,不仅表现了中希两国文明互鉴、共同发展的理念,也体现出人类命运的休戚与共。

吴为山表示,通过“对话”,你从这边看世界,我从那边看世界,我们将看到的同一个事物的不同视角描述给对方,便得到了一个世界完整的面貌,从这个意义上讲,“对话”让我们每一个人都成为了“世界人”。在新的历史时期,面对世界格局的多种变化,需要从人类文明的高度,寻找国与国之间深度连接的方式。这正是文化的超越性所在。

结合材料,综合“运用文化交流与文化交融”的知识,分析“孔子与苏格拉底的对话”的文化价值。

42. 阅读材料,完成下列要求。(12分)

甲与乙是隔壁邻居,甲喜欢深夜大声唱歌,影响了乙的睡眠。乙找到甲说:“你晚上唱歌扰民,影响我睡觉了。”甲辩解道:“我是在唱歌,不是在扰民。”对乙的要求置之不理。乙因此长期失眠,经医疗机构鉴定为轻度抑郁症,住院治疗后才有所好转。乙因此要求甲承担责任,遭到甲的拒绝。后来乙上法院起诉甲,法院受理了此案。

(1)“我是在唱歌,不是在扰民。”运用“逻辑思维的基本要求”的知识,判断这句话有没有逻辑问题,并说明理由。(6分)

(2)结合材料,运用《法律与生活》的知识,分析在此案中甲应承担什么法律责任,并说明理由。(6分)

43. 阅读材料,完成下列要求。(25分)

材料一 清朝统治者以“天朝上国,无所不有”的专制主义态度排斥一切外来文化,视汉语之外的外国语言文字为“夷语”,认为学习“夷语”为“非王之道”,显示出很强的鄙夷色彩及排外心理。鸦片战争以后,惨遭战争之痛的中国面临“三千年未有之变局”。19世纪60年代,在与西方列强的频繁交涉中,清政府苦于“语言不通,文字难辨”,不得不痛下决心仿照清初俄罗斯文馆教习之例开设外语学校。

——摘编自宁建花等《从“西语”到“西学”——京师同文馆课程改革的历史考察》

材料二 近代以来传统中华文化共同体的深刻裂变,是在近代西方文明的强烈冲击下开始的。在《青年杂志》发刊词的《敬告青年》中,陈独秀高调宣布了新文化的六大纲领:自主的而非奴隶的;进步的而非保守的;进取的而非退隐的;世界的而非锁国的;实利的而非虚文的;科学的而非想象的。这六大纲领无一不是以近代西方为坐标的;无一不是将近代西方伴随资本主义的发展、市场经济的泛滥、工业文明的确立而产生的部分观念与制度,视为中国必须原封不动复制的目标模式的。

——摘编自姜义华《中华文化共同体的百年裂变与重建》

(1)根据材料一并结合所学知识,说明19世纪60年代清政府开设外语学校的思想文化背景。(12分)

(2)根据材料二,概括近代以来“中华文化共同体”裂变的特点,并结合所学知识,指出新文化运动时期中华文化追求的价值目标。(9分)

(3)根据材料一、二并结合所学知识,概述近代中华文化的主要潮流。(4分)

44. 阅读材料,完成下列要求。(12分)

材料 总结过去 500 多年的资本主义发展,其成本转嫁机制一直在演变,可大致归纳为三个阶段:第一阶段是二战前 400 多年西方殖民者通过侵略、殖民等方式直接对外掠夺;第二阶段是二战后先发达国家通过产业转移获得发展中国家的低廉劳动力及资源,并转嫁成本(生态环境破坏、社会矛盾等);第三阶段是 1971 年后核心国向金融资本主义进一步深化发展,借由大量增加货币供应向全球输出流动,从中获取巨利,却同时散播危机。

——摘编自温铁军《全球化与国家竞争》

选取材料中的一个阶段或者从整体上自拟具体论题,并结合所学知识加以阐述。(要求:论题要紧扣材料,论证充分,史实准确,表述清晰)

45. 阅读材料,完成下列要求。(15分)

材料一 阿拉伯帝国地跨欧、亚、非三大洲,来自中国、印度的发明创造经阿拉伯人传入欧洲。欧洲社会的近代化进程,可以说在很大程度上是伴随着阿拉伯——伊斯兰文明的注入而开始的。从 8 世纪后期到 10 世纪初期的百余年里,阿拉伯世界出现了一场有组织的翻译欧洲古希腊、古罗马的文化典籍的运动,史称“百年翻译运动”。经过这场运动,大量古希腊、古罗马著作得以保存下来,并经过阿拉伯人的消化、吸收和创新,还有新的发展。到中世纪后期,这些以阿拉伯文字保存下来的古希腊、古罗马典籍,经过阿拉伯学者和其他学者的努力,又陆续被翻译成欧洲多种文字特别是拉丁文,重返欧洲。

——摘编自《阿拉伯—伊斯兰文明对欧洲文明发展的影响与贡献》

材料二 日本大和政权统一列岛后,在向朝鲜半岛扩张却屡战屡败之后,又想到向中国呈贡,借中国的威望来实现其对朝鲜的野心,于是加强了同中国的往来,并有倭五王向中国请封之举。在这段时间里,从朝鲜半岛间接输入中国文化已无法满足日本的需要,于是日本使者来中国次数、人数均大为增加,导致大和王朝的文化水准进一步提高。中国的缝织工艺传入日本,带动了日本养蚕、织绢业的发展。此外,当时有许多陶工、画工、鞍匠等沿朝鲜半岛进入日本,这些后来归化为日本人的中国和朝鲜移民,为日本建立的功业永不磨灭。

——摘编自赵铁柱《浅析古代中日交流对日本社会的影响》

(1)根据材料一,概括阿拉伯国家在文化领域采取的主要措施。并结合所学知识,说明阿拉伯人对欧洲文明发展所作出的贡献。(8分)

(2)根据材料二并结合所学知识,归纳日本同中国进行交流在目的、形式和主要内容方面的变化。(7分)