

# 河北省衡水中学 2023 届上学期高三年级四调考试

## 地 理

本试卷分第 I 卷（选择题）和第 II 卷（非选择题）两部分。共 5 页，总分 100 分，考试时间 75 分钟。

### 第 I 卷（选择题 共 48 分）

一、选择题：本题共 16 小题，每小题 3 分，共 48 分。在每小题给出的四个选项中，只有一项是符合题目要求的。

我国铁法盆地是典型的陆相沉积盆地，盆地内煤炭与煤层气储量丰富，由于地质构造对煤层气的控制作用，不同构造部位煤层气含量差异显著。图 1 为铁法矿区煤层底板等高线图，图 2 为煤层气含量分布示意图。据此完成 1~2 题。

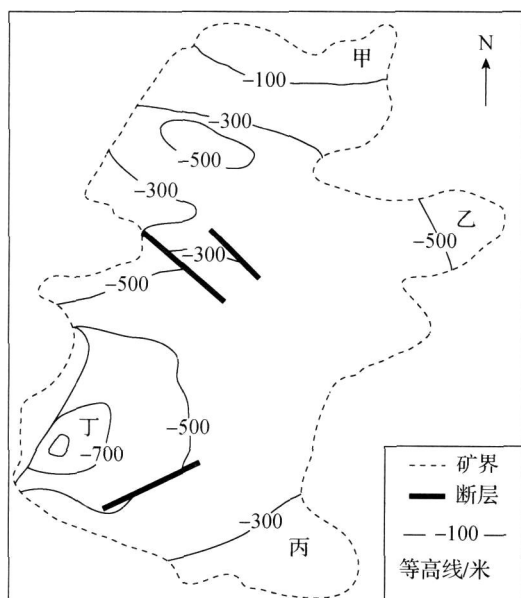


图 1

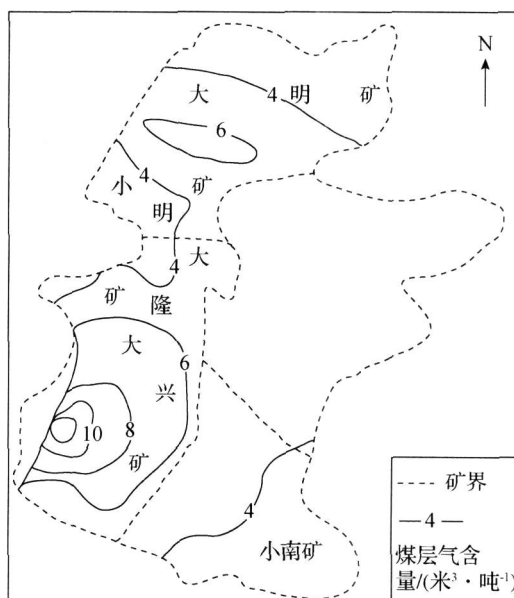
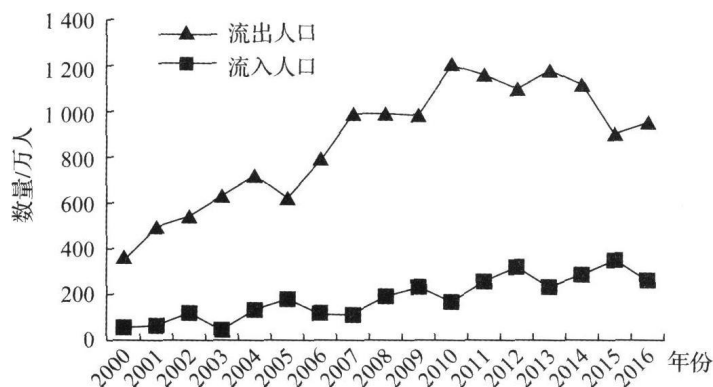


图 2

- 图中四地煤层底板的海拔由低到高分别是
  - 甲丙乙丁
  - 甲乙丙丁
  - 丁乙丙甲
  - 丙乙丁甲
- 图中大兴矿煤层气含量最多，其主要影响因素是
  - 背斜构造
  - 埋藏深度
  - 地下水运动
  - 地表形态

如图示意 2000—2016 年我国某地区流动人口数量变化。据此完成 3~5 题。



3. 图中表示的地区是
- A. 青藏地区      B. 川渝地区  
C. 闽粤地区      D. 江浙地区
4. 2000—2016 年, 人口流动导致该地区农业
- A. 种田大户增多      B. 种植结构复杂化  
C. 机械化率下降      D. 田间管理精细化
5. 推测 2010—2016 年该地区
- A. 人口的集聚作用有所下降      B. 人口老龄化程度逐年下降  
C. 人口自然增长率逐年增加      D. 劳动力需求数量显著增加

饮茶在西藏已有千年历史, 西藏人均年消费茶叶达 8 千克。历史上, 西藏并不产茶。茶叶在川、滇等地被制成茶砖(以茶叶、茶梗制成的紧压茶)由马帮经茶马古道带入西藏。西藏和平解放后, 驻边部队在林芝市波密县易贡乡(地处易贡藏布流域沿岸, 属典型盆地地形)建设军垦农场, 引进茶树并试种成功, 易贡茶场成为世界上海拔最高的规模化茶场(海拔 2 240 米)。林芝市的墨脱县、察隅县也陆续开始种植茶树, 茶树播种面积超过 7 万亩(注: 1 公顷=15 亩)。茶叶成为当地的“致富叶”。据此完成 6~8 题。

6. 川、滇地区茶农将茶叶制成茶砖后由马帮经茶马古道带入西藏, 主要考虑
- A. 减轻重量      B. 利于交易      C. 提高品质      D. 便于储运
7. 易贡乡试种茶树成功, 主要得益于当地
- A. 热量充足      B. 灌溉方便      C. 雨量充沛      D. 云雾缭绕
8. 林芝市种茶规模不断扩大将
- A. 结束茶马互市历史      B. 利于林芝市旅游业发展  
C. 降低国内茶叶价格      D. 削弱茶马古道研究价值

全断面硬岩隧道掘进机（TBM）是集光、机、电、传感、信息技术于一体的复杂机械。20 世纪 90 年代以来，我国从无到有，并逐渐通过技术创新使得不同应用环境下的 TBM 技术领先世界。目前，我国 TBM 开始出口法国、意大利等发达国家。据此完成 9~10 题。

9. 我国 TBM 技术创新的动力主要源于

- A. 巨大的国内市场需求    B. 完备的制造业产业链  
C. 发达的区域交通运输    D. 强大的区域协作能力

10. 我国 TBM 出口法国、意大利等发达国家，主要是因为我国 TBM

- ①距市场近    ②款式新颖    ③质量好    ④价格优惠

- A. ①②    B. ③④    C. ②④    D. ①③

某连锁快餐店位于安徽省合肥市的郊区拥有绿色无公害的食材基地。经过十余年发展，该品牌逐步成长为全国性的快餐企业。通常情况下，连锁店的扩张与当地人均可支配收入有关，但该快餐店的门店多选址在大城市人均可支配收入较低的街区。下表为该连锁快餐品牌的发展过程。据此完成 11~13 题。

| 时间段         | 扩张模式  | 具体表现                             |
|-------------|-------|----------------------------------|
| 2003-2008 年 | 深耕式扩张 | 门店的布局基本集中于合肥市中心城区以及市辖县           |
| 2009-2011 年 | 跳跃式扩张 | 开始尝试走出安徽，在上海、北京、南京等地开设门店，但未能取得成功 |
| 2012-2016 年 | 传染式扩张 | 门店数量以每年五六十家的速度稳步地在安徽省内增加         |
| 2017-2021 年 | 复合式扩张 | 商业版图开始扩展至江苏、湖北、浙江、广东与上海          |

11. 该快餐店早期采用深耕式扩张，主要为了降低

- A. 物流成本    B. 地租成本    C. 雇工成本    D. 管理成本

12. 2009—2011 年该快餐店扩张失败，可能由于

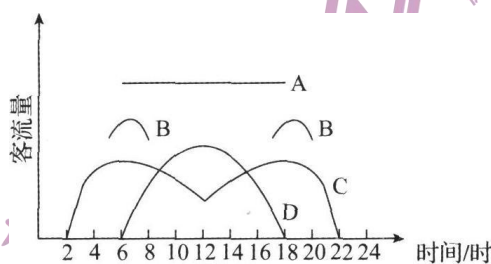
- A. 知名度低    B. 性价比低    C. 饮食偏好差异    D. 产品质量较差

13. 该快餐店在安徽省外更多地向人均可支配收入较低的城市街区扩张，主要为了

- A. 降低品控要求    B. 专注低端市场    C. 降低营销成本    D. 避开激烈竞争

定制公交，也称商务公交。市民提出自己的需求，公交集团根据需求和客流情况设计出固定公交线路和班次，一般采用一人一座、点对点直达的服务方式。目前，我国多个大中城市陆续开通了定制公交服务。在各城市中，定制公交可走公交专用道。据此完成 14~16 题。

14. 定制公交的优势体现在
- A. 比普通公交价格低      B. 灵活便利，随到随走
- C. 比自驾车灵活方便      D. 方便快捷，绿色环保
15. 定制公交线路适宜设置在
- A. 车站与居民区之间      B. 车站与旅游景点之间
- C. 居民区与工厂之间      D. 地铁出入口之间
16. 如图，能正确示意我国大多数城市定制公交客流量的曲线是



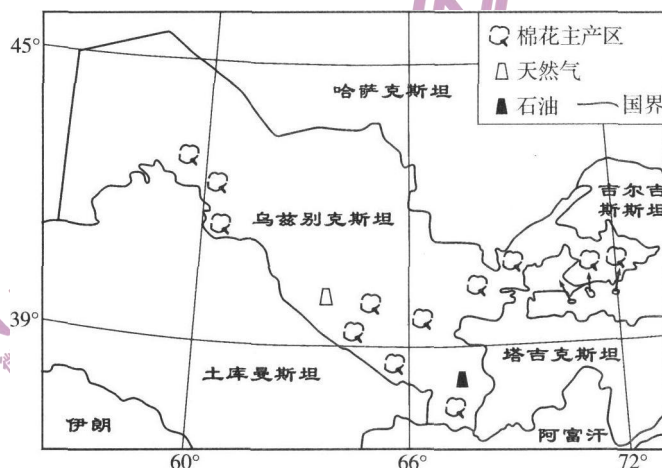
- A. A      B. B      C. C      D. D

## 第Ⅱ卷（非选择题 共52分）

二、非选择题：本题共3小题，共52分。

17. 阅读图文资料，完成下列要求。（18分）

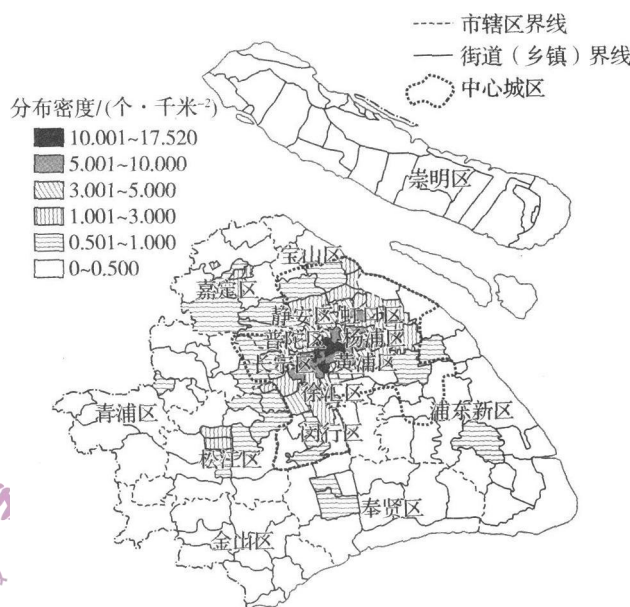
乌兹别克斯坦纺织服装业以纺纱工业为主体，受地缘交通制约，产品出口时间成本和运输成本较高。2019年，该国制定政策，强调加大对纺织服装业的投资，凸显纺织服装业在经济改革中的重要地位。如图示意乌兹别克斯坦地理位置。



- (1) 简述该国发展纺织工业的资源优势。（6分）
- (2) 分析该国纺织服装业长期以纺纱工业为主的原因。（6分）
- (3) 从市场角度，为该国纺织服装业发展提出合理建议。（6分）

18. 阅读图文资料，完成下列要求。（16分）

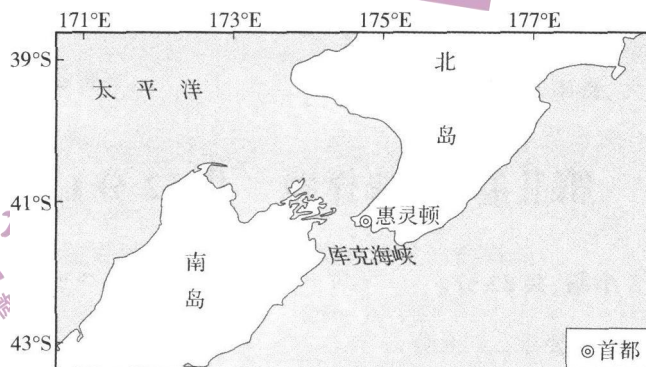
为助力实现“健康中国”国家战略目标，完善健身休闲场所的规划和运营，2016年上海嘉定区的“翔立方”在原上海某煤矿机械厂等老厂房的基础上，改造成健身休闲与商业服务融合发展的体育综合体，探索出“体育+文化+教育+商业”的多元化运营方式。通过对上海商业型健身休闲场所的调查发现，商业型健身休闲场所与住宅小区、写字楼和购物中心在分布上存在较高的空间重叠性。如图示意上海市商业型健身休闲场所的分布情况。



- (1)分析上海商业型健身休闲场所与住宅小区、写字楼和购物中心在分布上存在较高空间重叠性的原因。（10分）
- (2)说明多元化运营方式对提升商业型健身休闲场所市场竞争力的作用。（6分）

19. 阅读图文资料，完成下列要求。（18分）

新西兰国土主要由南北两大岛屿组成，3/4的人口和经济集中在北岛。两岛之间隔着最窄的库克海峡，两岛之间往来非常不便，需乘坐船只或飞机。二十世纪末新西兰学者提出修建库克海峡跨海大桥公路的方案，但此方案时至今日仍处于“停滞”状态。如图为新西兰库克海峡跨海大桥公路方案线路图。



- (1)与两岛之间现在的交通往来方式相比，简述库克跨海大桥公路运输的优越性。（8分）
- (2)时至今日，新西兰库克海峡跨海大桥仍未开工建设，请解释其主要原因。（10分）

## 关于我们

自主选拔在线是致力于提供新高考生涯规划、强基计划、综合评价、三位一体、学科竞赛等政策资讯的升学服务平台。总部坐落于北京，旗下拥有网站（[网址: www.zizzs.com](http://www.zizzs.com)）和微信公众平台等媒体矩阵，用户群体涵盖全国90%以上的重点中学师生及家长，在全国新高考、自主选拔领域首屈一指。

如需第一时间获取相关资讯及备考指南，请关注**自主选拔在线**官方微信号：**zizzsw**。



 微信搜一搜

 自主选拔在线