

湖南师大附中 2023 届模拟试卷(三)

历史

审题人：高三历史备课组

注意事项：


1. 答卷前，考生务必将自己的姓名、准考证号填写在答题卡上。
2. 回答选择题时，选出每小题答案后，用铅笔把答题卡上对应题目的答案标号涂黑。如需改动，用橡皮擦干净后，再选涂其他答案标号。回答非选择题时，将答案写在答题卡上。写在本试卷上无效。
3. 考试结束后，将本试题卷和答题卡一并交回。

一、选择题(本题共 16 小题，每小题 3 分，共 48 分。在每小题给出的四个选项中，只有一项是符合题目要求的)

1. 传说是研究历史的重要依据。下列选项中，对传说的解读合理的是

	传说	历史信息解读
A	黄帝的史官仓颉根据鸟兽足迹创造了文字	成熟的汉字由此产生
B	黄帝和炎帝结成同盟，被尊为华夏始祖	中国早期国家形成
C	禹会诸侯于会稽(可能是今天的浙江绍兴)	夏朝疆域扩展至长江以南
D	启征讨反对势力时称自己“共(恭)行天之罚”	王权统治借助于神权

2. 下图是长沙马王堆汉墓出土的养生体育运动导引图，该图反映了



- A. 医疗体操的开端 B. 医学的突飞猛进 C. 珍爱生命的精神 D. 生活的美好富足
3. 西魏权臣宇文泰实行“赐复胡姓”政策，规定士卒须以主将的鲜卑姓作为姓氏。对于非鲜卑族主将赐予鲜卑姓，如杨坚的父亲杨忠，被赐姓普六茹氏；李渊的祖父李虎，被赐姓大野氏。这一举措

- A. 有效强化了中央集权 B. 激化民族矛盾
C. 导致了世家大族兴起 D. 促进民族交融

4. 下表为学者统计的有关唐代敦煌地区不同时期家庭结构情况。这可说明

时 期	类型 比例(%)	核心家庭	主干家庭	联合家庭	其他家庭	总计
		(2~3 人)	(6~8 人)	(10 人以上)		
710—769 年	户数(户)	47	13	9	14	83
	百分比	56.6	15.7	10.4	17.3	100
820—876 年	户数(户)	3	6	12	2	23
	百分比	13	26	51.2	9.8	100

- A. 战争导致了个体小农经济衰退 B. 税制变化推动了家庭结构的变迁
C. 农本观念在中原地区影响深远 D. 精耕细作农业生产模式不断完善
5. 中国古代某王朝因实行“汉法”而进入中原王朝序列，并把中国古代疆域的直辖范围由以黄河、长江中下游为中心的东部亚洲—河西走廊—安西四镇—西域的“棒槌形”扩展为“母鸡形”，这在统一多民族国家发展历史上具有划时代意义。该王朝
- A. 设西域都护府开始管辖西域 B. 结束了十六国时期的割据局面

C.使得现代中国版图基本定型 D.设宣政院统辖吐蕃与佛教事务

6.据统计,咸丰十年(1860年)以后,太平军治下江南乡村的民变共计70起,其中由士阶层和边缘层(无功名之儒生文人)作为事件主要领导者的比重最高,占民变总数的24.29%,远远高于游民层(8.57%)、农民(8.57%)、商贩(2.86%)等阶层领导的民变。对此合理的解释是

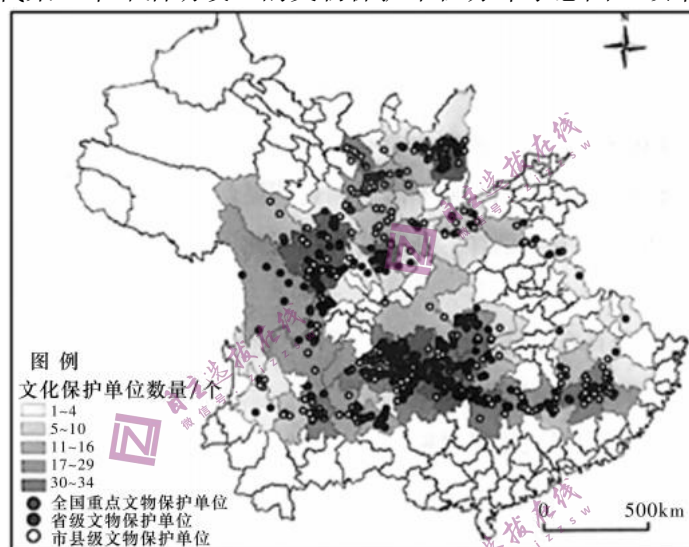
A.士阶层是推动社会进步的重要力量 B.太平天国冲击了传统社会秩序

C.太平天国运动缺乏广泛的群众基础 D.江南地区民众受到新思想影响

7.甲午战后,严复将“尚力”放置在与天争胜的高度,“力”成为“天演”孕化万物的起因。1915年,陈独秀认为“抵抗力”是“尚力”的表现形式,“万物之生存进化与否,悉以抵抗力之有无强弱为标准。”上述观点的目的都是

A.寻求救国途径 B.宣传进化理论 C.批判传统文化 D.营造维新氛围

8.下图为纪念近代某一革命活动设立的文物保护单位分布示意图。该革命活动



A.基本推翻了北洋军阀的反动统治 B.开辟了中国革命的新道路

C.基本摧毁国民党的主要军事力量 D.实现了红军的战略大转移

9.1963年,毛泽东提出发展“两个中间地带”,即“一部分是指亚洲、非洲和拉丁美洲的广大经济落后的国家,一部分是指以欧洲为代表的帝国主义国家和发达的资本主义国家”。毛泽东提出这一外交政策的背景是

A.中法关系实现了正常化 B.美苏争霸态势趋于缓和

C.社会主义阵营发生变化 D.中国外交取得重大突破

10.下表为《现代汉语词典》不同版本收录的经济部分新词汇,其折射了我国新时期

年代及版次	收录的经济部分新词汇
1978年第1版	个体经济、集体经济、小农经济、小商品经济、计划经济、商品经济
1996年第3版	市场经济、国有企业、民营企业、私营企业
2012年第6版	非公有制经济、三资企业、乡镇企业

A.计划经济体制的不断健全 B.改革思想的不断解放

C.城乡生产关系的根本变革 D.国企改革的逐渐深入

11.古希腊城邦国家一直推行保护中小地主的政策,禁止占有超过规定最高限额的土地,禁止对一定数额的份地进行抵押和接受抵押。这一土地政策有利于

A.城邦的稳定 B.城邦的独立 C.经济的发展 D.公民的平等

12.有观点认为,中世纪晚期西欧领地国家向税收国家转变的过程中,君主税权不断扩张而地方领主征税权逐渐衰落,围绕税收的政治实体和行政机构得以发展并表现为专门化的趋向,为近代国家形成奠定了制度基础。据此可知

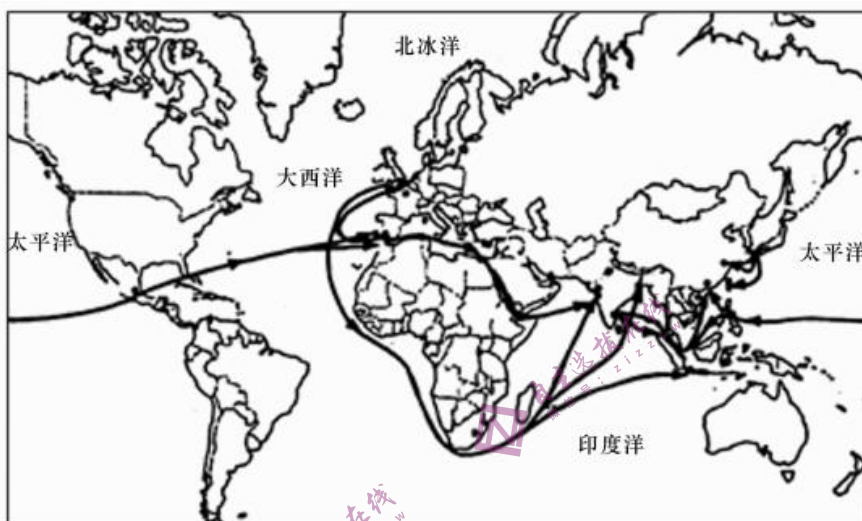
A.税权的转移强化了中央集权 B.君权强化促进近代国家形成

C.农奴和自由农民向领主缴税 D.税收专门化瓦解了庄园经济

13.在英国，高顶礼帽最初曾是显示上流社会身份的重要标志。19世纪20年代，高顶礼帽开始向民间传播，到了19世纪中叶，它已普及至所有的社会阶层。在1861年拍摄的照片中，10个英国人中有7人戴着高顶礼帽。这一变化主要基于

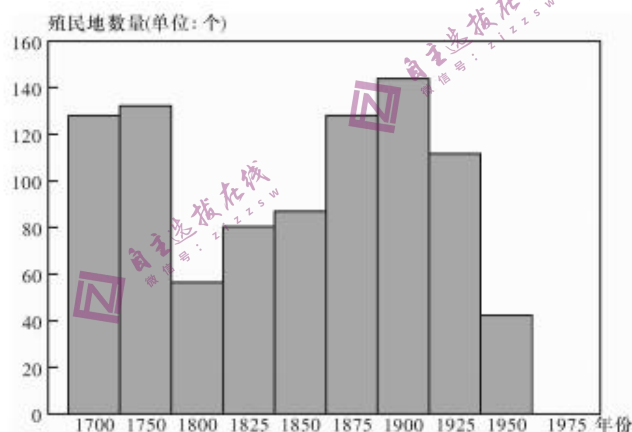
- A.工业革命的进行 B.启蒙思想的传播
- C.阶级关系的模糊 D.世界文化的交流

14.下图反映了经济全球化早期的世界形势。该图最适合的主题是



- A.海上丝绸之路的繁荣 B.大西洋三角贸易的兴衰
- C.世界白银的流通走势 D.巴拿马运河开通的意义

15.下图为殖民扩张和收缩的周期示意图(1700—1975年)。其中两个殖民收缩期出现的相同原因是



- A.经济危机引发政治危机 B.国际格局的重新建构
- C.殖民帝国逐步走向衰落 D.战争削弱宗主国力量

16.有学者论及美国文化时说：“在一个乐团中，每一种乐器都有它基于不同质料和形式的特定的音色和音调；每一种乐器在整个交响乐中都有它适当的主题与旋律。在社会中，每一族群都是一种天然的乐器，它的精神和文化就是它的主题和旋律，它们的谐音、非谐音和不协调和弦造就了文明的交响乐。”这一观点

- A.意在强调欧洲文化是美国社会主流文化
- B.主张融合世界各种不同文化为美国文化
- C.忽视了美国移民文化的多元性和差异性
- D.体现了尊重族群文化差异的文化多元观

二、非选择题(本题共4小题，共52分。第17题14分，第18题14分，第19题12

分, 第 20 题 12 分)

17.(14 分)阅读材料, 完成下列要求。

材料



唐朝前期疆域和民族分布图 (669年)



清朝疆域图 (1820年)



新中国民族区域自治示意图

- (1)根据材料并结合所学知识, 指出唐朝与清朝时期民族关系发展中的异同。(8 分)
- (2)根据材料并结合所学知识, 阐述新中国民族区域自治制度形成的历史渊源。(6 分)

18.(14分)我国于1948年开始发行人民币,第二套人民币于1955年开始发行。阅读材料,完成下列要求。

材料一 人民币设计者们的口述

罗工柳:那还是新中国刚刚成立不久,党中央考虑到第一套人民币大多是在解放区印制的,带有“战时货币色彩”,规格、质地不统一,票种较多,不能适应经济建设的需要,提出要设计一套高水平的货币。

周令钊:为了使新钞票彻底摒弃带有殖民色彩的图案装饰,我们与北京印钞厂的设计、雕刻人员到故宫、颐和园、云冈石窟去临摹古建筑、石雕、石刻、铜器以及长廊里的彩画中的花纹和图案……2元券背面景框源自故宫的窗棂,3元券背面的边框取自敦煌壁画中飞天的飘带。

——根据《人民币的设计你知道多少?》等资料整理

材料二 第二套人民币图案简表

正面	背面
主币: 1元:天安门;2元:延安宝塔山;3元:井冈山; 5元:各民族大团结;10元:工农像 辅币: 1角:拖拉机;2角:火车;5角:水电站 1分:汽车;2分:飞机;5分:轮船	都印有中华人民共和国国徽和汉、蒙、维、藏四种文字

(1)根据材料并结合所学知识,简述第一套和第二套人民币发行的背景及其意义。(8分)

(2)根据材料并结合所学知识,围绕“货币与时代”展开论述。(要求:史论结合,表述清晰)(6分)

19.(12分)阅读材料,完成下列要求。

材料一 秦汉时期对文书传发、保管的各个环节都有严密的法令规定。官署都有专门吏员收发登录文书,并按法令规定对文书建立副本存档、待查,像“兰台令第卅三”就是收发簿上的编号。秦之“书府”、汉之“石渠阁”都是重要的档案馆。这些档案传承着历朝的典章制度和政治经验,《论衡·别通》记载:“萧何(西汉丞相)入秦,收拾文书。汉所以能制九州者,文书之力也。”

古罗马时期,罗马法规定只有具有法人地位的个人和机构才有权力建立档案馆。当时由专门的司书和档案员负责整理保管,对档案分类登记、编订册号、张号和目录。很多档案被收录进入城市法典之中,官员经常利用档案审理案件,或者利用国家收支账目档案处理财政问题。档案工作者被誉为“城市的卫士”。

——摘编自吴宗国《中国古代官僚政治制度研究》及《中国大百科全书》等

材料二 《北京条约》签订之后,咸丰帝仍拒绝英法公使向其进递国书(国家间往来或共同议定的文书;在近代也指一国派遣或召回大使、公使时,由国家元首署名的递交给所驻国元首的文书),其谕旨曰:“此次夷务步步不得手,至令夷酋面见朕弟,已属不成事体。若复任其肆行无忌,我大清尚有人耶!”

1901年,《辛丑条约》的附件十九中规定:外国使臣递交国书时,清帝须派高于王公规格的轿子往来使馆迎送,同时派军队保护;清帝款宴各国使臣应在皇宫大殿内举行。1902年,光绪皇帝按规定程序接受了各国使节递交的国书。

材料三 美国总统发表国情咨文的传统可追溯到1790年。那一年华盛顿按宪法要求发表了当时被称作“年度咨文”的报告。宪法第二条第三节规定,总统“应不时向国会报告国情,并将他认为必要和适宜的议案提交国会审议”。华盛顿及其继任约翰·亚当斯是按照独立前在英国国王统治时期的方式,通过盛大隆重的礼仪亲自发表国情咨文演说。但是,第三任总统杰斐逊感到这种过分的排场与新生的民主共和国极不相称。他讥讽地称这种做法为“御座上的演说”,并以呈送书面咨文的形式取代亲自演说。

——《美国总统发表国情咨文的历史由来》

- (1)根据材料一，概括秦汉与古罗马在文书档案管理上的差异。(4分)
- (2)根据材料二，指出清王朝外交出现的变化。(4分)
- (3)根据材料三并结合所学知识，简要说明美国国情咨文制度的发展如何体现了民主精神。(4分)

20.(12分)阅读材料，完成下列要求。

材料 某西方学者指出，“民主”“资本主义”“法治”和“公民社会”犹如四个长条黑匣子，是构建西方文明所需的四大支柱。在这些代表政治、经济、法律、社会的黑匣子内部，有着高度复杂且互相关联的制度在发挥着作用。正是因为这些制度优势，使得公元1500年后西方社会在世界上独领风骚。然而，1900年后这些制度的衰退令人扼腕，使西方世界像明清时期的中国那样，正在走向沉沦。有人据此绘制近代以来西方文明结构图(见下图)。



—摘编自[英]尼尔·弗格森《西方的衰落》

结合图示并运用世界历史，对该学者的观点进行探讨。(说明：围绕一个观点进行肯定、否定或提出修改意见，并阐述理由。要求：观点明确，史论结合，逻辑严谨)