

宜宾市普通高中 2020 级第二次诊断性测试

文科综合能力测试

本试卷共 14 页, 47 题, 全卷满分 300 分。考试时间 150 分钟。

注意事项:

1. 答题前, 考生务必将自己的姓名、考生号等填写在答题卡和试卷指定位置上。
2. 回答选择题时, 选出每小题答案后, 用 2B 铅笔把答题卡上对应题目的答案标号涂黑。如需改动, 用橡皮擦干净后, 再选涂其他答案标号。回答非选择题时, 将答案写在答题卡上, 写在本试卷上无效。
3. 考试结束后, 请将答题卡交回。

一、选择题: 本题共 35 道小题, 每小题 4 分, 共 140 分。在每小题给出的四个选项中, 只有一项是符合题目要求的。

圩田方式围海造陆是先建设明显高于海平面的防波堤, 把一个地方围起来, 再将防波堤后方的海水排出, 以建造低于海平面的陆地。新加坡地狭人稠, 一直采用填海造陆的方式增加国土面积。近年来, 受沙石来源的限制, 该国计划通过圩田方式围海造陆扩大国土面积。图 1 示意新加坡位置, 据此完成 1~2 题。

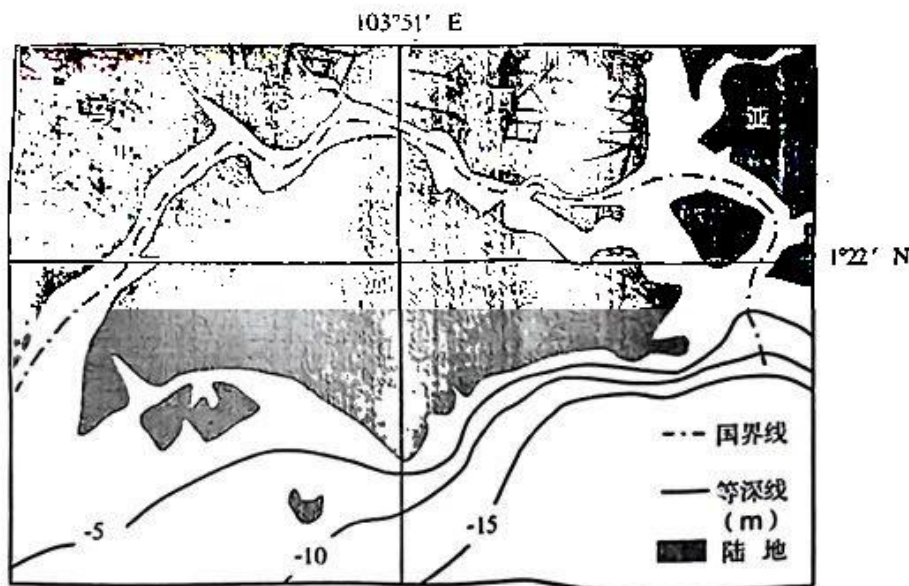


图 1

1. 新加坡“圩田方式”围海造陆可以
 - A. 有效减轻台风危害
 - B. 增加生物的多样性
 - C. 促进排水设施建设
 - D. 增加农业生产用地
2. 据图推测, 新加坡未来围海造陆潜力最大的海域可能位于该国的
 - A. 东北方向
 - B. 西南方向
 - C. 西北方向
 - D. 东南方向

地处云南省西北部高原的碧塔海流域从谷底到山顶依次发育了湖泊、沼泽、沼泽化草甸、草甸、森林和灌草丛等高原景观,且受人为干扰相对较小。研究发现,1955~2005年间该流域的景观发生了明显的演变(表1)。据此完成9~11题。来源:高三答案公众号

表1 碧塔海流域景观类型的面积变化情况

年份	景观类型及面积/hm ²							
	①	②	③	④	公路	沼泽化草甸	湖泊	合计
1955	1511.82	16.94	8.39	180.28	0.00	64.78	162.79	1945.00
1974	1603.70	13.48	8.39	91.86	0.00	64.78	162.79	1945.00
1981	1615.10	11.78	8.39	82.16	0.00	64.78	162.79	1945.00
1994	1637.66	7.01	8.39	64.37	0.00	64.78	162.79	1945.00
2005	1646.61	5.95	8.39	54.56	1.92	64.78	162.79	1945.00

9. 影响该流域 1955~2005 年景观演变的主导因素是
A. 土壤 B. 降水 C. 光照 D. 气温
10. 表中代表森林景观的是
A. ① B. ② C. ③ D. ④
11. 该流域森林景观的演变方向是森林分布
A. 最低海拔和最高海拔都升高
B. 最低海拔和最高海拔都降低
C. 最低海拔升高, 最高海拔降低
D. 最低海拔降低, 最高海拔升高
12. 为更好保障困难群众基本生活, 某市严格落实社会救助和保障标准与物价上涨挂钩联动机制, 向全市失业者、城乡低保等 10 类人群共 30 余万名困难群众发放 2023 年 1 月价格临时补贴。此举意在
① 调节收入分配, 协调不同群体的利益关系
② 增加财政支出, 促进经济健康可持续发展
③ 优化消费结构, 降低消费者的恩格尔系数
④ 促进公平正义, 保障困难群众的基本生活
A. ①② B. ①④ C. ②③ D. ③④
13. PPP 模式即 Public—Private—Partnership 的字母缩写, 是污水处理、垃圾焚烧、医院、学校等公共基础设施的一种项目融资模式, 如图 3 所示。此模式

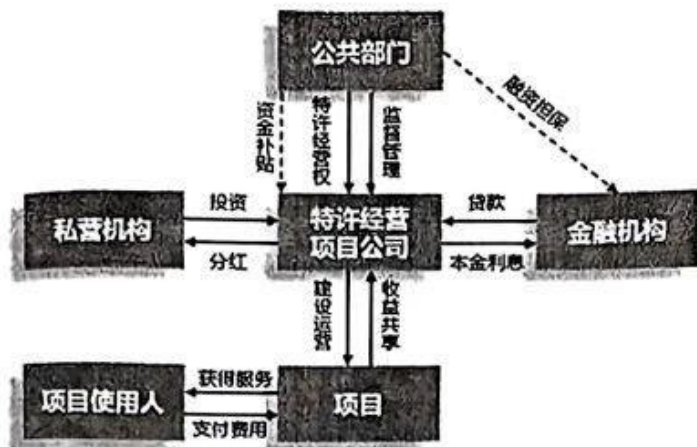
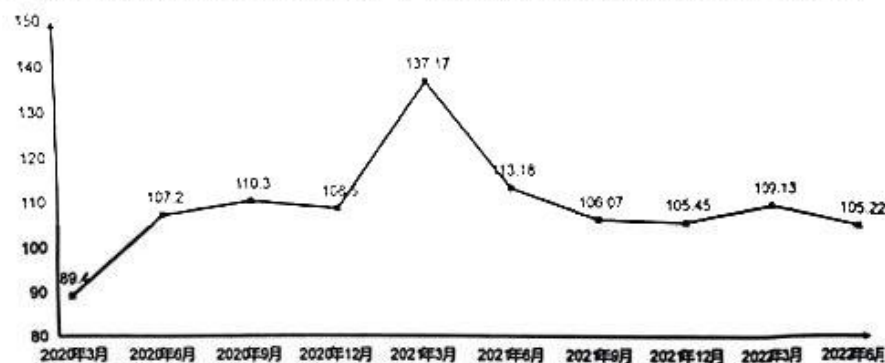


图 3

- ① 通过构建混合所有制探索公有制的有效实现形式
- ② 旨在解决企业融资难问题以支持民营经济的发展
- ③ 可能会因项目投资回收周期长而影响企业的投资
- ④ 有利于整合政府和民间资本以提高公共服务效率

A. ①② B. ①③ C. ②④ D. ③④

14. 税电指数是将企业税收销售发票数据和用电数据结合起来，经过模型测算得出的指标。税电指数大于 100 表明经济活跃，数值越大活跃程度越高，多地已将这一指标作为研判经济运行的“晴雨表”。图 4 反映的是 S 省 2020 年 3 月至 2022 年 6 月税电指数情况。



注：S 省同期科研和技术服务业税电指数均高于全省平均水平。

图 4

据此可以推断出该省

- ① 经济发展面临下行压力
- ② 有较为强劲的创新活力
- ③ 经济总体运行趋势乐观
- ④ 因疫情导致经济负增长

A. ①② B. ①④ C. ②③ D. ③④

15. 2022 年 7 月 25 日，第二届中国国际消费品博览会在海口开幕，它是我国首个以消费精品为主题的国家级展会，与进博会、广交会、服贸会组成国家级四大展会“矩阵”，向全球传递中国扩大开放的鲜明信号，搭建互利共赢合作平台。消博会的举办

- ① 是推动中国和世界经济复苏增长的根本动力
- ② 为我国实行高水平对外开放提供了重要平台
- ③ 旨在共享我国市场机遇，优化全球经济结构

- ④ 有利于更好发挥消费对经济循环的牵引作用
- A. ①② B. ①③ C. ②④ D. ③④
16. 2022年6月,国安部公布《公民举报危害国家安全行为奖励办法》。办法规定,公民可通过拨打12339举报电话、登录举报网站、投递信函等形式举报危害国家安全行为,一经核实,可获得荣誉证书、奖金等奖励。这一规定旨在
- ① 扩大公民监督权以维护其主人翁地位
② 规范危害国家安全行为举报奖励工作
③ 提高公民参与政治生活的能力和水平
④ 动员全社会力量来共同维护国家安全
- A. ①② B. ①③ C. ②④ D. ③④
17. 2022年8月,为推动健全基层减负常态化机制,中共中央办公厅、国务院办公厅印发《关于规范村级组织工作事务、机制牌子和证明事项的意见》提出,压减村级组织出具证明的事项,整合村级组织和工作机制办公场所等。该意见有利于
- ① 形成精简高效的基层工作机制
② 政府树立求真务实的工作态度
③ 帮助工作人员摆脱形式主义的制约
④ 为乡村振兴提供更加坚实的组织保证
- A. ①② B. ①④ C. ②③ D. ③④
18. 2022年9月28日,全国第一家跨省域集中管辖相关金融案件的专门法院成渝金融法院正式揭牌,管辖成渝地区双城经济圈范围内应由中级人民法院管辖的相关金融民商事和涉金融行政案件。成渝金融法院
- ① 是成渝双城经济圈建设共建共享的重大成果
② 与两地中级人民法院是领导与被领导的关系
③ 作为跨省域管辖的专门法院享有金融管辖权
④ 可以确保成渝两地金融案件裁判尺度的统一
- A. ①② B. ①④ C. ②③ D. ③④
19. 2022年10月,一名在国际空间站执行任务的意大利女宇航员在其社交媒体上发布了一组太空摄影作品,并配上了王羲之所著《兰亭集序》中一句描绘宇宙景观的古文——“仰观宇宙之大,俯察品类之盛,所以游目骋怀,足以极视听之娱,信可乐也”,引发了国内外网友热议和点赞。这说明
- ① 优秀的民族文化既是民族的,也是世界的
② 中华优秀传统文化有跨越时空的独特魅力
③ 文化多样性是一个民族生存与发展的根基
④ 传播的广度和深度是衡量文化价值的标准
- A. ①② B. ①③ C. ②④ D. ③④

20. 网络空间是广大人民群众的精神家园,正能量应是其发展的底色。而反观当下,洗脑鸡汤文、虚假信息等让人眼花缭乱。党的十八大以来,党中央高度重视网络意识形态工作,在管网治网上出重拳、亮利剑,打赢网络意识形态领域一系列重大斗争。在管网治网上出重拳、亮利剑是因为 来源:高三答案公众号
- ① 意识形态决定文化前进方向和发展道路
 - ② 意识形态领域许多新问题往往因网而生
 - ③ 互联网日益成为人们获取信息的主要途径
 - ④ 网络文化不能满足人们多样化的精神需求
- A. ①② B. ①④ C. ②③ D. ③④
21. 2023年2月,全新聊天机器人ChatGPT火爆全网,它不仅能根据聊天的上下文进行互动,做到与真正人类几乎无异的聊天场景进行交流,还能进行撰写邮件、视频脚本等任务。这类人工智能技术可能为商业和民生带来巨大的机遇,但同时也伴随着失业、威胁公共安全等风险。这说明
- ① 聊天机器人ChatGPT已经具有了一定的自主意识
 - ② 人工智能替代人类的预言能够通过实践成为现实
 - ③ 人们要科学看待人工智能的两面性并加以合理利用
 - ④ 人工智能技术的发展是人类认识和实践能力的飞跃
- A. ①② B. ①③ C. ②④ D. ③④
22. 2022年10月、12月立法法修正草案接连进入审议程序,此次立法法修改,将加强宪法实施和监督工作,完善立法决策与改革决策相衔接相统一的制度机制,完善备案审查制度,适应监察体制改革补充相关内容,完善地方性法规、规章的有关规定。立法法的修改
- ① 是调整生产关系以适应生产力发展的需要
 - ② 坚持了客观与主观具体的历史的统
 - ③ 反映了经济基础决定上层建筑的客观要求
 - ④ 体现了事物是绝对运动和相对静止的统一
- A. ①② B. ①③ C. ②④ D. ③④
23. 党的二十大报告指出,推动理想信念教育常态化制度化,需持续抓好“五史”教育,引导人民知史爱党、知史爱国。重点要抓好青少年教育群体,引导他们坚定理想信念,培养合格的社会主义建设者和接班人。重点抓好青少年理想信念教育是基于
- ① 意识使青少年在砥砺自我中走向成功
 - ② 实现人生价值需要正确价值观的指引
 - ③ 正确价值判断是正确价值选择的基础
 - ④ 理想信念是推动社会发展的根本动力
- A. ①② B. ①④ C. ②③ D. ③④

24. 考古发现, 东周时期的青铜鼎纹饰(如图5)多呈现社会生活, 且鼎的形制和纹饰图案多用几何造型来规范制作, 而不是靠绘画技巧任意造型。这体现的政治理念最接近 来源: 高三答案公众号



图5 青铜器纹饰

- A. 孔子
B. 老子
C. 韩非子
D. 墨子
25. 东汉末年, 地方州郡官员推荐人才的察举制, 因战乱“人士迁移”、地方个别豪强操纵崩坏。曹魏初期, 由中央委任中正官评议现职官员、候补者、地方士人等级, 作为中央选拔官员依据。这一变化
- A. 提高了官员文化素养
B. 缓和了部分社会矛盾
C. 抑制了豪强士族发展
D. 导致了选官权力下移
26. 南宋洪迈在《夷坚志》中描述, 宋人董国庆因中原陷落“弃官走村落”, 其侍妾尽资财买驴和麦磨粉, “每得面, 自骑驴入城糶之……如是三年, 获利愈多, 有田宅矣”。这可用于说明, 当时中原
- A. 民族矛盾趋于缓和
B. 民众生存环境恶劣
C. 妇女地位显著提高
D. 城市经济功能加强
27. 乾隆后期, 人口相较于清初猛增两倍至近三亿人, 可耕种土地的增长率只有3%左右, 却出现“田之归于富户, 大约十之五六”“一家而有数千百家之产”的现象。这主要表明
- A. 赋役改革卓有成效
B. 土地开垦增长缓慢
C. 国家治理埋藏危机
D. 盛世带来致富机遇
28. 《南京条约》规定, 英国派驻五口通商城市的官员与清朝官方的正式文书来往, “必当平行照会”。此后, 《望厦条约》又规定“中国大臣与合众国大臣公文往来, 应照平行之礼”。这些规定, 旨在
- A. 传播西方近代外交原则
B. 支持“中体西用”主张
C. 改变清朝传统外交礼仪
D. 建立中西平等贸易规则
29. 下表是1895-1913年, 中国境内新增的中资厂矿和外资厂矿的数量和资本情况。

类别	数量(家)	资本	
		10万元以下占比	10万元以上占比
中资厂矿	549	55.3%	44.7%
外资厂矿	136	5.1%	94.9%

——王文泉、刘天路主编, 《中国近代史》

这说明当时

- A. 传统经济结构解体
B. 民族工业外部环境宽松
C. 民族危机空前严重
D. 政府警惕外资企业扩张

30. 二十世纪四十年代初, 邓小平曾撰文指出, 边区民主政权“为我党中央所提出的真实政策, 已取得广大群众的拥护”, 必须“照顾这一阶级, 还要照顾那一阶级, 必须放在争取多数, 反对少数的基础上”。这
- A. 适应了新民主主义革命形势的变化
B. 揭示了人民解放战争胜利的必然性
C. 扩大了农村革命根据地的群众基础
D. 贯彻了《论人民民主专政》的精神
31. 从 1978 年到 1982 年, 全国城镇集体所有制单位就业职工增加 603 万人, 城镇个体劳动者从 15 万人增加到 147 万人; 城镇集体和个体劳动者在城镇劳动者总数中的比重增加到 24. 5%。这一变化主要是由于
- A. 社会大众择业观念的整体改变
B. 城市经济体制改革的全面展开
C. 国民经济结构调整的基本完成
D. 农村经济体制改革的不断深化
32. 罗马法规定, 凡公民行为卑劣、从事卑贱职业(手工业者、斗兽员等)的人即为有污名者, 将失去为他人作证和他人之为作证的资格、对未成年人及精神病人的财产管理和人身保护资格等部分权利。可见, 罗马法
- A. 随帝国疆域扩大有所调整
B. 规范个人道德修养至上
C. 重视公平公正行使公民权
D. 理性与感性法治观交织
33. 加尔文在宣扬世俗成功的同时, 坚持基督徒的禁欲主义生活。他要求信徒在取得财富时, 不要用于挥霍和无度享乐, 而是要用财富去实现财富的增殖。据此可知, 加尔文教
- A. 适应了资本扩张需要
B. 彰显了人文精神本质
C. 增强了教会经济实力
D. 颠覆了天主教价值观
34. 18 世纪英国经济学家亚当斯密认为, 一个国家最好的政策是自由主义, 对私人经济活动不加以干预。进入 19 世纪中后期, 随着经济危机的频繁出现, 许多人对其主张由信奉到怀疑。导致这一转变的主要因素是
- A. 西方重商主义的复兴
B. 欧美工人运动的兴起
C. 工业革命的深入发展
D. 英国综合国力的衰落
35. 1952 年, 在美国国务院支持下, 富兰克林图书项目在纽约成立, 主要负责中东地区美国图书的翻译、出版与发行。图书类别选择, 由美国新闻署主导, 出版物须反映美国生活的“平等主义”“家庭稳定”“理想主义”等。这反映出, 当时美国
- A. 对外交往渗透冷战思维
B. 控制西亚油气以应对“滞胀”
C. 与苏联竞争的重心转向
D. 竭力策动“北约”组织东扩

二、非选择题：本题共 12 道小题，共 160 分。按照要求作答。

(一) 必考题：共 135 分。

36. 阅读图文材料，完成下列要求。(22 分)

香菇原产于我国浙江省山区，好暖喜湿，空气湿度在 80~90% 时有利于出菇，生长期要求光照前期弱、后期强。原木“砍花法”是传统的香菇种植方式，将树木伐倒后在树皮上剝上斧痕，空气中的天然香菇孢子便在斧痕上萌发，长出香菇。我国某生物科技公司在美国新泽西州改用木屑袋栽培香菇，将新鲜木屑装袋，灭菌接种，在大棚里发菌出菇。目前，新泽西州蘑菇基地建有 75 个蘑菇温室大棚，配置有专门的蘑菇冷库、包装车间和冷藏集装箱。图 6 示意新泽西州位置，图 7 示意大棚木屑袋装香菇种植景观。来源：高三答案公众号

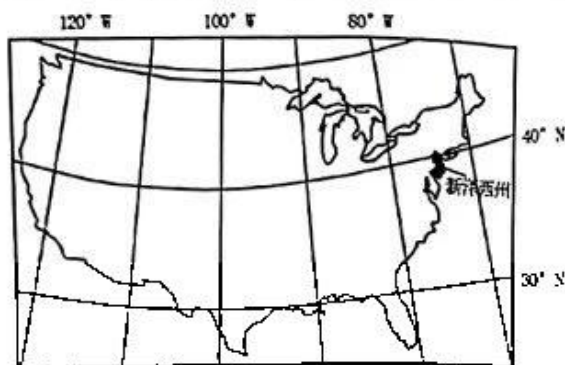


图 6



图 7

- (1) 从气候的角度，分析该公司在新泽西州采用大棚种植香菇的原因。(8 分)
- (2) 与传统原木“砍花法”相比，简述采用木屑袋栽培香菇的优势。(8 分)
- (3) 分析新泽西州蘑菇基地配置专门冷库和冷藏集装箱的原因。(6 分)

37. 阅读图文材料，完成下列要求。(24 分)

渭河源流域位于黄土高原、秦岭山地和青藏高原的交界地带，农田面积大，水土流失严重。1982 年以来，该流域在两个阶段先后采取了修建梯田、植树种草等水土保持措施。研究发现，这些水土保持措施对该流域的径流量和含沙量产生了不同程度的影响。图 8 示意 1982-2017 年渭河源流域降水量、地表径流量和河流含沙量变化。

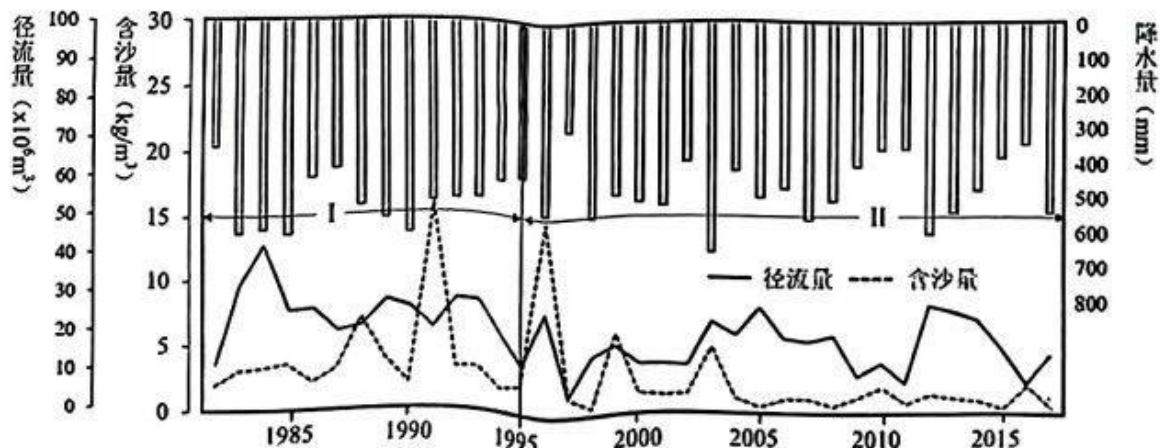


图 8

高 2020 级二诊文科综合能力测试 第 9 页 共 14 页

- (1) 分别简述阶段 I 和阶段 II 该流域含沙量和径流量的变化特征。(8分)
- (2) 分析阶段 I 采取的水土保持措施对地表径流量和河流含沙量的影响。(8分)
- (3) 说明阶段 II 河流含沙量变化的地理过程。(8分)

38. 阅读材料, 完成下列要求。(14分)

我国是家电生产和消费大国, 家电行业已从增量市场转为存量市场, 居民家电消费需求也由新增消费向更新消费转变。近年来, 拥有绿色环保材料、对人体和环境副作用小的绿色家电, 拥有智能设计、个性服务、语音控制、远程操作等属性的智能家电, 备受消费者青睐。绿色智能家电市场快速增长, 但也面临消费观念还需更新、乡镇和农村地区市场延伸较慢等状况。

2022年7月, 商务部等13部门联合发布《关于促进绿色智能家电消费若干措施的通知》提出, 在全国开展家电“以旧换新”和家电下乡, 鼓励有条件的地方予以资金和政策支持; 完善绿色智能家电标准, 推进安装、维修等全链条服务标准化; 推动家电生产企业开展回收目标责任制行动, 依托产品销售维修服务网络, 通过自建或合作共建等方式, 构建废旧家电逆向回收体系; 实施农村电网巩固提升工程, 全面实施千兆光纤网络部署工程, 深入推进5G应用“扬帆行动”计划, 加大用电用水用气用网保障等9条措施。

结合材料和经济生活知识, 说明促进绿色智能家电消费的重要意义。

39. 阅读材料, 完成下列要求。(12分)

行政裁量权基准是行政机关结合本地区本部门行政管理实际, 按照裁量涉及的不同事实和情节, 对法律、法规、规章中的原则性规定或者具有一定弹性的执法权限、裁量幅度等内容进行细化量化, 以特定形式向社会公布并施行的具体执法尺度和标准。

一直以来, 行政处罚“同案不同罚”现象受到社会各界广泛关注。如《中华人民共和国反不正当竞争法》规定, 对虚假宣传的罚款额是1万元以上20万元以下。从1万到20万的罚款弹性, 是现行法律赋予执法人员的行政裁量权, 也是导致“同案不同罚”的重要原因。近年来, 各地区各部门不断加强制度建设, 细化量化行政裁量权基准, 但仍存在行政裁量权基准制定主体不明确、制定程序不规范、裁量幅度不合理等问题, 导致行政执法该严不严、该宽不宽、畸轻畸重、类案不同罚等现象时有发生。

2022年8月, 国务院办公厅发布《关于进一步规范行政裁量权基准制定和管理工作的意见》, 首次从国家层面对行政裁量权基准制定职责权限、内容、制定程序、管理等作出全面、系统的规定。

结合材料和政治生活知识, 说明建立健全行政裁量权基准制度的必要性。

40. 阅读材料, 回答下列问题。(26分)

中国式现代化是人口规模巨大、全体人民共同富裕、物质文明和精神文明相协调、人与自然和谐共生、走和平发展道路的现代化。中华优秀传统文化是实现中国式现代化的“根”和“魂”。党的二十大报告中列举的十个重要理念: 天下为公、民为邦本、为政以德、革故鼎新、任人唯贤、天人合一、自强不息、厚德载物、讲信修睦、亲仁善邻, 分别来自《礼记·礼运》《论语·五子之歌》《论语·为政》等传统经典。

中国现代化进程中对传统文化的过程经历了“否定—改造—吸收外来文化精华—传承创新”的转变。近代以来, 在农业文明与工业文明、东方文明与西方文明的冲突下, 数千年的中国传统文化被认为是现代化的严重障碍; 新民主主义革命时期受五四新文化精神的影响, 对中国传统文化的否定和排斥居于主导地位; 伴随改革开放的进程, 对传统文化的态度发生转变, 认为要坚持有鉴别的对待、有扬弃的继承, 而不能搞厚古薄今、以古非今, 努力实现传统文化的创造性转化、创新性发展, 使之与现代化相融相通、协力共进。

(1) 中国式现代化要和中华优秀传统文化相结合。运用文化作用的知识予以说明。(10分)

(2) 有人认为: 只要传承中华优秀传统文化就能推动中国式现代化。结合材料, 运用认识论知识对这一观点进行评析。(12分)

(3) 当前, 中国步入了新时代, 中华文化的国际影响力与日俱增, 但总体来看, 人们正确对待中华优秀传统文化仍面临一些问题, 请你指出存在的一个现实问题并提出解决方案。(4分)

41. 阅读材料, 回答问题。(25分)

材料一

明初, 出于倭寇侵扰、流亡海外敌对势力威胁, 以及海防建设不完善等因素, 虽实施海禁但不完全禁止国人正常的海上生产活动, 为维护沿海秩序和社会安宁, 还组建海军近海巡航, 保护海上经贸活动正常开展。明中后期, 平息海寇后, 允许中国商民出洋, 又在澳门开埠, 允许外商入华经营海上贸易。清初, 应对抗清势力实施“禁海”“迁海”政策, 至康熙五十六年(1717年), 虽出于海防的需要颁布“南洋禁海令”, 但没有限制东洋和西洋贸易。清政府虽宣布限定广州一口通商, 但事实上闽海关、浙海关和江海关并未禁止外商, 华人也可出海贸易。

——据中国历史研究院课题组《明清时期“闭关锁国”问题新探》等

材料二

鸦片战争后, 伴随不平等条约的签订, 大量通商口岸开放, 外国商品涌入中国, 遭到中国自然经济的抵抗, 一度出现了贸易量下滑的局面。从19世纪80年代起, 中国与西方国家的重工业特别是军事工业产品的贸易额迅速增加。甲午战争后民用机器设备大量涌入中国, 并深入内地。

——摘编自李新主编《中华民国史》等

材料三

新中国成立之初，国家层面对外贸易主要是以苏联为代表的社会主义国家，但也不排斥与西方国家之间的民间贸易；1972年后，中国与西方国家之间的贸易额迅速增加，尤其是工业机器设备；1979年，伴随国际局势的变化，美国将包括大部分武器装备技术在内的尖端科技对中国开放，这种局面持续到1991年前后；其后，西方再次对华实施高技术特别是军事技术禁运。2001年中国加入WTO，通过国际深度合作以升级产业结构；2009年后中国逐渐成为智能科技、通讯技术、先进军事装备的出口国。

——摘编自杨先材《中华人民共和国史》等

- (1) 根据材料一并结合所学知识，简析从明初到清初的对外贸易政策。(8分)
- (2) 根据材料二、三并结合所学知识，概述新中国与晚清相比对外贸易的特点及意义。(12分)
- (3) 根据材料并结合所学知识，概括影响中国对外贸易的主要因素。(5分)

42. 阅读材料，完成下列要求。(12分)

材料

关于近代中国的“现代化”，学术界曾有过多种讨论，有学者认为是资本主义化，因为中国“现代化”过程是向资本主义学习；有学者认为是“乡村”现代化，因为中国“现代化”过程畸形、后发、时断时续、缺乏动力；有学者认为是被耽误的现代化，因为中国“现代化”过程与中国走向衰落、半殖民地、各种革命运动重叠……

——摘编自张海鹏《近代中国历史》

上述材料是学者对近代中国“现代化”的讨论。据此，结合所学知识，就中国近代的“现代化”过程提出观点，并进行简要阐释。(要求：提出一个观点，且不得与材料中的观点重复，史论结合，逻辑清晰。)

(二) 选考题：共25分。请考生从2道地理题、3道历史题中各任选一题作答。如果多做，则按所做的第一题计分。

43. [地理—选修3：旅游地理] (10分)

后疫情时代，人们关注身心健康的意识越来越强，许多景区抓住机遇，把旅游同养生、医疗、养老等要素进行融合。坐落在德国著名的黑森林西北部的巴登巴登小镇，有潺潺的奥斯河流过起伏的群山，山谷中的古城堡与现代温泉浴池、别墅同时跃进人们的视野，还拥有现代化水平的医疗机构和养老机构。同时，该镇针对不同年龄群体设置了特色休闲旅游项目。因此，巴登巴登小镇被誉为“康养天堂”，吸引了来自世界各地的游客。

从客源市场角度，分析巴登巴登小镇发展康养旅游的优势条件。

44. [地理—选修6: 环境保护] (10分)

“以火灭火”方式是利用热力环流原理,由人工点燃火头(火线)与相向烧来的林火对接,在结合部烧出隔离带,以达到灭火的目的。2022年8月21日重庆市缙云山发生森林大火,火势凶猛、过火面积大,在传统灭火方式效果不佳的情况下,8月25日山火救援队抓住适当时机,采用“以火灭火”方式在恰当位置点火,使明火得到有效封控。

与传统灭火方式相比,说明“以火灭火”方式的优势和风险。

45. [历史—选修1: 历史上重大改革回眸] (15分)

材料

伴随八世纪中期的危机,唐朝中央政府做出相应回应。首先,在形式上保留三省的同时,对中书门下的构成进行调整,三省长官如不加“同中书门下平章事”等头衔,不再是实际宰相。门下省与中书省的合作机制、尚书省与六部的执行功能被削弱,取代他们的是中书门下与五房的决策执行结合体。其次,加大中央军的规模和质量,建立以“神策军”为代表的新禁军体系,禁军由宦官统领。同时,大量的临时职官差遣出现,如“捕蝗使”“黜陟使”等,事罢复命于中央。经过系列改革,藩镇基本被压制,唐朝一度出现了中兴。

——摘编自孙国栋《唐宋史论丛》等

- (1) 根据材料并结合所学知识,概括唐中央政府作出“相应回应”的背景及举措。(9分)
- (2) 根据材料并结合所学知识,说明唐中央政府作出“相应回应”的历史影响。(6分)

46. [历史—选修3: 20世纪的战争与和平] (15分)

材料

1933年,希特勒的反苏政策导致苏德关系恶化,迫使苏联调整与法国为代表的西方国家的关系,特别是德国退出裁军大会和国际联盟后,苏法关系密切起来。1933年末苏联提出构建欧洲集体安全体系的计划,主张苏、法、英、东欧紧密合作,建立包围和遏制德国的多国互助联盟。由于英、法的不作为和波兰的反对,最终没有成功。日后,苏联同英、法的分歧日渐增大,苏联采取了传统的民族利己主义。1939年8月23日,在德国入侵波兰的前夕,斯大林和德国签订了《苏德互不侵犯条约》。1941年4月13日,又与日本签订在战争中相互保证中立的条约,致使中国主权严重损害,中国抗战转入艰难时期。

摘编自吴于廑主编《世界史·现代史编》等

- (1) 根据材料并结合所学知识,分析苏联、英法、波兰对建立集体安全体系不同态度的原因。(6分)
- (2) 根据材料并结合所学知识,简述欧洲集体安全体系建立失败对世界局势的影响。(9分)

47. [历史——选修4: 中外历史人物评说] (15分)

材料

辽太宗耶律德光(902—947), 继位后统一契丹, 多次侵扰汉地。曾助后晋石敬瑭灭亡后唐, 后晋割让燕云十六州作为回报。改皇都为上京, 并沿用太祖以来的一年四季巡幸于“捺钵”(契丹语, 行帐, 实际是政权的中心)的制度, “捺钵”作为管理庞大国家的政令中枢。改革官制, “官分南北, 以国制治契丹, 以汉制待汉人。……北面治官帐、部族, 属国之政; 南面治汉人州县、租赋、军马之事”。与后晋矛盾激化后, 946年攻陷汴京灭亡后晋, 以中原皇帝的仪仗礼进入汴京, 建国号为大辽, 年号大同, “备典章, 至于厘庶政, 闻名实, 录囚徒, 教耕织”。

——摘编自脱脱等编《辽史》等

- (1) 根据材料并结合所学知识, 概括辽太宗治国理政的措施。(8分)
- (2) 根据材料并结合所学知识, 简析辽太宗对中国历史发展的贡献。(7分)

关于我们

自主招生在线是致力于提供新高考生涯规划、强基计划、综合评价、三位一体、学科竞赛等政策资讯的升学服务平台。总部坐落于北京, 旗下拥有网站(网址: www.zizzs.com)和微信公众平台等媒体矩阵, 用户群体涵盖全国90%以上的重点中学师生及家长, 在全国新高考、自主招生领域首屈一指。

如需第一时间获取相关资讯及备考指南, 请关注**自主招生在线**官方微信号: **zizzsw**。

