

江西省 东乡一中 都昌一中 丰城中学 赣州中学
景德镇二中 上饶中学 上栗中学 新建二中 新八校

2023 届高三第二次联考文科综合试题

政治 命题人：上饶中学 何森树³⁴ 审题人：胡礼坚³⁵

历史 命题人：都昌一中 邓晓其³⁶ 审题人：石仁³⁷

地理 命题人：赣州中学 曾庆阳 审题人：徐剑辉

考试时间：150 分钟 满分：300 分

第 I 卷（选择题 共 140 分）

一、选择题：本题共35小题，每小题4分，共140分。在每小题给出的四个选项中，只有一项是符合题目要求的。

2020 年，我国某银行首先在厦门与咖啡专业团队合作，在银行营业厅中开辟一片区域经营咖啡及银行周边产品，店面装饰与银行原有风格统一，形成银行+咖啡的经营模式，此后将该模式逐步向全国其他城市推广。据此完成 1~3 题。

1. 银行跨界经营咖啡模式最适宜推广到其他城市银行的（ ）
A. 住宅区网点 B. 写字楼网点 C. 大学校园网点 D. 行政办公区网点
2. 银行跨界经营咖啡的主要目的是（ ）
①增加客源 ②提供休闲场所 ③调整主营业务 ④多元化升级
A. ①② B. ②③ C. ①④ D. ③④
3. 银行与咖啡专业团队合作模式最主要的优势是（ ）
A. 保障品质 B. 增加货源 C. 产品价格低 D. 增加知名度

2022 年 5 月，全球首艘 10 万吨级智慧渔业养殖工船“国信 1 号”在青岛交付运营，标志着我国深远海养殖实现了跨越式发展。“国信 1 号”通过首创的“船载舱养”模式根据水温变化常年游弋在黄海千里岩、东海舟山群岛、台山列岛和南海南澎岛间，利用优质海水不间断的换水，开展大黄鱼等高品质鱼种养殖。图 1 为“国信 1 号”游弋路线示意图，据此完成 4~5 题。

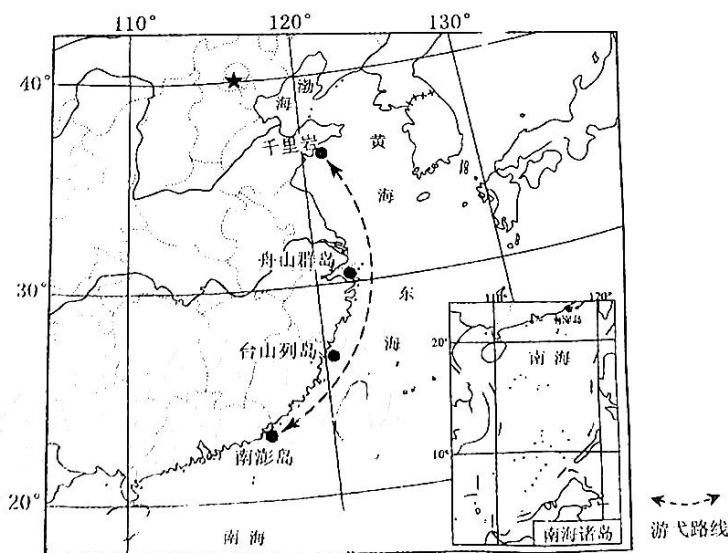


图 1

4. 推测“国信1号”游轮于千里岩附近的时间为 () 10. A
 A. 春季 B. 夏季 C. 秋 D. 冬季 A
 5. 与近海网箱养殖相比, 智慧渔业养殖工船 () C
 A. 养殖种类多 B. 自然灾害影响大 C. 养殖品质好 D. 运输销售难度大 C
 雨淞是在低于冰点(水由液态变为固态的温度)的情况下, 雨落在地表物体上形成的冰层。 11.
 图2为1983-2015年湖南年平均雨淞频次空间分布图。据此完成6-8题。 A

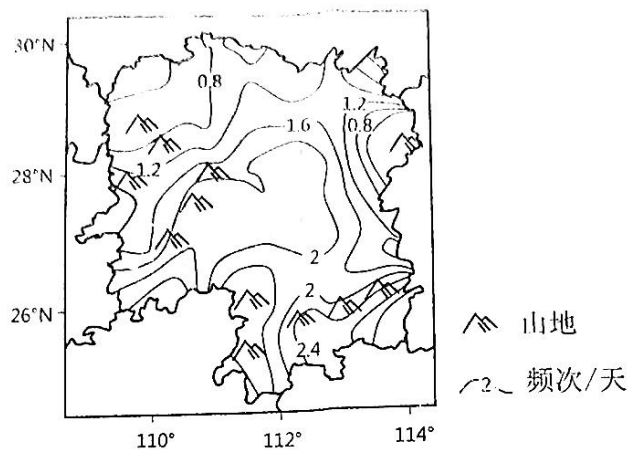


图2

6. 推测湖南雨淞多发时间为 () 12. A
 A. 1月 B. 3月 C. 6月 D. 10月 A
 7. 湖南雨淞发生频次南部多于北部主要是由于 () C
 A. 南部风力大 B. 北部冷空气强 C. 南部地势高 D. 北部湿度大 C
 8. 湖南雨淞发生频次最高区域形成的原因是 () A
 A. 纬度较低 B. 森林面积广 C. 冷空气堆积 D. 地处迎风坡 A

某科研小组在青海湖北部某一个小集水区域进行土壤有机碳含量的样带调查。调查发现土壤中的有机碳含量主要来自生物, 同时与土壤含水量密切相关。该地为季节性冻土区, 不同坡向地表径流量有差别, 甲样带以高寒灌丛为主, 乙样带以高寒草甸为主。图3示意该集水区及样带设置。据此完成9~11题。

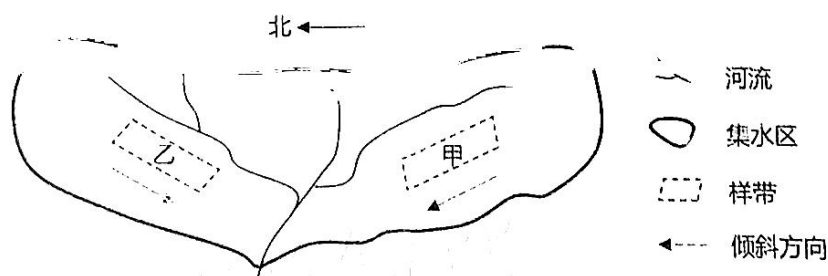
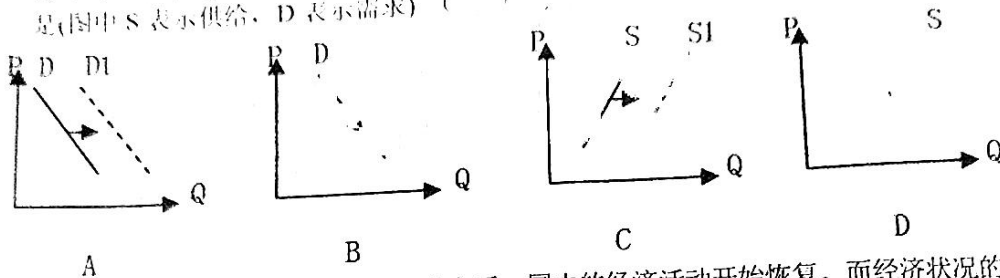


图3

9. 乙样带区土壤有机碳含量小于甲样带区, 表明乙样带区 ()
 A. 土壤含水量大, 生物量大 B. 土壤含水量小, 生物量小
 C. 土壤含水量小, 生物量大 D. 土壤含水量大, 生物量小

10. 甲样带区，坡下相比于坡上土壤有机碳含量更高，主要因为
 A. 坡下温度更高
 B. 坡下植被更多
 C. 风力搬运作用
 D. 流水搬运作用
11. 研究表明，甲样带土壤有机碳含量垂直下降幅度较乙样带小，主要由于甲样带（ ）
 ①地表径流占比小 ②雨水截留作用更强 ③山地坡度更陡 ④土壤密度更大
 A. ①②
 B. ②③④
 C. ①④
 D. ①③④

12. 2023年2月16日，某市人民政府办公室发布《关于优化房地产调控政策的通知》，将商品住房（含新建商品住房和二手住房）限售年限由原“取得不动产权证书3年方可转让”调整为“取得不动产权证书满1年方可转让”。不考虑其他因素，下列选项体现该政府优化调控的直接目的是（图中S表示供给，D表示需求）（ ）



13. 随着疫情影响基本消退，2023年春节之后，国内的经济活动开始恢复。而经济状况的恢复形势，与今年货币政策的走向和节奏息息相关。以2023年开年PMI数据和春节出行情况看，第一波疫情感染高峰后，国内线下活动“重启”势头尚可。根据上述材料，以下推断合理的是（ ）
 ①短期内央行降准、降息的必要性趋弱
 ②政府继续实行积极货币政策，稳预期
 ③我国经济发展进入一个全新发展阶段
 ④我国居民的消费意愿可能会较快恢复
 A. ①②
 B. ①④
 C. ②③
 D. ③④

14. 习近平总书记一直关心和支持民营经济健康发展，多次作出重要论述，强调民营经济只能壮大、不能弱化。这意味着（ ）
 ①将打破民营经济在所有制结构中重要组成部分地位
 ②发展民营经济是繁荣社会主义市场经济的内在要求
 ③需要积极深化民营经济供给侧结构性改革的必要性
 ④继续巩固和发展民营经济，发挥民营经济主导作用
 A. ①②
 B. ①④
 C. ②③
 D. ③④

15. 根据我国政府与有关国家政府的换文规定，自2023年3月1日起，对原产于埃塞俄比亚联邦民主共和国、布隆迪共和国、尼日尔共和国等3个最不发达国家的98%税目产品实施零关税。这有利于（ ）
 ①实现国际间在经济全球化浪潮中的平衡性
 ②降低交易成本，分享我国改革开放红利
 ③促进多边贸易合作，构建人类命运共同体
 ④为我国企业进军世界市场创造稳定环境
 A. ①②
 B. ①③
 C. ②④
 D. ③④

16. 日前，位于宿州市埇桥区辖区观音堂街的富宁宾馆因停业导致院内成了垃圾堆放地，散发异味、滋生蚊虫，严重影响周边居民生活。接到诉求两天后，由社区党委委员、居委会委员、居民代表、物业代表等共同参与的“富宁宾馆院内垃圾堆放问题”民主协商议事会迅速召开。经过协商，由社区协调网格中心工作人员进行清理整治。会议结束两天后，富宁宾馆院内的垃圾清理完毕，居民们纷纷点赞。这说明（ ）


- ①加强民主监督，助力提升社区工作效率
③坚持求真务实，保障基层群众民主权利
- A. ①② B. ①③
17. 3月2日上午，北京市某区召开领导干部大会，会上宣布了区委书记、副书记人选，并提名副书记为区人民政府区长人选的市委决定。上述材料表明（ ）
- ①区委书记是由人民群众间接选举产生
②区政府领导人员由中共区委任免
③中国共产党是我国最高政治领导力量
④中国共产党党内坚持民主集中制原则
- A. ①② B. ①③ C. ②④ D. ③④
18. 习近平主席多次强调，我们都是地球村成员，同属一个命运共同体，人类社会绝不能重走阵营对立、分裂对抗的老路，绝不能陷入零和博弈、战争冲突的陷阱。为此，我们必须（ ）
- ①互不干涉内政，尊重彼此主权
②夯实共同利益，有效管控分歧
③调整时代主题，顺应历史潮流
④以经济为中心，增强综合国力
- A. ①② B. ①③ C. ②④ D. ③④
19. 今年是毛泽东等老一辈革命家为雷锋同志题词60周年。60年来，学雷锋活动在全国持续深入开展，雷锋的名字家喻户晓，雷锋的事迹深入人心，雷锋精神滋养着一代代中华儿女的心灵。实践证明，无论时代如何变迁，雷锋精神永不过时。学习雷锋精神旨在（ ）
- ①满足人民大众多层次、多方面、多样化的文化要求
②大力弘扬和培育民族精神，铸造中华民族精神支柱
③在改革开放中始终凝聚与时俱进的改革创新精神力量
④发展社会主义文化，培育和践行社会主义核心价值观
- A. ①② B. ①③ C. ②④ D. ③④
20. 不久前，在长沙博物馆举行的“长沙考古七十年成果巡礼”特展上，一只题有五言唐诗的长沙窑青釉瓷碗受到关注——“住在绿池边，朝朝学采莲。水深偏责就，莲尽更移舡”。朴实无华的文字、恬淡自然的意境，仿佛带领参观者走进几百年前的江南水乡，泛舟于碧波荡漾的池塘。根据上述材料，下列说法正确的是（ ）
- ①物质载体是精神产品得以传承的保障
②延续了中华历史文脉，坚定文化自信
③丰富我们的精神世界，培养健全人格
④展现中华文化丰富内涵，极具包容性
- A. ①③ B. ①④ C. ②③ D. ②④
21. 2023年3月10日，从北京传出重磅消息：在中国的积极斡旋下，沙特和伊朗达成协议，同意恢复中断长达七年之久的双方外交关系。这不仅是以外交途径解决国家间冲突的一次成功实践，更是中国充分发挥外交斡旋作用的重大成果。材料体现的哲理有（ ）
- ①发挥主观能动性改变客观实在
②任何事物都处于绝对运动之中
③规律是客观的，不以人的意志为转移
④实践是人有意识、有目的的能动性活动
- A. ①③ B. ①④ C. ②③ D. ②④
22. 一起带火的还有岳飞背后到底是尽忠报国，还是精忠报国的争论。很多人的记忆里“精忠报国”一词根深蒂固，但也有一些人笃定地说岳飞背上刻的是“尽忠报国”并直接晒出宋史。人们不同的观点说明了（ ）
- ①知识结构不同，人们的认知可能不同
②获得事物真理性的认识需要一个过程
③真理和谬误相伴而行，错误是难免的
④客观事物的复杂性增强人们认识难度
- A. ①③ B. ①④ C. ②③ D. ②④
23. 党的十八大以来，以习近平同志为核心的党中央创造性地提出了以人民为中心的发展思想，并在部署经济工作、制定经济政策、推动经济发展的过程中始终牢牢坚持这个根本立场，“人民至上”的价值理念贯穿习近平经济思想始终。下列理解符合材料的有

价值观念对人们认识和改造世界的活动具有推动作用
 ② 一定程度上符合生产力状况的体现
 ③ 以人民为中心的价值判断是经济工作中价值选择的基础
 ④ 体现了价值判断与价值选择的统一

24. 荀子提出“隆礼尊贤”并制礼作乐；孔子主张“仁者爱人”；管子认为“政之所兴，在顺民心”。这反映了当时（ ）
 A. 以人为本思想取代了天道的传统
 B. 儒家学说以民本思想为核心
 C. 中国古代思想的民主化色彩
 D. 思想始终为政治服务的特质
25. 下表是《汉书》中对汉宣帝时期一位郡守事迹的记述。这反映了当时（ ）

人物	记述
赵广汉	发现地方豪强相互勾结为朋党，利用内线得到消息，然后治理犯罪的人，再故意把内线的活放出去，让豪强内部相互埋怨，吏民相告讦。
韩延寿	治理颍川时，首先向郡中长者询问风俗、疾苦，方便的留下，不便者舍弃；然后进行宣传，同时设立学校，礼贤劝善，于是颍川大治。
尹翁归	到东海上任后，细心查访民间诉讼，把官吏和百姓中的好人、坏人以及违法事情都了解得清清楚楚，对于豪强该判死罪的坚决处死，以求杀一儆百，对犯小错的百姓允许其改过自新，吏民皆服，东海于是大治。

- A. 延续了百家争鸣的思想动态
 B. 地方治理儒法兼用的特征
 C. 儒学的正统地位受到了挑战
 D. 司法案件审判具有主观性
26. 南宋时期形成多个不同的货币区，流通不同的纸币，形成不一样的铸币。四川地区延续使用钱引和铁钱，出现了关外银会子和小铁钱会子等纸币；长江以南使用铜钱和东南会子；长江以北淮河以南使用铁钱和淮交；京湖地区使用铜钱和湖北会子。这表明，当时（ ）
 A. 政府丧失货币主权
 B. 货币管理制度混乱
 C. 商业经济发展繁荣
 D. 经济区域差异较大
27. 黄宗羲在分析明朝灭亡时曾论述说，先秦时代，燕、赵以抗秦之余力，即令匈奴不敢靠近中原。假设封建制不灭，无论“夷狄”多么强大，“列国棋置，一国衰弱，一国富强，有暇者，又有坚者，虏能以其法取彼，未必能以其法取此，岂有一战而得志于天下如此而易易乎？”黄宗羲这一论述（ ）
 A. 体现了综合国力的重要性
 B. 推动了当时学术研究的转型
 C. 隐含了对集权专制的批判
 D. 意在厘清先秦政治军事形势
28. 下图是 1843—1865 年广州与上海茶叶输出额的对比。该图反映出（ ）



- A. 手工制茶业竞争力减弱
 B. 近代外贸由出超变为入超
 C. 近代民族工业有所发展
 D. 近代经济半殖民地化趋势

29. 1928年5月,红四军制定了《党代表工作大纲》,规定:党代表作为红四军各级组织的管理者,有着政治行动上的指导作用和标杆价值,他们要通过部队政治课向士兵宣传党的方针和政策,使红军战士提高阶级觉悟,在政治方向上同中央和红四军前委保持一致。由此可见,《党代表工作大纲》()
- A. 克服了各种非无产阶级思想
B. 完善了红四军组织宣传机构
C. 强化了党对军队的绝对领导
D. 提高了军队的军事文化素质
30. 1955年6月22日,国务院发表《关于建立经常户口登记制度的指示》,要求乡、镇人民委员会应当建立乡、镇户口簿和出生、死亡、迁出、迁入登记册,并及时准确掌握人口出生、死亡、迁入、迁出等动态情况。上述说法()
- A. 为第一届人民代表大会的普选做好了准备
B. 适应了大规模的经济建设的需要
C. 为农民向城市流动和迁移奠定了基础
D. 缓解了农村粮食供应紧张的局面
31. 据教育部高等教育司司长吴岩介绍,2021年中国已建成世界最大规模的高等教育体系,在学总人数达到4430万人,高等教育毛入学率从2012年的30%提高至57.8%。这()
- A. 反映出我国已经建成为世界教育强国
B. 有力推动了中华民族的伟大复兴
C. 说明高等教育逐步纳入国民教育系列
D. 反映出新中国高等教育基本普及
32. 希波战争前,雅典城邦各类官员总数不超过350名。战争后,大批公民成为城邦的行政管理人,他们包括1400名官员、6000名审判官、1200名骑士、2500名重装士兵。上述变化表明雅典()
- A. 战争提升平民地位
B. 财政负担难以承受
C. 公民队伍不断扩充
D. 民主政治日趋完善
33. 1689年贵族萨缪尔·裴皮萨荒缪尔为了当选议员,用去了贿买费8磅。但到1727年艾格蒙特伯爵为了获得议员席位用了900磅。有时议员的席位甚至公开标价。这反映了()
- A. 英国议会完全被贵族所控制
B. 光荣革命的成果遭到破坏
C. 英国的代议制制度形同虚设
D. 英国代议制制度尚未完善
34. 图4为1950年5月有关欧洲发展状况的漫画《舒曼的交响乐》。画中贝文尽管也在鼓起腮帮努力演奏,但他左右双臂抱着两个婴儿,一个代表“社会主义规划”,另一个代表“英联邦”。该漫画表明()



图4

- A. 欧洲联合面临复杂挑战
B. 欧洲煤钢联营组织的发展
C. 欧洲国家抵制马歇尔计划
D. 英国主导欧洲一体化进程

35. 俄罗斯历史教科书关于苏联史认知的基本观点：1991年前遵循马克思主义相关学说，1991年以后被模糊的西方价值观代替，如“民主”“市场”等。2007年以后新版教科书则试图“拨乱反正”，重新定义历史。这一变化表明（ ）
- A. 多元价值观深刻影响着对苏联史的认知
B. 国家政权的更迭是导致变化的主要因素
C. 西方和平演变政策左右相关历史的评价
D. 认知不一体现不同历史阶段的发展需要
- 二、非选择题：共160分。第36~42题为必考题，每个试题考生都必须作答。第43~47题为选考题，考生根据要求作答。

(一) 必考题：共135分。

36. 阅读图文材料，完成下列要求。(24分)

“工业上楼”是近年来我国部分沿海城市对工艺和标准不高的老旧工业园区改造升级，发展都市型工业所采取的一种新的发展形式，主要方式是建设高层工业楼宇，并销售或租给工业企业。智能制造、电子信息、新材料、绿色低碳等工业是最常见的适合“工业上楼”的企业类型。2019年，深圳市宝安区为满足战略性新兴产业和未来产业需求，突出连片化、定制化厂房产业空间特征，实现产业上下游就在上下楼的工业发展需求，在全国范围内率先出台《深圳市宝安区工业上楼工作指引(试行)》方案推动工业上楼。图5为“工业上楼”示意图。

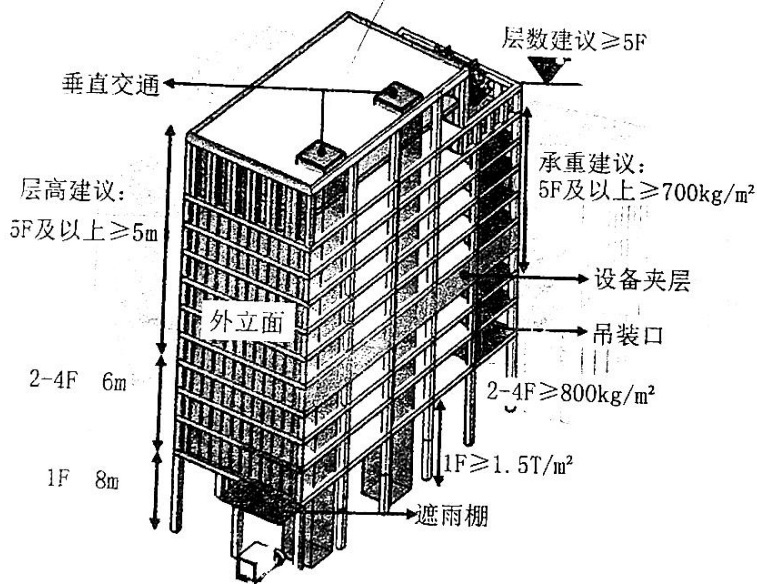
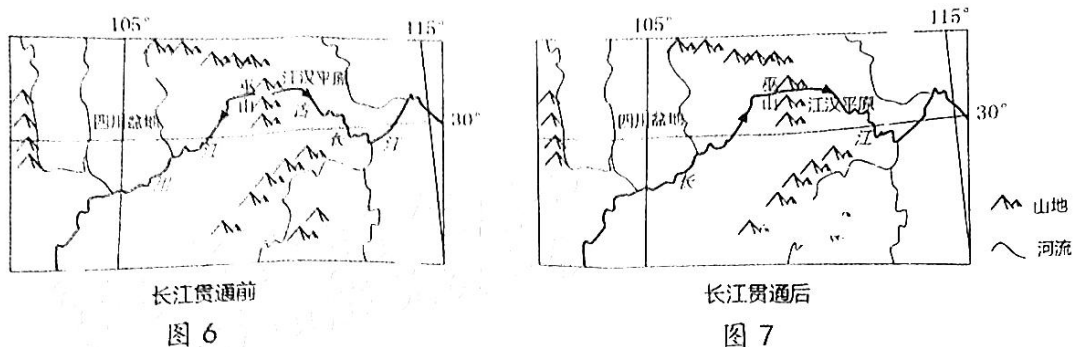


图5

- (1) 推测适合“工业上楼”企业的特点。(6分)
- (2) 分析深圳市推动“工业上楼”的有利条件。(6分)
- (3) 与传统工业集聚相比，说明“工业上楼”集聚模式的优势。(6分)
- (4) 分析“工业上楼”对深圳市工业发展产生的积极影响。(6分)

37. 阅读图文材料，完成下列要求。(22分)

滑坡的发生与构造运动、气候变化及河道演变等因素有关联性。川江(长江四川盆地段)地质历史时期曾经为古长江的西支，自东向西汇入南流的古金沙江。受流水作用影响，其与古长江的东支即现今的长江中下游得以贯通，流向转为向东流。长江贯通时期，青藏高原强烈隆起，导致季风加强，三峡地区出现大规模的滑坡事件。图6、图7为长江三峡段贯通前后示意图。



- (1) 简述长江三峡段贯通的过程。(4分)
- (2) 从河道演变角度分析长江贯通后大规模滑坡事件多发的原因。(6分)
- (3) 说明青藏高原隆起对三峡地区滑坡事件的影响。(6分)
- (4) 请你针对三峡地区多发的滑坡灾害提出可行的应对措施。(6分)

38. 阅读材料，完成下列要求(14分)

材料一：我国2023年一季度贸易进出口总额及逐月同比增长情况

总额	1月份	2月份	3月份
4.8%	-7%	8%	15.5%

注：当前，全球通胀高企、主要经济体增长乏力带来的外需减弱，对我国外贸形成了直接冲击，我国外贸面临很多的困难和挑战。

材料二：总的来看，一季度我国外贸进出口展现了较强韧性，开局稳中向好，为全年实现外贸促稳提质打下了基础。具体分析，主要有以下四个方面的特点：

一是外贸经营主体数量稳中有增。一季度，我国有进出口实绩外贸企业45.7万家，同比增长5.9%。其中，民营企业38.4万家，增加7.5%，进出口5.18万亿元，增长14.4%，占我国进出口总值的52.4%。

二是我国中西部地区实现进出口快速发展，今年一季度实现进出口贸易总额1.84万亿元，同比增长12.6%，规模创历史同期新高。

三是对东盟、拉丁美洲和非洲等新兴市场进出口增长较快。一季度，我国对第一大贸易伙伴东盟进出口1.56万亿元，同比增长16.1%，高出整体增速11.3个百分点，规模占进出口总值的15.8%；同期，我国对“一带一路”沿线国家进出口增长16.8%，占进出口总值的34.6%，提升了3.5个百分点。

四是新动能稳中加固。从产品结构来看,新优势产品的业绩表现突出,电动载人汽车、锂电池、太阳能电池“新三样”产品合计出口增长66.9%,拉高出口整体增速2个百分点,相较于去年拉动作用进一步增强。

(1) 分析材料一所反映的经济信息?(4分)

(2) 请你结合材料二并运用经济生活知识,分析我国一季度进出口贸易特点给我国经济高质量发展带来的启示。(10分)

39. 阅读材料,完成下列要求(12分)

2019年起,全国多地发布建筑业“清退令”,60周岁以上男性、50周岁以上女性以及18周岁以下人士禁止进入施工现场从事建筑施工工作。现实中,更大范围的用工门槛往往比60岁还低,年龄成为农民工求职的隐形禁锢。与之对应的现实是,农民工群体年龄持续上升。国家统计局发布的相关监测调查报告显示,2021年全国农民工总量29251万人,平均年龄41.7岁,比2018年提高1.5岁。从年龄结构看,50岁以上农民工所占比重从2014年的17.1%上升到2021年的27.3%,40岁及以下农民工所占比重从2014年的56.5%下降到2021年的48.2%。

与此同时,有省份逐步作出调整。2022年,安徽、四川等地下发通知,对建筑行业清退超龄农民工要避免“一刀切”。同年11月,人社部、国家发改委等五部门发布《关于进一步支持农民工就业创业的实施意见》。意见明确,做好大龄农民工就业扶持。尊重大龄农民工就业需求和企业用工需要,指导企业根据农民工身体状况合理安排工作岗位,强化安全生产管理,定期开展职业健康体检,不得以年龄为由“一刀切”清退。

2023年3月13日,国务院总理李强在出席记者会并回答中外记者提问时表示,各级政府部门和公务人员,都要有服务意识、发展意识,特别是在履行审批、管理职能时,不能光踩刹车、不踩油门。

结合材料并运用政治生活知识,说明面对农民工群体年龄持续上升事实,政府在解决超龄就业问题中如何做到不能光踩刹车,还要踩油门。

40. 阅读材料,完成下列要求(26分)

材料一:瑞丽市近年来不断聚焦文化认同,促进各民族间的交往交流交融,取得良好成效。瑞丽市积极推动少数民族文化保护和发展工作,实施瑞丽市傣族历史博物馆布展、傣族象脚鼓制作与传承基地、傣族历史资料辑录、傣族传统服饰制作;景颇刀制作、景颇族织锦、景颇族“瑙双瑙巴”传承等项目,实施了云南省“百名人才”孔雀舞传承人约相广拉传习所、旺腊小孔雀舞传承基地等建设。

材料二:多年来,广西与台湾、与花莲往来频繁,少数民族文化交流热络,成果丰硕。两地连续举办了十九届桂台少数民族交流周、七届桂台各民族欢度“壮族三月三”活动。2020年以来,尽管受疫情持续影响,桂台同胞通过线上联谊、云上对弈对歌、民族服饰展演等形式,保持彼此交流热度。广西将携手台胞大力开展桂台民族民俗文化、节庆文化、历史文化、校园文化交流,着力拓展桂台少数民族、教育、青年、基层等各领域交流,掀起桂台线下交流新热潮。

(1) 结合材料一并运用我们的中华文化有关知识,说明瑞丽市着手少数民族文化保护和发展工作的依据和意义。(12分)

(2) 结合材料二并运用联系客观性的知识说明促进桂台民族文化之间交流的必然性。(10分)

- (3) 根根相望敬如宾，连起长龙连起心。请从中学生的角度为民族团结提出两条可行性的建议。(4分)

41. 阅读材料，完成下列要求。(25分)

材料一 明清时期，国家权力逐渐退出乡村，形成了“国权不下县，县下惟宗族，宗族皆自治，自治靠伦理，伦理造乡绅”的乡村治理格局。乡绅主要来自休假退隐的官员、退休居乡的前官僚、尚未入仕的士人。乡绅不仅是里甲制（征税）和保甲制（征兵）的主要控制者，还是乡村公共事业的组织和管理者，在灾荒之年出而与政府协商，要求以减代赈、减免赋税等，同时兴办赈局、义庄，救济乡里。他们是乡村社会规范的解释者、社会教化的维护者，积极创办义学、私人书院、方志局、文学社团等乡村文化教育机构。

——摘编自徐祖澜《乡绅之治与国家权力——以明清时期中国乡村社会为背景》

材料二 依据宪法，美国政府体系由联邦、州和地方（包括县、市、镇、学区和特区）三级政府组成。在大多数乡镇中，随着经济的发展，居民生活水平提高，要求当地政府提供的各种服务越来越多。而这些是州或县没有办法完全提供的，因此就只有把这些权力下放给镇，镇在发展的过程中就逐渐拥有更多更大的权力。县作为区域内范围较大的地方政府单位。对县域内其他政府单位有协调作用，但乡镇在职权范围内不受县的直接干预。

——摘编自王玉龙《美国乡镇建制及运作》

材料三 改革开放以来，城市基层管理体制发生很大变化。1990年，《中华人民共和国城市居民委员会组织法》颁布，扩大了居委会职能，居委会可根据需要自行设立各种工作委员会。随着越来越多的农村人口涌入城市，以及大量的“单位人”转变为“社会人”。“社区式管理”成为城市管理新的模式。2000年，《民政部关于在全国推进城市社区走路的意见》颁布，标志着社区建设成为城市基层社会管理的新方向。除街道办事处和居民委员会之外，社区还出现以业主委员会、物业管理公司以及社会非营利性公益组织为代表的新兴组织。通过居民会议议事协商和民主听证等形式，社区各类主体都可以平等参与社区公共事务和民主决策。

——摘编自朱汉国主编《当代中国社会史》等

- (1) 根据材料一并结合所学知识，概括明清时期基层治理的特点。(6分)
- (2) 根据材料二，归纳美国地方自治的突出特点。并结合所学知识分析该特点形成的原因。(12分)
- (3) 根据材料三并结合所学知识，阐述改革开放后城市基层管理体制变化的历史意义。(7分)

42. 阅读材料，完成下列要求。(12分)

材料 新中国建立后，洋务运动成为一个重要的研究专题。最初，学者往往依据范文澜与胡绳对洋务运动的描述与评判进行研究。但在1954年胡绳提出“三次革命高潮”论后，洋务运动由此被打入学术研究的“冷宫”。直到1961—1964年，洋务运动研究迎来小高潮，除了对洋务运动宏观意义上的性质讨论外，在具体史实和相关洋务人物研究上取得了一定进展。然而，随着政治形势的不断恶化，小高潮昙花一现。1979之后的二十年，学界发表洋务运动史的专论超过623篇，综合性专著、论文集、史料资料集，等等，举凡也有数十种之多，此外，全国性乃至国际性洋务运动史学术讨论会相继召开。这些研究既有对洋务运动研究范式理论宏观意义上的检讨与检讨，也有个案实证研究的深入与新专题领域的拓展，这些研究丰富了人们对洋务运动史乃至整个中国近

代史的认识。

——摘编自邱志红《60余年来国内洋务运动史研究述评》

综合材料信息拟定一个论题，结合所学知识加以阐述。（要求：论题明确，持论有据，论证充分，表达清晰。）

（二）选考题：共25分。请考生从2道地理题、3道历史题中每科任选一题作答。如果多做，则每科按所做的第一题计分。

43.【地理选修3：旅游地理】（10分）

梅关古道位于江西省大余县与广东省南雄市交界处，由石块铺设而成，是全国保存最完整的古驿道。历史上是我国南北交通要道，众多人员及货物由此通道进出，也留下了众多文化遗产。后由于交通运输方式的变化而逐渐衰弱，目前开发为旅游景点，但由于开发程度较低，游客停留时间较短，以近距离游客为主。图8、图9为梅关古道示意图及关楼景点图。

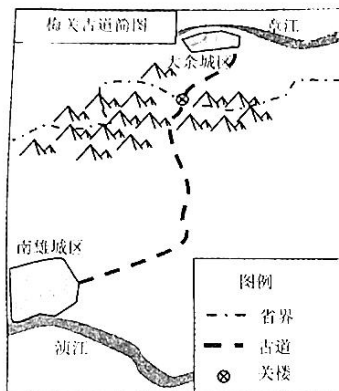


图8



图9

（1）分析古驿道采用石块铺设的原因。（4分）

（2）从提高游客文化体验的角度，提出该景区可采取的措施。（6分）

44.【地理一选修6：环境保护】（10分）

据最新研究表明，截至2019年全球海洋塑料微粒（粒径 $<5\text{ mm}$ ）已达到170万亿个，总重量约230万吨。这些塑料微粒主要来自渔具、衣服、轮胎、一次性塑料等制品，它们会分解成更小的颗粒，海洋塑料微粒对海洋生物危害巨大。

简析海洋塑料微粒的来源及对海洋生物的危害。

45.【历史上重大改革回眸】（15分）

材料 教育是提高国民素质和提升文明程度的重要方面，明治政府积极地发展近代教育。1871年成立文部省，负责主持文教改革事宜。1872年8月，文部省颁布了日本近代教育史上第一个重要改革法令——《学制》。《学制》明确规定了从小学抓起，普及初等国民教育的方针，并在此基础上进一步改革中等教育。1883年的《农学校通则》和次年的《商业学校通则》推动了日本近代职业教育得以发展。同时，优先重点建立了以东京大学为代表的一批高等教育机构，来培养技术人员和国家干部。至1932年，日本的国立大学便达到6所，非国立大学20所，其它高等机构达

到 235 所，小学入学率几乎达到百分之百，并向英、美、法、德等先进国家派出留学生。在教学内容上，学校除了教授各类社会与自然科学知识外，还向学生灌输忠君爱国的思想，宣扬“大和魂”、武士道、儒教的伦理道德，以树立天皇神权为中心的皇权主义、法西斯主义等。

——摘编自王光波《一本书读懂日本史》

(1) 根据材料并结合所学知识，概括日本近代教育改革的特点。(6分)

(2) 根据材料并结合所学知识，简析日本近代教育改革的影响。(9分)

46. 【20 世纪的战争与和平】(15 分)

材料 在 1916 年 8 月，索姆河战役中的最后阶段，陆军元帅兴登堡与鲁登道夫将军接管了德国的军事指挥权，随后，他们做出了建造兴登堡防线的决定，工程的建设期为 1916 年至 1917 年。1917 年，在西线战线上，法国的尼韦勒将军取代了一向谨小慎微的霞飞将军，他决定用闪电战取得战争的胜利。兴登堡鉴于凡尔登战役和索姆河战役的失效，决定在西线采取守势。由于兴登堡防线的修筑，德军的战线缩短了 50 公里，从而确保德军从此释放出 13 个师的储备军事力量。

当时，传统的进攻方式是大批步兵在炮火掩护下发起冲锋，但是这种冲锋在深壕沟、巧布地雷和机枪掩体相结合的防御设施面前没有多大效果；尼韦勒将军的军队跃出壕沟发动攻击遭受了巨大的失败；这条防线使得协约国蒙受了四十万人的伤亡，而德国人伤亡只有二十五万人。1918 年 9 月，协约国多国联军组织军队在西线发起大规模进攻，突破了号称固若金汤的兴登堡防线。

——据马丁·吉尔伯特《第一次世界大战》(1904)等整理

(1) 根据材料并结合所学知识，概括德国做出建造“兴登堡防线”决定的历史背景。(6分)

(2) 根据材料并结合所学知识，分析“兴登堡防线”的影响。(9分)

47. 【历史——选修 4：中外历史人物评说】(15 分)

材料 姚启圣(1624—1683 年)，浙江会稽人，康熙十七年擢升为福建总督，负责“平台”事宜。其上在就抓住台湾郑军分众拒守沿海县城、岛屿而势弱这一弱点，全力进行反击。姚启圣的“平台”策略是以政略为主，战略为辅，数年间共计招抚台湾郑氏集团有关联的官兵 130000 人以上。姚启圣从“平台”事业的大局出发，向朝廷建言，裁汰水师冗杂人员，特别是不习水战的满洲旗勇，自行招募熟悉水战的兵士，并制定了“跳船赏格”“临敌退船罚例”等措施，至康熙二十一年(1682 年)福建水师已经拥有“精兵 20000 余名，战船 300 艘”。姚启圣还力荐“海霹雳”施琅为福建水师提督，使清政府的水师部队成了一支真正的虎狼之师。除此之外，姚启圣在总督任上还解除海禁、教化闽民、整顿吏治、主持汀州盐政等，福建的社会风气为之大开，经济得到了很大的发展。康熙二十二年，施琅率领福建水师赴海项台，一战而定乾坤，成功收复了宝岛台湾。

——摘编自张俊《福建总督姚启圣对清初“平台”事业的历史贡献》

(1) 根据材料并结合所学知识，概括姚启圣为收复台湾所作的主要贡献。(6分)

(2) 根据材料并结合所学知识，简析姚启圣能够收复台湾的原因。(9分)

2023 届高三第二次联考文科综合参考答案

地理部分：

1-5 BCABC 6-11 ACDBDA

1. B 咖啡消费需要布局在客流量大、消费能力强、对咖啡口味接受能力强的地区，写字楼网点最符合这些要求，最适宜推广，B 正确。

2. C 银行跨界经营咖啡可以通过相互带动作用，增加客源，①正确；通过多种经营，统一风格，可以提升银行形象，实现多元化升级，④正确；银行跨界经营咖啡其主营业务还是金融业务，并未调整，其主要目的也不是提供休闲场所，②③错误。

3. A 与专业咖啡团队合作可以保障咖啡从货源到制作销售各个环节的专业把控，保障产品品质，A 正确；不与专业团队合作也可以保障货源，B 错误；与专业团队合作会增加成本，导致产品价格提高，同时品质提高，产品价格也会更高，C 错误；与专业咖啡团队合作对增加知名度作用不明显，与知名品牌咖啡合作增加知名度才会比较明显，D 错。

4. B “国信 1 号”根据水温变化在千里岩和南澎岛之间来回游弋，模拟的是鱼类的洄游。根据水温变化，大黄鱼等鱼类应该在适宜的水温中生存，冬季往低纬方向洄游，夏季往高纬方向洄游，千里岩纬度相对较高，适宜夏季在这里养殖，B 正确。

5. C 根据材料，“国信 1 号”主要养殖大黄鱼等高品质鱼种，养殖种类较少，A 错误；“国信 1 号”常年游弋在这些岛屿之间，可以有效躲避海洋灾害，B 错误；“国信 1 号”根据水温变化游弋在这些岛屿之间，可以提供温度适宜的海水养殖，同时利用深远海的优质海水养殖，可以提高养殖品质，C 正确；由于“国信 1 号”采用的是船载仓养模式，养殖的鱼就在船上，运输非常便利，同时常年游弋在不同岛屿之间，可以随时根据各个仓养殖状况靠岸进行销售，D 错误。

6. A 由于雨凇是在低于冰点的情况下，雨落在地表物体上形成的冰层，所以形成雨凇需要较低的温度。湖南纬度较低，1 月气温最低，最有可能形成雨凇，A 正确。

7. C 雨凇的发生需要近地面较低的温度、充足的水汽形成降雨，湖南雨凇发生频次南部多于北部，说明南部形成雨凇的条件更充足。根据材料信息，湖南南部多山地，北部平原为主，南部地势较高，导致近地面温度较低，近地面温度易出现零度以下的状况，导致雨凇形成，C 正确；雨凇主要发生在冬季，湖南南部多山地，对风力阻挡作用更强，同时离风源地更远，风力应该更小，A 错误；北部冷空气强会使北部雨凇发生频率更高，B 错误；北部湿度大，会导致雨凇发生频次更高，D 错误。

8. D 根据图示信息，湖南雨凇发生频次最高区域位于湖南东南部，该地位于东南风的迎风坡，冬季虽然以冬季风为主，但仍有部分东南风从海洋携带水汽进入遇到山地抬升，增加降雨，导致雨凇发生频次增加，D 正确；纬度较低，温度较高，会导致雨凇发生频次降低，A 错误；森林面积广和雨凇发生关联性不大，B 错误；雨凇发生频次最高区域位于湖南东南角，山地东南侧，为冬季风的背风坡，不会导致冷空气堆积，C 错误。

9. B 根据材料信息土壤有机碳主要来自生物，乙样带区土壤有机碳含量小于甲样带区，说明乙样带生物量更小；根据图示信息，可以判断乙坡为阳坡，甲坡为阴坡，该地为青海地区，降水较少，乙坡为阳坡导致蒸发更大，土壤水分含量更

少，同时土壤含水量减少也会导致生物量减小，B 正确。

10. D 根据倾斜方向，甲样带坡下位置更低，该地为季节性冻土区，冻土融化时形成径流，坡上的土壤有机碳通过流水搬运作用，堆积到坡下，导致坡下有机碳含量增加，D 正确；这是一个小集水区域，高差非常小，温度差异不大，同时如果温度高会导致有机碳分解多，积累少，有机碳含量更低，A 错误；由于是一个小集水区域，同在甲样带，坡上坡下植被量差异不大，B 错误；风力作用对土壤中的有机碳搬运不明显，C 错误。

11. A 根据材料信息由于该地为季节性冻土区，当温度上升时冻土融化会形成径流，由于乙坡为阳坡，温度上升速度更快，温度更高，形成的地表径流占比更大，下渗的更少，相反甲坡冻土融化时下渗量更大，通过下渗带动土壤有机碳向下迁移，导致垂直变化减小，①正确；根据材料信息，甲样带以高寒灌丛为主，乙样带以高寒草甸为主，高寒灌丛对雨水的截留能力更强，有利于增加下渗量，促进有机碳向下迁移，②正确；山地坡度更陡，地表径流速度快，下渗的少，不利于有机碳向下迁移，③错误；土壤密度更大，不利于下渗，不利于有机碳向下迁移，④错误。

36. 1. 环境污染较小；振动小；工艺先进，附加值高；原料、产品体积小；空间需求小；设备重量小。（任答 3 点得 6 分）

2. 政府政策大力支持（2 分）；深圳市经济发达，资金雄厚（2 分）；深圳市工业企业规模大，对工业上楼需求大（对用地需求大）（2 分）。（6 分）

3. 空间距离更近，运输成本更低；信息交流和技术协作更为便利；上楼企业多为环保安全型企业，环境污染更小；更加节约土地，土地利用效率更高。（任答 3 点得 6 分）

4. 缓解工业用地紧张状况；推动传统工业园的升级改造（工艺和标准提高）；满足工业的个性化（定制化）需求；推动工业转型升级。（任答 3 点得 6 分）

37. 1. 由于古长江东西两支溯源侵蚀，河流切穿分水岭（2 分）；由于东支地势更低，袭夺了川江，川江改向东流，两河贯通，整体向东流（2 分）。（4 分）

2. 长江贯通后，三峡段上游来水增加，落差加大，河流下切作用增强，河床不断加深（2 分）；河床加深导致河床坡度增加（2 分）；斜坡重力地质作用加强，滑坡多发（2 分）。（6 分）

3. 青藏高原隆起带动三峡地区地壳运动，导致断裂等构造运动多发，引发滑坡（2 分）；青藏高原隆起导致夏季风加强，三峡地区降水增多，引发滑坡（2 分）；青藏高原隆起导致长江的水位落差进一步加大，三峡段河流流速加快，下切作用增强，引发滑坡（2 分）。（6 分）

4. 加强滑坡灾害的监测；对处于有滑坡风险的聚落进行搬迁；工程措施固定不稳定滑坡体；保护恢复植被。（任答 3 点得 6 分）

43. 1. 周围山地岩石多，便于就地取材（2 分）；石块耐磨，抗侵蚀能力强，经久耐用（2 分）。（4 分）

2. 增加导游进行讲解；对文化遗产内涵进行挖掘，制作成图片、视频等展示；增加文化体验式项目；设立博物馆等（任答 3 点得 6 分，言之有理即可）

44. 塑料微粒来源：陆源塑料垃圾输入；海上船只塑料垃圾的丢弃；海洋捕捞中产生的塑料垃圾；水产养殖业漂浮装置的废弃物等（任答 2 点得 4 分）

对海洋生物的危害：造成水体污染，水质恶化，导致海洋生物死亡（2 分）；鱼类误食导致死亡（2 分）；影响海洋生物的产卵与繁殖（2 分）；（6 分）

政治部分：

12-15 ABCA 16-19 CDAC 20-23 ADBD

12. A 政府把商品住房的自由流动期放宽了，“直接目的”是为了促进消费，提振房地产市场，故选 A。

13. B 由于经济开始恢复，短期内就没有必要通过一些货币的刺激政策促进经济发展，选项①正确；货币政策是“稳健”的，而非“积极”的，故②表述错误，不选；选项③的“全新阶段”表述错误，不选；经济的复苏会带动居民的消费意愿提高，因果关系成立，选项④正确。故选 B。

14. C 民营经济在所有制结构中的地位不会因为国家的重视而改变，选项①表述错误；通过民营经济的供给侧结构性改革，促进民营经济的发展，有利于繁荣社会主义市场经济，选项②和③正确；“巩固和发展”的是公有制经济，民营经济也不能发挥主导作用，选项④表述错误。

15. A 我国分别与这三个国家的贸易是“双边”关系，而非“多边”关系，故选项③错误；是我国进口产品，而不是“出口”产品，选项④不选；降低关税是为了让最不发达国家的降低出口成本，搭乘我国经济发展快车，构建人类命运共同体，选项①和②正确，故选 A。

16. C 材料主要表达的是民主管理，而非是“民主监督”，故选项①错误；材料与群众的民主权利无关，选项③不选；针对问题，社区多方力量在民主协商的基础上，激发群众共同治理，创造美好生活的环境，故②和④正确，选 C。

17. D 区委书记是党内的职务，不是由群众选举产生的，故①错误；政府领导人员是由同级别的人大选举产生，人大才有任免权，故选项②错误；材料反映了党的最高政治领导地位，领导一切，并在党内实行民主集中制，产生区委书记与副书记人选，故选 D。

18. A 时代主题依然是和平与发展，而没有调整，所以③选项错误；综合国力的竞争是以经济和科技实力为基础的综合国力的较量，故④选项表述错误；主权国家只有坚持互不干涉内政的义务，并以共同利益为合作基点，增进共识，管控分歧，才能构建人类命运共同体。

19. C 不同的文化，满足不同人的文化需求，所以①选项与题目要求不符；雷锋精神所表现出来的不是与时俱进的改革创新精神，故③不选；学习雷锋精神是为了发展社会主义先进文化，铸造中华民族精神支柱，所以②④选项正确，故选 C。

20. A 选项②的“延续”了“历史文脉”，夸大作用，不选；材料并没有谈及包容性，选项④不选；“青釉瓷碗”是之首唐诗得以流传的物质载体，故①正确；优秀的文化对于丰富我们的精神世界，培养健全的人格，有着极大的帮助作用，所以③选项符合题意。故选 A。

21. D 客观实在性是物质的唯一特性，不会随主观能动性的改变而改变，所以①选项不选；材料强调发挥主观能动性促成事物的发展，而没有强调规律的客观性，③选项不符合题意；材料说明事物不是一成不变的，也说明人的实践活动是有目的的，所以②④选项正确，故选 D。

22. B 人们得出不同的观点是根据自己所接触的资料形成的，也说明客观事物的复杂性，导致人们产生不同的观点，所以①④正确；材料只是呈现出人们不同的观点，并没有涉及到获得正确的认识需要一个过程，也没有涉及到谁对谁错的问题，所以②③不选；故选 B。

23. D 价值观有正确与错误之分，所以①选项表述错误；材料反映的是上层建

筑与经济基础的关系，而不是生产力与生产关系的规律，所以②不选；“以人民为中心”的价值判断，说明了我们的民主也是具有阶级性的，故③④正确，选D。

38. (1) 在全球经济不稳定性、不确定性和难预期性的情况下（1分），我国一季度进出口贸易同比呈逐月快速增长趋势，特别在1月份负增长的情况下，2月份实现了8%的快速发展，同时进出口总额也实现了较高速度的增长（2分），说明我国经济发展有较强韧性（1分）。

(2) ①继续实行对外开放的基本国策，主动参与和推动经济全球化进程，坚决反对贸易保护和经济霸权。（2分）

②大力发展实体经济，尤其盘活民营经济实体，筑牢现代化经济体系，为我国贸易发展打下坚实基础。（2分）

③优化进出口贸易国内区域布局，使国内区域经济发展更加协调，增强我国经济发展的韧性。（2分）

④优化外贸市场结构，加强“一带一路”沿线国家经济合作，增强我国经济发展的平衡性、稳定性和可预期性。（2分）

⑤优化进出口产品结构，形成以技术、品牌、质量、服务为核心的出口竞争新优势，促进我国经济高质量发展，增强国际竞争力。（2分）

（如答到“新发展理念”、“新发展格局”、“国内国际双循环”等内容适当给分，但不得超过本题总分）

39. ①以人民为中心，坚持对人民负责原则（2分），积极组织社会主义文化建设和社会建设职能（2分），建设有为政府，提高政府的创造性执行能力（2分）

②地方各级政府完善就业政策，采取一定的培训措施，提高用工人群的技能（2分）；加快健全基本公共服务体系，让高龄打工群体生活有依，老有所养（2分）；秉承求真务实的精神，反对一刀切，根据实地情况切实解决超龄打工人的就业（2分）

40. (1) ①中华民族是多民族的共同体，中华文化呈现着各民族文化的丰富色彩，都是中华文化宝库中的瑰宝，都是中华民族的骄傲。（4分）在长期的历史发展中，各兄弟民族的文化相互交融、相互促进，共同熔铸了灿烂的中华文化。（2分）

②瑞丽市的工作有助于瑞丽市各民族文化得到有效的保护和传承；（2分）有利于增强各族人民对共同拥有的中华文化的强烈认同感和归属感，显示了中华民族厚重的文化底蕴和强大的民族凝聚力。（4分）

(2) ①联系是客观的，人为事物的联系一经形成，便独立于人的意识之外（3分）；人们可以根据事物固有的联系，建立新的具体的联系（3分）。

②作为中华民族构成的一部分，桂台少数民族之间的联系是客观存在的（2分）；在疫情期间，桂台人民还人为的利用线上方式，构建了两地民族间新的具体联系，促进两地的民族情感。（2分）

(3) 如：贯彻党的民族政策，树立民族大团结的理念；批评破坏民族团结的错误言论等等（答题要求：紧扣主题，要有形式和内容；只给形式或只给内容，酌情扣分）

历史部分：

24-28 ABCCD 29-33 CBBAD 34-35 AD

24、A 这是比较型题，找共同点。运用时空观念，周公时期儒家思想还没有形成，排除B；“民主化色彩”与史实不符，排除C；据题意，周公、孔子等人开始强调“保民”、“爱人”、“顺应民心”等主张，这说明以人为本的思想根植于久远的传统，无法体现始终为政治服务。故选A。

25、B 赵广汉以术理政、韩延寿则教化式理政、尹翁归依法理政，同时又具人性化，表明当时西汉地方治理主要是法治掺杂德治，故B项正确；A、C与史实不符；D在材料中没有体现。

26、C 据材料可知，南宋时期形成多个不同的货币区，流通不同的纸币，形成不一样的铸币，这反映了南宋时期商业经济发展繁荣，故选C；材料未涉及货币主权问题和货币管理制度，排除A和B；材料强调的是多个不同货币区未涉及经济区域差异，排除D。

27、C 从材料看到，黄宗羲借古讽今，批判专制集权导致地方权力萎缩，无力抵抗外侮，C项正确；A、D与材料主旨不符，排除；B项“转型”说法不对。

28、D 根据材料并结合所学知识，1843-1865年广州茶叶输出额总体呈现下降趋势，上海茶叶输出额总体呈现上升趋势。这是因为鸦片战争前，清政府实行广州一口通商，近代以来，上海成为通商口岸，广州的贸易地位逐渐下降，上海对外贸易地位逐渐提高。所以，该图反映出近代经济半殖民地化趋势，D项正确；材料不能体现近代外贸由出超变为入超，排除A；上海的茶叶输出额不断上涨，体现了手工制茶业依然具有竞争力，排除B；材料未涉及近代民族工业，排除C。

29、C 从材料信息看，《党代表工作大纲》的主要内容是强调党对军队的绝对领导，故选C；党内的非无产阶级思想并没有克服，排除A；党的组织宣传工作不是本质所在，排除B；该决议与红军军事文化素质的提高没有直接关系，排除D。

30、B 根据材料及所学知识可知，1955年国务院发表《指示》时，人大代表已经选出，排除A；农村粮食供应紧张的局面还未出现，排除D；只是要求乡、镇人民委员会应当建立农村人口登记册，以及时准确掌握人口动态情况，没有具体指向农民向城市的流动和迁移，排除C。

31、B 由材料并结合所学知识可知，新时代高等教育的发展有力推动了中华民族的伟大复兴，B项正确；A项说法不符合史实，排除；C项与材料主旨不符；D说法太绝对。

32、A 从材料信息看，希波战争后雅典大批平民成为行政管理人员，说明战争提升平民地位，故选A；行政管理人员的增加不代表财政负担难以承受，排除B；官员队伍不断扩充，排除C；官员人数的增加和民主政治的完善无必然联系，排除D。

33、D 材料反映的是有钱即可购买议员席位，而且价格在上涨，因此能判断出议会的席位越来越重要，体现了议会政治地位的显赫。说明代议制的发展和完善，而非倒退。因此排除C，选择D。而英国议会是限制君权体现民主的权力中心，排除B。A选项说法太绝对。

34、A 根据材料的漫画，画中贝文尽管也在鼓起腮帮努力演奏，但他左右双臂抱着两个婴儿，一个代表“社会主义规划”，另一个代表“英联邦”。可知，漫画表明，在推动欧洲一体化发展进程中，法国德国积极配合，英国则是不配合的形象，还有社会主义的因素，说明欧洲的联合面临复杂挑战，A正确。煤钢联营组织建立于1951年，马歇尔计划于1948年实施，排除B和C；英国主导欧洲一体

化进程，与史实不符。

35、D 根据材料并结合所学知识，这一变化表明不同的历史阶段对同一历史过程认识不一，D 项正确；“多元价值观”未体现，排除 A；1991 年至 2007 年不存在国家政权的更迭，排除 B；“西方和平演变政策”与题干无关。

41、(1)特点：①以自治为主 ②重视伦理道德和社会教化③宗族及乡绅主导④社会功能与政府职能相结合。(任答三点 6 分)

(2)特点：①分级管理；②地方自主权越来越大。

原因：①美国联邦宪法的影响；②三权分立的推动；③地方自主性增强；④资本主义经济发展。(12 分)

(3)意义：①调动了人民参政积极性；②增强了人民主人翁意识；③有利于社会和谐、稳定与发展；④保障了经济社会建设的顺利开展；⑤丰富了中国特色社会主义民主政治的理论和实践。(任答四点 7 分)

42、(12 分)

示例一：

论题：建国后洋务运动研究受到时代的制约

阐述：建国后，人民当家作主，再加上受到苏联史学影响，人民和革命成为史学研究的重点，因此在胡绳提出“三次革命高潮”论后，洋务运动研究陷入低谷。1956 年毛泽东提出双百方针，20 世纪 60 年代初，随着农村纠正左倾错误及国民经济八字方针的提出，国家政治经济生活逐渐走向正轨，1961-1964 年洋务运动的学术研究迎来小高潮。此后，中国进入文革时期，受左倾错误影响，洋务运动研究高潮结束。改革开放以后，思想上拨乱反正，重新确立了实事求是的思想路线；再加上实行开放的对外政策，洋务运动学术研究不仅国内成果显著，而且还召开了国际性的学术研讨会。

综上所述，建国后洋务运动的学术研究与发展息息相关。

示例二：

论题：建国后洋务运动研究呈现阶段性特点

阐述：建国初期，洋务运动学术研究是一个重要专题，且这一时期以胡绳、范文澜的研究为权威。1954 年后由于胡绳的观点，洋务运动研究陷入低谷。此后，由于双百方针的提出，农村纠正左倾错误及国民经济八字方针的提出，1961-1964 年洋务运动学术研究出现小高潮，在宏观性质和微观史实、人物的研究都取得重要成果。文革发生后，受左倾错误影响，洋务运动学术研究的高潮结束。改革开放后，洋务运动研究注重国际研究合作，成果数量众多、形式多样。既关注对洋务运动研究范式理论宏观意义上的反思，也涉及个案实证研究的深入与新专题领域的拓展。

综上所述，建国后洋务运动研究不同时期呈现出不同的发展特征。

三、选做题（三选一，15 分）

45、(1)特点：政府主导；立法规范；大力普及初等教育；中等教育、职业教育、高等教育同步发展；课程设置体现近代化色彩；灌输忠君思想。(任答 3 点得 6 分)

(2)影响：促进了日本教育事业的发展，提高了日本国民素质；为日本资本主义发展培养人才，推动日本成为亚洲强国；灌输忠君思想，保留了浓厚的封建残余和军国主义色彩，威胁亚洲邻国安全。(9 分)

46、(1)背景：德国在凡尔登战役和索姆河战役的失败；协约国在西线逐渐掌握主导权；法国调整军事战术，德国实行军事守势。(6 分)

(2)影响：防线的修建使德军的战线得以缩短，释放了大量军事力量，增强了其军事上的灵活性；在应对欧洲传统战争时作用明显；但最终无法挽救德国在一战中失败的定局。(9分)

47、(1)贡献：提出“政略为主，战略为辅”的平台策略；分化瓦解郑军；力荐施琅为福建水师提督；对福建水师进行大规模的改革；解除海禁；教化闽民；整顿吏治；发展福建经济。(任答3点得6分)

(2)原因：康熙帝的大力支持；克己奉公、知人善任，始终以平台事业为己任；善于抓住敌军弱点和有利的出击时机；提出了合理的平台策略；督闽期间整顿吏治、发展经济，为平台奠定了基础。(9分)

关于我们

自主选拔在线是致力于提供新高考生涯规划、强基计划、综合评价、三位一体、学科竞赛等政策资讯的升学服务平台。总部坐落于北京，旗下拥有网站(网址：www.zizzs.com)和微信公众平台等媒体矩阵，用户群体涵盖全国90%以上的重点中学师生及家长，在全国新高考、自主选拔领域首屈一指。

如需第一时间获取相关资讯及备考指南，请关注**自主选拔在线**官方微信号：[zizzsw](https://www.zizzs.com)。



微信搜一搜



自主选拔在线