

哈尔滨师大附中
东北师大附中
辽宁省实验中学
2020 年高三第二次联合模拟考试
文科综合能力测试

本试卷共 12 页,47 题(含选考题)。全卷满分 300 分。考试用时 150 分钟。

注意事项:

★祝考试顺利★

1. 答题前,先将自己的姓名、准考证号填写在试卷和答题卡上,并将准考证号条形码粘贴在答题卡上的指定位置。
2. 选择题的作答:每小题选出答案后,用 2B 铅笔把答题卡上对应题目的答案标号涂黑。写在试卷、草稿纸和答题卡上的非答题区域均无效。
3. 非选择题的作答:用黑色签字笔直接答在答题卡上对应的答题区域内。写在试卷、草稿纸和答题卡上的非答题区域均无效。
4. 选考题的作答:先把所选题目的题号在答题卡指定的位置用 2B 铅笔涂黑。答案写在答题卡上对应的答题区域内,写在试卷、草稿纸和答题卡上的非答题区域均无效。
5. 考试结束后,请将本试卷和答题卡一并上交。

一、选择题:

一、选择题:本题共 35 小题,每小题 4 分,共 140 分。在每小题给出的四个选项中,只有一项是符合题目要求的。

依托酒钢集团发展起来的甘肃省嘉峪关市,围绕钢铁产业发展配套、深加工产业,已形成了以冶金工业为主体的城市工业体系。城市发展迅速,近年来,市区不断向南扩展。图 1 示意嘉峪关市城市布局。据此完成 1~2 题。

1. 近年来,嘉峪关市北部市区的居民逐渐向南部市区搬迁的主要原因有
①上班距离近 ②南部市区环境优美
③购物方便 ④家庭轿车普及

- A. ①② B. ①③
C. ②④ D. ③④

2. 嘉峪关南站是兰新高铁站点之一,其远离市区建站的主要目的是

- A. 加快钢铁产业发展 B. 吸引外地游客
C. 方便游客出行 D. 为城市发展预留空间

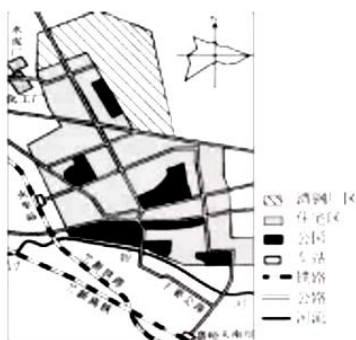


图 1

某知名运动服饰集团宣布,将在 2020 年 4 月前关闭其最先建于德国和美国的两家以“机器人生产”为主的高速工厂,同时从今年年底开始,使用该技术与亚洲的两家供应商合作,继续生产运动鞋履等产品。据此完成 3~4 题。

3. 该集团首先选择在德国和美国开设高速工厂是因为其
A. 研发水平高 B. 经济发达,配套设施齐全
C. 生产效率高 D. 国际影响力大
4. 该集团决定与亚洲的供应商合作的主要目的是
A. 利用当地丰富的劳动力 B. 利用当地丰富的自然资源
C. 利用新技术扩大生产规模 D. 开辟亚洲市场

沙漠蝗是一种植食性昆虫,主要分布在非洲及西亚、南亚热带荒漠地区的河谷和绿洲。它们喜高温、耐干旱、常群居,迁飞时每天可以随风飞行150千米。2018年6月起沙漠蝗在图示区域相继爆发,给所到之处的国家造成重大影响。图2示意2018年~2020年沙漠蝗主要迁飞路径。据此完成5~7题。

- 据科学家观测,2018年~2020年沙漠蝗最早爆发于阿拉伯半岛,导致此次爆发的主要气候因素是
 - 气温
 - 降水
 - 光照
 - 风力
- 导致沙漠蝗从阿拉伯半岛迁飞到东非地区的主因是
 - 人为驱赶
 - 气候突变
 - 天敌猎食
 - 盛行风
- 沙漠蝗大量集中于东非地区给当地带来的影响主要是
 - 缓解食物短缺
 - 有效清除农田杂草
 - 农产品价格上涨
 - 引发全球性粮食危机

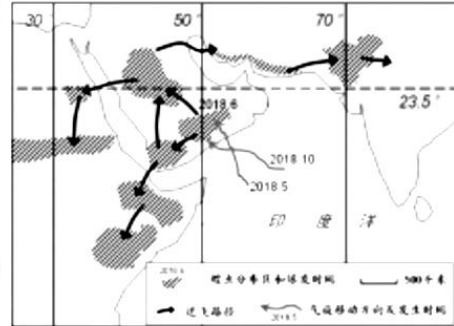


图2

图3为某海底沉积地层上表面等高线(单位:米)图。据此完成8~9题。

- 据图推测,最不可能发现石油的区域是
 - 甲
 - 乙
 - 丙
 - 丁
- 若该海域水深为500米,则到达该沉积地层的最小钻井深度可能是
 - 100米
 - 130米
 - 630米
 - 820米

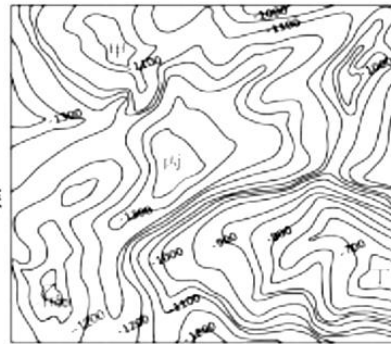


图3

冰砾阜是一种圆丘状或碗状的冰川地貌景观,图4中(a)图至(b)图示意其形成过程。据此完成10~11题。

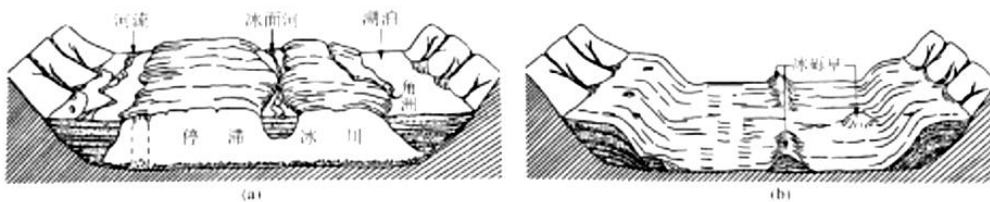


图4

- 冰砾阜的形成过程中经历了两次
 - 风化作用
 - 侵蚀作用
 - 搬运作用
 - 堆积作用
- 从根本上决定碗状冰砾阜整体走向的是
 - 山脉走向
 - 沟谷走向
 - 河流流向
 - 山坡坡向

12. 图5反映的是一定时期某种商品供求量(Q)与价格(P)变化的情况。假定其它因素不变,下列判断合理的是

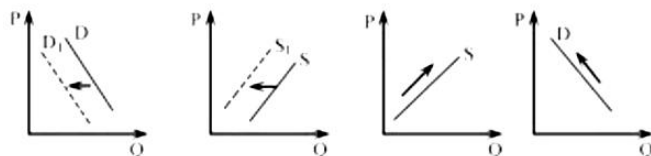


图5

- ①受新型冠状病毒影响,地铁、出租车需求变化如图①所示
 ②受中美贸易战影响,华为手机国内供给变化如图②所示
 ③受波音飞机事故影响,高铁供给与票价变化如图③所示
 ④受非洲猪瘟疫情影响,猪肉制品的市场变化如图④所示
- A. ①② B. ②③ C. ③④ D. ①④
13. 2019年8月下旬,国务院办公厅印发的《关于加快发展流通促进商业消费的意见》中提出:鼓励主要商圈和特色商业街与文化、旅游、休闲等紧密结合,适当延长营业时间,开设深夜营业专区、24小时便利店和“深夜食堂”等特色餐饮街区。并完善夜间交通、安全、环境等配套措施,提高夜间消费便利度和活跃度。活跃“夜经济”
- ①有利于活跃夜间商业和市场,满足人们多样化的需求
 ②有利于带动相关配套服务发展,为经济发展注入新动能
 ③有利于现代服务业的发展,进而形成对外开放的格局
 ④可促进流通新业态新模式的发展,降低企业经营成本
- A. ①② B. ①④ C. ②③ D. ③④
14. 国务院公布《优化营商环境条例》(以下简称《条例》),自2020年1月1日起施行。《条例》重点针对我国营商环境的突出短板和市场主体反映强烈的痛点、难点、堵点问题,对标国际先进水平,从完善体制机制的层面作出相应规定。对此认识正确的是
- ①依法平等保护各类市场主体产权和合法权益,打造市场化、国际化营商环境
 ②政府运用法治方式出台优化营商环境的相关政策,是推动企业发展的关键
 ③通过尊重市场经济规律优化营商环境,可以更大激发市场活力和社会创造力
 ④以市场满意度作为衡量标准的营商环境的改善,要依靠政府发挥决定性作用
- A. ①② B. ①③ C. ②④ D. ③④
15. 为深入贯彻落实习近平总书记“冰天雪地也是金山银山”的理念,实现“白雪换白银”。东北三省近年来探索出了一条以冰雪文化为引领,以冰雪旅游为本体,以冰雪体育为基础,以冰雪装备制造、商贸、交通为配套产业,冰雪人才、教育、培训、研发为支撑的一套“3+X”的产业发展体系。这一发展路径将
- ①带动相关产业发展,延长冰雪产业链,增加产品附加值
 ②主要依靠加大政府资金支持力度,促进区域经济发展
 ③带动东三省经济转型升级,成为新一轮经济的重要增长点
 ④对提高我国居民健身水平和增强身体素质具有重要的意义
- A. ①② B. ①③ C. ②③ D. ③④

16. 从设立“水上法庭”到组建家事巡回法庭,再到设置旅游巡回法庭,为乡村及偏远地区,解决各类纠纷、调解社会矛盾,提供了现代化的治理资源。通过设立巡回点,巡回法庭加强与地方各级党委、政府、人大、政协等各方面的联系,汇聚各方面资源,加大了矛盾化解力度。上述做法
- ①坚持以人民为中心的理念,有利于维护社会和谐稳定
 - ②进一步丰富行政服务举措,有利于维护社会公平正义
 - ③延伸审判职能,推进国家治理体系和治理能力现代化
 - ④有力地推动了基层司法实践,确保司法公正高效权威
- A. ①② B. ①③ C. ②④ D. ③④
17. “宰相必起于州部,猛将必发于卒伍”出自(战国)《韩非子·显学》,阐述了凡成大事者必须从基层做起的道理。习近平指出基层实践是培养锻炼干部的“练兵场”,地方尤其是基层一线是领导干部了解实际、向广大群众学习的好课堂,也是领导干部磨练作风、提高素质的大考场。能成为优秀干部必须
- ①真抓实干,积极发挥基层战斗堡垒的作用
 - ②要学会同群众一起摸爬滚打,积累实践经验
 - ③深入基层了解民意,清楚知道人民需要什么
 - ④以在艰苦的地方工作过、实践过作为考核标准
- A. ①③ B. ①④ C. ②③ D. ②④
18. 网络反腐是伴随互联网不断普及、电子政务不断完善和公民网络参与日趋活跃而兴起的一种新反腐形式。通过建立完善网络民意吸纳机制、网络问政监督机制、网上网下联动对接机制等,建立健全网络反腐制度化平台。“互联网+反腐”的形式
- ①是利用公民权力监督公共权力,推进廉政建设不断完善
 - ②需要提升网络参与者的素养,发挥现代信息技术的作用
 - ③是反腐需求与网络功能的有机结合,便于公民监督政府
 - ④属于政府行政权力的内部监督,可提升政府的行政效率



- A. ①③ B. ①④ C. ②③ D. ②④
19. 方孝孺是中国历史上最早被誉为“读书种子”的大儒。明朝燕王朱棣起兵南下，文武百官多见风转舵，投降燕王。方孝孺拒不投降，结果被捕下狱。因拒绝为燕王朱棣草拟即位诏书，被灭十族。有一支未死，改称施姓。“施”字，拆开为“方人也”，即我们骄傲我们的祖先是方孝孺。方孝孺的忠君爱国之心，胡适先生给予了较高的评价，称他是“一个为主张、为信仰而杀身成仁的人”。这表明姓氏文化
- ①作为中华文明的集中体现，博大精深，源远流长
 ②是优秀传统文化的物质载体，具有历久弥新的精神价值
 ③具有鲜明的民族性，是增强中华民族凝聚力的重要纽带
 ④蕴含丰富的文化内涵，对于增强文化自信具有重要意义
- A. ①② B. ①③ C. ②④ D. ③④
20. 2019年6月6日工信部正式发放5G商用牌照，这意味着中国宣布正式进入5G商用元年。从文化产业的产业链条来看，其创作生产、传播流通、消费等各个环节将会注入更多的科技含量；从文化产业的具体行业来看，各行业发展模式将会发生新变化，同时还会衍生出更多更丰富的文化产品，满足不同的文化需求，刺激文化消费。由此可见

文科综合能力测试卷 第4页(共12页)

- ①大众传媒是现代文化传播的主要手段
 ②科技发展能不断满足人们日益增长的美好生活需要
 ③文化和科技的融合发展取得了关键突破
 ④文化生产力在现代经济总体格局中的作用日益突出
- A. ①② B. ①④ C. ②④ D. ②③
21. 当灾难来临之后，人们才知道真正守护着他们的人是谁。新冠病毒的疫情来临，正是因为有“钟南山们”，有“李文亮们”这样的广大医务工作者，立足医护救治一线负重前行，在精湛的专业知识的指导下，才换来了十几亿人的岁月静好。向英雄致敬，还要向英雄学习
- ①为人民服务要为人民的利益真诚付出，忘我投入
 ②把充分利用好社会的客观条件作为实现人生价值的前提
 ③全面提高个人素质，为人生价值的实现提供更加广阔的空间
 ④把爱岗敬业作为为社会为人民做出贡献的出发点
- A. ①③ B. ①④ C. ②③ D. ②④
22. 教育有赏识与惩戒两种方式。近年来赏识教育成了教育的主流选择，但没有惩戒的教育是不完整的教育。2019年11月，教育部研究制定了《中小学教师实施教育惩戒规则(征求意见稿)》。根据《征求意见稿》，教师可以对学生实施一般惩戒、较重惩戒、严重惩戒和强制措施，这为老师实施惩戒提供了操作指南，也明确了师生职责。此《征求意见稿》的出台表明
- ①对事物的真理性认识需要经过反复的过程
 ②教育需要改革才能适应上层建筑的不断变化
 ③矛盾双方需要不断转化才能推动事物的发展
 ④价值判断和价值选择，因条件的变化而不同
- A. ①② B. ③④ C. ①④ D. ②③
23. 2019年12月23日，习近平出席庆祝澳门回归祖国20周年大会暨澳门特别行政区第五届政府就职典礼时，对新一届澳门特别行政区政权机构提出殷切期望：坚持与时俱进，进一步提升特别行政区治理水平；坚持开拓创新，进一步推动经济持续健康发展；坚持以人为本，进一步保障和改善民生；坚持包容共济，进一步促进社会和谐稳定。这四点期望的哲学
- ①与时俱进——物质决定意识，与时俱进是实事求是的内在要求和重要前提

- ②开拓创新——辩证法在本质上是革命的,开拓创新要破除落后的思想观念
 ③以人为本——人民群众是历史的主体,人民群众的动机和目的决定了历史的发展
 ④包容共济——矛盾就是对立统一,矛盾的斗争性寓于同一性之中并向同一性转化
- A. ①② B. ③④ C. ①④ D. ②③
24. 玉文化是中华文明的重要组成部分。商周时期,玉器主要服务于礼仪活动。孔子提出“君子比德于玉”,玉有五德、九德、十一德等学说应运而生,佩玉替代礼玉成为“风潮”。这体现出
- A. 儒家正统地位确立 B. 礼乐制度逐渐完善
 C. 崇德重教渐入人心 D. 玉器制造技术进步
25. 史料记载,汉代富农和地主在生产力方面拥有着耕牛和铁犁的巨大优势,而贫穷的农民无力购买,只能继续使用木制工具,经营稍有不善便会破产而出卖土地。材料反映了当时
- A. 自然经济逐渐解体 B. 铁器牛耕技术尚未发展成熟
 C. 土地私有制遭破坏 D. 生产技术进步加剧贫富分化

文科综合能力测试卷 第5页(共12页)

26. 如图6所示,宋太祖时开始给官员的官帽加上两个超级细长坚挺的帽翅,其目的是



图6

- A. 提倡大臣独立思考
B. 防止官员结党营私
C. 加强皇帝集权专制
D. 彰显开国独树一帜
27. 清康熙末叶,各地的地方戏蓬勃兴起,被称为花部,进入乾隆年代开始与称为雅部的昆剧争胜。至乾隆末叶,花部压倒雅部,占据了舞台统治地位,直至道光末叶。这一变化主要是由于
- A. 清朝专制统治的强化
B. 社会结构的变化
C. 皇室贵族的审美追求
D. 商品经济的发展
28. 1887年王韬短篇小说集《淞隐漫录》刊载于《申报》,书中多有西方美女与中国男子相恋的题材。西方女子家世不俗,仰慕中国文化,并于危难之际利用自己掌握的西方技术帮助丈夫渡过难关。这反映了作者
- A. 对中西关系的客观认识
B. 复杂矛盾的文化心理
C. 以拓展国人视野为目的
D. 崇尚科学的理性精神
29. 南京临时政府颁布条例规定,以前的人口买卖契约全部废除,不得再有主奴名分,只准视为雇主和雇佣人之关系。该条例
- A. 保护了工商业的发展
B. 力图建立平等的社会关系
C. 实现了生产关系变革
D. 有利于重建社会契约精神
30. 图7为美国发行的《抗战建国》邮票。这说明



图7

- A. 三民主义与林肯思想一致
B. 世界反法西斯同盟形成
C. 美国支持中国的抗日战争
D. 国民政府坚持三民主义
31. 1984年9月3日至10日,在浙江省召开了第一次全国中青年经济科学工作者讨论会,会议形成了价格双轨制等成果。这是中青年工作者“第一次集体发声”,被称作“莫干山会议”。此后,双轨制成为时代名词。这次会议
- A. 拉开了我国对外开放的序幕
B. 推动了经济体制改革的进程
C. 制定出国有企业改革的政策
D. 响应了科教兴国的战略方针

文科综合能力测试卷 第6页(共12页)

32. 雅典的狄奥尼索斯大剧场可容纳15000人左右,为了使贫穷的公民也能看戏,雅典政府还发放一种观剧津贴。戏剧表演以竞赛的形式上演,由公民进行评判。由此可知
- A. 雅典公民的闲暇生活是丰富多彩的
B. 城邦公共空间向所有雅典人开放
C. 公共活动巩固了政治生活的民主性
D. 公共闲暇生活促进了民主的产生
33. 英国传统体育种类丰富,形式多样,大街小巷中斗牛、斗狗、斗鸡、足球、拳击等活动都是寻常之事。19世纪30年代起,英国议会开始颁布如《虐待动物法》、《城市警察法》等法律来禁止血腥暴力活动及街头巷尾聚众游戏。这一变化说明
- A. 群众对政府政策的广泛认同
B. 立法是社会进步的唯一途径
C. 国家干预经济推动社会转型
D. 经济发展推动城市文明建设
34. 引力波本身是时空的涟漪。当引力波出来的时候,时空会在与引力波垂直的方向上发生周期性的形变,而置身其中的物体也会发生周期性的伸缩。据此推测,为引力波假设提供基础理论的应该是
- A. 相对论
B. 生物进化论
C. 量子论
D. 万有引力定律
35. 1955年黑人奥运冠军马尔·惠特菲尔德和哈里森·迪拉德的非洲之行,展示了美国文化成就和生活方式,对美国文化在非洲的传播产生了积极影响,使美国政界愈发关注。美国政府此举的主要目的是

- A. 传播美国文化
B. 与苏联争夺第三世界国家
C. 重塑国家形象
D. 促进世界的体育文化交流

二、非选择题:共 160 分。第 36 - 42 题为必考题,每个试题考生都必须作答。第 43 - 47 题为选考题,考生根据要求作答。

(一)必考题:共 135 分

36. 阅读材料,完成下列要求。(22 分)

粮食生产需要占用耕地资源。不同地区之间的粮食交易可以看作是相应区域间的耕地交易,这部分耕地可称之为虚拟耕地。虚拟耕地流出区一般会承受很大的生态和发展压力。为了实现区域发展的公平性,虚拟耕地流入区应该对虚拟耕地流出区实施生态补偿。图 8 示意我国 2001 年~2015 年各省(市)虚拟耕地净流入/流出年份数量统计(注:统计数据未包含港澳台)。图 9 示意我国虚拟耕地流动格局。

省(市)	净流入年份数量(个)	净流出年份数量(个)	省(市)	净流入年份数量(个)	净流出年份数量(个)
北京	15	0	湖北	3	12
天津	15	0	湖南	0	15
河北	4	11	广东	15	0
山西	15	0	广西	15	0
内蒙古	0	15	海南	15	0
辽宁	5	10	重庆	2	13
吉林	0	15	四川	2	13
黑龙江	0	15	贵州	15	0
上海	15	0	云南	11	4
江苏	15	0	西藏	15	0
浙江	15	0	陕西	14	1
安徽	1	14	甘肃	9	6
福建	15	0	青海	15	0
江西	3	12	宁夏	0	15
山东	1	14	新疆	0	15
河南	0	15			

图 8

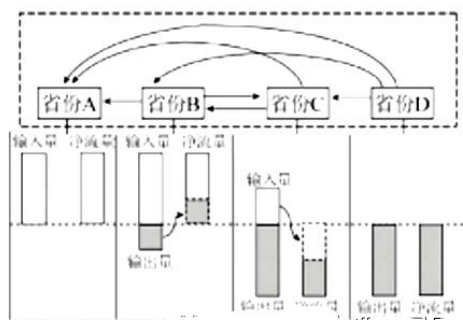



图 9



- (1)我国虚拟耕地空间流动有“北耕南流”的特点,试分析其原因。(4分)
- (2)在表中选择一个符合“省份C”特征的北方省(市),简述其某些年份会成为虚拟耕地流入区的主要原因。(4分)
- (3)列举虚拟耕地流出区可能承受的生态代价。(8分)
- (4)简述生态补偿对虚拟耕地流出省份农业可持续发展的积极意义。(6分)

阅读材料,完成下列要求。(24分)

当地时间2019年7月9日,摩纳哥成为世界第一个实现5G全覆盖的国家,这是该国主要运营商摩纳哥电信基于中国某知名技术有限公司的技术实现的。报道称,5G移动网络提供超高速无线接入,数据传输速度更快,中国某知名技术有限公司是5G技术的先驱。

20世纪50年代以来,摩纳哥政府采取多元化、高附加值和无污染的经济发 展方针,积极推动第三产业全面发展,并取得显著成就,其中尤以金融业发展最为突出。摩纳哥也是欧洲著名旅游胜地,是世界上最富裕的国家之一。图10为摩纳哥地理位置示意图。

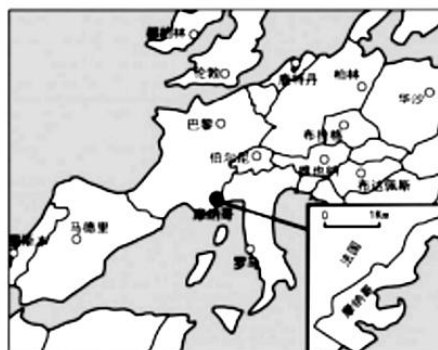


图10

自主招生在线
微信号: zizzs

自主招生在线
微信号: zizzsw

- (1)分析摩纳哥成为世界第一个实现5G全覆盖国家的原因。(8分)
- (2)分析该国积极推动第三产业发展而不着重发展第一、第二产业的原因。(8分)
- (3)阐述中国某知名技术有限公司积极与摩纳哥电信公司合作的意义。(8分)

38. 阅读材料,完成下列要求。(14分)

当前,区块链技术的应用在新的技术革新和产业变革中起着重要作用。

某大型国有控股农业现代化企业集团,依托大规模集约化土地资源,携手高科技企业打造全球首个“区块链大农场”,成立电商平台,加速我国传统农业向信息化、科技化转型升级。

这种“电商平台+基地+农户”的标准化管理模式,打造出种、管、收、储、运、加、销全产业链,并形成闭环,从供给侧提高了经营和管理的效率;该模式做到了数据在生产者和消费者各方面之间公开透明,克服了之前双方无法实现信息对称、难以对接的问题;区块链技术的创新应用,使得所有环节数据都可以实时追踪,既有利于让采购商选择信任的农户,充分调动农户种植放心粮的积极性,打造高附加值农产品;也能让消费者信任满意,解决了食品安全的问题。

结合材料并运用经济生活知识,说明打造农业区块链对我国经济高质量发展的积极影响。(14分)


文科综合能力测试卷 第8页(共12页)

分)

39. 阅读材料,完成下列要求。(12分)

民主法治是激发社会活力、实现社会和谐的重要基础。

2019年8月18日,发布了《中共中央国务院关于支持深圳建设中国特色社会主义先行示范区的意见》(以下简称《意见》)。深圳作为先行示范区,要率先营造彰显公平正义的民主法治环境,首先,就要全面提升民主法治建设水平。《意见》提出:“在党的领导,和完善人民代表大会制度,加强社会主义协商民主制度建设。”



法治建设,立法先行。要体现人大担当,展示人大作为,人大遵循宪法和法律,用足用好经济特区立法权。

公正监管是公平竞争的保障。要加强法治政府的建设,政府和企业的关系应该既“亲”且“清”,加快形成全面深化的改革开放新格局,营造法治化营商环境。进一步“简政放权”,推进“数字政府”改革,构建统一的社会信用平台,让民生服务更便捷、更有温度。

通过搭建协商民主新平台的方式,擦亮政协工作品牌,打好委员履职素质牌,建言资政,凝聚共识,不断提高科学性和实效性,打造协商民主的“深圳样板”。

加大全面普法力度,营造尊法学法守法用法的社会风尚。

结合材料并运用政治生活知识,说明深圳市全面贯彻《意见》的要求对提升民主法治建设水平的积极影响。(12分)

40. 阅读材料,完成下列要求。(26分)

2019年中华人民共和国成立70周年,70年砥砺前行,70年春华秋实。

国庆档电影《我和我的祖国》9月30日上映,上映至第80天,票房突破30亿元。七位风格迥异的导演通过七个短篇故事去表现“国家与个人”的共生关系。电影借鉴了“大历史、小人物”的切入点,里面7个故事的主角儿都并非传统意义上的大英雄,而是普通的、甚至虚构的普通人。但正是这些带有“人情味儿”的普通人,以更贴近生活、贴近观众、贴近你我的姿态,引发了强烈的共情感。

《我和我的祖国》完成了“主旋律”电影儿的“变奏”,用更加艺术化的方式潜移默化的改变了观众对“主旋律”影片的观影期待。聚焦大时代大事件下,普通人和国家之间,看似遥远实则密切的关联,唤醒全球华人的共同回忆,使人们产生了强烈的共鸣。

(1)结合材料,运用创新推动人类思维和文化的发展的有关的知识,分析该电影创作成功的原因。(12分)

(2)结合材料,运用文化生活知识,分析说明电影《我和我的祖国》是如何唤醒全球华人共同回忆,使人们产生了强烈共鸣的?(10分)



(3) 家国情怀自古就深深扎根在每一个国人内心深处。请你写出两句体现家国情怀的名言或诗句。(4分)

41. 爱国主义是个历史范畴,它的具体内容和特点是随着时代的变化而变化的。阅读材料,回答下列问题。(25分)

材料一

近代中国是一个外侵内腐、多灾多难的屈辱时代,也是爱国主义思想喷涌激发、大放异彩的光辉时代。从鸦片战争到五四运动,外国侵略者对中国发动过5次大的侵略战争,虽然每次都以中国

文科综合能力测试卷 第9页(共12页)

的失败而告终,但每次都表现了中国人民的勇敢抗暴精神,中国人民从来没有屈服过。这样的格局决定了中国要战胜自己的对手,不但要与他们进行面对面的勇敢拼搏,而且要向他们学习,学习他们的长处。在鸦片战争中,林则徐的爱国思想还是与忠君联系在一起的。随着民权观念的传播,从19世纪七八十年代王韬、郑观应等发出通下情、开议院的议论开始,到戊戌时期发展成声势浩大的要求“伸民权”的变法运动,从1900年孙中山惠州起义,一直到1911年武昌起义,中国资产阶级在挽救民族命运的斗争中表现出来的英雄气概、英雄行为,并不比欧洲资产阶级逊色。

——摘编自陈旭麓《中国近代史上的爱国主义》

材料二

第二章 大地之子——李四光

努力向学,蔚为国用;艰难回国路,满腔报国情;甩掉“贫油国”的帽子……

第四章 袁隆平——杂交水稻之父

动荡流离的童年;两次重大的选择;安江农校来了一位大学生;禾下梦……

第五章 两弹元勋——邓稼先

少年立伟志;西南联大物理系;娃娃博士;青春热血挥洒戈壁……

第八章 中国中奥的见证人——何振梁

不卑不亢,为国家尊严而斗争;有礼有节,纵横世界体坛;追梦奥运……

——摘编自刘世英《10位功勋人物的奇迹背后》

(1) 根据材料一并结合所学知识,概括近代中国爱国主义的特点,并分析其原因。(15分)

(2) 根据材料二并结合所学知识,概括新中国成立后爱国主义的表现及其意义。(10分)

42. 阅读材料,完成下列要求。(12分)

材料

现实生活中,偏见无处不在。保加利亚摄影师扬科·萨佛诺夫尝试从所有角度观察我们所生活的这个星球,从2009年开始绘制,出版了一本名为《世界偏见地图》的图册,将诸多国际观点收录其中,他的这些讽刺意味十足的刻板印象描绘,真切的加深了不同文化的相互理解。这里节选了三张图片。



图 11 美国人眼中的欧洲



图 12 美国人眼中的亚洲



图 13 美国人眼中的非洲

从材料中提取一个论题,结合所学知识,加以论述。(要求:论题明确,史论结合,表述清晰)

(二) 选考题:共25分。请考生从2道地理题、3道历史题中每科任选一题作答。如果多做,则每科按所做的第一题计分。

43. [地理——选修3:旅游地理](10分)

康养旅游是一种依靠良好的自然生态环境和人文环境,以保持或促进身心健康为动机,旨在实现保健康复、修身养性目的的新型旅游活动,是旅游与医疗养生一体化的产物。海南省是我国著名旅游目的地,目前政府主要倡导的仍为度假旅游,海南省目前还未成为我国较为代表性的康养旅游产业基地。

列举海南省两种特色康养旅游资源,并说明目前当地发展康养旅游可能存在的问题。(10分)

44. [地理——选修6:环境保护](10分)

人类活动导致海洋中二氧化碳浓度不断增加,海洋环境日趋酸化。英国《科学报告》发表的一项海洋生物学研究指出,长时间暴露在高二氧化碳含量(酸化)的海水中,可能会腐蚀覆盖在鲨鱼皮肤表面非常坚硬的鳞片。可见,海洋酸化对海洋野生动植物构成了潜在影响。

分析导致海洋酸化的原因,并推测海洋酸化对全球环境产生的影响。(10分)

45. [历史——选修1:历史上重大改革回眸](15分)

材料

19世纪末,金本位制已成为各大商业国的唯一本位货币制度。国际金本位制的确立及随之而来的国际银价的跌落,使得包括中国在内的实行银本位制的国家在国际经济交往中处于不利地位。《辛丑条约》签订后,列强要求中国将赔款折算成各国货币支付。根据当时国际货币汇率,清政府每年在支付赔款本息之外,还要支付300万两左右的“镑亏”。1902年底,清政府正式请求美国政府出面帮助稳定金本位国家与银本位国家之间的货币比价。美国试图通过普及金本位制稳定国际汇率,便利其贸易和投资;同时,推进美元国际化,与长期主宰国际贸易的英镑展开竞争。1903年9月美国政府任命精琪为赴华“会议货币专使”,他提出17条建议,大致可分三方面:一是划一国内货币,实行金汇兑制度;二是推行新币制和维持金银比价之法;三是中国币制改革应接受外国列强的指导和监督,并聘请外国人全权主持中国币制改革。此外,他认为新货币制度有可能损害地方督抚官员、钱庄甚至外国银行的利益,普通百姓对新币制缺乏了解,以及新币制须获得列强和外商的同情与支持等。1905年11月19日,清廷颁布上谕,公开宣布采用银本位制。

——摘编自崔志海《精琪访华与清末币制改革》

(1) 根据材料,概括精琪来华主导清末币制改革的原因。(7分)

(2) 根据材料并结合所学知识,简评精琪货币改革方案。(8分)

46. [历史——选修2:20世纪的战争与和平](15分)

材料

1918年,随着美国士兵和华人劳工远赴欧洲,流感病毒也在美洲、欧洲、亚洲迅速扩散。各参战国政府和官员为了安抚民心士气,都实行严格的新闻管制,不允许把流感渲染成“瘟疫”。英法美所有城市的卫生部门都表示,这不是大问题。实际上仅仅只在美国费城一地,6周内就死了12,000人,医院陷入瘫痪,医护人员严重不足。1918年11月,德国在战争和流感的双重压力下宣布投降。到1920年春季,肆虐了两年的“大流感”才逐渐消失。据统计,这次大流感,直接感染了全球1/3的人口(当时总人口17亿),造成至少约2000万人死亡。大流感后的100年内,抗生素和抗病毒药物的发明用于治疗流感引起的肺炎,各国的卫生公共政策都开始了变革和重组,建立起更先进的疾病监视体系,提倡全民卫生保健和廉价医疗,确保大规模传染病被掐灭在萌芽状态。人们也认识到,卫生问题是一个公共问题,公开、透明对于疫情防控的意义重大,更清洁的水源,更丰富的营养,更好的公共条件和私人卫生意识,才是抵御疾病的最好办法。

——摘编自[美]约翰·M·巴里《大流感:历史上最致命瘟疫的史诗》等

- (1)根据材料并结合所学知识,概括大流感疫情恶化的原因。(7分)
- (2)根据材料并结合所学知识,简析大流感的作用。(8分)

47. [历史——选修4:中外历史人物评说](15分)

材料

甲午战争期间,清廷派湘军名将刘坤一抗敌。因清军的作战思想、战斗士气以及武器装备已远落后于日军,几次主动进攻溃败下来,清政府再无心抵抗。刘坤一痛定思痛,苦苦寻找御敌良策。一日,湘军一个伏击战俘获了十几名日本兵。接下来,他每天要派出比平时多几倍的探子刺探日军,每天晚上综合各方面信息反复研究。两个月后,他向朝廷上了一道奏折,产生了巨大轰动。原来,他发现那次被伏击日军全是从后方招来的老弱病残,他判断日军的兵力开始吃紧。经过情报侦察和数据分析,他想到了持久作战,正如他在奏折中所说的:中国地大物博,日军战线太长,后方补给困难,只要抱定决心,终将拖垮他们,况且,还可以不断在战斗中消耗敌人的有生力量,日军必败。刘坤一还在奏折中痛陈,如像以往主和割地赔款,不如把赔款充当军费……然而,脆弱的清廷最终仍然签订了丧权辱国的《马关条约》。不过,刘坤一的持久战思想在近代历史上仍有巨大的影响力,他的战略在之后的抗日战争中也起到了非常大的指导性作用。

——摘编自《百家讲坛蓝版》2016年第1期

- (1)根据材料并结合所学知识,说明刘坤一“持久抗日”与中国共产党人《论持久战》提出的相同原因。(10分)
- (2)根据材料并结合所学知识,如何历史地评价“刘坤一”。(5分)

自主招生在线创始于 2014 年，致力于提供自主招生、综合评价、三位一体、学科竞赛、新高考生涯规划等政策资讯的服务平台。总部坐落于北京，旗下拥有网站（www.zizzs.com）和微信公众平台等媒体矩阵，用户群体涵盖全国 90% 以上的重点中学师生及家长，在全国自主招生、综合评价领域首屈一指。

如需第一时间获取相关资讯及备考指南，请关注**自主选拔在线**官方微信号：**zizzsw**。



识别二维码，快速关注

福利：

- 1、关注后回复“答题模板”，即可获得高中 9 科答题模板资料
- 2、回复“清北华五”，即可获得清北华东五校特殊选拔考试模式及真题