

临沂市普通高中学业水平等级考试模拟试题

历史

2023.5

注意事项:

1. 答卷前,考生务必将自己的姓名、考生号等填写在答题卡和试卷指定位置。
2. 回答选择题时,选出每小题答案后,用铅笔把答题卡上对应题目的答案标号涂黑。如需改动,用橡皮擦干净后,再选涂其他答案标号。回答非选择题时,将答案写在答题卡上。写在本试卷上无效。
3. 考试结束后,将本试卷和答题卡一并交回。

一、选择题:本题共 15 小题,每小题 3 分,共 45 分。每小题只有一个选项符合题目要求。

1. 对于魏、齐等大国的君主,孟子劝之以仁政;对于滕、宋等小国的君主,孟子仍认为只要推行仁政,便可无敌于天下。孟子“仁者无敌”的主张

- A. 指出了当时富国强兵的途径
- B. 适应了国家统一的历史趋势
- C. 总结了各国治国理政的经验
- D. 体现了儒家思想的现实追求

2. 图 1 是西汉初年“五关”示意图。这些关城的主要作用是

- A. 增加中央政府财政收入
- B. 促进各地的经济往来
- C. 防范少数民族政权袭扰
- D. 守护关中地区的安全

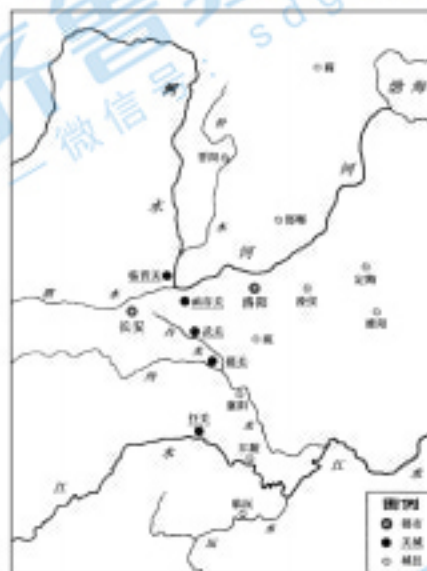


图 1

3. 表 1 是辽宋夏金元时期少数民族首领的部分施政措施。由此可见,在这些政权中

表 1

少数民族首领	措施
耶律阿保机	重用汉人,制定法律;改革习俗;参照汉文化改造契丹文化。
李元昊	依照宋制设立百官,参照宋制定朝仪。
完颜阿骨打	命人依据由汉字改制的契丹字拼写女真语言,创造女真文字。
忽必烈	注意选用人才,重用汉臣;采用汉法,建立各项政治制度。

- A. 统治者的汉文化素养深厚
 - B. 游牧文化已经走向没落
 - C. 社会发展出现了新的趋势
 - D. 因俗而治成为普遍原则
4. 清康熙后期,采用当时世界上先进的经纬度测绘技术在全国范围内进行测绘,绘成《皇舆全览图》;乾隆时期绘成更为完整详细的全国地图《乾隆内府舆图》。清朝还进行了三次全国

地理总志《大清一统志》的编纂,各级地方政府也有定期编修地方志的任务。这主要反映了

- A. 清朝政府的治理能力全面提升
- B. 统一多民族国家版图基本奠定
- C. 中央和地方的联系进一步加强
- D. 西学东渐的风潮已经初步兴起

5. 表 2 是清末官方和乡绅绘制的部分耕织图的信息。其创作目的在于

表 2

作品	时间	序(跋)摘抄
《桑织图》	1889 年	绘图作画,刻印广布,俾乡民一目了然。
《蚕桑图》	1890 年	分绘图说,付诸石印,分给诸屯读书之士,转相传阅,俾习者了然心目……择人指授机宜,当可尽得其法。

- A. 倡导重振农村经济活力
- C. 满足新型经营方式需要

- B. 提高民众艺术水平
- D. 促进生产技术革新

6. 1926 年 11 月,斯大林在共产国际执委会中国委员会会议上指出,“武装的革命反对武装的反革命”是中国革命的“特点之一和优点之一”。这一时期的中国革命

- A. 接受了共产国际的领导
- C. 实现了各阶级的大联合

- B. 打击了列强在中国的代理人
- D. 反映了中共斗争策略的成熟

7. 1942 年,日本华北方面军参谋部的一份文件称,由于从第三国输入棉花的途径已被完全断绝,华北的棉花成了日本纺织业所必需的重要来源。基于此,日本侵略者在华北加强了

- A. 以华制华
- B. 以战养战
- C. “三光”政策
- D. 囚笼政策

8. 1980 年,广东肇庆农民陈志雄跨队承包鱼塘,雇用了几名雇工,其做法引发了全国的关注。1981 年,《人民日报》发表了题为《一场关于承包鱼塘的争论》的文章,并开辟《怎样看待陈志雄承包鱼塘问题》专栏,一共刊登了 21 篇来信和讨论文章。关于此事件的讨论

- A. 促进了改革意识的发展
- C. 提高了农民生产积极性

- B. 推动了多种经济成分并存局面出现
- D. 体现了经济体制改革正走向深入

9. 1998 年,第九届全国人大常委会第五次会议通过《中华人民共和国村民委员会组织法》,并在决议中指出:村民委员会是村民自我管理、自我教育、自我服务的基层群众性自治组织,实行民主选举、民主决策、民主管理、民主监督。这表明

- A. 村民的集体意识显著增强
- C. 村民自治具有了法律保障

- B. 村民的精神生活日益丰富
- D. 村民的选举权得到扩大

10. 图 2 是世界七大古文明示意图。这反映出早期人类文明

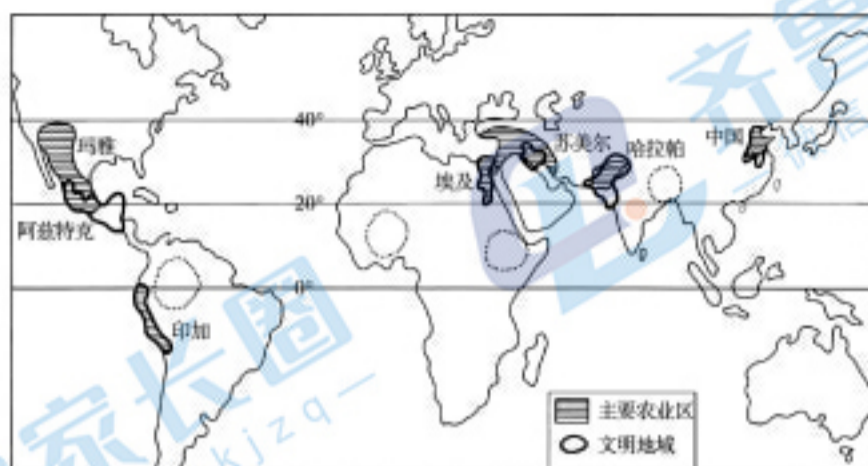


图 2

- A. 大致兴起于同一历史时期
 B. 区域涵盖世界各大洲
 C. 发展程度受制于地理因素
 D. 独立发展且自成体系
11. 19 世纪 20 年代以后,下午茶逐渐成为英国人的生活习惯。之前,英国人的食物以肉类为主,现在则是面包等茶点为主,辅以少量的肉类。下午茶进入英国人的生活之后,晚饭推迟到了 19 点以后。这主要反映了
- A. 工业化时代奢靡风气的盛行
 B. 不同饮食文化的交流融合
 C. 英国茶叶消费量的增加
 D. 普通民众生活水平的提高
12. 图 3 是荷兰的运河分布图以及巴拿马运河、苏伊士运河的地图。较之于运河开通之前,新的路线

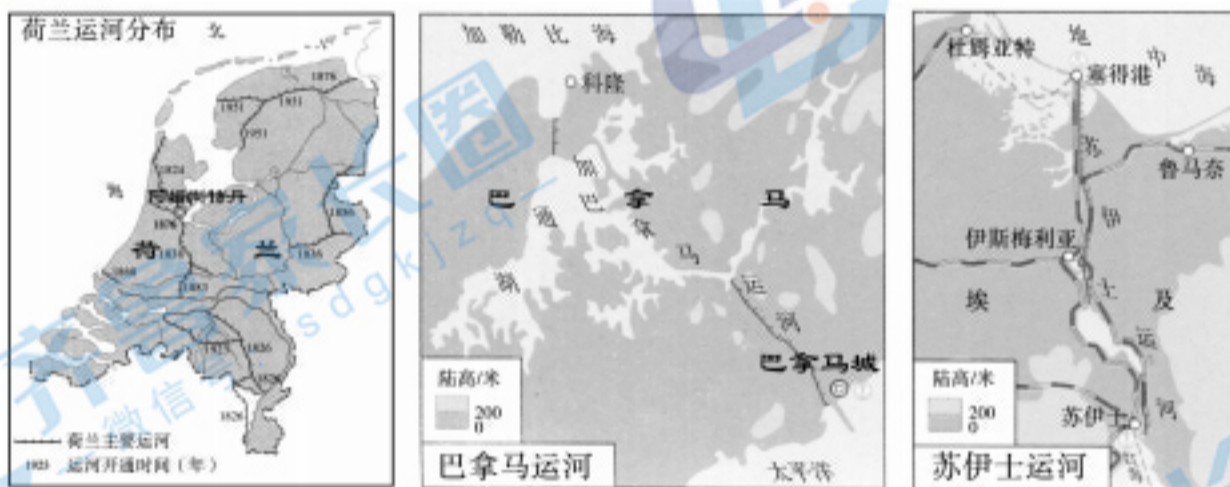


图 3

- A. 降低了运输成本
 B. 连接了陆海交通
 C. 缩短了交通里程
 D. 摆脱了行程风险
13. 图 4 是英国作者吉尔伯特于 1948 年 7 月 14 日创作的漫画。漫画中西风神鼓起双腮,向寓意欧洲的大风车吹来劲风,吹走了欧洲的严寒,大风车周围呈现出一派忙碌的景象。画中“来自西边的风”
- A. 源于战后国际秩序的稳定
 B. 旨在加强国际交流合作
 C. 有利于西欧各国的联合
 D. 促进了美欧国际地位平等



图 4 来自西边的风

14. 1931年,苏联向国外购买的机器设备占世界设备出口总量的1/3,1932年这一占比上升到了1/2左右;1932年在苏联各部门工作的外国专家有两万人左右,在厂矿企业中,还有大量的外国技术工人。由此推断,此时
- A. 西方国家受到经济危机严重打击
B. 西方国家大力支持苏联经济建设
C. 苏联的经济体制具有强大吸引力
D. 苏联主动改善与资本主义国家关系
15. 1951年的《法德历史学家协议》在谈及一战的原因时,既不提法国的复仇,也不提德国的军国主义,提出“在1914年,法国的政治策略不是由试图发动一场向德国复仇的战争所决定的”,而“德国的战争策略也不旨在挑起一场欧洲战争”。此协议
- A. 顺应了和平发展的时代潮流
B. 消除了法德两国和解的障碍
C. 推脱了两国发动战争的责任
D. 违背了史学求真求实的原则

二、非选择题:本题共4小题,共55分。

16. (13分)阅读材料,回答问题。

明代长城

材料一

明代长城工程极为浩繁。以北京西北的八达岭一段为例:墙身用整齐的条石特制的大型城砖砌成,平均高6.6米,墙基平均宽6.5米,顶宽约5.5米。墙身南侧,每隔70-100米就有门洞,循石梯可通墙顶。墙顶使用三四层巨砖铺砌,宽4.5米,可容五马并骑。墙上还有砖砌的女墙和垛口,用以瞭望和射击。城墙上每隔不远,筑有巡逻放哨的墙台或敌楼。

长城大多是依循山岭、河谷,或遮阻荒漠而行,为了发挥防御作用,必须随地势起伏选择险要之处修筑。在特别险要之处,还建筑关塞,修成双重或多重的城墙,层层设防。在长城两侧的制高点,每隔一定距离兴建烽火台,发现敌情就点燃烽火(白昼燃烟,夜间举火),传递紧急的军事情报。

——摘编自陈正祥《中国历史文化地理》

材料二

关于修筑长城的建筑材料,在没有大量用砖以前,主要是土、石和木料、瓦件等。明朝的长城在许多重要的地段采用了砖石垒砌城墙,所用的建筑材料更多。除了土、石、木料之外,还需用大量的砖和石灰。这些建筑材料都采用就地取材的办法。

运输是修筑长城施工中的重要问题。除了人力的运送之外,当时已经利用了简单的机具,如手推小车。在运送上千斤的大石上山时还采用了滚木和撬棍,并且在山上安置绞盘

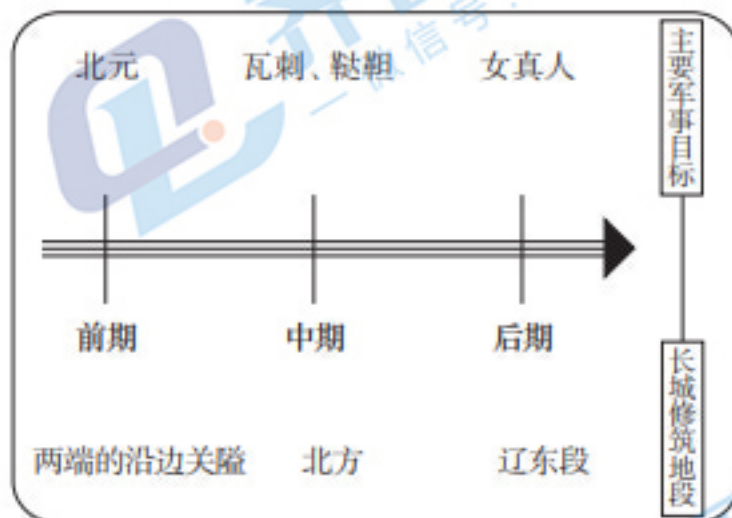


图5 明代修筑长城的过程

把巨大的石块绞上山脊去。在跨过深沟峡谷运送砖瓦和石灰时,还采用了“飞筐走索”的办法。

——摘编自罗哲文《长城》

材料三

九镇的驻地和管辖军堡数量统计表

镇名	总兵驻地	前线军堡及重要关口数量	资料来源
辽东镇	辽宁辽阳市 (后驻北镇)	军堡 150 余个,关城 11 座	刘谦著《明辽东镇长城及防御考》
蓟镇	河北唐山市 迁西县三屯营	军堡及关堡共 270 个左右,关口约 126 个	华夏子著《明长城考实》、《四镇三关志》
宣府镇	河北宣化市	军堡 60 多个,关口约 12 个	华夏子著《明长城考实》
大同镇	山西大同市	军堡共约 60 个,关口约 44 个	华夏子著《明长城考实》
山西镇 (又称太原镇)	山西偏关县		
延安镇 (又称榆林镇)	陕西榆林市	军堡 36 个,关口约 24 个	艾冲著《明代陕西四镇长城》
宁夏镇	宁夏银川市	军堡 38 个,关口约 13 个	
固原镇	宁夏固原县	军堡 35 个,关口约 10 个	
甘肃镇	甘肃张掖市	军堡 72 个,关口约 15 个	
总计	九镇	军堡共约 730 余个,关口共约 240 个左右	

根据上述材料,列举至少三个对明长城进行研究的角度,并选择两个进行阐述。(13分)

17. (12分) 阅读材料, 回答问题。

毛泽东农村调查的实践与文本

材料

调查时间	调查概况	文本名称与成文时间
1923. 4	派人在湖南衡山岳北进行调查	未成文
1925. 2	在韶山附近做社会调查	未成文
1926年		《中国农民中各阶级的分析及其对于革命的态度》1926. 1; 《湖南农民运动的策略》1926. 8; 《国民革命与农民运动——〈农民问题丛刊〉序》1926. 9. 1; 《江浙农民的痛苦及其反抗过程》1926. 11. 25; 《湖南的农民》1926. 11. 30
1927. 1. 4—2. 3	在湖南湘潭、银田、韶山、湘乡、横山、醴陵做社会调查	《湖南农民运动考察报告》1927. 3 《中国佃农生活举例》1927. 3
1927. 10	在酃县水口(井冈山西麓)调查	未成文
1927. 11	在宁冈调查	《宁冈调查》遗失
1928. 2	在永新调查	《永新调查》遗失
……		《井冈山土地法》1928. 12
……		《兴国县土地法》1929. 4
1929. 6	在闽西六县进行农村调查	《中共闽西第一次代表大会关于土地问题决议案》1929. 7
1930. 5	在寻乌县进行调查	《寻乌调查》1931. 1
……		完成《调查工作》一文, 后改名为《反对本本主义》1930. 5
1930. 10	在兴国县调查	《兴国调查》1931. 1
1930. 10	听取中共赣西南特委常委王怀等人关于当地富农与贫雇农在土地革命中斗争情况的报告后写的调查材料	《分田后的富农问题——永新及北路的情形》1930. 10
1930. 10	在去吉安途中对东塘、大桥、李家坊等处土地革命情况进行调查	《东塘等处调查》1930. 11
1930. 11	参加赣西行委扩大会议与江西省行委扩大会议时听取的报告记录	《赣西南土地分配的情形》1930. 11
		《江西土地斗争中的错误》1930. 11. 14
1930. 11. 21	在吉水县木口村调查	《木口村调查》1930. 11. 21
1933. 2	在瑞金县叶坪召开座谈会	《怎样分析阶级》1933. 6
1933. 11	在长冈乡调查	《长冈乡调查》1933. 11
1933. 11	在才溪乡调查	《才溪乡调查》1933. 11

——孟庆延《理念、策略与实践：毛泽东早期农村调查的历史社会学考察》

以“毛泽东的农村调查”为主题写一则历史短文。(12分)

(要求：表述成文，叙述完整；立论正确，史论结合；逻辑严密，条理清晰。)

18. (14分) 阅读材料, 回答问题。

近代以来我国工业空间格局

材料

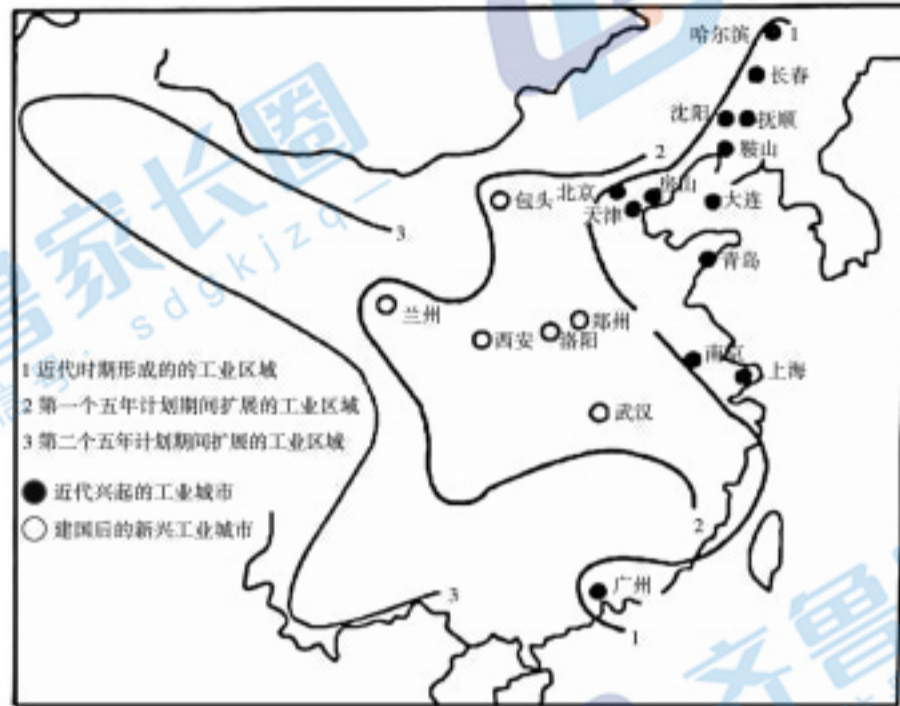


图6

——摘自王军等《我国工业空间格局演化的脉络特征与启示》

对近代以来我国工业空间格局演变进行阐释。(14分)

19. (16分) 阅读材料, 回答问题。

殖民侵略与工业文明

材料一



图7

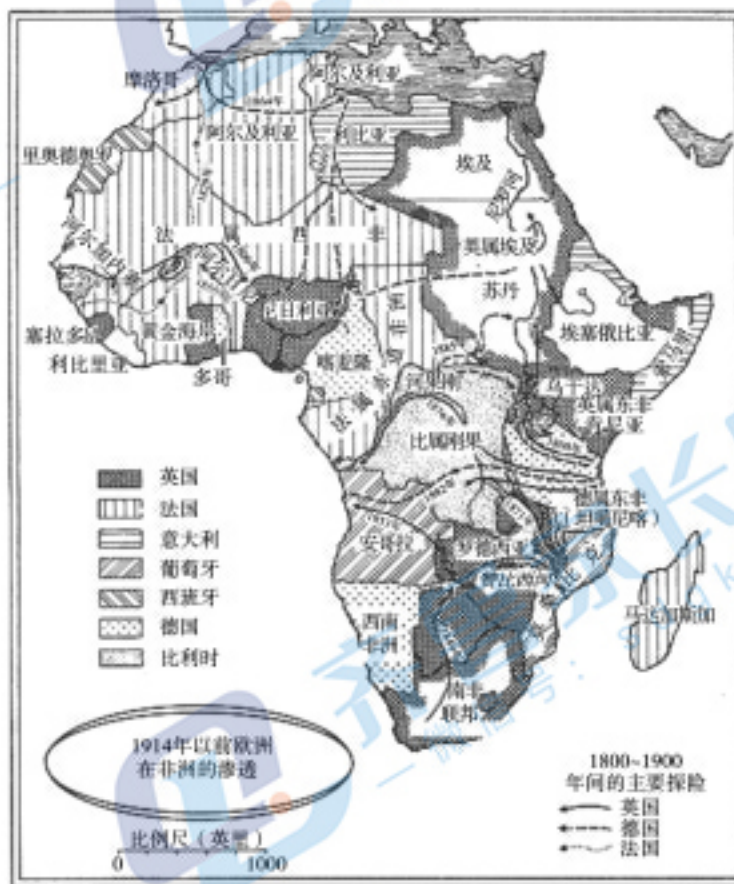


图8

材料二

19世纪中期以前, 如果想征服热带非洲和亚洲, 无论从生命还是资源的耗费来说, 都无疑是巨大的。在持续了四百年的奴隶贸易时期, 西非曾被人们称作“白人的坟墓”。19世纪60年代, 海底电缆铺设成功, 电报机为统治遥远的殖民帝国提供了很大帮助。蒸汽机船, 无论是远洋船还是内河船, 都大幅削减了通信和交通成本, 在帮助欧洲人渗透至亚非内陆等方面起到了重要作用。到了19世纪70年代, 后膛装填的来福枪已经十分常见, 不久之后, 连发枪和机关枪也加入了它的行列。很多场与非洲和亚洲人的战斗简直就是屠杀。

——[美]弗兰克·萨克雷约翰·芬德林主编《世界大历史(1799—1900)》

材料三

在政治上, 非洲各国原有的部落组织、酋长制度陷于崩溃边缘, 从欧洲引进了西方的司法和管理体制。在经济上, 非洲被卷入资本主义世界市场, 欧洲商品的输入破坏了原有的经济形态, 形成了经济畸形发展的单一制或矿产制。在欧洲人和非洲人开办的工厂和企业里, 出现了一批雇佣工人。在文化上, 宗主国的语言成为殖民地的官方语言, 形成了所谓英语国家、法语国家。

——王斯德主编《世界通史·第二编: 工业文明的兴盛——16~19世纪的世界史》

- (1) 列表比较欧洲殖民国家早期入侵非洲与19世纪中期以后侵略非洲活动的不同。(8分)
(要求: 在给定的答题框中列表比较, 表格设计合理, 角度清晰, 内容准确, 表达精炼。)
- (2) 谈谈你对工业文明的认识。(8分)