

绝密★启封并使用完毕前

安庆市 2023 年高三模拟考试（二模）

文科综合试题

命题：安庆市高考命题研究课题组

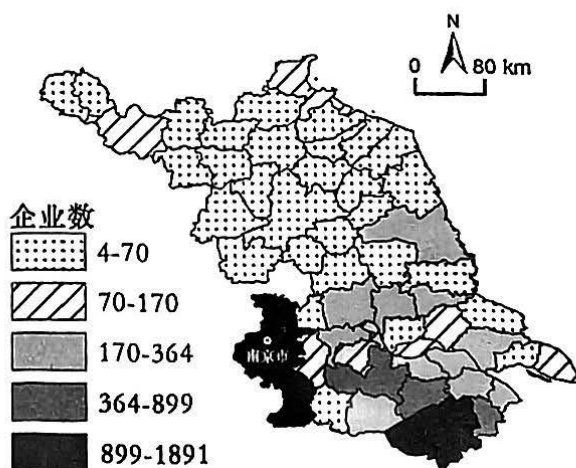
考生注意：

1. 本试卷分第 I 卷(选择题)和第 II 卷(非选择题)两部分，共 300 分。考试时间 150 分钟。
2. 请将各题答案填写在答题卡上。
3. 本试卷主要考试内容：高考全部内容。

第 I 卷(选择题 共 140 分)

一、选择题：本题共 35 小题，每小题 4 分，共 140 分。在每小题给出的四个选项中，只有一项是符合题目要求的。

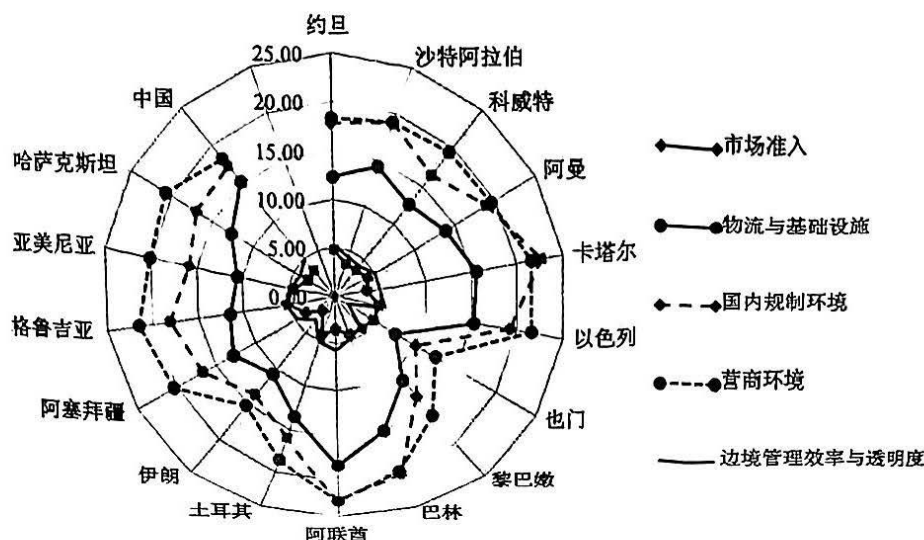
江苏作为全国首个创新型建设试点省，近年来专利申请和授权量呈持续增长态势，研发企业已成为创新型省份建设的主力军，与高等学校具有较高的空间匹配性。下图示意江苏省研发企业空间数量等级特征。据此完成 1~3 题。



1. 江苏省研发企业空间数量等级特征是
A. 东南部差异悬殊 B. 西北部密度较大 C. 地区间相对均衡 D. 集聚程度比较低
2. 南京市研发企业云集的重要原因是
A. 地域平坦开阔，土地资源丰富 B. 外来人口迁入，劳动力成本低
C. 高校数量众多，科教资源雄厚 D. 运输方式多样，交通发达便捷
3. 为提升企业自主创新能力，江苏省宜
①开展国际协作研发，促科技金融结合 ②推动人才、技术、资本等向企业集聚
③引进国外先进技术，加强消化和吸收 ④建设企业研发机构，强化产学研合作
A. ①② B. ③④ C. ①③ D. ②④

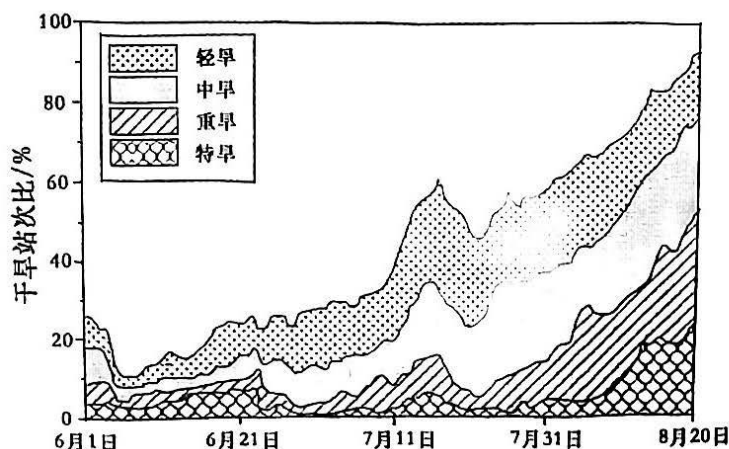
文科综合试题第 1 页（共 12 页）

在全球化背景下，市场准入、基础设施、法律法规、营商环境、海关效率等诸多因素影响贸易投资便利化，地处“一带一路”沿线的中国-中亚-西亚经济走廊，因各国国情不同，各国差异大。下图为中国-中亚-西亚走廊国家贸易投资分指标得分示意（数字越大，代表投资环境越好）。据此完成4~6题。



- 对国家的贸易投资便利化影响最大的是
A. 市场准入 B. 基础设施 C. 法律法规 D. 营商环境
- 下列国家中，贸易投资最便利的非阿拉伯国家是
A. 阿联酋 B. 以色列 C. 阿塞拜疆 D. 科威特
- 中国-中亚-西亚经济走廊的建设，利于各国
①增加关税壁垒 ②经济结构趋同 ③完善基础设施 ④加快经济发展
A. ①④ B. ②③ C. ①② D. ③④

2022年夏季，长江流域发生了异常的高温干旱。6月长江流域北部部分地区出现气象干旱，7月四川、重庆、湖北、湖南、安徽、江西6省（市）表现严重，进入8月，流域内74.7%的气象台站存在旱情。下图示意2022年6月1日至8月20日长江流域各类型干旱站次比演变。据此完成7~8题。



文科综合试题第2页（共12页）

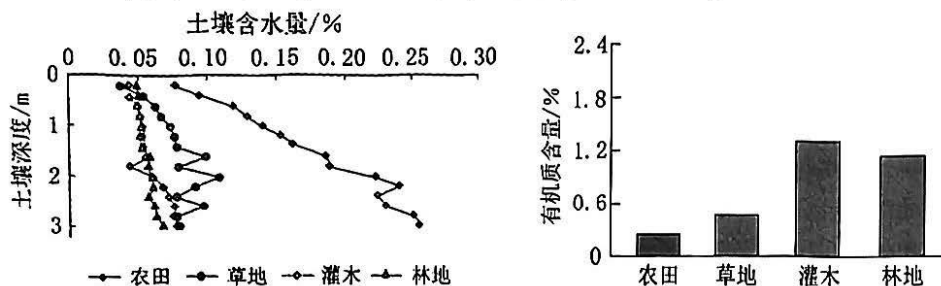
7. 图中干旱站次比的演变表明

- A. 大气降水日益减少
B. 受灾范围总体扩展
C. 地下水位逐渐抬升
D. 植物蒸腾不断增强

8. 推测与此次长江流域旱情成因有关的是

- A. 西太平洋副高偏强并西伸
B. 亚洲高压形成及强度增大
C. 夏季风的强度较常年偏弱
D. 前期厄尔尼诺事件的持续

黄土高原某小流域采用草地、灌木、林地三种植被对流域内部分地区进行生态恢复。研究表明，植被恢复方式能显著影响土壤水分含量和有机质含量。下左图示意不同植被恢复方式0~3m土壤含水量、右图示意不同植被恢复方式0~1m土壤有机质含量。据此完成9~11题。



9. 与草地、灌木、林地相比，农田土壤含水量最高是由于其

- A. 平坦地形水分下渗较多
B. 缺少植物冠层截留
C. 农作物主要消耗浅层水
D. 涵养水源能力较强

10. 不同植被恢复方式0~1m土壤含水量与有机质含量的关系及原因是

- A. 正相关，乔灌植被消耗水分及生物残体多
B. 负相关，乔灌植被消耗水分及生物残体多
C. 正相关，土壤含水量低制约植物根系生长
D. 负相关，土壤含水量低制约植物根系生长

11. 为平衡土壤水分和有机质含量，有利于生态恢复的措施为

- A. 栽种灌木植被
B. 撂荒草地
C. 合理配置植被
D. 修建梯田

12. 实践发展永无止境，我们推进马克思主义中国化时代化也永无止境。当代中国正经历人类历史上最为宏大而独特的实践创新，世界百年未有之大变局加速演变，机遇和挑战都前所未有，大量理论和实践课题亟待回答。对此，我们必须

- ①解放思想，实事求是，用科学理论检验实践创新成果
②更好地把坚持马克思主义和发展马克思主义统一起来
③高举马克思主义伟大旗帜，为解决人类问题贡献具体方案
④坚持把马克思主义基本原理同中国实际和时代特征相结合

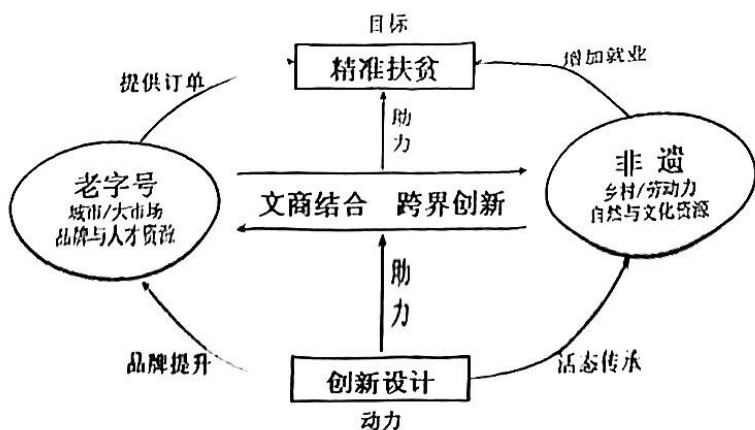
- A. ①②
B. ①③
C. ②④
D. ③④

13. 2022年11月，教育部发布的《关于进一步加强新时代中小学思政课建设的意见》指出，新时代的青年有着不可推卸的责任和义务助力“强国梦”，共圆“中国梦”。为此新时代的青年要

- ①将小我融入大我，为实现中华民族伟大复兴贡献青春力量

- ②追求个人奋斗，通过个人的奋斗就能实现自己的人生梦想
③担当起时代使命，坚定理想信念，勇做新时代的弄潮儿
④发扬梦想精神，在实现个人利益的奋斗中书写人生华章
- A. ①② B. ①③ C. ②④ D. ③④
14. 据统计，2022年中央企业累计实现营业收入39.4万亿元，同比增长8.3%；实现利润总额2.55万亿元、净利润1.9万亿元，同比分别增长5.5%和5%。中央企业在自身稳健发展的同时，采取减免房租、货车延期贷款免息、降低中小企业宽带专项费用等措施，积极助力中小企业纾困解难，在能源保供工作中发挥了关键作用。这说明中央企业
- ①在我国国民经济中居于主体地位 ②是保障和维护人民利益的重要力量
③引领和主导着中小企业经营战略 ④在关系国计民生领域发挥重要作用
- A. ①③ B. ①④ C. ②③ D. ②④
15. 针对现实生活中人们可能遇到的疾病、失业、养老、灾害、生活贫困等问题，国家依法建立起由政府和社会承担主要责任的社会保险、社会救助、社会福利、社会优抚等社会保障“安全网”，对我国经济和社会发展产生重要影响。关于社会保障，以下推导合理的是
- ①防范和化解居民的生存危机→保障居民的基本生活权利→稳定社会生活秩序
②调节不同社会群体之间的利益关系→化解社会矛盾和冲突→促进社会公平正义
③调动社会生产积极性→实现劳动报酬与劳动生产率提高同步→推动社会健康发展
④保障人民基本生活→调节过高收入→守住生活安全和生存权利的“最后一道防线”
- A. ①② B. ①④ C. ②③ D. ③④
16. 2022年是十六届安庆市政协开局之年。一年来，市政协聚焦“村要自然、镇当城建”，开展“推进镇村规划建设与管理”资政会，并作为1号重点提案由市委书记领衔督办。其中农村建房质量安全管控、农村建筑风貌管控、执法队伍改革等建议落实到有关文件中，成为助推民生改善的实际行动。这表明安庆市政协
- ①汇聚社情民意，不断丰富协商民主形式
②聚焦民生热点焦点，切实增进人民福祉
③积极参政议政，推动决策科学化和民主化
④强化民主监督，提升基层政府的治理效能
- A. ①② B. ①③ C. ②③ D. ③④
17. 为修订出符合实际需求的居民公约，长沙市云塘社区两委班子成员创新工作方式，首先分头，访小区，倾听民声；在广泛征求各方意见的基础上，由相关部门形成居民公约审议稿；最后，社区党员代表大会、居民代表大会民主表决通过。云塘社区居民公约的修订过程
- ①创新和丰富了群众自治的具体方式
②调动了居民参与社区管理的积极性
③保障了每个居民社区事务的决策权
④提升了社区管理在国家治理中的地位
- A. ①② B. ①④ C. ②③ D. ③④

18. 下图是某地“文商融合”的发展模式。该模式



- ①反映了综合思维能够决定事物的发展 ②表明人们可以根据需要建立新的联系
③体现了辩证联系观和综合的思维方法 ④证明全部社会生活在本质上是实践的

A. ①② B. ①③ C. ②④ D. ③④

19. 2023年2月15日施行的《四川省生育登记管理办法》(以下简称《办法》),取消了对登记对象是否结婚的限制条件,取消了办理生育登记时生育数量的限制,简化了生育登记要求。对此《办法》,网友们进行了激烈的争论。之所以会出现激烈的争论,是因为

- ①认识的对象是不断变化的,人们不能取得一致认识
②人们的认识总是受自己的立场、观点等条件的限制
③在同一条件下对同一对象的真理性认识可以有多个
④《办法》是否科学和合理,还没有经过实践的检验

A. ①② B. ①③ C. ②④ D. ③④

20. 2023年2月6日,农历正月十六,一年一度的“正月十六走太平”系列活动在安徽省全椒县拉开帷幕。“正月十六走太平”是全椒县历史悠久、富有特色、极具影响、群众自发的传统民俗活动,自东汉初年开始延续至今两千年盛况不衰,是中国历史上最早、传承时间最长的全民健身走活动。只有走完太平桥,年节才止,新的一年才算开始。“正月十六走太平”活动

- ①可以教化育人,提高人们的身心健康素质,培养健全人格
②是经济、政治的集中体现,能给予经济、政治以重大影响
③能引导人们认识真善美,对提升人们文明素养起决定作用
④展现出中华优秀传统文化源远流长、博大精深的主要特点

A. ①② B. ①④ C. ②③ D. ③④

21. 2023年2月8日,外交部发言人表示,中美关系不是你输我赢、你兴我衰的零和博弈,中美各自取得成功,对彼此是机遇而不是挑战。中方不回避、也不惧怕竞争,但我们反对以竞争定义整个中美关系。对此,我们的正确理解是

- ①中国必须不断提升国家实力,坚决维护国家利益
②在多极化发展过程中,国际体系正发生深刻变革
③国际关系的形式复杂多样,国家间既竞争又合作
④世界日益形成你中有我、我中有你的命运共同体

A. ①② B. ①③ C. ②④ D. ③④

李某婚前有一套房产。与刘某结婚多年，又购置两套房产，还有存款 50 万元。此外，刘某婚后曾遇车祸获赔 10 万元。下列说法正确的是

- ①李某婚前的一套房产属于其个人财产 ②刘某获赔的 10 万元属于夫妻共同财产
③夫妻共同财产包括两套房产和 50 万元 ④夫妻共同财产包括三套房产和 60 万元

- A. ①③ B. ①④ C. ②③ D. ②④

合乎逻辑的思维要求明确概念、准确判断、正确推理。下列分析正确的是

概念、判断或推理	逻辑错误
形式主义者就是形式主义地观察和处理问题的人	①犯了“定义过窄”的逻辑错误
必修课是学生必须学习的课程，劳动课是学生必须学习的课程，所以劳动课是必修课	②违反了“中项至少要周延一次”的逻辑规则
有些食物是能增强人的记忆力的，换位推理得：有些不能增强人的记忆力的不是食物	③违反了“在前提中不周延的项，在结论中也不能周延”的逻辑规则
侵权责任构成要件有违法行为、损害事实、因果关系、主观过错	④犯了“划分不全”的逻辑错误

- A. ①② B. ①④ C. ②③ D. ③④

龙山时代晚期，淮河作为文化上的南北分界被完全确立，淮河流域成为四大强势文化区交互影响的舞台，在其西北部，诞生了中国历史上第一个王朝——夏。材料表明

- A. 自然环境影响文化交流 B. 文化汇融催生国家文明
C. 淮河成为中华文化中心 D. 夏朝国家结构较为严密

东汉明帝时，青州刺史王望，因本州发生旱灾，“因以便宜出所在布粟，给其禀粮，为作褐衣。事毕上言，帝以（王）望不先表请，章示百官，详议其罪。”幸亏尚书仆射钟离意引《春秋》大义论之，“帝嘉（钟离）意见，赦而不罪”。在这种“以便宜”制度下

- A. 奖惩由君主的好恶决定 B. 君主专制下的权利下放
C. 朝廷失去控制地方能力 D. 官员的能动性得以发挥

西夏旧址黑水城出土的 12 件土地买卖契约中，除了小石城通判出售撒 100 石种子土地（约合 1000 亩，250 宋亩）外，其余为 7.5 至 50 宋亩。这说明此时西夏

- A. 畜牧业发展迅速 B. 商品经济的繁荣
C. 自耕农经济受挫 D. 移植北宋的制度

清代大吏带兵备衔的道是行政与军事相兼的职官，具有无所不统的地方事权并负有巡查地方的重要责任。各道辖有数量不等的府和直隶州，但又都不是严格意义上的一级正式政区，最多只能算作是一级准政区。清代道的设立

- A. 强化了中央对地方的管控 B. 造成了地方行政效率低下
C. 标志着皇权专制达到顶峰 D. 严重制约了地方社会发展

两次鸦片战争期间，中国内外洋面海匪活动十分猖獗，官方采取多种措施，但收效甚微。基于国防责任和被惩办的各种压力，福建和广东的一些文武官员开始与英军尝试合作。材料表明

- A. 中外反动势力公开勾结 B. 部分官员的海洋主权意识淡薄
C. 清水师尝试国际化合作 D. 政府权力下移与地方势力崛起

历史学者季云飞认为“武昌起义以前，民族资产阶级、农民、市民和军人的‘反满式’成为政治生态的主流……而武昌起义后国民政治心态演化，出现‘崇权威’及‘追求秩序安定’两大特征”。这一转变

- A. 加速了保路运动的爆发
- B. 促进了民族工业春天到来
- C. 埋下了帝制复辟的隐患
- D. 突破了旧三民主义的束缚

30. 下图是一份从重庆发往上海的绝密电报底稿。因为年代久远，这份泛黄的电报稿上没有确切的发报时间，只是注明“甲发电第 377 号”。戴笠将这个情报提供给重庆防空单位，作为施放警报的根据。由此推断该电报发送的背景是

“限一个小时到上海……该白俄（一名参加日本特务机构的白俄罗斯人）如能将重庆敌方向谍机关及其负责人报告吾人因而破译者，吾人决予重赏，目前如由陈先生担保，吾人亦可先予以若干之资助也。”

- A. 东北三省沦陷
- B. 日本策划华北事变
- C. 全面抗战爆发
- D. 远征军赴缅甸作战

31. 新中国成立后相当长的一段时间内，一直延续着传统的南粮北调的格局。但到了 80 年代却发生了逆转，形成了北粮南调的粮食流动格局。这主要是因为

- A. 自然地理条件的变化
- B. 社会主义经济体制改革的成效
- C. 国内物流体系的改善
- D. 社会主义市场经济目标的确立

32. 希罗多德的《历史》记载：梭伦周游列国期间曾拜访被称为最富裕的人——吕底亚国王克洛伊索斯。国王问他谁是最幸福的人，梭伦认为是雅典人泰鲁斯，因为他有出色的子孙且为国战死沙场而获国葬。这种幸福观体现了

- A. 城邦利益至上原则
- B. 家族优秀的期许
- C. 美德即知识的理念
- D. 追求财富的思想

33. 资产阶级自由派领袖弗里德里希·诺曼将德意志帝国形象地称为“穿着农业国政治服装的工业国”，即这个国家主要靠资本主义工业部门的钱来支持，却受着来自农业领域的传统贵族的统治。材料表明德意志

- A. 国家分裂阻碍了经济发展
- B. 传统农业制约了工业发展
- C. 政治进步滞后于社会经济
- D. 贵族势力控制了经济命脉

34. 20 世纪 20~30 年代，西方现代主义文学反映了人们对资本主义社会的悲观和失望情绪。但同一时期，苏联文学则生机勃勃，一大批优秀作家创作了许多歌颂现实的优秀作品。由此可见，两者

- A. 经济状况的巨大反差
- B. 意识形态的尖锐对立
- C. 军事斗争的不同状况
- D. 冷战对峙的攻守态势

35. 1950 年西欧各国生产达到战前水平，年增长率达到 5%—6%，有的国家高达 8%—10%。1952 年，英、法、意的工业生产分别比战前增长 13%、29% 和 48%。这主要是得益于

- A. 马歇尔计划的推行
- B. 冷战形势暂时缓和
- C. 经济一体化的实现
- D. 政府开始干预经济

文科综合试题第 7 页（共 12 页）

第 II 卷(非选择题 共 160 分)

二、非选择题：本题共9小题，共160分。

36. 阅读图文材料，完成下列要求。(28分)

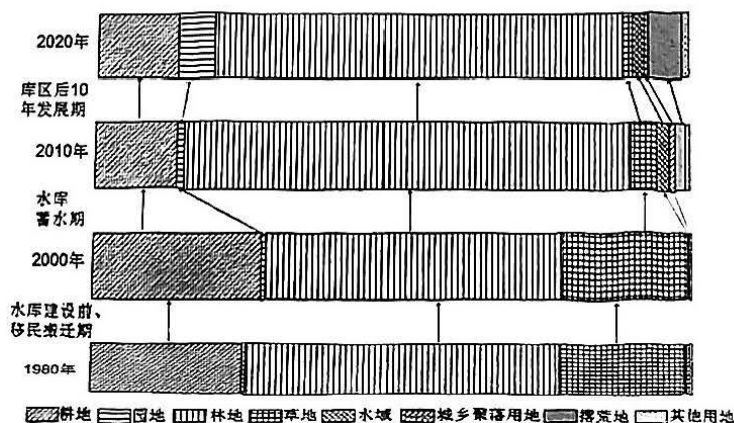
棉花堡位于土耳其西南部，泉水从 200 多米高的石灰岩中流出，经千百年钙化沉淀，形成层层叠叠的半圆形白色阶梯，远看像大朵棉花矗立在山丘上，宛如“棉花宫殿”。地下石灰质温泉丰沛，温泉水从地底深处涌出，再从丘陵上沿边缘泻下，产生侵蚀和沉淀作用。美丽的露天浴场，清澈的泉水中富含钙、镁等矿物质，可供饮用及沐浴。随着全球气候变暖，棉花堡地貌也发生了相应演变。下图为棉花堡景观图片(左上角的★示意棉花堡的位置)。



- (1) 简述土耳其棉花堡地貌的特征。(6分)
- (2) 说出土耳其棉花堡的形成过程。(8分)
- (3) 推测在全球气候变暖的背景下土耳其棉花堡地貌的演变。(6分)
- (4) 从可持续发展角度为土耳其棉花堡温泉资源的开发提出合理性措施。(8分)

37. 阅读图文材料，完成下列要求。(28分)

奉节县地处三峡库区的腹地，总面积大约 4087km²，2020 年末全县户籍总人口 105.06 万人，其中农业人口 77.08 万人，属亚热带季风气候，以山地丘陵为主，长江横贯全境。因三峡大坝的建设、人口的迁移以及国家政策调整影响，土地利用发生了显著的变化。下图为 1980~2020 年奉节县土地利用面积比重演变示意(其中园地指果园、茶园等)。



- (1) 指出三峡水库蓄水后奉节自然环境服务功能发生的变化。(6分)
- (2) 说明 1980~2000 年土地利用变化带来的环境问题。(6分)
- (3) 分析 2000~2010 年奉节土地利用变化的原因。(4分)
- (4) 从土地利用变化分析 2010~2020 年奉节县农业产业结构变化的特点。(6分)
- (5) 请你为奉节县确保粮食安全献计献策。(6分)

文科综合试题第 8 页(共 12 页)

38. 阅读材料，完成下列要求。（12分）

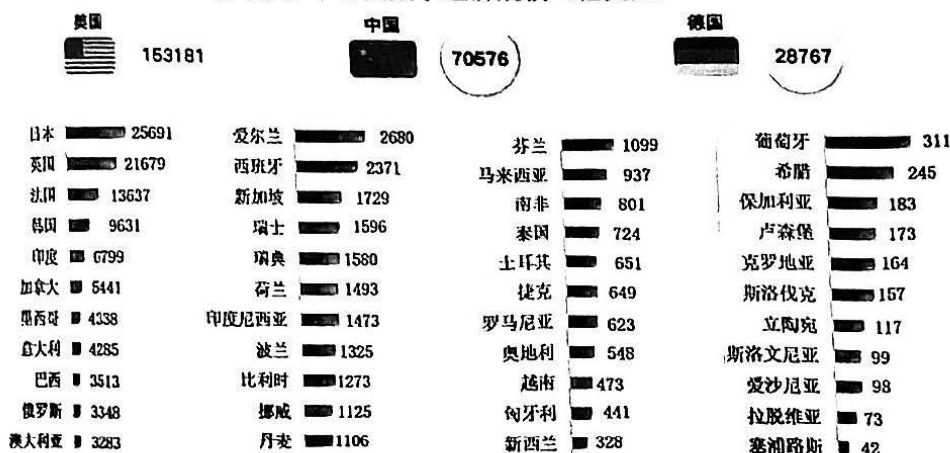
材料一：随着云计算、移动互联网、大数据、人工智能等数字技术的快速创新与应用，数字经济正在成为全球经济社会发展的重要引擎。

I 各主要国家数字经济加速发展

来源：CAICT 中国信通院

- ◆ 占比上，德国、英国、美国数字经济占 GDP 比重位列前三位，均超过 65%。
- ◆ 增速上，挪威数字经济同比增长 34.4%，位居全球第一；另有南非、爱尔兰、新西兰等 13 个国家数字经济增速超过 20%。

II 2021 年各国数字经济规模（亿美元）



注：《2022 全球数字经济白皮书》显示，2022 年中国数字经济规模已经达到了 45.5 万亿元，同比名义增长 16.2%，数字经济规模位居世界第二，成为中国经济增长新引擎。同时中国的“数字丝绸之路”正在为沿线国家带去数字化转型的红利，为其赶上数字经济的高速列车增添了新的动能。

材料二：党的二十大报告提出：“加快发展数字经济，促进数字经济和实体经济深度融合”。数字经济相关政策持续发力，在不断深化和落地中持续激发市场主体活力，传递出稳增长信号。中国数字经济核心产业均不同程度实现了稳健发展，产业融合进程提速，“中国制造”向“中国智造”加速升级。大数据、人工智能等数字技术加快向生活领域融合应用，物流配送体系不断完善，网络购物、无人零售、移动支付等新型态异军突起。电子商务作为数字经济的重要组成部分，2022 年各细分领域如产业电商、数字零售、数字生活、跨境电商等都实现了稳健发展。未来数字经济将作为推动经济高质量发展的重要抓手继续发挥重要作用。

- (1) 运用《当代国际政治与经济》的知识分析材料一蕴含的信息。（4分）
- (2) 运用《经济与社会》的知识，结合材料二分析如何更好地使数字经济在推动经济高质量发展中继续发挥重要作用。（8分）

39. 阅读材料，完成下列要求。（12分）

全国人大社会建设委员会，尽职尽责地推动社会领域法治建设实现新突破。

全国人大社会建设委员会坚持以习近平新时代中国特色社会主义思想为指导，坚持以人民为中心的发展思想，牵头推进未成年人保护法、预防未成年人犯罪法、家庭教育促进法等法律的立法修法，深入调研论证，广泛征求意见，从结构到内容对前两部法律进行重塑再造，统筹制定家庭教育促进法。这三部法律现已经被全国人大常委会表决通过并实施，为保护未成年人提供了科学规范的法律支撑和基本依据。

全国人大社会建设委员会还进一步落实党中央关于“改善人民生活品质”的要求，抓住慈善事业、体育事业、基层治理等重点领域，以良法促善治，完善共建共治共享制度，促进人的全面发展和社会全面进步。

结合材料，运用《政治与法治》相关知识，分析全国人大社会建设委员会怎样推动社会领域法治建设实现新突破。

40. 阅读材料，完成下列要求。（14分）

现代化是近代以来人类寻求自我进步的重要方式，人类正是在现代化进程中一步步走向现代化。中国式现代化是人口规模巨大的现代化，是全体人民共同富裕的现代化，是物质文明和精神文明相协调的现代化，是人与自然和谐共生的现代化，是走和平发展道路的现代化。

中国式现代化是人类历史上前所未有的大变革，破除了“现代化就是西方化”的迷思。中国式现代化既有各国现代化的共同特征，更有基于自己国情的中国特色。中国式现代化，不是西方现代化的翻版，而是中华文明的现代发展；否定了现代化模式和现代化标准的唯一性。中国式现代化道路破解了人类社会发展的诸多难题，摒弃了西方以资本为中心的现代化、两极分化的现代化、物质主义膨胀的现代化、对外扩张掠夺的现代化老路，拓展了发展中国家走向现代化的途径，为人类更好社会制度的探索提供了中国方案。

(1) 结合材料，运用矛盾问题的精髓有关知识，阐释中国式现代化是人类历史上前所未有的大变革。（6分）

(2) 结合材料，运用《逻辑与思维》中“坚持辩证的否定观”的知识谈谈如何推进中国式现代化。（8分）

41. 阅读材料，完成下列要求。（14分）

创建于1992年的远东电缆有限公司是全国知名的电缆生产企业，“远东”文字及图形商标品牌价值巨大，惹来了一些别有用心者的觊觎。2016年，天津远东线缆科技有限公司在注册时，擅自将企业名称定为“远东”，并将其电缆商品打上“远东”字号，引发消费者产生混淆。远东电缆有限公司发现这一情况后，以该公司的行为已严重影响其销售和声誉为由，于2019年5月向宜兴法院提起诉讼。后经审理，法院综合考虑“远东”字号的知名度和天津远东线缆科技有限公司擅自使用“远东”字号的不正当竞争行为，依法判决天津远东线缆科技有限公司立即停止使用“远东”字号并在判决发生法律效力之日起三十日内办理企业名称变更手续，同时向远东电缆有限公司赔偿经济损失25万元。

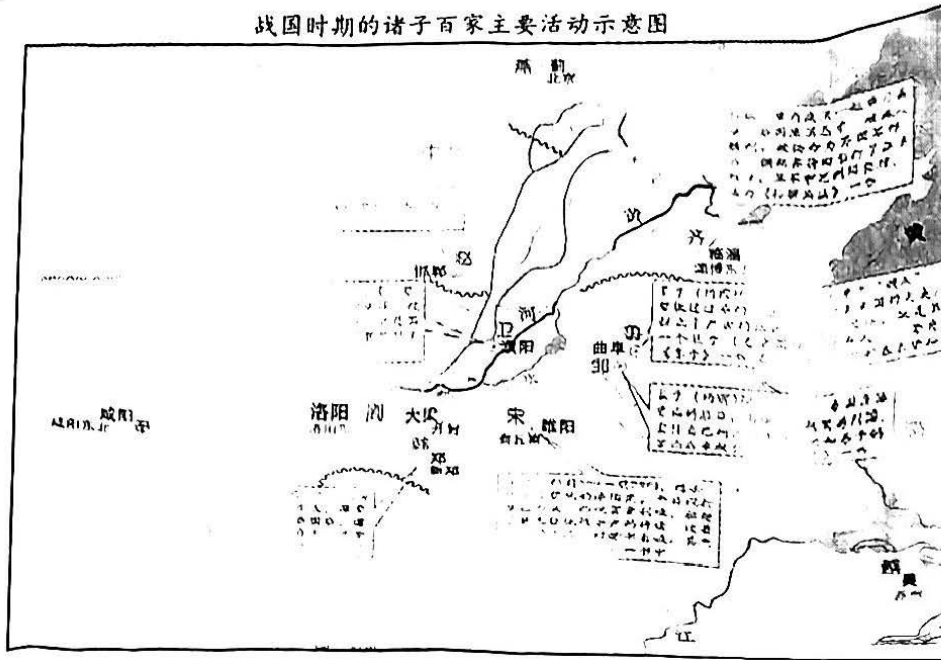
(1) 运用《法律与生活》的知识，分析法院判定天津远东线缆科技有限公司侵权的依据。（6分）

(2) 结合材料，运用《法律与生活》的知识，分析该诉讼案件是如何体现公平正义的。（8分）

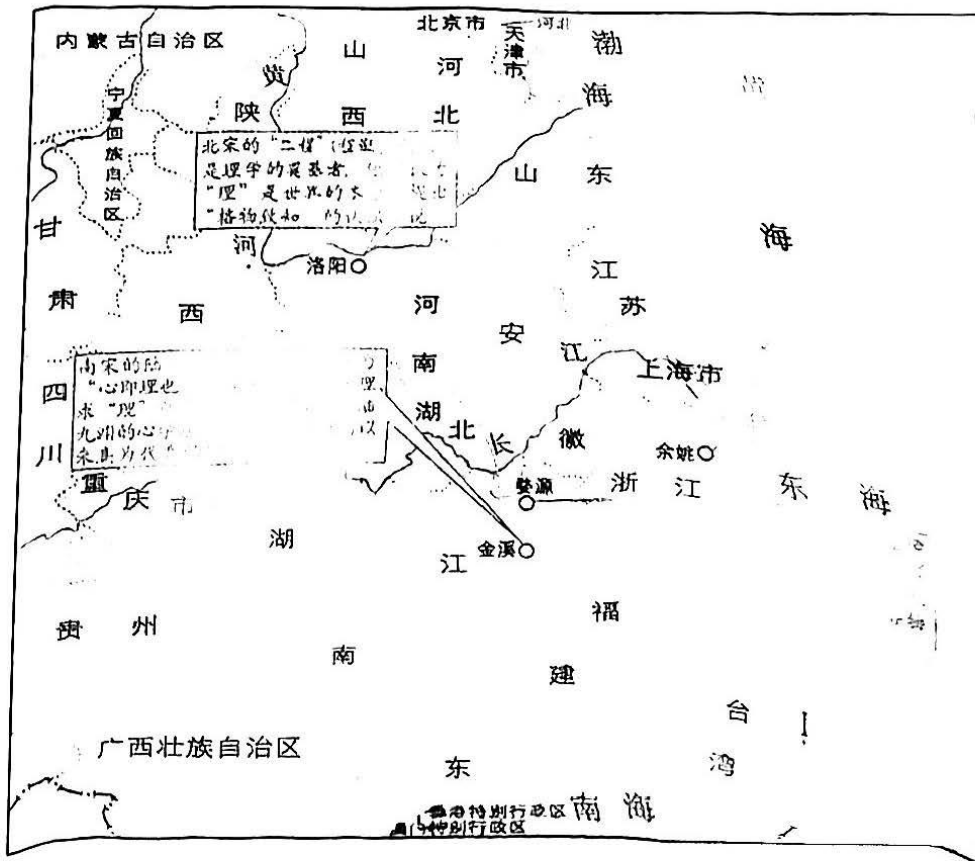
42. 阅读材料，完成下列要求。(25分)

材料一

战国时期的诸子百家主要活动示意图



宋明理学的发展



材料二

近代中国对民主理论的探究

人物	籍贯	主要成就
林则徐	福建福州	编译了《四洲志》一书，开了中国近代由爱国而研究学习西方的先河。
魏源	湖南隆回	批评封建统治阶级中的复古守旧思想，用进化论阐述社会制度变化的必然性。
康有为	广东南海	在广州创办万木草堂，主张天赋人权“人人平等”，认为人人有“自王之权”，人人有“自立之权”。
梁启超	广东新会	在上海创办《时务报》，任长沙时务学堂总教习，积极宣传民权思想，用进化论阐述君主立宪取代君主专制的必然性。
严复	福建福州	在天津创办《国闻报》，吸收了卢梭的社会契约论和人民主权论的思想，传播资产阶级的天赋人权论。
谭嗣同	湖南浏阳	积极宣传资产阶级平等、自由和民主思想，认为君主专制制度是万恶之源。
孙中山	广东香山	提出“民族、民权、民生”的三民主义学说，核心是民权主义，他的民权思想包括反专制、重民权，五权分立及互相制约，彼此监督的一系列设想。

——以上摘编自王永奉 李卿《历史地图册·选择性必修3文化交流与传播》

- (1) 根据上述材料并结合所学知识，分别说明上述思想领域发生三次重大变革的经济文化背景。(12分)
- (2) 根据上述材料并结合所学知识，指出思想变革过程中地理分布格局演变的趋势并分析其原因。(13分)

43. 阅读材料，完成下列要求。(12分)

材料：汤因比认为世界的未来在中国，人类的出路在于中国文明，而中国文明将为未来世界转型和 21 世纪人类社会提供无尽的文化宝藏和思想资源。他坚信未来的人类只有走向一个“世界国家”，才能避免民族国家的狭隘国家利益而带来的人类社会的灭亡。西方在经济和科技上影响了世界，在政治上却完全无法为世界建立一个整合和统一的符合人类共同利益的“世界国家”，西方方式的多党竞争的民主已经不能适应 21 世纪的变迁。他对未来人类社会开出的药方不是武力和军事，不是民主和选举，不是西方的霸权，而是文化引领世界。

——摘编自汤因比《历史研究》

根据材料，提取一个论题，结合相关知识进行阐述。(要求：论题明确，持论有据，表述清晰。)

44. 阅读材料，完成下列要求。(15分)

材料：蜀汉政权之所以采取刚柔相济的“威德”型治边模式，一方面，是要安抚西南夷部落民众，建构稳定的大后方秩序；另一方面，则是要倾全国之力北伐讨魏。其中尚有“和戎”与“联吴”的问题，同样是面对四周众多分散力量连环互动的可能，从而采取了与之相关的宏观整体边防方略。诸葛亮治下的蜀地及其南面边地，通过多年内政外务良性互动式的努力，不仅蜀地内部“军资所出，国以富饶”，即后院边地“诸夷慕侯之德，渐去山林，徙居平地，建城邑，务农桑，诸部于是始有姓氏”。尽管其主要的办法仍为羁縻，后人以为已开了土司制度的滥觞，可见他对后世影响的深远，不能不称为善理边政的重要历史典范。

——摘编自张新民《中国古代边疆治理经验的反思与总结》

- (1) 根据材料并结合所学知识，分析蜀汉边疆治理措施的特点。(6分)
- (2) 根据材料并结合所学知识，说明蜀汉政权“威德”型治边模式的历史影响。(9分)

关于我们

自主选拔在线是致力于提供新高考生涯规划、强基计划、综合评价、三位一体、学科竞赛等政策资讯的升学服务平台。总部坐落于北京，旗下拥有网站（[网址: www.zizzs.com](http://www.zizzs.com)）和微信公众平台等媒体矩阵，用户群体涵盖全国 90% 以上的重点中学师生及家长，在全国新高考、自主选拔领域首屈一指。

如需第一时间获取相关资讯及备考指南，请关注**自主选拔在线**官方微信信号：**zizzsw**。



 微信搜一搜

 自主选拔在线

