

宜宾市四中高 2023 届高三上期期末考试

文科综合试题

文科综合共 300 分，包括地理、思想政治、历史，考试时间共 150 分钟。

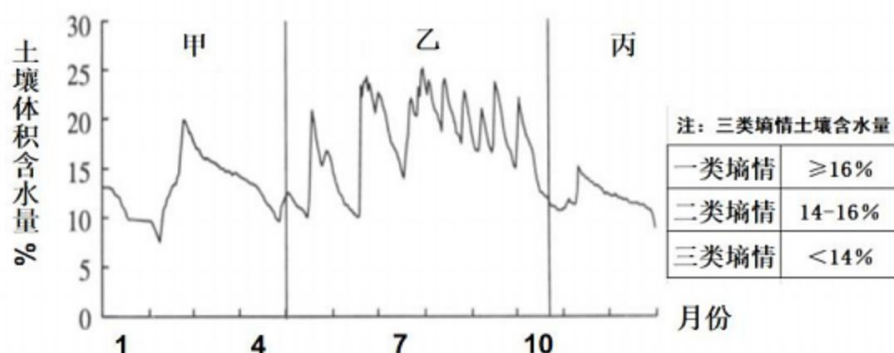
注意事项：

1. 答题前，考生务必将自己的姓名、座位号、准考证号用 0.5 毫米的黑色签字笔填写在答题卡上，并检查条形码粘贴是否正确。
2. 选择题使用 2B 铅笔涂在答题卡对应目标号的位置上；非选择题用 0.5 毫米黑色签字笔书写在答题卡的对应框内，超出答题区域书写的答案无效；在草稿纸、试卷上答题无效。
3. 考试结束后，只将答题卡收回。

第 I 卷 选择题（140 分）

本卷共 35 个小题，每小题 4 分，共 140 分。在每小题给出的四个选项中，只有一项是符合题意的。

土壤墒情通常用土壤体积含水量来衡量，合理的土壤墒情是作物生长的保障，而饱墒(含水量>20%)和失墒(含水量<8%)都不利于作物生长。研究表明，土壤墒情受降水气温、光照等因素的影响较明显。下图为我国华北某耕作区年内不同时段土壤墒情变化统计图。据此完成下面 1-3 小题。

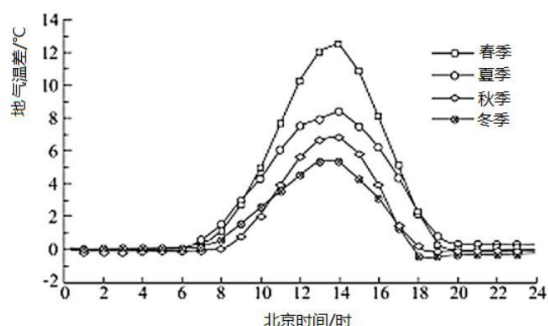


1. 该耕作区
 - A. 甲时段土壤一类墒情历时短
 - B. 乙时段土壤三类墒情历时长
 - C. 丙时段墒情最利于作物生长
 - D. 全年土壤出现失墒历时较长
2. 乙时段土壤墒情波动明显，主要是因为
 - A. 气温回升快，蒸发变化大
 - B. 作物生长快，根系吸收强
 - C. 夏季风影响，天气变化大
 - D. 地表覆被多，荫蔽面积广
3. 为使土壤具有良好墒情，春季宜
 - A. 保留残茬
 - B. 灌溉补水
 - C. 农田深耕
 - D. 增施肥料

2020 年 9 月 23 日，上海市发布《2020 年非上海生源应届普通高校毕业生进沪就业申请本市户籍评分办法》。明确提出，在沪“世界一流大学建设高校”即上海交通大学、复旦大学、同济大学、华东师范大学，四校应届本科毕业生符合基本条件即可直接落户。据此完成下面 4-6 小题。

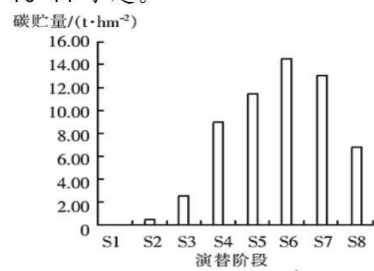
4. 上海市发布该政策的主要目的是
 - A. 增加户籍人口
 - B. 增加人才储备
 - C. 解决学生就业
 - D. 提高城市知名度
5. 该政策对上海市的影响表现在
 - ①增加城市创新活力
 - ②降低城市管理难度
 - ③促进产业结构升级
 - ④缓解就业压力
 - A. ①②
 - B. ②③
 - C. ③④
 - D. ①③
6. 上海市此举对下列产业影响较大的是
 - A. 旅游业
 - B. 普通制造业
 - C. 高新技术产业
 - D. 康养产业

地气温差是指近地面与大气之间的温差，地温与气温变化是导致地气温差变化的直接因素，降水、蒸发、湿度与地气温差有较强的相关性，其长期变化与气候背景变化和城市化过程有关。地气温差大小与 PM2.5 具有一定的相关性。下图为成都地区 2014 年地面与大气之间温差的季节日变化。据此完成下面 7-9 小题。



7. 成都地气温差的最大值出现在一天中 14:00 前后的主要原因是
 A. 太阳辐射差异最大 B. 地面辐射差异最大 C. 大气辐射差异最大 D. 地气热力差异最大
8. 城市化过程会导致地气温差减小的主要原因是中心城区
 ①空气对流减弱 ②空气湿度减小 ③蒸发能力提高 ④大气降水增多
 A. ①④ B. ①② C. ②③ D. ③④
9. 推测成都一天中大气 PM2.5 浓度最高的时刻是
 A. 日出前后 B. 正午前后 C. 傍晚前后 D. 午夜前后

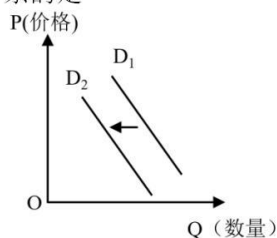
在生物和土壤的相互作用下，冰川退缩之后形成的地表上植被原生群落不断发生演变。粗木质残体是指所有地上和地下末端直径大于 2.5cm 的枯死木质物。下图示意横断山区某冰川退缩区 8 个样地粗木质残体的碳贮量变化，下表示意这 8 个样地的冰川退缩年份和优势物种组成状况。据此完成下面 10-11 小题。



样地编号	冰川退缩年份	优势物种组成状况
S1	2005	柳树、冬瓜杨、沙棘幼树
S2	1990	柳树、冬瓜杨、沙棘小树
S3	1980	柳树，冬瓜杨，沙棘小树，中树，云冷杉幼苗
S4	1970	柳树，冬瓜杨，沙棘中树，大树，云冷杉幼树、小树
S5	1958	柳树、冬瓜杨、沙棘大树、云冷杉中树
S6	1936	云冷杉中树、大树，冬瓜杨大树
S7	1890	云冷杉近熟林
S8	1860	云冷杉顶极群落

10. 不同阶段粗木质残体碳贮量的变化直接取决于
 A. 土壤肥力 B. 植被种类 C. 水热条件 D. 种间竞争
11. 随着演替过程的持续，储存碳贮量最大的是
 A. 乔木 B. 灌木 C. 草本 D. 凋落物

12. 下图描述的是某种商品的替代品的需求曲线由 D_1 左移到 D_2 。下列事件中，可能导致这种变动关系的是



- ①某地因航空流量控制，导致飞机供给减少 ②各地多重政策优惠，新能源汽车销售向好
③受多种因素影响，国际天然气价格大幅拉涨 ④随着全民健康安全意识增强，有机食品持续走热
- A. ①③ B. ①④ C. ②③ D. ②④
13. 2022年1月4日，证监会开出2022年首张罚单，将一起数额巨大的财务造假案公之于众。证监会行政处罚书显示，金正大存在虚增收入利润，隐瞒关联交易，虚假记载资产、负债科目等多项违法事实。2015年至2018年上半年，公司累计虚增收入近231亿元、虚增利润近20亿元。证监会决定对金正大责令改正，公司及8名相关责任人被罚共计755万元。这告诉我们
- ①企业要重视自己的信誉和形象 ②企业经营的唯一目的是获取利润
③国家通过经济手段进行宏观调控 ④良好的市场秩序要靠市场规则维护
- A. ①③ B. ①④ C. ②③ D. ②④
14. 供应链金融，就是在一条供应链上核心企业与某商业银行合作，其上下游企业在征得核心企业同意的条件下，以核心企业为担保与合作银行进行融资业务，为这些中小企业获得贷款提供便利的一种融资模式。若不考虑其他因素，供应链金融发挥作用的正确传导路径有
- ①有效控制金融信贷额度→推动银企关系改善→增加商业银行利润
②下调核心企业融资利率→提高企业经营效益→促使企业扩大规模
③降低中小企业融资门槛→纾解企业融资困难→增强企业市场活力
④稳定产业链供应链→促进参与各方形成合力→畅通国民经济循环
- A. ①② B. ①③ C. ②④ D. ③④
15. “十三五”期间，中央累计安排超过270亿元资金，19个对口支援省市累计投入59亿元援疆资金用于改善新疆医疗卫生基础设施条件，补齐当地卫生健康服务体系短板。这些举措
- ①体现了各民族共同发展共同繁荣原则 ②有助于筑牢中华民族共同体意识
③凸显了民族区域自治制度的核心内容 ④是维护新疆各民族平等健康权利的根本保障
- A. ①② B. ①③ C. ②④ D. ③④
16. 2022年3月25日，商务部联合财政部、国家乡村振兴局印发《关于支持实施县域商业建设行动的通知》。该通知旨在通过支持实施县域商业建设行动，加快推进县域商业体系建设，促进农村消费和农民增收，助力全面推进乡村振兴。这体现了
- ①政府加快简政放权，建设服务型政府 ②政府的职责范围不断拓展和延伸
③政府坚持对人民负责的工作原则 ④政府在经济建设中负有重要职能
- A. ③④ B. ②④ C. ①③ D. ①②
17. 党的力量来自组织，组织的力量源于基层。2022年4月，习近平总书记在海南考察时强调，要夯实基层基础，持续扩大党组织有效覆盖，把各领域基层党组织建设成为坚强战斗堡垒。让基层战斗堡垒强起来有利于
- ①发挥党组织在基层治理中的战堡垒作用 ②党员干部更好地践行为人民谋幸福的初心
③推进国家基层行政管理体制全面深化改革 ④基层党组织更充分地履行基层治理的职能
- A. ①② B. ①③ C. ②④ D. ③④
18. 2021年是《中俄睦邻友好合作条约》（以下简称《条约》）缔结20周年。20年来，双方弘扬世代友好、合作共赢的条约精神，推进中俄新时代全面战略协作伙伴关系，促进了两国发展振兴，为人类和平与发展事业作出重大贡献。值《条约》到期之际，中俄元首发表联合声明，正式决定《条约》延期。中俄这一决定

- ①符合两国的发展利益，推动构建新型大国关系②促进世界和平与发展，参与全球治理体系建设
③树立互利共赢的典范，彰显大国的责任与担当④顺应世界多极化趋势，携手共建新的国际秩序
A. ①③ B. ①④ C. ②③ D. ②④

19. 推光漆器以手掌推出光泽而得名，已有数千年历史。其制作分木胎、灰胎、漆工、画工和镶嵌等工序，制作过程细致、复杂。制作的成品环保无毒，经久耐用，具有很高的实用价值和工艺价值。如今推光漆器已成为山西省出口创汇的主要产品之一，远销全球 28 个国家和地区。这表明

- ①文化对经济发展有着重要的反作用②厚重的历史积淀是文化传播的前提
③传统工艺展现中华文化的博大精深④文化交流能促进文化的发展和进步
A. ①② B. ①③ C. ②④ D. ③④

20. 新中国成立前，中共中央在上海召开过三次全国代表大会——中共一大、二大、四大。三大红色场馆 2020 年进行修缮改造，2021 年建党百年之时修葺一新迎接大批党员群众参观学习。修缮三大红色场馆是为了



中共一大、二大、四大纪念馆

- ①拉近革命文物与公众距离，促进文化事业发展②发展红色旅游，实现经济效益与社会效益统一
③筑牢理想信念之基，培育民族担当精神④继承优秀传统文化引领社会文化风尚
A. ①② B. ①③ C. ②④ D. ③④

21. 2022 年春晚节目《只此青绿》火爆，中国东方歌舞团的演员们以青峰叠嶂绿水隐现、利落甩袖隐而不见、身穿青绿曳地长裙、头梳高耸入云发髻的舞蹈，传承了中国传统审美文化的“气韵”，把《千里江山图》给演活了，喜爱和了解国风的观众深感“千里江山只青绿，绝唱名画重现起”。这表明

- ①舞蹈作品是客观存在移入大脑的主观映象②舞蹈作品是抽象概念转变为艺术形式的结果
③舞蹈作品给观众的感受受主观认知的影响④舞蹈作品能表达人们共同的生活体验和情感
A. ①② B. ①③ C. ②④ D. ③④

22. 2021 年 10 月 8 日，“探索一号”科考船搭载“奋斗者”号全海深载人潜水器从三亚出发，赴西太平洋海域开展科考任务。其间，“奋斗者”号共下潜 28 次，其中 7 次到达万米深度开展作业，采集了多个种类的深渊水体、岩石、沉积物及生物样品，开拓了研究新领域。这表明

- ①事物发展是由量变到质变循环往复，不断前进②人们可以根据事物固有联系建立新的具体联系
③科技延伸了人们的认识器官推动了认识的发展④坚持辩证法的革命批判精神就能推动事物发展
A. ①③ B. ①④ C. ②③ D. ②④

23. 2021 年 8 月 20 日，十三届全国人大常委会第三十次会议表决通过了关于修改《中华人民共和国人口与计划生育法》的决定，指出国家提倡适龄婚育、优生优育，一对夫妻可以生育三个子女。国家采取财政、税收、保险、教育、住房、就业等支持措施，减轻家庭生育、养育、教育负担。从哲学上看，这一修改的理论依据是

- ①反映社会存在的社会意识能推动社会发展②上层建筑一定要适合经济基础状况的规律
③生产关系一定要符合生产力发展的客观要求④社会存在的变化、发展决定社会意识的变化、发展
A. ①③ B. ①④ C. ②③ D. ②④

24. “敬天保民”思想是西周礼乐文化的内容之一，周人认为天命是一切的根本，但同时又认为天命不是固定的，天的严威与诚心，从民情上可以看得。春秋战国时期继承了这一思想的主张是

- A. “法”的思想 B. “仁政”思想 C. “道”的思想 D. “尚贤”思想

25. 学者许倬云认为，东汉时期长江流域、四川盆地及东南地区的人口增长非常显著。政府通过移民，使人口最为密集地区的人口压力大为减轻。许倬云的分析主要强调，汉代人口分布的变化

- A. 加快了少数民族内迁的步伐 B. 是历史发展的必然
C. 有利于中国社会的平衡发展 D. 缓解了边境的危机

26. 下表是北宋初年政府下达的一系列命令。此表可以用来说明当时北宋统治者

时间	内容
宋太祖乾德四年 (966年)	自今百姓能广植桑枣开荒田者，并令只纳旧租，永不通检
宋太宗淳化元年 (990年)	江浙等路……民多流亡弃地，遂为旷土，宜令诸州籍其阡亩数，均其租……召游民劝为耕种
宋太宗至道元年 (995年)	今年以来，天灾相继，民多转徙……应诸道州府军监管内旷土，并许民请佃，便为永业，仍与免三年租税

- A. 实行减租减息政策
B. 积极推行均田制度
C. 重视稳固统治基础
D. 大力抑制土地兼并
27. 如图为明代著名画家仇英的《南都繁会图》(局部)，生动地描绘了明朝后期南京秦淮河两岸的盛况。从画卷中可以看出



- A. 明代对南京工商业发展的重视
B. 新兴市民阶层力量发展壮大
C. 商业的繁荣及市民生活的丰富
D. 该画卷注重抒情写意的特点
28. 1840年2月20日，英国外交大臣巴麦尊曾指令赴华全权大臣：“你们应记住：女王陛下政府不想为英国臣民获得不同样给予其他每个国家臣民的任何专有贸易特权。”鸦片战争后，和这一认识直接有关的是
- A. 美国攫取了在华领事裁判权
B. 英人享受到片面最惠国待遇
C. 清政府固守华夷有别的观念
D. 清政府成为列强在华的工具
29. 下面是1940年5月国民党政府中央银行经济研究处编制的重庆基要商品零售物价指数表(该表指数以1937年1~6月为100)。这可用来说明

商品种类	食物类(大米、小麦、副食品)	纤维类(棉纱、布匹)	金属类(钢、电线)
指数	248	491	1238

- A. 民族危机下民族工业发展迅速
B. 物价变动影响了民族企业发展
C. 抗战时期牺牲农业来保障工业
D. 工业布局失衡局面得到了改善
30. 抗战初期，中共在根据地的节庆活动中，广泛使用马恩列斯等国际社会主义运动领袖和孙中山等中华民国领袖的标准像。但从40年代初开始，这两类标准像的使用均趋向于弱化，更加突出使用毛泽东和朱德等中共领袖的标准像。这一变化
- A. 有利于革命道路认同的塑造
B. 反映了个人崇拜现象日益普遍
C. 标志着中共从幼稚走向成熟
D. 表明国共第二次合作趋于瓦解
31. 1978~1980年，我国非生产性投资占基本建设投资比例变化，这一变化可以反映当时
- A. 经济发展战略的调整
B. 改善民生的迫切愿望
C. 城市经济体制的变革
D. 产业结构的日益均衡

1978年	1979年	1980年
17.4%	27%	33.7%

32. 公元前367年，罗马设立最高裁判官(内事裁判官)。公元前242年，罗马又设立外事裁判官。内事裁判官和外事裁判官可以颁布各种告示，作为人人必须遵守的行为规则，这些告示日积月累，形成“裁判官法”。“裁判官法”的形成源于古罗马
- A. 民主政治的发展
B. 社会关系的复杂化

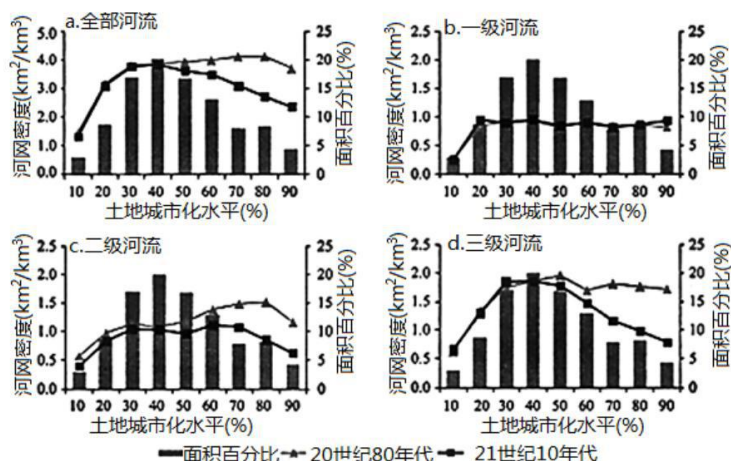
- C. 成文法的灵活性
33. 《秃头歌女》于 1950 年在巴黎首演时,引起人们的争论。此剧描写了一对典型的英国中产阶级夫妇与他们的朋友之间的无聊对话,隐晦地表述了严肃的苦恼,表达了作者的“人生是荒诞不经的”观点。该作品强调
- A. 揭露社会问题
B. 反帝反殖精神
C. 集中表现自我
D. 歌颂人的本能感情
34. 15 世纪意大利佛罗伦萨的著名学者费奇诺提出,“如果我们认识事物是为了认识自己,那么认识自己就是为了认识上帝”,但“上帝只有在人身上才能表现出完全的神性”。这一认识
- A. 蕴含了人文主义的精神内涵
B. 反映了宗教改革的理性精神
C. 升华了探索自然奥秘的价值
D. 否定了罗马教廷的精神权威
35. “贸总协定前七轮谈判,大大降低了各缔约方的关税,促进了国际贸易的发展。但从 20 世纪 70 年代开始,特别是进入 80 年代以后,以政府补贴、双边数量限制、市场瓜分和各种非关税壁垒为特征的贸易保护主义重新抬头。”这表明
- A. 关贸总协定纵容贸易保护主义
B. 经济全球化不可逆转
C. 欧美各国阻挠贸易自由化进程
D. 多边主义面临着挑战

第 II 卷 非选择题 (共 160 分)

本卷包括必考题和选考题两部分。第 36 题至第 42 题为必考题,每个试题考生必须作答。第 43 题至第 47 题为选考题,考生根据要求作答。

36. 阅读图文材料,完成下列要求。(22 分)

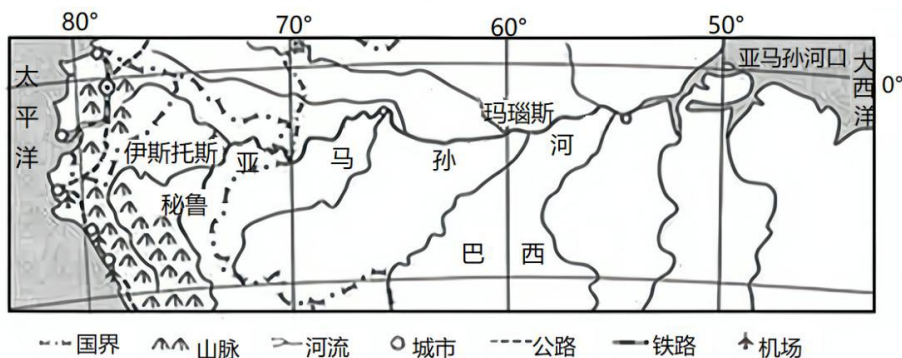
水是人类赖以生存的物质基础,而河流是水资源的重要载体,为了满足经济社会发展需要,人们利用和改造河流。苏州市是中国城市化发展最为迅速的地区之一,下图为苏州市同一研究区 20 世纪 80 年代与 21 世纪 10 年代的河网密度比较图。



研究区土地城市化水平与河网密度关系

- (1) 据图归纳研究区 21 世纪 10 年代土地城市化过程中一级河流与二级河流河网密度的变化特征。(6 分)
- (2) 分析城市化过程对河流产生的不利影响。(8 分)
- (3) 请提出修复城市河流生态系统的有效措施。(8 分)
37. 阅读图文资料,完成下列要求。(24 分)

伊基托斯(约 73° W)是亚马逊雨林区的主要河港城市,无公路或铁路与外界连接。20 世纪初期,它因出口橡胶等农产品而迅速成为区域商业中心。“橡胶热”之后,该市经历一段萧条时期。1980 年伊基托斯被辟为自由港,来自欧美、巴西等地的大量免税商品涌入这里,然后运销到国内其它城市,经济再度得以繁荣。下图示意伊基托斯的位置。



- (1) 估算伊基托斯至玛瑙斯的直线距离,分析伊基托斯海陆位置的劣势。(6 分)
- (2) 分析 20 世纪初期伊基托斯成为区域商业中心的条件。(6 分)
- (3) 推测伊基托斯将商品快速运销到西部沿海城市的交通方式,并说明理由。(6 分)
- (4) 简述伊基托斯被辟为自由港对其城市经济发展的作用。(6 分)
38. 阅读材料,完成下列要求。(12 分)

“人口红利”在很长一段时间是中国经济增长的重要引擎。一段时间以来,随着中国的劳动力成本呈上升趋势,中国的人口红利开始逐渐流失。一些跨国经营的制造业企业出于成本考虑,决定从中国撤出,将加工厂转移至劳动力价格更低的南亚、东南亚国家。但是,近 1 至 2 年,许多企业家意识到,中国的劳动力虽然已不再是全世界最廉价的,但在中国经营企业的便利程度是其他地方难以比拟的,中国这样一个大国仍展现出巨大的优势和吸引力。综合来看,留在中国才是对企业发展最有利的选择。因此,许多原先离开中国的制造业企业纷纷“回流”中国。

运用经济生活知识,分析中国的哪些优势吸引了制造业“回流”。

39. 阅读材料,完成下列要求。(12 分)

“我国全过程人民民主不仅有完整的制度程序,而且有完整的参与实践”。作为汇聚众智、凝聚

共识、集聚众力的平台,一年一度的全国两会是中国式民主的重要途径,也是展现中国式民主的重要窗口。创新座谈、论证、听证、公示、评估、咨询、网络等协商方式,推进民事民提、民事民议、民事民决、民事民办、民事民评……中国特色民主形式不断丰富、渠道不断拓宽,展现出更加蓬勃的生机。

英国剑桥大学高级研究员、中国问题专家马丁雅克说,西式民主一切都是围绕选举和在选举中获得回报。他认为,中国民主的运作方式是一群拥有专业知识体系的人在与政府的沟通中不断互动,而不是一群“对什么事情都不太了解的政客”。

全过程人民民主比西方民主更具人民性、全面性和过程性。结合材料,运用政治生活知识予以阐释。

40. 阅读材料,完成下列要求。(28分)

2022年2月4日,中国兑现了向世界的承诺,第24届冬奥会在首个双奥之城——北京如期开幕。

开幕式上,从独属于中国24节气倒计时的数字浪漫到一点水墨滴落幻化成“黄河之水天上来”的美轮美奂;从24道激光雕刻“冰立方”的炫酷科技到奥运五环“破冰而出”的独特亮相,这些饱含中国元素的唯美画卷,以独特的中国式浪漫惊艳了全世界。

赛场上,不畏风险、不惧挑战的精神在这里传递和升腾。18岁的小女孩谷爱凌用1620的超高难度挑战自我,最终以总分188.25分夺得金牌;四度征战冬奥会的超级女将徐梦桃以108.61分的成绩,成功圆梦;金牌已有归属,12名不同国度的参赛选手仍紧紧相拥在一起,他们用实际行动诠释了追逐梦想、奋勇拼搏、“一起向未来”的奥林匹克精神。

赛场外,借冬奥会东风,全国冰雪运动参与人数已达到3.46亿人,“带动三亿人参与冰雪运动”从愿景变为现实。北京冬季奥运会吉祥物“冰墩墩”不仅掀起了国内“一墩难求”的“国潮热”,也成了国际上圈粉无数的俏宠,成为文化出海的成功典例。

创意是北京冬奥会的鲜明底色。在备受瞩目的主火炬点燃环节,印有90多个参赛国家和地区名称的小雪花引导牌共同构建完成一朵大雪花作为火炬台,最后一棒火炬手传递的火炬直接放到大雪花的中心,以“放置”代替“点燃”,以“微火”取代以往的熊熊烈火,实现了奥运史上的一次点火创新,向世界传达了“更团结”的奥林匹克新格言和低碳、环保的绿色奥运理念。开幕式总导演张艺谋在接受采访时表示,主火炬的设计和点火方式灵感来自成语“一叶知秋”,这次点火仪式不仅是百年奥运史上的空前突破,更是中国解答时代命题的生动诠释,这就是新时代。

(1)结合材料,运用辩证法的革命批判精神与创新意识的相关知识,分析北京冬奥会主火炬设计和点燃方式令世界瞩目的原因。(12分)

(2)结合材料,运用文化生活知识,说明成功举办冬奥会的意义。(12分)

(3)“更快、更高、更强、更团结”的奥林匹克精神激励全世界人民一起向未来。请为新时代中国青年如何践行和弘扬奥林匹克精神设计两则宣传口号。(要求:朗朗上口,每则口号不超过20字。)(4分)

41. 阅读材料,完成下列要求。(25分)

材料一 浮田和民(1859-1946)在《史学通论》中讨论史学的定义,引用了汉密尔顿、黑格尔等学者的观点。他给史学所下定义时说:“史学者,考究人类进化次序之学也。”“历史之特质,在于其事实之变迁进化非孤单独立,而前后相联络也,在于其能生发事实也。”美国史学家汉密尔顿说:“历史者,记时间的连续次第之现象者也。”浮田氏认为“此说未当”,因为“历史不但记时间之现象,并记空间之现象也。”他还指出“亚细亚者,文明起源之地也”;“欧罗巴者,文明之发达地也。”“苟无亚,何有欧?今欧人忘却亚人之恩,而反讪谤亚人……此言也,无理甚矣”。

——摘编自尚小明:《论浮田和民〈史学通论〉与梁启超新史学思想的关系》

材料二 在20世纪20年代,有些人推行一种民族文化的虚无主义,用他们的话来讲,是要把线装书统统扔到茅厕里去。陈垣奋起抵制,他发表《元西域人华化考》,用以批驳那些民族文化虚无的论调。陈垣提倡要奋起直追,发展中国的民族文化,把汉学中心从巴黎夺回北京,也得到曾大力主张西化的胡适、傅斯年的响应。抗日战争时期,陈垣更是著作《明季滇黔佛教考》《通鉴胡注表微》诸书,表彰中国历史上的忠臣义士,高扬抗日的民族气节和爱国激情,极大地鼓舞了沦陷区军民的抗日斗志。

——摘编自周少川:《与时共奋:陈垣对20世纪中国史学的贡献与影响》

(1)根据材料一,概括《史学通论》体现的史学研究特点;结合材料一、二,归纳近代亚洲史学研究的共同点。(10分)

(2)根据材料二并结合所学知识,分析陈垣史学思想产生的历史背景及意义。(15分)

42. 阅读材料，完成下列要求。(12分)

材料 黄河文明是人类文明史上最重要的大河文明或农业文明之一。其古老而绵延不绝的生命力、求新求变的文化精神，使它在人类古文明史的比较中独树一帜，分外靓丽。黄河文明的变革精神，深深影响了中国政治文明的进程及其特点。春秋战国时期各诸侯国内的变法运动，大都继承这样清晰的变革思想，以支撑了长达数百年的变法运动，终于把行之千余年的贵族制推进到专制主义的中央集权制度。此后，中国的政治体制也不是一成不变的，不管是官僚制度，还是经济制度、选官制度、文化思想等等各个方面，从秦到清发展变化的脉络也清晰可循。古代中国正是在平原流域等地丰厚的土壤条件下，创造了各种政治制度，更是创造了直接影响西方政治进程的四大发明。中国在长达千余年的时间里毫无争议地走在世界前列。

——摘编自李振宏《谈黄河文明的变革精神》

从材料中提取一个观点，并结合相关史实加以论述。(要求：观点明确，史论结合，逻辑清晰。) 请考生在第43、44两道地理题中任选一题作答，如果多做，则按所做的第一题计分。作答时，请把答题卡上所选题目题号后的方框涂黑。

43. [旅游地理] (10分)

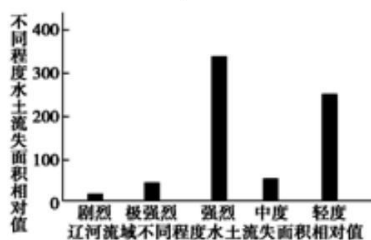
2019年国庆节，为了防止每逢节假日人挤人的场景再现，成都大熊猫繁育研究基地每日限流6万人次，同时也为未能及时购到票的海内外游客提供了“云旅游”的可能——全球首次“5G+4K+VR”大熊猫直播。直播内容主要为2019年新生大熊猫宝宝们的日常生活，通过多个镜头，从不同角度更丰富地展现大熊猫的生活。

与传统实地旅游相比，说出云旅游的主要优势。

44. 环境保护] (10分)

辽河流域位于我国东北地区的西南部，西部的上游为风沙草原和土石山区，中下游多为黄土沙丘，水土流失严重；东部的山地丘陵为长白山脉的西南延续部分，山地森林植被较好，土壤侵蚀程度轻。下图为辽河流域不同程度水土流失面积相对值图。

简述辽河流域不同程度水土流失的特征及水土流失对辽河水文特征的影响。



请考生在第45、46、47三道历史题中任选一题作答，如果多做，则按所做的第一题计分。作答时，请把答题卡上所选题目题号后的方框涂黑。

45. 【历史上的重大改革回眸】(15分)

阅读材料，完成下列要求。

材料 宋孝宗时期(1127—1194年)的官员，宁肯担任朝中级别不高、事务清闲的官职，也不愿出任地方事务繁杂的守臣、监司，因而造成了地方官人员缺乏，而朝中人员冗滥，一味只求升迁而不注重实效，在职位上庸庸碌碌无所作为的状况。为改变这种局面，宋孝宗积极着手对官员中的务虚之风进行调整和改革，将官员平时的实际才能和施政业绩作为官员升迁的依据。在要求官员勤于政事的同时，宋孝宗本人也勤于政事，事必躬亲，他对地方上的兴修水利、农业生产等事都要亲自过问。同时，宋孝宗认为一国之君应该深知用人之道，在选拔人才时，也不能只看重人的学识，更应重视的是人才的道德修养和实际执政能力。这一用人思想在一定程度上使朝廷选拔人才数量增加，为国家一系列大政方针的制定和实施，提供了人员方面的保证。当然我们也应该看到，任何历史人物的活动都会受制于时代的局限，宋孝宗加大用人力度，整顿吏风的目的，始终都贯穿着强化皇权的思想。

——摘编自褐华芳《宋孝宗的法律思想与法制建设研究》

- (1) 根据材料并结合所学知识，概括宋孝宗吏治改革的内容。(7分)
- (2) 根据材料并结合所学知识，简评宋孝宗吏治改革的影响。(8分)

46. 【历史选修3：20世纪的战争与和平】

材料 国际联盟作为一战后世界上第一个由主权国家组成的常设国际组织，并不是政治家凭空臆想出来的，而是一战的战胜国根据时代的发展和自身的需要，在吸收 19 世纪欧洲协调体制以及其他国际组织运行机制的基础上创建的。第一次世界大战的战胜国以《国际联盟盟约》作为国际法的主要依据，从组织机构和组织职能两大方面，构建战后的国际秩序。它摈弃了以往个别国家依靠自身的实力地位及与他国结盟的战略来左右国际事务的做法，把所有国家联结成一个命运共同体。在这个共同体中，成员国都有对国际事务的发言权和表决权，并达成一致的意见。国联强调用法律来处理成员国之间有争议的问题，这是对以往通过战争方式解决国际问题的一次突破，是国际关系史上的一次飞跃。事实上，国联自成立以来，其机构处理过 66 件事务，从技术性的立法问题到有关武装冲突的重大问题。其中 20 件提交给其他机构；如果这些事物没有解决的话，将会发生更多的普遍战争。

——摘编自谷宇新《析国际联盟集体安全的建立及其失败》等

(1) 根据材料并结合所学知识，概括国际联盟建立的原因。(7 分)

(2) 根据材料并结合所学知识，简评国际联盟的影响。(8 分)

47. 【中外历史人物评说】(15 分) 阅读材料，完成下列要求。

材料 作为先秦儒家最后一位大师，荀子力图扭转儒家在政治上的被动局面，要使儒家学说为更多统治者采用。为此，针对孔孟非贤君不仕的观点，荀子将君主划分为三类：圣君、中君、暴君。臣子对圣君要“以顺上为志”，对中君要“有谏争，无谄谀”对暴君则要坚持原则立场采取温和渐进的手段向暴君讲明道理，引导其走向正途。反对“群臣去忠而事私”。荀子提出“君者，仪也，仪正而景正；君者，盘也，盘圆而水圆”。在选拔人才时君主应试做到“不性亲不恤贵贱，唯诚能之求”。

——据高春海《荀子人际关系思想研究》

(1) 根据材料并结合所学知识，概括荀子关于君臣关系的主张。(9 分)

(2) 根据材料并结合所学知识，简评荀子的君臣观。(6 分)

关于我们

自主选拔在线是致力于提供新高考生涯规划、强基计划、综合评价、三位一体、学科竞赛等政策资讯的升学服务平台。总部坐落于北京，旗下拥有网站（[网址：www.zizzs.com](http://www.zizzs.com)）和微信公众平台等媒体矩阵，用户群体涵盖全国90%以上的重点中学师生及家长，在全国新高考、自主选拔领域首屈一指。

如需第一时间获取相关资讯及备考指南，请关注**自主选拔在线**官方微信号：**zizzsw**。



 微信搜一搜

 自主选拔在线

