

2022-2023 学年 2023 届高三下学期第三次模拟考试

政 治

注意事项:

1. 本试卷满分 100 分, 考试用时 75 分钟。
2. 答卷前, 考生务必将自己的姓名、准考证号填写在答题卡上。
3. 回答选择题时, 选出每小题答案后, 用铅笔把答题卡上对应题目的答案标号涂黑。如需改动, 用橡皮擦干净后, 再选涂其它答案标号。回答非选择题时, 将答案写在答题卡上, 写在本试卷上无效。
4. 考试结束后, 请将本试卷和答题卡一并交回。

一、选择题: 本题共 16 小题, 每小题 3 分, 共 48 分。在每小题给出的四个选项中, 只有一项是符合题目要求的。

1.“一个幽灵, 共产主义的幽灵, 在欧洲游荡。为了对这个幽灵进行神圣的围剿, 旧欧洲的一切势力, 教皇和沙皇、梅特涅和基佐、法国的激进派和德国的警察都联合起来了。”对这段话及其所反映的历史事实的理解正确的是

- ①意味着共产主义已经被欧洲的一切势力公认为一种势力
- ②出自《共产党宣言》, 标志着社会主义由空想到科学的转变
- ③出自《德意志意识形态》, 阐明了建立无产阶级政党的必要性
- ④出自《资本论》, 说明社会主义实现了从一国到多国的实践

A. ①② B. ①③ C. ②④ D. ③④

2. 中国共产党百年历程是敢于进行伟大斗争的历程。踏上新征程, 我们要总结好党积累的伟大斗争经验, 推动中国特色社会主义事业航船劈波斩浪、一往无前。夺取新时代伟大斗争的新胜利必须提高斗争本领, 为此要

- ①把握斗争主动权, 做好应对风险挑战的准备
- ②讲求斗争艺术, 立足自身需要调整斗争策略
- ③坚定斗争的意志信念, 保持敢于斗争的风骨
- ④立足党史和国史, 积极投身各种斗争的实践

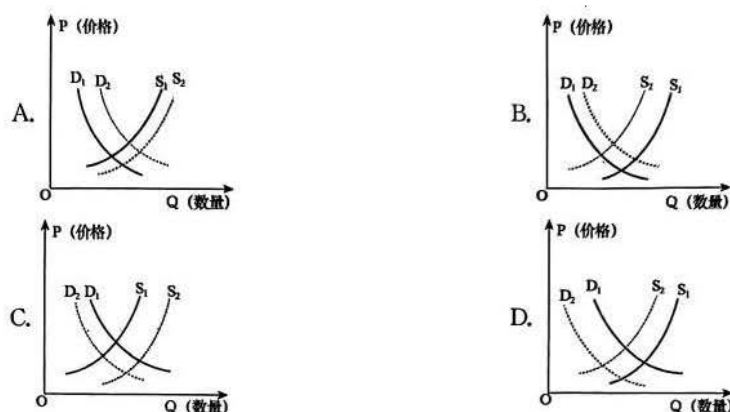
A. ①② B. ①③ C. ②④ D. ③④

3. 2022 年 8 月, 福建省政府印发《关于推动民营经济创新发展的若干措施》指出: 要营造民营经济良好发展环境、优化民营企业创新融资服务等方面问题。上述举措发挥作用的路径是

- ①加大对民营企业信用贷款力度→推动缓解民营企业融资难题→激发民营企业活力
- ②鼓励民营企业兼并重组→推动民营企业扩大生产规模→提高民营企业经济效益
- ③增加民营企业债券发行规模→适度扩大财政赤字→增加政府投资形成新的需求
- ④统筹安排财政性科技专项资金→加大对民营企业的科技扶持力度→激发民营企业的创造力

A. ①② B. ①④ C. ②③ D. ③④

4. 碳酸锂是新能源电池的重要原材料。截至 2022 年 9 月 1 日, 碳酸锂市场长协价达到 49.36 万元/吨, 相比 5 月最低价上涨 3.8%。据有关人士分析, 受限电、疫情等因素影响, 锂盐供应紧张加剧, 以及新能源汽车消费回暖等多个因素叠加影响, 导致碳酸锂价格再度上涨。如果用 P 表示碳酸锂的价格, Q 表示碳酸锂的数量, D_1 、 D_2 表示变动前后碳酸锂的需求曲线, S_1 、 S_2 表示变动前后碳酸锂的供给曲线。下列图示最有可能反映上述现象的是



5.上海、江苏、浙江、广东和福建构成了中国东南沿海经济大省的版图。5省市经济体量占全国1/3以上，财政收入占比近4成，在地方对中央财政净上缴中贡献近8成。51%的上市公司、科创板及创业板60%的市值来自5省市。5省市的市场主体吸纳了全国70%跨省农民工就业。长三角、珠三角进出口占全国的近60%。由此可见

- ①5省市经济有力支撑了国家财力和中央财政对中西部地区转移支付
- ②5省市要继续挑起国家发展、稳经济的大梁，努力稳增长稳财源
- ③东南沿海地区经济活力足，为解决我国就业问题发挥决定性作用
- ④东南沿海经济大省在吸引外资方面占据领先优势和地位，区域差距进一步扩大

A.①② B.①③ C.②④ D.③④

6.马克思和恩格斯曾说：“民主是什么呢？它必须具备一定的意义，否则它就不能存在。因此全部问题在于确定民主的真正意义。”“全过程人民民主”对“民主之问”作出了中国特色社会主义新时代的科学回答。下列关于这一“科学回答”理解正确的是

- ①以民主的高质量促进了国家治理的高效能
- ②是我国社会主义民主理论和实践的全新概括
- ③是全体公民共同享有的社会主义新型民主
- ④是进一步提高我国人民当家作主地位的民主

A.①② B.①④ C.②③ D.③④

7.新疆维吾尔自治区人大代表周某用身边发生的事、接地气的话，给信教群众讲宗教和睦和谐、“民族团结一家亲”小故事，帮助信教群众明白“党亲、国好、法大”的道理，厘清国法与教规的关系。周某联系的单位、社区的信教群众做到了弘扬正信、坚守中道、远离极端，主动融入世俗化生活。由此可见

- ①信教群众要增强守法的意识
- ②信仰自由是民族团结的基础
- ③周某行使权利，提高履职能力
- ④我国宗教与社会主义社会相适应


A.①② B.①④ C.②③ D.③④

8.2022年8月底，十三届全国人大常委会第三十六次会议对《中华人民共和国青藏高原生态保护法(草案)》进行了审议，并在中国人大网公布、向社会公开征求意见，最终截止日期为10月1日。为青藏高原生态保护立法

- ①发挥政府在立法中的主导作用，旨在建设法治政府
- ②全国人大常委会应探索公众有序参与立法的方式
- ③需要把“生态保护第一”这一主线贯穿法律始终
- ④要坚持科学、民主、依法立法，方可制定出良法

A.①② B.①③ C.②④ D.③④

9.下图漫画《显而易见》(作者：白晓东)蕴含的哲理是



《显而易见》

- ①兼听则明，坚持真理与谬误的统一②循序渐进，坚持量变与质变的统一
③实事求是，坚持主观与客观的统一④调查研究，坚持理论与实践的统一
A.①②B.①④C.②③D.③④


10.随着平台经济等新业态快速发展，一些大型平台经营者滥用数据、技术、资本等优势实施垄断行为、进行无序扩张，导致妨碍公平竞争、抑制创新创业、扰乱经济秩序、损害消费者权益等问题日益突出。人们意识到迫切需要明确反垄断相关制度在平台经济领域的具体适用规则，以加强反垄断监管。这一认识的理论依据是

- ①经济基础决定社会的法律等制度
②上层建筑对经济基础具有反作用
③上层建筑为经济基础服务，就能推动社会进步
④生产关系是生产方式中最革命、最活跃的因素
A.①②B.①③C.②④D.③④

11.在党的二十大来临之际，“喜迎二十大、奋进新征程”系列群众文化活动蓬勃开展，各地还积极运用数字化、信息化手段拓展群众参与渠道，全社会焕发出爱党爱国的巨大热情。由此可见

- ①文化能够增强人的精神力量
②一定的文化由一定的经济、政治所决定
③文化载体承载、表达和展现着文化的内容
④实现优秀传统文化创造性转化，必须符合时代要求
A.①③B.①④C.②③D.②④

12.下图为中国国际贸易促进委员会(简称“中国贸促会”)开展的2022年上半年中国外资营商环境调研数据。据此可以推断



- ①欧洲跨国公司对中国市场前景普遍充满信心
②中国贸促会看好大多数欧洲跨国公司的经营能力
③多数欧洲跨国公司在中国市场上的经营利润率上升
④中国国内大市场对欧洲跨国公司具有较强的吸引力
A.①③B.①④C.②③D.②④

13.徐某原系某幼儿园教师，钱某系该幼儿园负责人。2021年12月10日，该幼儿园与徐某解除劳动关系，徐某在办理离职手续时偷拍了钱某的照片，并于当日下午在微信朋友圈中，以点名道姓的方式，辱骂、诋毁钱某，引起了大量微信网友特别是徐某原班级幼儿家长的关注，导致钱某情绪低落、经常失眠，钱某的家人帮其将徐某诉至法院，请求判令徐某消除影响、赔偿精神损失费。下列说法正确的是

- ①徐某侵害了钱某的名誉权，但没有侵害其身体权
②钱某有责任提供相关证据，否则要承担不利后果
③徐某侵犯了钱某的姓名权，可以要求其停止侵害

④徐某的家人可以作为辩护人，帮助徐某维护权益

A.①②B.①④C.②③D.③④

14. 受新冠肺炎疫情影响，涉及旅行社和景区景区、旅游饭店尤其是航空公司等供应商调整行程、取消行程，退团退费问题逐渐增多。群体性旅游退团退订纠纷涉及面广，相关利益关系复杂，如果处理不当将成为社会维稳的重大难题。有效解决此类纠纷可以采取的途径是

- ①自行协商，通过和解达成一致
- ②当事人向有关部门申请劳动仲裁
- ③由人民调解委员会作出强制处理
- ④当事人向人民法院提起民事诉讼

A.①③B.①④C.②③D.②④

15. 一国经济增速放缓，或是投资下滑，或是消费不足，或是出口受阻。若 A 国投资上扬，但经济增速放缓，从中能推断出 A 国

- ①要么消费不足，要么出口受阻
- ②消费不足和出口受阻，必有一真
- ③或者消费不足，或者出口受阻
- ④消费不足和出口受阻，必有一假

A.①②B.①④C.②③D.③④

16. 2022 年 6 月 28 日，国务院联防联控机制综合组公布了《新型冠状病毒肺炎防控方案(第九版)》，调整后的防控措施引起了大家的关注。从 2020 年 2 月 1 日印发第一版，到当年 9 月 15 日推出第七版，再到去年 5 月 14 日更新第八版……两年多来，我国疫情防控方案不断调整、与时俱进，已成为高效统筹疫情防控和经济社会发展的科学指南。由此可见

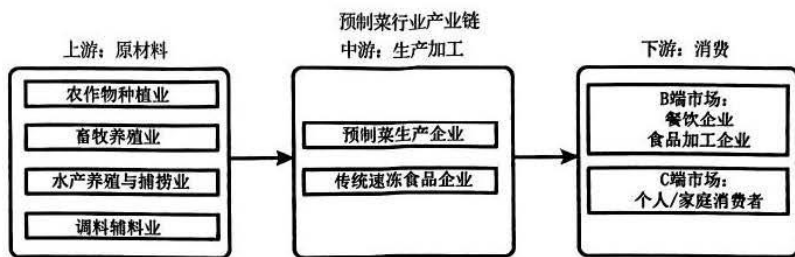
- ①辩证思维具有整体性和动态性的特征
- ②辩证思维就是用联系、发展、全面的观点看待事物
- ③要对已有事物的事物功能的认识作反向思考
- ④思维抽象是从感性具体到思维具体的起始环节

A.①②B.①③C.②④D.③④

二、非选择题：本题共 4 小题，共 52 分。

17. 阅读材料，完成下列要求。(14 分)

预制菜，是按照标准化流水作业，对菜品原料进行前期加工，消费者和餐饮企业只需通过简单烹调或直接开封即可食用的便捷特色菜品。预制菜产业，一端连着乡村振兴，一端连着消费变革。对地方政府而言，发展好预制菜产业，既有利于升级农业及食品产业，又能挖掘新消费需求，创造新的经济增长点。



在预制菜产业发展过程中，也出现了新的问题：一是许多预制菜生产企业仍然停留在初级加工阶段，技术较为落后，品质较低，食用体验不及预期。二是整体上缺乏统一的国家标准，没有完整的产品标准体系和操作规范，导致产品质量参差不齐，存在安全隐患。三是预制菜产品对新鲜度要求较高，而冷链物流配送能力弱、供应链配送成本高。为帮助我国预制菜行业的发展，国家相关部门出台了一系列产业扶持政策，地方政府也给出了政策方面的支持。

(1) 结合材料，运用“建设现代化经济体系”的相关知识，分析地方政府应如何推动预制菜产业的良性发展。(6 分)

(2) 有人认为：预制菜作为工业化制造的标准化产品，口感千篇一律，会让中华美食失去特色，无法满足消费

者个性化的需求。请选用一个最恰当的矛盾观点，评析该观点。(8分)

18.阅读材料，完成下列要求。(12分)

中国共产党领导的多党合作和政治协商制度是中国共产党、中国人民和各民主党派、无党派人士的伟大政治创造，是从中国土壤中生长出来的新型政党制度。党的十八大以来，以习近平同志为核心的党中央站在治国理政的战略高度，推动新型政党制度不断发展完善，使它在践行全过程人民民主中的作用日益凸显，我们对这一制度越来越有信心。同时，近年来，西方国家政党政治实践中出现的种种问题，不仅打破了一些人对西方民主和政党制度的迷信，而且使人们更加理性和客观地认识到我国新型政党制度与中国国情的适应性及其独特优势。中欧数字协会主席路易吉·甘巴尔代拉认为，“中国政治制度的突出优势在于，中国共产党能够团结其他政党，在共同协商的基础上制定出务实而长远的发展规划，并且一道为实现远大目标而奋斗。这在世界上其他国家是很少见的”。实践证明，中国新型政党制度集智聚力，是独具魅力的好制度。

结合材料，运用《政治与法治》知识，分析我国新型政党制度在国家政治和社会生活中的独特优势。

19.阅读材料，完成下列要求。(10分)

“中华文明探源工程”，全称是“中华文明起源和早期发展综合研究”，是继国家“九五”重点科技攻关项目——“夏商周断代工程”之后，又一项由国家支持的多学科结合研究中国古代历史与文化的重大科研项目。经过参加工程的二十多个学科的四百多位学者共同努力，中华文明探源工程取得了显著成果：以坚实的考古材料和综合研究成果证明，中华民族 5000 多年文明史是真实可信的历史；对中华文明多元一体格局的形成和发展过程有了较为清晰的认识；证明了中华文明的形成和长盛不衰，与各区域文明之间、与外部文明之间的交流互鉴密不可分；中华文明的发明创造也为人类文明作出了突出贡献。这些研究对于我们了解中华文明的悠久历史、增强历史自觉、坚定文化自信具有深远意义。

把中国文明历史研究引向深入有助于增强历史自觉、坚定文化自信。结合材料，运用“文化遗产与文化创新”的知识谈谈你对这句话的理解。

20.阅读材料，完成下列要求。(16分)

中国日益走向开放，积极影响世界，国际组织越来越成为中国外交的舞台。

材料一 上海合作组织坚持互利合作、共商共建共享原则，坚持走互利共赢、共同繁荣之路。作为重要创始成员国，中国一直致力于推动构建更加紧密的上合组织命运共同体。

2022年9月15日，上海合作组织成员国元首理事会在乌兹别克斯坦举行。此次峰会签署了《撒马尔罕宣言》并发表了关于维护国际粮食安全、能源安全、供应链安全稳定多元化等多份声明和文件，彰显了各方在国际和地区形势深刻演变之际，共筑安全、共谋发展、共建家国的强烈愿望，必将为多国人民带来实惠，维护亚欧大陆及世界的繁荣稳定。

材料二 中国恢复联合国合法席位 50 多年来，恪守对《联合国宪章》的庄严承诺，坚定维护以联合国为核心的国际体系。作为安理会常任理事国，中国累计派出 5 万余人次、参与 29 项联合国维和行动。作为最大的发展中国家，提前 10 年实现 2030 年可持续发展议程确定的减贫指标，减贫人口占全球 70% 以上。中国与东盟建立对话关系 30 多年来，从中老铁路到雅万高铁，一批标志性互联互通项目顺利实施；从中国—东盟自贸协定升级到澜湄合作，双方务实合作不断推进；从向东盟国家提供大量抗疫物资到交付近 2 亿剂新冠疫苗，中国以实际行动诠释了守望相助的命运共同体精神。

(1)结合材料一，运用“世界多极化”的相关知识，谈谈中国推动构建更加紧密的上合组织命运共同体的原因。(9分)

(2)结合材料二，运用国际组织的有关知识，以“中国通过参与国际组织积极影响世界”为主题，写一个发言提纲。(7分)

要求：①围绕主题，观点明确；②论证充分，逻辑清晰；③学科术语使用规范；④总字数在 200 字左右。

关于我们

自主选拔在线是致力于提供新高考生涯规划、强基计划、综合评价、三位一体、学科竞赛等政策资讯的升学服务平台。总部坐落于北京，旗下拥有网站（[网址: www.zizzs.com](http://www.zizzs.com)）和微信公众平台等媒体矩阵，用户群体涵盖全国 90% 以上的重点中学师生及家长，在全国新高考、自主选拔领域首屈一指。

如需第一时间获取相关资讯及备考指南，请关注**自主选拔在线**官方微信信号：**zizzsw**。

