

参照秘密级管理★启用前

试卷类型：A

2020 级高三上学期校际联合考试

历史试题

2022.08

注意事项：

1. 答卷前，考生务必将自己的姓名、考生号等填写在答题卡和试卷指定位置。
2. 回答选择题时，选出每小题答案后，用铅笔把答题卡上对应题目的答案标号涂黑。如需改动，用橡皮擦干净后，再选涂其他答案标号。回答非选择题时，将答案写在答题卡上。写在本试卷上无效。

3. 考试结束后，将本试卷和答题卡一并交回。

一、选择题：本题共 15 小题，每小题 3 分，共 45 分。每小题只有一个选项符合题目要求。

1. 甲骨卜辞记载，商发动的所有战争活动，最多投入兵力不过 13000 人。周武王伐纣时，数百个诸侯国军队组成的联军也不过 5 万人；而到战国，一个较大诸侯国有几十万军队已是司空见惯的事。这一变化突出说明
 - A. 时局变化影响着战争规模
 - B. 经济发展提升了国家实力
 - C. 人口剧增保障了军队扩需
 - D. 当权者意愿左右军队建设
2. 汉武帝元朔五年始设太学，只有“博士弟子”五十人；昭帝时，增加至百人；宣帝时，增加到二百人；元帝时，增加到一千人；成帝时，已到三千人。太学的发展反映了
 - A. 儒学政治地位不断提高
 - B. 选官制度发生重大变革
 - C. 国家教育体系日趋完善
 - D. 文人学士备受社会尊崇
3. 下表为有关宋代小商贩（小经纪）的记载。这些记载说明宋代

小商贩（王良佐）“居临安观桥下，初为细民，负担贩油。后家道小康，启肆于门，称王五郎”	《夷坚志》 (南宋) 洪迈
小经纪“就门卖羊肉、头肚、腰子、白肠、鹌兔、鱼虾、退毛鸡鸭、蛤蜊、螃蟹、辣熨、香药果子”，或“博卖冠梳、领抹、头面、衣着、动使（日用器具）、钢铁、器皿、衣箱、磁器之类”	《东京梦华录》 (宋) 孟元老
“小经纪”条记录的名目有一百七十八种，有卖猫粮的，卖新闻报纸的，卖火柴的，也有卖假发的，卖肥皂团的；还有洗衣店、宠物美容店、修皮鞋店、冰镇饮料摊子。无数小商贩在京城里开设各类小商店，经营各种小商品或提供生活小服务	《武林旧事》 (宋末元初) 周密

- A. 传统农本观念遭到颠覆
- B. 商业繁荣拓展城市空间
- C. 城市发展促进社会流动
- D. 城市商业经济魅力巨大

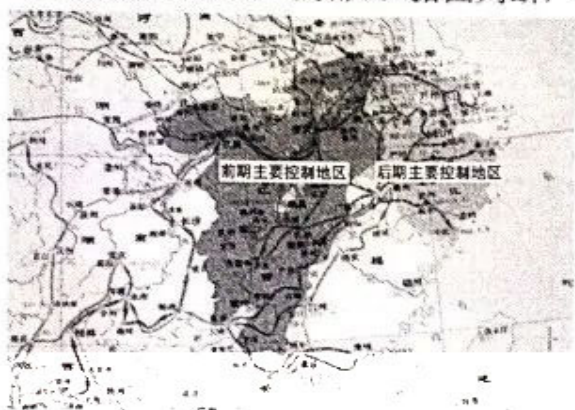
高三历史试题第 1 页（共 8 页）

4. 以下是清顺治年间科举考试殿试的考试内容。据此可知，统治者力图

- 顺治三年（1646年）：王道之始
- 顺治四年：如何得真才，如何防止劣绅欺压乡里，兴兵作战与减轻赋税如何两得
- 顺治六年：满汉为一体问题，与民休息之法，不动兵革何以化盗息民

- A. 完善地方治理以提高效能
- B. 坚持民族平等以实现一统
- C. 提倡儒学治国以稳定秩序
- D. 安抚知识分子以维护道统

5. 下图为中国近代某一运动形势示意图（局部）。据图判断，这一运动



- A. 影响了中央政府的财政收入
- B. 促进了民主革命高潮的到来
- C. 开启了近代经济工业化进程
- D. 动摇了封建统治的思想基础

6. 下图为1887年汉口海关一份报告的部分内容。该内容反映出近代中国

茶叶虽然迅速涌入市场，但销售很慢。（洋行）买主以市场主人的安闲态度对待市场。价格一跌再跌，直至最后才按低于常年20%左右的价格，慢慢地做了少量的交易……外商买卖的一般情况良好，其中某些人，特别是经营上等茶的外商利润很大，而中国商人的损失极重，并且还要继续遭受损失。

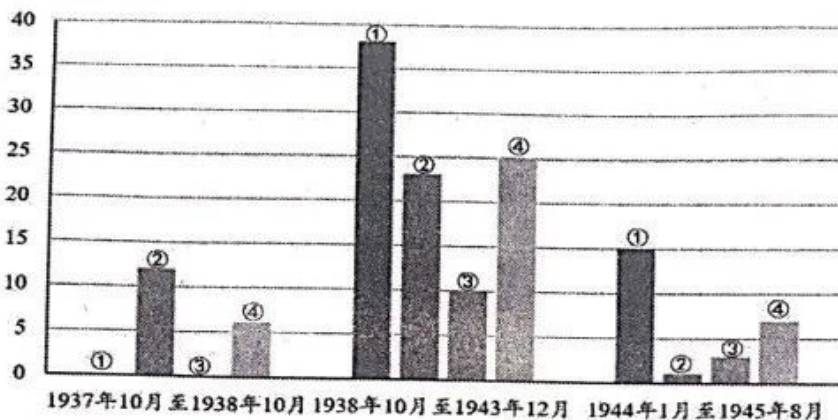
- A. 外国农产品冲击国内市场
- B. 社会半殖民地化环境的影响
- C. 农业经济商品化困难重重
- D. 海关管理权被掠夺危害严重

7. 五四前后，中国大地上涌现出比如少年中国学会、新潮社、改造联合会、讲学社、新教育促进会、平民教育演讲团、工学会、新民学会等等众多新式的进步社团；同时，还出现了比如《新青年》《每周评论》《国民》《湘江评论》《女界钟》《少年中国》等形式多样的新期刊。这一现象表明

- A. 反帝反封建成为国人共识
- B. 社会开明开放氛围浓厚
- C. 马克思主义成为思想主流
- D. 思想界呈空前活跃局面

高三历史试题第2页（共8页）

8. 下图为 1937-1945 年中国共产党在晋察冀抗日根据地提出的关于宣传大生产运动、财政经济政策、耕种作物要求、生产与战斗相结合的经济类标语口号的统计情况。据此判断，其中④为宣传



- A. 大生产运动
B. 财政经济政策
C. 生产与战斗相结合
D. 耕种作物要求
9. 1953-1962 年，在中国全部进口商品中，某类商品进口总值 70.94 亿美元，占 160.16 亿美元进口总额的 44.29%。该类商品是
- A. 工业原料
B. 机械设备
C. 农用物资
D. 日用消费品
10. 古巴比伦时期的法典对租赁关系有如下具体规定：所租耕牛在租用期死亡，租牛者要负责赔偿；租赁土地的地租一般标准是收成的 1/3 至 1/2，如遇自然灾害或其他原因歉收时，损失由承租者负责。这说明古巴比伦时期私人租赁关系
- A. 突出租赁双方的契约精神
B. 保护了奴隶主私有财产
C. 强调维护出租者切身利益
D. 调动了劳动者的积极性
11. 1685 年，英国对“所有印花棉布、印度亚麻及所有印度制造的丝绸制品”征收 10% 的税；1701 年规定进口印花棉布非法；1721 年法令禁止穿着用印度白布染成的印花棉布衣服，售卖印度棉布完全成为非法行为；1774 年法令要求在英国销售的棉布须完全在本国纺织而成。这些做法
- A. 加快了印度社会殖民地化进程
B. 说明英国致力于推进自由贸易
C. 意在以经济手段配合武力扩张
D. 促进了棉纺织部门的技术革新

12. 以下为 19 世纪末英、法、德、美四国海外殖民地和人口统计。其中代表德国的是

国家	面积 (万平方千米)	人口 (万人)
①	958.3	5640
②	2408.7	30900
③	30	970
④	259	1470

- A. ① B. ② C. ③ D. ④

13. 1919 年，苏俄建立了总局管理体制，即在最高国民经济委员会下面按工业部门设立总管理局，为企业下达生产计划，调拨原材料，收缴制成品，垂直管理企业。其首要目的是

- A. 建立战时经济体制 B. 建立计划经济体制
C. 实行工业扶持农业 D. 加快工业建设步伐

14. 下图为英国漫画家伯纳德·帕特瑞吉于 1934 年 5 月 30 日创作的漫画《谁害怕大坏熊？》。漫画意在



法兰西女士讨好代表苏联的大熊：“它是只好好熊——乖乖熊——善良熊！我们必须给它一个我们的日内瓦小圆面包！”而远处躲在树后的希特勒则一脸惴惴不安！

- A. 揭露德国法西斯扩张的阴谋 B. 表达调整对苏联关系的意愿
C. 倡导建立反法西斯统一战线 D. 抹黑和丑化苏联的国际形象

15. 20 世纪某一时期，国际社会面临以下主要问题。在此形势下

- 如何在国际政治中协调相互关系，通过合作谋求发展并巩固独立；
○如何在世界性和地区性事物中发挥新兴国家的作用，在大国主导的世界格局中表达中小国家的需求，维护中小国家的利益；
○如何继续推进民族解放运动，壮大“第三世界”的力量。

- A. 亚非会议召开 B. 联合国成立
C. 不结盟运动诞生 D. 区域集团化兴起

二、非选择题：本题共 4 小题，共 55 分。

16. (14 分) 中国古代都城建设讲究规划布局，东晋南朝建康城的营建基本模仿了魏晋洛阳城的都城形制，而北魏洛阳城的重建又学习、借鉴了建康城。阅读材料，回答问题。

模仿与被模仿



图 1 北魏、西晋洛阳城复原示意图

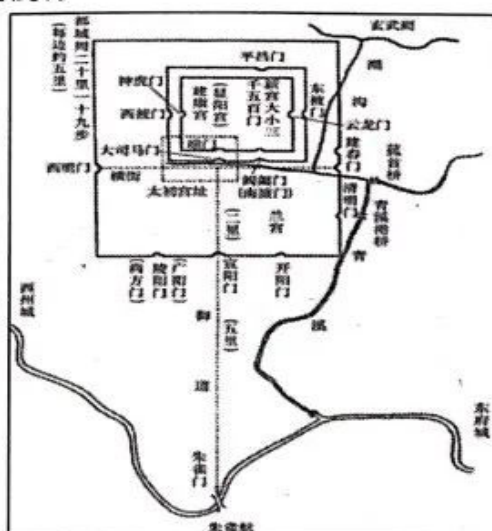


图 2 东晋建康城及宫城位置图

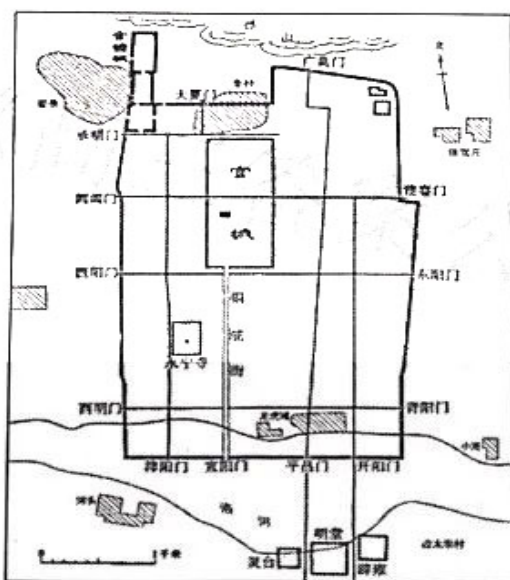


图 3 北魏洛阳城复原示意图

(1) 以上三幅图是根据哪些类型的史料绘制而成的？(4 分)

(2) 历史地图示意图可以使人直观地了解空间因素和图中展示的社会因素的变化，从而认识和理解历史。观察三幅图，对“模仿与被模仿”作出阐释。(10 分)

17. (13分) 阅读材料, 回答问题。

材料一 中美两国进口税率水准比较

年份	美国 (%)	中国 (%)
1860	15.67	—
1865	38.46	6.70
1870	42.23	5.60
1875	28.20	5.76

材料二 通商四口洋、土货净进口货值比较 (单位: 千关两)

年度	上海		汉口		广州		天津	
	洋货	土货	洋货	土货	洋货	土货	洋货	土货
1875-1879	12660	7684	8653	4974	3866	5538	9195	979
1880-1884	13667	7601	12440	6841	4178	8189	10235	905
1885-1889	16727	6966	11549	5953	8140	8219	13821	10315
1890-1894	19480	8099	11341	5319	12519	13057	18967	12945

材料三 1894年工业工人地域分布情况

地区	工人人数	占工人总数之%
上海	36220	47.75—46.40
汉口	12850—13350	16.94—17.10
广州	10300	13.58—13.20
天津	3080—4180	4.06—5.35
福州及其附近	2970—3240	3.92—4.15
九江	1000	1.32—1.28
南京	700—1000	0.92—1.28
汕头	600	0.79—0.77
厦门	500	0.66—0.64
其他	7630—7670	10.06—9.83

依据三则材料所含信息及其内在联系对 19 世纪下半期中国社会经济状况作出解释。

(13分)

18. (16分) 中华人民共和国成立后, 九江作为长江中下游的一座历史悠久的小城, 迎来了发展的新天地。阅读材料, 回答问题。

美好的回忆

材料一

在“一五”计划期间, 九江市新建了电力、纺织、机械、造船、建材、食品等一批企业, 至1957年, 全市工业企业数已达812个, 其间工业企业户数净增673户, 增加4.8倍, 其中全民所有制工业企业40个, 集体所有制工业企业749个, 公私合营工业企业23个。全市工业总产值达到1.06亿元, 增长1.5倍, 年平均递增20.2%。“二五”期间, 九江市先后创办了长江化工厂、九江船厂、九江食品厂等一大批轻纺、化工、冶金等工业企业。通过新中国初期大规模的发展建设, 九江初步建立了自己的工业基础。

——汪红梅《建国初期商品经济发展对社会风习变迁的影响——以九江为例》

材料二

九江居民区西园在解放后, 柳氏宗祠成为这一带居民的活动中心, 每逢周一、三、五居民小组就集中在这里学习、读报、讲时事、教唱歌曲, 这里还办“扫盲识字班”, 识字上千者颁发“扫盲证”, 先进人物还到市文化宫开会。一到该唱歌的晚上, 妇女儿童都聚集到这里, 由“九师”派的学生教唱, 非常热闹。从第一个五年计划开始, 国营企业、公私合营企业大量需要劳动力, 为尽快把妇女从锅灶台边解放出来, 于是加紧识字班管理, 一批又一批妇女通过扫盲走进了工厂、商店、菜市场、饮食服务行业。一些当年从“柳氏宗祠”扫盲后参加社会活动的妇女们都已70左右高龄, 每每谈到当时在祠堂内扫盲、唱歌都能勾起老人们美好的回忆。

——政协浔阳区文史资料委员会编《百年西园·九江》2005年

- (1) 两则材料分别反映了建国后哪些历史现象? (用历史术语概括表述) (10分)

- (2) 指出材料二的史料类型并说明这类史料的史学研究价值。(6分)

19. (12分) 图1、图2、图3、图4是四个历史时期(一战前、一战后、20世纪60年代、20世纪90年代)的欧洲形势图。阅读材料,回答问题。



图1



图2

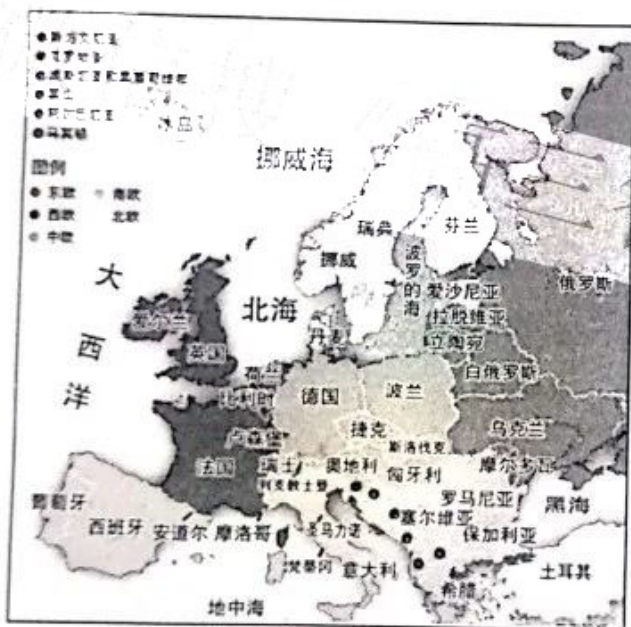


图3



图4

结合所学知识,判断图1、图2、图3、图4分别对应的历史时期,并写出理由(每个时期2条)。(12分)

2020 级高三开学阶段性测试历史参考答案 2022.09

1. B 2. A 3. D 4. C 5. A 6. B 7. D 8. C 9. B 10. C 11. D 12. D 13. A 14. B
15. A

16. (14分) (1) 考古发掘、文献记载。(4分)

(2) 东晋南朝建康城与魏晋洛阳城的整体布局形制基本一致, 主要城门、宫门和宫殿名称与布置, 大都模仿魏晋洛阳城。这与当时北方战乱, 北人南迁的社会背景有关。东晋、南朝偏安江南, 都城建设承继洛阳, 以示正统。(4分)

北魏孝文帝迁都洛阳, 在都城建设上继承洛阳城旧制, 又学习建康城, 体现对中原文化的重视和对皇权至上理念的继承。(4分)

建康城与洛阳城的模仿与被模仿, 反映了南北文化、汉族与少数民族文化的交融, 促进了统一的多民族国家的发展。(2分)

17. (13分) 材料一反映鸦片战争后, 中国关税主权丧失, 中国卷入世界市场, 逐渐沦为西方工业品市场。(3分)

材料二反映了随着中国半殖民地化程度的加深, 中国进一步沦为列强的商品市场, 卷入世界市场的程度加深。(3分)

材料三反映在西方列强商品冲击下, 在通商口岸及附近地区, 中国诞生早期近代企业, 产生民族资产阶级和无产阶级。(3分)

三则材料从不同角度反映鸦片战争后, 中国逐渐陷入资本主义世界市场, 传统经济结构发生变化。随着近代企业的兴办, 中国社会结构发生变化, 新的阶级力量产生、发展。中国社会处于转型时期。(4分)

18. (16分) (1) 材料一: 我国实施五年计划, 发展生产力和变革生产关系同时进行; 工业化建设和社会主义改造成就突出。(4分)

材料二: 实行扫盲教育; 妇女解放, 地位大大提高; 社会习俗变迁。(6分)

(2) 地方志(方志)。(2分) 地方志是地方文献的重要组成部分, 也是了解和研究一地社会政治、经济、思想文化和自然地理风貌的重要依据; 折射某一地区和时代的社会变迁, 具有较高的史料价值; 反映的社会内容丰富, 可以与正史互补、互证。(4分)

19. (12分) 图1是一战前的欧洲, 依据: 存在奥匈帝国、德国、俄国等大帝国; 只在巴尔干半岛出现保加利亚、塞尔维亚等少数民族国家; 北欧尚未出现挪威、瑞典等国家。(3分, 写出2项依据即可)

图2是二十世纪90年代的欧洲: 苏联解体后, 欧洲出现俄罗斯、乌克兰、立陶宛等独立国家; 南联盟解体, 塞尔维亚、斯洛文尼亚等国家独立。(3分, 写出2项依据即可)

图3是二十世纪60年代的欧洲: 二战后德国分裂为民主德国和联邦德国; 原来巴尔干半岛上塞尔维亚、斯洛文尼亚等国家联合成立南斯拉夫联盟; 波罗的海沿岸立陶宛、爱沙尼亚等国家并入苏联。(3分, 写出2项依据即可)


图4是一战后的欧洲: 波兰复国; 奥匈帝国解体为奥地利和匈牙利; 新出现立陶宛、爱沙尼亚、捷克斯洛伐克等民族国家。(3分, 写出2项依据即可)

关于我们

自主选拔在线是致力于提供新高考生涯规划、强基计划、综合评价、三位一体、学科竞赛等政策资讯的升学服务平台。总部坐落于北京，旗下拥有网站（[网址: www.zizzs.com](http://www.zizzs.com)）和微信公众平台等媒体矩阵，用户群体涵盖全国90%以上的重点中学师生及家长，在全国新高考、自主选拔领域首屈一指。

如需第一时间获取相关资讯及备考指南，请关注**自主选拔在线**官方微信信号：**zizzsw**。



 微信搜一搜

 自主选拔在线

