

贵州省 2021 年普通高等学校招生适应性测试

文科综合能力

注意事项:

1. 答卷前, 考生务必将自己的姓名、准考证号填写在答题卡上。

2. 回答选择题时, 选出每小题答案后, 用铅笔把答题卡上对应题目的答案标号涂黑。如需改动, 用橡皮擦干净后, 再选涂其它答案标号。回答非选择题时, 将答案写在答题卡上。写在本试卷上无效。

3. 考试结束后, 将本试卷和答题卡一并交回。

一、选择题: 本题共 35 小题, 每小题 4 分, 共 140 分。在每小题给出的四个选项中, 只有一项是符合题目要求的。

当某地区 60 岁及以上人口占总人口比重 $\geq 10\%$ 时, 标志着该地区进入老龄化社会。上海市 20 世纪 90 年代前就已步入老龄化社会。图 1 示意上海市 2010 年 60 岁及以上人口比例空间分布。据此完成 1~3 题。

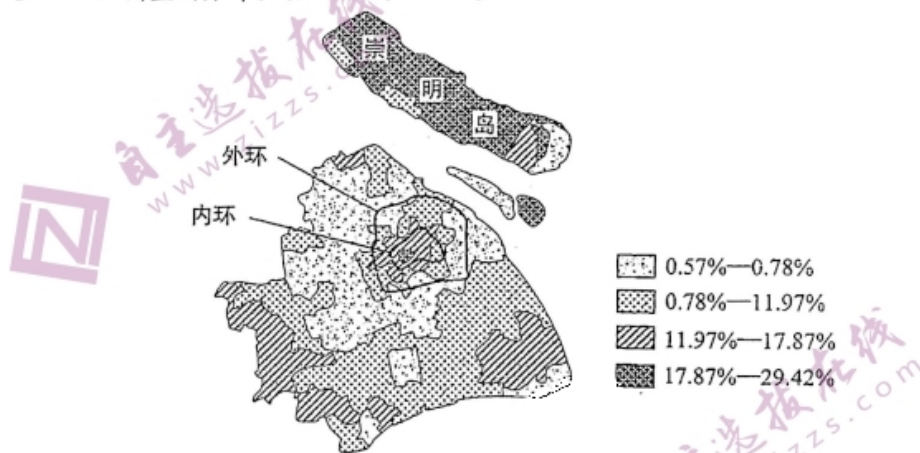


图 1

1. 与图中 60 岁及以上人口比例空间分布相符的是

A. 大致呈环状分布	B. 由内环向周边递减
C. 南部略大于北部	D. 外环附近比例最高
2. 上海市较早步入老龄化社会的主要原因是

A. 传统制造业回流, 迁入人口多	B. 工业化起步早, 经济较发达
C. 高技术产业发达, 人口大量外迁	D. 当地矿产丰富, 工业部门齐全
3. 结合上海市老龄化特点, 崇明岛可重点发展

A. 机械制造	B. 远洋运输
C. 农业观光	D. 生态康养

文科综合试卷 第 1 页 (共 14 页)

粮食总产量是耕地面积与单位耕地面积产量的乘积。图2示意1980—2020年我国粮食作物单产与总产量的变化。据此完成4~6题。

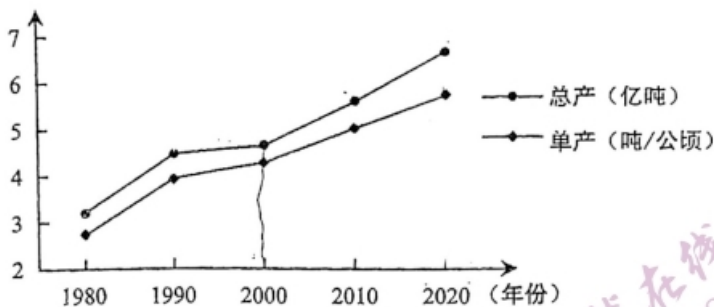


图2

4. 1980年以来,我国粮食总产量增加主要依靠
- A. 退耕还林还草
B. 扩大耕地面积
C. 加大科技投入
D. 实施坡改梯工程
5. 与2000年相比,2020年我国耕地面积
- A. 有所增加
B. 有所减少
C. 保持一致
D. 波动减少
6. 提高我国粮食单产的可行性措施有
- ①增加基本农田数量
②使用农药防治病虫害
③提高耕地复种指数
④调整农业产业结构
- A. ①②
B. ③④
C. ②③
D. ①④

位于澳大利亚中部的大自流盆地,地下水资源丰富,但埋藏过深,甚至超过2千米,水温和含盐量较高。图3示意大自流盆地地质结构。据此完成7~8题。

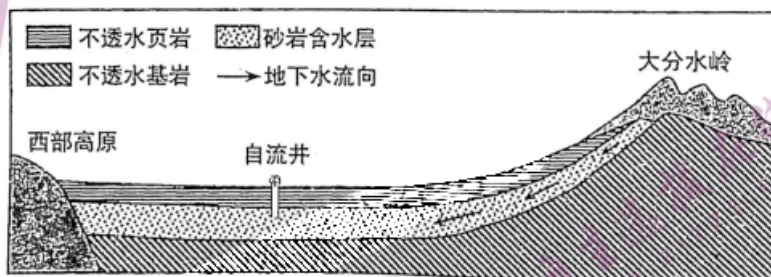


图3

7. 砂岩含水层的水主要来自
- A. 信风带从太平洋带来的降水
B. 大自流盆地内地表水下渗
C. 西风带从印度洋带来的降水
D. 赤道附近洋面蒸发的水汽
8. 大自流盆地地下水温度和含盐量较高的主要原因是
- ①气温高——水温高
②蒸发强烈——含盐量高
③埋藏深——水温高
④矿化度高——含盐量高
- A. ①②
B. ②③
C. ①④
D. ③④

我国宋代学者朱熹在《朱子语类》中写到：“常见高山有螺蚌壳，或生石中，此石即旧日之土，螺蚌即水中之物。下者却变而为高，柔者变而为刚，此事思之至深，有可验者。”据此完成9~11题。

9. “旧日之土”应为
A. 水稻土 B. 沉积物 C. 玄武岩 D. 生物化石
10. “柔者变而为刚”所表述的地质作用是
A. 流水侵蚀 B. 固结成岩 C. 重熔再生 D. 风力堆积
11. 此段文字说明该区域经历了
A. 水平拉张 B. 岩浆喷发 C. 地壳抬升 D. 断裂下陷
12. 截至2021年1月13日，全国海关共抽样检测进口冷链食品或其包装样本1295692个，检出核酸阳性结果47个，海关总署对检出阳性的39家境外食品生产企业实施暂停其产品进口申报1~4周紧急预防性措施。不考虑其他因素，这一措施可能对我国国产肉制品和国产水产品市场产生的影响是
①国产肉制品和水产品生产行业迎来发展机遇
②境外冷链食品生产行业销售量下降，行业收入减少
③消费者对“国产货”的偏好程度增强，其价格上升
④进口冷链食品遭遇消费者的冷落，其价格大幅下降
A. ①② B. ①③ C. ②④ D. ③④
13. 2020年1~12月，我国规模以上工业企业各月累计利润率与每百元营业收入中的成本变化如图4所示。

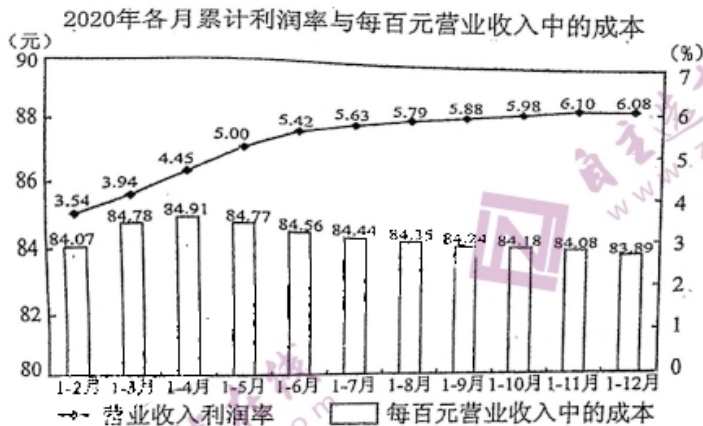


图4

- 保持图中指标变化趋势，规模以上工业企业应采取的措施有
①提高品质，创新技术树品牌 ②转变方式，科学管理增效益
③加强调控，制度保障激活力 ④增加投入，扩大规模抢市场
A. ①② B. ①④ C. ②③ D. ③④

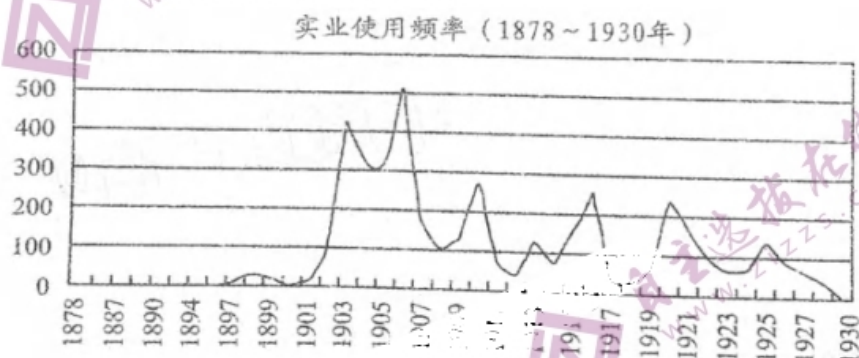
文科综合试卷 第3页 (共14页)

14. 乘数效应是一种宏观的经济效应，是指经济活动中某一变量的增减所引起的经济总量变化的连锁反应程度。2020年中央经济工作会议明确要求，积极的财政政策要更加积极有为，大力提质增效、更可持续。这一财政政策发挥“乘数效应”的传导路径是
- ①提高社会保障水平→释放消费潜力→促进国民经济平稳运行
 - ②降低存款准备金率→有效拉动内需→推动经济结构战略性调整
 - ③继续实施减税降费政策→稳企业保就业→促进产业消费双升级
 - ④加大财政转移支付力度→加快新基建发展→实现社会公平正义
- A. ①③ B. ①④ C. ②③ D. ②④
15. 2021年1月15日，国家主席习近平出席世界经济论坛“达沃斯议程”对话会并发表特别致辞指出，突如其来的新冠肺炎疫情肆虐全球，全球公共卫生面临严重威胁，世界经济陷入深度衰退，利用疫情搞封闭脱钩，不符合任何一方利益，面对全球性问题，任何一国想单打独斗都无法解决，必须开展全球行动。这表明我国
- ①始终支持经济全球化，坚定实施对外开放基本国策
 - ②转变对外交往方式，以国家间共同利益为出发点
 - ③维护和践行多边主义，推动构建人类命运共同体
 - ④主导世界经济发展方向，展现负责任大国担当
- A. ①② B. ①③ C. ②④ D. ③④
16. 《中华人民共和国村民委员会组织法》颁布实施30多年来，村民自治形式不断创新，如吸收乡村民间精英进入村民委员会，采用党建引领下的网格化管理，建立代表工作室、民情理事会等。村民自治实践形式的创新，有利于
- ①调动多方主体积极的参与村务治理，推进村民自治的有效实现
 - ②提高行政管理效率，切实保证人民群众依法直接行使民主权利
 - ③丰富村民自治的实践形式，拓宽公民参与国家事务管理的渠道
 - ④发扬社会主义民主，提升基层群众自治组织乡村社会治理能力
- A. ①② B. ②④ C. ②③ D. ①④
17. 2021年1月25日，中共中央办公厅、国务院办公厅印发了《关于做好人民群众就地过年服务保障工作的通知》，提倡春节假期非必要不流动，要求各地区及各部门针对因疫情防控需要就地过年群众增加的新情况，抓紧做好各项服务保障工作。这需要政府

- ①积极履行职能，提升公共服务能力
②创建公共服务体系，提高服务效率
③执政为民，关注人民生命健康问题
④坚持对人民负责原则，为人民谋利
- A. ①② B. ①④ C. ②③ D. ③④
18. 为加强长江流域生态环境保护和修复，实现人与自然和谐共生、中华民族永续发展，十三届全国人大常委会第二十四次会议表决通过了《中华人民共和国长江保护法》，并于2021年3月1日起正式施行。由此可见
- ①我国人民代表大会制度坚持民主集中制原则
②依法治国是社会主义民主政治的本质特征
③全国人大常委会行使立法权，以良法保障善治
④全国人大常委会行使决定权，以保障生态安全
- A. ①② B. ②④ C. ①③ D. ③④
19. 2020年12月17日，中国太极拳获批列入联合国教科文组织“人类非物质文化遗产代表作名录”。太极拳一起一落间，渗透出中国传统文化与古老哲学，一招一式中，浸润着东方文化的包容与力量。目前，太极拳已传播到150多个国家和地区，爱好练习者达数亿人。太极拳走向世界的文化意义在于
- ①维护传统文化相对稳定性和鲜明的民族性
②在交流传播中确定优秀传统文化的时代内涵
③促进中外文化交流互鉴和世界文化的繁荣
④彰显中华文化的深厚底蕴和独特思想价值
- A. ①② B. ②④ C. ①③ D. ③④
20. 一株小草改变世界、一缕药香跨越古今……面对新冠肺炎疫情，我国中医药人从古籍古方中挖掘精华，在现代科技中攻关突破，做到中西医结合，中西医并重，让古老的中医药焕发新的生命力，成为抗击疫情的利器，为人类健康贡献中国智慧。这表明
- ①中医药文化坚持创造性转化和创新性发展
②中医药文化走向世界引领人类文明的进步
③中医药文化发展紧跟时代步伐满足民众需求
④中医药文化承载一个国家和民族的价值追求
- A. ①② B. ②④ C. ①③ D. ③④

21. 美丽嫦娥惊世行，苍穹浩瀚亮明灯。2007年至2019年，我国相继成功发射嫦娥一号、二号、三号、四号月球探测器，2020年12月17日，嫦娥五号携带月球样品成功着陆地球，标志着探月工程“绕、落、回”三步走规划如期完成，这将为我国载人登月、月球科研站的设想奠定坚实基础。材料表明
- ①探月实践要勇于超越社会历史条件的限制
 - ②科技的进步推动有关月球认识的深化发展
 - ③人类对月球的认识是永无止境的发展过程
 - ④人类的好奇是推进对月球认识的直接动力
- A. ①② B. ①④ C. ②③ D. ③④
22. 党的十九届五中全会将坚持系统观念列为“十四五”时期经济社会发展必须遵循的重要原则之一。立足当前、面向未来的谋划需要突出全局性，注重社会主义现代化建设中的各项工作、各种要素的关联性，在统筹兼顾中实现协同发展，在扬长补短中提升整体效能。这蕴含的哲学道理是
- ①着眼整体性，实现系统中各个要素功能的最大化
 - ②系统由要素构成，系统的功能存在于各要素之中
 - ③系统的各要素总是按照一定顺序和方向发生作用的
 - ④用综合思维方式来认识和处理问题，促进系统优化
- A. ①② B. ①④ C. ②③ D. ③④
23. 习近平指出，当代中国的伟大社会变革，不是简单延续我国历史文化的母版，简单套用马克思主义经典作家设想的模板，不是其他国家社会主义实践的再版，也不是国外现代化发展的翻版。要把科学社会主义基本原则同本国具体实际、历史文化传统、时代要求紧密结合起来。这一论断体现
- ①主要矛盾在事物发展过程中处于支配地位
 - ②具体问题具体分析是正确认识矛盾的基础
 - ③矛盾的普遍性与特殊性是具体的历史的统一
 - ④矛盾同一性和斗争性既相互转化又相互分离
- A. ①② B. ①④ C. ②③ D. ③④
24. 齐、鲁长勺之战前，曹刿向鲁庄公询问战前准备，鲁庄公说祭神时“牺牲玉帛，弗敢加也，必以信”，曹刿认为这只是小信。待鲁庄公说出“小大之狱，虽不能察，必以情”时，曹刿才肯定鲁国“可以一战”。这反映了曹刿主张
- A. 重天敬神
 - B. 重人爱民
 - C. 神民并举
 - D. 民贵君轻

25. 据《岳麓秦简》记载，秦王政十八年，大夫沛把“稻田廿亩”分给了家中的男仆“识”，并得到当地官府认可，“识”后来成为单独立户的士伍。这说明当时
- A. 奴隶制度盛行
B. 人身依附关系弱
C. 土地兼并严重
D. 土地私有制出现
26. 东汉张仲景在《伤寒杂病论》中认为医学“上以疗君亲之疾，下以救贫贱之厄，中以保身长全，以养其生”；唐代孙思邈提出“人命至重，有贵千金，一方济之，德逾于此”。这反映了古代中医
- A. 区分亲疏贵贱的病患差别
B. 坚持医德至上的价值取向
C. 贯彻医技优先的行医理念
D. 恪守安生立命的职业规范
27. 明中晚期的江南，随着地主和佃户将维持生计的谷物收成变为植棉、养鱼和橘园、桑园的经营与茶树的种植，新的农业形式在江南产生了……新的农业管理技术发展了，常常需要使用雇工或是有人身依附性质的劳动力。材料说明江南地区
- A. 商品经济的发展
B. 小农经济开始解体
C. 雇佣关系普遍化
D. 农业经营方式多样
28. 图 5 是 1878~1930 年间“实业”一词的使用频率图，其中 19 世纪末 20 世纪初该词使用频率明显增加。这一现象反映了



- A. 重农抑商政策被放弃
B. 实业救国思想成为主流
C. 洋务运动刺激的结果
D. 民族资本主义快速发展
29. 1902 年，对于经济理论上的社会主义和自由主义纷争，梁启超指出：“经济上的干涉主义和放任主义都是一种‘颠簸不破’的学理，需要‘各随其地，各随其时’”。这表明梁启超
- A. 主张自由主义
B. 认同社会主义
C. 肯定国情优先
D. 批判理论纷争

30. 1935年冬,蒋介石对苏联大使说:“如果苏联政府能够促进达到(国共)团结,我将感到高兴。”次年1月22日,蒋介石又进一步表示:“在如下基础上,同共产党达成协议是可能的:红军承认中央政府及司令部的权威,同时保持自己目前的编制,参加抗日战争。”这些言论有助于
- A. 国民党放弃剿共的政策
B. 促成西安事变和平解决
C. 抗日民族统一战线建立
D. 中国苏联结成军事同盟

31. 下表是“一五”时期,中国科学院组织的2700余名翻译工作者的翻译领域分布状况。

翻译领域	工程技术	农业	基础科学	人文社科	其它
所占比例	44%	14%	24%	14%	4%

这反映出当时

- A. 工程技术翻译成绩斐然
B. 农业和人文社科同等重要
C. 基础科学研究是重难点
D. 翻译服务于国家建设战略
32. 古罗马历史学家迪奥·卡西乌斯认为,“卡拉卡拉敕令”授予帝国境内自由人以公民权是为了扩大税基,相较没有公民权的人来说,罗马公民需要缴纳一些特定的税种。该观点反映罗马万民法
- A. 强化公民的优势地位
B. 增加政府的财政收入
C. 扩大帝国的统治基础
D. 赋予更多人以公民权
33. 美国建国初期,“人民”一词暗含着多重定义,不同派别的人对“人民”一词有着不同的理解。卡尔霍恩认为“人民”首先是各州人民,其次才是合众国的人民。卡尔霍恩意在
- A. 肯定各州主权
B. 强调中央权力
C. 倡导主权在民
D. 宣扬个人权利
34. 二十世纪八十年代,里根当选美国总统后,严格控制货币供应量,实行高利率,并推行大规模的减税政策。这些政策的实施
- A. 导致经济危机加剧
B. 有助滞胀危机解决
C. 强化国家干预经济
D. 完善社会福利制度
35. 伊拉克文学家福阿德·提克里利在其代表作《遥远的归途》中,通过异化“人与人之间关系、人与社会之间关系和人与自我之间关系”来表达对伊拉克人民复杂生存状态的理解和关怀。下列作品与之属于同一文学流派的是
- A. 《哈姆雷特》
B. 《巴黎圣母院》
C. 《人间喜剧》
D. 《等待戈多》

二、非选择题：共 160 分。第 36~42 题为必考题，每个试题考生都必须作答。

第 43~47 题为选考题，考生根据要求作答。

(一) 必考题：共 135 分。

36. 阅读图文资料，完成下列要求。(22 分)

通勤铁路是一种联系市中心商业区与郊区(主城与卫星城)的铁路运输系统，以服务上班、上学为主，乘客众多且集中。非洲某内陆国规划建设首都至最大卫星城之间的通勤铁路(见图 6)，并对外招商，吸引了众多投资者关注。该通勤铁路设计全长 26 千米，设有 11 个车站。为降低建设成本，大部分线路位于地面。有专家预估，该铁路建成后其运行速度较慢、维护成本较高。

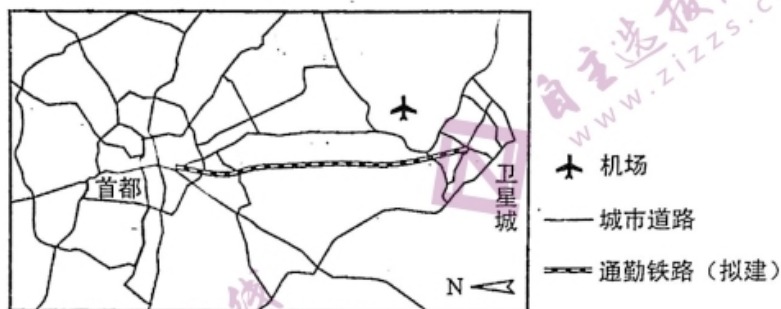


图 6

- (1) 简析该通勤铁路吸引了众多投资者关注的原因。(6 分)
- (2) 推测该通勤铁路建成后运行速度较慢的原因。(4 分)
- (3) 分析该通勤铁路运行后维护成本可能较高的原因。(6 分)
- (4) 评价该通勤铁路的建设对图示区域交通规划的影响。(6 分)

37. 阅读图文资料，完成下列要求。(24 分)

在横断山区，随着海拔降低，地形越来越封闭，部分地区出现了谷底生长低伏灌丛、山坡上生长高大乔木的分布状况。图 7 中左图示意金沙江某河段，右图示意 28°15'N 附近金沙江两岸植被的垂直分布。

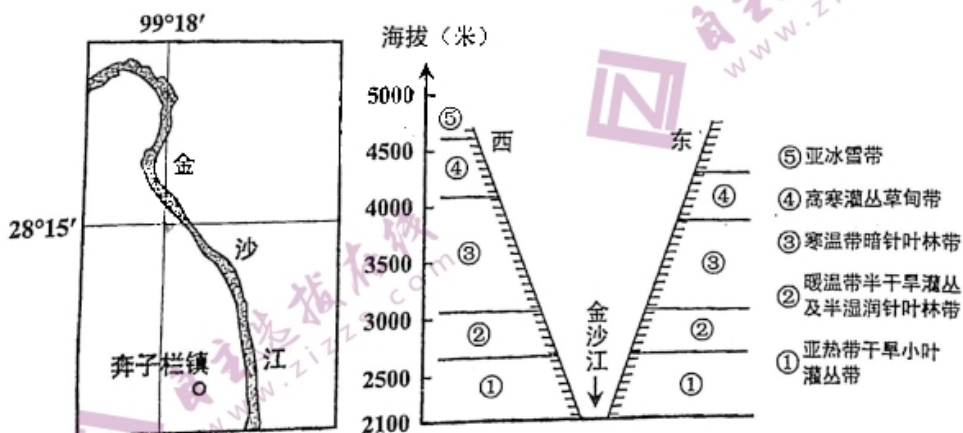


图 7

文科综合试卷 第 9 页 (共 14 页)

- (1) 分析横断山区生物多样性丰富的原因。(6分)
- (2) 简析图示河谷地带气温年较差较小的原因。(6分)
- (3) 说明 28°15'N 附近金沙江河谷东岸为阳坡的理由。(4分)
- (4) 分析谷底附近形成“亚热带干旱小叶灌丛带”的原因。(8分)

38. 阅读材料, 完成下列要求(14分)

近年来, 西方主要国家贸易保护主义抬头, 受新冠疫情的影响, 逆全球化趋势更加明显, 全球产业链、供应链面临重大冲击, 风险加大。面对外部环境变化带来的新矛盾新挑战, 2020年10月29日, 党的十九届五中全会通过的《中共中央关于制定国民经济和社会发展第十四个五年规划和二〇三五年远景目标的建议》提出, 要加快构建以国内大循环为主体、国内国际双循环相互促进的新发展格局。

2020年11月15日, 《区域全面经济伙伴关系协定》(RCEP) 正式签署, 标志着当前世界上人口最多、经贸规模最大、最具发展潜力的自由贸易区正式启航。2019年, RCEP 15个成员国总人口达 22.7 亿, 国内生产总值达 26 万亿美元, 出口总额达 5.2 万亿美元, 均占全球总量约 30%, 意味着全球约三分之一的经济体量将形成一体化大市场。2020年12月30日, 中欧领导人共同宣布如期完成中欧投资协定谈判, 意味着深化中欧经贸合作的新开端。

结合材料并运用经济生活知识, 分析说明中国构建新发展格局对协定签署国的积极作用。

39. 阅读材料, 完成下列要求(12分)

2021年, 是中国共产党百年华诞。百年是理想与向往的目标, 百年是寄予梦想与希望的灯塔, 百年是追求的动力, 百年是心中点燃的圣火。

1921年, 中国共产党在浙江嘉兴南湖扬帆起航, 承载着人民的重托、民族的希望, 越过急流险滩, 穿过惊涛骇浪, 历经 28 年, 终于冲破雾霾奔向曙光, 建立了新中国。1978年, 中国共产党吹响改革开放的号角, 历经 42 年, 中国特色社会主义焕发出蓬勃生机与活力。2012年, 党的十八大开启新征程, 把握新方位, 书写历史新篇章。2020年, 我国脱贫攻坚战取得全面胜利, 9899 万农村贫困人口全部脱贫, 832 个贫困县全部摘帽, 粮食生产喜获“十七连丰”, 国内生产总值迈上百万亿元新台阶; “天问一号”、“嫦娥五号”等科学探测实现重大突破。2021年, 新中国成立以来第一部以“法典”命名的《中华人民共和国民法典》颁布实施, 我国的民事权利保障迎来了全新的时代……

百年风雨兼程, 圆梦百年奋斗目标。站在“两个一百年”的历史交汇点, “十三五”圆满收官, 党又擘画民族复兴蓝图, 引领中国人民迈向强国之路的新征程!

运用政治生活知识, 分析说明中国共产党为什么能领导中国人民取得伟大历史性成就。

40. 阅读材料，完成下列要求。（26分）

中国人民是英雄的人民，中华民族是一个英雄辈出的民族。在抗美援朝战争中，中国人民志愿军发扬伟大爱国主义精神和革命英雄主义精神，勇往直前，浴血奋战，为保家卫国作出重要贡献。在他们中，涌现出杨根思、黄继光、邱少云等30多万名英雄功臣和近6000个功臣集体，这些英雄模范身上集中体现了伟大的抗美援朝精神。抗美援朝战争锻造形成的伟大抗美援朝精神，是弥足珍贵的精神财富，它跨越时空、历久弥新，必将激励中国人民和中华民族克服一切艰难险阻、战胜一切强大敌人。

新中国的历史，就是一部中国人民的英雄史。国家勋章和国家荣誉称号获得者袁隆平、钟南山、张伯礼，是千千万万为党和人民事业作出贡献的杰出人士的代表，他们身上生动体现了中华民族精神和社会主义核心价值观，展现了忠诚、执着、朴实的鲜明品格。他们用行动再次证明，伟大出自平凡，平凡造就伟大。只要有坚定的理想信念、不懈的奋斗精神，脚踏实地把每件平凡的事做好，一切平凡的人都可以获得不平凡的人生，一切平凡的工作都可以创造不平凡的成就。

历史照亮未来，征途漫漫，惟有奋斗。在全面建设社会主义现代化国家的新征程上，全社会都要大力学习英雄的品格、弘扬英雄的精神，让英雄模范的力量薪火相传，让时代精神照亮奋进征途，创造属于我们这代人的历史功绩。

- (1) “历史照亮未来，征途漫漫，惟有奋斗。”结合材料并运用价值观的知识谈谈你对这句话的理解。（12分）
- (2) 运用文化生活知识，分析弘扬抗美援朝精神的时代价值。（10分）
- (3) 请就“崇尚英雄、守护英雄”提两条建议。（4分）

41. 阅读材料，完成下列要求。（25分）

材料一

宋代的基层政治运作是由维护治安的弓手和土兵，以及执行的胥吏和担任职役的民户，共同操作实际业务。他们一方面要奉行朝廷的命令，以伸展中央统治权。但另一方面，他们本身就是当地社会具有实质影响力的群体，有时为了维护自身或地方利益，会联合权势之家对官府施压，影响地方施政。县一级的基层官员，在推动政务与建设上需要借助地方的力量，因此地方豪强与菁英——地方官员——基层武力与胥吏三股势力，基本上构成了基层社会的三个支柱，彼此合作，又相互竞争，成为此后中国基层政治社会的主要图像。

——摘编自黄宽重《从中央与地方关系互动看宋代基层社会演变》

材料二

中世纪的西欧乡村形成了庄园与村社的共同体组织，他们自主制定规则、有效执行规则和开展自我管理，民众参与公共事务热情非常高，地方管理者必须由村民集体选举产生。共同体内部“一切经过法庭”既是观念，也是实践，即便是领主与佃农之间的纷争也需要经过法庭并遵从法庭判决。济贫扶弱的互助理念成为共同体内部的广泛共识，村民按照财产多寡分摊政府税款，并制定了庄稼收割后穷人和妇女优先捡拾麦穗的村法规约。这样的村庄共同体摒弃了血缘关系纽带，地域共同体成员之间具有共同担当、共同抵御的集体意识。

——摘编自侯建新《西欧中世纪乡村组织双重结构论》

- (1) 根据材料并结合所学知识，概括宋代中国和中世纪西欧基层社会治理方式的异同。(12分)
- (2) 根据材料二并结合所学知识，简析中世纪西欧乡村共同体组织的影响。(8分)
- (3) 根据材料并结合所学知识，宋代中国和中世纪西欧基层社会治理对当今我国基层社会治理的启示。(5分)

42. 阅读材料，完成下列要求。(12分)

奏折是高级官员向皇帝奏事进言的文书，具有较高的历史价值。

材料

臣窃惟欧洲诸国，百十年来，由印度而南洋，由南洋而中国，闯入边界腹地，凡前史所未载，亘古所未通，无不款关而求互市。我皇上如天之度，概与立约通商，以牢笼之，合地球东南西南朔九万里之遥，胥聚于中国，此三千余年一大变局也。

——摘自李鸿章《同治十一年复议制造轮船未可裁撤折》

依据材料并结合中国近代史，就李鸿章提到的“大变局”选取任意角度进行论述。

(要求：自拟论题，表述成文，持论有据，论述充分，逻辑清晰。)

(二) 选考题：共 25 分。请考生从 2 道地理题、3 道历史题中每科任选一题作答。如果多做，则按每科所做的第一题计分。

43. [地理——选修 3：旅游地理] (10 分)

位于贵州省中部的高坡苗族乡，平均海拔在 1500 米左右，距贵阳市中心约 50 千米。该地春季金黄的油菜花、夏季璀璨的星空、秋季金黄的稻谷梯田、冬季白雪皑皑的滑雪场，与风车交相辉映，成为了当地著名的网红打卡点。

选择两个季节分析其对应景观形成的主要原因。

44. [地理——选修6：环境保护]（10分）

生态围坝（见图8）是由若干个植物浮床、弹性填料、固定桩等组合而成的生态单元。阳澄湖位于太湖平原，水产养殖历史悠久，出产的大闸蟹在全国享誉盛名，但曾受水产养殖影响，水污染较为严重。近年来，生态围坝在阳澄湖得以推广，产生了良好的生态和经济效益。

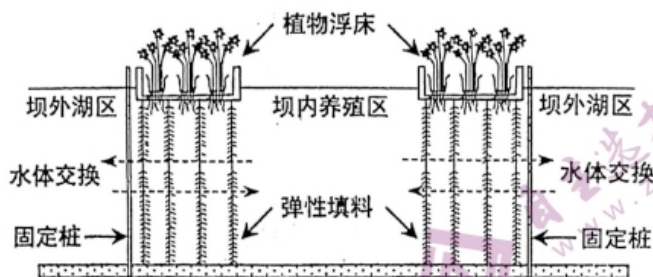


图8

分析阳澄湖生态围坝在湖泊环境保护和水产养殖方面的作用。

45. [历史——选修1：历史上重大改革回眸]（15分）

材料

1863年，林肯以总统身份颁布了《解放宣言》。正式宣布：仍在反叛联邦的各州及若干区域内，“所有被据为奴隶的人们立即获得自由，并且以后将永保自由，合众国政府和陆海军当局并将承认和维护他们的自由”；“获得自由的人们，合乎条件的人‘将被容纳于联邦的武装部队，为联邦服务’”。但《解放宣言》不适用于没有参加叛乱的蓄奴州，对这些州的奴隶解放仍按1862年4月国会决议，采取自愿的、逐步的、有偿的方式实行。《解放宣言》是联邦成立以来美国历史上最重要的文件之一，宣言得到国内外进步人士和广大劳动群众的坚决支持和拥护。被解放的黑奴成为联邦军队得力的同盟军，此举使大批黑人奴隶参加了联邦军队，战争后期达到18万人，扭转了南北战争的战局，并保证了联邦政府夺得最后胜利。

——摘编自王世珍《论林肯废奴思想和奴隶制的废除》

- (1) 根据材料并结合所学知识，概括林肯废奴的主要内容。（7分）
- (2) 根据材料并结合所学知识，简述废奴改革对美国的影响。（8分）

46. [历史——选修3：20世纪的战争与和平]（15分）

材料一

莫斯科战役失败后，德军企图攻占斯大林格勒，切断苏军战略补给线。1942年7月17日，苏德战场的大决战开始，苏军的顽强抵抗使德军伤亡惨重。9月13

日，德军攻入市区，尽管德军占领了市区，但其攻势已是强弩之末。11月19日，苏军拉开了反攻帷幕。经过两个月的相持，德军投降。斯大林格勒战役打破德国法西斯灭亡苏联、称霸世界的狂妄企图，消灭德军近150万人，成为二战乃至整个人类历史的转折点。

——摘编自利德尔·哈特《第二次世界大战史》

材料二

在斯大林格勒保卫战之后，一方面苏联将举行极大规模的第二个冬季反攻，英美对第二条战线的开辟将无可拖延，欧洲人民也将准备着起义响应。另一方面，德国及其欧洲伙伴再也无力举行大规模的攻势了，希特勒只好把整个方针转入战略防御。

——摘编自丘吉尔《第二次世界大战回忆录》

(1) 根据材料并结合所学知识，概括斯大林格勒战役的背景。(6分)

(2) 根据材料并结合所学知识，简述斯大林格勒战役的意义。(9分)

47. [历史——选修4：中外历史人物评说](15分)

材料：

傅斯年(1896~1950年)，1913年考入北京大学。当时，年轻的傅斯年深受二十世纪西方传入的民主、自由、平等、博爱等思想观念影响。特别是辛亥革命后袁世凯为实现独裁专制，在社会上掀起一股尊孔复古的逆流，新旧思潮发生激烈冲突，傅斯年积极投身于新文化运动，与北京大学国粹派论战，影响颇广……傅斯年对待东西方文化的态度就是“一团矛盾”。五四运动前，他热爱中国传统文化。在五四期间，态度发生了走向极端的转变。留学英美期间，他对中国旧文化的批判进行反思。傅斯年提出了“史学就是史科学”，更提出在史学研究上应该坚持“动手动脚找东西，上穷碧落下黄泉”的原则。

——摘编自王汎森著《傅斯年：中国近代历史与政治中的个体生命》

(1) 根据材料并结合所学知识，分析傅斯年五四期间对待中国传统文化态度发生转变的时代背景。(9分)

(2) 根据材料并结合所学知识，简述傅斯年对史学研究的学术影响。(6分)

贵州省 2021 年普通高等学校招生适应性考试

文科综合参考答案及评分建议

一、选择题：本题共 35 小题，每小题 4 分，共 140 分。

- | | | | | | |
|-------|-------|-------|-------|-------|-------|
| 1. A | 2. B | 3. D | 4. C | 5. A | 6. C |
| 7. A | 8. D | 9. B | 10. B | 11. C | 12. B |
| 13. A | 14. A | 15. B | 16. D | 17. B | 18. C |
| 19. D | 20. C | 21. C | 22. D | 23. C | 24. B |
| 25. D | 26. B | 27. A | 28. D | 29. C | 30. C |
| 31. D | 32. C | 33. A | 34. B | 35. D | |

二、非选择题：共 160 分。

(一) 必考题：共 135 分。

36. (22 分)

(1) 地面建设，工程难度较小，技术要求较低；线路较短，工程量较小，投资总成本较低，建设周期短，投产快；首都客流量大且集中，市场广阔，成本回收快等。(6 分)

(2) 线路较短，站点多，车站间距较小；地面运行，易受其他交通参与者的影响等。(4 分)

(3) 客流量较大，使用频率高，损耗较快；地面运行与多种交通方式混合，事故率较高；非洲内陆国，维护材料进口比重大、运费高；维护铁路专业技术人才较少等。(6 分)

(4) 丰富城市交通方式，完善城市交通网；大部分线路位于地面，影响后期交通规划建设等。(6 分)

37. (24 分)

(1) 中低纬度地区，水热条件较好，可生长的物种较多；山高谷深，相对高度大，垂直带谱丰富等。(6 分)

(2) 海拔较高，夏季气温较低；受山地影响，加之纬度较低，冬季冷空气不易进入等。(6 分)

(3) 该处河谷呈东南—西北走向，东岸坡面朝向西南，受阳光照射时间较长，为阳坡。(4 分)

(4) 位于亚热带地区，虽然海拔较高，但谷底位于盛行风的背风坡，气流下沉增温，气温较高且降水较少；植物为适应干暖河谷的生境，形成了小叶灌丛。(8 分)

文科综合答案第 1 页 (共 4 页)

38. (14分)

①分享协定签署国大市场。促进商品、服务、技术、人才、资金、数据等要素自由流动，推动经济包容性增长。

②维护协定签署国产业链供应链的稳定和安全。提高产业链供应链的竞争力，激发市场经济活力。

③破除障碍，推动互联互通，降低交易成本，为相关国家经济发展创造条件。

④通过参与中国经济大循环，分享中国经济发展的红利，增强本国人民福祉。

⑤推动我国供给侧结构性改革，优化供给结构，改善供给质量，提升供给体系对国内需求的适配性，实现经济高质量发展。

39. (12分)

①中国共产党是中国人民、中华民族的先锋队，能引领全国各族人民进行社会主义革命和建设。

②中国共产党是执政党，是我国最高政治领导力量，具有与时俱进的执政能力，能保证将党的意志贯彻到国家政治生活和社会生活的各个领域。

③中国共产党始终坚持以人民为中心的思想，不忘初心、牢记使命，实现好、维护好广大人民群众的根本利益。

④中国共产党坚持依法治国。在中国特色社会主义现代化建设中坚持推进国家治理体系和治理能力现代化，推进社会主义法治建设，保障人民合法权益。

⑤中国共产党领导是中国特色社会主义最本质的特征，是中国特色社会主义制度最大优势。坚持中国共产党领导，能团结带领人民开启改革开放的新时代，迈向强国之路的新征程。

40. (26分)

(1) 12分

①价值观对人们认识和改造世界的活动具有重要导向作用，价值观是人生的重要向导。历史照亮未来，在新征程上，要发挥正确价值观的导向作用，凝聚起实现中华民族伟大复兴的强大力量，激励全国各族人民为全面建设社会主义现代化国家而奋斗。

②人的价值在于创造价值，在于对社会的责任和贡献。征途漫漫，惟有奋斗，在全面建设社会主义现代化国家的新征程上，需要人们在劳动和奉献中创造价值，在个人与社会的统一中实现价值，在砥砺自我中走向成功，在新征程上创造属于我们这代人的历史功绩。

(2) 10分

①抗美援朝精神作为一种精神力量，能为中国特色社会主义事业的发展提供强大精神动力。弘扬抗美援朝精神能激励中国人民为实现中华民族的伟大复兴而不断奋斗。

②抗美援朝精神是宝贵的精神财富，是对爱国主义为核心的中华民族精神的丰富和发展。弘扬抗美援朝精神，能激发全国各族人民的爱国热情，自觉践行社会主

义核心价值观，凝聚实现中华民族伟大复兴的强大力量，激励全国各族人民在新征程中，克服一切艰难险阻、战胜一切强大敌人。

③抗美援朝精神是革命英雄主义精神的具体体现，发扬革命英雄主义精神是中国革命的优良传统。弘扬抗美援朝精神，有利于新时代继承中国革命的优良传统，弘扬革命文化，坚定文化自信。

(3) 4分

示例：

①通过多种形式深入开展英雄主义教育。例如通过国家公祭日、国家表彰等重大活动，加强英雄氛围的熏陶，重拾英雄记忆，涵养英雄情怀。

②坚决同一切恶搞、诋毁、玷污、扭曲、虚化英雄的言论和行为作斗争，让守护英雄的正能量接续传递。

41. 阅读材料，完成下列要求。(25分)

(1) (12分)

同：在一定程度上体现了基层民众自治；地方有影响力的群体成为行使治理权的主体。

异：宋代中国有中央统治权的渗透，中世纪西欧为庄园与村社自主管理；宋代中国基层管理人员主要由官方指定或任命，中世纪西欧基层管理人员由民主选举产生。

(2) (8分)

影响：推动西欧地方自治传统的形成；有助于基层社会稳定；促进西欧近代司法体系的构建；形成了济贫互助的理念；构建了村社集体意识。

(3) (5分)

启示：贯彻基层民众自治理念，深入发展中国特色社会主义基层民主制度；将依法治国与地方基层自治相结合，在不断健全民主法治中推动地方基层治理体系的形成和发展。

42. 阅读材料，完成下列要求。(12分)

提示：

作答可从三个角度进行：

(1) 从社会某一阶层的角度进行分析。如，中国士人心中最大的变局莫过于中国历史上的周秦之变，但是这一次更甚之，是在一次次落后挨打，一次次被西方的思想观念所影响和工业成就所震撼，同时也是中国人思想观念更新的大变局。这是在旧有史书上没有记载，并终将与李鸿章一起成为新的历史。

(2) 结合时代背景，从中华民族危机和救亡图存成为时代主题的角度论述，这是一次机遇与风险并存的挑战。

(3) 联系实际，谈自己的责任担当。

(二) 选考题：共 25 分。

43. [地理——选修3：旅游地理] (10分)

春季：地处亚热带季风气候区，适合冬油菜生长，春季油菜花盛开；政策扶持和发展旅游业的需要，村民种植油菜积极性高，种植面积大等。

文科综合答案第3页(共4页)

夏季：该地海拔较高，视野开阔；距市区较远，人口较少，夜间受灯光影响小，在晴朗的夜晚可观察到璀璨的星空。

秋季：地处亚热带季风气候区，适合水稻生长；山区多梯田，秋季稻谷金黄，层层交错。

冬季：该地海拔较高，人工造雪不易融化；地势有起伏，利于滑雪；南方地区滑雪场较少，对游客吸引力强等。

44. [地理——选修 6：环境保护]（10 分）

生态环境保护：生态围坝减少污染水体向外扩散，降低湖区污染程度；植物浮床可以吸附污染物，净化水体，改善湖区水质；水质改善利于维持湖泊生物多样性等。

水产养殖：水质改善，利于提高水产产量和品质；生态围坝为鱼虾蟹提供栖息场所，减少鱼虾蟹外逃；减少饵料投放量，提高饵料的利用率，降低养殖成本等。

45. [历史——选修 1：历史上重大改革回眸]（15 分）

（1）（7 分）

内容：叛乱诸州的奴隶获得人生自由；解放了的奴隶可以参加联邦作战；非叛乱诸州黑奴的解放采取自愿的、逐步的、有偿的方式实行。

（2）（8 分）

影响：大批黑人奴隶参加了联邦军队，增强北方军力；扭转了南北战争的战局，保证联邦政府夺得最后胜利；维护国家的统一；促进资本主义的发展；为第二次工业革命开展奠定政治基础。

46. [历史——选修 3：20 世纪的战争与和平]（15 分）

（1）（6 分）

背景：珍珠港事件后美国对日本宣战；德国为防止陷入东西两线的持久作战；德军企图切断苏军战略补给线。

（2）（9 分）

意义：打破德国法西斯灭亡苏联、称霸世界的狂妄企图，成为二战乃至整个人类历史的转折点；有助于第二条战线的开辟；迫使德国转入战略防御；鼓舞各国人民反法西斯的斗志。

47. [历史——选修 4：中外历史人物评说]（15 分）

（1）（9 分）

背景：一战期间，民族资本主义经济进一步发展；民族资产阶级进一步壮大；资产阶级要求建立民主制度；民主启蒙思想传播，民主共和观念深入人心；袁世凯掀起尊孔复古逆流；帝国主义加紧侵略中国。

（2）（6 分）

影响：注重史料的发现和考订；主张追求真实的历史史实；对推动中国现代历史学研究影响深远。

（说明：主观题的答案言之有理，可酌情给分，但不能超过该题总分。）

关于我们

自主选拔在线是致力于提供新高考生涯规划、强基计划、综合评价、三位一体、学科竞赛等政策资讯的升学服务平台。总部坐落于北京，旗下拥有网站（[网址：www.zizzs.com](http://www.zizzs.com)）和微信公众平台等媒体矩阵，用户群体涵盖全国 90% 以上的重点中学师生及家长，在全国新高考、自主选拔领域首屈一指。

如需第一时间获取相关资讯及备考指南，请关注**自主选拔在线**官方微信号：**zizzsw**。



微信搜一搜

自主选拔在线

关注后获取更多资料：

回复“答题模板”，即可获取《高中九科试卷的解题技巧和答题模版》

回复“必背知识点”，即可获取《高考考前必背知识点》