

雅礼中学 2023 届高三月考试卷（八）

历史

第 I 卷选择题（共 48 分）

一、选择题（本题共 16 小题，每小题 3 分，共 48 分。每小题只有一个选项符合题目要求）

1. 考古发现，良渚古城周边存在大规模水利系统，河道、灌水孔、排水槽，规划有致；存在众多宽大田埂，纵横交错，蔓延近 8 万平方米；在古城核心莫角山南侧还发现了 20 万千克的稻谷堆积。这表明当时该地区

- A. 统治阶级主导农田管理和经营 B. 具备了国家的初始形态  
C. 农业技术精耕细作的特征初显 D. 阶级分化已经日益明显

2. 春秋时期，鲁国有个卿大夫家族叫作三桓，三桓将鲁国原有的上下两军扩充为上中下三军，三桓各掌握一军。这种情况说明

- A. 封建官僚体制确立 B. 分封制度已经全面崩溃  
C. 政治权力下移明显 D. 争霸战争促使公室强大

3. 唐太宗将对崔氏定为一等高门的高士廉等人说：“我与山东崔、卢、李、郑，旧既无嫌，为其世代衰微，全无官宦，犹自云士大夫，婚姻之间，则多索财物。或才识庸下，而偃仰自高，贩鬻松，依托富贵。我不解人间何为重之？”这反映了

- A. 门当户对的观念 B. 士族门阀声望尚高  
C. 君主专制的加强 D. 儒家思想受到冲击

4. 下表为唐代敦煌户籍资料关于“受田”的统计。这可以用来说明

年代	户数	永业田（亩）			口分田（亩）		
		应受	已受	未受	应受	已受	未受
天宝元年（742 年）	43	1180	1075	105	4820	757	4063
大历四年（769 年）	18	540	449	1	1790	541	1249

- A. 赋役制度有待调整 B. 中央政府权力减弱  
C. 国家严控土地交易 D. 小农经济大量破产

5. 清朝统治者延续和利用蒙古族传统的会盟制度，盟旗制度下的会盟内容为“简稽军实，巡阅边防，清理刑名，编审丁册”，盟长是理藩院和各旗札萨克的中间联络者，无权干涉各旗札萨克对本旗的行政管理工作。盟旗制度

- A. 有利于加强对各旗监督 B. 促使蒙古和内地制度一体化  
C. 体现了民族平等的原则 D. 体现了专制皇权的空前强化

6. 我国古代对外来农作物的命名不断发生变化，秦汉至唐宋的外来农作物名称是胡萝卜、胡荽（香菜）、胡椒，唐宋至明清的名称是蕃薯、蕃茄、蕃豆（花生），清朝以后是洋葱、洋葱、洋白菜。这种命名的演变反映了

- A. 贸易体系逐步转换 B. 天下观念不断改变  
C. 自然经济逐渐解体 D. 朝贡关系强弱变化

7. 1865 年，英商擅自在上海架设电报线路。不久，地方官密令公差协同百姓于夜间“悉数拔毁”。英方提出赔偿并要求复造，上海通商大臣李鸿章则将此事归为民间自发行为，称乡民认为竖立木柱致人病亡，有碍风水，以致众情汹

涵，故难以允其设线要求。这反映出

- A. 清政府的外交方式灵活多变
- B. 电报架设危害清政府统治
- C. 观念落后制约近代通信发展
- D. 国人具有强烈的爱国情怀

8. 清末绅士们经过 1905 年科举制度废除的最后推动，在社会变动的强大压力下，群趋于“新学”。新式高等、中等师范学院，士子们经过新式教育转化为最早的知识分子阶层。公费和自费留学生也有许多绅士分子。这反映了当时

- A. 出洋留学受到社会的广泛支持
- B. 落第士人成为官派留学生主要来源
- C. 科举停废加快了社会结构变动
- D. 科举停废改变了国人的中体西用

9. 1956 年中共八大上，陈云提出“三个主体，三个补充”的经济思想：国家经营和集体经营是工商业的主体（个体经营为补充）计划生产是工农业生产的主体，自由生产为补充；国家市场是市场的主体，自由市场为补充。这表明当时中国

- A. 开始全面调整全国的工业布局
- B. 进行了大规模的三线建设
- C. 探索适合国情的社会主义道路
- D. 实施“文化大革命”后的经济调整

10. 1987 年，国家强力推动“价格闯关”，少数重要商品和劳务价格由国家管理。绝大多数商品价格放开，以消除价格双轨制的弊端，但政府每放开一种商品价格，市场上就出现一轮对该商品的疯抢与疯涨。以致后来央视“春晚”的相声节目《着急》出现“一澡盆醋、两水缸酱油、一大衣柜五香面”的台词。这表明当时

- A. 改革开放推进遭遇重大挫折
- B. 价格双轨制改革的条件尚不成熟
- C. 国际政治格局变动影响国内
- D. 社会主义市场经济体制开始确立

11. 在亚历山大帝国时期，希腊—马其顿人作为统治民族，力图保持自己的希腊性，并将自己的文明强加于被统治民族之上。但面对具有数千年传统的埃及、巴比伦、印度文明，他们又不由自主地陷入了当地文明的氛围之中。这主要反映了

- A. 区域间文明具有多元化的特征
- B. 不同地区间文明的交融互鉴
- C. 大亚历山大帝国被东方文明征服
- D. 古代东西方文明呈现开放性

12. 中世纪的西欧音乐多以宗教目的为主，其内容主要为诵经祈祷和礼拜歌唱。但创作于 13 世纪的戏剧《罗宾与玛丽昂》则以旋律自然的对话形式，歌颂了民间爱情的忠贞，嘲弄了封建骑士的卑劣。据此可知，该剧的创作

- A. 摆脱了宗教文化的束缚
- B. 反映了资产阶级的文化追求
- C. 受到了文艺复兴的影响
- D. 体现了市民阶层的价值取向

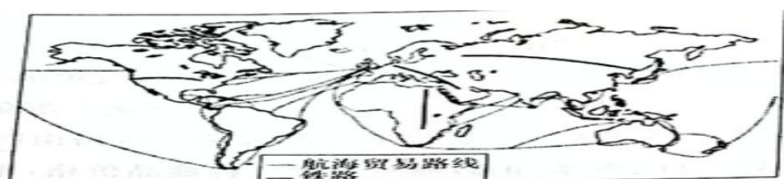
13. 17 世纪初，北美弗吉尼亚的英国移民向英王报告：“若要抵御印第安人的进攻，就必须保证粮草，小麦是我们赖以生存的谷物，必须将其栽活。”18 世纪，北美已经有蛋壳、西西里岛、白、红几种小麦。据此推知，物种的洲际传播

- A. 改善了土著居民的生活
- B. 促进了殖民地的近代化
- C. 改变了殖民扩张的手段
- D. 有利于西方的殖民活动

14. 从 16 世纪开始，欧洲殖民者将北美土著居民划分为“高贵的野蛮人”和“邪恶的野蛮人”，20 世纪以来，伴随着对多元文化与环境保护的重视，印第安人形象又变身为与自然和谐相处的“生态印第安人”，这种现象

- A. 反映文化的剧烈冲突
- B. 充斥着对印第安人的歧视与污蔑
- C. 基于长期的文化偏见
- D. 说明对印第安人的认识逐渐客观

15. 观察下图，其所反映的世界贸易发展情况，应该是在



- A. 公元 1500 年之前 B. 公元 1500-1800 年  
C. 公元 1900 年前后 D. 公元 2010 年以后

16. 1941 年 7 月, 日本入侵法属印度支那南部(橡胶和石油资源较丰富的地区), 美国立即宣布对日本实施石油禁运并冻结了日本在美国的一切资产。美国的这一做法

- A. 加速日本偷袭珍珠港的步伐 B. 是太平洋战争经济战的一部分  
C. 有效延缓了日军的南进速度 D. 彰显国际反法西斯同盟的协作

### 第 II 卷非选择题(共 52 分)

二、非选择题(本大题共 4 小题, 第 17 题 12 分, 第 18 题 14 分, 19 题 14 分, 20 题 12 分, 共 52 分)

17. 阅读材料, 完成下列要求。(12 分)

材料一 宋代, 文人士大夫可以自由结社、朝堂论争, 也可以归隐自然、追求自我。各个阶层的接触机会增多, 社交活动频繁。临安等地“买卖昼夜不绝”。传统的分餐制, 已不符合饮食者对美食和氛围的热切追求, 也不符合经营者多元经营特色和人力物力财力的成本要求。同桌群聚, 同盘而食, 各取所需, 满足了官场结党、商业联系、亲朋联谊等各类聚会需求。

——摘编自周扬《“分餐”与“合餐”的衍变》

材料二 当时就出现两个名词, 一个是食堂、一个是小吃店, 1956 年以后公私合营并店, 过去的小企业, 二三十人、四五十人的小企业一下变成一个大食堂, 一二百人了……公私合营以后由小变大, 就是综合起来了。比如我在菜市场这一片, 当时卖小吃的挺多, 就集中起来一个大店, 变成小吃店了, 所有小吃都集中起来了, 原来你那一个小摊儿、他那个门脸儿, 这样集中起来便于管理。使这些人既有生意, 又有营生之道, 统一实行工资制, 这样这个企业本身, 各种风味虽然都在一起, 但是实行工资制度, 不是你自己在经营了, 就是合营了。那么一些大的饭馆呢? 也是几家合在一起, 就变成一个大食堂。

——摘编自杨原《变迁中的北京“勤行”: 陈连生口述》

(1) 根据材料一并结合所学知识, 分析宋代餐饮习俗的变化及其所反映的时代特征。(6 分)

(2) 根据材料二并结合所学知识, 指出新中国成立后餐饮业出现了什么新形式, 并分析原因。.

(6 分)

18. 阅读材料, 完成下列要求。(14 分)

材料一 据《礼记》载, 西周“大夫七十而致事(仕)”。秦汉以降, 官吏可以通过见功与赏、因能授官而入仕, 告老还乡、因病乞退的致仕制度也逐渐发展起来。唐时已有“年虽少形容衰老者, 亦听致仕”等规定。明洪武十三年诏令, “文武官年六十以上者听致仕”。依清制, 凡文官六十岁令致仕; 武官则官职愈低, 致仕愈早。综观历朝, 官员

愤而致仕者有之，退而复用者有之，圣意强留者有之，贪墨恋栈者亦有之。

——摘编自沈星棣《中国古代官吏退休制度史》

材料二 民国时期，从北京政府的《文官恒金令》到南京国民政府的《官吏恤金条例》《公务员退休法》等，公务员退休的相关法规条例陆续出台。1926年，广东国民政府公布《学校教职员养老金及恤金条例》；1944年，为解决覆盖面过小的问题，南京国民政府修正并颁布《学校教职员退休条例》。然而，民国时期政权更迭、社会动荡，经济的衰败也使国家财政捉襟见肘，退休金常难以兑现。1950年，中央人民政府发布《关于退休人员处理办法的通知》，适用于过去有退休金的机关，铁路、海关、邮局等单位的职工，中华人民共和国的退休制度由此发轫。


——摘编自柯龙山《民国时期公务员退休制度探略》等

- (1) 根据材料一并结合所学知识，指出中国古代退休制度的特点。(6分)
- (2) 根据材料二并结合所学知识，评价民国时期的退休制度。综合上述材料，谈谈你对退休制度的认识。(8分)

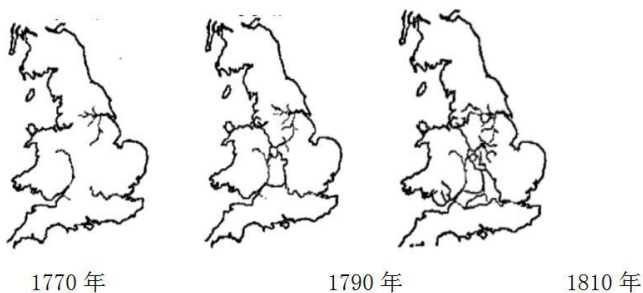
19. 阅读下列材料，回答问题。(14分)

材料一

有关苏伊士运河的一组材料

甲	乙			
<p>漫画家笔下的英法争夺</p>  <p>注：漫画家以“Bitter Lake”(苦湖)和“Blood Red Sea”(血海)来描述英法争夺苏伊士运河的情况，还将埃及著名的狮身人面像以骷髅头的形式呈现</p>	1870-1895年苏伊士运河的运输状况			
	年份	船(艘)	货物(吨)	
	1870	486	436 609	
	1875	1494	20009 984	
	1880	2026	3037 422	
	1885	3624	6335 753	
	1890	3389	6890094	
	1895	3434	8448383	
	—— [美] 丹尼尔·黑德里克《帝国的工具》			

材料二 1770-1810年英国主要运河体系的发展情况



(注：所谓运河体系，不是指单一的一条或者几条运河，而是指一系列的彼此联系的把主要大运河沟通起来，然后给一些地方提供它们原来所没有的水路交通设施)

— [英] 杰拉德·特恩布尔《运河、煤炭与区域经济增长》

材料三 下表是 1801 年、1841 年运河附近部分城市的人口变化情况表。

城市	运河通航时间	人口 (千)	
		1801 年	1841 年
巴思	1760 年以前	33	53
伯明翰	1772 年	71	183
布拉德福德	1774 年	13	67
剑桥	1760 年以前	10	24
卡莱尔	1823 年	9	22

—摘编自 [英] 查尔斯·哈德菲尔德《运河时代》

(1) 材料一中甲、乙对苏伊士运河历史影响的反映相互矛盾吗？请说明理由。(6 分)

(2) 根据材料二、三并结合所学知识，就“交通建设”与“城市发展”的角度进行合理的历史阐释。(8 分)

20. 阅读下列材料，回答问题。(12 分)

一本英文书的要素

材料 书籍不仅是人类思想文化传承和传播的载体；而且书籍本身也留下了不同文明和民族之间文化交流的浓厚印痕，其中最为典型的就是一本现代的英文书。它所涉及的要素主要有英文文字、纸张、页码、印刷。到目前为止，学术界已经基本上厘清了这四大要素的大致传播路线，相关情况见下表。

英国	西欧大陆内部的传播	中介传播者	原创者
----	-----------	-------	-----

英文字母 (公元7世纪)	如尼字母(公元前2世纪)、拉丁字母(公元前7-公元前3世纪) ← 希腊字母(公元前9世纪末至公元前8世纪)	腓尼基字母(公元前11世纪中叶) ← 西闪族字母(即原始迦南字母,约公元前19世纪中叶)	埃及象形文字(公元前2700年)
造纸术	法国(1189年) ← 西班牙(1150年) ← 摩洛哥(1100年) ← 埃及(10世纪); 瑞士(1350年)、德国(1312年) ← 意大利(1276年) ← 阿拉伯	阿拉伯帝国(公元8世纪中叶)	古代中国(公元前2世纪)
页码(数字,13世纪后期)	其他西欧大陆国家(公元10世纪后期至13世纪初) ← 穆斯林西班牙(公元9世纪)	阿拉伯帝国数字(公元8世纪后期)	成熟印度数字(公元8世纪) ← 笈多王朝数字(公元4-6世纪末) ← 婆罗米数字(公元前3世纪)
印刷(1477年)	法国 ← 意大利 ← 德国(15世纪中叶,活字印刷); 德国、意大利等欧陆国家(15世纪前期,雕版印刷)	阿拉伯帝国(14世纪)、波斯(13世纪末14世纪初)、中国西北少数民族(9-10世纪;木活字12-13世纪)	古代中国(公元前7世纪)

——徐善伟《全球史视阈中的一本英文书——古代世界文化交流的缩影》

基于材料并结合所学知识,围绕“一本英文书的要素”,设计一个主题,并说明你的理由。(要求:多角度、多层次涵盖材料提供的信息;体现创新性和思考深度)

## 关于我们

自主选拔在线是致力于提供新高考生涯规划、强基计划、综合评价、三位一体、学科竞赛等政策资讯的升学服务平台。总部坐落于北京，旗下拥有网站（[网址：www.zizzs.com](http://www.zizzs.com)）和微信公众平台等媒体矩阵，用户群体涵盖全国 90% 以上的重点中学师生及家长，在全国新高考、自主选拔领域首屈一指。

如需第一时间获取相关资讯及备考指南，请关注**自主选拔在线**官方微信号：**zizzsw**。



 微信搜一搜

 自主选拔在线

