

★启用前绝密（3月16日）

分宜中学 玉山一中 临川一中
2023年江西省 南城一中 南康中学 高安中学 高三联合考试
彭泽一中 泰和中学 樟树中学
文综试卷（文科）

13
周
特
工

主命题：南城一中 龚燕萍 付云 邹丽芳 副命题：分宜中学 李晓琴 易晓萍 严小龙

注意事项：

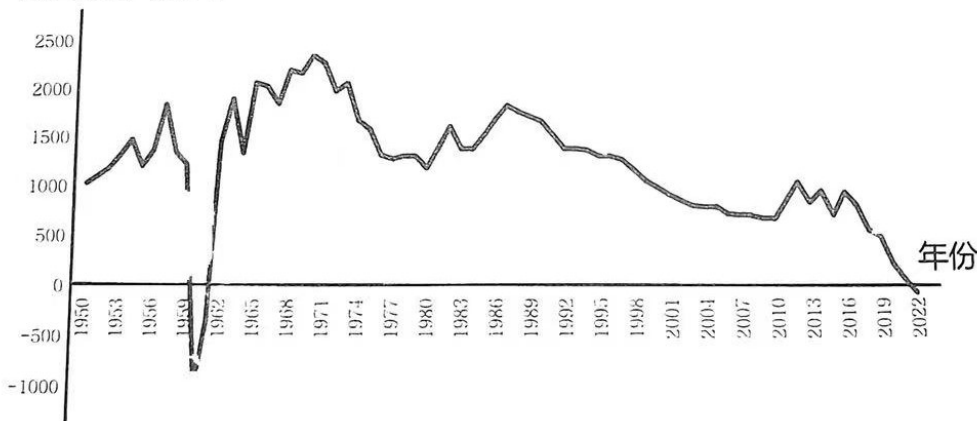
- 1 本试卷分第 I 卷（选择题）和第 II 卷（非选择题）两部分。满分 300 分。考试时间为 150 分钟。
- 2 本试卷分试题卷和答题卷，第 I 卷（选择题）的答案应填在答题卷卷首相应的空格内，做在第 I 卷的无效。
- 3 答题前，考生务必将自己的姓名、准考证号填涂在答题卡相应的位置。

第 I 卷

一、选择题：本题共 35 小题，每小题 4 分，共 140 分。在每小题给出的四个选项中，只有一项是符合题目要求的。

根据国家统计局的相关数据显示，中国人口负增长时代已经到来。人口学家预测中国将于 2035 年前后从当下中度老龄化社会步入重度老龄化社会。下图示意 1950~2022 年中国人口年增长数量变化图，据此完成 1~3 题。

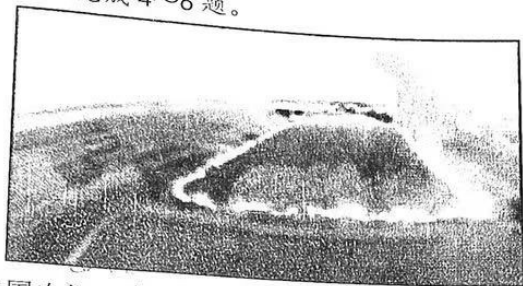
人口增长（万人）



1. 图示期间，我国人口峰值年可能出现在（ ）
A. 1957 年 B. 1962 年 C. 1971 年 D. 2021 年
2. 影响目前中国人口负增长的根本原因是（ ）
A. 社会经济发展 B. 育龄女性减少
C. 婚育年龄推迟 D. 新冠疫情影响
3. 下列关于未来我国重度老龄化表现的特征，叙述正确的是（ ）
A. 农村及人口流出地养老负担减轻 B. 区域间老年抚养比差异显著
C. 缴纳养老保险的生产者增多 D. 家庭大型化、空巢化和独居化

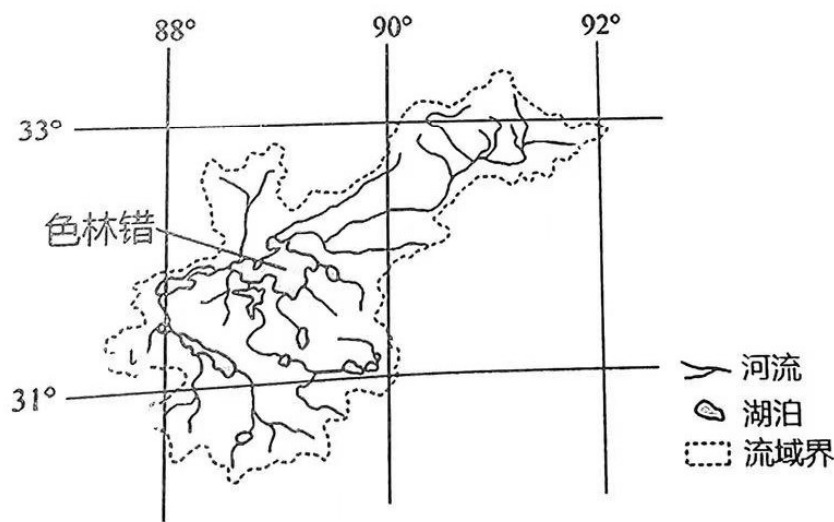
2023年江西省九所重点中学高三联合考试文综试

甘蔗的植株粗壮发达，蔗叶茂盛。美国是世界六大产糖国之一，美国佛罗里达州奥基乔比湖周围种植了大量的甘蔗，是美国最大的产糖区。这里的甘蔗种植业具有大规模、机械化、商品化特点。每年冬季甘蔗成熟时，当地农场工人会放火焚烧甘蔗叶，之后把甘蔗主干运往制糖工厂加工。据此完成4~6题。



4. 美国农场焚烧甘蔗叶的主要目的是 ()
- A. 增加土壤肥力 B. 预防冬季冻害 C. 减少甘蔗虫害 D. 方便收获运输
5. 美国甘蔗收获前能够大面积焚烧最主要是因为 ()
- A. 冬季晴天多 B. 种植规模大
C. 劳动力价格高 D. 机械化水平高
6. 与美国收获前焚烧甘蔗叶不同，我国蔗农一般选择收获后焚烧甘蔗叶，原因是 ()
- A. 收获后更便于焚烧 B. 更省时省力
C. 更有利于销售 D. 更有利于回田

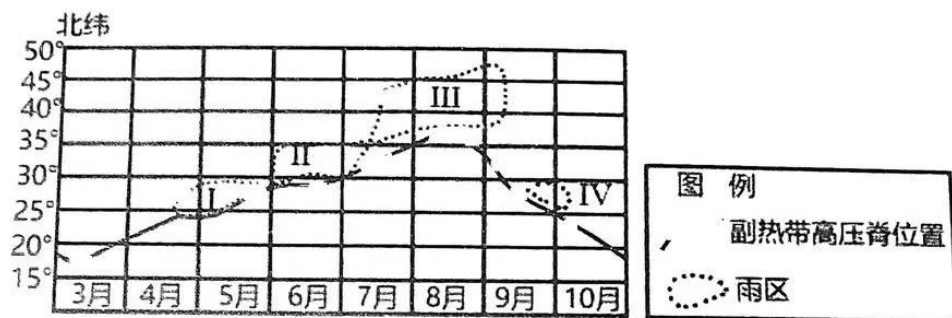
色林错流域为西藏最大的内陆湖水系，众多河流和湖泊组成一个封闭的内陆湖泊群。近期，中国科学院研究员对色林错流域的研究结果表明，色林错湖泊流域内，入湖径流和湖面降雨在雨季（5月~10月）和全年（月尺度）对湖泊蓄水量变化均有较大影响，湖面蒸发则在冷季（11月~次年4月）与湖泊蓄水量变化密切相关。近40年全球气候变化使该湖面积明显增加。下图为色林错流域示意图。



7. 色林错湖泊 ()
- A. 参与海陆间循环 B. 湖水透明度较低
C. 湖水含盐量较高 D. 主要补给水源为地下水

8. 推测色林错湖泊水位最高的月份是()
A. 1月 B. 4月 C. 7月 D. 10月
9. 色林错湖面积明显增加, 下列有关湖泊及周边地区变化说法正确的是()
A. 汇入湖泊的淡水增加, 周边地区盐碱化减轻
B. 湖泊周边地区冰川面积缩小, 地面辐射增强
C. 湖泊湖面降水量增加, 流域面积变大
D. 湖泊冻结时间提前, 消融时间推后

2022年, 影响我国的冷空气5、6月偏强, 9、10月偏弱, 长江中下游地区梅雨季偏短, 出现了罕见的夏秋连旱。研究表明, 我国东部地区降水和西太平洋副热带高压脊位置有着密切关系, 西太平洋副热带高压脊位置主要取决于其自身和冷空气强度。下图示意正常年份西太平洋副热带高压脊北进南退与雨区位置。



10. 2022年长江中下游地区出现夏秋连旱的原因是()
①II雨区位置偏南 ②II雨区位置偏北 ③IV雨区位置偏北 ④IV雨区位置偏南
A. ①③ B. ①④ C. ②③ D. ②④
11. 2022年西太平洋副热带高压脊的移动速度与正常年份相比()
①北移速度先快后慢 ②北移速度先慢后快 ③南移速度更快 ④南移速度更慢
A. ①③ B. ②③ C. ①④ D. ②④
12. 2022年世界杯在卡塔尔举办。有人说, 世界杯是一项神奇的赛事, 几个亿万富翁带领着一帮千万富翁, 在场上拼得大汗淋漓, 而广大的工薪阶层球迷在电视机前对他们评头论足。根据《福布斯》公布的2022年世界足球运动员收入榜, 收入排第一球星姆巴佩, 年入1.28亿美元。对球星高收入、高身价现象的认识正确的是()
①头部球星在定价上拥有一定的主动权
②头部球星将会给其所在足球俱乐部带来丰厚收益
③违背了价值规律, 不利于足球运动的健康发展
④若政策工具合理干涉, 有利于体育产业的蓬勃发展
A. ①③ B. ①④ C. ②③ D. ②④
13. 近年来, 广州不断深化放管服改革, 打造市场化法治化国际化一流营商环境, 培育壮大市场主体, 更大激发市场活力和社会创造力。通过改革激发市场活力的传导路径正确的有()
①改善营商环境→壮大市场主体→增加有效供给→满足消费需求
②营造平等竞争环境→放宽市场准入→促进资源有序流动→激发市场活力

③市场主体壮大→促进科技进步→增加企业经济效益→经济发展
④壮大市场主体→促进经济发展→居民就业、收入增加→消费扩大

A. ①③ B. ①④ C. ②③ D. ②④

14. 碳排放权交易,是指政府部门把一定时间内的碳排放总量目标免费分配给需要减排的企业,企业将“二氧化碳的排放额度”在市场上交易的行为。碳排放权交易制度()

- ①综合运用行政手段和经济手段将碳排放权转化为生产要素
- ②旨在通过宏观调控引导企业利用市场获得更多碳排放配额
- ③在实现碳达峰碳中和总体目标进程中降低了企业生产成本
- ④通过利益驱动来引导企业实现经济效益和社会效益的统一

A. ①③ B. ①④ C. ②③ D. ②④

15. 2023年2月1日,省委常委庄兆林在永丰县调研时强调,要抢抓数字经济发展机遇,依托本地文化资源,以数字化推动文化和旅游产业深度融合发展,打造一批集旅游休闲、文化体验和公共服务等功能于一体的特色文化街区,持续推出更多高品质的文旅产品,不断激发文旅市场消费活力。以数字化助推文旅产业的发展有利于()

- ①培育经济新业态、新模式,为经济发展注入新动能
- ②满足人民群众日益增长的美好生活需要,增加优化经济增长的动力
- ③提供高质量的文旅供给,促进区域协调发展
- ④实现当地全体人民创业就业、增收致富

A. ①② B. ①④ C. ②③ D. ③④

16. 某街道办为加强群众践行垃圾分类的自主性与参与度,积极探索以街道指导、基层社区以及业委会组织、物业配合、业主参与的垃圾分类自治模式,通过搭建沟通平台,如听证会、协调会、评议会等形式,积极广泛邀请辖区各界之士参加民主协商,广泛听取民声民意,助力“垃圾房”落地生根。这一做法()

- ①有利于保证社区居民依法行使决策权
- ②有利于贯彻落实民主集中制的原则
- ③有利于完善社区自治共治的机制
- ④有利于落实街道办对社区公共事务的管理职责

A. ①② B. ①④ C. ②③ D. ③④

17. 强大的政党是在自我革命中锻造出来的。勇于自我革命是中国共产党区别于其他政党的显著标志,是中国共产党历经百年奋斗锤炼出的最鲜明品格,是党永葆活力的强大支撑。党坚持自我革命有利于()

- ①密切党群关系,厚植党的执政根基
- ②坚持从严治党,督促党员为民执政
- ③坚持依法行政,践行党的执政理念
- ④加强作风建设,推进从严管党治党

A. ①② B. ①④ C. ②③ D. ③④

18. 上海合作组织(简称“上合组织”)是2001年在上海成立的永久性政府间国际组织,对内遵循“互信、互利、平等、协商,尊重多样文明,谋求共同发展”的“上海精神”。上合组织成员国在安全、经贸、互联互通等各领域合作日益密切。2022年9月,“上合组织”发表宣言,伊朗将成为上合组织第九个成员国。上海合作组织扩员,是为了()

- ①建立公正合理的国际新秩序
- ②拓展上海合作组织的政治与经济空间
- ③尊重多样文明，推动多极化发展
- ④增进互利共信，为欧亚大陆和平发展提供更有力的保障

A. ①② B. ①③ C. ②④ D. ③④

19. 且将新火试新茶。北京时间 2022 年 11 月 29 日，“中国传统制茶技艺及其相关习俗”成功列入联合国教科文组织人类非物质文化遗产代表作名录。我省赣南客家擂茶制茶技艺、婺源绿茶制茶技艺、宁红茶制茶技艺三项国家级非遗代表项目入选。中国制茶技艺申遗成功说明（

- ①茶就是生活，茶就是文化
- ②制茶技艺是中华民族文明程度的重要标志
- ③中华文明对人类文化多样性具有重要贡献
- ④茶文化是优秀传统民间文化的活态传承

A. ①② B. ①③ C. ②④ D. ③④

20. 近日，电视剧《狂飙》刷爆全网，收获大量网友好评与市场肯定。该剧以扫黑除恶为题材，讲述了市场化浪潮和国内改革开放背景下，以刑警安欣为代表的正义力量与以高启强为代表的黑恶势力作不懈斗争的故事，最终京海大地得以拨云见日、风清气正。该剧的成功启示我们，文化创作要（

- ①弘扬主旋律，传播正能量
- ②真实反映现实生活，给观众带来沉浸式的观看体验
- ③立足于中国特色社会主义的伟大实践，反映时代之问，人民之问
- ④加强理论武装，坚持正确的舆论导向

A. ①③ B. ①④ C. ②③ D. ②④

21. “量子纠缠”是两个（或多个）粒子共同组成的量子状态，无论粒子之间相隔多远，测量其中一个粒子必然会影响其他粒子。2022 年诺贝尔物理学奖授予法国、美国和奥地利的三位科学家，以表彰他们在“纠缠光子实验、验证违反贝尔不等式和开创量子信息科学”方面所做出的贡献。材料体现的哲学道理是（

- ①人们可以改变事物的固有联系
- ②联系具有客观性
- ③物质世界的客观存在与人的实践和认识水平有关
- ④人能够能动地认识世界

A. ①③ B. ①④ C. ②③ D. ②④

22. 与漫画《坎》寓意相一致的是（

- ①不经一番寒彻骨，怎得梅花扑鼻香
- ②千淘万漉虽辛苦，吹尽狂沙始到金
- ③祸兮福之所倚，福兮祸之所伏
- ④人生自古谁无死，留取丹心照汗青

A. ①② B. ①④ C. ②③ D. ②④



没有过不去的坎
只有过不完的坎

D. 10

列制

黑七

23. 党和国家必须坚持人民至上。人民性是马克思主义的本质属性，党的理论是来自人民、为了人民、造福人民的理论，人民的创造性实践是理论创新的不竭源泉。这对我们理解个人在社会历史中的作用的作用的启示有（ ）。

- ①人人都是历史的创造者 人人都是历史的创造者
②人民群众是社会历史的主体
③历史是无数个人相互作用的合力的结果
④人民是创造历史的源泉

- A. ①③ B. ①④ C. ②③ D. ②④ 又选


24. 老子主张“治大国若烹小鲜”；庄子在《逍遥游》中说“庖人虽不治庖，尸祝不越樽俎而代之矣”；此后韩非子主张“使鸡司夜，令狸执鼠，皆用其能，上乃无事”。据此可推知（ ）

- A. 道法思想相互融合 B. 道法思想传承关系
C. 道法思想日益趋同 D. 道法思想存在差异

25. 西汉时期，南北郡国数之比大致为三七开，隋大业年间南北已大致各占一半，北宋中期南北比例已逆转为接近二比一，这些变化最能说明（ ）

- A. 北方战乱经济衰退 B. 南北方经济交流更频繁
C. 经济重心不断南移 D. 南北政区分布密度逆转

26. 欧阳修曾高度评价某位书法家“忠义出于天性，故其字画刚劲独立，不袭前迹，挺然奇伟，有似其为人”，下列属于这位书法家的作品是（ ）



27. 燕王朱棣经靖难之役成为皇帝后，支持郑和下西洋，永乐十二年非洲的长颈鹿入华，明朝君臣认为“有王者则至”，将其视作中国传统观念中带有祥瑞象征的麒麟。永乐皇帝诏命画工绘麒麟图像昭示天下，并命沈度作辞以颂其盛。这些做法旨在（ ）

- A. 加强社会舆论宣传 B. 宣扬郑和下西洋
C. 更新中国传统文化 D. 塑造皇位合法性

28. 自古茶叶贸易在中国对外贸易中占有重要地位，但到 19 世纪末 20 世纪初，华茶在国际市场上的份额急剧萎缩。1905 年，清廷颁布《出洋赛会通行章程》，规定如“外国遇有赛会，由商部咨行各省督抚，晓示商人”，并鼓励商人参会。上述现象说明当时清政府（ ）

- A. 为争取经济利益作出努力 B. 清末新政取得一定成效
C. 传统经济遭遇了严重困境 D. 华茶失去了国际竞争力

29. 1931 年江西兴国县高兴区苏维埃政府设置了控告箱，对苏维埃政府机关和经济机关有违反苏维埃政纲政策、发生贪污浪费等现象，苏维埃的公民都有权向控告局控告。这个控告箱（ ）

- A. 杜绝了苏区的腐败现象 B. 见证了苏维埃政府反腐倡廉
C. 旨在维护苏区司法公正 D. 打击了国民政府的腐败现象

式卷

30. 李桦（1907—1995），广东番禺人，现代版画家。1930 年留学日本学习绘画，九一八事变后，愤而归国，是响应鲁迅号召的新兴木刻运动的先驱之一。右图木刻版画《怒吼吧，中国！》创作于民国二十四年，据此可知当时（ ）



- A. 日本帝国主义已经全面侵华
- B. 抗日民族统一战线正式形成
- C. 民众沉浸在亡国的痛苦之中
- D. 鼓舞民众抗日应对民族危机

31. 新中国成立初期，中共中央发出指示：在建设工作中必须贯彻重点建设的方针，精简行政机构，动员党政军民注意节约粮食。人民银行还举办定期定额储蓄，各大国营企业迅速动员本厉行节约，这些举措旨在（ ）

- A. 配合国家发展战略的需要
- B. 倡导勤俭节约的社会风尚
- C. 尽快地确立计划经济体制
- D. 弘扬艰苦奋斗的时代精神

32. 诞生于公元前 8 世纪左右的古希腊神话《奥德赛》中记载了众神法力无边，但和人一样七情六欲。不和女神因未受到宴会邀请就大发雷霆；赫拉、雅典娜、阿芙洛狄特因想得到“最美的女神”的苹果而争执不下；伊塔卡国王德奥修斯因得罪了一些神，这些神就报复性地使德奥修斯归途中处处刁难……这反映了古希腊（ ）

- A. 宗教神学影响雅典民主政治进程
- B. 城邦政治导致个人主义思想膨胀
- C. 人文主义根植于久远的传统文化
- D. 否定了神是万物的尺度的可能性

33. 1780 年，一匹成品细布在英国要卖到 116 先令，50 年后，价格降到了 28 先令；1830 磅重 40 支的纱在英国只要 1 先令 2.5 便士，同等质量的纱在印度却要 3 先令 7 便士。据（ ）

- A. 印度细布和纱大量涌入英国
- B. 《航海条例》使英国大获其利
- C. 英国技术革新能力大大增强
- D. 印度的棉纺织品产量大大增加

34. 某学者认为苏俄当时收的不仅仅是“余粮”，而几乎是农民的所有粮食；这不是和平而是凭借暴力的强取。据此，该学者认为此种做法合理的名称为（ ）

- A. 余粮收集制
- B. 农业集体化
- C. 固定粮食税
- D. 粮食征收制

35. 右图是二战后英国政府印发的一张宣传画，一个代指欧洲的女性在采摘葡萄，右侧是“生活标准”。下面选项中不属于这张海报要表达的意思是（ ）



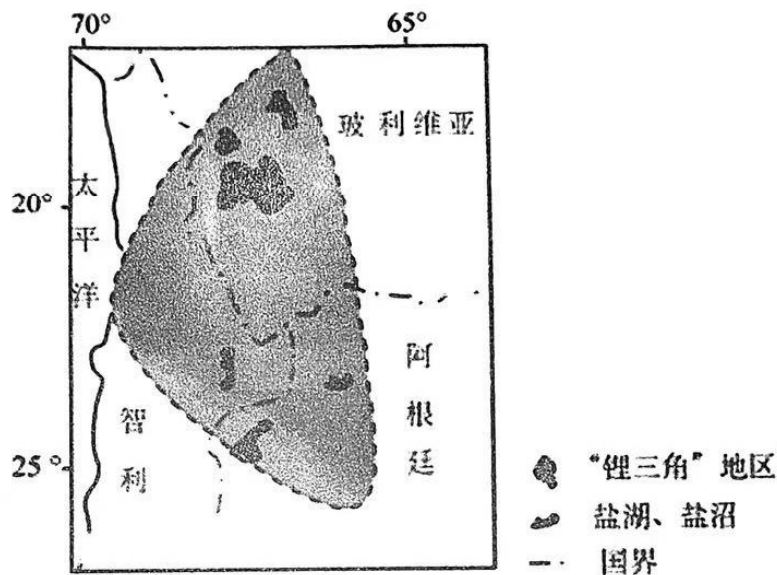
- A. 马歇尔计划让欧洲过上了更好的生活
- B. 马歇尔计划加强了美国对欧洲的控制
- C. 欧洲曾经在二战中遭受了严重的损失
- D. 目的是宣传让英国受益的马歇尔计划

二、非选择题：共 160 分。第 36~42 题为必考题，每个试题考生都必须作答。第 43~47 题为选考题，考生根据要求作答。

(一) 必考题：共 135 分。

36. 阅读图文材料，完成下列要求。(22 分)

全球锂矿集中分布在玻利维亚、阿根廷和智利构成的“锂三角”地区。其中阿根廷的盐湖锂矿资源的品质较高，锂资源量为 1930 万吨，位居全球第二，但盐湖锂矿资源开发处于起步阶段，开采程度极低。2021 年以来中国企业加快争夺阿根廷盐湖锂矿资源。行业内日益严格的碳排放考核和减少淡水用量的要求，使阿根廷盐湖提锂企业正在尝试多种新的提锂技术，随着中国企业加快在阿根廷盐湖锂矿资源上的布局，中国先进的提锂技术有望在阿根廷加速推广。下图示意“锂三角”地区概况。



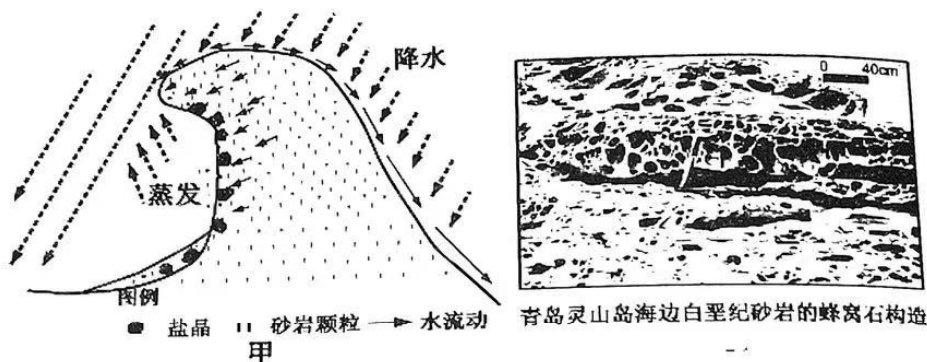
(1) 从生产成本角度评价中国企业投资开发阿根廷盐湖锂项目的条件。(8 分)

(2) 简析阿根廷盐湖锂矿资源的开发为当地带来的有利影响。(6 分)

(3) 请你为阿根廷促进锂矿产业可持续发展献计献策。(8 分)

37. 阅读图文材料，完成下列要求。（24分）

盐风化作用是地球表面十分普遍的一种物理风化作用，盐类物质被风、雾、海水等带到岩石表面并进入岩石内部，在蒸发强烈的岩石表面附近因过饱和而结晶，从而形成形态各异的岩石构造，被称为“盐风化穴”。在我国东南沿海地区和西北内陆地区存在许多盐风化地貌。图甲为盐风化形成原理图，图乙为青岛灵山岛海边白垩纪砂岩的蜂窝石构造，属于一种典型的盐风化穴。



(1) 根据材料，分析青岛灵山岛海边蜂窝石的形成过程。（6分）

(2) 说明图乙中的盐风化穴在西北和东南两侧发育程度的差异及原因。（8分）

(3) 指出我国西北地区盐风化穴地貌盐类物质来源。（4分）

(4) 根据材料推测西北地区盐风化作用最明显的季节并简述原因。（6分）

38. 阅读材料，完成下列要求。（14分）

2022年12月召开的中央经济工作会议提出，要把恢复和扩大消费放在优先位置。2022年受全球经济下行、外需疲弱及疫情影响，消费缺口较大，导致经济增长与预期目标有所偏离。未来要实现更高质量、更可持续、更为安全的发展，要求扩展国际发展空间，更要坚持扩内需促消费这个战略基点，充分挖掘国内消费潜力。

为迎接2023年的新春消费潮，长三角各地推出各项措施，“真金白银”稳岗留工，扩大内需。在上海，对元旦期间和春节期间上岗工作的一线人员，给予每人每天150元补贴。在苏州，2023年1月21日至27日，所有的国有景区实行免费开放，同时公交轨道、有轨电车免费乘车。杭州近日宣布，将向每名春节期间留杭的省外员工（在杭缴纳社保的非浙江户籍员工）发放600元消费券。企业也纷纷紧扣“扩大内需”制订新年计划。近期，上海苏宁易购密集与头部品牌深化合作，加大资源投入力度，进一步优化家电商品供给。供应链发力的同时，苏宁易购场景升级也在持续。2023年，上海苏宁易家将迎来升级开业，打造上海“家消费”新地标。

结合材料，运用经济生活的相关知识，分析我国实施“扩内需促消费”政策的必要性以及长三角地区是如何让人民能消费，愿消费的。（14分）

39. 阅读材料，完成下列要求。(12分)

党的二十大报告指出，法治政府建设是全面依法治国的重点任务和主体工程。近年来，长沙不断推动着法治政府建设迈上新台阶，已打造出法治政府建设的“长沙模式”。长沙将法治建设成效全面纳入全市绩效考核指标体系，让法治建设绩效考核成为“硬约束”，强化监督效能，市本级行政执法公示制度落实率达100%。长沙政法机关还着力发挥“关键少数”作用，各级领导干部带头尊法学法守法用法，不断提高运用法治思维和法治方式的能力。放下该放的，管好该管的，长沙全部取消非行政许可审批事项，推进“互联网+监管”，依托信用长沙归集共享。既要管理优化，更要服务提速！长沙全面普及审批服务“马上办、网上办、就近办、自助办”，建成24小时“不打烊”自助服务区。近年来，长沙加强医疗卫生、劳动争议等领域调解组织建设，已成立行业性、专业性调解组织52个。长沙政法系统的一项项举措，让群众在法治建设中有了更多更实的“获得感”。

结合材料，运用政治生活的相关知识，谈谈长沙市政府网上述做法对推进法治政府建设有何重要意义。(12分)

40. 阅读材料，完成下列要求。(26分)

春晚是凝聚着中国人精神和创造的现代文化产品，春晚昭示的文化意义是世界级的。

2023年的春晚距离1983年第一次开播已整整40年。改革开放经历了40多年的风风雨雨，每年一次的春晚串起了人们过往的岁月，“向前看”则是春晚不变的旋律。如果说春节是用团圆的方式，把中华民族如此庞大的人口凝聚在一起，春晚则是以欢乐和感动，在特定的节点上鼓舞人们用双手开创未来，激发一往无前的奋斗豪情。尽管未来仍然会面临困难和挑战，但是这种精神力量始终激励着我们。春晚，就集中体现着这种民族精神。

“创意节目惊艳，爱我们的传统文化！”“舞蹈创意和寓意都在线，每一帧美得都不像话”……截至大年初一零时，中央广播电视总台《2023年春节联欢晚会》电视端直播平均收视率达20.23%。新媒体直播用户规模达6.55亿人，竖屏看春晚累计观看规模达1.79亿人。在海外，总台通过68种语言面向全球170多个国家和地区的1000多家媒体进行同步直播和报道，成为向世界讲述中国人春节故事的重要一页。

(1)结合材料并运用社会历史观的知识，分析春晚是凝聚着中国人精神和创造的现代文化产品的原因。(12分)

(2)结合材料并运用文化生活知识，说明春晚昭示的文化意义是世界级的。(10分)

(3)今年春晚的宣传片走进了联合国，亮相欧洲多国地标，登陆美国影院赛场以及有“世界十字路口”之称的纽约时报广场，世界上越来越多的人认识了春晚，请就向世界讲述中国人春节故事提两条建议。(4分)

41. 阅读材料，完成下列要求。（25分）

材料一 19世纪50、60年代英国移民数量是17、18世纪移民数量的总和。1811年英国总人口是1197万，1931年是4479万。据统计从1815到1930年，有1140多万人从英国移出。这些移民主要迁往美国、加拿大、澳大利亚等地方，其中大部分去了美国。19世纪上半叶殖民署为移民提供资金、信息，组织他们向外迁移。19世纪后半叶官方的资助仍在进行，但非官方机构表现得更为积极，包括各地工会组织、慈善机构等等。工会资助的移民大部分去了美国，他们大多有一技之长。英国移民的迁入一定程度上改变了这些地区的人口和民族构成，对这些地区日后的发展产生了深远影响。

——整编自谭焱焱《19世纪英国人口对外迁移问题探析》

材料二 下南洋最早可以追溯到两千年前的汉代，一直到明清时期才越走越宽，呈现大规模的迁徙潮。从汉朝到明清时期，每当新老政权交替之时，不堪战乱的百姓与没落的权贵的一部分会移居海外。“闽广人稠地狭，田园不足于耕，望海谋生”，因此凭借着地缘上的毗邻关系，东南亚成为中国移民特别是闽广移民的迁徙地和避难所。有资料记载，鸦片战争之前下南洋经商谋生的华人就已有150万人之多。鸦片战争之后，清政府被迫接受纷至沓来的不平等条约，此时殖民统治下的南洋，正处于加速开发过程中，对劳动力的需求量非常大，因此出现了马来西亚联邦给予移民足够的免费土地等优惠措施以吸引华工的现象。“下南洋”的华人与华侨或工或商，胼手胝足，打下了华人的一片天地。

——摘编自高荣伟《下南洋：历史上持续时间最长的一次人口大迁徙》

(1)根据材料一并结合所学知识，概括19世纪英国人口外迁的特点，并分析推动这一现象出现的原因。（12分）

(2)根据上述材料并结合所学，试比较中国近代华人“下南洋”与19世纪英国人口外迁的不同点，并分析下南洋现象的影响（13分）

nd

全球细... 完成下列要求

第 43~47 题为选

42. 阅读材料，完成下列要求。(12分)

材料

1141年，岳飞因“莫须有”罪名，被宋高宗(1162年退位，1187年去世)赵构和秦桧陷害致死。

部分时期岳飞的形象


	内容	出处
史料 1	人谓中兴论功行封，当居第一……率毙于权臣之手，天下莫不冤之……悼无辜……溢以忠愍。 宋孝宗(1162—1189在位，为宋高宗养子)：“有旨，令别拟定。”	1177年《忠愍谥议》
史料 2	昔孔明之志兴汉室，子仪之光复唐都，虽计效以或殊，在秉心而弗异……英灵如在，茂渥其承，可依前故太师追封鄂王，特与赐谥忠武。	1225年《赐谥告词》
史料 3	诏书曰：咨尔宋忠臣岳飞，精忠贯日，大孝昭天，愤泄靖康之耻，誓清朔漠之师……兹特封尔为“三界靖魔大帝”。	1615年《岳飞庙志》
史料 4	乃如以文武兼备，仁智并施，精忠无二，则虽古名将亦有所未逮焉。知有君而不知有身，知有君命而不知惜己命，知班师必为秦桧所构，而君命在身，不敢久握垂权于封疆之外。	乾隆《岳武穆论》

结合所学知识，就上述部分或全部材料，自拟论题，并予以阐述。(要求：论题明确，史论结合，表述清晰，逻辑严密。)

(二) 选考题：共 25 分。请考生从 2 道地理题、3 道历史题中每科任选一题作答。并用 2B 铅笔在答题卡上将所选题目对应的题号方框涂黑。按所涂题号进行评分，不涂、多涂均按每科所答第一题评分；多答按每科所答第一题评分。

43. [地理——选修 3：旅游地理] (10分)

巫山县位于重庆直辖市的东部边缘，长江三峡生态屏障核心区，首批国家全域旅游示范区。近年来，巫山依托“一城两轴三带五片五廊道”的旅游布局、“七横三纵三港一场八环线八中心”的交通网络，围绕小三峡·小小三峡、巫峡·神女景区、文峰景区，全面贯通东西水陆旅游大环线、南北水陆旅游大环线、小三峡—五里坡大峡谷—神农架林区—三峡大坝渝鄂旅游大环线，形成“全景三峡”格局。打造“旅游+文化”“旅游+康养”“旅游+工业”“旅游+研学”的“旅游+”模式，构建全域全域旅游新格局。不断开创全域旅游高质量发展新局面。右图示意巫山县旅游景观。



简述推动巫山县全域旅游高质量发展的措施。

44. [地理——选修6: 环境保护] (10分)

近年来, 抗生素作为一类尚未纳入管理或现有管理措施不足以有效防控其风险的有毒有害的新兴污染物, 在自然水环境中的出现引起了国内学者的广泛关注。抗生素作为治疗感染性疾病的药物, 在中国使用广泛且用量较大。抗生素进入人体或动物体内之后, 有5%~90%是通过尿液或粪便排出体外。抗生素的大量使用容易导致其通过直接或间接的途径进入海洋、河流、湖泊等水体, 进而造成水体污染、危害生物体健康。

列举抗生素进入水体的主要途径, 并提出水体中减少抗生素污染的有效措施。

45. [历史——选修1: 历史上重大改革回眸] (15分)

材料 日本在明治维新期间, 进行了军制改革。1872年颁布征兵诏书和1873年颁布征兵令, 从民众中征兵, 建立资产阶级军队。在建立新式军队的同时, 解散了在维新初期由诸藩军队改编的旧式军队。但是, 实行征兵制也包含了不平等的因素, 官吏、专门学校的学生可以免除兵役, 而且富人只要缴纳270元者, 亦可以免除兵役。新式军队称为“皇军”, 向军人灌输忠于天皇的封建思想。1878年颁布的“军人训诫”要求军人把天皇当做神来崇拜, 并且以提倡“忠君”、绝对服从、不怕死的“武士道”精神作为军人的行为准则。

——齐世荣《世界近代史》

(1) 根据材料及所学知识, 归纳日本军制改革的背景。(6分)

(2) 根据材料及所学知识, 分析日本军制改革的影响。(9分)

46. [历史——选修3: 20世纪的战争与和平] (15分)

材料一 1975年, 伊拉克萨达姆政权支持伊朗境内的阿拉伯人争取民族平等和自治的斗争。1979年伊朗宗教领袖霍梅尼宣布成立伊斯兰共和国, 在对外政策方面, 他奉行先打击美国, 后惩罚苏联的政策, 主张伊斯兰革命是世界革命, 输出革命是其外交政策的基石。伊朗支持伊拉克境内的什叶派穆斯林反对逊尼派穆斯林的斗争。1980年, 伊拉克突袭伊朗, 两伊战争爆发。

——摘编自吴于廑、齐世荣《世界史》

材料二 苏联在两伊战争中采取了灵活的外交策略。两伊战争一开始, 伊拉克占据上风, 这时苏联很担心伊朗在军事上处于劣势而倒向西方。因此, 苏联打着中立的旗号, 暗地里却用军火武器大力支持伊朗, 并派遣了军事顾问和情报专家。但在阿富汗问题上的分歧和伊朗的强硬政策使两国关系逐渐恶化。之后, 苏联开始缓和与伊拉克的关系, 1983年1月……苏联新领导几乎全部满足了伊拉克在武器方面的一切要求, 以缓和多年来伊拉克对苏联的不满情绪, 1984年后, 苏联也采取了如护航、实行武器禁运等手段来促使伊朗接受停战。

——摘编自朱凯琪《浅析两伊战争中苏联的外交政策》

2023年江西省九所重点中学高三联合考试文科

send

36. 阅读图文材料，完成下列各题。共 135 分。

每个试题考生都必须作答。第 43~

(1)根据材料一并结合所学知识，概括指出两伊战争爆发的原因。(6分)

(2)概括材料二并结合所学知识，两伊战争中苏联外交政策的变化，结合所学知识分析其影响。(9分)

47. [历史——选修 4：中外历史人物评说] (15 分)

材料 龚自珍(1792-1841)，祖父、父亲皆为进士出身，外祖父是清朝著名学者、《说文解字注》的作者段玉裁，母亲段驯能诗工画。龚自珍精于经史，中过进士，做过礼部主事的官，生活的乾、嘉、道三朝，“圣朝”的威风依然，而矛盾已经不可调和。他在倡导经世致用学说时，成为众所公认得摇旗呐喊的有力人士。由此，一些士子学人从书斋转向社会，由宋、汉之学转向经世致用。在龚自珍的文献中，论及西方殖民主义的有两篇，一是《罢东南番舶议》，一是鸦片战争前的《送钦差大臣侯官林公序》。“夫中国与夷人互市，大利在利其米，此外皆末也”，西方“所重者”，皆中国“不急之物”，“宜皆杜之”。在龚自珍身上集先进与落后于一体。他是中国传统思想向近代发展的一个最初步的中介，一个不可缺少的中介。

——茅海建《龚自珍和他的时代》

(1)根据材料及所学知识，概括龚自珍思想产生的背景。(6分)

(2)根据材料及所学知识，请简要评价龚自珍的思想。(9分)

关于我们

自主选拔在线是致力于提供新高考生涯规划、强基计划、综合评价、三位一体、学科竞赛等政策资讯的升学服务平台。总部坐落于北京，旗下拥有网站（[网址: www.zizzs.com](http://www.zizzs.com)）和微信公众平台等媒体矩阵，用户群体涵盖全国90%以上的重点中学师生及家长，在全国新高考、自主选拔领域首屈一指。

如需第一时间获取相关资讯及备考指南，请关注**自主选拔在线**官方微信号：**zizzsw**。



 微信搜一搜

 自主选拔在线