

2023 届普通高等学校招生全国统一考试
青桐鸣大联考(高三)
文科综合能力测试

全卷满分 300 分,考试时间 150 分钟。

注意事项:

1. 答卷前,考生务必将自己的姓名、班级、考场号、座位号、考生号填写在答题卡上。
2. 回答选择题时,选出每小题答案后,用铅笔把答题卡上对应题目的答案标号涂黑。如需改动,用橡皮擦干净后,再选涂其他答案标号。回答非选择题时,将答案写在答题卡上。写在本试卷上无效。
3. 考试结束后,将本试卷和答题卡一并交回。

一、选择题:本题共 35 小题,每小题 4 分,共 140 分。在每小题给出的四个选项中,只有一项是符合题目要求的。

在美国迈阿密市(26°N,80°W),世界上第一座光伏玻璃集成的太阳能高层建筑将于 2026 年建成。整个项目将功能与建筑美学相结合(如下图),在朝西的立面上设有 500 扇光伏集成窗户,面积达 1 858m²,相当于解决了平均每年 915 户家庭的用电量。据此完成 1~3 题。



1. 该项目投入使用后,每天最早直接接受太阳光照射发电的时刻是北京时间 ()
A. 6:00 B. 1:20 C. 12:00 D. 14:20
2. 如果天气晴朗,下列日期发电时间最长的是 ()
A. 元旦 B. 五一劳动节 C. 六一儿童节 D. 教师节
3. 没有在朝南的立面上安装光伏集成窗户,主要是因为 ()
A. 朝南的立面日照时间短 B. 朝南的立面没有阳光直射
C. 集成窗户透光性差 D. 集成窗户成本过高

冰壶运动又称“冰上溜石”。比赛的基本规则是:运动员推出冰壶后,两名本方队员可以手持冰壶刷在冰壶滑行的前方快速擦刷冰面,不仅要使冰壶准确到达营垒圆心,同时还要让对方的冰壶远离圆心,以冰壶距离圆心远近决定得分(如下图)。据此完成 4~5 题。



文综试题 第 1 页(共 12 页)

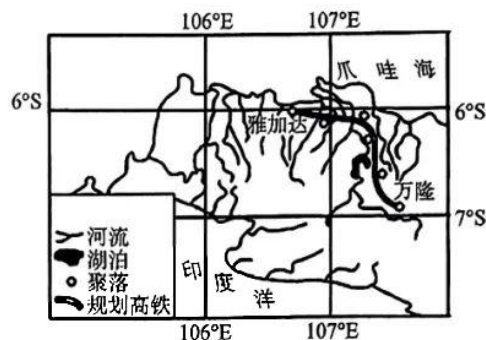
考生号

班级

姓名

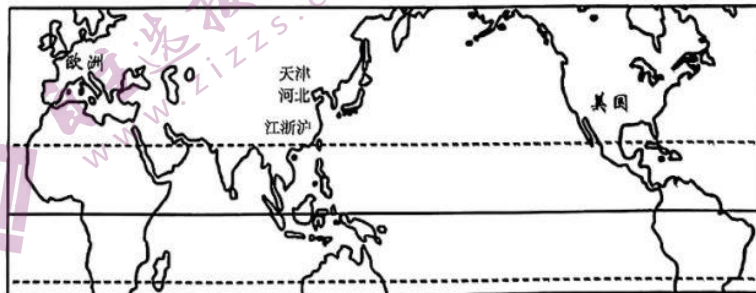
4. 冰壶比赛规则决定了冰壶石的特殊性, 主要特点有 ()
 ①质地坚硬耐磨 ②气孔构造多 ③致密不透水 ④耐高温
 A. ①② B. ①③ C. ②③ D. ①④
5. 冰壶由岩石打磨而成, 这种岩石最可能是 ()
 A. 玄武岩 B. 石灰岩 C. 砾岩 D. 花岗岩

广深港高铁北起广州南站、南至西九龙站, 线路全长 146 千米(左图); 雅万高铁位于爪哇岛, 西起雅加达、东至万隆, 线路全长 142.3 千米(右图), 雅万高铁采用分段施工建设。据此完成 6~8 题。



6. 与广深港高铁相比, 雅万高铁更要注意防范的是 ()
 A. 湿热气候 B. 地震灾害 C. 台风威胁 D. 暴雨影响
7. 雅万高铁比广深港高铁工程建设难度大的主要原因是 ()
 A. 土地私有化, 征地难度大 B. 地质条件差, 地形崎岖, 相对高差大
 C. 通过河流多, 桥梁建设困难 D. 土层松软, 易沉降
8. 2018 年 6 月, 雅万高铁 22 处控制性重难点工程取得突破, 项目建设进入新阶段。这表明分段施工 ()
 A. 明显降低了施工难度 B. 大幅度缩短了工期
 C. 利于交流协作 D. 大幅度降低了建设成本

从 1995 年到 2016 年的 20 年间, 中国的年垃圾进口量翻了十倍, 从 450 万吨增长到 4 500 万吨, 已经成为一项大宗交易品。例如: 某区域的空饮料瓶, 随着其他垃圾一起在中国某口岸登陆, 运往中国某处小工厂内被熔化再造成塑料颗粒, 随后运往某地的注塑厂制成打火机壳子, 再在当地的小打火机厂里和回收金属制作的打火机关一起组装成打火机, 最后装船从该地送往国外零售。2017 年 7 月, 中国正式向 WTO 通报, 从该年年底开始拒绝进口 24 类洋垃圾。据此完成 9~11 题。

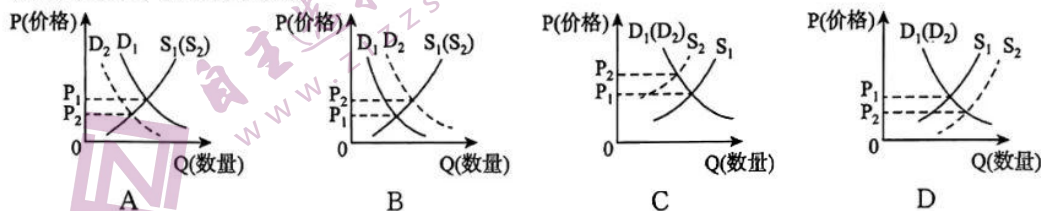


9. 空饮料瓶变成打火机再到销售,其经过的地理空间最可能是 ()
- A. 美国—中国天津—中国河北—中国江浙沪—欧洲
B. 欧洲—中国江浙沪—中国河北—中国天津—美国
C. 美国—中国河北—中国天津—中国江浙沪—欧洲
D. 欧洲—中国江浙沪—中国天津—中国河北—美国

10. 中国拒绝进口 24 类洋垃圾,主要是因为其影响中国的 ()
- ①生态环境 ②民众身体健康 ③经济效益 ④就业状况
- A. ①② B. ③④ C. ②③ D. ①④

11. 中国拒绝进口的洋垃圾最可能进入 ()
- A. 日本、新加坡 B. 印度、孟加拉国
C. 美国、加拿大 D. 蒙古、刚果

12. 根据财政部等四部门下发的《关于 2022 年新能源汽车推广应用财政补贴政策的通知》,2022 年新能源汽车购置补贴政策将于 2022 年 12 月 31 日终止,之后上牌的新能源车辆不再给予补贴。若不考虑其他因素,此举对 2023 年我国传统燃油车市场可能产生的影响是(图中 S_1 、 S_2 为供给曲线, D_1 、 D_2 为需求曲线) ()



13. M 县供销社发挥独特优势,积极引导农民群众因地制宜发展中药材产业,帮扶农户种植中药材 7 500 多亩,助力农民脱贫致富。同时,积极利用供销渠道联系客商,通过采取“订单收购”方式,帮助群众解决销售难问题。此举 ()

- ①有利于巩固脱贫攻坚成果,助力乡村振兴
②畅通中药材流通渠道,促进供求有效对接
③旨在稳定中药材价格,满足消费者需求
④有力促进农民增收,实现了农业现代化
- A. ①② B. ①④ C. ②③ D. ②④

14. 2022 年 11 月 24 日,国资委召开中央企业安全生产和疫情防控工作视频会议。会议强调,能源、通信、交通运输、物流、粮食等关系国计民生重要行业领域的中央企业,要做到防控疫情不松懈、生产经营不停歇,提前做好应对预案,确保生产供应稳定。下列对中央企业认识正确的有 ()

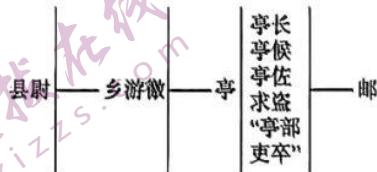
- ①要积极履行社会责任,作出应有贡献
②是我国社会主义市场经济体制的根基
③做大做强有利于巩固公有制的主体地位
④要不断扩大生产规模和领域,增强竞争力
- A. ①② B. ①③ C. ②④ D. ③④

15. 存款准备金是指金融机构为保证客户提取存款和资金清算需要而缴存在中央银行的存款,中央银行要求的存款准备金占其存款总额的比例就是存款准备金率。2022 年 12 月 5 日,中国人民银行降低金融机构存款准备金率 0.25 个百分点。中央银行此次降准的传导预期是 ()

- ①维持金融机构流动性合理充裕
②加大对实体经济的支持力度
③支持经济质的有效提升和量的合理增长
④保持金融机构货币信贷总量的合理增长

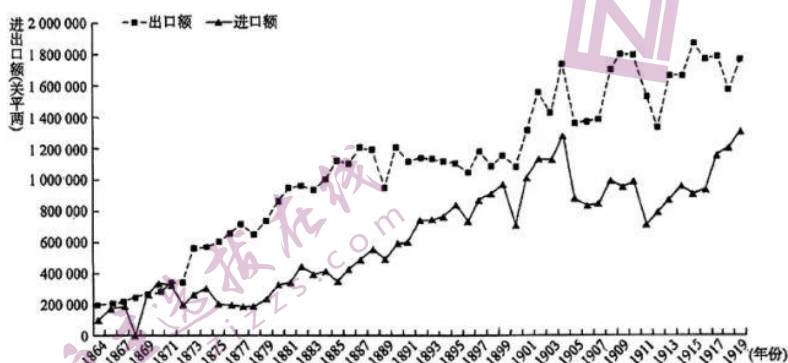
- ⑤引导市场利率下调
- A. ④→③→②→①
B. ⑤→②→④→③
C. ③→⑤→①→②
D. ①→④→②→③
16. 2022年10月25日, M市自然资源和规划局召开了市自然资源遥感智能监管平台项目、“天地图”一体化建设数据融合及更新项目、市基础测绘“一库一平台”数据治理项目等3个项目的专家论证会, 专家组进行了论证, 并形成一致意见。市局将按照专家论证组意见进行报批、实施等手续。此项举措 ()
- ①是该市各界人士参与民主监督的体现
②是政府审慎行使权力、科学民主决策的体现
③调动了广大公民参与民主管理的积极性
④是通过专家咨询制度参与民主决策的表现
- A. ①③
B. ①④
C. ②③
D. ②④
17. 2022年以来, M省审计机关立足“审计监督首先是经济监督”定位, 做好常态化“经济体检”工作, 对被审计单位财政财务收支及相关经济活动进行常态化、全覆盖的监督检查。在对政府的监督中, 审计监督 ()
- ①属于行政系统内部的监督
②是国家监察机关监督的重要组成部分
③旨在提高政府的行政效能
④对被监督者没有直接的制裁权
- A. ①②
B. ①④
C. ②③
D. ③④
18. M地用“党建红”引领“微网格”编织服务网。在街道党组织的领导下, 357名党员率先垂范任网格员、网格长, 广泛带动村民小组长、“两代表一委员”、监督委员会成员、妇联执委、人民调解员, 以及疫情防控、防汛救灾等大战大考涌现出的志愿者等扎根网格, 成为街道“红色人才库”一员, 随时预备参与网格管理服务。此举 ()
- ①发挥了基层党组织的战斗堡垒作用
②用实际行动践行党员的责任与担当
③提高了中国共产党的执政能力
④坚持了以人民为中心的执政理念
- A. ①②
B. ①③
C. ②④
D. ③④
19. M县以古城创建国家5A级景区为引领, 谋划建设一批具有引领作用的文旅及数字创意产业重点项目。通过设置文旅发展专项资金, 每年投入近9000万元, 一体推进文旅项目建设, 突出该县国家历史文化名城特色, 加强文创产品品牌化设计、系统性开发。这些举措 ()
- ①发挥了文化生产力在现代经济格局中的决定作用
②体现了文化对经济、政治的反作用
③延伸文化产业链, 有效提升文化附加值
④有助于形成产业规模优势和集聚优势
- A. ①②
B. ①④
C. ②③
D. ③④
20. 2022年11月23日, “长安十二时辰十大唐不夜城”唐文化全景展示创新实践入选2022年度文化和旅游最佳创新成果。该项目在商业空间内注入电视剧《长安十二时辰》IP与唐文化元素, 打造出集全唐空间游玩、唐风市井体验、主题沉浸互动等为一体的新消费场景, 重现了唐代都城长安的独特风情。该项目的成功得益于 ()
- ①为中华优秀传统文化注入了时代精神
②充分利用了当地丰富的唐文化资源和素材
③增强消费者文化体验, 由旁观者变为参与者

- ④依靠科技客观再现了唐代都城长安的独特风情
A. ①② B. ①④ C. ②③ D. ③④
21. 2022年11月10日, 中央政治局常委会召开会议听取新冠肺炎疫情防控工作汇报, 研究部署进一步优化防控工作的二十条措施, 对密切接触者、入境人员等风险人员管控方式作出了调整。这有利于进一步提高疫情防控的科学性、精准性、有效性。这二十条措施 ()
①是主观与客观、理论与实践具体的历史的统一
②经历了从认识到实践、再从实践到认识的过程
③作为疫情防控的指导方针, 是终极真理
④需要在实践中进一步丰富和发展
A. ①③ B. ①④ C. ②③ D. ②④
22. 2022年11月发布的《中国航天推动构建新型空间探索与创新全球伙伴关系的行动声明》提出, 中国愿在共商全球治理、促进行动协调、深化项目合作、推动创新发展、共享科学成果、鼓励多元参与、打造合作平台、维护人类安全等八个方面, 推动构建平等互利、开放包容、和平利用、造福人类的新型空间探索与创新全球伙伴关系, 助力构建外空领域人类命运共同体。该声明 ()
①坚持用系统优化的方法处理各国在外空领域的关系
②主张在固有联系的基础上建立起新的具体联系
③表明新事物具有旧事物不可比拟的优越性
④主张要做好量的积累, 不断推进事物发生质变
A. ①② B. ①④ C. ②③ D. ③④
23. 恩格斯说: “根据唯物史观, 历史过程中的决定性因素归根到底是现实生活的生产和再生产”, 但是, “如果有人在这里加以歪曲, 说经济因素是唯一决定性的因素, 那么他就是把这个命题变成毫无内容的、抽象的、荒诞无稽的空话”。恩格斯的观点表明 ()
①生产活动是人类社会存在和发展的基础
②社会历史发展的总趋势是前进的、上升的
③不要忽视上层建筑的各种因素对社会发展的影响
④生产力和生产关系的矛盾是人类社会的基本矛盾
A. ①③ B. ①④ C. ②③ D. ②④
24. 孔子推崇“礼之用, 和为贵。先王之道, 斯为美。小大由之, 有所不行。知和而和, 不以礼节之, 亦不可行也”。而韩非子主张“明主使其群臣不游意于法之外, 不为惠于法之内, 动无法”“法不阿贵”。这从侧面反映出春秋战国时期 ()
A. 诸子思想融合的趋向明显 B. 社会的转型引发了思想激荡
C. 礼、法结合推动了社会进步 D. 儒家思想主流地位已经稳固
25. 下图为汉代县级以下情报、治安和信息系统简表。据此可知, 汉代 ()



- A. 国家统治权力向基层延伸 B. 地方行政机构效率较高
C. 中央集权体制的弊端显现 D. 分裂割据问题得到解决
26. 宋代, 常平仓等仓储制度是政府调控粮价的重要手段。此外, 政府还经常运用多种方式调控粮价。例如, 宋太祖曾通过免除税收的方式来推动粮食流通, 进而稳定粮食价格; 范仲淹在杭州任知州时曾用提价的办法使粮价回落。这说明宋代 ()

- A. 重农抑商的政策受到了强烈冲击
B. 经济调控方式呈现灵活多样性
C. 商品经济发展助推农业产量提高
D. 粮食生产基本满足了民众需求
27. 由于明代铸钱规模较小,宝钞与当时东亚其他地区的通货格格不入,因此铜钱和纸币均难以作为国际结算的媒介,历史就给予了白银摆脱补充货币地位的重大机遇。这说明当时 ()
A. 货币结构的转变顺应了时代发展
B. 白银开始发挥了价值尺度的作用
C. 中国商品积极融入世界市场体系
D. 政府滥发宝钞导致恶性通货膨胀
28. 下图为 1864—1919 年汉口中药材的进出口额统计图。这可以用来说明 ()



- A. 晚清政府对外贸易处于出超地位
B. 中医学理论获得长足发展
C. 中国日益卷入资本主义世界市场
D. 汉口成为对外贸易的中心
29. 20 世纪初,留日学生冯斯栾发表《独立说》,指出:“近世地球独立之成案,其迹虽各异,可分之分为两大端,一对外独立,一对内独立……二者之宗旨皆同一争国民之生命幸福……政府之奴隶国民,日施压制,久之则民智日愚。民愚则种衰,种衰则国必不振,有如影响之随声形者。”其意在强调 ()
A. 实现独立的前提是推翻清政府统治
B. 培养国民意识是实现独立的保障
C. 政府的奴役是遭受外来侵略的根源
D. 实现对外独立比对内独立更重要
30. 1942 年,《大公报》刊发文章称:“我们已正式踏上世界政治舞台,今后世界战时与战后大大小小的问题我们都得参加;参加得力,我们可以一跃而为列强之一员,参加不力以至失当,将永远做一个三四等国家。这一点,我们应该以极大的警惕,做今后的努力。”该文章的发表 ()
A. 有利于调动民众抗日的积极性
B. 标志着中国民主革命进入新阶段
C. 扩大了革命统一战线的影响力
D. 促使解放区开始对日本全面反攻
31. 中国人民银行洛阳市支行关于 1983 年洛阳市区货币流通情况的统计信息包括:四十一个被调查商业单位的单位过夜现金和找零备用金分别比上年增长 11.4% 和 95.8%;现金归行速度延缓,据测算全市至少有 400 多万元货币停留在个体经济手中辗转流通。这反映出当时 ()
A. 个体经济的融资渠道逐渐多元化
B. 商品流通结构正发生深刻变化
C. 金融新局面得益于社会经济变革
D. 城市经济体制改革已全面展开
32. 乌尔比安(约 170—228)在《告示评注》第 77 卷中提到古罗马有这种实践及相应处理:出售判决结果的人,或收了购买判决之金钱的人,要为此由总督判处鞭打。该人的行为类似于现代法上的招摇撞骗,它损害了国家机关的威信,必然伴随腐败行为。这种做法 ()
A. 彰显了司法的公正
B. 体现了法律条文僵化
C. 限制了贵族的特权
D. 维护了民主共和政体
33. 1689 年后,威廉将国内事务委托玛丽女王与大臣组成的内阁委员会,外交事务则由其全权负责。1701 年,享有外交权力的君主必须在内阁建议下进行决策,最终交付议会核准。1702 年,安妮女王在位,绝大部分的外交决策实际上由大臣们承担,她也满足于依赖她的大臣。这一变化反映了 ()

- A. 国王仍旧保留了某些名义权力
B. 英国责任内阁制的逐渐形成
C. 英国君主立宪政体进一步发展
D. 权力之间实现了制约与平衡
34. 下图是 1931 年苏联的一幅宣传画。苏联体育运动委员会明确指出“劳卫制”是国家的一项根本体育制度,要求公民从 7 到 60 岁都要接受跑步、滑雪、手榴弹、射击、越野等十六个军事项目训练,只有五个项目合格才能报考大学、招工、参军。这表明当时苏联 ()



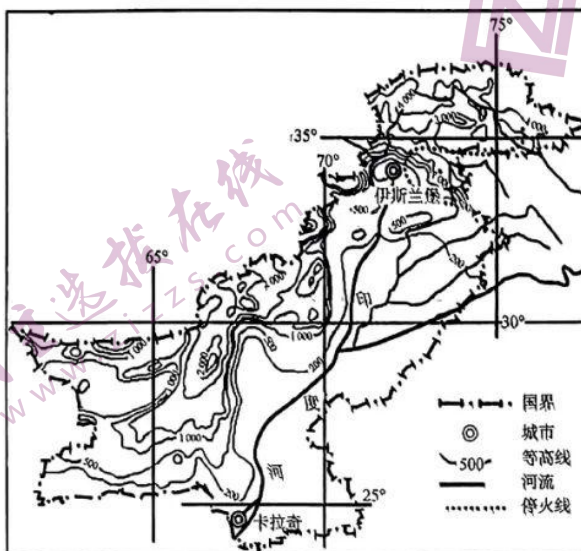
- A. 增强国民体质是卫国之本
B. 体育锻炼已经成为时代风尚
C. 加快社会主义工业化建设
D. 提升公民体能服务生产国防
35. 目前,第三世界欠西方发达国家的债务共计有 2.5 万亿美元,每年出口创汇中的 25% 被用于还债,但是这笔债务越还越多。而国际货币基金组织则带着一枝干瘪瘪的橄榄叶和一揽子拯救计划,到处给出现危机的国家实施贷款并开出“治病”的药方,条件是该国必须以经济主权作为抵押。这反映了 ()
- A. 国际经济旧秩序依旧存在
B. 西方国家主导着经济发展方向
C. 经济全球化是一把双刃剑
D. 南北之间发展的不平衡性加剧

二、非选择题:共 160 分。第 36~42 题为必考题,每个试题考生都必须作答。第 43~47 题为选考题,考生根据要求作答。

(一)必考题:共 135 分。

36. 阅读图文材料,完成下列要求。(22 分)

2022 年 7、8 月份,欧洲西部、西亚、南亚、东亚、北美等多地刷新有记录以来的最高气温纪录。8 月底巴基斯坦普降暴雨,三分之一地区被淹。多轮暴雨引发山洪并引发多种次生灾害,造成了巴基斯坦国内严重的人员和牲畜伤亡,并对个人住宅和公共基础设施造成了广泛的破坏。下图为巴基斯坦地形图。

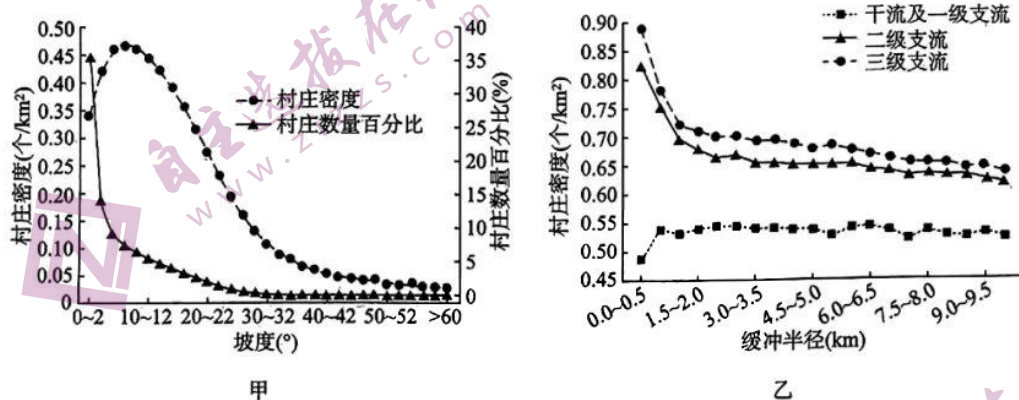


文综试题 第 7 页(共 12 页)

- (1) 大气环流异常造成巴基斯坦普降暴雨, 推测暴雨的形成原因。(4分)
- (2) 分析巴基斯坦洪水淹没面积大的原因。(6分)
- (3) 说明巴基斯坦洪灾可能引发的次生灾害。(6分)
- (4) 请指出印度河下游地区应采取的防洪措施。(6分)

37. 阅读图文材料, 完成下列要求。(24分)

村庄通常是指乡村地区的自然村落, 是乡村地区最普遍的空间表征和最基本的组织。村庄的演进遵循形成、发展、稳定、衰退与振兴的“生命周期”规律, 其演进受自然地理环境和人文社会经济要素共同影响, 不同地区村庄演进的速度、强度、方向和结果各异。图甲示意不同坡度条件下中国村庄分布, 图乙示意不同河流缓冲区内中国村庄分布。(2012年我国的村庄数据)



- (1) 指出中国村庄密度随坡度的变化特点。(6分)
- (2) 坡度 0°~2° 村庄数量最大, 但村庄密度却小于坡度 6°~8° 地区, 说明理由。(6分)
- (3) 干流及一级支流 500m 以内, 村庄密度较小, 请说明原因。(6分)
- (4) 与长三角地区相比, 珠三角地区村庄密度较小, 分析其原因并做出合理解释。(6分)

38. 阅读材料, 完成下列要求。(14分)

2022年11月5日至10日, 第五届中国国际进口博览会在国家会展中心(上海)举行, 共有145个国家、地区和国际组织参展; 来自127个国家和地区的2800多家企业参加商业展; 展示438项代表性首发新产品、新技术、新服务, 超过上届水平。

本届进博会共设置食品及农产品、消费品、汽车、技术装备、医疗器械及医药保健、服务贸易六大展区。值得一提的是, 绿色低碳、可持续发展理念贯穿整个场馆, 全球企业踊跃参展, 众多新产品、新技术首次公开亮相, 全球优质商品进入中国市场, 扩大高品质消费品和服务进口的同时, 不断满足人民群众对美好生活的需要。

结合材料, 运用所学经济生活的知识, 说明第五届进博会对推进我国经济高质量发展的意义。

39. 阅读材料,完成下列要求。(12分)

2022年11月22日,政协第十三届全国委员会第八十一次主席会议在北京召开。全国政协主席汪洋主持会议并讲话。会议听取了关于政协第十三届全国委员会委员履职情况统计分析报告。汪洋指出,十三届全国政协连续两年围绕“十四五”规划实施开展民主监督,主席会议专门听取各专委会民主监督工作情况汇报,研究重点监督意见,是加强和改进人民政协民主监督工作的重要举措,既为推动党和国家有关重大决策部署落地落实发挥了积极作用,也使委员们在监督过程中看到了变化、受到了教育、凝聚了共识。全国政协要认真学习贯彻党的二十大精神关于加强人民政协民主监督的新部署新要求,把准协商式监督的性质定位,不断提高民主监督能力和水平,更好发挥人民政协作为专门协商机构在国家治理中的重要作用。

结合材料,运用所学政治生活的知识,说明人民政协作为专门协商机构如何更好地在国家治理中发挥作用。

40. 阅读材料,完成下列要求。(26分)

党的二十大闭幕不到一周,中共中央总书记习近平带领中共中央政治局常委专程从北京前往陕西延安,瞻仰延安革命纪念地,重温革命战争时期党中央在延安的峥嵘岁月,缅怀老一辈革命家的丰功伟绩,宣示新一届中央领导集体赓续红色血脉、传承奋斗精神,在新的赶考之路上向历史和人民交出新的优异答卷的坚定信念。

习近平强调,要弘扬伟大建党精神,弘扬延安精神,坚定历史自信,增强历史主动,发扬斗争精神,为实现党的二十大提出的目标任务而团结奋斗。

习近平强调,延安时期,党提出全心全意为人民服务的根本宗旨并写入党章,强调共产党“这个队伍完全是为着解放人民的,是彻底地为人民的利益工作的”,要求党的干部“把屁股端端正正地坐在老百姓的这一面”,形成了“只见公仆不见官”的生动局面。全党同志要站稳人民立场,践行党的宗旨,贯彻党的群众路线,保持党同人民群众的血肉联系,自觉把以人民为中心的发展思想贯穿到各项工作之中,扎实推进共同富裕,让现代化建设成果更多更公平惠及全体人民。

(1)结合材料,运用所学文化生活的知识,说明弘扬延安精神对实现党的二十大提出的目标任务的意義。(10分)

(2)结合材料,运用唯物史观的知识,说明党为什么要坚持以人民为中心的发展思想。(12分)

(3)假如学校在假期举行赴延安的研学活动,请你写两个宣传口号。(4分)

41. 阅读材料,完成下列要求。(25分)

材料一

随着商品经济的发展,清代钱业有了很大的发展。到嘉庆、道光年间,钱铺、钱庄印行钱票已经很普遍。商人们创立了从事消费信用的机构当铺、对贫民放印子钱的印局、专门从事钱银兑换业务的钱庄。清代前期的钱铺、钱庄,其主要业务是兑换,后来增加了存贷款业务。钱庄放款的对象,有私人生活性贷款,也有工商业贷款。钱庄票号运用分支号众多的优点,不需要往返运现。金融机构在资本金之外,附设一部分比较灵活的资本以保证资本金在经营中的完整性,借以控制经营风险。为了规范各地钱业的发展,乾隆帝特指令各省督抚仿照京城办法,约束经纪,规范钱市。乾隆年间,京师(北京)已经流行钱票(兑换券)。为了保证兑换券不被造假票者冒领款项,票号创造了一种严密的票据密押制度。

——摘编自张念瑜《清代的货币当局和金融机构》

材料二

鸦片战争后,外商先后在中国开设银行,这些银行在华洋贸易、对华贷款、证券、保险等业务方面,确立了主导性甚至垄断性的地位,给中国本土金融业带来了巨大的冲击。甲午之役

后,浩大的军费开支尤其是巨大的赔款负担,使得清政府上下意识到,单凭财政手段和传统的金融模式,已经无法维系财经运作,必须从币制金融领域探寻变法自强大计。自1895年清廷发布令各省筹拟变法自强的上谕之后,不断有奏折论及设立新式银行。1896年,洋务企业重要代表盛宣怀在《条陈自强大计折》中,具体提出了设立“商办银行”的主张,并积极与总理衙门、军机处等重要官员进行沟通,最后获得奏准设立。1897年中国通商银行正式成立。

——摘编自王建朗、黄克武主编《两岸新编中国近代史》

材料三

从1952年下半年开始,中国人民银行在政务院财经委员会的直接领导下,开展了对私营金融业全行业的公私合营改造。对于资产大于负债的行庄,清理资产,将其并入公私合营银行,取消原名号;对于资不抵债的行庄,则予以淘汰,令其停业清理;对于自愿停业转业的行庄则予以批准,并提供适当的指导和帮助。经过半年的合并与改造,到1952年底,改造基本完成,国家实际接管了拥有300多机构、19 000余名职工、10 000亿元存款、5 000亿元贷款、16 000亿元资产的私营金融业。至此,私营行庄不复存在。金融业成为我国第一个完成全行业社会主义改造的经济部门。

——摘编自武力《建国初期金融业的社会主义改造》

- (1)根据材料一并结合所学知识,概括清代金融业发展的特点,并分析其作用。(11分)
- (2)根据材料二并结合所学知识,分析中国近代银行产生的背景。(6分)
- (3)根据材料三并结合所学知识,指出新中国初期对私营金融业改造的特点,并简析其产生的影响。(8分)

42. 阅读材料,完成下列要求。(12分)

材料

欧洲大学创立与发展简表

阶段	说明
阶段 I (5 世纪后期到 15 世纪)	像巴黎大学(创于 1200 年)、博洛尼亚大学(创于 1088 年)、牛津大学(创于 1167 年)、剑桥大学(创于 1209 年)、布拉格大学(创于 1348 年)、莱比锡大学(创于 1409 年)等,以“地名+大学”方式命名,被誉为“居住僧侣的村庄”。早期大学没有固定的教学和居住场所,依托所在城市。教权与王权的斗争和干预使大学与市民、大学与城市当局的矛盾复杂
阶段 II (15 世纪到 19 世纪中期)	随着社会变迁,欧洲大学在课程内容、培养目标等方面发生变化,“民族属性”增强。大学与新型城市未真正“亲密互动”
阶段 III (19 世纪中期到 20 世纪初)	欧洲大学与城市“接轨结合”。20 世纪 20 年代后,牛津大学等传统大学成为工业和社会的“中心发电站”,不再是“培养年轻绅士的机构”。各工业国家还创办了一批新型技术院校和工科学院
阶段 IV (二战后至 20 世纪末)	以大学、科研、高技术生产为中心的“智力密集区”,如剑桥科学园、慕尼黑高科技工业园等建立,大学与城市全方位互动
阶段 V (21 世纪以来)	欧洲高等教育一体化,“大学联盟与城市联盟互动发展”

——整理自何文栋《欧洲大学与城市互动的历史变迁》

文综试题 第10页(共12页)

以欧洲大学为主题,选取材料中两组或多组信息,自拟论题,并结合世界史知识予以阐述。(要求:论题明确,持论有据,论证充分,表述清晰)

(二)选考题:共25分。请考生从2道地理题、3道历史题中每科任选一题作答。如果多做,则每科按所做的第一题计分。

43.【地理——选修3:旅游地理】(10分)

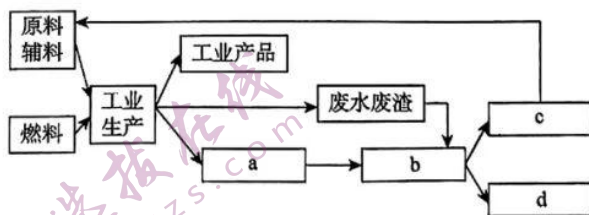
距离河北省石家庄市约100千米的驼梁,位于冀晋两省交界处,因山顶恰似驼峰而得名,主峰海拔2281米。这里层峦叠翠,林海滔滔,幽峡如画,瀑布成群,云海频出,气候宜人,万千景色处处引人入胜。石家庄某学校的学生们在暑期自发组织去驼梁进行一天时间的研学旅行,主旨是考查驼梁垂直自然带的分布,选择的是包车方式。请为此做出研学旅行活动设计方案。

44.【地理——选修6:环境保护】(10分)

我国某钢铁集团废弃的脱硫渣堆积成巨大的山包,为防止含有碱性物质的脱硫渣随雨水四处流淌,脱硫渣粉随风飘散,每年都要投入大量的人力与财力对渣场进行管理以避免环境污染。2021年该集团的二氧化碳矿化利用脱硫渣工业装置正式运行,每年能处理二氧化碳15000吨,利用脱硫渣15万吨。矿化反应产生的石灰石,经处理后,直接输送到厂内其他生产环节,代替外购石灰石原料。从高炉炼钢到二氧化碳、废渣再利用,工厂内部就形成了再循环。在国外,目前最大的二氧化碳矿化封存项目位于冰岛,二氧化碳处理量每年仅50吨。

(1)指出对渣场进行管理可避免的环境污染类型。(4分)

(2)下图为该钢铁集团二氧化碳矿化脱硫渣再利用的工艺流程图,请将下面四种物质的序号对应图中四个方框内的字母:①含大量二氧化碳的工业废气、②石灰石、③含钙镁离子的脱硫渣浆、④不含二氧化碳和其他有害气体的净化烟气,并说明与冰岛的二氧化碳矿化封存项目相比,我国的碳封存技术的突出优势。(6分)



45.【历史——选修1:历史上重大改革回眸】(15分)

材料 新中国成立初期,新生的人民政府开始了大规模的社会风气治理运动,扫除“黄毒赌”、破除封建迷信和陋习等。党和人民政府还坚决反对落后的价值观念,努力构建以牺牲、奉

献、奋斗精神为内核的革命价值观占据主导地位的新社会。为了更好地进行社会治理,党中央提出了将人民群众“组织起来”的号召,充分发挥群众在治理中的作用。同时还面向普通民众推出了大量宣传革命价值观的精神文化产品。男女平等、婚姻自由、勤俭节约、劳动光荣等观念成为社会新时尚。

——摘编自何云峰《新中国成立初期毛泽东的社会治理思想》

- (1)根据材料并结合所学知识,概括新中国成立初期进行社会风气治理的特点,并分析这一时期进行社会风气治理的有利条件。(9分)
- (2)根据材料并结合所学知识,简析新中国成立初期社会风气治理的意义。(6分)

46.【历史——选修3:20世纪的战争与和平】(15分)

材料 美国建国后,确定了不参与欧洲国家的世界霸权斗争,全力维护美洲事务利益的孤立主义的外交政策。1914年,一战爆发后,威尔逊政府奉行道义外交政策,倡导以谈判解决争端。但是深受英国启蒙思想影响的美国政府官员则更倾向于协约国。一战后期,德国开始了孤注一掷的“无限制潜艇战”。威尔逊向国会宣布了与德国断交的决定。俄国爆发二月革命,推翻了沙皇专制统治,为维护在协约国一方获得的利益,1917年4月6日,美国对德宣战。1918年初,美国远征军来到了欧洲。由于美国军队的加入,协约国军队迅速在西线取得了多场战争的胜利,协约国军队开始掌握战争的主动权。11月11日,德国签署停战协定,战争到此结束。

——摘编自吕桂霞《一战期间美国的“和”“战”政策剖析》

- (1)根据材料并结合所学知识,指出一战期间美国对外政策发生的变化及其原因。(9分)
- (2)根据材料并结合所学知识,分析美国参加一战的影响。(6分)

47.【历史——选修4:中外历史人物评说】(15分)

材料 杜佑(735—812),中唐时期政治家和史学家。杜佑出身仕宦之家,幼年勤奋读书,经传之外,尤其重视历史典籍的学习。杜佑在刘秩《政典》的基础上编纂了《通典》。《通典》分“食货”“选举”“职官”“礼”“乐”“兵”“刑法”“州郡”和“边防”九大类别,成为中国第一部体例完备的政书。杜佑在《通典》中特别注意自注的运用,这种治学的精神和方法,对后世影响很大。《通典》在处理文化与经济的关系时,着重阐述了物质生活条件对于文化发展的决定作用。基于这一认识,《通典》特别把《食货典》放在首位。杜佑还认为上古质朴少事,固然很好,但多鄙风弊俗,不如后世文明,不可以古易今。《通典》还特别强调了民众生活的重要性以及改善民众生活对国家治理的意义。《通典》对后世史学产生了重大影响。

——摘编自白寿彝《中国通史》

- (1)根据材料,概括杜佑的史学思想。(9分)
- (2)根据材料并结合所学知识,分析杜佑能够取得显著史学成就的原因。(6分)

2023 届普通高等学校招生全国统一考试
大联考(高三)参考答案

文综政治

12. B 【解析】新能源汽车作为传统燃油车的替代品,2022年12月31日之后上牌的新能源汽车不再给予购置补贴,可能会导致传统燃油车需求增加,均衡价格上涨,B项正确。A、C、D三项均不符合设问要求。故选B项。
13. A 【解析】材料中的举措有利于巩固脱贫攻坚成果,助力乡村振兴,畅通中药材流通渠道,促进供求有效对接,①②正确。材料中举措的目的不是稳定中药材价格,满足消费者需求,排除③。材料中的举措没有实现农业现代化,排除④。故选A项。
14. B 【解析】中央企业要积极履行社会责任,作出应有贡献,其做大做强有利于巩固公有制的主体地位,①③正确。基本经济制度是我国社会主义市场经济体制的根基,排除②。“要不断扩大生产规模”表述明显错误,排除④。故选B项。
15. D 【解析】中央银行此次降准,可以维持金融机构流动性合理充裕,保持金融机构货币信贷总量的合理增长,加大对实体经济的支持力度,支持经济质的有效提升和量的合理增长,D项传导路径正确。故选D项。
16. D 【解析】材料中的举措是当地政府部门审慎行使权力、科学民主决策的体现,是公民通过专家咨询制度参与民主决策的表现,②④正确。材料未体现民主监督,排除①。材料不属于公民参与民主管理,排除③。故选D项。
17. B 【解析】审计监督属于行政系统内部的监督,对被监督者没有直接的制裁权,①④正确。审计监督不属于国家监察机关监督,排除②。审计监督的最终目的不是提高政府的行政效能,排除③。故选B项。
18. A 【解析】在街道党组织的领导下,用“党建红”引领“微网格”编织服务网,是发挥基层党组织的战斗堡垒作用,用实际行动践行党员的责任与担当,①②正确。用“党建红”引领“微网格”编织服务网没有涉及提高中国共产党的执政能力,排除③。党的执政理念是立党为公、执政为民,排除④。故选A项。
19. D 【解析】材料中的举措延伸文化产业链,有效提升文化附加值,有助于形成产业规模优势和集聚优势,③④正确。文化生产力不起决定作用,①错误。材料未体现对政治的反作用,排除②。故选D项。
20. C 【解析】材料中项目的成功得益于充分利用了当地丰富的唐文化资源和素材,增强消费者文化体验,由旁观者变为参与者,②③正确。材料未体现为中华优秀传统文化注入了时代精神,排除①。“客观再现”的观点错误,排除④。故选C项。
21. B 【解析】进一步优化疫情防控工作的二十条措施是主观与客观、理论与实践具体的历史的统一,需要在实践中进一步丰富和发展,①④正确。应该是“从实践到认识、再从认识到实践”,②错误。这些措施是具体的历史的,不是终极真理,③错误。故选B项。
22. A 【解析】材料中的声明坚持用系统优化的方法处理各国在外空领域的关系,主张在固有联系的基础上建立起新的具体联系,①②正确。材料未体现新旧事物的对比,排除③。不断推进事物发生质变的观点错误,排除④。故选A项。
23. A 【解析】恩格斯的观点表明生产活动是社会存在和发展的基础,不要忽视上层建筑的各种因素对社会发展的影响,①③正确。材料未体现社会历史发展的总趋势,排除②。材料未体现生产力与生产关系的矛盾,排除④。故选A项。
38. 【答案】①有利于满足消费者多样化、差异化需求,进而更好满足人民群众美好生活需要。(3分)
②促进我国优化营商环境,加快建立统一开放、竞争有序、公平公正的市场体系。(4分)
③推动进口贸易发展,倒逼国内进一步加快供给侧结构性改革,促进我国对外经贸、产业、企业、消费转型升级。(4分)
④加快转变对外经济发展方式,促进我国建立更高层次开放型经济体系。(3分)
- 【解析】本题以第五届中国国际进口博览会为背景,

考查本届进博会对推进我国经济高质量发展的意义。结合材料有效信息,考生可以从满足消费者的需求、促进良好市场体系的形成、推进贸易发展、转变对外经济发展方式等角度作答。

39.【答案】①人民政协是中国共产党领导的多党合作和政治协商的重要机构,是具有中国特色的制度安排,是社会主义协商民主的重要渠道和专门协商机构。(4分)

②人民政协坚持党的政治领导,围绕团结和民主两大主题,聚焦党和国家中心任务,把协商民主贯穿工作的全过程,着力增进共识,促进团结,以实际行动落实党的二十大精神。(4分)

③人民政协通过政治协商、参政议政、民主监督等制度化、规范化和程序化的安排,集中各方面意见和建议,增强决策的科学性和监督的有效性,推进国家治理体系和治理能力现代化,充分彰显中国式协商民主的独特魅力。(4分)

【解析】本题主体限定为人民政协,考查考生调动和运用知识的能力。考生可以从人民政协的地位、主题、职能等角度作答。

40.【答案】(1)①文化作为一种精神力量,在人们认识世界和改造世界的过程中转化为物质力量。在全社会大力传承和弘扬伟大延安精神,对凝聚全国上下推动社会进步、投身新时代中国特色社会主义建设具有重要意义。(3分)

②文化对经济社会发展有重大影响,先进文化促进社会发展,弘扬延安精神有利于推动实现中华民族的伟大复兴。(3分)

③延安精神丰富和发展了中华民族精神。优秀文化能够丰富人的精神世界,增强人的精神力量,促进人的全面发展。弘扬延安精神,能够激发人们的爱国热情,有利于弘扬社会主义核心价值观,坚定

文化自信,增强民族凝聚力,提高我国的文化软实力。(4分)

(2)①人民群众是社会历史的主体,要坚持群众观点和群众路线。(3分)

②人民群众是社会物质财富的创造者,是推动社会历史发展的决定力量。广大劳动群众作为物质生产的承担者和社会生产力的体现者,创造了衣、食、住、行、用等必需的生活资料,他们的生产活动是社会存在和发展的基础。(3分)

③人民群众是社会精神财富的创造者。人民群众的生活和实践是一切精神财富形成和发展的源泉,人民群众的实践为精神财富的创造提供了必要的物质条件,人民群众还直接创造了丰硕的社会精神财富。(3分)

④人民群众是社会变革的决定力量,其通过推动生产力的发展而不断创造和改变社会关系,从而不断推动社会历史进步和发展。(3分)

(3)答案示例:

①亲临红色圣地,重温峥嵘岁月。(2分)

②走进革命老区,感受革命情怀。(2分)

(其他口号,言之成理即可酌情给分)

【解析】第(1)问考查文化的作用,延安精神是一种先进文化,本题可以从文化作为一种精神力量的作用、文化对经济社会的作用、中华民族精神、文化对人的影响等角度作答。

第(2)问考查人民群众的知识,为原因类试题,可以从人民是社会物质财富的创造者,是推动社会历史发展的决定力量,人民群众是社会精神财富的创造者,人民群众是社会变革的决定力量等角度作答。

第(3)问为开放式设问,注意围绕主题作答,体现知识性与开放性的统一。

2023 届普通高等学校招生全国统一考试
青桐鸣大联考(高三)参考答案

文综历史

24. B 【解析】根据材料信息孔子推崇礼的治理效用、韩非子主张“明主使其群臣不游意于法之外”“法不阿贵”，结合所学知识可知，这从侧面反映出春秋战国时期社会的转型引发了思想激荡，故 B 项正确。材料无法体现诸子思想融合的趋向明显，排除 A 项。材料没有体现出礼、法结合，排除 C 项。春秋战国时期，儒家思想尚未确立主流地位，排除 D 项。故选 B 项。
25. A 【解析】根据材料关键信息并结合所学知识可知，汉代乡里的行政系统突出了国家统治权力向基层延伸，A 项正确。材料没有地方行政效率的信息，排除 B 项。材料不能体现中央集权体制的弊端，排除 C 项。D 项表述与材料主旨不符，排除。故选 A 项。
26. B 【解析】材料信息“常平仓等仓储制度”“通过免除税收的方式来推动粮食流通”“曾用提价的办法使粮价回落”体现了宋代经济调控手段多样化、方式灵活，B 项正确。材料无法体现重农抑商的政策受到了强烈冲击，排除 A 项。材料没有商品经济发展助推农业产量提高的信息，排除 C 项。D 项表述与题干材料主旨不符，排除 D 项。故选 B 项。
27. A 【解析】根据所学知识可知，明朝中期以后，白银逐渐成为普遍流通的主要货币，承担了更多货币职能，促进了明朝中后期经济社会的繁荣发展，也顺应了新航路开辟以后国际贸易交流的需要，A 项正确。明朝以前，白银就具有一定的价值尺度的作用，“开始”表述不恰当，排除 B 项。题干信息没有显示中国商品积极融入世界市场体系，排除 C 项。D 项与题干主旨不符，排除。故选 A 项。
28. C 【解析】根据图示信息可知，1864—1919 年汉口中药材进出口额虽有起伏，但整体呈上升趋势，这表明中国日益卷入资本主义世界市场，C 项正确。材料仅仅是汉口中药材进出口额的情况，不能说明晚清政府对外贸易处于出超地位，排除 A 项。材料信息不能证明中医学理论的发展情况，排除 B 项。上海是近代对外贸易中心，排除 D 项。故选 A 项。
29. B 【解析】题干材料表达了要启发民智、培养近代国民意识，才能实现独立的目标，B 项正确。“对内独立”不等于要推翻清政府，A 项与题干材料主旨不符，排除 A 项。C 项与史实和材料主旨均不符，排除。材料不能体现对外独立和对内独立哪个更重要，排除 D 项。故选 B 项。
30. A 【解析】结合所学知识可知，材料所示 1942 年《大公报》刊发的文章有利于调动民众抗日的积极性，A 项正确。B 项表述与材料主旨不符，排除。题干材料与革命统一战线无关，排除 C 项。D 项表述与材料所述时间明显冲突，排除 D 项。故选 A 项。
31. C 【解析】根据题干信息可知，1983 年洛阳市区货币流通情况呈现新局面，货币流通结构发生了深刻变化，再结合改革开放的背景可知，这是由于多种经济成分存在，多种经营方式、多条流通渠道进入市场，国营、集体、个人之间竞争激烈，服务网点增多，营业时间延长，因而单位过夜现金和找零备用金增加，而城乡集贸市场和个体经济的发展，则引起货币流通迂回路线延长，现金归行速度延缓，C 项正确。题干没有显示融资渠道多元化，排除 A 项。题干是货币流通结构的变化，不是商品流通结构变化，排除 B 项。D 项与题干时间不符，排除。故选 C 项。
32. A 【解析】题干中的做法彰显了司法公正的原则，故 A 项正确。题干中的做法并未体现法律条文僵化，排除 B 项。当事人不一定是贵族，排除 C 项。乌尔比安生活于罗马帝国时期，D 项时间不符，排除。故选 A 项。
33. C 【解析】材料反映了英国外交事务权由君主全权负责到实际上由内阁承担、议会核准，君主的外交事务权受到一定制约，这表明君主立宪政体进一步发展，C 项正确。此时国王仍掌握行政权及部分外交权，排除 A、D 两项。英国责任内阁制形成是在 1721 年以后，排除 B 项。故选 C 项。
34. D 【解析】从材料中“劳卫制”及其训练项目的设置，以及宣传画的主旨，体现提升体能为生产、国防服务，D 项正确。增强体质有助于保家卫国，但不是卫国之本，排除 A 项。B、C 两项与材料主旨不符，排除。故选 D 项。
35. A 【解析】材料反映了当今全球化发展过程中，发

· 文综历史答案 (第 1 页, 共 3 页) ·

达国家在新殖民政策下,凭借资本、技术、国际经济体系等优势,控制、掠夺发展中国家,使其处于被动与劣势。主权与经济安全受到威胁,实质上反映了国际经济旧秩序依然存在。A项正确。B、C、D三项均与材料主旨不符,排除。故选A项。

41.【答案】(1)特点:金融机构类型多样;业务服务不断拓展;注重金融风险控制;政府重视对民间金融的监管。(6分,任答三点即可)

作用:便利了长途贩运、大宗交易;推动了工商业发展;为后世金融业发展提供了宝贵经验。(5分)

(2)背景:中国的半殖民地化程度逐渐加深;外资银行的刺激;本土金融业受到冲击;甲午战争后清政府财政负担加重;有识之士的推动;洋务运动的奠基作用;民族资本主义的发展。(每点2分,任答三点得6分)

(3)特点:国家直接领导;改造方式灵活多样;改造速度较快;具有社会主义革命性质。(每点2分,任答两点得4分)

影响:有利于国民经济的恢复和发展;有利于巩固新生政权;为其他行业的社会主义改造提供了示范;为“一五”计划的实施创造了条件。(每点2分,任答两点得4分)

【解析】(1)第一小问特点,可以从材料“创立了从事消费信用的机构当铺、对贫民放印子钱的印局、专门从事钱银兑换业务的钱庄”“主要业务是兑换,后来增加了存贷款业务”“有私人生活性贷款,也有工商业贷款”“金融机构在资本金之外,附设一部分比较灵活的资本以保证资本金在经营中的完整性,借以控制经营风险”“乾隆帝特指令各省督抚仿照京城办法,约束经纪,规范钱市”等概括出答案。

第二小问作用,可以从便利了长途贩运和大宗交易、推动了工商业发展、对后世金融业的影响等角度进行分析。

(2)根据材料时间信息“鸦片战争后”“甲午之役后”,联系所学知识,可得出中国半殖民地化程度逐渐加深;根据材料“外商先后在中国开设银行……给中国本土金融业带来了巨大的冲击”可得出外商银行的刺激,本土金融业受到冲击;根据材料“甲午之役后,浩大的军费开支尤其是巨大的赔款负担,使清政府上下意识到……必须从币制金融领域探寻变法自强大计”可得出甲午战争后清政府财政负担加重;根据材料中“不断有奏折论及设立新式银行”、洋务企业重要代表盛宣怀具体提出设立“商办银行”的主张,结合所学知识,得出有识之士的推

动,以及洋务运动的奠基作用。根据金融业和工业的关系,可得出中国民族资本主义发展对资金的需求。

(3)第一小问特点,根据材料“中国人民银行在政务院财经委员会的直接领导下”可得出国家直接领导;从材料中对于资产大于负债的行庄、对于资不抵债的行庄、对于自愿停业转业的行庄采取不同的改造措施,可得出改造方式灵活多样;从“经过半年的合并与改造”可得出改造速度较快;根据“公私合营改造”可得出具有社会主义革命性质。

第二小问影响,结合所学可知,银行业是国民经济的重要组成部分,对它的改造有利于国民经济的恢复和发展,也有利于新生政权的巩固;材料中交代了金融业是第一个完成社会主义改造的部门,因此可以对之后的社会主义改造提供示范;银行业的改造便于国家筹措资金,因此为“一五”计划的实施创造了条件。

42.【答案】示例:

论题:欧洲大学的科学性逐渐增强。(2分)

阐释:欧洲中世纪,“科学是神学的奴婢”,早期欧洲大学深受封建教会浸染,科学色彩不够突出。15世纪到19世纪中期,通过文艺复兴、宗教改革、启蒙运动等高举人文主义大旗,欧洲的思想解放运动不断深入,伴随着近代自然科学的兴起和发展,欧洲大学科学性有所增强。但是,工业革命时期科学技术与生产力尚未紧密结合,故欧洲大学对科技的影响有限。19世纪中期到20世纪初,第二次工业革命期间,科技与生产力紧密结合。欧洲大学科学性增强,为工业经济和社会发展,以及城市发展,提供科技知识和科技人才的支撑。第三次科技革命兴起后,欧洲大学科研能力增强,积极参与智力密集区的建设。21世纪以来,在经济全球化趋势加强的背景下,欧洲一体化程度加深,欧洲大学也呈现出一体化趋向,科研合作有了更好的平台。总之,欧洲大学随着时代的变迁而变化,在与城市的互动中科学性逐渐增强。(10分)

(示例仅供参考,如有其他答案,只要符合题目要求,言之有理也可)

【评分细则】

一等(12~10分):①紧扣评论对象,观点明确;②合理引用史实,进行多角度阐述;③论证充分,逻辑严密,表述清楚。

二等(9~5分):①能够结合评论对象,观点较明确;②引用史实,评论角度单一;③论证较完整,表

述清楚。

三等(4~0分):①偏离评论对象,观点不明确;
②未引用史实;③论证欠缺说服力,表述不清楚。

【解析】表格中时间段起于中世纪,终于当前阶段,时间跨度大,若整体阐释,只要紧扣论题,联系相关主要知识点,表述清楚即可。若选任意两组信息,首先要注意所选时段之间的内在联系,还要紧扣论题,结合世界史相关知识点,展开论述。除了示例外,考生还可从大学与城市的互动性、欧洲大学发展的阶段性、欧洲大学与社会转型、欧洲大学与民族国家等视角作答。

45. **【答案】**(1)特点:坚持中国共产党的领导;充分发挥人民群众的作用;扫除旧习俗观念与构建新的社会价值观相结合。(6分)

有利条件:新中国的成立和人民政府的建立;人民当家作主。(答出一点给2分,答出两点给3分)

(2)有利于巩固新生的人民政府和稳定社会秩序;有利于构建与新中国相适应的社会风尚;为国民经济的恢复和发展创造了有利条件;为以后的中国及世界各国的社会治理提供了宝贵的经验。(每点2分,任答三点得6分)

【解析】(1)第一小问特点,根据材料“党和人民政府”“党中央提出了将人民群众‘组织起来’的号召”“充分发挥群众在治理中的作用”“努力构建以牺牲、奉献、奋斗精神为内核的革命价值观占据主导地位的新社会”等概括即可。

第二小问有利条件,从新中国的成立、人民当家作主等角度概括即可。

(2)根据材料并结合所学知识,可以从有利于巩固政权和稳定社会秩序、有利于构建新的社会风尚、有利于国民经济的恢复和发展、为以后的中国及世界各国提供社会治理经验等角度分析意义。

46. **【答案】**(1)变化:一战前期,美国奉行孤立主义的外交政策,对欧洲实行中立政策;一战后期,美国放弃中立政策,对德宣战。(4分)

原因:一战后期同盟国的失败已成定局;德国“无限

制潜艇战”损害了美国的利益;俄国二月革命威胁到美国在协约国一方的利益。(5分)

(2)壮大了协约国的力量,加速了一战的结束;成为美国对外扩张、全面走向世界的战略转折点;对一战后的国际关系格局产生了重大影响。(6分)

【解析】(1)第一小问变化,根据材料“美国建国后,确定了不参与欧洲国家的世界霸权斗争,全力维护美洲事务利益的孤立主义的外交政策”“威尔逊向国会宣布了与德国断交的决定”“1917年4月6日,美国对德宣战”,可以得出一战期间美国外交政策的变化。

第二小问原因,结合一战的进程、德国“无限制潜艇战”对美国的打击、俄国二月革命的爆发等因素作答即可。

(2)根据材料并结合所学知识,从美国介入欧洲事务对交战双方的影响、对美国对外扩张的影响,以及对一战后国际关系影响等角度进行分析即可。

47. **【答案】**(1)重视物质生活条件对文化发展的决定作用;反对以古易今,具有发展的历史观;关注民生的民本思想。(每点3分,共9分)

(2)家学渊源深厚;丰富的历史知识储备;继承与创新并存;治学严谨;济世救民的情怀;唐朝由盛转衰。(6分,任答三点即可)

【解析】(1)根据材料“着重阐述了物质生活条件对于文化发展的决定作用”“上古质朴少事,固然很好,但多鄙风弊俗,不如后世文明,不可以古易今”“强调了民众生活的重要性以及改善民众生活对国家治理的意义”等,从重视物质生活条件对文化发展的决定作用、发展的历史观和民本主义色彩等角度概括即可。

(2)根据材料“出身仕宦之家”“勤奋读书,经传之外,尤其重视历史典籍的学习”“在刘秩《政典》的基础上编纂了《通典》”,从家庭的影响、个人的努力、继承与创新并存、个人情怀、时代背景等角度分析原因即可。

2023 届普通高等学校招生全国统一考试
青桐鸣大联考(高三)参考答案

文综地理

1. B 【解析】当地正午以后,朝西的光伏集成窗户才直接接受阳光照射,开始发电。 $80^{\circ}W$ 为 12 点时,北京时间是次日 1:20,故选 B 项。
2. C 【解析】六一儿童节在这四个日期中最接近夏至日,迈阿密市昼长最长,晴朗的天气下,发电时间是昼长的一半。故选 C 项。
3. C 【解析】朝南的立面接受日照时间长;朝南的立面虽然没有阳光直射,但一年中得到的太阳辐射在各个方向中最多;因现阶段集成窗户透光性差,不利于采光,故没有在朝南的立面上安装;各个朝向的集成窗户成本是相同的。故选 C 项。
4. B 【解析】根据冰壶比赛规则,己方冰壶要滑行到营垒圆心,把对方冰壶撞出圆心,所以冰壶石的质地要坚硬耐磨,致密不透水,耐低温。故选 B 项。
5. D 【解析】由材料及上题可知,要让对方的冰壶远离圆心,应有碰撞,需要材质坚硬,四个选项中花岗岩最坚硬,故选 D 项。
6. B 【解析】广深港高铁地处珠江三角洲,夏季湿热,多暴雨;雅万高铁位于爪哇岛,赤道附近,全年高温多雨,但因地转偏向力很小,难以受到台风威胁;爪哇岛地处板块交界处,地壳不稳定,多地震。故选 B 项。
7. B 【解析】爪哇岛地处环太平洋火山地震带,地质条件复杂,由图可知,万隆地处河流上游,雅万高铁沿线多丘陵、山地,地形崎岖,相对高差大,穿越河流众多,工程建设难度大,B 项正确。土地私有化、征地难度大是铁路建设的影响因素,但不属于工程建设方面的原因,A 项排除。广深港高铁、雅万高铁通过河流都比较多,建设了大量桥梁,C 项排除。雅万高铁经过地区大部分是丘陵、山地,而广深港高铁主要经过珠三角平原地区,所以土层松软、易沉降是广深港高铁建设的主要障碍之一,而不是雅万高铁工程建设难度大的主要原因,D 项排除。故选 B 项。
8. B 【解析】分段施工,对控制性重难点工程各个突破,有利于大幅度缩短工期,但并没有明显降低施工

- 难度,也没有大幅度降低建设成本。分段施工相对于集中一地施工,不利于交流协作。故选 B 项。
9. A 【解析】空饮料瓶从美国海运到中国天津后,转陆运进入中国河北,在小工厂内被熔化再造成塑料颗粒,随后运往江浙沪的注塑厂制成打火机壳子,再在当地的小打火机厂里和回收金属制作的打火机一起组装成打火机,最后装船从该地送往欧洲零售;河北经济相对江浙沪落后,可以进行粗加工,江浙沪再精加工、组装。故选 A 项。
10. A 【解析】洋垃圾对环境污染严重,且影响加工者的身体健康;因为经济效益较好,在 2017 年以前大量进口洋垃圾,同时,加工过程中能够增加就业。故选 A 项。
11. B 【解析】因为洋垃圾对环境污染严重;发达国家环保标准相对较高,不会成为洋垃圾的进口国。由材料可知,洋垃圾的外运距离长,运量大,为降低运输成本,故选择海运,对应国家应为沿海国家。洋垃圾进口的目的是应用于工业生产,应为原料需求量大的国家。故选 B 项。
36. 【答案】(1)西南季风异常强盛,带来了热带印度洋的暖湿空气,7、8 月份当地气温高,气流上升强烈,降水强度大;(2 分)西南季风北进过程中遇山地抬升形成地形雨。(2 分)
- (2)降水多且强度大;高温致使融化的冰雪融水多,融化速度快;印度河北部支流多,干支流汇水量大;印度河中下游地区面积广,地势低平,排水不畅;土质、沙质河堤易发生决口。(每点 2 分,任答 3 点得 6 分)
- (3)洪水汇集谷地,可能引发泥石流;(2 分)洪水渗入山地陡坡,可能引发滑坡;(2 分)洪水淹死野生动物、牲畜等,可能引发疫病流行。(2 分)
- (4)建立洪水预警系统;加强洪泛区土地管理;实行防洪保险;加固大堤;建分洪区和滞洪区;与上游国家水情信息共享,保护当地生态环境。(每点 2 分,任答 3 点得 6 分)

· 文综地理答案 (第 1 页,共 2 页) ·

【解析】(1)题目中给出了巴基斯坦暴雨是大气环流异常造成的,结合正常情况下,巴基斯坦降水少,大气环流异常说明西南季风异常强盛,气温高,水气充足,气流上升更强烈,因此形成强降水;同时还有西南季风造成的地形雨加持。

(2)巴基斯坦洪水淹没面积大,应从气候异常、地形、水文、河堤质地等方面分析。

(3)巴基斯坦洪水可能引发的次生灾害主要是泥石流、滑坡、疫病流行等。

(4)印度河下游地区的防洪措施,应从大坝、分洪区、预警系统、洪泛区土地管理、防洪保险、与上游国家水情信息共享、保护生态环境等方面考虑。

7. **【答案】**(1)坡度小于 6° ,中国村庄密度随坡度增加而增加;(2分)坡度在 $6^{\circ}\sim 8^{\circ}$,中国村庄密度最大;(2分)坡度在 8° 以上,中国村庄密度随坡度增加而减小。(2分)

(2)我国村庄集中在东部季风区,坡度 $0^{\circ}\sim 2^{\circ}$ 地区面积大,村庄数量最多;(2分)东部季风区,降水量大,且季节变化大,年际变化大,坡度 $6^{\circ}\sim 8^{\circ}$ 不易积水,村庄密度最大;(2分)坡度 $0^{\circ}\sim 2^{\circ}$ 地区,坡度过小,易积水,且村庄扩张过程中易连接合并,导致村庄规模大,数量减少,村庄密度略有下降。(2分)

(3)干流及一级支流河宽水深,水运、取水、养殖、旅游等河流之利难以充分惠及沿岸乡村(但利于城市);(3分)干流及一级支流河宽水深阻隔交通、水患等河流之弊对乡村影响大(对城市影响小),导致河流沿岸城市数量较多,村庄相对数量少,密度小。(3分)

(4)珠三角是我国改革开放最早的地区,城市化起步早,大量引进外资、技术、管理方法,发展工业和服务业,原有的乡村地区连片变成城市,城市扩张,乡村消失。(3分)长三角地区由于中心城市产业转移到乡村,乡村产业结构发生显著改变,加速城乡一体化发展,但乡村行政功能保留。(3分)

【解析】(1)根据图甲可知,坡度小于 6° ,中国村庄密度随坡度增加而增加;坡度在 $6^{\circ}\sim 8^{\circ}$,中国村庄密度最大;坡度在 8° 以上,中国村庄密度随坡度增加而减小。

(2)坡度 $0^{\circ}\sim 2^{\circ}$ 村庄数量最大,和面积大直接相关,村庄密度却小于坡度 $6^{\circ}\sim 8^{\circ}$ 地区,一是易积水,二

是村庄扩张过程中易连接合并。

(3)干流及一级支流500m以内,村庄密度较小,主要是河流特点和水运、取水、养殖、旅游等河流之利难以充分惠及沿岸乡村,但阻隔交通、水患等河流之弊对乡村影响大,对城市影响小。所以导致河流沿岸城市数量较多,村庄密度小。

(4)珠三角地区村庄密度小于长三角地区,主要是珠三角改革开放早,城市化起步早,原有的乡村地区因发展工业和服务业,连片变成城市,城市扩张,乡村消失;长三角地区是中心城市产业转移到乡村,乡村产业结构发生显著改变,但乡村行政功能保留。

43. **【答案】**携带手机、三角板、记录本、水笔等工具;(2分)利用地图软件,优选从学校到驼梁景区的交通线路,保证安全、高效往返;(2分)按照景区的游览线路登山,观察不同的垂直自然带并记录名称、起始海拔、最高海拔(用手机中的工具)以及阴坡、阳坡的区别;(2分)在记录本上用三角板、水笔画出示意图,并推测原因,形成研学报告的主要内容;(2分)在整个游览过程中,勤于观察,注意安全。(2分)

【解析】旅行活动的设计包括主要目的、交通线路的选择、携带的必备工具、旅行过程中要观察的主要地理事物特点,以及描述或绘出特色等,进而形成报告。同时还要在整个游览过程中,勤于观察,注意安全。

44. **【答案】**(1)水污染、大气污染、土壤污染。(每点2分,任答2点得4分)

(2)a—①、b—③、c—②、d—④。(4分)

优势:封存量、经济效益好。(2分)

【解析】(1)对渣场进行管理不能避免固体废弃物污染,能够避免水污染、大气污染、土壤污染。

(2)工业生产的污染物是废水、废渣、废气;废水、废渣中的脱硫渣浆与废气发生化学反应产生石灰石和净化烟气;石灰石作为辅料再利用。结合材料可知,我国碳封存技术每年能处理二氧化碳15 000吨,利用脱硫渣15万吨,且能够回收利用,而在国外最大的二氧化碳矿化封存项目,每年仅处理二氧化碳50吨。我国碳封存技术的突出优势是封存量、经济效益好。

文综地理答案 (第2页,共2页)·

关于我们

自主选拔在线是致力于提供新高考生涯规划、强基计划、综合评价、三位一体、学科竞赛等政策资讯的升学服务平台。总部坐落于北京，旗下拥有网站（[网址: www.zizzs.com](http://www.zizzs.com)）和微信公众平台等媒体矩阵，用户群体涵盖全国90%以上的重点中学师生及家长，在全国新高考、自主选拔领域首屈一指。

如需第一时间获取相关资讯及备考指南，请关注**自主选拔在线**官方微信号：**zizzsw**。



微信搜一搜

自主选拔在线