

座位号
高 考 利 剑
考场号
江西科学技术出版社
出版书号: ISBN 978-7-5300-8374-2
卷
试
上
进

绝密★启用前

2022—2023 学年高三二轮复习验收考试 文科综合

注意事项:

1. 答卷前,考生务必将自己的姓名、准考证号等填写在答题卡和试卷指定位置上。
2. 回答选择题时,选出每小题答案后,用铅笔把答题卡上对应题目的答案标号涂黑。如需改动,用橡皮擦干净后,再选涂其他答案标号。回答非选择题时,将答案写在答题卡上。写在本试卷上无效。
3. 考试结束后,将本试卷和答题卡一并交回。

一、选择题:本题共 35 小题,每小题 4 分,共 140 分。在每小题给出的四个选项中,只有一项是符合题目要求的。

我国初婚人数在 2013 年达到顶峰后迅速回落。近年来,伴随着我国初婚人数下降,平均初婚年龄却持续上涨,2021 年平均初婚年龄约 30 岁。1980 年以来,我国法定结婚年龄一直没变,但初婚人数变化较大。下表示意 2010—2021 年中国登记初婚人数变化。据此完成 1~3 题。

年份(年)	2010	2011	2012	2013	2014	2015	2016	2017	2018	2019	2020	2021
人数(万人)	2201	2310	2361	2386	2287	2109	1913	1746	1599	1399	1229	1158

1. 造成 2013 年我国初婚人数多的原因是,该年龄段人群出生期间
 - A. 生育政策放宽
 - B. 人口迁移规模大
 - C. 育龄妇女较多
 - D. 人口出生率较高
 2. 2013 年以来,我国初婚人数持续下降,主要原因是
 - ① 婚育观念改变
 - ② 学制年限延长
 - ③ 适婚人群减少
 - ④ 人口政策调整
 - A. ①②
 - B. ③④
 - C. ①③
 - D. ②④
 3. 我国初婚人数屡创新低带来的主要问题是
 - A. 环境承载力下降
 - B. 人口老龄化加剧
 - C. 就业压力增加
 - D. 人口性别比升高
- 动力电池是为电动汽车、电动列车等交通工具提供动力来源的电源。我国在动力电池领域拥有绝对的话语权。近年来,我国多家动力电池企业投资欧洲。据此完成 4~6 题。
4. 我国动力电池企业在欧洲建厂实现本土化生产,首先应进行
 - A. 资金筹措
 - B. 技术研发
 - C. 市场开拓
 - D. 职工培训
 5. 影响我国多家动力电池企业投资欧洲市场的主要因素是
 - A. 市场
 - B. 劳动力
 - C. 技术
 - D. 交通
 6. 我国众多电池企业“激战”欧洲市场,可以
 - A. 降低生产成本
 - B. 提升企业形象
 - C. 方便原料供应
 - D. 提高产品质量

渠江是嘉陵江左岸最大的支流,罗渡溪水文站是渠江控制站(图 a)。水文站所在河段河床呈“W”型,左岸土质,右岸岩石,河床为沙质,冲淤变化较大。图 b 为某年 8 月 14~19 日罗渡溪水文站监测到特殊的流量—水位变化。据此完成 7~9 题。



图 a

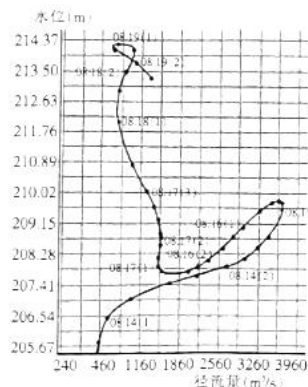


图 b

文综 第 1 页(共 8 页)


7. 罗渡溪水文站所在河段冲淤变化较大,是因为其
- A. 径流量小,含沙量季节变化小
B. 河道弯曲,水流湍急
C. 含沙量大,径流量季节变化大
D. 左岸陡坎发育,河床稳定
8. 8月15~18日期间,罗渡溪水文站所处河段含沙量最低的时段是
- A. 15日
B. 16日
C. 17日
D. 18日
9. 8月17~18日罗渡溪水文站所处河段水位上涨的原因,最可能是
- A. 渠江全流域普降暴雨
B. 培江、嘉陵江暴雨量大
C. 该河段河床淤积严重
D. 水文站闸门关闭蓄水

我国某校地理学习小组利用日影探究二至日日出时刻与昼长的关系。下图为小组成员绘制的测量过程图(图中时间为北京时间)。图中旗杆和两棵树刚好构成等腰三角形,旗杆位于三角形的顶角。据此完成10~11题。

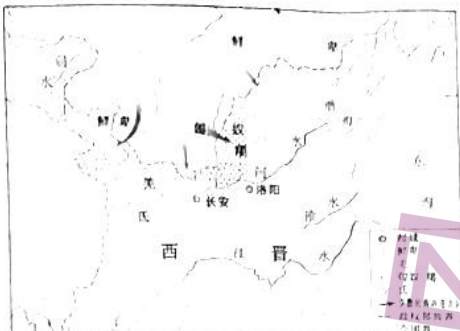


10. 该地夏至日的昼长大约是
- A. 8小时46分
B. 11小时06分
C. 14小时40分
D. 15小时14分
11. 推测该学校所在的地形区是
- A. 准噶尔盆地
B. 东北平原
C. 黄土高原
D. 华北平原
12. 2023年3月3日,国务院国资委召开会议,对国有企业对标世界一流企业价值创造行动进行动员部署,要求国资国企突出服务大局,进一步强化战略支撑作用。贯彻会议精神
- ①就是要推动国有企业“走出去”实现发展
②要求国有资本和国有企业加快经济结构调整
③有利于国有资本和国有企业做强做优做大
④有利于国有企业增加产品价值量,提高竞争力
- A. ①②
B. ①④
C. ②③
D. ③④
13. 2023年2月21日,中国人民银行在香港成功发行250亿元人民币央行票据(中央银行债券),美、欧、亚洲的多个国家和地区的银行、央行、基金、保险公司等机构投资者以及国际金融组织踊跃参与认购,投标总量超过700亿元。对材料理解正确的是
- ①我国增加货币供应量,增强市场活力
②国际投资者对我国经济发展有较强信心
③债务收入是国家财政收入的形式之一
④人民币资产对外资投资者有较强吸引力
- A. ①②
B. ①③
C. ②④
D. ③④
14. 2023年3月17日,广东省政府发布《广东省进一步加大力度支持民间投资发展的实施方案》,提出支持制造业民间投资转型升级,鼓励民间投资更多依靠创新驱动发展,鼓励民间资本持续加大研发投入。这些措施的积极作用传导正确的是
- ①依靠创新驱动→推动科技成果转化→转变发展方式→提高综合竞争力
②加强投资干预→优化营商环境→降低投资风险性→激发民间投资热情
③持续加大研发投入→优化产业结构→增强发展新动能→提高发展韧性
④培育新业态新模式→增强就业包容性→扩大就业→增加低收入者收入
- A. ①③
B. ①④
C. ②③
D. ②④
15. 国务院总理李强在湖南主持召开先进制造业发展座谈会时强调,要坚持把发展经济的着力点放在实体经济上,大力发展先进制造业,推进高端制造。这表明
- ①加强市场监管,是维护市场秩序的重要举措
②实现高质量发展要加强宏观调控,厚植发展优势
③要走新型工业化和信息化相结合的发展之路
④要坚持新发展理念,筑牢现代化经济体系的基础
- A. ①②
B. ③④
C. ①③
D. ②④
16. 某村外出务工人员多,通过举行线上村民代表大会、民主表决会,首次借助创新科技在线通过关于村委会工作的各项表决,利用互联网、人工智能、云计算及大数据管理,为村务管理、村民办事加速提效。减少跑腿次数和非必要接触。该村的做法
- ①创新了村民参与民主管理的工作思路
②扩大了村民参与本村公共事务管理的范围
③丰富了村民参与基层民主实践的形式
④创新了村民参与基层自治管理的组织形式
- A. ①②
B. ①③
C. ②④
D. ③④

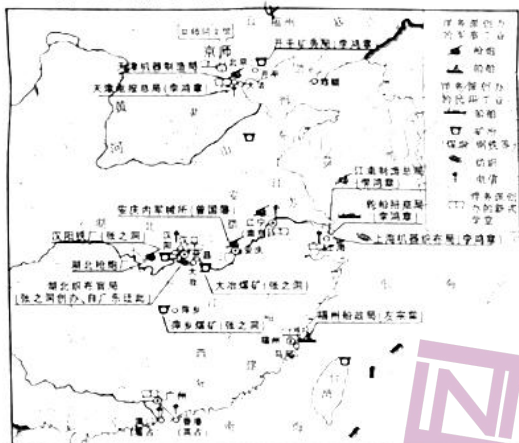
文综 第2页(共8页)

17. 2023年3月22日,由青岛市人大常委会人事代表工作室、半岛都市报主办的2023年度“人大代表履职在线”全新改版后正式启动,及时接收市民的意见建议。对青岛市做法的解读,正确的是
①为代表搭建履职平台,密切与群众的常态化联系 ②践行全过程人民民主,充分保障群众的知情权
③发挥人大代表作用,沟通权力机关与群众的联系 ④人大代表与群众形成合力,发挥舆论监督作用
A. ①③ B. ①④ C. ②③ D. ②④
18. 在美西方制裁伊朗的大背景下,国家主席习近平邀请伊朗总统莱希对我国进行了国事访问。习近平主席会见莱希总统时强调,中方愿同伊方继续开展共建“一带一路”合作,促进互联互通,扩大人文交流。会谈后,两国元首共同见证了签署农业、贸易、旅游、环保、卫生、救灾、文化、体育等领域多项双边合作文件。这表明我国
①推动大国关系深刻调整,促进世界格局向多极化发展
②秉持独立自主的基本立场,发展与伊朗的友好关系
③致力于实现两国共同利益,加强双边友好和务实合作
④尊重伊朗作为主权国家的权利,维护国际公平正义
A. ①② B. ③④ C. ①④ D. ②③
19. 摩崖石刻是中国古代的一种石刻艺术,指在山崖石壁上所刻的书法、造像或者岩画。泰山摩崖石刻数量众多,可以称得上是一座“书法山”,是一部活生生的“历史字典”,从中可以看到我国的整个书法发展过程,极为珍贵。由此可见,摩崖石刻
①彰显了中华文化源远流长,博大精深 ②体现了中华民族整体风貌和精神世界
③是承载、表达和展现文化的物质载体 ④深刻地影响着当代中国人的精神世界
A. ①② B. ①③ C. ②④ D. ③④
20. 2023年2月12日,由文化和旅游部、农业农村部等共同主办的“大地欢歌”全国乡村文化活动现场拉开帷幕,“四季村晚”“农业文化遗产里的中国”文化展示、全国广场舞展演等12项主体活动在全国铺开,第九届中国农民歌会等80项示范性系列活动也火热开展。上述做法旨在
①证明文化市场越繁荣,积极作用越突出 ②奏响文化主旋律,引导乡村文化健康发展
③守护乡村文化根脉,提高乡村文明水平 ④凝魂聚气,大力培育社会主义核心价值观
A. ①③ B. ①④ C. ②③ D. ②④
21. 中国农业科学院作物科学研究所玉米优异种质资源发掘与创新利用团队,联合国内高校及科研机构共同研究,揭示了玉米父、母本杂种优势群趋同与趋异选择的遗传规律,解析了玉米基因组分化特征及其对杂种优势的贡献,为新时期玉米自交系创制和杂种优势利用提供理论指导。这体现出
①人能够把握深藏于事物内部的本质和规律 ②正确的意识对改造客观世界具有促进作用
③意识活动的自觉选择性受客观规律的制约 ④意识是人脑对客观对象作出的能动性反映
A. ①② B. ③④ C. ①③ D. ②④
22. 漫画《生命之梯》以人们一双双手紧紧握在一起,形成向上攀爬的梯子,寓意在遭受地震灾难时人们团结一心救助受难者,为受难者搭起“生命之梯”。据此下列说法正确的是
①量变是质变的必要准备,实现质变要重视量的积累
②部分以优化的结构形成整体时,更能发挥整体的作用
③拓展个人的发展空间,必须全面提高个人综合素质
④人的价值在于奉献,要在奉献社会中彰显人生的价值
A. ①③ B. ①④ C. ②③ D. ②④
- 
23. 当前,我国改革发展面临新形势新任务,需要应对的风险和挑战、需要解决的矛盾和问题比以往更加错综复杂,必须拿出更大勇气,更多举措破除深层次体制机制障碍。为此,党中央作出决策,推进党和国家机构改革,十四届全国人大一次会议通过了关于国务院机构改革方案的决定。这体现出
①社会存在的变化决定社会意识的变化 ②价值判断与价值选择受价值观的影响
③生产力与生产关系存在相互作用关系 ④上层建筑一定要适合经济基础的状况
A. ①② B. ②③ C. ①④ D. ③④
24. 儒家学派主张“君子博学于文,约之以礼,亦可以弗畔(通‘叛’)矣夫”;道家学派认为“礼者,道之华而乱之首也”。对礼的不同认识表明两派
A. 所处阶级立场不同 B. 学术观点迥异
C. 目的上具有相通性 D. 思想主张趋同

25. 下图为魏晋时期北方民族内迁的情况。据此可推知



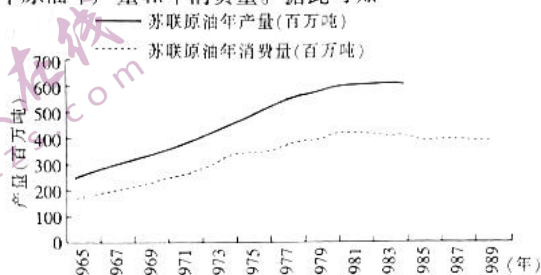
- A. 民族关系在碰撞中交融
 - B. 作物品种在交流中丰富
 - C. 社会经济在改革中发展
 - D. 国家疆域在开放中扩大
26. 宋代以前的朝廷对于商品按照质量高低定价并对此严加控制。到了宋代,政府改为:除官府专卖的商品及灾荒年期的粮食限价之外,官府对一般商品的价格不予干预,卖家可根据交易行情自由定价。这一变化反映了宋代
- A. 商人的政治地位有所提高
 - B. 相对宽松的市场机制建立
 - C. 国家开始放松对商业控制
 - D. 官营手工业仍有一定特权
27. 元代学者虞集指出:“中书省以治内,行省以治外。”行省除了有地方行政权外,还兼有军政与财政大权,即行省可统辖地方军队,地方财税亦可自留三成于本行省。由此可见,元代行省制
- A. 造成了元末社会动荡不安
 - B. 协调了中央与地方的关系
 - C. 加强了对全国各地管辖
 - D. 体现了中央高度集权特点
28. 下图为洋务派创办的工业和新式学堂。据此可推知



- A. 资本主义兴起发展
 - B. 地方势力主导国政
 - C. 经济结构发生剧变
 - D. 近代意识得到增强
29. 1939 年到 1940 年初,毛泽东在《新民主主义论》等著作中,从总结论述统一战线、武装斗争、党的建设“三大法宝”,到首次明确提出“在无产阶级领导之下的人民大众的反帝反封建的革命”,再到系统阐述新民主主义的政治、经济和文化。由此可知
- A. 统一战线的理论不断完善
 - B. 武装斗争面临形势的严峻
 - C. 毛泽东思想逐步走向成熟
 - D. 中国共产党抗战方针确定
30. 如图为 1952 年天津京剧团的演员在后台利用演出间隙读书或学写生字,这一现象在各界群众中普遍存在。据此可知
- A. 三大改造对演员提出更高要求
 - B. 国民教育体系健全惠及社会
 - C. 新中国建设激发群众自觉意识
 - D. “双百”方针促进文艺事业进步



31. 近年来,中国同有关国家共同发起成立“上海合作组织”,建立“中国东盟执法安全合作部长级对话”机制,创建“湄公河流域执法安全合作”机制,积极支持亚洲相互协作与信任措施会议,推动建立“金砖国家峰会”。这表明
- A. 我国重视对国际新秩序的构建
B. 亚洲地区是我国外交工作重心
C. 结伴而不结盟的政策深入人心
D. 人民币的国际化进程迅速加快
32. 根据罗马法,如果某人在遗嘱里把财产留给教会,他就同时合法地取消了其他所有法定继承人对这份财产的权利。这一规定旨在
- A. 加强对私人财产的保护
B. 借助教会的影响巩固政权
C. 扩大宗教对社会的控制
D. 实现政教合一政权的建立
33. 浪漫主义文学是对僵化的古典主义文学的反叛,它和随后出现的现实主义共同构成西方近代文学的两大体系,造就了19世纪西方文学盛极一时的繁荣局面。促进这一繁荣局面出现的主要原因是
- A. 封建制度的崩溃
B. 国际格局的剧变
C. 工厂制度的建立
D. 经济体系的重构
34. 下图为苏联1965—1989年原油年产量和年消费量。据此可知



- A. 苏联经济发展趋缓
B. 世界经济危机逐步加深
C. 国际油价起伏动荡
D. 计划经济弊端开始显露
35. 近年来,科学知识的广泛传播与普及、全球科技人才的自由有序流动、技术成果有规则的转移扩散以及全球市场的开放准入,都是推动经济全球化的重要力量,能够有效提升全球资源配置的效益与效率。这表明
- A. 经济全球化的积极作用居主导地位
B. 逆全球化的思维和意识在逐步减弱
C. 科技是推动经济全球化的根本因素
D. 推动经济全球化的因素趋于多元化

二、非选择题:本卷包括必考题和选考题两部分。第36~42题为必考题,每个试题考生都必须作答。第43~47题为选考题,考生根据要求作答。

(一)必考题:共135分。

36. 阅读图文材料,完成下列要求。(24分)

新疆罗布泊位于塔里木盆地东部的盆地最低处,海拔约780 m,塔里木河、孔雀河、车尔臣河、疏勒河等汇集于此。近年来,受全球气候变化和塔里木生态治理等因素的影响,罗布泊水位不断升高。当地居民利用“人放天养”的方式养殖黄油蟹(原产于珠江流域咸淡水交界的海域)获得成功;每年农历6、7月刚经过三次脱壳(幼蟹到成蟹至少要脱5次壳)的“六月黄”成为餐桌“新宠”(螃蟹的传统旺季在中秋节前后)。每当蟹子收获季节,当地电商以沙漠、湖泊为背景进行网红直播带货,罗布泊的“六月黄”被端上了北京、上海等大城市居民的餐桌。




- (1) 推测近年来罗布泊水位不断升高的主要原因。(6分)
- (2) 分析罗布泊适合养殖黄油蟹的水文条件。(6分)
- (3) 分析罗布泊的“六月黄”成为餐桌新宠的原因。(6分)
- (4) 说明当地采用直播带货的方式销售螃蟹的主要目的。(6分)

文综 第5页(共8页)

37. 阅读图文材料,完成下列要求。(22分)


2022年9月18~20日,超强台风“南玛都”横扫日本,给日本造成重大损失。研究表明:台风的形成与发育需较高的水温和充足的水汽,台风的强度与西北太平洋海域水温呈正相关;“南玛都”的形成、发育与8、9月份西北太平洋的气候异常有关。该台风在向北移动过程中受到西伯利亚南下强冷空气和中纬西风共同影响。图左示意“南玛都”的移动路径,图右示意19日某时刻台风位置及周边天气形势。



- (1)描述甲地的阴晴状况。(2分)
- (2)指出8、9月份西北太平洋气候异常的表现,并分析其在“南玛都”形成中的主要作用。(8分)
- (3)说出“南玛都”在19日5时出现接近90°转向的气象条件。(6分)
- (4)从日本自身角度分析“南玛都”给日本造成重大损失的主要自然原因。(6分)

38. 阅读材料,完成下列要求。(14分)

材料一 近年来全球经济下行,但我国数字经济表现出足够的韧性。2022年,我国产业数字化的经济规模占全国数字经济比重的81.7%,占GDP的32.5%。下图为2017—2023年我国数字经济总体规模变化趋势图(2023年数据为预测)。



材料二 国家“十四五”规划提出推动数据要素产业化、商业化、市场化,应用数字技术赋能传统产业,推进数字产业化和产业数字化。当前,数字技术已深度融入工业制造业、服务业等行业,促进转型、赋能发展,涌现了智能制造、共享经济、物联网、移动支付等新应用新范式,成为经济再次跃升的巨大助力和关键支撑。除了制造业,数字技术在农业领域的应用也不断丰富,涉及研、产、供、销全链条,促进乡村一二三产业融合发展,提升农产品附加值,普惠农民持续增收。

- (1)结合材料一,说明我国数字经济发展的现状。(4分)
- (2)结合材料二和经济生活知识,分析我国数字经济发展对经济转型升级的影响。(10分)

39. 阅读材料,完成下列要求。(12分)

根据党的二十大报告关于深化人才发展体制机制改革的要求,江西省贯彻省委人才工作会议精神,吹响了“让人才成就江西,让江西成就人才”的嘹亮号角。

大力“筑巢引凤”,中科院赣江创新研究院、赣江中药创新中心、中科院庐山植物园等一批“国字号”创新平台落地江西。聚焦“引得进、留得住”,修订完善《江西省高层次人才引进实施办法》,在编制管理、职称评审、税收奖补等方面拿出一系列硬举措硬办法。开展人才引进招聘活动,2023年3月9日,省委人才办、省人社厅主办的“才聚江西 智荟赣鄱”江西省2023年上半年引进高层次和急需紧缺人才系列专场招聘活动正式启动,拉开人才引进序幕。

结合材料并运用政治生活知识,说明江西省是如何发挥我国政治优势推进实施人才强省战略的(12分)

40. 阅读材料,完成下列要求。(26分)

《玛纳斯》是我国少数民族三大英雄史诗之一,堪称“柯尔克孜族的百科全书”,2006年列入第一批国家级非物质文化遗产名录,经过我国努力,2009年入选联合国教科文组织“人类非物质文化遗产代表作名录”。2022年习近平总书记在新疆考察时强调保护传承好《玛纳斯》,把各民族优秀传统文化发扬光大。

千百年来,传奇英雄玛纳斯及其子孙七代带领柯尔克孜族群众追求幸福生活的故事,在帕米尔高原上经久流传。柯尔克孜族群众以玛纳斯的故事为题材,在古代传说、歌谣、谚语等民间文学的基础上,创作出震撼人心的伟大英雄史诗《玛纳斯》。

传统的《玛纳斯》口耳相传。随着时代发展,《玛纳斯》表演形式不断变化,1984年《玛纳斯》第一次从草原搬上舞台。此后,《玛纳斯》以二重唱、合唱、弹唱、对唱、表演唱、歌剧、舞剧等不同形式与观众见面。2022年4月6日,历时10余年努力,8部18卷23万余行、2000余万字的《玛纳斯》汉文全译本首次发行。

- (1)结合材料和文化生活知识,说明我国为世界文化多样性作出的贡献。(10分)
- (2)坚持辩证的否定才能更好地传承民族优秀传统文化。结合材料对此加以分析。(12分)
- (3)传承民族优秀传统文化人人有责。如果让学生为传播《玛纳斯》作出努力,请你提出两点好的建议。(4分)

41. 阅读材料,完成下列要求。(25分)

材料一 明代的屯田做得相当突出,到正德五年(1510年)时,云南屯田的产量在全部供应当地的军队开支之后,还有较多的富余。正因有了这样一个很好的民生基础,明代才开始采取“改土归流”的政策,把奴隶制下的少数民族从土司王的野蛮盘剥中解放出来,开了清代雍正年间全面“改土归流”之先河。明、清两代,云南地区的物产在官员的大力推动下,得以大量行销内地和国外,为当地人赚取了他们的第一桶金。鄂尔泰在云南设立茶马局,使普洱茶享誉中外,并走进更多的百姓家中。

——摘编自方铁等《中国西南边疆开发史》

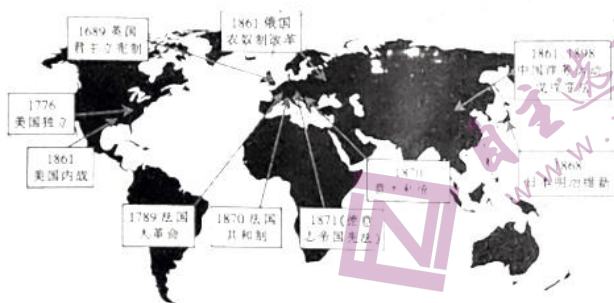
材料二 全面抗战爆发后,各类机构、军队、难民大量涌入云南,粮食和物资需求激增,南京国民政府加强对云南边疆的开发与建设,出台各种政策与法规、编制方案、组建机构、设立禁区等,为边疆社会的综合发展提供了强动力。与此同时,云南的金融财政一直相对独立,与中央政府关联性较小。但在抗战期间,在中央政府与地方实力派之间的利益博弈与均衡过程中,边疆经济逐步融入国家体系中,通过种种战时举措,国民政府在云南采取了涸泽而渔的政策,几乎动摇了云南刚刚建立起来的经济建设基础。

——摘编自周玲《云南地方史》

- (1)根据材料一并结合所学知识,分析明清政府在云南地区实施“改土归流”的条件及实质。(10分)
- (2)根据材料二,概括云南抗战时期经济建设基础“几乎动摇”的因素。(6分)
- (3)根据材料一、二,指出明清时期与全面抗战时期云南开发的共同之处。(9分)

42. 阅读材料,完成下列要求。(12分)

材料



——根据刘宗绪《世界近代史》绘制

根据材料,任意选取图中世界近代史的两个重要事件,分析说明两者之间的联系。(要求:史论结合,逻辑严密,言简意赅)

(二) 选考题:共25分。请考生从2道地理题、3道历史题中每科任选一题作答。如果多做,则每科按所做的第一题计分。

43. 【地理——选修3:旅游地理】阅读图文材料,完成下列要求。(10分)

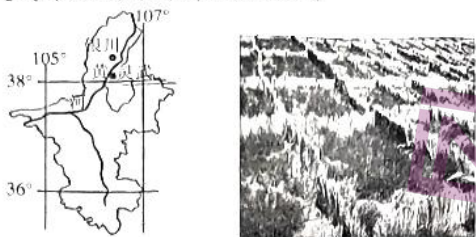
内蒙古巴彦淖尔位于河套平原北部,属于典型的中温带大陆性气候,是我国重要的葵花籽产地。每年十月,正值葵花成熟,当地农民把收割下来的葵花盘,砍掉上部带叶子的秆,然后把葵花盘又重新插在葵花的秆上(如图),原本低垂着“脑袋”的葵花,一下子个个籽面朝上,仰面傲骄起来。这种独特的“插盘晾晒”景观吸引众多游客前来欣赏。酷爱旅游的某学校地理兴趣小组被巴彦淖尔“插盘晾晒”景观吸引,决定利用国庆长假去一探究竟。



分析巴彦淖尔葵花“插盘晾晒”旅游景观的形成与自然环境的关系,并围绕“插盘晾晒旅游资源开发的意义”设计两个研学活动。

44.【地理——选修6:环境保护】阅读图文材料,完成下列要求。(10分)

宁夏灵武地处毛乌素沙漠边缘,气候干旱,大风天数多,风沙危害严重。为治理风沙,当地曾采用“将沙生灌丛枝条压实在沙地上”的方式固沙,但效果并不明显;后采用“1+4”的模式(“1”是草方格固定流沙,“4”是以雨季播撒草籽、穴播灌木种子、营养袋苗造林、春秋植苗造林四项技术互为补充)治沙获得成功。下图分别示意宁夏灵武的地理位置和草方格景观。



分析“将沙生灌丛枝条压实在沙地上”的方式固沙效果不明显的主要原因,并说明采用“1+4”模式植树种草的合理性。

45.【历史——选修1:历史上重大改革回眸】阅读材料,完成下列要求。(15分)

材料 宋太宗赵光义曾对宰相薛居正说:“朕欲博求俊彦于科场之中,非敢望拔十得五,止得一二,亦可为政治之具矣。”在其即位的次年(977年)举行的第一次科举中,录取进士109人、诸科207人。宋太宗在位期间共开科八次,录取进士总数1487人,平均每榜进士达186人,是唐朝、五代时期和宋太祖时每榜进士的十多倍。他还要求在科考中,禁止考生称考官为“师门”或自称“门生”,以防考官考生结成政治集团,互相标榜。992年,宋太宗下诏:“如工商杂类人等有奇才异行、卓然不群者,亦许解送(选送参加科举考试)。”他还采取“封弥”制,此后,开始在殿试中使用“糊名法”,按试卷优劣来分等级,并将“糊名”形成制度。其后的宋真宗在此基础上,又进行了完善并最终形成定例。宋太宗及后继统治者的这些举措,后来被明清两代所沿袭。

——摘编自《宋书·百官志》

- (1)根据材料并结合所学知识,概括宋太宗科举改革的主要内容。(8分)
- (2)根据材料并结合所学知识,概括宋太宗科举改革的影响。(7分)

46.【历史——选修3:20世纪的战争与和平】阅读材料,完成下列要求。(15分)

材料 在第一次世界大战中,奥斯曼帝国瓦解。根据1918年10月的《停战协定》和1920年8月的《色佛尔和约》,帝国主义国家不仅要求瓜分奥斯曼帝国的所有属国,而且还要瓜分土耳其本身,控制土耳其的财政经济和关税,享有领事裁判权。1919年7月,土耳其资产阶级革命派凯末尔领导的革命战争开始。1920年,英军占领伊斯坦布尔,唆使苏丹解散议会,大批逮捕和流放议员,并发兵安那托利亚。凯末尔党人于4月在安卡拉召开大国民议会,成立国民政府,凯末尔任临时总统兼国民军总司令。1921年1月在伊涅纽村战役中,国民军击溃希腊侵略军,取得民族独立战争的第一次大胜仗。安卡拉国民政府奉行同苏俄友好的政策,于3月签订《土苏友好条约》,得到苏俄政治上、道义上、经济上的支援。1922年8月,国民军发起总反攻,于10月11日迫使希腊订立《停战协定》。1923年7月,协约国与土耳其在洛桑重订《洛桑和约》,土耳其收回被割让的领土,取消了赔款,废除了外国的财政监督和领事裁判权。

——摘编自刘德斌《国际关系史》

- (1)根据材料并结合所学知识,概括凯末尔领导的土耳其民族革命战争的特点。(8分)
- (2)根据材料并结合所学知识,简析凯末尔领导的土耳其民族革命战争对国际形势的影响。(7分)

47.【历史——选修4:中外历史人物评说】阅读材料,完成下列要求。(15分)

材料 1918年1月下旬,蔡元培校长收到了北大学生陈宝书等人的来信,希望对勤奋好学的斋役何以庄“量才拔调”。蔡元培校长在《北京大学日刊》的公开回信中强调,“为贫而役,本非可耻”,主张学校职员与校役地位平等。同年3月18日起,蔡元培校长连续六天刊登《校长告白》,对校役夜班的开设和教学安排提出设想,并号召北大学生担任教员,“各以所长,分任教科”。

1918年4月14日,北大校役夜班正式开学,首开中国近代高校平民教育之先河。当日,“本校全体校役二百三十余人,齐集于文科第一教室,为举行校役夜班开学礼也……是日会场极整齐严肃,校役面有笑容,似深幸得有求学问上之机会也。”蔡元培校长在会上发表演说指出:“在常人之意以为学校为学生而设,与校役何涉,不知一种社会无论小之若家庭若商店,大之若国家,必须此一社会之各人,皆与社会有休戚相关之情状,且深知此社会之性质,而各尽其责,故无人不当学,而亦无时不当学也。”

——摘编自郭齐家《中国教育思想史》

- (1)根据材料并结合所学知识,简析蔡元培推行“校役夜班”教育的原因。(9分)
- (2)根据材料并结合所学知识,概述蔡元培推行“校役夜班”教育的作用。(6分)

高 考 利 剑
密 封 线 内 不 准 答 题

2022—2023 学年高三二轮复习验收考试
地理参考答案

1.【答案】C

【解析】2013年初婚人群出生时段大致在1991年前后,该时段我国生育政策变化不大;人口迁移规模与初婚人口数量相关性不大;受计划生育政策的影响,1991年前后我国人口出生率较低。

2.【答案】C

【解析】近年来,我国提倡优生优育,一对夫妻可以生育三个子女,但对初婚人数的影响不大;我国学制年限变化不大;受多种因素的影响,我国婚育观念发生较大改变,越来越多的年轻人晚婚晚育;受长期计划生育政策的影响,2013年后我国适婚人群逐渐减少,初婚人数随之越来越少。

3.【答案】B

【解析】初婚人数屡创新低,直接导致人口出生率下降,进而加剧人口老龄化;人口性别比主要受生育观念影响;环境承载力受科技、经济、开放程度、资源及消费等因素影响,初婚人数持续下降的结果是人口增长缓慢(甚至负增长),不会导致环境承载力下降;受初婚人口下降的影响,我国出生人口减少,就业压力有所降低。

4.【答案】D

【解析】根据“建厂实现本土化生产”,说明资金筹措已经完成;“我国在动力电池领域拥有绝对话语权”,说明技术研发不是首要任务;文化存在差异,首先要对职工进行培训,方便企业管理和生产。

5.【答案】A

【解析】企业发展的首要目的是获取市场从而创造更大的利润;欧洲经济发达,市场开放,对我国电池企业吸引力大。

6.【答案】D

【解析】众多电池企业进入欧洲,不仅可以及时获取市场信息和形成规模效应,还能形成良性竞争,提高产品质量。

7.【答案】C

【解析】“冲”说明流水以侵蚀作用为主,“淤”说明流水以堆积作用为主,反映该河段具有“含沙量大,径流量季节变化大”的特点;左岸为土质,容易受流水侵蚀成缓坡台地;右岸为岩石,受流水侵蚀和崩塌作用,形成陡坡。

8.【答案】D

【解析】四个时段中,15日径流量与水位同步升高,流速加快,侵蚀、搬运作用增强,含沙量增大;16日径流量与水位同步下降,侵蚀、搬运作用减弱,沉积作用增强,含沙量下降;17~18日,径流量变化不大,但水位持续提高,说明流速减缓,泥沙持续沉积,故18日含沙量最低。

9.【答案】B

【解析】17~18日该河段径流量变化不大,但水位持续升高。渠江上游支流多,全流域普降暴雨,来水多,罗渡溪水文站径流量大,A项错误;培江、嘉陵江暴雨量大,培江、嘉陵江水量大,两江水汇合水位高,(汇水处处于渠江下游)顶托作用明显,使得渠江河水下泄受阻而水位升高,B项正确;河段淤积一定程度上能抬高水位,但幅度相对较小,C项错误;涨水之后以开闸泄洪为主,D项错误。

10.【答案】D

【解析】设夏至日该地的昼长为X,冬至日该地的昼长为Y,则 $X+Y=24$; $X-Y=(9:41-6:27)\times 2$;通过计算可知,该地夏至日的昼长约15小时14分。

11.【答案】A

【解析】夏至日该地昼长约15时14分,可计算出当地日出地方时约4:53,此时北京时间为6:27,可计算出当地的经度约87°E,据此可判断该地位于淮噶尔盆地。

地理 第1页(共2页)

- 36.【答案】(1)全球气候变暖,冰川融化规模扩大,补给水量增加;(2分)流域内降水增多;(2分)流域内生态治理,植被恢复,地下水位上升。(2分)
(2)地处盆地最低处,利于可溶性盐类的富集;(2分)流域内气候干旱,湖水盐度较高;(2分)气候的大陆性强,春季湖水升温快;(2分)近年来,大量淡水汇入,水体盐度适宜,营养物质丰富。(2分)
(3)螃蟹为幼蟹,壳薄、肉嫩口感好(或产品优质);(2分)避开传统旺季,市场需求量大;(2分)水质优良,产品绿色环保。(2分)
(4)借助网红效应,提高产品知名度;(2分)借助电商销售网络,节约营销成本;(2分)优化购物体验,扩大销售市场。(2分)
- 37.【答案】(1)阴晴状况;(天气)晴朗。(2分)
(2)表现:以晴天为主。(2分)持续异常高温。(2分)
作用:持续高温利于气旋的形成和增强,为其发育成超强台风提供动力;(2分)高温的洋面水汽蒸发量大,为其发育成超强台风提供充足的水汽。(2分)
(3)西太平洋副热带高压系统南移东退;(2分)来自西伯利亚的冷空气快速南下;(2分)中纬西风实力增强。(2分)
(4)日本各岛面积较小,对台风削弱作用小;(2分)海岸线曲折,狂风诱发的风暴潮强;(2分)山地面积大,暴雨诱发的山洪、滑坡、泥石流频发。(2分)
- 43.【答案】关系:当地纬度较高,葵花收获期光热相对不足;(2分)葵花籽含水量高,需要及时晾晒;(2分)插盘晾晒利于通风和利用光照,缩短晾晒时间。(2分)
研学内容:调查葵花“插盘晾晒”资源开发前后当地产业结构、就业结构的变化;(2分)探究以葵花产业为主题的旅游资源开发方式。(2分)(其他答案合理亦可得分)
- 44.【答案】原因:气候干旱,沙生灌丛生长缓慢,枝条数量有限;(2分)大风天数多,枝条压在沙地上,挡风拦水效果差。(2分)
合理性:用麦草制作草方格,就地取材成本低;(2分)草方格增加地表粗糙度,可降低冬春季的风速,增加雨季水分下渗;(2分)四项技术互为补充,提高了林草的成活率。(2分)

2022—2023 学年高三二轮复习验收考试
政治参考答案

12.【答案】C

【解析】对标世界一流企业,不等于国有企业一定“走出去”,①排除。国有企业对标世界一流企业,自身就要做出改变,经济结构需要调整,②正确。国有企业对标世界一流企业,会推动国有资本和国有企业的发展,做强做优做大,③正确。商品价值量是由社会必要劳动时间决定的,国有企业的价值创造行动,并不是要增加产品价值量,而是强调提高企业竞争力,④排除。

13.【答案】C

【解析】央行发行票据,实际是回收流动性,不是增加货币供应量,①不符合题意。国际投资者投标总量远远超过央行发行的票据量,表明国际投资者抢购央行票据,体现了国际投资者对我国经济发展有较强信心,人民币资产对境外投资者有较强吸引力,②④正确。题干反映的是央行债券,不是财政债券,③不符合题意。

14.【答案】A

【解析】民间投资依靠创新驱动,有利于推动科技成果转化,转变发展方式,提高综合竞争力,①正确。题干反映广东支持民间投资发展,而不是进行投资干预,并且加强投资干预并不能一定降低投资风险,②排除。鼓励民间资本持续加大研发投入,有利于优化产业结构,能够增强发展新动能,从而提高发展韧性,③正确。新业态新模式对就业者有新要求,不一定体现就业的包容性,广东的做法也不是为了提高低收入者的收入,④排除。

15.【答案】D

【解析】题干反映国家加强宏观调控,促进先进制造业发展,推进高质量发展,不反映对市场的监管,不涉及维护市场秩序,①不符合题意,②正确。题干只强调大力发展先进制造业,没有具体反映新型工业化和信息化相结合,③不符合题意。把发展经济的着力点放在实体经济上,体现了我国坚持新发展理念,大力发展实体经济,筑牢现代化经济体系的坚实基础,④正确。

16.【答案】B

【解析】该村借助创新科技,使村民在线通过关于村委会工作的各项表决,表明该村创新了村民参与民主管理的工作思路,①正确。题干不反映村公共事务管理范围的变化,②不符合题意。线上民主管理,丰富了村民参与基层民主实践的形式,③正确。题干不涉及基层自治管理组织形式的变化,④不符合题意。

17.【答案】A

【解析】启动“人大代表履职在线”,及时接收市民的意见建议,表明青岛市为代表搭建履职平台,密切与群众的常态化联系,①正确。题干反映让群众表达意见,而不是让群众知晓相关事务,不反映保障群众的知情权,②不符合题意。开通“人大代表履职在线”,充分发挥了人大代表联系群众的作用,沟通了权力机关与群众的联系,③正确。题干不反映舆论监督,④不符合题意。

18.【答案】D

【解析】大国关系的深刻调整,是错综复杂利益关系分化组合的客观结果,不是我国推动的,①排除。我国不受其他国家对于伊朗制裁的干扰,发展与伊朗的友好关系,表明我国秉持独立自主的基本立场,②正确。我国愿同伊方继续开展共建“一带一路”合作,签署不同领域的多项双边合作文件,表明我国致力于实现两国共同利益,加强双边友好和务实合作,③正确。题干不涉及尊重伊朗的权利,不反映我国维护国际公平正义,④排除。

19.【答案】B

【解析】摩崖石刻是一部活生生的“历史字典”,从中可以看到我国的整个书法发展过程,可见摩崖石刻彰显了中华文化源远流长、博大精深,是承载、表达和展现文化的物质载体,①③正确。民族精神集中体现中华民族的整体风貌和精神世界,②不符合题意。题干不涉及当代中国人的精神世界,④不符合题意。

20.【答案】C

【解析】文化市场的积极作用,与其繁荣程度没有必然联系,①错误。我国政府主办全国乡村文化活动现场,目的

在于引导乡村文化健康发展,奏响文化主旋律,延续乡村文化,从而守护乡村文化根脉,提高乡村的文明水平,②③正确。题干不强调精神层面的作用,①排除。

21.【答案】A

【解析】科研团队经过研究揭示了玉米的遗传规律,为新时期相关技术的利用提供了理论指导,体现出人能够把握深藏于事物内部的本质和规律,正确的意识对改造客观世界具有促进作用,①②正确。题干不反映客观规律对人们意识活动的制约,③不符合题意。题干没有具体反映人脑与客观对象的关系,④不符合题意。

22.【答案】D

【解析】漫画是反映人们团结一心救助受难者,并不是强调通过量变的准备实现质变,①不符合题意。漫画形象地反映人们团结一致,为受难者搭起“生命之梯”,体现了部分以优化的结构形成整体时,更能发挥整体的作用,②正确。漫画强调人们要团结互助,落脚点并不是个人如何实现自身发展,③不符合题意。“生命之梯”中的每一个人都用自己的力量救助了受难者,表明人的价值在于奉献,要在奉献社会中彰显人生的价值,④正确。

23.【答案】C

【解析】我国改革发展面临新形势新任务,推动党中央作出推进党和国家机构改革的决策,体现了社会存在的变化决定社会意识的变化,①正确。题干不反映价值观对价值判断和价值选择的影响,也不反映生产力与生产关系的相互作用,②③不符合题意。党中央根据改革发展面临的新形势新任务而作出决策,体现出上层建筑一定要适合经济基础的状况,④正确。

38.【答案】(1)我国数字经济韧性强;(1分)产业数字化在数字经济中的比重大,对GDP的贡献率高;(2分)数字经济规模持续扩大。(1分)

(2)①促进数据要素市场化,充分发挥市场的决定性作用,增强数据要素的活力,推进数字产业化。(3分)②推动产业数字化,赋能传统产业,促进传统产业转型升级。(3分)③催生新业态新模式,为经济跃升提供助力和关键支撑。(2分)④推进农村三大产业融合,促进农业发展,普惠农民持续增收。(2分)(从供给侧结构性改革、打造高水平完整产业链角度回答,或从其他角度回答,言之成理,也可给分)

39.【答案】①江西省在实施人才强省战略中,落实党的二十大精神,贯彻省委人才工作会议精神,坚持中国共产党领导,发挥了中国特色社会主义制度的最大优势。②在实施人才强省战略中,江西省党政相关部门、用人单位密切配合、共同行动,充分发挥了集中力量办大事的优势。③江西省人才管理部门采取有效办法,有针对性地引进各类人才,及时解决人才短缺问题,有效履行了职责,充分发挥服务型政府的优势。④江西省修订完善人才引进实施办法,出台一系列硬举措硬办法,完善了社会治理体系,发挥了社会治理体系的优势。(每点3分,从其他角度回答,言之成理,也可给分)

40.【答案】(1)①文化遗产是文化多样性的体现。我国把《玛纳斯》列入国家非物质文化遗产名录,使其入选联合国教科文组织“人类非物质文化遗产代表作名录”,加强民族传统文化保护,保护全人类的文化财富。(3分)②尊重文化多样性,首先要尊重自己民族的文化。我国尊重中华民族传统文化,以不同方式促进《玛纳斯》的传承发展,通过培育和发展本民族文化,为文化多样性作出贡献。(3分)③促进文化创新,在继承中实现文化发展。我国完善、丰富《玛纳斯》表演形式,发行汉文全译本,促进了文化创新,在继承中促进了民族优秀传统文化的发展,为文化多样性作出贡献。(4分)

(2)①辩证的否定是发展的环节。我国完善、丰富《玛纳斯》表演形式,对传统表演方式进行了解证否定,实现了《玛纳斯》的新发展。②辩证的否定是联系的环节。我国完善《玛纳斯》的表演方式、记录方式,为《玛纳斯》的保存和发展奠定更充分的基础。③辩证否定的实质是“扬弃”。我国既对《玛纳斯》表演形式、记录形式等进行改变,又保留了史诗的内容,做到了“扬弃”,更好传承了民族优秀传统文化。(每点4分)

(3)①尽可能全面收集、整理《玛纳斯》有关素材,为人们更好认识《玛纳斯》提供必要引导。②收集《玛纳斯》列入国家非物质文化遗产名录和入选联合国教科文组织“人类非物质文化遗产代表作名录”的事件,让人们充分理解其中的意义。③汇总网络关于《玛纳斯》的有关新闻、故事等,通过网络传播《玛纳斯》。(任意回答两点给4分。所提建议有利于传播《玛纳斯》,符合学生身份,都可给分)

2022—2023 学年高三二轮复习验收考试
历史参考答案

24.【答案】C

【解析】根据题干可知，儒家重礼，而道家却认为礼是“乱之首也”，两者对礼看法的不同，但对解决“乱”的方法的认识，反映了二者在论述目的上的相通性，都是为了稳定社会秩序，故C项正确。一般认为，儒家学派的孔子和道家学派代表奴隶主阶级的利益，孟子代表新兴地主阶级的利益，A项不准确；二者在论述目的上的具有相通性，排除B项；从题干可知，二者的思想主张虽有相通之处，但各有不同，排除D项。

25.【答案】A

【解析】材料反映了魏晋时期，北方民族内迁的情况，反映了民族关系在碰撞中逐步交融，故A项正确。图片中没有反映经济改革的相关内容，也没有物种交流的情况，故排除B、C两项；当时，我国正处于国家分裂时期，故D项不符合题意。

26.【答案】B

【解析】根据材料中“宋代以前的朝廷对于商品按照质量高低定价并对此严加控制”“到了宋代……卖家可根据交易行情自由定价”可知，宋代政府构建了相对宽松的市场机制，故B项正确。材料不能体现商人地位的变化，排除A项；C项错在“开始”上，排除；材料并未涉及官营手工业，排除D项。

27.【答案】B

【解析】材料表明，元朝行省制有效地加强了对地方的管理，同时也体现了行省有一定的自主权，行省制度并未引发地方叛乱，造成社会动荡，故B项符合题意，A项不正确。C项“全国各地区”的表述错误，当时行省不能管理宣政院，也不能管理中书省直辖的地区，故排除；D项虽然说法正确，但没有体现材料的本意，故排除。

28.【答案】D

【解析】近代企业和近代新式学堂的创办，体现了中国近代意识的增强，故选D项。洋务运动中的洋务派属于地主阶级，不能说明资本主义兴起发展，故排除A项；当时，洋务派推动洋务运动的发展，但不能体现地方汉族地主势力主导国家，故排除B项；虽然洋务企业得到迅速发展，但不能体现洋务企业成为主流经济，自然经济在当时仍占统治地位，故排除C项。

29.【答案】C

【解析】材料反映了毛泽东对新民主主义革命的理论分析，进一步明确了新民主主义革命的性质，反映了毛泽东思想的逐步发展，故C项正确。材料的主旨不是阐述统一战线的理论，故排除A项；材料不仅体现武装斗争思想，还有党的建设和领导革命的内容，排除B项；洛川会议确定了全面抗战路线，《论持久战》确立持久抗战的方针，与材料内容无关，故排除D项。

30.【答案】C

【解析】新中国建设使演员完善自我文化素养的需求提升，各界群众都在积极提升自己的文化素养，故C项正确。三大改造发生于1953—1956年，故A项不正确；当时，我国的国民教育体系还不健全，故排除B项；“双百”方针正式提出于1956年，故排除D项。

31.【答案】A

【解析】从题中材料的信息可知，新时期中国的外交工作重心已经从原来的国际事务参与者，发展为国际事务的推动者，故A项正确。“金砖国家”包括南非、俄罗斯和巴西等非亚洲国家，故B项不正确；材料不能反映“结伴而不结盟”的政策具有普遍性，故排除C项；题中材料与人民币国际化的进程无关，故排除D项。

32.【答案】B

【解析】罗马法是政府颁布的，罗马法规定某人一旦在遗嘱中把自己财产留给教会，他的继承人就失去了对财产的继承权，突出政权与教会关系的密切，对教会的维护，教会有教化和维护社会稳定的作用，故答案为B项；材料中是对教会权利的维护，不是对私有财产的保护，故A项排除；C项与政权的需求矛盾，排除；材料中没有政权与教权合一的信息，故D项排除。

历史 第1页(共2页)

33.【答案】D

【解析】19世纪西方文学艺术的剧变,归根结底取决于工业革命和经济体系的变动,推动了部分国家封建上层建筑的垮台,故D项正确。A项是次要原因,不符合题意;B项属于外因,故排除;C项也是其中的因素之一,并不是主要原因,故排除。

34.【答案】A

【解析】从材料可以看出,苏联原油产量和消费量从20世纪70年代中后期到20世纪80年代初趋于停滞,这主要是因为苏联经济在斯大林模式下发展几乎停滞,故A项正确。B项“逐步加深”说法不符合史实,排除;C项从材料无法得出,排除;D项“开始”说法不符合史实,排除。

35.【答案】D

【解析】材料强调的是科学知识、人才和科技成果在推动经济全球化中的作用,即推动经济全球化的因素逐步多元化,故D项正确。材料的本意并不是突出经济全球化积极作用的主导地位,故排除A项;B项与题中材料所反映的信息无关,故排除;C项突出反映的是科技作用,并不是材料的主旨,故排除。

41.【答案】(1)条件:土地的大量开垦,(2分)粮食产量的提高,(2分)民生问题的改善,(2分)经济控制能力的加强,(2分)交通条件的改善。(2分)(每点2分,共8分,答出四点即可)

实质:边疆管理封建化。(2分)

(2)因素:政府掠夺式的经济政策;(2分)官僚资本垄断;(2分)战争环境的影响。(2分)

(3)共同之处:政府支持;(2分)开垦荒地,增加粮食产量;(3分)重视发展经济;(2分)将云南经济融入国家体系。(2分)

42.【答案】示例:英国君主立宪制与北美独立战争。(只写事件不得分)

随着英国资本主义经济的发展,斯图亚特王朝的专制统治阻碍了生产力的进步。(2分)1640年,英国资产阶级发动资产阶级革命,1689年通过《权利法案》,初步建立起资本主义君主立宪制,否定了英国封建专制,(2分)开创了资产阶级革命新时代,并推动了启蒙运动的发展。(2分)

英国资产阶级革命的思想以及启蒙思想的传播,推动了北美殖民地思想解放运动,加上英国在北美的殖民统治压迫,激化了北美殖民地与英国殖民统治的矛盾,引发北美独立战争。(3分)经过六年的战争,英国被迫承认北美13块殖民地独立。美国颁布《1787年宪法》,建立起资产阶级民主共和政体,为长期稳定和发展奠定了基础,但保留了黑奴制度,成为美国南北战争的根本原因。(3分)

45.【答案】(1)内容:扩大录取人数;(2分)规范考生、考官之间的称谓;(2分)放宽参考资格限制;(2分)完善与规范科举考试的程序。(2分)

(2)影响:完善了科举考试制度;(2分)促进了文化教育、科技事业的发展;(3分)推动了社会阶级结构的变动。(2分)

46.【答案】(1)特点:由土耳其民族危机引发(与一战和战后协约国瓜分密切相关);(2分)与英国、希腊、苏俄、协约国等国际政治势力交织;(4分)是民族资产阶级领导的反帝反封建的民族民主革命。(2分)

(2)影响:促使凡尔赛体系调整;(2分)促进了一战后世界民族解放运动的发展;(2分)提升了土耳其、苏俄的国际影响力。(3分)

47.【答案】(1)原因:俄国十月革命的传入;(2分)北大学生的建议;(2分)北大校役的勤奋好学;(2分)西方近代民主思想、教育思想的影响。(3分)

(2)作用:首开高校平民教育先河;(2分)扩大了近代教育对象、教育范围;(2分)推广了教育平等、平民教育的理念;(2分)推动了近代教育改革步伐。(2分)(每点2分,答出三点即可)

关于我们

自主选拔在线是致力于提供新高考生涯规划、强基计划、综合评价、三位一体、学科竞赛等政策资讯的升学服务平台。总部坐落于北京，旗下拥有网站（[网址: www.zizzs.com](http://www.zizzs.com)）和微信公众平台等媒体矩阵，用户群体涵盖全国90%以上的重点中学师生及家长，在全国新高考、自主选拔领域首屈一指。

如需第一时间获取相关资讯及备考指南，请关注**自主选拔在线**官方微信号：**zizzsw**。



微信搜一搜

自主选拔在线