

绝密★启用前

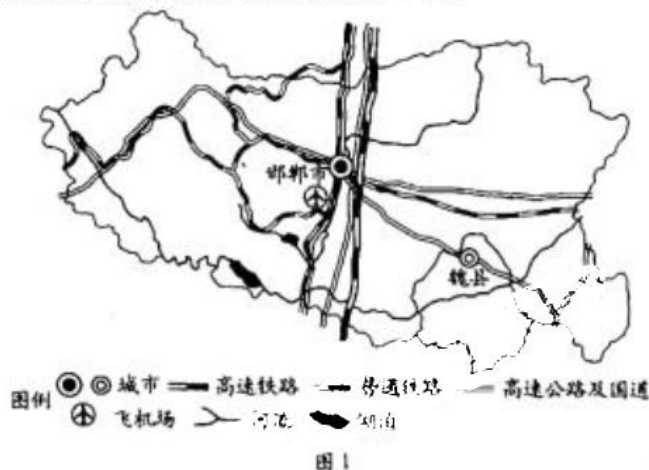
## “皖豫名校联盟体”2021 届高中毕业班第三次考试 文科综合

考生注意：

- 1.答题前，考生务必将自己的姓名、考生号填写在试卷和答题卡上，并将考生号条形码粘贴在答案微信搜<试卷答案公众号>答题卡上的指定位置。
- 2.回答选择题时，选出每小题答案后，用铅笔把答题卡对应题目的答案标号涂黑。如需改动，用橡皮擦干净后，再选涂其他答案标号。回答非选择题时，将答案写在答题卡上。写在本试卷上无效。
- 3.考试结束后，将本试卷和答题卡一并交回。

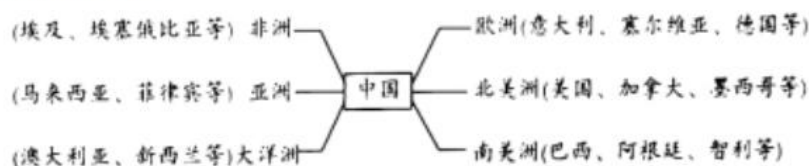
**一、选择题：本题共 35 小题，每小题 4 分，共 140 分。在每小题给出的四个选项中，只有一项是符合题目要求的。**

防松动螺母是一种常见的紧固防松螺母，最适合应用在高速运动部件的紧固上，最早在美国航天航空器上使用，现广泛应用于航天航空、高铁、汽车等领域。近年来，我国防松动螺母答案微信搜:试卷答案公众号工业也迅速发展起来。2020 年底中国中车股份有限公司与河北省邯郸市人口大县—魏县签订合作协议，以“产业扶贫”模式在魏县建设防松动螺母生产基地。图 1 为魏县位置示意图。据此完成 1~3 题。



- 1.近年来，我国防松动螺母工业迅速发展起来的主要原因是  
A.钢铁产量不断提高 B.市场需求不断扩大 C.生产管理不断规范 D.基础设施不断完善
- 2.中国中车选择在魏县建设防松动螺母生产基地，主要是由于魏县  
A.原料资源丰富 B.科学技术发达 C.市场前景广阔 D.劳动力成本较低
- 3.中国中车以“产业扶贫”模式在魏县建设防松动螺母生产基地，可以  
A.提高农业机械化水平 B.实现农田精细化管理  
C.推动当地工业化进程 D.提高当地人口外迁率

自 2019 年年底全球新冠肺炎疫情爆发以来，欧美地区就成为全球重疫区，口罩、医用手套、防护服、呼吸机等个人防护设备和公用医疗器械等医疗物资成为全球性极缺资源，跨区域的医疗物资资源调配就成为疫情防治工作的重中之重。图 2 示意近期我国医疗物资资源调配方向。据此完成 4-6 题。



- 4.2019年年底以来，欧美地区防疫物资资源短缺的主要原因是  
 A.疫情加重，医疗物资需求量增大 B.因疫限电，医疗物资生产量减少  
 C.人口外迁，医疗企业劳动力短缺 D.暴雪频发，医疗物资运输量降低
- 5.与美洲地区相比，欧洲地区从我国调拨防疫物资资源的优势主要是的主现  
 A.可运的运输物资较多 B.可选的运输方式较多  
 C.可用的运输工具较多 D.可走的运输路线较多
- 6.我国防疫物资资源大量调拨到世界各地，有利于我国  
 A.保障物资输出，降低贸易顺差 B.增加科技投入，提高科技水平  
 C.增加就业机会，吸引人口迁人 D.发挥自身优势，参与国际合作

塔式高层住宅是由一个独立的住宅单元构成的高层居民楼房，俯视呈正方形。板式高层住宅答案微信搜<试卷答案公众号>是由多个住宅单元构成的高层居民楼房，俯视呈矩形。图3为我国北方地区某城市春季塔式住宅小区和板式住宅小区空气温度与风速对比图（两小区面积大致相当，都是11栋楼，33层，楼房为东西走向）。据此完成7~9题。

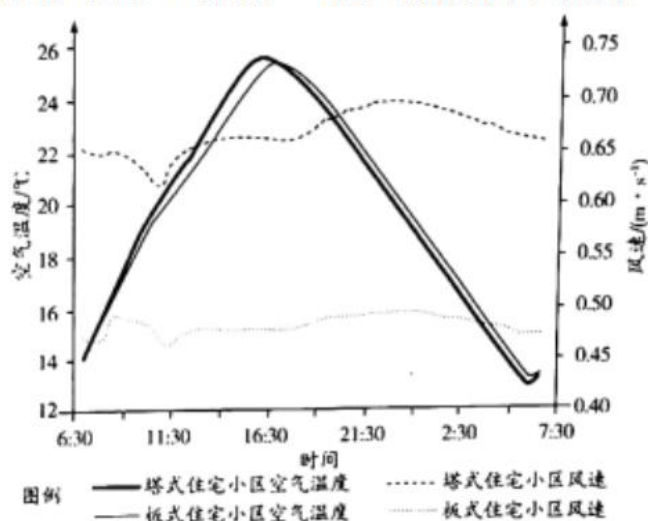


图3

- 7.该城市9:00-16:30塔式住宅小区春季气温高于板式住宅小区的主要原因是  
 A.太阳高度角大 B.日照时间较长 C.地面辐射量多 D.阴雨天气较少
- 8.影响该城市春季这两种住宅小区风速不同的地形因素是  
 A.答案微信搜:试卷答案公众号地表障碍 B.城市地貌 C.坡向 D.坡度大小
- 9.研究表明塔式住宅小区春季风热环境比较差，则应尽可能采取的措施是  
 A.降低楼房高度 B.扩大楼房间距 C.搭建遮阳廊道 D.种植高大树木

海冰流是海流的一种特殊形式，是众多的海冰沿着一定方向流动而成，多发生于纬度较高的海域和开春时节。罗斯海是南太平洋深入南极大陆的大海湾，是南极大陆周围海冰流最密集的海域，罗斯海的东岸是南极企鹅繁衍生活的天堂。图4为罗斯海位置示意图。据此完成10~11题。

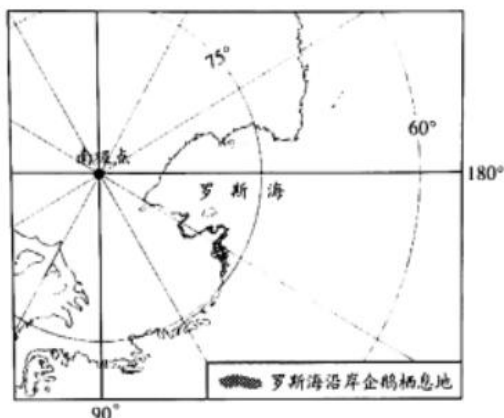


图4

10. 推测罗斯海海冰流的流向是  
 A. 由西北流向东南 B. 由东南流向西北 C. 由东北流向西南 D. 由西南流向东北
11. 与罗斯海西岸相比，罗斯海东岸成为南极企鹅天堂的主要原因是  
 A. 海水上涌 B. 洋流交汇 C. 风浪较小 D. 气候温暖
12. 研读 2018-2020 年我国生猪价格走势（图 5），下列认识正确的是




图5

- ①2020 年生猪的需求弹性远远高于 2018 年  
 ②从 2019 年下半年起生猪供需矛盾持续加剧  
 ③2020 年猪肉单位商品价值量远大于 2018 年  
 ④生猪价格大幅上涨不会导致猪肉需求量大幅下跌
- A. ①② B. ①③ C. ②④ D. ③④

13. 中国有这样 3 家国企，不以赚钱为目的，即使亏损了也不会倒闭。有了国家电网，农村和答案微信搜:试卷答案公众号偏远地区用电非常稳定；有了中国邮政，就能确保很多偏远地区与外界正常联系；铁路建设成本非常高，国家铁路集团承担着国家铁路交通网的建设和运营，受疫情影响，2020 年上半年巨亏 955 亿。材料旨在告诉我们

- ①要优化国有经济的布局 and 结构，推动国有资本做强做大做优  
 ②要推动混合所有制改革，提高国企的活力、竞争力和控制力  
 ③国有经济在提供公共服务、彰显制度优势方面发挥关键作用  
 ④国企积极承担社会责任，在事关国计民生领域处于支配地位
- A. ①② B. ①④ C. ②③ D. ③④

14.2021年2月,中共中央、国务院印发文件强调,深入推进家庭农场经营者培养,完善项目支持、生产指导、质量管理、对接市场等服务。建立农民合作社带头人人才库,加强对农民合作社骨干的培训。鼓励农民工、高校毕业生、退役军人、农村实用人才等创办领办家庭农场、农民合作社。上述举措发挥作用的路径是

- ①推进乡村振兴和农业农村现代化②推动建设社会主义现代化经济体系  
③加快培养各类农业生产经营人才④巩固和发展壮大我国农村集体经济

A.④→③→①→② B.④→③→②→①  
C.③→④→①→② D.③④→②→①

15.多个省份在2021年政府工作报告中围绕城市群、都市圈的发展作出部署。陕西提出,以推进西安—咸阳一体化为重点加快建设西安都市圈,促进西安与铜川、渭南、商洛等城市联动发展;云南提出,打造以昆明为中心的1小时现代化都市圈,推动滇中城市群一体化发展,发挥滇中地区对全省的核心带动作用……强调都市圈建设,有利于

- ①形成区域垄断优势,对提升区域经济安全意义重大  
②打破行政边界,在共建共享基础上推动区域协调发展  
③发挥中心城市的“龙头”作用,提升发展整体效能  
④打通区域消费“堵点”,推动国际国内双循环互动发展

A.①③ B.①④ C.②③ D.②④

16.2021年中央“一号文件”指出,在有条件的地方积极推行村党组织书记通过法定程序担任村民委员会主任,因地制宜、不搞“一刀切”。与换届同步选配强村务监督委员会成员,基层纪检监察组织加强与村务监督委员会的沟通协作、有效衔接。上述举措旨在

- ①充分发挥农村基层党组织领导作用②积极推动农村基层自治组织不断创新  
③通过管干部以增强基层政府公信力④健全基层监督体系维护村民合法权益

A.①② B.①④ C.②③ D.③④

17.李克强总理在2021年政府工作报告中提出,加强数字政府建设,建立健全政务数据共享协调机制,推动电子证照扩大应用领域和全国互通互认,实现更多政务服务事项网上办、掌上办、一次办。企业和群众经常办理的事项,今年要基本实现“跨省通办”。可见,加数字政府建设,答案微信搜:试卷答案公众号有利于

- ①优化行政资源,降低行政成本②转变政府职能,提高服务质量  
③提升监管能力,落实监管责任④简化行政手续,聚集行政权力

A.①② B.①④ C.②③ D.③④

18.2020年2月,习近平在中国—中东欧国家领导人峰会上发表讲话指出,有事大家商量着办。坚持相互尊重,合作不附带政治条件,坚持大小国家一律平等,共商共建共享,照顾彼此关切。从讲话可以看出

- ①这是一次践行和促进多边主义的峰会②峰会各方已就独立自主和平外交达成共识  
③中国积极推动中国和中东欧共同发展④中国主张各国应共同维护国家主权和安全

A.①③ B.①④ C.②③ D.②④

19.“如今政策真开放,把它编成山歌唱,跟随党的脚步走,居民生活变了样。”“党中央来真英明,下达政策搞扶贫,脱贫攻坚已做到,感恩山歌唱不停。”走进云南省德宏傣族景颇族自治州陇川县护国乡,一首首优美的山歌,向大家宣传十九届五中全会精神,这样的方式让老百姓能接受、好理解、易消化,受到老百姓的喜爱。这表明

- ①文化总能以其鲜明的民族性引领时代前进方向  
②和时代实践相结合才能增强民族文化的感染力  
③推动社会实践发展是繁荣民族文化的根本目的  
④必须用人民群众喜闻乐见的形式传递党的声音

A.①③ B.①④ C.②③ D.②④

20.近年来,贫困地区诸如“农家书屋+电商”等文化活动进一步丰富,公共文化设施进一步完善,公共服务水平进一步提升,非遗助力精准扶贫效果进一步显现,文化产业和旅游产业得到

进一步发展，旅游推动当地经济社会发展的作用更加明显，有效发挥了文化和旅游扶贫的励民、惠民、富民、安民作用，实现了物质和精神“双扶贫”。下列理解正确的是

- ①励民，意指通过治愚扶智释放优秀文化的精神力量
- ②惠民，意指通过挖掘文化遗产展示本地文化发展成就
- ③富民，意指促进文化与经济深度交融增加居民收入
- ④安民，意指通过大力发展文化产业提高文化服务水平

A.①② B.①③ C.②④ D.③④

21.元朝著名文学家揭傒斯的诗《归舟》写道：汀洲春草遍，风雨独归时。大舸中流下，青山两岸移。鸦啼木郎庙，人祭水神祠。波浪争掀舞，艰难久自知。对这首诗的哲学解读正确的是

- ①“风雨”作为自然现象，背后隐藏着客观规律
- ②两岸青山相对于顺江而下的大舸处于相对静止状态
- ③“波浪争掀舞”寓意事物发展的道路是曲折的
- ④拜木郎庙、祭水神祠的人们具有主观唯心主义倾向

A.①② B.①③ C.②④ D.③④

22.长期以来，高校教师职称评审存在一些不良倾向：比如重科研轻教学，评职称更看重发表几篇论文、拿了几个课题，而教学质量好坏、学生是否满意等内容却被忽略；评审指标忽视学科差异，公共课教师、思政课教师等申报科研项目难度大……种种问题的解决有赖于体制机制革新。这表明

- ①高校教师职称评审必须用全面的观点看问题
- ②要针对不同学科制定完全不同的教师职称评审标准
- ③高校教师职称评审要立足科研作出顶层设计
- ④客观存在着的各种矛盾推动教师职称制度不断完善

A.①③ B.②③ C.①④ D.②④

23.原有的《农村土地承包经营权流转管理办法》的许多条款已不适应新的形势和法律政策要求，为了规范农村土地经营权流转行为，保障流转当事人合法权益，加快农业农村现代化，维护农村社会和谐稳定，农业农村部于2021年2月发布了《农村土地经营权流转管理办法》

（以下简称《办法》）。新《办法》出台

- ①体现了社会意识具有相对独立性②是解决我国农村社会基本矛盾的客观要求
- ③说明农村生产关系必须适合各项法律制度④将引导农村社会基本矛盾逐步走向非对抗性

A.①② B.①③ C.②④ D.③④

24.战国时期，除了原有高级青铜礼器、用器和兵器生产外，铁器生产工具、交通工具、生活用具、丝织品等行业产品也增加了生产量。这反映了当时

- A.冶铁技术已经相当普及
- B.各地区经济联系的加强
- C.粮食产量得到显著增长
- D.手工业部门的分工扩大

25.图6、图7反映了秦代到隋后期行政区划的置废分合和地理分布趋势的演变。据此演变过程

和趋势，推论正确的是



图6 秦汉诸郡分布图



图7 隋后期诸郡分布图

- A.秦汉时期北方地方行政建置开始减少
- B.魏晋时期南北地方行政建置增设较多
- C.隋后期郡地理分布打破南北均衡状态
- D.隋唐以后郡地理分布趋向于南密北稀

26.有学者评述理学称：“尊者以理责卑，长者以理责幼，贵者以理责贱。虽失，谓之顺。卑者、幼者、贱者以理争之，虽得，谓之逆。”这一评述表明理学

- A.建立了完备的礼仪程序
- B.重建了礼治秩序
- C.承认了个体的独立价值
- D.培养了人际亲情

27.在清代，很多人都把内阁称为古之中书省，将入内阁叫作登政府，又比拟大学士如前代宰相。皇帝一旦下诏开馆修书，大学士依例充当监修总裁官。这说明，清代内阁

- A.辅助皇帝处理政务
- B.直接管理地方行政
- C.独立应对国家事务
- D.能够行使六部职权

28.1865年之前，茶叶和生丝是中国最主要的出口商品，其在出口总值中所占的比重一直都在90%上下。此后到1895年前茶、丝出口值比重不断降，茶叶和生丝的出口值呈现与其不断增长的出口数量相反的变化。导致这一变化的主要原因是

- A.丝茶生产技术停滞不前
- B.传统经济结构逐步解体
- C.丝茶出口价格日益提高
- D.出口商品结构不断变化

29.表1

时间	事件
1918年	《新青年》《每周评论》《新潮》等刊物先后改用白话文体
1919年	出现四百余种白话报刊
1920年	北洋政府教育部决定中小学开始使用白话教材

表1为民国时期白话文运动大事统计表。据此可知，白话文运动

- A.引发了思想领域的革命
- B.推动了新式教育的兴起
- C.取得了比较彻底的胜利
- D.完成了思想文化的普及

30.人民解放战争期间，中共中央随着军事局势的发展，其地盘日益扩张，问题也增多、复杂。解决问题的主要困难是缺乏足够的行政人员和技术人员，这些人多在非共产党地区，他们或者是国民党党员或者是国民政府的职员。这一状况最早出现于

- A.内战爆发初期
- B.战略反攻时期
- C.三大战役期间
- D.渡江战役时期

31.根据“一五”计划期间的部署，5年内开始的694个限额工业建设单位中，有472个分布在内地，占总数的68%；222个分布在沿海地区，占总数的32%。这一部署的主要目的是

- A.推动国民经济形势的好转
- B.促进区域经济均衡发展
- C.发挥原有工业基础的作用
- D.完成国民经济调整工作

32.公元前 242 年,罗马出现了专门负责外部事务的外事行政长官。有学者认为,从公元前 242 年开始一直到公元 2 世纪末至 3 世纪初统一法的出现,是罗马法发展的新时期。这一时期

- A.罗马揭开了成文立法的序幕 B.罗马法成为完整的法律体系  
C.罗马法的主体范围日益扩大 D.公民法适应了各阶层的需要

33.1519 年,路德在莱比锡参加辩论会,他的对手是艾克,此人在辩论中引证权威言论,其中包括教皇敕令、宗教会议决议、早期基督教领袖著述等,想借此压倒路德。据此可知,艾克

- A.强调信仰自由 B.主张民族认同 C.倡导宗教宽容 D.维护教皇权威

34.据估计,1878 年美国炼油工业的资产净值约为 3600 万美元,美孚石油公司一家控制其中 3300 万元。1883-1890 年,它的账面净资产从 7200 万美元增至 1.15 亿美元。这反映出,当时美国

- A.社会经济结构发生重大变化 B.新科学技术得到迅速推广  
C.生产关系调整促进经济发展 D.资本家内部矛盾趋向激化

35.表 2

会议时间	与会国数量	会议通过的文件
1961 年 9 月	25 个	《关于战争的危险和呼吁和平的声明》
1964 年 10 月	42 个	《和平和国际合作纲领》
1973 年 9 月	75 个	《经济合作行动纲领》

表 2 为一国际组织成立后召开的第一、二、四次国际会议情况。该国际组织的发展

- A.使联合国内力量结构逐渐发生变化 B.导致资本主义阵营出现分化  
C.从经济合作为主转向经济政治合作 D.推动美苏关系不断走向缓和

**二、非选择题: 本题包括必考题和选考题两部分。第 36~42 题为必考题, 每个试题考生都必须作答。第 43~47 题为选考题, 考生根据要求作答。**

36.阅读图文资料,完成下列要求。(22 分)

魔芋是一种薯芋类作物,喜温暖、湿润、弱光和有机质丰富的环境,有很高的医药价值和食用价值。魔芋主要栽种于森林覆盖率高的林下、林缘或溪谷两旁的湿润坡地,我国主要以海拔 500~1500 米的北坡种植为最好。

岚皋县地处陕西省南部,秦岭以南、大巴山北麓,总人口 17.6 万人,其中农业人口 15.2 万人,现有耕地 23 万亩、荒山 79 万亩、森林 226 万亩,森林覆盖率 76.4%。全县 23 万亩耕地中有 17 万亩适宜魔芋生长,28 万亩退耕还林地中 80%可林下种植魔芋,是全国为数不多的林下魔芋最佳适生区之一。自 20 世纪 80 年代以来,岚皋县政府就将魔芋种植作为农村首选产业进行规划,并与省市高校联合建起了数十家加工企业,现在已被评为“全国魔芋加工重点县”“优质种源基地县”和“国家林下经济示范基地”。图 8 为岚皋县位置及等高线地形图。



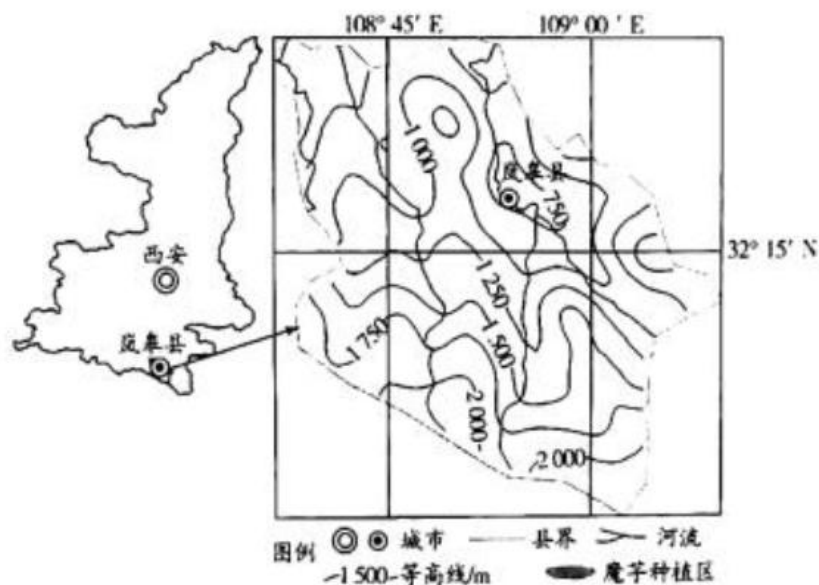


图 8

- (1)指出岚皋县种植魔芋的有利自然条件。(6分)
  - (2)说明岚皋县在林下种植魔芋的好处。(4分)
  - (3)分析岚皋县将魔芋种植作为农村首选产业的原因。(6分)
  - (4)简述岚皋县成为全国魔芋加工重点县的优势。(6分)
- 37.阅读图文资料,完成下列要求。(24分)

楚科奇半岛位于俄罗斯东北部,面积约 8 万平方千米,地势起伏较大,大部属楚科奇山脉东部,半岛最高峰海拔 1158 米,北部和沿海有狭长平原。楚科奇半岛地表冻土发育广泛,沼泽广布,并随季节而变化。半岛上植被以苔原(苔藓和地衣)为主,但地表苔原厚度南北差异较大,南部厚度明显大于北部。楚科奇半岛人口稀少,村落也很少,民居建筑独具特色。图 9 为楚科奇半岛位置示意图。

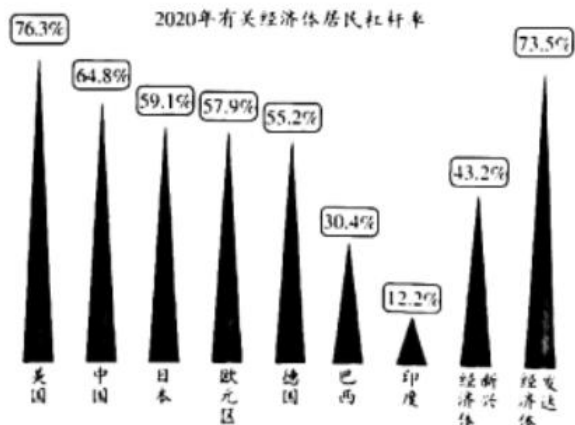
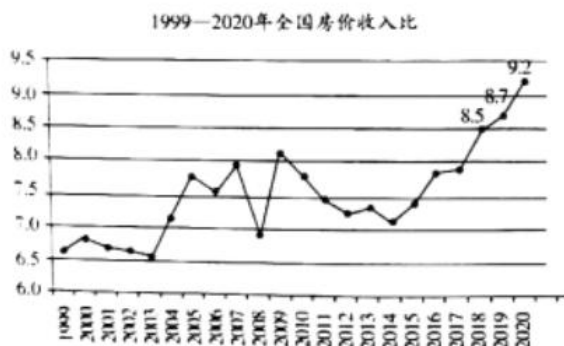


图 9

- (1)简述楚科奇半岛地表冻土发育广泛的原因。(6分)
  - (2)指出楚科奇半岛沼泽主要出现的季节,并分析原因。(6分)
  - (3)说明楚科奇半岛南部地表苔原较厚的主要原因。(6分)
  - (4)根据自然环境与民居设计的因果关系,推测楚科奇半岛居民房屋建筑的特点。(6分)
- 38.阅读材料,完成下列要求。(14分)

材料一 我国近年房价收入比和居民部门杠杆率(图 10)。





注：房价收入比=每户住房总价÷每户家庭年总收入。根据国际标准，房价收入比合理区间为3至6。居民杠杆率指的是金融机构信贷收支表中的住户部门贷款与GDP之比。当住户部门杠杆率低于10%时，债务增加将答案微信搜：试卷答案公众号有利于经济增长；高于30%时，该国中期经济增长将会受到影响；超过65%时，将会影响到金融稳定。

材料二 经过20多年的飞速发展，如今房地产已经关联了上下游几十个行业，影响了数千万人的就业，捆绑了六成以上的国民财富，太多人的工作、收入、身家、财富与楼市相关。房价越涨，投资房产赚钱就越快，群众买房的热情高涨，资金就会加速向楼市流入，进一步推动房价上涨，从而形成循环。疫情期间，大量本用于支持中小微企业的贷款，又借道经营贷、消费贷等流入楼市。很多做实业的老板，辛苦一年赚的钱不如一套房的涨幅。这样就导致越来越多的人无心正业，专职投资。即使赚了钱也不扩大生产，而是将赚来的钱买楼。楼市吸纳了太多的资金，背后又牵扯着天量贷款，无疑会加大金融系统的风险。

(1)解读材料一包含的我国房地产市场发展的经济信息。(4分)

(2)结合材料并运用经济生活知识，说明目前我国房地产市场发展状况对实体经济发展的影响。(10分)

39.阅读材料，完成下列要求。(12分)

《全国人民代表大会常务委员会工作报告》指出，常委会工作最为显著的特点是紧跟党中央重大决策部署，紧贴人民群众美好生活对法治建设的呼声期盼，努力使各项工作更好围绕中心和全局、更好服务国家和人民。

十三届全国人大三次会议以来的10个月，常委会制定法律9件，修改法律13件，正在审议的法律案23件，听取审议35个报告，检查6部法律实施情况，答案微信搜：试卷答案公众号进行专题询问2次，开展专题调研6项。2020年，共收到报送备案的行政法规、地方性法规、自治条例和单行条例、经济特区法规、司法解释、特别行政区法律1310件，逐件进行主动审查。157位常委会组成人员直接联系439位代表，认真听取代表意见建议。500多人次代表参加执法检查、工作调研、计划和预算审查监督、国有资产管理监督等工作。增设6个立法联系点，新设5个基层预算审查监督联系点，搭建听取代表、群众意见的“直通车”。

结合材料并运用政治生活知识，分析全国人大常委会工作是如何贯彻依法治国的。

40.阅读材料，完成下列要求。(26分)

近日，中央文明办发出《关于开展“童心向党”教育实践活动的通知》，要求各地围绕庆祝中国共产党成立100周年，落实立德树人根本任务，以“童心向党”为主题开展教育实践活动，引导青少年从小听党话、感党恩、跟党走，努力成长为中国特色社会主义事业建设者和接班人。

《通知》提出，围绕主题重点开展好4个方面活动。开展“我向党旗敬个礼”活动，帮助青少年了解党旗含义，学习党的历史，立志在党的关怀下与祖国共成长、做小小追梦人；开展“唱支红歌给党听”活动，用激昂嘹亮的歌声表达爱党爱国之情；开展“党的光辉照我心”活动，组织青少年观看红色影片、参观革命旧址、缅怀革命先烈，引导青少年明白今天的幸福生活从哪里来，明白努力学习、健康成长是为了什么；开展“党的故事我来讲”活动，组织青少年

故事、革命的故事；英雄的故事，讲述身边优秀共产党员的故事，感悟党的初心使命，增进爱党之情。

《通知》强调，各级文明办要把“童心向党”教育实践活动纳入精神文明建设工作年度安排，发动各级各类学校积极投入。要依托各级各类新闻媒体和新媒体平台广泛宣传报道，营造青少年礼赞建党百年的浓厚氛围。

(1)开展“童心向党”教育实践活动对传承中华民族精神意义重大。运用文化生活知识对此观点加以分析。(10分)

(2)结合材料并运用认识论的有关知识，说明开展“童心向党”教育实践活动的合理性。(12分)

(3)你校以纪念中国人民志愿军抗美援朝出国作战为主题开展“党的故事我来讲”活动，你打算向班级同学讲述哪两则感人故事？(4分)

41.阅读材料，完成下列要求。(25分)一

材料一 英国海运发展较早，1629年已拥有排水量百吨以上大船35艘，1760-1780年，商船达到190万吨。19世纪四五十年代，英国掀起建设海运运输网的热潮。1860年时，英国商船达到465.9万吨。19世纪初，英国用进口木料制造帆船。从蒸汽机用在帆船上后，英国开始用铁来制造轮船。但到19世纪60年代，造船业仍以生产木船为主。到19世纪末发生了变化，英答案微信搜:试卷答案公众号国建立了世界上最大的蒸汽机船队。在造船业兴盛的同时，英国投入大量资金发展航运业配套设施，沿海岸修建灯塔、灯船，扩建港口、船坞、堤岸、堆栈等，置备起重机和其他装卸设备。

——摘编自高德步、王钰主编《世界经济史》

材料二 1866年前后，从官府到民间商人都有自办轮船航运的设想提出。到1872年，沙船从咸丰年间的2000余艘减至400艘。沙船的大量减少又进一步危及漕运；外商轮船航运势力进一步扩展，“中国沿江沿海之利，尽为外国商轮侵占”。由此，将创建轮船招商局提上了日程。1873年1月轮船招商局在上海正式成立。

——摘编自虞和平著《中国近代通史：早期现代化的尝试》

(1)根据材料一并结合所学知识，简析英国航运业发展的原因与影响。(12分)

(2)根据材料二并结合所学知识，概括中国自办轮船航运业的目的。(9分)

(3)根据材料一、二并结合所学知识，说明中、英两国发展航运业的历史启示。(4分)

42.阅读材料，完成下列要求。(12分)

材料表3 史学界关于“唐宋变革说”部分观点

论中国古今社会之变，最要在宋代。宋以前，大体可称为古代中国；宋以后，乃为后代中国。……就宋代而言之，政治经济、社会人生，较之前代莫不有变。	钱穆《理学与艺术》
中国中世和近世的大转变出现在唐宋之际。……唐代是中世的结束，而宋代则是近世的开始。	内藤湖南《概括的唐宋时代观》
宋代实现了社会经济的跃进、都市的发达、知识的普及，与欧洲文艺复兴现象比较，应该理解为并行和等值的发展。	宫崎市定《东洋的近世》

答案微信搜:试卷答案公众号根据材料，围绕“唐宋变革”拟定一个论题，并结合所学知识，予以阐述。(要求：论题明确，持论有据，论证充分，表达清晰。)

请考生从2道地理选考题、3道历史选考题中每科任选一题作答。如果多做，则每科按所做的第一题计分。

43.[地理一选修3:旅游地理] (10分)

随着社会经济的发展，旅游已经逐渐成为人们重要的生活方式，旅游活动日益日常化、大众化，旅游业呈现出一派欣欣向荣的繁荣景象。但是近年来频繁发生的、多种多样的自然灾害给蒸蒸日上的旅游业的发展蒙上了阴影。图11为某地通往旅游景区的滑坡路段。



图 11

简述自然灾害的发生对旅游业产生的影响。

44.[地理一选修 6:环境保护] (10 分)

风滚草是戈壁地区一种常见的多刺有毒植物，一般高 10~100 厘米，生命力极强，大多数人称它为草原“流浪汉”。当干旱来临的时候，它就会从土里将根收起来，团成一团随风四处滚动。答案微信搜:试卷答案公众号在戈壁的公路两旁，起风的时候经常可以看见它们在随风滚动。风滚草早先分布在亚欧大陆，后入侵到澳大利亚。每年 12 月份前后澳大利亚各地都会因风滚草泛滥而造成巨大的危害。图 12 为澳大利亚风滚草景观图。



图 12

说出风滚草产生的危害，并说明风滚草在澳大利亚泛滥的气象原因。

45.[历史一选修 1:历史上重大改革回眸] (15 分)

材料 奴婢问题是西汉中期以来的严重问题，一直没有得到解决。东汉初年，在经历了长期战乱之后，答案微信搜:试卷答案公众号光武帝刘秀采取了一系列恢复生产、发展经济的措施。刘秀在称帝后不久，下令解放奴婢，直到建武十四年（公元 38 年），一共下了六次解放奴婢的命令，三次下诏禁止虐杀奴隶。刘秀在禁止虐杀奴隶的诏书中规定：杀奴婢与杀普通人一样不得减罪，这就使奴婢的身份地位大大提高。刘秀还几次下令释放囚徒。在秦和西汉，囚徒与奴隶几乎没有什么差别。东汉以后，一般情况下，不允许将罪犯罚作奴隶。

——摘编自漆侠主编《中国改革史》

(1)根据材料并结合所学知识，概括刘秀解放奴婢的背景。(8 分)

(2)根据材料并结合所学知识，说明刘秀解放奴婢的意义。(7 分)

46.[历史一选修 3:20 世纪的战争与和平] (15 分)

材料 1940-1941 年，美国密切关注着不断扩大的欧洲战事。与此同时，东亚战争也在不断升级。

1940 年 5 月，罗斯福把太平洋舰队从加利福尼亚海军基地迁往夏威夷珍珠港的前沿阵地。不到 5 个月，日本加入德意，成为轴心国一员。

1941年7月，日本占领了法属印度支那，罗斯福将持续了几个月的对日本的经济制裁变成了冻结日本在美国的资产，并切断了对日本的石油供应。1941年12月7日，日本舰载轰炸机袭击了驻扎在珍珠港的美国太平洋舰队。12月8日，罗斯福宣称，日本袭击珍珠港这一天，“是历史上遗臭万年的一天”，并要求国会对日本宣战。珍珠港事件发生后，联邦政府对战时生产倾注了空前的物力与财力，并派遣大批专家治理经济。在随后的三年中，20世纪30年代停滞不前的美国经济机器开始全速运转。

——摘编自[美]约翰·马克·法拉格等著《合众存异：美国人的历史》

(1)根据材料并结合所学知识，概括珍珠港事件发生的历史背景。(8分)

(2)根据材料并结合所学知识，简析珍珠港事件的影响。(7分)

47.[历史一选修4:中外历史人物评说] (15分)

材料 陈嘉庚(1874-1961年)，福建同安县人。1914年第一次世界大战爆发后，侨居新加坡的陈嘉庚看到菠萝罐头和大米受战争影响，外运困难，决定全力经营航运业和橡胶业。他先后租购六艘轮船从事航运，来往于越南、新加坡等地，远者到达波斯湾，从中获利近百万元。之后他将几个菠萝罐头厂和米厂改为橡胶厂，又陆续购进几千亩橡胶园。到1922年，他控制了10答案微信搜:试卷答案公众号个经过改建和扩充的工厂，后来又购买了几处大橡胶园，并在马来亚和印尼等地设立了十几个分店。1925年，陈嘉庚的事业达到全盛时期，成为南洋商界巨子。他最早引进橡胶，进而大面积种植，是新加坡和马来亚地区橡胶业的主要开拓者之一。他首先开始橡胶制品的大规模生产，并有计划地开辟了橡胶制品和其他制品直接输出的国际市场，在华侨中第一个打破英国资本的垄断局面，促进了侨居地民族工业的发展。

——摘编自白寿彝总主编《中国通史》

(1)根据材料，概括陈嘉庚为侨居地经济发展作出的贡献。(8分)

(2)根据材料并结合所学知识，简析陈嘉庚成为南洋商界巨子的原因。(7分)



## “皖豫名校联盟体”2021 届高中毕业班第三次考试

### 文科综合·地理答案

1~11 小题,每小题 4 分。

#### 1. 答案 B

**命题透析** 本题以防松动螺母相关材料为情景,考查工业生产迅速发展的原因,旨在考查考生获取和解读地理信息、调动和运用地理知识的能力,综合思维、区域认知的学科核心素养。

**思路点拨** 由材料可知,防松动螺母主要应用于航天航空、高铁、汽车等特殊领域,用于紧固高速运动部件。近年来,随着我国交通运输工具和航天航空事业的发展,防松动螺母的市场需求量不断扩大,防松动螺母工业得以迅速发展起来。

#### 2. 答案 D

**命题透析** 本题以防松动螺母和魏县相关材料为情景,考查工业基地建设的区位条件,旨在考查考生获取和解读地理信息、调动和运用地理知识的能力,综合思维、区域认知的学科核心素养。

**思路点拨** 由材料可知,魏县是人口大县,劳动力充足且成本较低,但看不出其在技术、市场等方面具有优势。据此可推断,当前我国防松动螺母生产技术日渐成熟,但其生产需要消耗较多的劳动力。

#### 3. 答案 C

**命题透析** 本题以魏县防松动螺母生产基地建设为情景,考查工业基地建设的有利影响,旨在考查考生获取和解读地理信息、调动和运用地理知识的能力,综合思维的学科核心素养。

**思路点拨** 防松动螺母生产基地建设可以为当地提供就业机会,吸引人口回流,增加居民收入,带动相关产业发展,推动当地工业化和城市化进程。

#### 4. 答案 A

**命题透析** 本题以欧美地区防疫物资资源短缺为情景,考查物资调配的原因,旨在考查考生获取和解读地理信息、调动和运用地理知识的能力,综合思维的学科核心素养。

**思路点拨** 2019 年年底以来,新冠肺炎疫情在世界范围内迅速扩散并不断加重,各国对防疫医疗物资的需求量不断扩大。欧美地区是新冠肺炎疫情最严重、扩散最快的地区,是医用手套、口罩、呼吸机等医疗物资需求量最大的地区。

#### 5. 答案 B

**命题透析** 本题以近期我国医疗物资资源调配方向图为情景,考查交通运输方式的选择,旨在考查考生获取和解读地理信息、调动和运用地理知识的能力,综合思维、区域认知的学科核心素养。

**思路点拨** 与美洲地区相比,欧洲地区与我国同属于亚欧大陆,可选的运输方式较多,在各国航空运输纷纷停航的困境下,与我国有公路、铁路(中欧班列)联系的欧洲地区则表现出很强的运输方式多样化的优势。

#### 6. 答案 D

**命题透析** 本题以近期我国医疗物资资源调配方向图为情景,考查物资调配对调出地的影响,旨在考查考生获取和解读地理信息、调动和运用地理知识的能力,综合思维的学科核心素养。

**思路点拨** 自 2019 年年底疫情爆发以来,世界各地医疗物资资源普遍不足,我国在满足国内需要的同时,将一部分医疗物资调配到世界各地,有利于我国发挥自身优势,参与国际合作,应对疫情扩散,保障全世界人员的健康和安

7. 答案 C

**命题透析** 本题以某城市春季塔式住宅小区和板式住宅小区空气温度与风速对比图为情景,考查地面辐射的相关知识,旨在考查考生获取和解读地理信息、调动和运用地理知识的能力,综合思维的学科核心素养。

**思路点拨** 读图并结合材料可知,塔式住宅小区裸露的地面面积大于板式住宅小区,9:00—16:30 地面吸收的太阳辐射较多,地面辐射给大气的热量较多,因此,9:00—16:30 塔式住宅小区气温高于板式住宅小区。并且地面是近地面大气主要、直接的热源,同一个地方的太阳高度、日照时间、天气状况相差不大,故太阳高度、日照时间、阴雨天气不是主要影响因素。

8. 答案 A

**命题透析** 本题以某城市春季塔式住宅小区和板式住宅小区空气温度与风速对比图为情景,考查影响风速大小的因素,旨在考查考生获取和解读地理信息、调动和运用地理知识的能力,综合思维的学科核心素养。

**思路点拨** 影响风速大小的地形因素主要包括地貌、地形障碍等。读图可知,塔式住宅小区的风速大于板式住宅小区。该城市位于北方地区,春季多偏北风,两种住宅小区楼房均为东西走向,塔式住宅小区的楼房垂直截面积小于板式住宅小区,塔式住宅小区的障碍阻风面积小,因此风速较大。两种住宅小区楼房均为 33 层高层居民楼房,一般建在平地上,则两种住宅小区所处的城市地貌、坡向、坡度条件相差不大,故这些不是影响两种住宅小区风速不同的因素

9. 答案 D

**命题透析** 本题以某城市春季塔式住宅小区和板式住宅小区空气温度与风速对比图为情景,考查热岛效应的应对措施,旨在考查考生获取和解读地理信息、调动和运用地理知识的能力,综合思维的学科核心素养。

**思路点拨** 春季时塔式住宅小区的室外风热环境比板式住宅小区差,塔式住宅小区风速较大,白天气温较高,应采取的措施来降温、降低风速,在住宅区种植高大的树木,可以有效降温,并且具有降低风速的作用。

10. 答案 B

**命题透析** 本题以罗斯海位置示意图为情景,考查洋流(海冰流)形成的原因,旨在考查考生获取和解读地理信息、调动和运用地理知识的能力,综合思维、区域认知的学科核心素养。

**思路点拨** 读图可知,罗斯海是一个三面环陆的大海湾,常年受强劲的极地东南风影响,漂浮在海面上的海冰在东南风的推动作用,形成由东南流向西北的海冰流

11. 答案 A

**命题透析** 本题以罗斯海位置示意图为情景,考查洋流对地理环境的影响,旨在考查考生获取和解读地理信息、调动和运用地理知识的能力、综合思维、区域认知的学科核心素养。

**思路点拨** 读图可知,罗斯海常年受强劲的极地东南风影响,海面上的海冰、海水均向罗斯海西岸流动,导致东岸海域海面下降,深层海水上涌将底部的营养物质带到海面,吸引鱼类汇集繁殖,为企鹅提供充足的食物。南极沿海地区常年风浪较大,企鹅对其适应性较强,风浪大小不是影响其分布的主要因素,食物是影响其分布的主要因素。

36. **命题透析** 本题以岚皋县魔芋种植为情景,考查农业区位条件、农业发展特点、产业选择及农业加工业发展等知识,旨在考查考生获取和解读地理信息、调动和运用地理知识、论证和探讨地理问题的能力,综合思维、区域认知、人地协调观的学科核心素养。

**答案要点** (1)位于亚热带季风气候区,温暖湿润(或水热条件好);位于大巴山北麓,海拔多在 1 500 米以下,坡地面积大,适宜种植区面积较广;森林覆盖率高,林下遮阴性好;林下枯枝落叶多,有机质含量高。(任答其中 3 点,每点 2 分,共 6 分。其他答案合理可酌情给分)

(2)可以充分利用林下土地资源和林荫空间,提高土地和林荫资源利用率;可以抑制杂草生长,解决退耕还林

的管护问题;可以降低种植成本,提高经济效益等。(任答其中2点,每点2分,共4分。其他答案合理可酌情给分)

(3)岚皋县自然条件好,适合魔芋生长,魔芋品质高;为贫困山区,资源匮乏,其他产业比较落后,种植魔芋可以有效促进农民增收,脱贫致富;发展魔芋种植投资少,成本低。(每点2分,共6分。其他答案合理可酌情给分)

(4)政府大力扶持,享有政策优惠;岚皋县魔芋种植面积大、产量高、质量好,原料充足;岚皋县加工企业与高校合作,加工技术有保障;农业人口多,劳动力廉价;魔芋加工产品市场需求量大,市场广阔等。(任答其中3点,每点2分,共6分。其他答案合理可酌情给分)

37. **命题透析** 本题以楚科奇半岛自然环境为情景,考查冻土成因、沼泽季节变化、自然带及自然环境对民居建筑的影响等知识,旨在考查考生获取和解读地理信息、调动和运用地理知识、描述和阐述地理事物、论证和探讨地理问题的能力,综合思维、区域认知、人地协调观的学科核心素养。

**答案要点** (1)楚科奇半岛地处高纬度地区,气候寒冷;受副极地低气压带控制,云雨天气较多;气温低,蒸发弱,土壤水分多,利于冻土形成;地下有永久冻土层存在,地表水不易下渗。(任答其中3点,每点2分,共6分。其他答案合理可酌情给分)

(2)夏季。(2分)

原因:楚科奇半岛纬度高,气温低,春、秋、冬三季冻土广布;夏季气温较高,(表层)冻土消融,且降水较多,下层冻结层阻碍水分下渗,表层水分汇集形成沼泽。(每点2分,共4分。其他答案合理可酌情给分)

(3)南部纬度较低,接受太阳辐射较多,气温较高;南部受楚科奇山脉阻挡,从极地吹来的冷空气对其影响较小,气温较高;地处楚科奇山脉南坡,光照条件较好;夏季来自南部海域的暖湿气流经地形抬升,降水较多,有利于苔藓和地衣生长。(任答其中3点,每点2分,共6分。其他答案合理可酌情给分)

(4)楚科奇半岛地处高纬度,太阳高度角小,为增加采光,房屋门窗较高;常年气候寒冷,为了防寒保暖,房屋墙体较厚;降水以降雪为主,降雪量大,以防压塌房屋,房屋屋顶较尖(或坡度较大);常年风力强劲,为防御寒风,房屋窗户较少;就地取材,建筑材料多采用兽皮等。(任答其中3点,每点2分,共6分。其他答案合理可酌情给分)

43. **命题透析** 本题以自然灾害与旅游业发展为情景,考查自然灾害的发生对旅游业产生的影响,旨在考查考生获取和解读地理信息、调动和运用地理知识、论证和探讨地理问题的能力,综合思维、人地协调观的学科核心素养。

**答案要点** 有利影响:受灾地区形成新的灾害遗迹旅游资源;提升游客对旅游资源的保护意识等。(每点2分,共4分。其他答案合理可酌情给分)

不利影响:破坏旅游景区的景观资源;破坏旅游景区的基础设施(如交通线路、宾馆饭店等);危害游客的身心健康与生命安全;损害旅游目的地的形象,降低旅游吸引力;抑制游客数量增长,减少旅游经济收入等。(任答其中3点,每点2分,共6分。其他答案合理可酌情给分)

44. **命题透析** 本题以澳大利亚风滚草相关材料为情景,考查生物危害及其产生的气象原因,旨在考查考生获取和解读地理信息、调动和运用地理知识、论证和探讨地理问题的能力,综合思维、区域认知、人地协调观的学科核心素养。

**答案要点** 危害:掩盖农田(农作物);引发火灾;携带害虫;毒死牲畜;阻碍交通和出行;造成环境污染;破坏生态平衡等。(任答其中3点,每点2分,共6分。其他答案合理可酌情给分)

原因:大部分地区气候干旱少雨,持续时间较长;大风天气较多,地表风力强劲。(每点2分,共4分。其他答案合理可酌情给分)

## “皖豫名校联盟体”2021 届高中毕业班第三次考试

### 文科综合·政治答案

12~23 小题,每小题 4 分。

#### 12. 答案 C

**命题透析** 本题以 2018—2020 年我国生猪价格走势图为情境,考查商品价格与供求的有关知识,考查考生获取和解读信息的能力,考查科学精神学科素养。

**思路点拨** 从图表可以看出,2018 年生猪价格保持低位且相对稳定,从 2019 年 2 月份开始,受非洲猪瘟疫情影响,生猪供需矛盾持续加剧,生猪价格持续大幅上涨,2020 年生猪价格维持高位震荡,②符合题意。猪肉是生活必需品,其需求弹性较小,生猪价格波动不会对猪肉需求量产生较大影响,④正确。生猪的需求弹性是相对稳定的,①说法错误。2018—2020 年生猪单位商品价值量没有发生较大变化,③不选。

#### 13. 答案 D

**命题透析** 本题以国家电网、中国邮政和国家铁路集团的相关信息为情境,考查我国的生产资料所有制的有关知识,考查考生获取和解读信息的能力。

**思路点拨** 材料反映出,我国国有企业积极承担社会责任,提高社会公共服务水平,努力使发展成果由人民共享,对彰显社会主义制度优越性发挥关键作用,③④符合题意。材料与优化国有经济布局、推动混合所有制改革无关,①②不选。

#### 14. 答案 C

**命题透析** 本题以中共中央、国务院印发文件强调深入推进家庭农场经营者培养等为情境,考查新发展理念和新时代经济建设的有关知识,考查考生调动和运用知识的能力,考查政治认同学科素养。

**思路点拨** 培养家庭农场经营者、农民合作社带头人,这都是在为农村培养经营性人才,而家庭农场和农民合作社都属于集体经济,故有利于壮大集体经济,进而有利于推进乡村振兴,而乡村振兴又是建立现代化经济体系的重要举措。C 项正确。

#### 15. 答案 C

**命题透析** 本题以多个省份在 2021 年政府工作报告中围绕城市群、都市圈的发展作出部署为情境,考查新发展理念的有关知识,考查考生获取和解读信息的能力,考查科学精神学科素养。

**思路点拨** 强调都市圈建设,有利于打破各城市之间的行政边界,建立完善统一开放的市场体系,推动区域协调发展,②可选;强调都市圈建设,有利于发挥核心城市的作用,推动一体化发展,提高发展的整体效能,③可选;“形成区域垄断”说法错误,①不选;材料没有涉及国际循环,④不选。

#### 16. 答案 B

**命题透析** 本题以 2021 年中央“一号文件”的有关内容为情境,考查民主管理的有关知识,考查考生调动和运用知识的能力,考查公共参与学科素养。

**思路点拨** 从材料中“在有条件的地方积极推行村党组织书记通过法定程序担任村民委员会主任”,可推知选①;从“选优配强村务监督委员会成员”“基层纪检监察组织加强与村务监督委员会的沟通协作、有效衔接”可以推知选④。材料没有涉及农村基层自治组织创新,②不选。村委会不是行政机关,③不选。

#### 17. 答案 A

**命题透析** 本题以 2021 年政府工作报告中提出加强数字政府建设为情境,考查政府的有关知识,考查考生获取



取和解读信息的能力,考查政治认同学科素养。

**思路点拨** 加强数字政府建设,主要强调通过数据共享,互联互通,让数据多跑腿,人民群众少跑腿,进而降低行政成本,提高行政服务的水平和能力,①②符合题意。材料主要强调提高服务水平,而非提升监管能力,③不选。简化行政手续,并不是意味着聚集行政权力,④不选。

18. 答案 A

**命题透析** 本题以习近平在中国—中东欧国家领导人峰会上的讲话为情境,考查当代国际社会的有关知识,考查考生获取和解读信息的能力,考查政治认同学科素养。

**思路点拨** 讲话内容体现了我国坚定维护多边主义,坚持独立自主的基本立场,积极推动中国和中东欧国家共同发展,①③符合题意。独立自主和平外交是我国的外交政策,②不选。国家主权和安全只能靠本国自己维护,④表述有误。

19. 答案 D

**命题透析** 本题以用山歌向大家宣传十九届五中全会精神为情境,考查文化创新的有关知识,考查考生获取和解读信息的能力,考查科学精神学科素养。

**思路点拨** 云南省陇川县护国乡用山歌宣传十九届五中全会精神,因好理解、易消化而深受人民群众喜爱,②④符合题意。优秀文化才能引领时代前进方向,①不选。材料没有体现文化推动社会实践发展,③不选。

20. 答案 B

**命题透析** 本题以贫困地区推动文化和旅游扶贫相结合为情境,考查文化与经济、文化的作用的有关知识,考查考生调动和运用知识的能力,考查科学精神学科素养。

**思路点拨** 励民即通过扶志扶智,发挥先进文化的强大精神力量,①可选;文化遗产是历史文化成就的标志,②不选;文旅融合体现文化与经济相互交融,能够推动生产力发展,增加人们收入,③可选;只有大力发展公共文化事业,才能让文化发展成果由人民共享,实现安民,④不选。

21. 答案 B

**命题透析** 本题以元朝著名文学家揭傒斯的诗《归舟》为情境,考查唯物论及发展观的有关知识,考查考生调动和运用知识的能力,考查科学精神学科素养。

**思路点拨** 风雨都是大气运动的产物,背后有其固有规律,①可选。“波浪争掀舞”,作者用波浪的翻滚来抒发世事艰难的感慨,寓指事物发展的道路是曲折的,③可选。两岸青山相对于顺江而下的大舸处于绝对运动状态,②不选。诗中的拜庙祭祠体现的是客观唯心主义倾向,④不选。

22. 答案 C

**命题透析** 本题以高校教师职称评审存在一些不良倾向为情境,考查矛盾观的有关知识,考查考生调动和运用知识的能力,考查科学精神学科素养。

**思路点拨** 教师的主要任务是教书育人,职称评审重科研轻教学,没有用全面的观点看问题,①可选;“种种问题的解决有赖于体制机制的革新”说明④可选。职称评审要考虑到不同学科的特殊性,但不代表不同学科教师职称评审标准要完全不同,②不选;③不符合题目要求,不选。

23. 答案 A

**命题透析** 本题以农业农村部于2021年2月发布了《农村土地经营权流转管理办法》为情境,考查社会发展规律的有关知识,考查考生调动和运用知识的能力,考查科学精神学科素养。

**思路点拨** 从材料可以看出,原有的《农村土地承包经营权流转管理办法》已滞后于形势变化,新发布的《农村土地经营权流转管理办法》将推动农村发展,①可选;土地经营权属于生产关系范畴,新发布的《农村土地经营权流转管理办法》将进一步推动农村生产力发展,②可选。法律制度属于上层建筑范畴,③表述不妥。我国农村社会基本矛盾本身就是非对抗性的,④不选。

38. **命题透析** 本题以我国房地产市场发展相关信息为情境,综合考查企业经营、货币政策及建设现代化经济体系的有关知识,考查考生解读信息,运用所学知识分析、阐释问题的能力,考查科学精神等学科素养。

**答案要点** (1)从1999年至2020年,我国房价收入比总体呈上涨趋势,房价收入比超出合理区间,居民购房成本大幅增加。(2分)我国居民杠杆率不仅高于新兴经济体,也高于不少发达国家,影响我国经济发展和金融稳定。(2分)

(2)房地产关联上下游几十个行业,对我国实体经济发展起了重要支撑作用。(2分)但由于房价上涨助推居民买房热情,挤压居民消费空间,制约了实体企业的生产和销售;(2分)支持中小微企业的贷款违规流入楼市,加剧了实体企业融资难融资贵;(2分)大量资金涌入楼市,会加剧金融风险,破坏经济稳定;(2分)做实业不如买房赚钱,不利于营造脚踏实地、勤劳创业、实业致富的发展环境和社会氛围,最终不利于实体经济发展。(2分)

39. **命题透析** 本题以2020年全国人大常委会工作报告相关内容为情境,考查我国的人民代表大会的有关知识,考查考生解读信息,运用所学知识分析、阐述问题的能力,考查法治意识等学科素养。

**答案要点** 中国共产党是中国最高政治领导力量,党领导一切,全国人大常委会工作始终坚持党的领导;(3分)行使立法权和监督权,依照法定程序开展立法工作,通过执法检查,监督法律实施,督促其他国家机关依法办事,通过备案审查,维护国家法治统一;(3分)重视发挥人大代表密切联系群众、协助法律实施的作用,通过拓宽人民群众参与立法渠道,增强全民法治观念,推动全民守法;(3分)坚持了党的领导、人民当家作主、依法治国的有机统一。(3分)

40. **命题透析** 本题以中央文明办发出《关于开展“童心向党”教育实践活动的通知》为情境,考查中华民族精神、认识论等有关知识,考查考生解读信息,运用所学知识论证和探究问题的能力,考查科学精神等学科素养。

**答案要点** (1)开展“童心向党”教育实践活动,有利于青少年准确理解中华民族精神的内涵,坚持爱党爱国爱社会主义的统一;(2分)正确认识中国共产党成立后,中华民族精神的丰富和发展主要体现在党的奋斗历程中,中国共产党人的精神是中华民族精神的主体;(3分)从党所取得的辉煌成就中,感悟中华民族精神的不朽价值和生命力,增强对中华民族精神的高度自信;(3分)在潜移默化中把青少年培养成为中华民族精神的传播者、弘扬者和建设者。(2分)

(2)本次活动主题、任务明确,纳入精神文明创建工作,学校积极参与、媒体宣传报道,体现了实践具有能动性和社会历史性。(6分)实践是认识的来源和发展动力,通过本次活动,有力增进青少年爱国爱党之情,激发青少年投身中国特色社会主义事业的热情,从而树立报国之志。(6分)

(3)示例:长津湖战役中冰雕连的感人故事;(2分)上甘岭战役中志愿军战士不怕牺牲的故事。(2分)



## “皖豫名校联盟体”2021 届高中毕业班第三次考试

### 文科综合·历史答案

24~35 小题,每小题 4 分。

24. 答案 D

**命题透析** 本题以战国时期行业产品产量的增加为背景材料,考查中国古代经济,旨在考查考生获取和解读信息、调动和运用知识的能力,同时体现了对唯物史观、时空观念、历史解释、家国情怀学科素养的考查。

**思路点拨** 材料显示,战国时期铁器等行业产品产量有所增加,手工产品构成发生变化,这是当时冶铁业的进步和手工业分工扩大的结果和反映,D 项正确。仅凭铁器生产量的增加不能得出冶铁技术的普及,A 项错误;材料显示的是手工业产品构成变化,不能体现地区经济联系加强和粮食产量增长,B、C 两项错误,排除。

25. 答案 D

**命题透析** 本题以秦、隋郡的分布图为背景材料,考查中国古代政治,旨在考查考生获取和解读信息、调动和运用知识的能力,同时体现了对唯物史观、时空观念、历史解释学科素养的考查。

**思路点拨** 材料显示,秦代郡地理分布北密南稀,隋后期郡地理分布南北均衡。秦汉时期,经济重心一直在北方黄河流域,因此,秦汉北方地方行政建置并未减少,A 项错误;魏晋时期,由于北方战乱,北民南迁,南方经济发展加快,导致南方地方行政建置的增多、北方地方行政建置的减少。因此,隋后期郡的地理分布呈现南北均衡状态,B、C 两项错误;隋唐以后郡的地理分布则因经济重心南移的完成而呈现出南密北稀状态,D 项正确。

26. 答案 B

**命题透析** 本题以学者有关理学的评述为背景材料,考查中国古代思想,旨在考查考生获取和解读信息、调动和运用知识的能力,同时体现了对唯物史观、时空观念、历史解释、家国情怀学科素养的考查。

**思路点拨** 材料表明,该学者认为理学家们在人伦关系中强制注入以“理”为依据的尊卑名分,即理学是对传统礼治秩序的重建,B 项正确。材料并未提及“礼仪程序”,A 项错误;礼治秩序只承认人伦关系网的存在,否认个体的独立价值,C 项错误;D 项材料不能体现,排除。

27. 答案 A

**命题透析** 本题以清代的内阁为背景材料,考查中国古代政治,旨在考查考生获取和解读信息、调动和运用知识的能力,同时体现了对唯物史观、时空观念、历史解释学科素养的考查。

**思路点拨** 材料中的“古之中书省”“登政府”“如前代宰相”“大学士依例充当监修总裁官”说明,清代内阁担负政府职责,是协助皇帝办理国家政务的机构,A 项正确,B 项错误;C 项不符合史实,排除;D 项材料无法体现,排除。

28. 答案 A

**命题透析** 本题以近代中国丝茶的出口为背景材料,考查中国近代经济结构变动,旨在考查考生获取和解读信息、调动和运用知识的能力,同时体现了对唯物史观、时空观念、历史解释、家国情怀学科素养的考查。

**思路点拨** 材料显示,1865 年到 1895 年,中国茶丝出口值下降,出口数量却不断增长,说明丝茶出口价格不断下降,这是其质量和生产率下降的反映,与其生产技术停滞密切相关,A 项正确。B、C、D 三项与题意不符,排除。

29. 答案 C

**命题透析** 本题以民国时期白话文运动大事统计表为背景材料,考查中国近代思想解放潮流,旨在考查考生

获取和解读信息、调动和运用知识的能力,同时体现了对唯物史观、时空观念、历史解释、家国情怀学科素养的考查。

**思路点拨** 材料表明,白话文运动的兴起和发展过程中,最终得到了政府的认同而推广,C项正确。A、D两项材料不能体现,且夸大了白话文运动的影响,排除;洋务运动时期,新式教育即已兴起,B项错误。

30. 答案 B

**命题透析** 本题以人民解放战争时期中共接管城市中的问题为背景材料,考查近代中国求民主潮流,旨在考查考生获取和解读信息、调动和运用知识的能力,同时体现了对唯物史观、时空观念、历史解释、家国情怀学科素养的考查。

**思路点拨** 材料显示,随着中共统治区域的增加,在城市接管中暴露出一系列问题,缺乏足够的行政人员和技术人员,即城市接管中干部严重不足,这是人民解放军转入战略反攻后,占领了越来越多的城市的结果,A项错误,B项正确;C、D两项均在战略反攻之后,排除。

31. 答案 B

**命题透析** 本题以“一五”计划期间的部署为背景材料,考查新中国社会主义建设,旨在考查考生获取和解读信息、调动和运用知识的能力,同时体现了对唯物史观、时空观念、历史解释、家国情怀学科素养的考查。

**思路点拨** 材料显示,“一五”计划对工业布局的部署中,加大了内地部署力度,改变了内地和沿海地区经济发展的不平衡状态,促进了区域经济的均衡发展,B项正确。1952年国民经济的恢复,意味着国民经济形势开始好转,A项错误;“一五”计划实施前,原有工业基础较好的地区集中于东北和沿海城市,C项不符合材料主旨,排除;国民经济调整工作出现于1962—1965年,D项错误。

32. 答案 C

**命题透析** 本题以学者有关罗马法的认识为背景材料,考查罗马法,旨在考查考生获取和解读信息、调动和运用知识的能力,同时体现了对唯物史观、时空观念、历史解释学科素养的考查。

**思路点拨** 联系所学知识可知,公元前242年到公元2世纪末至3世纪初是罗马公民法向万民法的过渡时期,罗马公民法适用范围主要限于罗马公民,万民法适用于罗马统治范围内一切自由民,罗马法的主体范围不断扩大,C项正确。公元前5世纪中期,《十二铜表法》的颁布,揭开了罗马成文立法的序幕,A项错误;罗马法成为完整的法律体系是在查士丁尼时期,B项错误;公民法不能适应社会需要而为万民法取代,D项错误。

33. 答案 D

**命题透析** 本题以路德与对手的辩论为背景材料,考查宗教改革,旨在考查考生获取和解读信息、调动和运用知识的能力,同时体现了对唯物史观、时空观念、历史解释学科素养的考查。

**思路点拨** 根据材料中的“教皇敕令、宗教会议的决议、早期基督教领袖著述等,想借此压倒路德”可知,艾克借用教皇和教会权威来反对马丁·路德对教皇和教会权威的否定,以达到维护教皇权威目的,D项正确。A、B、C三项材料不能说明,排除。

34. 答案 C

**命题透析** 本题以近代美孚石油公司的发展为背景材料,考查第二次工业革命,旨在考查考生获取和解读信息、调动和运用知识的能力,同时体现了对唯物史观、时空观念、历史解释学科素养的考查。

**思路点拨** 根据材料中的“美孚石油公司一家控制其中3 300万元”可知,美孚石油公司的资本占全国石油业的90%以上,垄断了美国石油业,“账面净资产从7 200万美元增至1.15亿美元”说明,美孚石油公司垄断美国炼油业推动了生产力的发展,C项正确。第二次工业革命促进世界经济结构的变化,但与材料内容无关,A项错误;材料不能体现新技术的使用情况,B项错误;材料反映的是垄断的作用,体现不出资本家之间的矛盾,D项错误。

35. 答案 A

**命题透析** 本题以不结盟运动会议为背景材料,考查世界多极化趋势,旨在考查考生获取和解读信息、调动和运用知识的能力,同时体现了对唯物史观、时空观念、历史解释学科素养的考查。

**思路点拨** 根据材料中的“一国际组织成立后召开的第一、二、四次国际会议”“1961年9月”等可知,该国际组织是不结盟运动。不结盟运动的兴起标志着第三世界的形成,随着第三世界的兴起和发展,大批新兴独立国家加入联合国,使联合国内力量构成逐渐发生变化,A项正确。20世纪60年代欧共体的成立、日本的崛起,意味着西方资本主义阵营出现分化,B项错误;材料表明,第三世界的斗争从政治领域逐渐扩大和深入到经济领域,C项错误;D项中的“美苏关系不断走向缓和”不符合史实,排除。

41. 命题透析 本题以近代英国和中国的航运业为背景材料,旨在考查考生获取和解读信息、调动和运用知识、描述和阐释事物的能力,同时体现了对唯物史观、时空观念、历史解释、家国情怀学科素养的考查。

**答案要点** (1)原因:新航路开辟使英国处于大西洋航运中心;加强与海外广阔殖民地联系需要;蒸汽机的发明与使用;工业革命的开展,英国世界工厂地位的确立;英国政府的支持。(6分,任答3点,言之成理即可)

影响:提供了廉价便利的运输方式;带动了其他工业部门的发展;促进了英国经济的发展;加强了与世界各地的联系;推动了资本主义世界市场的形成(6分,任答3点,言之成理即可)

(2)目的:扭转中国航运业日益衰落的局面;抵制外商轮船航运势力的扩展;解决洋务派军事工业面临的困境;与外商轮船公司争利(9分,言之成理即可)

(3)启示:发展航运业应与时俱进、适应社会发展需要;发展航运业有利于解决交通运输问题、促进经济发展;发展航运业应以维护国家利益为前提;发展航运业需要借鉴外国先进技术。(4分,任答2点,言之成理即可)

42. 命题透析 本题以“唐宋变革”为背景材料,旨在考查考生获取和解读信息、调动和运用知识、描述和阐释事物、论证和探讨问题的能力,同时体现了对唯物史观、时空观念、历史解释、家国情怀学科素养的考查。

**答案要点** 示例1:

论题:唐宋变革使中国文明得到极大发展。(2分)

论述:宋朝时期,中央集权行政管理和官僚制度的完善、科举制度的发展,经济重心的逐步南移、海外贸易的发展和商业城市的兴起与发展、商业模式的变化,农业、手工业、商业和科学技术(火药、印刷术、指南针)都取得了前所未有的新成就,理学复兴以及文学和艺术的辉煌成就,使中国文明向新的方向迈进。(8分,言之成理即可)

综上所述,唐宋之际中国保持和复兴了传统的重要思想、制度、政治和社会组织模式,中国文明得到重建并实现重大发展。(2分)

示例2:

论题:唐宋变革在人类文明史上占有重要地位。(2分)

论述:宋朝时,中国官僚制度完善、科举制度发展,经济重心逐步南移、海外贸易发展和商业城市的兴起与发展、商业模式变化及中国科学技术(火药、印刷术、指南针)、文学和艺术的辉煌成就取得,使中国文明向新的方向迈进。宋朝重要的技术突破和科学发现,逐渐传播到其他文明中并促进了人类发展,如火药、印刷术、指南针传入欧洲,促进了西欧资本主义的兴起和发展。(8分,言之成理即可)

综上所述,宋朝是中国历史发生重大转变时期,在中国和世界历史上具有重要地位。(2分)

(“示例”只作评卷参考,不作为唯一标准答案)

45. 命题透析 本题以刘秀解放奴婢改革为背景材料,旨在考查考生获取和解读信息、调动和运用知识、描述和阐释事物的能力,同时体现了对唯物史观、时空观念、历史解释学科素养的考查。

**答案要点** (1)背景:长期战乱,人口锐减;生产破坏严重,社会经济凋敝;奴婢问题日益严重;东汉政府建立。

(8分,言之成理即可)

(2)意义:使奴隶制残余得到了清理;缓和了社会矛盾;增加了社会劳动力;促进了生产和社会经济的恢复。

(7分,言之成理即可)

46. **命题透析** 本题以珍珠港事件为背景材料,旨在考查考生获取和解读信息、调动和运用知识、描述和阐释事物的能力,同时体现了对唯物史观、时空观念、历史解释学科素养的考查。

**答案要点** (1)背景:第二次世界大战的规模不断扩大;德意日三国轴心同盟成立;日本对东南亚侵略加剧;美国对日本防范和制裁升级,美日矛盾激化。(8分,言之成理即可)

(2)影响:使太平洋战争爆发;美国加入战争,二战规模进一步扩大;为世界反法西斯统一战线的建立奠定了基础;使美国经济转上战时经济的轨道,刺激了美国经济的增长。(7分,言之成理即可)

47. **命题透析** 本题以陈嘉庚为背景材料,旨在考查考生获取和解读信息、调动和运用知识、描述和阐释事物的能力,同时体现了对唯物史观、时空观念、历史解释学科素养的考查。

**答案要点** (1)贡献:推动了橡胶业的发展;拓展了工业品的国际市场;打破了英国资本的垄断;促进了民族工业的发展。(8分,言之成理即可)

(2)原因:一战提供的机遇;非凡的个人才能;兴办实业的执着精神。(7分,言之成理即可)

## 关于我们

自主选拔在线是致力于提供新高考生涯规划、强基计划、综合评价、三位一体、学科竞赛等政策资讯的升学服务平台。总部坐落于北京,旗下拥有网站(网址:[www.zizzs.com](http://www.zizzs.com))和微信公众平台等媒体矩阵,用户群体涵盖全国90%以上的重点中学师生及家长,在全国新高考、自主选拔领域首屈一指。

如需第一时间获取相关资讯及备考指南,请关注**自主选拔在线**官方微信号:[zizzsw](https://www.zizzs.com)。



关注后获取更多资料:

回复“答题模板”，即可获取《高中九科试卷的解题技巧和答题模版》

回复“必背知识点”，即可获取《高考考前必背知识点》

