

历史试题

2021.05

注意事项:

1. 答卷前, 考生务必将自己的姓名、考生号等填写在答题卡和试卷指定位置。
2. 回答选择题时, 选出每小题答案后, 用铅笔把答题卡上对应题目的答案标号涂黑。如需改动, 用橡皮擦干净后, 再选涂其他答案标号。回答非选择题时, 将答案写在答题卡上。写在本试卷上无效。
3. 考试结束后, 将本试卷和答题卡一并交回。

一、选择题: 本题共 15 小题, 每小题 3 分, 共 45 分。每小题只有一个选项符合题目要求。

1. 商代甲骨文“德”字没有“心”符, 时人尊崇天命, 认为一切都是神意赐予的结果; 西周金文的“德”字加入了“心”旁, 将人的行为和思想联系起来, 由此产生了以德配天的政治法律观念。这说明西周

- A. 强化了统治的神权色彩
B. 实行了严格的等级秩序
C. 天命观中蕴含民本思想
D. 君权神授的观念已消失

2. 秦统一后将故六国统治阶层及家眷进行迁徙, 状况如下。秦政府此项措施旨在

国家	身份 迁徙地	王族	从人	从人家眷
赵		赵王迁房陵	原迁巴县盐, 后改为洞庭郡	不明
代、齐		齐王迁共县	不明	原迁巴县盐, 后改为洞庭郡
魏、楚		魏豹之兄魏咎迁为家人	巴县盐	洞庭郡

- A. 瓦解旧势力巩固国家统一
B. 延续国家分封统治的传统
C. 加强对边疆的管辖与开发
D. 迁徙人口促进民族的交融

3. 古代经济的发展状况与劳动力数量密切相关。下表为唐初 (639 年) 和唐中期 (742 年) 江南部分地区的人口变化统计表。这反映了

州名	户数			口数		
	639 年	742 年	增长率 (%)	639 年	742 年	增长率 (%)
苏州	11859	76421	544.4	54471	632655	1061.4
杭州	30571	86258	182.2	153720	585963	381.2
台州	6583	83868	1174.0	35383	489015	1282.0
温州		42814			241694	

历史试题 第 1 页 共 6 页



- A. 经济重心开始向南移
B. 沿海经济发展更迅速
C. 江南地区进一步开发
D. 税制改革使人口增长
4. 王安石曾提出“守天下之法者莫如吏”，特别强调官吏队伍建设的重要性。但从变法结果看，“用人不当”却是其失败的重要原因。对此认识正确的是
- A. 变法在指导思想急于求成
B. 治国理念实现需要精准施策
C. 新旧党争影响变法措施实施
D. 后世研究无法还原历史真相
5. 《红楼梦》第一回，僧道和一块顽石对话的场景。渴求“补天”的顽石，全然不顾道家佛学的本来面目，张口称赞二位先师“必有补天济世之才，利物济人之德”。这反映了作者
- A. 试图挽救没落的封建制度
B. 受到空疏学风流弊的影响
C. 认同儒家济世安民的传统
D. 迎合底层民众的审美情趣
6. 近代以来，我国蚕丝业中的投机行为严重。以上海为例，大量缂丝者在打算从事生产时，只是向厂主租赁车间与设备，有时还租用商标、戳记。由于租期很短，缂丝者对自己购买机器、厂房不感兴趣。该现象会导致
- A. 民族资本主义急剧衰落
B. 蚕丝业对外竞争力下降
C. 近代经济结构发生变动
D. 小农经济解体速度加快
7. 有学者在评论近代某派别时说，“他们可谓是在反传统的形式之下捍卫传统”，最终“思想回归保守，被历史的激流甩在身后”。以下属于该派别主张的是
- A. 师夷长技以制夷
B. 中体西用
C. 君主立宪
D. 民主科学
8. 1900年7月，美国总统麦金莱在写给光绪帝的信中表示：“我们派部队到中国的目的，是从严重危险中营救美国公使馆。……同时，本政府在取得其他国家的同意后，将乐于以此目的为陛下进行友好的斡旋。”美国总统此举旨在
- A. 保障美国公民在华利益
B. 维持与清廷的良好关系
C. 获取对华侵略优势地位
D. 美化其侵略扩张的行径

9. 史学界围绕“中共一大”开幕日期展开多次讨论,下表列举了部分观点。据此可以得出

出 处	观 点
当事人回忆	7月1日(张国焘和李达);7月10日左右(包惠僧)
共产国际档案	大会预定6月20日召开,但各地的代表直到7月23日才全部到达上海,大会才开幕
《中国社会科学》刊载文章	从代表行踪、从可以借助的间接事件、从当时的文字记载三方面考证,认为一大的开幕日期是7月23日

- A. 当事人回忆更接近史实
B. 史学研究依靠原始档案
C. 国家刊物最具有权威性
D. 历史研究需要多重考证

10. 下表为1985年和1998年各类经济成分在工业总产值中的比重。这一变化说明



- A. 国有经济活力下降
B. 乡镇企业异军突起
C. 经济体制改革深化
D. 市场经济体制形成

11. 古希腊人认为,为了博得诸神欢心,人类就应该奉献力量、速度、耐力等素质和强健的体格。要实现这一目的,就必须经过一系列的身体训练,并在奥林匹克竞技中体现出来。这一观念

- A. 推动了商品经济的发展
B. 树立了宗教神学的权威
C. 适应了寡头政治的需求
D. 推动了人文观念的发展

12. 1624年英国出台法案规定,任何涉及专利问题的侵权都可以向王室法庭或者是财政署普通法庭起诉,如果在诉讼中获得成功,胜诉方可获得高额补偿。该法案

- A. 反映了当时英国技术的先进
B. 成为了工业革命的直接动力
C. 鼓励了民众技术革新的热情
D. 推动了工业技术的加速传播

13. 1916年,英国《国土保卫法》细则增加条款认定:发现信鸽死亡或者不能飞行,未及时发现信鸽移交或者送交附近的军事哨所或警察局,且未提供信鸽被发现的地点属于犯罪行为。

- 由此推知当时英国
A. 通过立法手段保护生态环境
B. 现代通信手段未应用于军事

- C. 重视提升民众国家安全意识
D. 人们渴望结束战争赢得和平
14. 斯达汉诺夫运动是苏联在 1935 年发起的一场社会主义竞赛的群众运动。档案记载, 在部分煤矿部门中, 工人如果产出达到标准产出定额的 110% 就可以得到双倍的基础工资, 如果超出产出定额的 110% 则会被支付三倍的基础工资。这表明苏联
- A. 新经济政策已阻碍了经济的发展
B. 采用经济手段来提高生产的效率
C. 尝试利用商品货币关系调节市场
D. 建立了高度集中的计划经济体制
15. 1986 年, G7 财长(美、英、日、法、西德、意、加)在东京召开会议, 并达成如下协议: 七国相互之间对汇率、经济增长率、通货膨胀率、货币增长率、利息率、失业率、财政赤字、外贸差额以及储备状况 9 个宏观经济指标, 进行“监督”和“政策协调”。这反映了
- A. 贸易保护主义
B. 经济重心转移
C. 经济区域集团化
D. 国家调节国际化

二、非选择题: 本题共 4 小题, 共 55 分。

16. (14 分) 大禹神话产生于口耳相传的时代, 文字的产生记录下了各个时代神话的发展变化过程, 流传至今。阅读材料, 回答问题。

材料	作品	内容
甲	西周中期夔国国君“夔公”青铜礼器铸《夔公盃铭文》(目前所知中国最早的关于大禹神话记录)	“天命禹敷土、唯德民、 <u>好明德、忧在天下。</u> ”
乙	春秋战国时期《诗经·小雅》、《孔子家语·五帝德》、《孟子·滕文公》	“信彼南山, 维禹甸之。”(南山: 今终南山, 今陕西西安市南); “禹掘地而注之海……水由地中行, 江、淮、河、汉是也”“…… <u>为民父母</u> ……兴六师以征不序, 四极之民, 莫敢不服。”; “禹疏九河, ……禹八年于外, 三过其门而不入, 虽欲耕得乎。”
丙	汉武帝时期司马迁著《史记·夏本纪》	“……劳身焦思, 居外十三年, 过家门不敢入。薄衣食, 致孝于鬼神。卑宫室, 致费于沟洫……以开九州(豫州、青州、徐州、扬州、荊州、梁州、雍州、冀州、兖州), 通九道, 陂九泽, 度九山。令益子众庶稻, 可种卑湿。命后稷予众庶难得之食。食少, 调有余相给, 以均诸侯。 <u>禹乃行相地宜所有以贡, 及山川之便利。</u> ”

- (1) 根据材料, 概括大禹神话传播的特点。(8 分)
(2) 以“大禹神话”为探究主题, 对三则史料进行辨析。(6 分)

17. (12分) “她”字是五四新文化运动时期发明的女性新代词,中国首份妇女画报《解放画报》于1921年7月第13期以后,启用“她”字指代女性和国家。阅读材料,回答问题。



图1《解放画报》第12期(1921年),描绘了一女子被大秤砣压住,动弹不得,秤砣上写着四个字“男统主义”。



图2《解放画报》第15期(1921年),描绘了一女子被锁链捆绑在刻有经济二字的石柱上,她一旁放置了写有“实学”和“职业”的斧头。其题词为:“打器在她旁边,一味的不用,难道不要解脱这束缚么?”


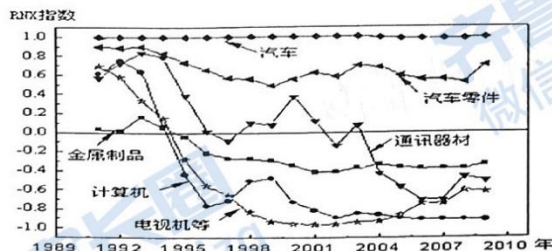


图3《解放画报》第17期(1921年),其题词为:“她受过了四千多年束缚,已经半身麻木。现在有人扶着她走,总该起来活动了。”不仅以女性指代祖国,且以女性来搀扶她醒来活动。

——摘编自黄兴涛《“她”字溯源》

结合时代背景,对三幅漫画所蕴含的历史信息加以解读。

18. (16分) 一般而言,研究两国贸易结构中的产品国际竞争力问题时,国内外学者常使用净出口比率(Ratio of net export, RNX)这一指标。阅读材料,回答问题。



中日两国工业制成品的出口竞争力

(注: RNX 指数越接近于-1,表示中国商品越具有比较优势,出口竞争力越强。反之, RNX 指数越接近于1,表示日本商品越具有比较优势,出口竞争力越强。)

——摘编自苏国辉 李彬《中日贸易关系20年回顾与展望》

提取图中相关领域 RNX 指数信息,并结合所学知识进行阐释。

19. (13分) 阅读材料, 回答问题。

从金融发展史的角度来看, 国际金融中心的漂移往往是不同国家经济兴衰的过程。从13世纪的威尼斯……再到如今的亚太地区, 这些国际金融中心的漂移都往往意味着一个时代的结束, 另一个时代的开始。并且随着世界各国经济的不断发展, ……21世纪的国际金融中心显然不同于13世纪的国际金融中心。虽然国际金融中心漂移具有一定的偶然性, 但在这些偶然性之中蕴涵着某种必然。

——摘编自吴晓求《历史视角: 国际金融中心迁移路线》

(1) 在下图中用“→”标注国际金融中心迁移的路线。(请在答题纸上作答) (3分)



(2) 选取上图中的一个国际金融中心, 结合其兴衰史实, 论证“国际金融中心的漂移蕴含着某种必然”。(10分)

关于我们

齐鲁家长圈系业内权威、行业领先的自主选拔在线旗下子平台，集聚高考领域权威专家，运营团队均有多年高考特招研究经验，熟知山东新高考及特招政策，专为山东学子服务！聚焦山东新高考，提供新高考资讯、新高考政策解读、志愿填报、综合评价、强基计划、专项计划、双高艺体、选科、生涯规划等政策资讯服务，致力于做您的山东高考百科全书。

第一时间获取山东高考升学资讯，关注齐鲁家长圈微信号：sdgkjzq。



微信搜一搜

齐鲁家长圈

打开“微信 / 发现 / 搜一搜”搜索