

## 高三文科综合

### 考生注意：

1. 本试卷分选择题和非选择题两部分。满分 300 分，考试时间 150 分钟。
2. 答题前，考生务必用直径 0.5 毫米黑色墨水签字笔将密封线内项目填写清楚。
3. 考生作答时，请将答案答在答题卡上。选择题每小题选出答案后，用 2B 铅笔把答题卡上对应题目的答案标号涂黑；非选择题请用直径 0.5 毫米黑色墨水签字笔在答题卡上各题的答题区域内作答，超出答题区域书写的答案无效，在试题卷、草稿纸上作答无效。
4. 本试卷主要命题范围：高考范围。

一、选择题：本题共 35 小题，每小题 4 分，共 140 分。在每小题给出的四个选项中，只有一项是符合题目要求的。

新能源汽车具有节能环保、使用成本低、智能程度高等优点，受到越来越多的消费者青睐。受国家产业政策、配套设施、消费偏好等因素影响，不同国家新能源汽车发展有较大差异。下表示意 2017~2022 年部分国家新能源汽车市场渗透率(单位：%)变化(含预测)，新能源汽车渗透率=新能源汽车销量/汽车总销量 $\times 100\%$ 。据此完成 1~3 题。

年份 国家	2017 年	2018 年	2019 年	2020 年	2021 年	2022 年(预测)
中国	2	4	4	5	13	23
德国	1	2	3	13	23	24
法国	2	2	2	9	14	17
挪威	29	38	42	58	70	70
美国	1	2	2	2	4	7
日本	1	1	1	1	1	2
韩国	1	2	2	1	4	7

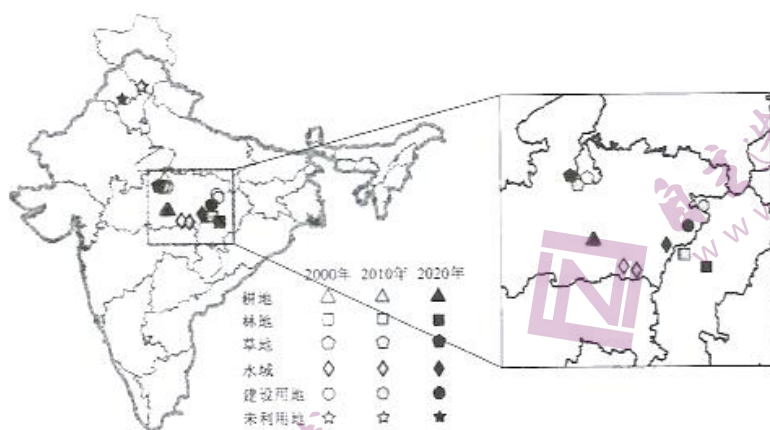
1. 图中信息显示

- A. 中国新能源汽车发展势头良好
  - B. 挪威新能源汽车潜在市场最大
  - C. 渗透率与经济发展水平成正比
  - D. 渗透率与经济发展速度成反比
2. 2021 年中国新能源汽车渗透率小于德国，但是销售量远大于德国，主要是因为
    - A. 中国新能源汽车市场庞大
    - B. 中国新能源汽车价格较低
    - C. 德国新能源汽车市场饱和
    - D. 德国新能源汽车出口量大
  3. 近年来，中国新能源汽车在欧洲市场的渗透率不断提高，主要得益于
    - A. 政府补贴多
    - B. 知名度高
    - C. 生产能力强
    - D. 性价比高

印度是全球增长最快的新兴经济体，作为世界耕地大国和农业大国，其土地利用格局演化对全球粮食安全 and 可持续发展意义重大。下图示意 2000~2020 年印度主要土地利用类型重心迁移情况。据此完成 4~6 题。

【高三开学考·文综 第 1 页(共 12 页)】

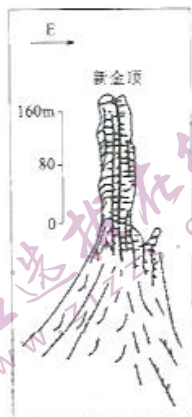
L



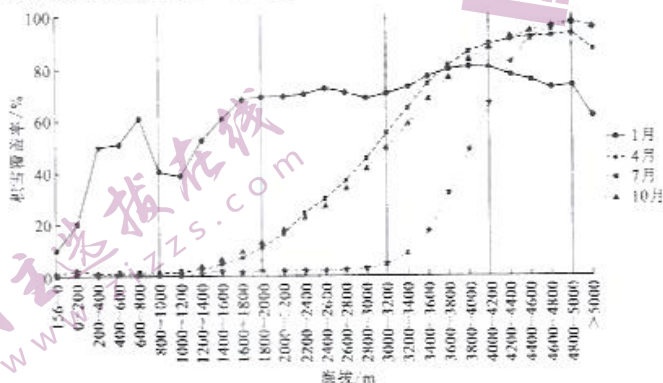
4. 下列印度的土地利用类型中,2000~2020年重心位置最为稳定的是  
A. 草地                      B. 林地                      C. 耕地                      D. 建设用地
5. 2000~2020年印度水域重心向东北方向迁移,其原因可能是  
①全球气候变暖    ②水域面积分布较为均匀    ③东北季风强度增强    ④西南季风强度增强  
A. ①③                      B. ①④                      C. ②③                      D. ②④
6. 2000~2020年印度西南部城市  
A. 出现逆城市化现象                      B. 林地转化为建设用地最多  
C. 城镇化速度比较快                      D. 未利用土地面积持续增加

梵净山是武陵山脉主峰,山体主体为古老的层状变质岩,周围由碳酸盐岩为主的喀斯特地貌环绕。梵净山山体庞大雄浑,状似穹窿,出露地层大致沿该穹窿向周围倾斜。新金顶是梵净山主体三大峰之一,海拔2536m,四面悬崖峭壁,整体呈柱状。右图示意梵净山新金顶素描。据此完成7~8题。

7. 梵净山山体主体属于  
A. 向斜                      B. 背斜  
C. 地垒                      D. 地堑
8. 梵净山主峰新金顶柱状形态得以保留的主要影响因素是  
A. 岩石类型                      B. 地壳运动  
C. 裂隙发育                      D. 岩石厚度



积雪覆盖率表示积雪覆盖面积占区域总面积的百分比,其变化与海拔、降水量(降雪量)、坡向、坡度、风等密切相关。天山是我国三大稳定积雪区之一,其积雪覆盖率随季节和海拔有明显的差异。下图示意2001~2018年天山不同海拔分区积雪覆盖率年内平均变化情况。据此完成9~11题。



【高三开学考·文综 第2页(共12页)】

9. 2001~2018年,天山积雪覆盖率
- ①总体随海拔升高而增加 ②总体随海拔升高而降低 ③夏季随海拔波动变化较显著 ④冬季随海拔波动变化较显著
- A. ①③ B. ①④ C. ②③ D. ③④
10. 气温对天山7月和10月积雪覆盖率垂直变化影响最大的海拔区间是
- A. 1000m以下 B. 2000~3200m C. 3200~4200m D. 4200~5200m
11. 冬季海拔大于5000m地区的积雪覆盖率下降速率大于夏季,其主要原因可能是
- A. 气温较低 B. 降雪量较大 C. 坡度较小 D. 风力较大
12. 2022年以来,S省坚持把促消费作为稳增长稳预期的重要手段,创新思路与方法,全面提振消费信心,释放消费潜力。其中,借助东方甄选助农直播“网上年货节”“618双品网购节”“金秋双节直播季”等网络促销活动,前三季度全省网上零售额达到4780.6亿元,同比增长9.7%,成为推动全省消费回暖的重要推动力量。S省的做法意在
- ①打造绿色产业链,促进居民的消费结构升级 ②挖掘消费的巨大潜力,培育经济发展新动能 ③搭建消费平台,推动线上线下消费融合发展 ④营造良好消费环境,引导居民科学理性消费
- A. ①② B. ①④ C. ③④ D. ③④
13. 2022年11月1日起,《促进个体工商户发展条例》开始施行。该条例聚焦当前个体工商户发展过程中面临的突出困难,作出有针对性的安排。内容包括:引导和支持个体工商户加快数字化发展,提升线上经营能力;加大对个体工商户的字号、商标、专利、商业秘密等权利的保护力度;规定任何单位和个人不得违反法律法规和国家有关规定向个体工商户收费或者变相收费等。该条例的施行有利于
- ①巩固我国社会主义基本经济制度的基础 ②发挥个体经济是经济发展的生力军作用 ③优化营商环境,激发公有制经济的活力 ④增强个体工商户进行创新创业的积极性
- A. ①③ B. ①④ C. ②③ D. ②④
14. 近年来,我国医保目录谈判力度不断加大。截至2021年底,14.2万家医药机构供应谈判药品,国谈药全年累计惠及患者1.4亿人次、为民减负1500亿元。2022年国家医保药品目录调整,对罕见病用药开通单独申报渠道,已有45种罕见病用药被纳入国家医保药品目录。国家此举
- ①有利于降低群众用药成本,惠民利民 ②可以增强医保药品的功能性和经济性 ③提升了我国基本医疗保障的服务能力 ④有效规避了医保药品市场交易的弊端
- A. ①② B. ①③ C. ②④ D. ③④
15. 没有人会想到,10年后的中国汽车制造商会颠覆汽车市场。如今,越来越多的中国汽车品牌正加速走向全球。根据中国海关总署统计,2022年前八个月,中国汽车出口达191万辆,超越德国,仅次于日本,中国汽车出口量赶日超德,十年时间差距缩小一半。可见,我国
- ①贸易顺差持续扩大,竞争力增强 ②实现了从引进来向走出去的转变 ③是全球经济恢复增长的支撑力量 ④经济发展的内外联动性不断增强
- A. ①② B. ①④ C. ②③ D. ③④
16. 针对近年来频繁发生的未成年人的高额打赏行为等类似现象,2022年5月,中央文明办等四部门发布《关于规范网络直播打赏加强未成年人保护的意见》,明确禁止未成年人参与直播打赏。2022年7月18日,中央网信办等五部门启动“清朗·2022年暑期未成年人网络环境整治”专项行动,严厉查处诱导未成年人参与直播打赏的现象。上述举措
- ①彰显出我国坚持以人民为中心的理念 ②可以提升我国未成年人的主人翁地位 ③体现了我国政府履行文化建设的职能 ④旨在行使专政职能以增强政府威慑力
- A. ①③ B. ①④ C. ②③ D. ②④

17. 在基层治理过程中,公共法律服务是一道硬门楣。某社区活跃着一支“法律明白人”队伍,该区按照“每个网格至少2人”的要求,先后遴选社区“法律明白人”2181人,积极参与乡村治理、人民调解、普法宣传等工作。近两年来,该社区“法律明白人”共预防、化解各类社区矛盾纠纷500多起。该社区这一做法带来的影响是
- ①探索法治中国建设的有效路径 ②促进司法机关下沉服务办实事 ③为基层政府充实更多专业人才 ④推动基层治理法治化、专业化
- A. ①② B. ①③ C. ②③ D. ③④
18. 2022年10月27日,国防部新闻发言人在答记者问时表示,美方近期不断炮制损害中国主权的涉台政策法案,变本加厉搞“以台制华”,特别是有的条款意在强化美台军事联系,支持所谓台湾“自我防卫”。这些行径严重干涉中国内政,严重违反一个中国原则和中美三个联合公报规定,严重违背美方在台湾问题上对中方的严肃政治承诺,我们对此坚决反对,已向美方提出严正交涉。由此可推出
- ①主权是构成国家的基本要素具有至高无上性 ②台湾问题属于中国内政,国家统一不容挑衅 ③以和平方式解决国际争端是主权国家的义务 ④台湾作为中国地方行政区域已成为世界共识
- A. ①② B. ①③ C. ②④ D. ③④
19. 2022年9月27日,主题为“人类文明多样性与人类共同价值”的2022中国(曲阜)国际孔子文化节第八届尼山世界文明论坛在山东曲阜举行,600余名专家学者、嘉宾代表以线上和线下相结合的方式相聚,共赴一场思想盛宴、文明之约。本届论坛下设“文化交融发展与人类共同价值”“人类共同价值与全球治理”等9个分论题,举办了14场主论坛学术交流活动。本届论坛的举办有利于
- ①增强世界各国人民对中华文化的认同感 ②依托文化交流为人类文明进步注入新力量 ③传播中华文化,增强中华文明的影响力 ④统一人类的价值观,促成共同的人类价值
- A. ①③ B. ①④ C. ②③ D. ③④
20. 为老、为小、为困难群体、为需要心理疏导和情感慰藉群体、为社会公共需要服务,是新时代文明实践志愿服务的重中之重。某县有9万多名志愿者活跃在“五为”志愿服务活动一线,精准对接群众需求,用行动践行着“奉献、友爱、互助、进步”的志愿服务精神,也让越来越多群众由参与者变身为志愿者,成为热心公益的带头人。可见,“五为”志愿活动
- ①有利于提高人们道德修养和科学修养 ②是全面传承中华优秀传统文化的重要载体 ③汇聚了社会爱心力量,共创文明新风 ④推动了新时代文明实践工作成风化俗
- A. ①② B. ①③ C. ②③ D. ③④
21. 恩格斯说:“马克思的整个世界观不是教义,而是方法。它提供的不是现成的教条,而是进一步研究的出发点和供这种研究使用的方法。”列宁指出:“马克思的理论所提供的只是总的指导原理,而这些原理的应用具体地说,在英国不同于法国,在法国不同于德国,在德国又不同于俄国。”由此可见
- ①马克思主义为中国特色社会主义实践提供遵循 ②真理是具体的、不确定的,总有它的适用范围 ③本土化、时代化的理论才能放射出真理的光芒 ④马克思主义是各国社会性变革的具体行动指南
- A. ①② B. ①③ C. ②③ D. ③④
22. 很多人只看到冬奥会上“天才少女”谷爱凌的成功夺冠,却没有看到她从3岁就开始练习滑雪,也没有看到别的孩子快乐玩耍的时候她一次次的摔倒和一次次的咬牙坚持。没有昨天的辛苦,哪有今天的荣耀?经历了千锤百炼,才成就了今天的“天才少女”。谷爱凌的成长历程启示我们
- A. 把握质量互变规律,在旧质基础上开始新量变  
B. 坚持适度原则,要把量变控制在一定程度之内  
C. 重视量的积累,积极地为事物的质变创造条件  
D. 知晓质变就是发展的道理,果断促成一切质变

23. 2022年10月30日,十三届全国人大常委会第三十七次会议表决通过新修订的妇女权益保障法。针对当前升学就业、财产分配、人身权利等领域侵害妇女合法权益的问题,新修订的妇女权益保障法做出了积极回应。明确了推进性别平等理念、消除实际存在的性别歧视两类目标任务,特别是明确了性别歧视的基本判断标准,将增强法律的可操作性。上述修订旨在
- ①发挥先进社会意识对社会发展的推动作用 ②改革现有生产关系,更好促进生产力发展 ③调整上层建筑以适应经济基础的发展状况 ④通过立法确立妇女是社会历史发展的主体
- A. ①③ B. ①④ C. ②③ D. ②④

24. 下表是春秋战国时期部分思想家的君臣观。据此可知,这一时期

思想家	君臣观
孔子	“以道事君”
墨子	“官无常贵,民无常贱”“选天下之贤可者,立以为天子”
韩非子	“君臣之贵,计也”

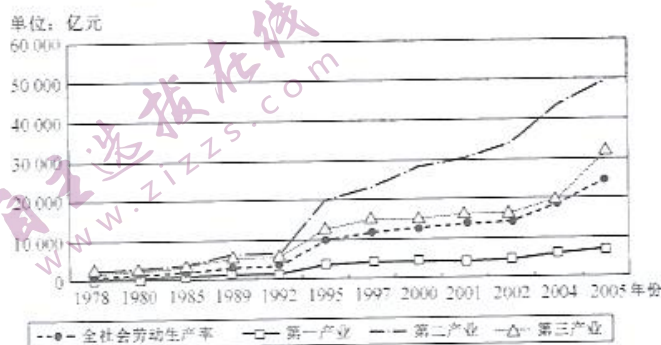
- A. 中华文化呈现出多元一体特征  
B. 三者的君臣观均植根于其核心理论  
C. 诸子百家之间的争鸣日趋激烈  
D. 诸子百家思想具有同源异流特征
25. 《汉书》记载:“监御史,秦官,掌监郡”,其主要职责是监察,但也被赋予了其他权力,如带兵作战、开渠、治狱等。汉武帝“置部刺史,掌奉诏条察州,秩六百石,员十三人”,刺史代表中央监察地方,没有固定的治所,岁末亲自去京师奏事。这一变化
- A. 保障了吏治的清明与高效  
B. 使古代监察体系得以完善  
C. 埋下汉末分裂割据的隐患  
D. 有利于加强对地方的控制
26. 唐《杂令》规定:“诸诉田宅、婚姻、债务,起十月一日,至三月三日检校,以外不合。若先有文案,交相侵夺者,不在此例”。唐玄宗时,“诏不急之务,一切且停,待至农闲,任依常式”。这些规定
- A. 体现了法律儒学化趋势  
B. 推动了唐朝商品经济发展  
C. 意在维护农业生产稳定  
D. 说明古代政治服务于农业
27. 清廷延揽晚明遗老、饱学之士参与《明史》的修撰。与以往大书崇祯帝失德之举不同的是,《明史》“言及崇祯,皆谓其不曾失德,谓明之亡,实亡于神宗”。“盖天命有归,莫之为而为者矣”。据此可知,清廷撰修《明史》旨在
- A. 承继修史传统  
B. 保存历史记忆  
C. 构建政治认同  
D. 倡导实学学风
28. 有学者说:“‘大清’与‘天国’的搏斗演化为新兵器、新军制乃至新制度的竞争。太平天国一度承诺不进攻通商口岸,而始终将炮口对准清王朝;清王朝筹办洋务以‘灭发、捻为先,治俄次之,治英又次之’。”该学者意在强调
- A. 阶级斗争客观上促进了中国的近代化  
B. 思想文化冲突影响太平天国运动  
C. 太平天国是空想性和进步性的统一体  
D. 太平天国加剧中国半殖民化程度
29. 严复指出,讲自由,则不可以不明平等,“天之生蒸民,无生而贵者也”。在西方国家,以少数服从多数为治国之道,“西之教平等,故以公治众而贵自由”。由此可知,严复意在
- A. 强调维新变法的重要性  
B. 宣传西方自由平等  
C. 利用自由平等宣传变法  
D. 反对封建等级制度

30. 下面是 20 世纪 40 年代中国共产党的政权建设情况统计表。这说明

时间	表现
1940 年	中国共产党在陕甘宁边区实行的“三三制”政权组织形式提出了“协商建立民主政权”的理论
1948 年	中共中央明确提出：“各民主党派、各人民团体、各社会贤达迅速召开政治协商会议，讨论并实现人民代表大会制，成立民主联合政府”
1949 年	第一届中国人民政治协商会议召开，确立了未来的新国家将在民主协商的政治框架下运行，确立了民主建政、协商建国的施政方针和立国原则

- A. 中国共产党探索民主协商机制  
B. 时局变化影响中共政策制定  
C. 中国特色政党制度在逐步确立  
D. 新民主主义的政权不断完善

31. 下图反映了 1978~2005 年我国三大产业劳动生产率的变动趋势，出现大幅变化的主要原因是



- A. 国有企业改革全面展开  
B. 社会主义市场经济体制逐步确立  
C. 城乡经济发展结构合理  
D. 改革开放调动了人们建设积极性
32. 古希腊悲剧大师欧里庇德斯说：“城邦属于群众时，个人就会为了自己的利益，用语言吹捧、迷惑群众，也许能暂时有利于群众，可是一旦出现错误，他就会通过诽谤别人来隐藏自己的错误，逃避惩罚，然而群众却可能毫无辨别。”这说明古雅典
- A. 城邦政治推崇人民主权  
B. 民主政治具有虚伪性特征  
C. 直接民主制的弊端明显  
D. 公民群体缺乏理性的精神
33. 某学者在《向西殖民论》中说：“如果英国人在北美及时建立殖民地，那就可以阻止西班牙占领整个美洲；如果能够利用美洲的资源建设一支强大的海军，那就能够摧毁西班牙强大的舰队，最终打击西班牙的嚣张气焰，支持反罗马天主教的伟大事业。”这可用于说明
- A. 西欧工业国家对美洲的争夺  
B. 英国殖民扩张的动因  
C. 英西战争的爆发具有必然性  
D. 资本主义扩张的本性
34. 18 世纪上半叶，喜歌剧内容不再反映王公贵族的生活而是以平时生活中的小人物、社会中下阶层为主要表现对象，赞扬他们聪明、热情、公正、智慧，拥有巨大的力量，总是能战胜邪恶势力，取得胜利。由此可见，这一时期的喜歌剧创作
- A. 深受启蒙思想的影响  
B. 号召推翻封建制度  
C. 凸显工业革命的弊端  
D. 符合浪漫主义风格
35. 有学者指出：“由民族国家做出的对紧随工业生产而来的社会转型的反应，就是把问题本土化，也就是把种种世界性的力量和由失控的社会带来的种种威胁都变成民族国家范围之内的问题。”该学者旨在强调
- A. 全球化趋势使世界联系密切  
B. 传统的全球治理模式已经过时  
C. 国际经济秩序日益走向混乱  
D. 主权国家应积极参与全球治理

【高三开学考·文综 第 6 页(共 12 页)】

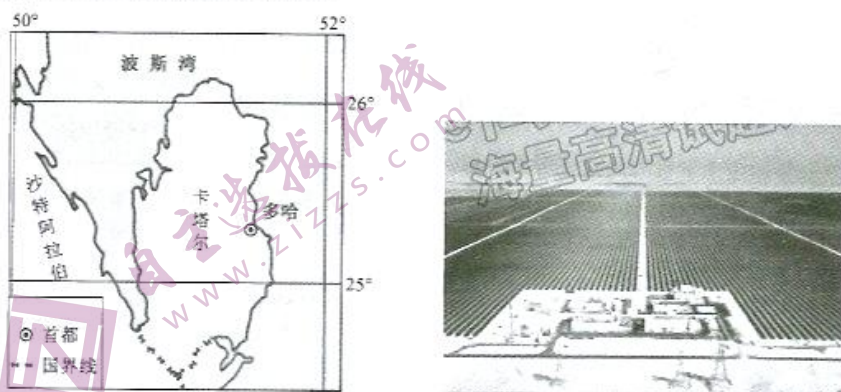
L

二、非选择题:共 160 分。第 36~42 题为必考题,每个试题考生都必须作答。第 43~47 题为选考题,考生根据要求作答。

(一)必考题:共 135 分。

36. 阅读图文材料,完成下列要求。(22 分)

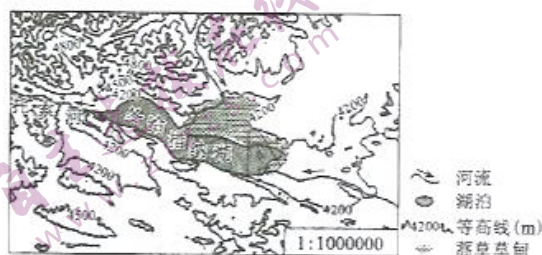
当地时间 2022 年 10 月 18 日上午,2022 年卡塔尔世界杯赛事电力供应来源之一,由中国电力建设集团总承包的卡塔尔阿尔卡萨 800 兆瓦光伏电站项目顺利投产。该光伏电站选址于首都多哈以西 80 千米的荒漠中,园区占地 10 平方千米,是卡塔尔首座非化石燃料发电站,也是中东地区最大的光伏电站之一。该项目全部采用中国设备,投产后可满足卡塔尔峰值电力需求的 10%,预计将在其生命周期内减少 2600 万吨的碳排放,有力支撑了卡塔尔举办“碳中和”世界杯的承诺。下图示意卡塔尔位置及阿尔卡萨 800 兆瓦光伏电站景观。



- (1) 卡塔尔油气资源丰富,但仍注重太阳能等清洁能源开发。试说明原因。(6 分)
- (2) 简述阿尔卡萨光伏电站建设的有利区位条件。(6 分)
- (3) 说明阿尔卡萨光伏项目诚邀中国公司承包对中国的有利影响。(6 分)
- (4) 环境影响因素是阿尔卡萨光伏项目建设过程中关注的重点。简述中国电力建设集团在该项目建设过程中可能采取的措施。(4 分)

37. 阅读图文材料,完成下列要求。(24 分)

冻融草丘为草根密集处的地下水受冻结地面及其下部冻土层的阻碍,在薄弱地带膨胀隆起、相邻丘间较低处形成积水的丘状微地貌。冬给措纳湖地处青藏高原东北部的断陷盆地内,湖面平均海拔 4088m,年降水量约为 300mm,年蒸发量高达 1000mm,但仍为淡水湖。该湖东部冻融草丘发育广泛。下图示意冬给措纳湖及周边区域。



【高三开学考·文综 第 7 页(共 12 页)】

1.

- (1) 简述冬给措纳湖形成的主要过程。(4分)
- (2) 指出冬给措纳湖的主要补给水源,并说明其含盐量较少的原因。(8分)
- (3) 说明冬给措纳湖东部有利于冻融草丘广泛发育的条件。(6分)
- (4) 有专家推测,冬给措纳湖在将来可能会成为咸水湖。试说明该专家的推测依据。(6分)

38. 阅读材料,完成下列要求。(14分)

体育是竞技,是文化,是产业,是一国综合国力和社会文明程度的重要体现。

进入后疫情时代以来,户外运动行业热度急剧升温,精致露营、冰雪运动都一度成为现象级的流行热潮。2022年11月7日,国家体育总局等八部门共同印发《户外运动产业发展规划(2022—2025年)》。《规划》提出:优化露营产品供给,鼓励开放郊野公园提供露营服务,鼓励户外运动装备企业研制多系列满足不同人群的露营装备;创新户外运动消费新场景、新模式、新业态,推动科技赋能户外运动场景,开发智能骑行、智能划船、模拟飞行等线上产品和服务,打造户外运动线上线下协同发展的消费新模式;推进户外运动消费场景与乡村旅游、休闲农业等融合,转化绿水青山生态价值……多项利好之下,户外运动产业将迎来新机遇。

结合材料,运用经济生活知识,说明贯彻落实《规划》要求的现实意义。

39. 阅读材料,完成下列要求。(12分)

2022年11月5日至13日,《湿地公约》第十四届缔约方大会在武汉举行。近年来,武汉认真贯彻落实习近平总书记关于湿地保护的重要指示要求,全力将城市湿地打造成人与自然和谐共生的绿色空间,湿地生态全面向好。2010年,武汉在全国副省级城市中率先出台《武汉市湿地自然保护区条例》,随后,武汉市接连制定了《武汉市湖泊保护条例》《武汉市基本生态控制线管理条例》等与湿地保护密切相关的地方性法规;2014年,《武汉市湿地自然保护区生态补偿暂行办法》开始实施,政府投入财政专项资金分类进行生态补偿,用激励机制引导农民调整种植和养殖方式,缓和人鸟矛盾,让村民们对湿地保护更加理解和支持。目前,武汉市运用物联网、大数据、云计算等技术,对湿地进行数字化、标准化、常态化管理,力争实现湿地资源监测全要素、全周期、全覆盖。同时严格管理,建立湿地保护修复激励机制和湿地损害终身追责机制,确保湿地面积只增不减。

结合材料,运用政治生活知识,说明武汉是如何促进湿地生态全面向好的。

40. 阅读材料,完成下列要求。(26分)

2022年10月16日—22日,中国共产党第二十次全国代表大会在北京人民大会堂召开。

【团结·力量】

在党的二十大报告中,“团结”是一个高频关键词,从题目到内容,从开头到结尾,是贯穿大会始终的鲜明基调。过去5年和新时代以来的10年,党面临形势环境的复杂性和严峻性、肩负任务的繁重性和艰巨性世所罕见,以习近平同志为核心的党中央团结带领全党全国各族人民坚定信心、迎难而上而

【高三开学考·文综 第8页(共12页)】

L



上,实现了第一个百年奋斗目标,才有了“新时代的伟大成就是党和人民一道拼出来、干出来、奋斗出来的!”豪壮与底气。在新征程上,团结让奋斗更有力量,奋斗才能使团结有落点、见效果。全党全国各族人民在党的旗帜下团结奋斗,就是要牢记空谈误国、实干兴邦,就是要在各自工作岗位上出力尽责、担当作为,把落实党的二十大作出的重大决策部署付诸行动、干出成效。

(1)“全党全国各族人民在党的旗帜下团结奋斗,就是要在各自工作岗位上出力尽责、担当作为”。运用整体和部分的关系对此加以说明。(12分)

#### 【谋略·方向】

党的二十大首次将“文化自信”写入党的代表大会报告,是党中央统筹中华民族伟大复兴战略全局和世界百年未有之大变局,就社会主义文化事业发展作出的重大战略调整。报告高频提到“人民”,从文化的全民性、文化权利和文化创造的角度来讲,全民族的文化创新创造力量要进一步激活。报告还首次提出要“实施重大文化产业项目带动战略”,在这一方面,发展新兴文化业态、数字文化产业、引导新型文化消费将成为未来的重点。

(2)结合材料,运用文化生活知识,说明我国应如何推动文化自信自强。(10分)

#### 【追梦·前行】

青年是祖国的未来、民族的希望,是整个社会中最积极、最有朝气、最富有创造性的力量。习近平总书记在二十大报告中殷切寄语青年人:“青年强,则国家强。当代中国青年生逢其时,要坚定不移听党话、跟党走,怀抱梦想又脚踏实地,让青春在全面建设社会主义现代化国家的火热实践中绽放绚丽之花。”

(3)某班拟召开“学习二十大,争做好青年”主题班会,请你列举两个发言要点。(4分,要求主旨鲜明,朗朗上口,每个要点在20个字以内)

#### 41. 阅读材料,完成下列要求。(25分)

##### 材料一

古代希腊罗马国家的法律肇始于平民与贵族的冲突……梭伦立法,即是由于贵族与平民两大集团的激烈争斗。亚里士多德曾言:“任何力量,只要它能通过共同的政治行为促进和维护社会福利,我们就说它是合法的和合乎正义的。”古希腊的政治理论和古罗马的法律,可以为西方近代国家所继承,且后者又可以为包括社会主义国家在内的所有现代化国家所借鉴,这在很大程度上要归因于这些理论本身所具有的形式合理化……罗马帝国时期,皇帝敕令成为最高的法律渊源,“为君主所喜之物具有法律效力”。法律为主权者所制定,依靠国家力量而推行,这种观念在19世纪以后颇为流行。

——摘编自周芳宇等《古代中国与古希腊罗马法律文化传统比较研究》

##### 材料二

中国古代法律起源于军事战争,如黄帝做“五刑”;自商鞅“改法为律”,“律”从此成了中国古代刑法的专用名称,其中律典成为秦以后各朝的主要刑事法典。它包含了有关民法、诉讼法以及行政法等方面的法律内容……历朝的法律形式虽然名称有所变化,但律始终调整的是当时社会中的各类刑事关系。儒家主张“为政以德”,以道德教化为治国的根本。孔子说:“道之以政,齐之以刑,民免而无耻;道之以德,齐之以礼,有耻且格”。传统法律的神圣性来源于“天”,并随着“天”的神圣性转移至被称为“天子”的封建帝王身上,使封建帝王拥有不可置疑的立法权和至高无上的司法权。

——摘编自曾宪义《中国法制史》

【高三开学考·文综 第9页(共12页)】

L

- (1)根据材料一并结合所学知识,概括古代希腊罗马法律的特点,并分析其影响。(10分)  
(2)根据材料一、二,指出古代中国与古代希腊罗马法律的异同,并结合所学知识分析其不同的原因。(15分)

42. 阅读材料,完成下列要求。(12分)

材料

一部中国近代史,就是一部思想解放史。从鸦片战争到新中国成立的百余年间,思想解放的潮流始终围绕共同的主题,究其源则主要是来自西方文化的冲击。中国固有的封建思想文化宝库中已经不可能找到救国济民良药的特定情况下,如何向西方学习,在吸收西方先进文化的过程中振兴中国,就成了近代中国必须解决的一个核心问题。在处理中西问题时,必然会遇到如何对待中国的传统,如何使古老的中国走向现代的问题,“古”和“今”的问题自然提到了日程上来,而且许多中西之争往往是通过古今之争、新旧之争表现出来,中西和古今不可分割地交织在一起。唯一值得幸运的是,国人在炮火中逐渐苏醒。

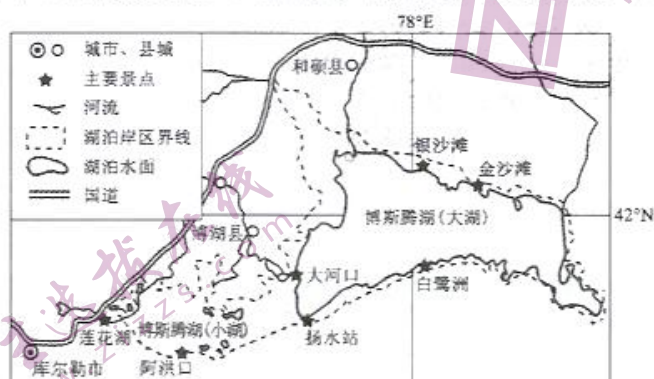
——摘编自刘德军等《人类思想解放史》

根据材料并结合中国近代史的相关史实,自行拟定一个论题,并予以阐述。(要求:论题明确,史论结合,表达清晰。)

(二)选考题:共25分。请考生从2道地理题、3道历史题中每科任选一题作答。如果多做,则每科按所做的第一题计分。

43. [地理——选修3:旅游地理](10分)

盛夏的博斯腾湖,天空湛蓝,湖水、沙漠、芦苇交相辉映,构成了一幅美妙的沙漠画卷,成为了各地游客打卡,体验的好去处,同时也吸引了众多沙漠越野爱好者来到这里,体验沙漠文化,感受越野的乐趣与魅力。近年来,依托博斯腾湖,博湖县以全域旅游示范区为载体,依托丰富的旅游资源,积极落实“文化+旅游+体育”发展模式,促进旅游与文化、体育互动融合,大力发展全域旅游、全季旅游、全产业链旅游,助力旅游经济高质量发展。下图示意博斯腾湖及周边主要景点分布。



推测博斯腾湖周边沙漠适合开展沙漠越野赛项目的有利条件,并说明博湖县发展“旅游+文化+体育”模式的意义。

## 高三文科综合参考答案、提示及评分细则

1. A 读表分析可知,2017~2020年中国新能源汽车渗透率稳步提升,2020~2022年渗透率增速加快,且渗透率高于日、美、韩,与德、法等欧洲发达国家相差不大。由此推测,我国新能源汽车受到越来越多消费者青睐,发展势头良好。挪威新能源汽车渗透率高达70%,潜在市场不是最大;新能源汽车渗透率受众多因素影响,不能根据表中数据判断其与经济发展水平、发展速度的关系。来源:高三答案公众号
2. A 根据新能源汽车渗透率计算公式,结合中国与德国的基本国情可知:中国人口基数大,目前居民购买汽车的需求旺盛,汽车销售市场远大于德国,新能源汽车销售量大,从而导致中国新能源汽车渗透率虽然小于德国,但是销售量却远大于德国。
3. D 中国是传统制造业大国和汽车生产大国,有利于形成完整的新能源汽车产业链,有较强的技术创新能力,保证我国新能源汽车有过硬的质量,加之较低的生产成本(劳动力、土地等),使得我国新能源汽车具有价格优势。因此,性价比高是中国新能源汽车在欧洲市场渗透率不断提高的主要原因。
4. C 山图可以看出,2000~2020年耕地重心基本不变,位于中央邦中心位置且长期保持稳定。
5. B 印度北部是喜马拉雅山脉,西南季风受地形抬升会形成大量降水。水域重心向东北方向迁移,这可能与全球气候变暖带来的青藏高原冰川融化、来自印度洋的西南季风强度增大使得青藏高原降雨量增加有关。水域重心的变化与水域面积分布较为均匀关联性小;东北季风增强,对印度降水增加影响不大。
6. C 由图可知,2000~2020年印度建设用地重心向西南方向迁移,说明西南部城市经济发展较快,城镇化推进较快;印度属于发展中国家,城市化水平低,属于滞后城市化国家,其城市基本未出现逆城市化现象;由图可以看出,2000~2020年印度林地重心向东南部迁移,印度的耕地分布广泛,建设用地主要由耕地转变而来;山图可以看出,印度的未利用土地主要分布在西北部和北部,西南部城市随着城镇化的推进,未利用土地将减少。
7. B 由题干“出露地层大致沿该穹窿向周缘变新”可推出梵净山主体属于背斜构造。
8. A 由题干可知,梵净山主体由变质岩构成,地壳运动、与周围岩石的岩性差异大(造成差异侵蚀)和裂隙发育形成新金顶柱状形态,其柱状形态得以保留主要是因为变质岩较坚硬,不易被侵蚀。
9. B 由图可知,天山积雪覆盖率总体随海拔升高而增加;图中1月天山积雪覆盖率在海拔800m以下及1200m以上均呈明显上升趋势,800~1200m之间呈明显下降趋势,波动变化较其他季节显著。
10. C 根据所学知识可知,对流层内,随着海拔的升高,气温大约以 $6^{\circ}\text{C}/\text{km}$ 下降;由图可以看出,7月、10月两个月份的曲线在海拔3200~4200m变化幅度最大,说明该海拔区间气温对天山积雪覆盖率影响最大。
11. D 天山海拔大于5000m的地区全年气温较低,满足积雪的负温条件,故高海拔地区控制积雪面积的决定性条件为降雪量,冬季高山区降雪量相比夏季少;天山冬季受盛行西风影响,大风使积雪迁移至海拔较低的区域,使其积雪覆盖率下降速率大于夏季。
12. B 马克思主义“飞入寻常百姓家”,使马克思主义科学理论为人民群众理解和接受、认同和信仰、掌握和运用,彰显了马克思主义的人民立场,有利于使马克思主义在不断变化的实践中检验、丰富和发展,①③符合题意;应保持对马克思

【高三开学考·文综参考答案 第1页(共6页)】

- 主义的敬畏,②不选;马克思主义大众化有利于发挥其改造世界的强大思想武器功能,不是物质力量,④不选。
13. B “共同富裕”与“社会主义”紧密联系,中国共产党通过社会主义实现共同富裕,兑现对人民的承诺,体现了①③;实现共同富裕是社会主义国家性质决定的,②不选。材料没有体现新时代实现共同富裕与经济高质量发展的关系,④不选。
14. D 《促进个体工商户发展条例》聚焦当前个体工商户发展中面临的突出困难,作出有针对性的安排,有利于发挥个体经济在经济社会发展中的生力军作用,②符合题意;国家加大对个体工商户的字号、商标、专利、商业秘密等权利的保护力度,有利于激发个体工商户创新创业积极性,④符合题意;公有制是社会主义经济制度的基础,材料不涉及公有制经济,①③不选。
15. B 国家医保目录谈判力度不断加大,降低药耗负担,有利于提升群众幸福感,①符合题意;将罕见病用药纳入国家医保药品目录,可以提升我国基本医疗保障服务能力,③符合题意;国家此举不能增强医用药品的功能性,②不选;材料没有涉及药品交易,且④夸大了国家此举的作用,不选。
16. A 中央文明办等四部门出台文件,并启动“清朗·2022年暑期未成年人网络环境整治”专项行动,以规范直播打赏行为,是履行文化建设职能,保护未成年合法健康成长,坚持了人民至上的价值理念,①③符合题意;上述举措没有提升未成年人的主人翁地位,②不选;上述举措的目的在于维护未成年人合法权益,不在于提升政府威慑力,④不选。
17. B 选出社区“法律明白人”参与乡村治理、人民调解、普法宣传等工作,有利于推进基层民主法治建设、提高群众法治素养,①③符合题意;材料没有涉及司法机关,②不选;社区属于自治组织,不是基层政府,④不选。
18. C 谷爱凌的成长道路,是从小练习和一次次的努力换来的,启示我们要重视量的积累,积极为事物的质变创造条件,C符合题意;在新质基础上开始新量变,A错误,不选;要把量变控制在一定程度之内与材料主旨不符,B不选;只有向上、前进的质变才是发展,D错误,不选。
19. A 针对社会中存在的侵害妇女合法权益的问题,国家新修订妇女权益保障法,并提出针对性措施,是通过调整上层建筑的调整,以更好保护妇女合法权益,旨在发挥先进社会意识对社会存在的推动作用,①③符合题意,材料没有涉及改革生产关系,②不选;妇女的社会历史主体地位早已确立,④不选。
20. D 越来越多的中国汽车品牌正加速走向全球,中国汽车出口量赶日超德,十年时间差距缩小一半,表明我国经济发展的内外联动性不断增强,为 global 经济发展贡献力量,③④符合题意;材料只体现了出口情况,不涉及进口情况,不能推断出①,不选;我国对外开放坚持引进来和走出去并重,②不选。
21. A 中方就美方近期不断炮制损害中国主权的涉台政策法案表示坚决反对,并向美方提出严正交涉,是基于国家主权对内具有至高无上性,①符合题意;从国家结构形式的角度看,我国是单一制国家,地方服从中央,国家统一不容挑战,②符合题意;③与中方的态度不构成因果关系,不选;台湾是中国的地方行政区域这一事实,还没有成为世界各国的共识,④说法不符合实际,不选。
22. C 抚养未成年人是公民的法定义务,遗嘱应当对未成年人赵乙保留必要份额,C符合题意,B不选;法律尊重死者生前通过遗嘱处分个人合法财产的意愿,虽未保留赵乙的必要遗产份额,但赵甲的自书遗嘱有效,A不选;民事诉讼中,帮助当事人进行诉讼活动的人,称为诉讼代理人,D不选。
23. A 航天服的设计充分借鉴了虾的特点,是联想、想象思维中迁移的运用,运用了类比推理的方法,①②符合题意;舱外服的设计是对虾表象进行积极的再加工、再组合,不是简单的再现和直接反映,③不选;材料没有涉及逆向思维,

【高三开学考·文综参考答案 第2页(共6页)】

④不选。

24. A 考查中国古代文明起源及发展的特点。根据材料“旧石器时代的中国分为南北两区和五六个小时区,新石器时代早期则出现了五个文化系统”可知,中国古代文明起源与发展呈现多元性特点。同时,根据“大约在公元前 4000 年前后,形成三个层次的圈层结构,核心区在晋南、豫西和关中东部,主体区在黄河中游及偏南的部分。各地区共享的原始宇宙观、天文历法、权力表达方式、丧葬和祭祀礼仪等均成为后世相关思想和制度的滥觞”可知,不同文化、区域间交流也促进了相关“共识”的形成,故 A 项正确。B 项表述过于绝对,故排除;材料未体现历史传承与民族认同,且民族认同出现于春秋战国时期,故排除 C 项;新石器时代,中国大地上邦国林立,开始具备国家的初始状态,故 D 项错误。
25. D 考查汉代刺史制度。据材料并结合所学知识可知,秦代的监察官员被赋予了其他权力,其监察职能不专,而汉代设置刺史作为专职监察官员,代表中央监察地方,位卑权重,有利于加强中央集权,故 D 项正确。在专制主义中央集权制下任何一种监察制度都无法保障吏治的清明与高效,故排除 A 项;材料体现的都是对地方的监察,无法体现监察体系得以完善,故排除 B 项;东汉时期刺史成为州的最高长官,且权力日益膨胀,埋下汉末分裂割据的隐患,这与材料所述时空史实不符,故排除 C 项。
26. C 考查唐代法律制度的特征。据材料可知,唐代对民事诉讼与“不急之务”进行了时间限制,其主要目的是为了避开农忙时间,这说明统治者意在维护农业稳定,故 C 项正确。材料无法体现古代法律受儒学影响,故排除 A 项;材料中对民事诉讼的时间限制主要服务于农业,故排除 B 项;材料仅仅体现了唐代法律服务于农业,故排除 D 项。
27. B 考查清朝政治、文化。根据材料并结合所学知识可知,清朝入关以后,汉族社会和汉族士人对其缺乏普遍的文化 and 政治归属感,其虽定鼎北京,但其军事的胜利并不能换来中原社会的政治认同。因此,清朝统治者以《明史》修撰为突破口,通过对明朝灭亡的诠释,构建其政权的合法性。一方面,将明之因祸频移与满洲兴起联系在一起,规避了亡明的角色,并为其入主华夏建构起充分的合理性;另一方面,以“天命观”诠释明清易代的合理性,故 B 项正确。清修《明史》,其主要目的不是为了总结明代兴亡治乱的历史教训,更多地出于政治的现实需要,论证明清易代的必然性,故排除 A、C 两项;D 项不符合材料主旨,故排除。
28. C 考查太平天国运动。根据材料并结合所学知识可知,鸦片战争后,开放的国门,涌入威力巨大的枪炮,渗入效率更高的制度,于是,阶级斗争的烈焰与民族斗争的战火一道摧毁着变革路上的障碍,造成了“下面不愿照旧生活,而上面也不能照旧统治的局面”。阶级斗争以特殊的形式成为中国近代化的助产士,故 C 项正确。材料能体现太平天国进步性的一面,但“空想性”没有体现,故排除 A 项;材料的主旨并非强调思想文化冲突,故排除 B 项;列强的侵略加剧了中国半殖民地化程度,故排除 D 项。
29. D 考查严复的思想。据材料可知,严复认为讲自由,则不可以不明平等,这说明严复意在追求平等,反对封建等级制度,故 D 项正确。材料无法体现维新变法,故排除 A、C 两项;据材料并结合所学知识可知,严复主张宣传西方的自由平等思想是为了服务于中国的进步,所以宣传西方的自由平等不是严复思想的主旨,故排除 B 项。
30. A 考查新民主主义革命时期中共的政权探索。据材料并结合所学知识可知,新民主主义革命时期,中国共产党在逐步探索民主协商形式,故 A 项正确。材料的主旨是强调民主协商,不是强调时局变化对中共制定政策的影响,故排除 B 项;中国特色的政党制度是新中国成立后确立的,故排除 C 项;新民主主义政权是指各阶级联合的政府,而材料意在强调协商民主,故排除 D 项。
31. B 考查现代中国经济。根据材料可知,在 20 世纪 90 年代以前,三大产业的劳动生产率与全社会劳动生产率之间的

【高三开学考·文综参考答案 第 3 页(共 6 页)】

- 差距不大,各自之间的差距也不突出,第三产业与第二产业的差距甚至呈现出缩小的趋势。但20世纪90年代以来,总体增幅变大,结合所学知识可知,这与1992年后社会主义市场经济体制目标的确立与发展有关,故B项正确。国企改革开始于1984年,而图中发生大幅变化是在20世纪90年代以后,故排除A项;材料无法体现城乡经济发展是否合理,故排除C项;改革开放开始于1978年十一届三中全会后,这与材料所述时间及主旨不相符,故排除D项。
32. C 考查古代希腊民主政治。据材料结合所学知识可知,古代希腊民主政治实行直接民主,每一个合法的男性公民都可以参加公民大会,而一些政治家通过自己高超的演说影响公民的判断,容易导致权力的滥用,故C项正确。城邦政治推崇人民主权不符合材料的主旨,故排除A项;城邦民主政治具有虚伪性的特征不符合史实,故排除B项;“公民群体缺乏理性的精神”说法过于绝对,故排除D项。来源:高三答案公众号
33. D 考查非洲文明。根据材料“产生了众多新部落、新民族”并结合所学知识可知,班图人在大迁徙过程中经过不断融合、分化、再融合,产生了众多新部落、新部族,这表明其迁徙奠定了现今撒哈拉以南非洲民族分布的基本格局,故D项正确。班图人的起源地属于铁器文明,比南非地区的生产方式更加先进,故排除A项;班图人的南迁形成了不同的文化区域和民族,不利于南非洲地区的统一,故排除B项;桑海衰落与16世纪,与班图人的迁徙时间不符,故排除C项。
34. A 考查启蒙运动的影响。据材料可知,喜歌剧取材于平常生活,歌颂小人物和中下层民众,体现了启蒙思想追求自由平等的内涵,故A项正确。材料无法体现喜歌剧作品号召推翻封建制度,故排除B项;工业革命始于18世纪60年代,而材料的时间是18世纪上半叶,故排除C项;浪漫主义的风格主要是想象力丰富,材料无法体现,故排除D项。
35. D 考查当今全球治理。据材料可知,“由民族国家做出的对紧随工业生产而来的社会转型的反应,就是把问题本土化,把种种世界性的力量和山失控的社会带来的种种威胁都变成民族国家范围之内的问题”,这说明各民族国家应该积极参与全球治理,故D项正确。全球化趋势使世界联系密切和国际经济秩序日益走向混乱不符合材料的主旨,故排除A、C两项;材料无法体现传统的全球治理模式,故排除B项。
36. (1) 卡塔尔属于热带沙漠气候,纬度低,晴天多,太阳能等清洁能源丰富,且可再生;油气资源为非可再生资源,且大量消耗石油等化石能源,会带来严重的环境污染问题,破坏生态环境;太阳能等清洁能源的使用,能有效减少碳排放,有利于社会可持续发展。(每点2分,共6分,其他答案合理亦可)
- (2) 有利于推广中国技术和中国标准,增强我国在世界基建领域的影响力;有利于加强我国与中东国家的交流,加强团结协作;有利于我国打造国际品牌,增强国产品牌在中东的市场占有率;有利于我国相关产业开拓新的消费市场,消化国内过剩产能。(每点2分,答对三点得6分,共6分)
- (3) 保护施工现场生态环境,尽可能减少对原生地表结构和动植物的破坏,注重生物多样性保护;为现场的灌木、蜥蜴、蛇类等原生动植物制定详细的迁移计划,为其寻找新的栖息地,维护生态平衡;能源资源节约使用和循环利用;减少废渣、废水的排放,并进行无害化处理;做好垃圾分类处理,并及时清理。(每点2分,答对三点得6分,共6分)
37. (1) 地壳运动,断裂下陷,形成盆地,积水成湖。(4分) 原因:冰雪融水等水源补给量较大,可弥补蒸发带走的水分;湖水经托索河流出,地表径流带走部分盐分,盐分难以集聚。(每点2分,共4分)
- (2) 海拔较高,冬季地温较低(或位于冰缘地带,冻融作用强);地势平坦,有河流流经,地下水丰富;草甸发育,根系密集,利于地下水汇集、冻结。(每点2分,共6分) 微信搜《高三答案公众号》
- (3) 全球气候变暖,气温升高,蒸发加剧;随温度升高,(将来)冰雪融水等减少,湖水补给量减少,湖泊萎缩;湖泊萎缩导致水位下降,最终低于托索河,盐分无法排出,逐渐演化成咸水湖。(每点2分,共6分)

【高三开学考·文综参考答案 第4页(共6页)】

38. (1)草地面积大,类型多样,分布广泛,固碳能力强;草地生态系统碳库主要集中在土壤层,碳库稳定。(每点2分,共4分)
- (2)我国草地主要分布在青藏高寒区和西北部分地区,(2分)受低温条件制约,这些地区草地上植被夏盛冬枯,碳储量较低,(2分)而其地下根系发达,且土壤因温度低而有机质分解慢,使碳储量巨大;(2分)其他地区的草地植被虽因生存环境优越,地上部分碳储量较大,但由于面积较小,使总储量并不大。(2分)
- (3)草原围栏封育,免耕补播,休牧轮牧,草畜平衡,栽培草地,促进草地类自然保护区建设等。(每点2分,答对三点得6分,共6分)
39. (1)①倒逼供给侧改革,丰富高品质户外运动产品和服务供给,满足人民美好生活需求;(3分)②推动创新驱动发展,增加户外运动产业发展内生动力,促进优化户外运动产业结构升级;(2分)③释放户外运动消费潜力,促进和扩大体育消费,助力经济发展方式的转变;(2分)④贯彻协调发展和绿色发展理念,推动乡村振兴和城乡协调发展,提高发展的质量和效益。(3分)(其他答案,符合题意,可酌情给分)
- (2)本案是平等主体之间的民事权利和义务纠纷,属于民事诉讼,(1分)涉及侵害美国运动品牌斯凯奇的专利权。(1分)民事诉讼法实行“谁主张,谁举证”的举证原则。本案中美国运动品牌斯凯奇对自己的主张应当提供相关证据。(2分)(其他答案,符合题意,可酌情给分)
40. ①坚持党的领导,贯彻落实习近平总书记关于湿地保护的重要指示要求;(3分)②落实依法治国基本方略,完善湿地保护地方立法,推动湿地保护工作全面进入法治化轨道;(3分)③政府认真履行公共服务、环境保护的基本职能,利用现代科技手段提高湿地生态保护治理效能;(3分)④坚持人民主体地位,争取村民们的理解和支持,通过生态补偿机制缓和人与鸟矛盾,促进生态保护。(3分)(其他答案,符合题意,可酌情给分)
41. (1)①整体居于主导地位,整体统率着部分,要树立全局意识,实现整体的最优目标。(3分)②全党全国上下要保持思想上高度统一、行动上团结一致,同舟共济,为中华民族伟大复兴汇聚团结奋斗的强大合力。(3分)③部分的功能及其变化会影响整体的功能,要重视部分的作用,用局部的发展推动整体的发展。(3分)④全党全国各族人民要在各自工作岗位上各司其职,出力尽责、担当作为,为实现中华民族伟大复兴贡献力量。(3分)(其他答案,符合题意,可酌情给分)
- (2)①回答时代问题,完成时代任务。文化自信自强要立足于中华民族伟大复兴战略全局和世界百年未有之大变局,大力发展社会主义文化事业。(3分)②坚持人民是文化创新和文化发展的主体,文化自信自强要激发全民族的文化创新创造活力,实现文化惠民。(3分)③大力发展文化产业。文化自信自强要在文化与经济相互融合中实现相互促进,彰显民族文化软实力。(2分)(其他答案,符合题意,可酌情给分)
- (3)只有青年强,国家才能强。这一论断属于必要条件假言判断,必要条件假言判断表示如果没有前一种事物情况就没有后一种事物情况,前件假则后件假。(3分)青年是整个社会力量中最积极、最有生气的力量,青年人发展好坏直接关系到国家和民族的命运,青年强是国家强盛所不可缺少的条件。因此,党对青年寄托深切期望。(3分)(其他答案,符合题意,可酌情给分)
42. (1)特点:是社会矛盾激化的产物;是社会妥协的结果;自然法精神为后世所继承;是国家意志的体现。(6分,任答三点即可)影响:成为维护当时社会秩序、巩固统治的重要工具;体现了统治者的意志,具有鲜明的阶级性;对近现代西方国家乃至世界各国的法律建设产生深远影响。(4分,任答两点即可)
- (2)同:都重视法律建设;法律都是维护统治的工具。(3分)异:古代希腊罗马法律起源于平民与贵族的冲突及社会发

【高三开学考·文综参考答案 第5页(共6页)】

展的需要,古代中国法律起源于部族战争;古代希腊罗马法律分为公法和私法,以私法为主,古代中国民法、刑法合一,以刑法为主;古代希腊罗马强调法律至上,古代中国强调礼法合一;古代希腊罗马是奴隶制立法,古代中国是封建立法。(6分,任答三点即可)原因:古代希腊罗马属于海洋文明,古代中国属于大河文明;古代希腊罗马以工商业经济为主,古代中国以农耕经济为主;古代希腊罗马的法律受政治体制影响大,服务于奴隶主贵族统治;古代中国法律服务于皇权政治。(6分)来源:高三答案公众号

43.【评分标准】

(1)论题:(2分)

- ①没有论题或不是材料中得出的论题不得分。
- ②根据材料,概括提出的论题合适准确者得2分,余者酌情给分。

(2)阐述:(10分)

- ①能准确全面论证观点,至少举出三个或三个以上论据者得8分,余者酌情给分。
  - ②论证充分,逻辑清楚、文字通顺,得2分,但全题不得超过12分。
- (3)答案言之成理即可,示例答案仅供评分及答题参考。

示例:

论题:中国近代前期的思想解放运动推动了社会变革。(2分)

阐述:鸦片战争前,清政府固守传统的华夷观,导致国人闭目塞听、愚昧无知。鸦片战争打破了中国传统天朝上国的迷梦,林则徐、魏源等先进的中国人率先提出“师夷长技”的思想,随后洋务派主张学习西方先进的科技来维护清王朝的统治,迈出了中国近代化的第一步;中日甲午战争后,为了救亡图存,资产阶级维新派主张学习西方君主立宪制,掀起了戊戌变法运动,迈出了中国制度变革的第一步;资产阶级革命派主张学习西方的民主共和制,辛亥革命推翻了中国两千多年的封建君主专制制度,建立了资产阶级共和国,使民主共和观念深入人心。戊戌变法和辛亥革命虽然都以失败而告终,但却推动了中国政治的民主化和近代化。面对北洋军阀的反动统治,陈独秀等先进知识分子扛起了“民主”“科学”的旗帜,发动了新文化运动,进一步解放了人们的思想,促进了马克思主义在中国的传播,为五四运动和新民主主义革命的到来奠定了思想基础。(8分)

总之,中国近代一系列思想解放推动了中国近代的社会变革,推动了中国近代化的进程。(2分)

44. (1)演变:经济形态转变;市场观念和意识变化;经济思想潜变;商品结构变化;商品流通量增加;商人的主体多元化。(4分,任答两点即可)实质:是由自然经济向市场经济的转变过程;是国内市场走向世界市场的过程;是商品市场不断扩大和近代要素市场逐步建立的过程。(3分,言之成理即可)
- (2)新变化:世界市场的容量迅速扩大;世界市场的构成日益广泛;贸易集团和跨国公司在世界市场上占有重要地位;商品结构发生显著变化。(4分,任答两点即可)原因:第三次科技革命的推动;国际分工的扩大与加深;交通通信工具的现代化;经济全球化与区域集团化的推动。(4分,任答两点即可)



## 关于我们

自主选拔在线是致力于提供新高考生涯规划、强基计划、综合评价、三位一体、学科竞赛等政策资讯的升学服务平台。总部坐落于北京，旗下拥有网站（[网址: www.zizzs.com](http://www.zizzs.com)）和微信公众平台等媒体矩阵，用户群体涵盖全国90%以上的重点中学师生及家长，在全国新高考、自主选拔领域首屈一指。

如需第一时间获取相关资讯及备考指南，请关注**自主选拔在线**官方微信信号：**zizzsw**。



微信搜一搜

自主选拔在线