

2023年4月高中毕业班第三次联合调研考试

2023.04

文科综合

注意事项:

1. 本试卷分第Ⅰ卷(选择题)和第Ⅱ卷(非选择题)两部分,共12页。
2. 答题前,考生务必在答题卡上用直径0.5毫米的黑色字迹签字笔将自己的姓名、准考证号填写清楚,并贴好条形码。请认真核准条形码上的准考证号、姓名和科目。
3. 答第Ⅰ卷时,选出每小题答案后,用2B铅笔把答题卡上对应题目的答案标号涂黑。如需改动,用橡皮擦干净后,再选涂其他答案标号。答在本试卷上无效。
4. 答第Ⅱ卷时,请用直径0.5毫米的黑色字迹签字笔在答题卡上各题的答题区域内作答。答在本试卷上无效。
5. 第43、44题为地理选考题,第45、46、47题为历史选考题,请按题目要求从每科中分别任选一题作答,并用2B铅笔在答题卡上把所选题目号后的方框涂黑。
6. 考试结束后,将本试卷和答题卡一并交回。

第Ⅰ卷 (选择题 共140分)

一、选择题:本大题共35小题,每小题4分,共140分。在每小题给出的四个选项中,只有一项是最符合题目要求的。

我国岭南地区,气候湿热,独特的地理环境孕育出“丝织品中的黄金”——香云纱(图1)。香云纱要经过“三蒸九煮十八晒”等复杂的制作过程。岭南地区棉、麻等纺织原料丰富,虽然历史上香云纱受限于印染和纺织技术,色彩和图案单一,但仍受到众多女性的青睐。据此完成1~3题。

1. 据材料推测香云纱被称为“丝织品中的黄金”主要原因是

- A. 颜色单一,以黄色为主
- B. 生产过程复杂,生产成本低
- C. 原料为蚕丝,原料费用高
- D. 原料为蚕丝,质地柔软

2. 香云纱受到众多女性的青睐,主要是因为香云纱

- A. 不易发霉,存放时间长
- B. 色彩艳丽,视觉效果佳
- C. 历史悠久,文化底蕴强
- D. 穿着凉爽,舒适度高

3. 为提升香云纱产业市场竞争力,应优先采取的措施是

- A. 加强产品宣传,强化品牌效应
- B. 利用互联网技术,扩大市场范围
- C. 融入现代工艺,丰富色彩和图案
- D. 利用现代工艺,扩大生产规模

近年来,我国工业制成品受到关税影响,众多的家电企业纷纷到东南亚投资建厂。其中,T公司在越南建立了其首个海外彩电生产工厂,产品销往东南亚及欧美市场。据此完成4~6题。

4. 我国家电企业在东南亚投资建厂考虑的主要因素是

- A. 贸易壁垒
- B. 产业协作
- C. 科学技术
- D. 基础设施



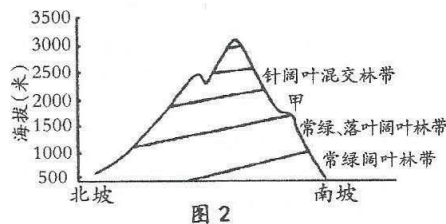
图1

【文科综合 第1页(共12页)】

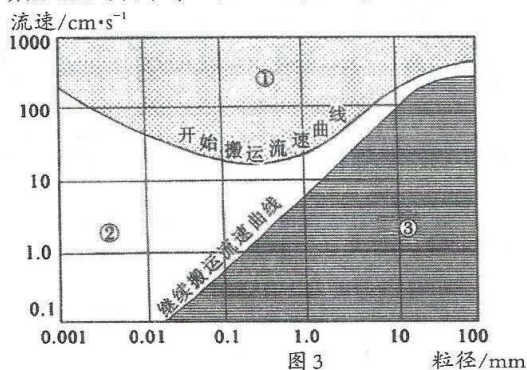
5. T公司的越南海外工厂主要负责
A. 产品研发 B. 核心部件制造 C. 产品组装 D. 外包装生产
6. T公司在越南投资建厂后,对当地的影响是
①促进产业结构升级 ②提供就业岗位
③促进资源合理配置 ④生态环境得到改善
A. ①② B. ②③ C. ①③ D. ②④

神农架是湖北省西北部的县级林区,境内多山地,以森林生态系统及珍稀动植物为主要保护对象,植被具有明显的垂直地域分异特征,图2为神农架某山地垂直自然带谱示意图。据此完成7~8题。

7. 甲处自然带是
A. 针叶林带 B. 常绿硬叶林带
C. 落叶阔叶林带 D. 灌丛草甸带
8. 该山地南北坡自然带谱海拔高度存在差异的主要影响因素是
A. 坡度 B. 热量
C. 降水 D. 土壤



碎屑颗粒在水中的侵蚀、搬运、沉积状态受颗粒大小和水流速度的影响。图3示意1米深的水流中碎屑颗粒粒径与流速的关系。(注:开始搬运流速指流水把处于静止状态的颗粒开始搬运走所需的速度,继续搬运流速指维持颗粒搬运所需的最小流速。)据此回答9~11题。



9. ①~③三个速度区间的正确对应关系是
A. ①为侵蚀区间;②为搬运区间;③为沉积区间
B. ①为侵蚀区间;②为沉积区间;③为搬运区间
C. ①为搬运区间;②为沉积区间;③为侵蚀区间
D. ①为搬运区间;②为侵蚀区间;③为沉积区间
10. 处于下列粒径区间的颗粒物在流水中既易搬运又易沉积的是
A. 10~100mm B. 0.1~1.0mm C. 0.01~0.1mm D. 0.001~0.01mm
11. 粒径大于10mm的砾石颗粒,其开始搬运流速与继续搬运流速都很大,但差值小,说明砾石
A. 能被远距离搬运 B. 不易起动不易沉积 C. 常分散分布 D. 常分布在近源区

12. 2023年2月13日,我国发布了新世纪以来指导“三农”工作的第20个中央一号文件,将“抓紧抓好粮食和重要农产品稳产保供”放在首位,并将采取一系列措施确保国家粮食安全。下列相关措施中,传导路径正确的是
- ①稳定稻谷补贴→调动农民种粮积极性→增加农民财产性收入→全力保障粮食安全
②构建多元化食物供给体系→政府参与粮食生产→提高农业生产能力→促进粮食安全
③推动出台粮食安全保障法→健全粮食法律法规体系→推进依法管粮→保障粮食安全
④实施优质粮食工程→加大对农业的科技投入→提高粮食单产和品质→强化粮食安全
- A. ①② B. ①③ C. ②④ D. ③④
13. 2023年3月1日,《国家基本医疗保险、工伤保险和生育保险药品目录(2022年)》正式实施。新版国家医保药品目录新增111个药品,医保谈判和竞价新准入的药品价格平均降幅60.1%。近年来,医保谈判不断改革,让谈判不止于“灵魂砍价”,也倒逼药企不断创新。这体现了
- ①医保谈判激励药企技术进步,降低成本,提高质量
②政府通过规定医保药品价格,解决患者看病贵问题
③我国坚持人民健康至上理念,守护社会的稳定安全
④医保药品降价可减轻人民负担,促进财政收支平衡
- A. ①② B. ①③ C. ②④ D. ③④
14. 图4反映2013-2022年中国500强入围企业所有制结构变化趋势。据图4可推断出



- 注:2013-2021年中国企业500强前十名均为国有企业,集中在电力、石化、金融、铁路等行业;2022年,首次有1家民营企业跻身前十,其余均为国有企业。
- ①国有经济在我国国民经济中的控制力正在下降
②我国长期坚持“两个毫不动摇”的方针政策
③民营经济是我国社会主义经济的重要组成部分
④大量优秀民营企业在平等竞争中不断做大做强
- A. ①③ B. ①④ C. ②③ D. ②④
15. 经国务院同意,国家发展改革委、商务部于2022年10月28日公开发布第52号令,全文发布《鼓励外商投资产业目录(2022年版)》,自2023年1月1日起施行。新版目录增加条目数为近年来最多,中国对1020项商品实施低于最惠国税率的进口暂定税率。这表明我国
- ①优化投资自由化政策,进一步拓展外商发展新空间
②引领世界经济的方向,同各方共享发展新机遇
③遵循开放合作共享原则,激发开放型经济发展新动能
④适应经济全球化,以“引进来”作为发展的重中之重
- A. ①② B. ①④ C. ②③ D. ③④

【文科综合 第3页(共12页)】

16. 安徽省阜阳市颍泉区司法局将“法润乡村社区”专项行动与“江淮普法行”、民主法治示范村(社区)创建等工作有机结合,依托村(社区)法治长廊、文化广场和“百姓说事点”等平台 and 载体,大力开展法治宣传活动。这些举措旨在
- ①贯彻全面依法治国,提高乡村治理法治化水平
 - ②坚持科学民主立法,以法治保障助力乡村振兴
 - ③强化基层民主法治建设,增强人民群众获得感
 - ④坚持公平公正司法,促进司法机关与人民沟通
- A. ①② B. ①③ C. ②④ D. ③④
17. 党的二十大表决通过了关于《中国共产党章程(修正案)》的决议。40年来,我们在保持党章基本内容稳定的前提下,根据形势和任务的发展变化,及时把党的理论创新和实践发展的重大成果体现到党章中,使党章在推进党和国家事业、加强党的建设中发挥了重要指导作用。这体现了中国共产党
- ①履行国家权力,促进社会发展
 - ②加强自身建设,增强历史主动
 - ③广泛听取民意,巩固执政地位
 - ④坚持实事求是,不断与时俱进
- A. ①② B. ①③ C. ②④ D. ③④
18. 作为十三届、十四届全国政协委员,许玲持续关注职业教育的相关问题,累计提交了20多个提案,并多次被相关部门采纳。许玲表示,她将继续深化调研,提出有建设性的提案,为职业教育事业发展贡献力量。这体现了
- ①人民政协主动履行了组织文化建设的职能
 - ②我国积极发挥了人民政协参政议政的作用
 - ③政协委员应开展调查研究,反映社情民意
 - ④政协委员需依法参与政治协商、民主监督
- A. ①③ B. ①④ C. ②③ D. ②④
19. 在西藏军区某边防团有一支“为民服务队”,官兵们把雷锋精神作为历久弥新的精神坐标,争做新时代的“螺丝钉”。“为民服务队”为当地群众担负起了日常医疗和紧急救治任务,常年设立免费门诊,走村串门,送医送药,把雷锋精神播撒进千家万户。像这样的“螺丝钉”,我国涌现了一批又一批。这说明
- ①文化时时刻刻都在影响人的思想和行动
 - ②人的文化素养是先天形成的,无法抹去
 - ③即使时代变迁,优秀精神文化永恒不变
 - ④优秀文化以其特有的感召力引领人们前进
- A. ①③ B. ①④ C. ②③ D. ②④
20. 近期,在贵州大山深处举办的乡村篮球赛火爆出圈。本次赛事场地在农村,参赛者是村民,奖品是黄牛、香猪等地方农产品,几十个新媒体账号同步直播,累计观看人数破亿,热火朝天的赛事折射出乡村文化发展的巨大潜力。乡村文化出圈是因为
- ①当地以人民为中心,发展群众喜闻乐见的文化活动
 - ②树立了高度的文化自信,发展了社会主义先进文化
 - ③植根于本土的乡村文化就能构筑中华民族共同体意识
 - ④大众传媒为乡村文化的传播和发展插上了飞翔的翅膀
- A. ①② B. ①④ C. ②③ D. ③④

【文科综合 第4页(共12页)】

21. 十二生肖作为悠久的民俗文化符号,古往今来留下了大量描绘其形象和象征意义的诗歌、春联、绘画、书画和民间工艺作品。2023年是中国癸卯兔年,“前‘兔’似锦”“‘兔’飞猛进”等一大波蕴含着美好寓意的萌兔表情包在网络上热传。这说明
- ①人们的意识是对客观存在的主观反映
 - ②意识活动具有自觉选择性和主动创造性
 - ③人们的意识是客观物质世界长期发展的产物
 - ④意识对人们改造客观世界的活动具有指导作用
- A. ①② B. ②③ C. ①④ D. ③④
22. 2022年9月29日,国产大飞机C919获中国民用航空局颁发的型号合格证,标志着我国航空制造业具备自主研发世界一流大型客机的能力。大型客机系统复杂、技术门槛高、研制周期长。自立项起15年来,C919大型客机项目团队从研制着力攻关、试验攻坚克难,到完成数千个小时飞行的适航取证审定工作,如今终于取得阶段性成就。这启示我们
- ①事物发展的前途是光明的,道路是曲折的
 - ②量变是质变的必要准备,要重视量的积累
 - ③新的事物相对于旧的事物具有巨大的优越性
 - ④在事物的发展过程中,肯定比否定更重要
- A. ①② B. ①③ C. ②④ D. ③④
23. 柳州市融水苗族自治县安陞乡江门村党总支书记、村委会主任杨宁获评“感动中国2022年度人物”。大学毕业后,杨宁选择回到家乡,扎根苗寨,坚守初心,带领村民种植高山特色优质农产品,建立“苗村馆”农产品电商服务中心,在大苗山战贫困、拔穷根,使江门村旧貌换新颜。这体现了
- ①个人获得的荣誉越高,人生价值越大
 - ②实现人生价值应树立坚定的理想信念
 - ③实现人生价值的人必须能力卓越超群
 - ④正确价值观是走好人生道路的重要向导
- A. ①③ B. ①④ C. ②③ D. ②④
24. 战国时期,曾任魏国国相的白圭辞官从商。他总结出根据丰收、歉收具体情况“人弃我取,人取我与”的经商要略,并提出“智、勇、仁、强”的经营之道。这反映出当时
- A. “工商食官”格局固化
 - B. 商业经营有伦理化趋势
 - C. 政府鼓励商业的发展
 - D. 社会阶层流动相当频繁
25. 柳宗元在《封建论》中指出:“汉有天下,矫秦之枉,徇周之制,剖海内而立宗子,封功臣。数年之间,奔命扶伤之不暇,困平城,病流矢,陵迟不救者三代。”这一论述
- A. 意在继承西周分封制
 - B. 肯定了皇权专制的合理性
 - C. 服务于加强中央集权
 - D. 论证了汉承秦制的必然性

【文科综合 第5页(共12页)】

26. 图5为《唐、宋年度铸币额(铜钱)比较》,据图可知

- A. 宋代社会普遍追求财富
- B. 唐代经济通货紧缩现象严重
- C. 传统义利观已经被抛弃
- D. 货币流通适应商品经济发展

唐宋年度铸币额
(铜钱)比较

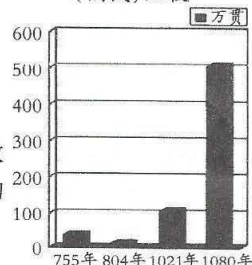


图5

27. 王守仁将“良知”阐释为:是非之心,不待虑而知,不待学而知,是故谓之良知;李贽在此基础上进一步指出:夫童心者,绝假纯真、最初一念之本心也。他们的主张

- A. 都具有思想解放倾向
- B. 批判了封建君主专制
- C. 彻底否定了传统儒学
- D. 适应了传统经济发展

28. 1878年,经李鸿章奏准,上海机器织布局所产布匹,如在上海销售,免完厘税,如运销内地,仅在上海新关完一正税,概免沿途厘税。这一做法

- A. 进一步阻断与世界市场联系
- B. 加速了内地自然经济的瓦解
- C. 意图提升洋务企业的竞争力
- D. 有效抵制了外来经济的侵略

29. 20世纪初,秋瑾认为,“国民”大于皇权,“改革专制政体,变成共和,四万万人都拥有主权来管国家大事”,而这四万万之中,不言而喻包括二万万妇女。这表明秋瑾

- A. 将革命与妇女解放结合
- B. 掀起了反清革命的高潮
- C. 抨击了男尊女卑的现实
- D. 倡导“男女平权”思想

30. 1947年秋,毛泽东强调:“坚持土地改革不至于吓跑民族资本家,但不坚持土地改革势必会丧失农民,从而丧失革命战争,也丧失民族资本家。土地改革应该采取平分土地的方针,地主不要多分,但不能不分。”这一主张

- A. 为工作重心转移做好了准备
- B. 批判了党内的右倾机会主义
- C. 有利于民族统一战线的巩固
- D. 旨在团结力量争取革命胜利

31. 图6、图7分别是20世纪50年代、20世纪90年代中国工业分布图,图示中工业布局的变化反映出

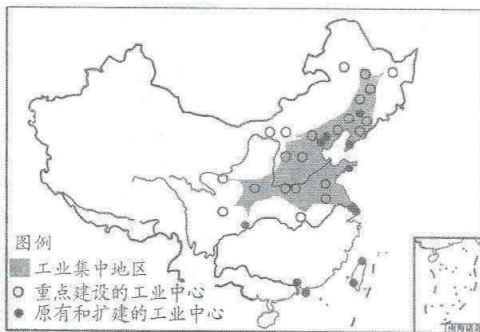


图6

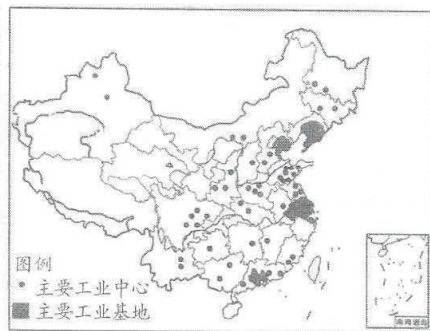


图7

- A. 计划管理调控能力不断增加
- B. 工业中心逐渐远离工业基地
- C. 国家经济发展战略重大调整
- D. 对外开放格局已经基本形成

【文科综合 第6页(共12页)】

32. 雅典城“绝大部分的公共空间是面向全体男性公民而开放的,人们自由地穿梭在城市里,谈论时政、欣赏戏剧、祭祀诸神、享受生活,他们是这座城市的主人。”据此可知,在雅典
- A. 政治制度影响公共生活
B. 公民法保护自由民权益
C. 共和制体现了自由精神
D. 人人平等享有政治权利
33. 有学者认为,欧洲启蒙运动中,英国启蒙思潮显得温和、带有经验论色彩,法国呈现比较强的彻底革命性,而之后的德意志则更着力于弘扬民族精神。这反映出
- A. 阶级斗争决定国家政体
B. 理性主义内涵在发展中丰富
C. 法国启蒙思想最具理性
D. 启蒙思想家的主张相互矛盾
34. 有学者认为,美国罗斯福新政和中国改革都是对原有社会治理模式不完美的改革和拯救……从而使单纯的制度趋于一种混合经济状态,它们都由此解决了旧问题,推动了社会的发展。这说明两国都
- A. 在改革前面临相似的困境
B. 以新自由主义为指导思想
C. 推动了国家工业化的实现
D. 优化了计划与市场的关系
35. 1948年初,美国一位3岁“童模”的母亲收到了一份通知:她女儿必须先签署一份有“保证自己坚决抵制国内外‘敌对势力’”等内容的“忠诚宣誓书”,经过政府审查后才能拿拍广告的钱。这一做法
- A. 导致国内阶级矛盾激化
B. 是冷战在文化领域的表现
C. 渲染了意识形态的对立
D. 受到华约组织建立的刺激

第II卷 非选择题(共160分)

二、非选择题:本题包括必考题和选考题两部分,共160分,第36-42题为必考题,每个试题考生都必须作答。第43-47题为选考题,考生根据要求作答。

(一)必考题:135分。

36. 阅读图文材料,回答下列问题。(22分)

婴儿蕉是一种适宜儿童食用的有机香蕉。婴儿蕉喜高温多湿环境,适宜在冲积土或腐殖质壤土中生长,主要种植在厄瓜多尔西部沿海地区。近几年,婴儿蕉的国际市场需求不断增长,该国的婴儿蕉大量面向美国、欧盟和日本出口。该国政府为推动婴儿蕉产业可持续发展出台了一系列举措。图8示意厄瓜多尔地理要素分布。

- (1)简述该国婴儿蕉主要种植在西部沿海地区的原因。(6分)
- (2)分析该国婴儿蕉能大量出口美国、欧盟、日本的原因(8分)
- (3)请你为该国婴儿蕉产业可持续发展提出合理化措施。(8分)

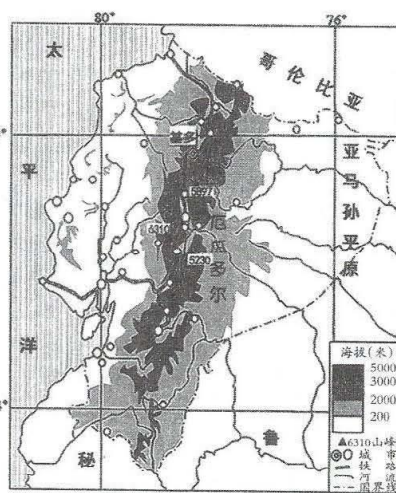


图8

【文科综合 第7页(共12页)】

37. 阅读图文材料,完成下列要求。(24分)

普莫雍错(图9)位于喜马拉雅山脉北坡山间盆地,被连绵巍峨的雪山环抱,湖面面积290平方千米,海拔约5030米,流域多年平均降水量约350毫米,90%的降水集中在6-9月。冬季,普莫雍错湖面冰封,由于冰层与大气热量交换,冰层垂直导热不均,导致冰面上出现纵横交错的冰裂纹景观。

推瓦村海拔约5070米,是世界上海拔最高的行政村之一。每年2月中上旬,推瓦村牧民一边探查冰层厚度一边用牛粪炉灰在普莫雍错冰面上撒出一条灰色小道,在清晨将羊群沿该小道从湖岸赶至湖心岛(图10),湖心岛水草丰富,饲料充足,便于羊群度过春回大地前“青黄不接”的日子,一个多月后牧民又将羊群赶回湖岸,这种独一无二的转场牧业方式已在当地延续了上千年。

随着全球气候变化,近几十年,流域内冰川面积逐渐萎缩,未来普莫雍错面积有减小趋势。

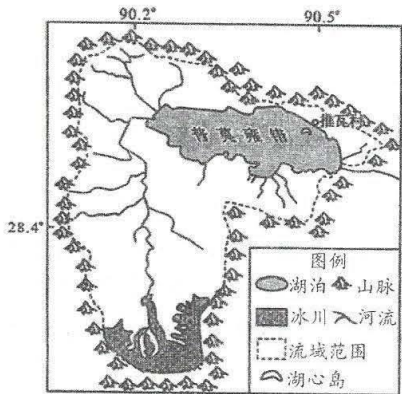


图9

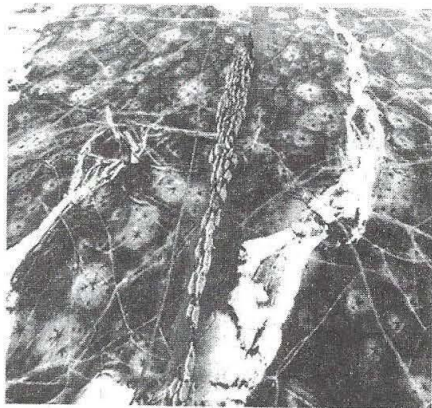


图10

- (1)判断普莫雍错的湖水盐度特点并说明理由。(6分)
- (2)说明普莫雍错冰裂纹景观的形成过程。(8分)
- (3)简述牧民用牛粪炉灰在冰面上撒出一条灰色小道的益处。(4分)
- (4)分析普莫雍错面积缩小对区域自然环境产生的影响。(6分)

38. 阅读材料,完成下列要求。(14分)

预制菜,是按照标准化流水作业,对菜品原料进行前期加工,消费者和餐饮企业只需通过简单烹调或直接开封即可食用的便捷特色菜品。2023年中央一号文件首次提出“培育发展预制菜产业”,多地政府纷纷发布相关支持政策。

2022年3月,广东省把预制菜产业发展写入省政府工作报告重点任务,发布《加快推进广东预制菜产业高质量发展十条措施》;针对预制菜菜品质量参差不齐等问题,不断完善规章制度,加强监管,规范经营;根据预制菜加工厂呈现区域化、分散化和小规模的特征,着力打造区域性预制菜全产业链,做好预制菜加工、电商物流、休闲旅游等产业一体化融合;基于缺少预制菜专业研发人才、创新动力不足的现状,把预制菜产业创新人才培养纳入“粤菜师傅”工程。自此,广东省预制菜产业发展新格局全面开启。

结合材料,运用经济生活的知识,说明广东省是如何培育发展预制菜产业的。

【文科综合 第8页(共12页)】

39. 阅读材料,完成下列要求。(12分)

当前,世界之变、时代之变、历史之变正以前所未有的方式展开,新旧安全问题不断涌现。在关乎世界和平发展的关键时刻,习近平主席提出全球安全倡议。

2023年2月21日,中国正式发布《全球安全倡议概念文件》,提出了坚持共同、综合、合作、可持续的安全观,坚持尊重各国主权、领土完整,坚持遵守联合国宪章宗旨和原则,坚持重视各国合理安全关切,坚持通过对话协商以和平方式解决国家间的分歧和争端,坚持统筹维护传统领域和非传统领域安全。这为推动国际社会构建人类安全共同体提供了更系统的思路 and 更可行的举措,展现中国对维护世界和平的责任担当。全球安全倡议引发国际社会广泛关注和称赞。

结合材料,运用政治生活知识说明中国提出的全球安全倡议为什么广受关注和称赞。

40. 阅读材料,完成下列要求。(26分)

2023年2月20日,首届中国非物质文化遗产保护年会在陕西榆林闭幕,500余名非遗传承人携200余项非遗,运用匠心巧思,共同展示了非遗文化的时代价值。

胶南年画是青岛市级非物质文化遗产项目,沿袭了民间年画的特色,借鉴吸收了中国工笔画、民间剪纸等艺术特点,逐渐演变形成了构图饱满、色调跳跃、造型质朴而夸张的艺术风格,融合年画元素制成的文创产品精巧可爱。传承人田胜坚持在胶南年画中融入时代气息、推动其走入日常生活,用现代审美对年画进行二次创作,用文化衍生品拉近人们与非遗的距离,并利用电商平台直播销售非遗产品。近年来,许多非遗传承人也如田胜一样,让非遗从“展品”变“产品”,从“养在深闺人未识”到“飞入寻常百姓家”。

(1)有人认为,推动非遗从“展品”变为“产品”,就能传承保护好非遗文化。结合材料,运用文化传承与创新的有关知识评析这一观点。(10分)

(2)结合材料,运用创新意识的知识,谈谈非遗传承人继承与保护非遗文化给我们的启示。(10分)

(3)某校拟举办非遗文化进校园活动,请你设计一个活动方案。要求:主题、内容明确,字数在100字以内。(6分)

41. 阅读材料,完成下列要求。(25分)

材料一 1624年,英国颁布《垄断法》,规定在14年内,发明者对具有创新意义的发明产品,享有对所发明的技术和发明的产品的独占生产、制造、销售、转移等权利。1771年,英国衡平法院开始要求专利发明人提交发明的详细说明书。1852年,英国颁布《专利法修正案》,并设立了英国专利局来专门处理专利事务,简化专利的申请程序,规范专利的审查机制,削减专利的申请费用,并开始整理用来传播专利信息的专利文献。1875年,英国外观设计注册局并入了专利局,承担商标注册职能。

——摘编自赵方捷《从英国专利保护制度的历史变迁看其对英国经济增长的持续作用》

材料二 1912年,中华民国颁布第一部专利法规《奖励工艺品暂行章程》,对发明制品给予5年以内的专卖,对改良品也给予褒奖,章程还初步规范了专利申请程序、所附具的要件、审批程序等。1923年,北洋政府农商部公布《暂行工艺品奖励章程》,增加了对方法发明的保护。1928年,《工艺品发明审查鉴定条例》规定“纯系理论不合实用者”、“劳费多而成效少无裨实用者”不得给予证书。1912-1944年,各届政府批准颁行的具有专利性质的法规有11部,但对近代经济的发展并未发挥出应有的效果。

——摘编自郝万富《近代中国社会转型时期专利制度变迁述论》

【文科综合 第9页(共12页)】

材料三 新中国成立初期,政府先后颁布过《保障发明与专利权暂行条例》、《发明奖励条例》等与知识产权相关的法律和规章,但在计划经济体制下,私权属性突出的知识产权受到抵制。1984年《专利法》颁布并实施,之后《商标法》、《著作权法》相继颁布,我国开始建立真正的现代知识产权制度。1985年开始,我国相继加入了《保护工业产权巴黎公约》、《商标注册马德里协定》、《世界版权公约》等国际公约,中国的知识产权保护体系基本形成。

——摘编自李志明《中国知识产权文化发展中的文化冲突及解决方法》

- (1)根据材料一、二并结合所学知识,概括指出近代英国和中国专利制度发展的共同特点,并分析近代中国专利法规未能发挥应有效果的原因。(13分)
- (2)根据材料三并结合所学知识,指出新中国成立以来知识产权制度变化的原因。(5分)
- (3)根据上述材料并结合所学知识,简析知识产权保护制度建立的意义。(7分)
42. 阅读材料,完成下列要求。(12分)

表1

文献类型	文献内容
博士学位论文	张雪飞《人衣关系视域下的晚清民国女性服饰变革研究》
	易思维《中国近代铁路、人力资本提升与经济增长》
	王志刚《思想解放与中国道路演变进程研究》
	司书岩《马克思恩格斯关于近代中国历史命运研究》
专著	熊月之《西学东渐与晚清社会》,上海人民出版社,1994年版
	李剑农《中国百年政治史》,复旦大学出版社,2002年版
	杨琥《李大钊年谱》,云南教育出版社,2020年版
	《毛泽东选集》第1-4卷,人民出版社,1995年版
期刊论文	戚其章《从“中本西末”到“中体西用”》,《中国社会科学》1995年第1期
	方书生《近代中国工业化的渐变与突变》,《上海经济研究》2022年第7期
	翟宇《中国共产党对近代中国“半殖民地”社会性质的认识历程》,《社会主义研究》2022年第5期
报刊	《申报》
	《时务报》
	《新青年》

表1文献资料是一位学者为研究某一主题而搜集的,请根据文献信息并结合所学知识,自拟一个研究主题,并从所列文献中至少选取三类文献予以说明。(要求:使用不少于三类文献,主题明确,论述充分,史实准确,表达清晰。)

(二)选考题:共25分。请考生从2道地理题、3道历史题中每科任选一题作答。如果多做,则按所做的第一题计分。

43. 【地理——选修3:旅游地理】(10分)

十堰市武当山为5A级景区,游客主要来自本省、河南及陕西等地,来自广西的游客数量较少,表2为武当山近年来国内游客来源地统计。2020年3月6日,十堰市文化和旅游局为感恩广西对十堰市防疫抗疫工作做出贡献,发布“感恩·十堰欢迎您”的邀请,诸多旅游景区对广西居

【文科综合 第10页(共12页)】

民免费开放。图11为武当山山区位简图。

表2 近年来武当山景区国内游客来源地统计

客源地等级	主要涵盖区域	游客占比(%)
一级客源地	湖北、河南、陕西	82.11
二级客源地	北京、珠江三角洲地区、长江三角洲地区	13.68
三级客源地	环渤海地区、四川、重庆、西藏、广西、云南等	4.21

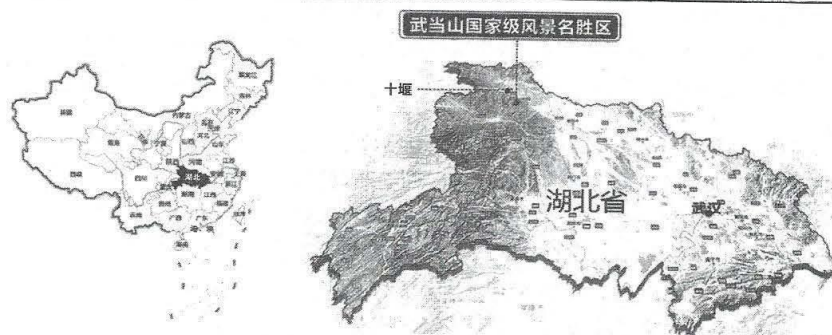


图11

分析近年来前往武当山旅游的广西游客比重小、数量少的原因,简述湖北省十堰市向广西居民发布“感恩卡”对当地旅游业发展的意义。

44. 【地理——选修6:环境保护】(10分)

“冬季到湖区看草原”。隆冬时节,进入枯水期的鄱阳湖,“草原”风光取代碧水连天,裸露的湖床上青草又高又密,大量游客携带帐篷露营,在江南饱览塞外风光,当地居民却在担忧存在的生态环境问题。图12、图13为冬季鄱阳湖周边景观图。



图12

图13

列举鄱阳湖区可能出现的生态环境问题并解释相关原因。

45. 【历史——选修1:历史上重大改革回眸】(15分)

材料 1864年,在开明官僚的推动下,沙皇亚历山大二世签署法令,开始实施司法改革。改革创建了“乡-县-司法区-省-中央”的五级法院建制,完善了检察制度和上诉体制,形成了司法部和参议院联合监管下的司法管理体制;改革创新性地创立了吸收英、法模式的陪审制度和律师制度。陪审制的引入是人民参与司法的典型体现,而律师是代表当事人维护个人权利的,他们享有言论自由。但19世纪70年代以后,随着俄国政治环境的变化,沙皇政府

【文科综合 第11页(共12页)】

开始采取直接和间接的措施来降低司法改革的影响力,直到1917年,改革者建立法治国家的目标仍然没有实现。

——摘编自郭响宏《俄国1864年司法改革研究》

(1)根据材料并结合所学知识,概括近代俄国司法改革的背景,并分析改革措施的特点。(9分)

(2)根据材料并结合所学知识,简要分析近代俄国司法改革的影响。(6分)

46.【历史——选修3:20世纪的战争与和平】(15分)

材料 1969年3月,尼克松入主白宫后,为尽快结束给美国政治、经济和社会带来巨大冲击的越南战争,制定了新的“和平战略”。该战略的主要内容是:试图通过谈判早日就越南问题达成公平的解决,但如果遭到(北越)拒绝,就加强南越的军队,即使战争重新“越南化”。

1972年3月,北越人民军发动“春季攻势”,向南越的顺化、广治地区发动进攻,南越方面人员、装备损失惨重。而这一年9月,美国与北越的谈判也取得较大突破,有可能在10月下旬达成停火协定。10月19日,尼克松总统做出了向南越提供紧急军事援助的决定,要求国防部采取行动向南越运送更多的装备。于是,援助南越的“超大计划”浮出水面,在援助的武器清单中包含有29种陆军装备和7种空军装备,以及大量零配件、弹药和油料储备,总吨位达到82797吨,总价值为5亿美元。但是从越南战争的后续发展进程看,得到大量武器装备补充的南越军队仍然无法同北越人民军相抗衡,最终在1975年的越南统一战争中一溃千里。

——摘编自董大亮、田宗会《论美国在越南战争中的“超大计划”》

(1)根据材料并结合所学知识,分析美国在越南战争中实施“超大计划”的背景。(8分)

(2)根据材料并结合所学知识,简要评价美国在越南战争中实施的“超大计划”。(7分)

47.【历史——选修4:中外历史人物评说】(15分)

材料 詹天佑(1861-1919年),广东南海县人。12岁的他考取留美官费生,专攻土木工程,22岁时以优异成绩从耶鲁大学土木工程学系毕业学成回国。1904年,清政府为抵制英、俄两国掠夺京张路的修建权,决定自办京张铁路。1905年,清政府任命詹天佑为总工程师兼会办,主持全线工程。詹天佑和广大工人战胜无数艰难险阻,于1906年9月将丰台到南口的第一段工程全部竣工通车。第二段南口到岔道城的工程,是京张铁路中最艰巨的一段,“层峦叠嶂,石峭湾多,遍考各行省已修之路,以此为最难”。詹天佑坚持从实际出发,大胆创新,在开凿隧道时摒弃欧美用机器“开山凿洞”的方法,采用了从两端向中点凿进的方法。工程进展艰难时,他带头挑水、排水,组织民工用大木方支撑,用小钢轨穿错其间,节节前进。1909年9月,京张铁路全线提前两年通车。李四光曾指出:詹天佑“为深受侮辱的中国人民争了一口大气,表现了我国人民伟大的精神和智慧,昭示着我国人民伟大的将来。”

——摘编自吕世微《詹天佑和京张铁路》

(1)根据材料并结合所学知识,说明詹天佑能成功修建京张铁路的原因。(9分)

(2)根据材料并结合所学知识,简析京张铁路成功修建的历史意义。(6分)

【文科综合 第12页(共12页)】

关于我们

自主选拔在线是致力于提供新高考生涯规划、强基计划、综合评价、三位一体、学科竞赛等政策资讯的升学服务平台。总部坐落于北京，旗下拥有网站（[网址：www.zizzs.com](http://www.zizzs.com)）和微信公众平台等媒体矩阵，用户群体涵盖全国 90% 以上的重点中学师生及家长，在全国新高考、自主选拔领域首屈一指。

如需第一时间获取相关资讯及备考指南，请关注**自主选拔在线**官方微信信号：**zizzsw**。



Q 自主选拔在线

