

宿州市 2023 届高三教学质量检测

文科综合能力测试

2023.2

考生注意：

1. 本试卷分第 I 卷和第 II 卷两部分。满分 300 分,考试时间 150 分钟。
2. 考生作答时,请将答案答在答题卡上。必须在题号所指示的答题区域作答,超出答题区域书写的答案无效,在试题卷、草稿纸上答题无效。

第 I 卷

本卷共 35 小题,每小题 4 分,共 140 分。在每小题给出的四个选项中,只有一项是最符合题目要求的。

北京时间 2022 年 11 月 29 日(农历十一月初六)23 时 08 分,长征二号 F 遥十五运载火箭在酒泉卫星发射中心(约 100°E、41°N,海拔 1000 m)成功将神舟十五号载人飞船发射升空,6 小时 34 分后神舟十五与中国空间站组合体完成自主快速交会对接。发射现场央视记者拍摄到“箭月同框”的浪漫景致(如下图所示)。由于月球既不发光也不透明和日、地、月三者位置的不断变化,导致地球上人们所看到月球被日光照亮部分的形状(月相)也在不断变化。据此回答 1~2 题。

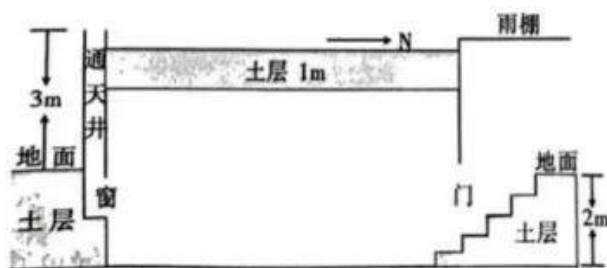


1. 中国空间站所处宇宙环境的特点是
 


A. 强辐射 高真空 微重力	B. 强对流 弱辐射 超高温
C. 高真空 强对流 超低温	D. 超高温 高密度 强辐射
2. 据图中月相推测该记者拍摄“箭月同框”时的摄像机镜头朝向
 

A. 东南方	B. 西南方	C. 东北方	D. 西北方
--------	--------	--------	--------

“中国梨都”砀山县地处故黄河河畔,当地果农因地制宜建成半地下式果窖,可以使梨从当年十月贮藏到次年六月。果窖一般选在地势较高的地方挖坑,深约 2 米,用砖券成墙体,窖顶上覆厚 1 米左右土层。果窖北门南窗,门口处设有倾斜阶梯直通地面,窗口处设有高出地面 3 米的方形砖砌通天井,利于通风换气。读图完成 3~5 题。



果窖南北向中轴线剖面示意图



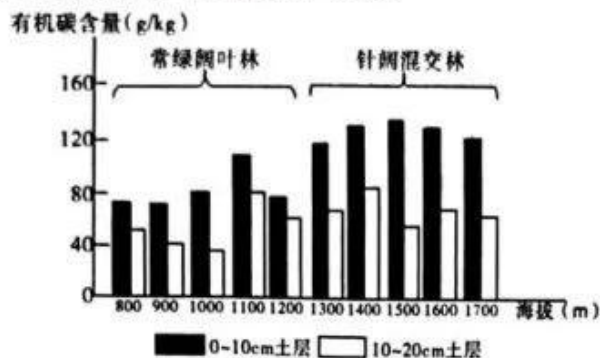
果窖南墙立面示意图

3. 与地上房屋相比,该半地下式果窖更利于梨的贮藏与保鲜的主要原因是
 

A. 荫蔽干燥	B. 防御鼠害	C. 冬暖夏凉	D. 坚固耐用
---------	---------	---------	---------

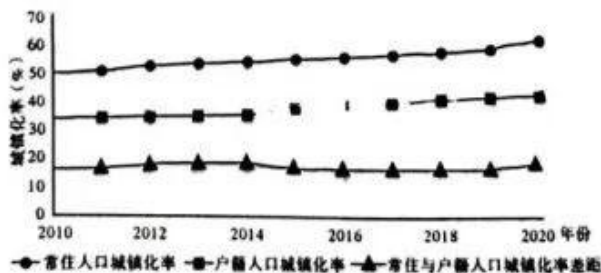
4. 影响该半地下式果窖选址在地势较高地方的主要因素是  
A. 土壤厚度                      B. 地下水位                      C. 地表植被                      D. 日照指数
5. 隆冬、春末果农打开门窗为果窖通风换气的的时间一般分别为  
A. 凌晨 凌晨                      B. 凌晨 午后                      C. 午后 午后                      D. 午后 凌晨

土壤有机碳是指存在于土壤中的各种形态含碳有机物。下图示意武夷山主峰(海拔 2158 m)海拔 800~1700 米土层有机碳含量的垂直分布。据此完成 6~8 题。



6. 造成常绿阔叶林与针阔混交林土壤中有机碳含量差异的主要原因是  
A. 植被类型                      B. 生物循环                      C. 风化作用                      D. 光合作用
7. 影响图示海拔 1100 米处土壤有机碳含量突变的因素最可能是  
A. 热量                              B. 湿度                              C. 光照                              D. 植被
8. 该山地海拔 1700 米以上邻近的植被可能是  
A. 高寒荒漠                      B. 硬叶林                              C. 针叶林                              D. 草甸

城镇化、市民化与共同富裕之间存在密切关联。我国常住人口与户籍人口城镇化率差距明显。流动人口市民化和新型城镇化的建设已成为城镇化高质量发展乃至实现共同富裕的关键。读 2010~2020 年我国城镇化率变化示意图,完成 9~11 题。



9. 关于我国城镇化的说法正确的是  
A. 计划生育政策调整促使户籍人口城镇化率不断提高  
B. 产业结构政策优化促使常住人口城镇化率不断提高  
C. 城镇化率的提高导致城乡经济的差距不断扩大  
D. 新型城镇化的建设体现了以人为本的发展理念
10. 造成北京、上海等超大城市常住人口与户籍人口城镇化率差距大的原因是  
A. 交通便捷程度提高,人口流动性较强                      B. 人口大量无序流动,常住人口数量少  
C. 户籍制度较为严格,市民化速度较慢                      D. 文化习俗差异较大,融入城市较困难

11. 有利于提高我国流动人口市民化的直接措施有  
①增加城市医疗资源 ②加大城市教育投入 ③确保我国粮食安全 ④推进新农村建设  
A. ①② B. ③④ C. ①③ D. ②④
12. 近年来,我国考古工作又有许多新的重大发现:2021年,考古工作者在四川稻城皮洛遗址发现13万年前远古人类使用的石斧,可谓“石破惊天”;2022年,考古工作者在著名的“张献忠沉宝”之地,四川彭山江口明末战场遗址,发现大量巴蜀青铜兵器和工具,时代上上至西周,下至战国。据此可以推断  
①“石斧”所反映的时代,人们主要以采集天然食物为生  
②“石斧”所反映的时代,已经出现了原始畜牧业和农业  
③“巴蜀青铜兵器”所反映的时代,中国已迈入了文明时代的门槛  
④“巴蜀青铜兵器”所反映的时代,农民被当成了“会说话的工具”  
A. ①③ B. ①④ C. ②③ D. ②④
13. 党的二十大报告指出:“马克思主义是我们立党立国、兴党兴国的根本指导思想。实践告诉我们,中国共产党为什么能,中国特色社会主义为什么好,归根到底是马克思主义行,是中国化时代化的马克思主义行。”中国化时代化的马克思主义“行”,是因为马克思主义  
①是实践的理论,为人类认识和改造世界提供强大物质力量  
②是人民的理论,站在人民的立场探求人类自由解放的道路  
③是科学的理论,为人类实现自由和解放提供了现成的路径  
④是不断发展和开放的理论,不断探索时代发展提出的新课题  
A. ①② B. ①③ C. ②④ D. ③④
14. 2022年12月5日,中国人民银行降低金融机构存款准备金率0.25个百分点,本次下调共计释放长期资金约5000亿元。此次降准为全面降准,除已执行5%存款准备金率的部分法人金融机构外,对其他金融机构普遍下调存款准备金率0.25个百分点。对此次降准的传导路径认识正确的是  
A. 贷款利率下降→降低企业融资成本→促进实体经济发展  
B. 增加货币供应量→缓解企业资金压力→降低企业经营风险  
C. 释放货币流动性→破解企业融资难题→激发企业发展活力  
D. 减轻企业税费负担→激发企业活力→推动经济高质量发展
15. 个人养老金是政府政策支持、个人自愿参加、市场化运营的补充养老保险制度。个人养老金实行个人账户制,缴费完全由参加人个人承担,自主选择购买符合规定的储蓄存款、理财产品、商业养老保险、公募基金等金融产品(统称个人养老金产品),实行完全积累,按照国家有关规定享受税收优惠政策。2022年11月25日,个人养老金制度正式启动,北京、上海等36个城市和地区成为“先行者”。对个人养老金制度理解正确的有  
①可以减轻政府在养老保障中的责任和负担  
②具有风险分摊与责任共担的社会互济性功能  
③可以更好地满足人民群众日益增长的多样化养老保险需要  
④有利于个人理性规划养老资金,合理选择金融产品  
A. ①② B. ②③ C. ①④ D. ③④



- ①真理与谬误往往是相伴而行的  
②人将在实践中形成的认识用于指导实践  
③人的实践活动是一种直接现实性活动  
④感性认识依赖于理性认识并有待于上升为理性认识

A. ①③                      B. ①④                      C. ②③                      D. ②④

21. 当代中国是历史中国的延续和发展,中华民族创造了源远流长的中华文化,也一定能够创造出中华文化新的辉煌。习近平总书记在党的二十大报告中对推进文化自信自强,铸就社会主义文化新辉煌作出重要部署,强调要增强中华文明传播力影响力。这需要

- ①固守中华文化立场,提炼展示中华文明的精神标识和文化精髓  
②讲好中国故事、传播好中国声音,展现可信、可爱、可敬的中国形象  
③加强国际传播能力建设,形成以我国为主导的国际话语权  
④深化文明交流互鉴,推动中华文化更好走向世界

A. ①③                      B. ①④                      C. ②③                      D. ②④

22. 美国东部时间 2022 年 12 月 6 日,佐治亚州联邦参议员选举在经历了第二次投票后终于尘埃落定。在今年的中期选举中,无论是共和党还是民主党,都在争相使用着来自各自金主的“钞能力”,至于“能力者”间的较量,则更加简单——钱多者胜。一边是史上最贵的中期选举,另一边是美国饥饿与贫困水平的提升。这表明

- ①民主党和共和党在根本利益上是对立的                      ②利益集团是美国政治体系的重要组成部分  
③美国的总统和政府首脑以议会为基础产生                      ④美国的民主实质上是资产阶级内部的民主

A. ①②                      B. ①③                      C. ②④                      D. ③④

23. 2022 年 11 月 14 日,国际主席习近平与美国总统拜登在巴厘岛会晤时强调,中美应以史为鉴、面向未来。作为两个大国的领导人,要起到把舵定向的作用,为中美两国关系找到正确的发展方向,推动中美关系向上提升,重回健康稳定发展轨道,造福两国,惠及世界。这一中国主张表明

- ①中美应坚持双边主义,寻找利益最大公约数  
②大国要发挥表率作用,加强和完善全球治理  
③中美应积极发展睦邻友好关系,推动构建人类命运共同体  
④美方应摒弃零和思维,促进中美关系长期健康稳定发展

A. ①③                      B. ②④                      C. ②③                      D. ①④

24. 唐人柳宗元在《封建论》中指出:“周有天下,裂土田而瓜分之,设五等,邦群后。布履星罗,四周于天下,轮运而辐集;合为朝覲会同,离为守臣扞城。”下列选项中,对这一“国家治理模式”解读正确的是

- ①国家治理由松散趋向严密                      ②中央对地方实行垂直管理  
③以血缘关系为纽带形成国家政治结构                      ④推动了不同地域文明的交融

A. ①②③                      B. ②③④                      C. ①②④                      D. ①③④

25. 下表内容是古籍中对先秦城市规划的记述,所反映的城市规划理念是

“匠人营国,方九里,旁三门。国中九经九纬,经涂九轨。左祖右社,面朝后市”。	《周礼·考工记》
“王城方九里,公城方七里,侯城方五里,爵城方三里。”	《左传·隐公元年》
“凡立国都,非于大山之下,必于广川之上。高毋近阜而水用足,下毋近水而沟防省。因天材,就地利。”	《管子·承马》

- ①彰显统治者的权威  
②与经济制度相适应  
③人与自然互相适应  
④国家治理与社会治理的需要
- A. ①②③④                      B. ①②③                      C. ①③④                      D. ①④

26. 清人龚自珍在《春秋决事比》中讲到汉宣帝时一个案例：“甲父乙，与丙争言相斗。丙以佩刀刺乙，甲即以杖击丙，误伤乙”，廷尉问董仲舒“甲当何论”，董仲舒回答说，“《春秋》之义，许止父病，进药于其父而卒。君子原心，赦而不诛。甲非律所谓殴父也，不当坐。”由此可见，“春秋决狱”反映了
- A. 无罪推定量刑准确                      B. 引礼入法尊崇儒术  
C. 情法结合客观公正                      D. 德主刑辅体系完备
27. 唐代吴道子《送子天王图》(局部)，描写佛教始祖释迦牟尼降生以后，他的父亲净饭王和母亲摩耶夫人抱着他去朝拜大自在天神庙，诸神向他礼拜的故事。从文化交流的角度看，该图反映了



- A. 佛教中国化的形态已完成                      B. 佛教在唐代居于主导地位  
C. 画面保持印度美术的风格                      D. 佛教与道教的排斥与交融
28. 《南京条约》签订后，纺织品进口税率平均由 19.9% 降至 6%，第二次鸦片战争后降至 5% 以下。1845 年后“洋布大行，价才当梭布三之一”“松太(江苏松江府与太仓州)布市，消减大半”。1892 年由镇江进口洋纱达 8.5 万担。1895 年南通、海门两地，每日可销洋纱 20 大包，已合 1 万纱锭的产量。上述材料表明
- A. 不平等条约签订拉动中国经济的发展                      B. 进口纺织品价廉质优受到消费者喜爱  
C. 中国经济被动卷入资本主义世界市场                      D. 中国近代产业与世界市场的深度融合
29. 下表中的言论，反映了持论者都

梁启超	“法者，天下之公器也；变者，天下之公理也。”“变亦变，不变亦变。”“变而变者，变之权操诸己，不变而变者，变之权让诸人。”
孙中山	“我辈既以担当中国改革为己任，虽石烂海枯，而此身尚存，此心不死”“则终有最后成功之一日。”
陈独秀	“国人而欲脱蒙昧时代，羞为浅化之民也，则急起直追，当以科学与人权并重。”

- A. 努力改良政治制度                      B. 主张推翻封建帝制  
C. 希望提高国民素养                      D. 探索社会变革道路
30. 1941 年 11 月，陕甘宁边区第二届参议会召开，选举议员 219 名，除共产党员外，地方绅士和其他人士占 2/5；常驻议员 9 人，其中党外人士 6 人。党外进步人士担任乡长以上各级行政领导的有 3592 人，例如区副议长安文钦、副主席李鼎铭，建设厅长霍子乐、教育厅长柳湜，都是著名党外人士。这些措施
- A. 体现了新民主主义革命政治原则                      B. 扩大了中国共产党执政的阶级基础  
C. 扩大并巩固了抗日民族统一战线                      D. 挫败了日伪军对抗日根据地的“扫荡”

31. 从 20 世纪 20 年代起,各地美术学校陆续设立“国画课”“国画科(系)”。1927 年,在音乐家刘天华主持下,国乐改进社成立。1931 年 7 月,中华医药联合会更名为中华国医学会。1931 年底至 1932 年初,京戏大师齐如山参与创建国剧学会。这些现象反映了
- A. 国人文化自觉意识增强  
B. 国民政府注重科教文化  
C. 传统文化紧跟时代潮流  
D. 知识精英探索国家出路
32. 雅典乡居的公民进城参加公民大会朝出暮归,人们彼此比较熟悉,城邦政务简单,易于在公民大会中讨论和表决。公元前 431 年,雅典全部人口为 40 万人,其中雅典自由民 16.8 万,外邦人 3.2 万,奴隶 20 万。而自由民中,妇女被排除于公民之外。由此可见,雅典民主制的特点是
- A. 奴隶主贵族阶级的民主  
B. 直接民主与民主范围狭隘  
C. 自由民享有民主的权利  
D. 民主政治呈现渐进性特征
33. 1347—1351 年,黑死病传到欧洲并肆虐欧洲全境,欧洲人口下降了 25%—50%,多数欧洲人认为,这场瘟疫是上帝对人类原罪的惩罚。为了获得上帝的原谅,成群结队的男男女女,辗转于城镇之间,用鞭子狠狠地相互抽打,以求洗清自己的罪责,这就是鞭答运动。这种现象本质上反映了
- A. 当时欧洲防疫能力的低下  
B. 教徒对上帝的信仰的虔诚  
C. 黑死病具有不可抗拒特点  
D. 天主教神学思想的毒害
34. 19 世纪 70 年代以后,德意志法律主要包括全德使用的“共同法”和各邦的地方法。法学家蒂堡认为当下全部的法律杂乱无章,不仅无法解决实际问题,更会造成德意志人民之间的隔阂。因继承罗马法而丧失本国法律的稳定性,依赖于罗马与巴黎的法律文化甚至政治文化,这是一种充满屈辱和压迫的做法。蒂堡的最终意图是
- A. 摆脱对法国民法典的依赖  
B. 制定一部统一的德意志民法典  
C. 彰显德意志法律文化传统  
D. 为德意志帝国的侵略扩张服务
35. 圣雄甘地认为,西方工业文明带来的不仅是人类道德的堕落,而且毁灭了整个印度传统社会的经济秩序。他以为独立后的印度决不能建立以工业文明为模式的西方式社会,着重恢复传统的农业和手工业相结合的自然经济。他理想中的社会是重建印度文明基础之上的非暴力社会。甘地的良苦用心旨在
- A. 为实现民族独立而进行社会动员  
B. 以逆现代化手段改造印度的经济  
C. 避免印度重复西方工业化的老路  
D. 经济社会发展必须具有印度特色

## 第 II 卷

本卷共 9 个小题,计 160 分。

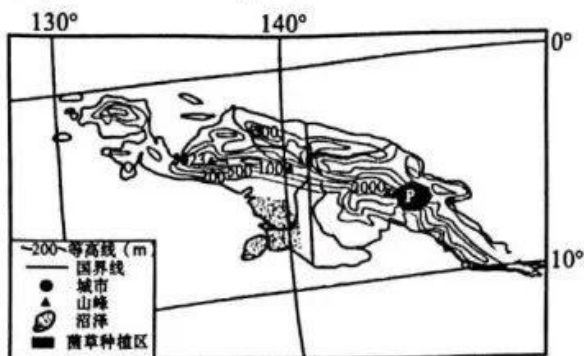
36. 阅读图文材料,回答下列要求。(28 分)

菌草是可用作食用菌和药用菌培养基的草本植物,巨菌草是一种适宜在热带、亚热带、温带生长和人工栽培的高产优质菌草。巨菌草为多年生植物,直立、丛生,根系发达,其植株高大,株高一般为 3—5 米。气温 8℃ 以上可正常生长,25—35℃ 为适宜生长温度,低于 5℃ 时生长受到抑制;低于 0℃ 时需采取保护措施。巨菌草能耐受短期干旱,但不耐涝。

菌草技术是 20 世纪 80 年代我国利用菌草作为培养基,“以草代木”发展起来的特有技术。菌草种植综合效益显著,它不仅是畜牧养殖青料和贮料的新宠,也是治理水土流失和土壤重金属污染的新举措。这种从福建出发的神奇“中国草”已在 100 多个国家落地生根,2001 年中国首个援外菌草技术示范基地在巴布亚新几内亚顺利建成。

文科综合试题 第 7 页(共 12 页)

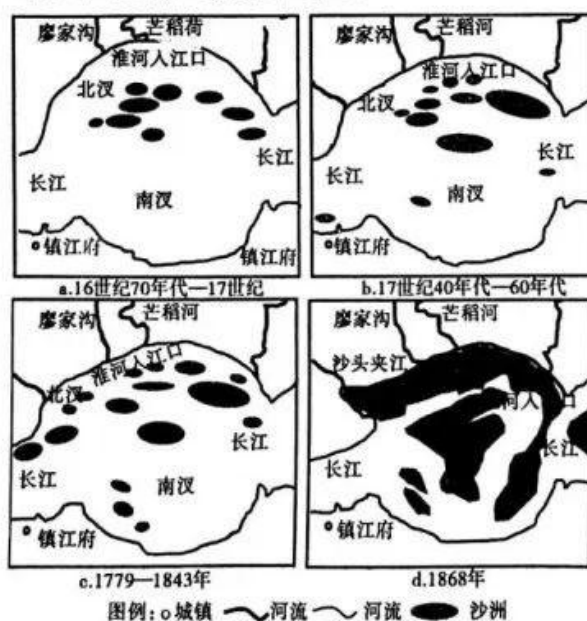
巴布亚新几内亚是南太平洋西部的一个岛国,国土包括新几内亚岛东半部及附近共约 600 余个大小岛屿。巴布亚新几内亚巨菌草种植区主要分布在新几内亚岛的东部。下图示意新几内亚岛的地形。



- (1) 指出新几内亚岛的地形地势特征。(8分)
- (2) 简述图中沼泽的形成原因。(6分)
- (3) 简析图中 P 地发展菌草种植的区位优势。(8分)
- (4) 分析巴布亚新几内亚从我国引种巨菌草的社会意义。(6分)

37. 阅读图文材料,完成下列要求。(28分)

长江镇(江)扬(州)河段位于长江三角洲的顶端,淮河主要通过廖家沟、芒稻河注入长江。下图示意长江镇扬河段淮河入江口外沙洲的发育及其并岸过程。

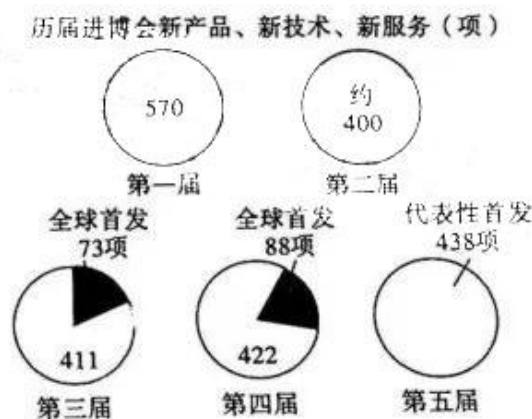
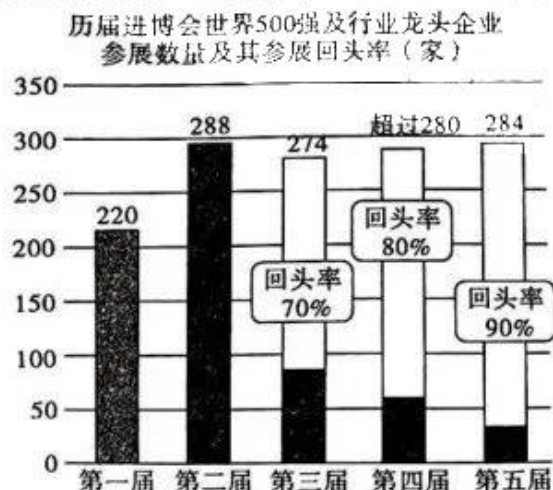




- (1)描述 a 图河道形态特征。(4 分)
- (2)从淮河入江角度,分析与 a 图相比 b 图沙洲的变化过程。(8 分)
- (3)简析 a 图至 d 图淮河入江口外沙洲群的变化对长江北汉、南汉水道的影响。(6 分)
- (4)说明长江镇扬河段河道的演变对该地汛期防洪的影响。(4 分)
- (5)有人对“人类是否应该干预河道演变”提出了质疑。请提出自己的观点,并说明理由。(6 分)

38. 阅读材料,完成下列要求。(14 分)

作为世界首个以进口为主题的国家级展会,中国国际进口博览会(进博会)已成功举办五届。尽管国际局势动荡和疫情肆虐,2022 年 11 月在上海举办的第五届进博会仍然交出了靓丽的成绩单,参展国家和地区达到 145 个,参展企业超 2800 家,意向成交金额达到 735.2 亿美元。



资料来源:《中国国际进口博览会企业商业展展后报告》

结合材料,运用经济与社会、当代国际政治与经济的相关知识,概括第五届进博会的亮点并分析进博会保持较高回头率的原因。来源:高三答案公众号

39. 阅读材料,完成下列要求。(12分)

党的十八大以来,以习近平同志为核心的党中央,以“十年磨一剑”的定力推进全面从严治党,以“得罪千百人,不负十四亿”的使命担当推进史无前例的反腐败斗争,打出一套自我革命的“组合拳”,反腐败斗争取得压倒性胜利并全面巩固,消除了党、国家、军队内部存在的严重隐患。十年淬火锻造,十年百炼成钢。经过不懈努力,党找到了自我革命这一跳出治乱兴衰历史周期率的第二个答案,自我净化、自我完善、自我革新、自我提高能力显著增强,管党治党宽松软状况得到根本扭转,风清气正的党内政治生态不断形成和发展。

全面从严治党永远在路上,党的自我革命永远在路上。2022年12月6日,习近平总书记在中央政治局会议上强调,还远未到大功告成的时候,要时刻保持解决大党独有难题的清醒和坚定,时刻保持永远在路上的坚韧和执着,进一步增强坚定不移全面从严治党的政治定力,把严的基调、严的措施、严的氛围长期坚持下去,把新时代党的伟大自我革命进行到底。

结合材料,运用政治与法治的相关知识,分析在新时代为什么要把党的伟大自我革命进行到底。

40. 阅读材料,完成下列要求。(18分)

**材料一** 长久以来,西方社会凭借率先实现现代化的优势,垄断了现代化的定义权和话语权,向全球灌输“只有走西方资本主义道路才能实现现代化”的认知。然而,西方的现代化伴随着对资源的无尽索取,伴随着对别国领土的悍然征伐,伴随着对非西方文明的残酷打压。对于渴望实现经济繁荣、民族复兴的广大发展中国家而言,西方的现代化之路是不可复制的。中国式现代化终结了“一元现代性”的独断,丰富了文明的多样性,拓展了发展中国家走向现代化的途径,为解决人类问题贡献了中国智慧和方案。

**材料二** 中华优秀传统文化是中国式现代化的根,是我们的底气所在。中国式现代化中蕴含的中华文化中的“和合”魅力,为丰富和发展人类文明新形态贡献了中国智慧。与西方传统的二元对立思维不同,中华优秀传统文化崇尚“和合”思想。长久以来,以和为贵、以“合”求“和”,是中华民族审视自身,处理人与人、国与国之间关系的基本准则。“和合”思想既尊重事物之间的差异性和多样性,又强调在此基础上达成和谐统一的重要性。习近平总书记提出的人类命运共同体理念,强调各国之间应该“美人之美、美美与共”,认为“世界好,中国才能好;中国好,世界才更好。”这些理念皆植根于中国传统的“和合”思想,是对中华优秀传统文化的传承和发扬光大。

- (1) 结合材料一,运用矛盾普遍性和特殊性辩证关系的知识,分析说明中国式现代化的世界意义。(8分)
- (2) 中华优秀传统文化是中国式现代化的根,是我们的底气所在。结合材料二,运用文化遗产与文化创新的相关知识,谈谈你对这句话的理解。(10分)

41. 阅读材料,完成下列要求。(8分)

青年是整个社会力量中最积极、最有生气的力量,国家的希望在青年,民族的未来在青年。

时代造就青年,盛世成就青年。今天,我们比历史上任何时期都更接近、更有信心和能力实现中华民族伟大复兴的目标,新时代中国青年生逢中华民族发展的最好时期,拥有更优越的发展环境、更广阔的成长空间,面临着建功立业的难得人生际遇。新时代,中国青年大有可为,也必将大有作为。

结合材料,运用中国特色社会主义的相关知识,以“把爱国情、强国志、报国行自觉融入实现中华民族伟大复兴的奋斗之中”为主题,撰写一篇短评。

要求:①围绕主题,观点明确;②论证充分,逻辑清晰;③学科术语使用规范;④总字数在200字左右。

42. 阅读材料,完成下列要求。(25分)

材料一 从隋场帝大业元年(605年)设置进士科算起,至清光绪三十一年(1905年)发布上谕停罢科举止,科举制在中国历史上实行了1300年。科举制把考试竞争机制引入选官制度,向社会各阶层敞开门,朝廷得以从社会各阶层吸纳大量优秀人才进入政府各层级管理部门。科举制促进了中国的强盛统一,也一度使得中国衰败落后;既有利于吏治的清明,也在一定程度上诱发了朋党;既促进了文化的普及,也阻碍了学术的进步;既促进了学校教育的发展,又使学校沦为其附庸;既选拔了大量才智之士,也虚耗了无数学子的人生无期。

——摘编自张国安等《中国古代文官选拔制度及其现代借鉴》

材料二 从1570年到1870年关于中国科举制的英文版论文和专著就有78种之多。17世纪,英国建立起资本主义制度,但少数人或集团掌握着官员的任免权,导致营私舞弊等政治乱象频发。内阁制和政党政治形成后,出现了“政党分肥制”,造成腐败泛滥,降低了行政效率。工业革命后,国家管理职能急剧扩展,急需建立能迅速处理日常事务的职业官僚体系。同时,随着教育程度的提高,人们要求平等参与政府工作的愿望日益强烈。英国学者如郭士立、麦都思、密边乐在介绍科举制的同时,都强烈呼吁英国政府按科举制原则对选官制度进行改革。1853年政府提出《关于建立常任英国文官制度的报告》,建议实行公开竞争考试录用制。1870年枢密院颁布关于文官制改革的命令规定,标志着英国近代文官制度的建立。

——摘编自刘海波《英国文官制度与科举制的渊源》等

材料三 1993年《国家公务员暂行条例》的发布,标志着现代中国国家公务员制度的诞生。经过了20年人事制度改革和公务员制度推行,政府相继出台了数十个与之相配套的《暂行规定》、实施细则等法律法规,使公务员管理的各个环节做到了有法可依,国家行政机关人事制度法规体系初步形成。公务员制度建立了“公开、竞争、择优、平等”的四项基本原则。坚持逢进必考原则,公务员招考录用制度稳定运行。

——摘编自成业、于勇《经济发展中我国公务员制度的历史变迁与现状》

- (1) 根据材料一并结合所学知识,概括中国科举制的作用和特点。(10分)
- (2) 根据材料二并结合所学知识,分析英国文官制度建立的原因。(8分)
- (3) 根据材料三,指出我国公务员制度建设方面取得的成就。上述材料反映了官员选拔制度怎样的发展趋势?(7分)

43. 阅读材料,完成下列要求。(12分)

**材料** 现代化有资本主义与社会主义两种模式,它们具有共同的基础,即工业化。现代化渗透到社会的政治、文化、思想各个领域,表示为多层次、多阶段的历史过程。中国式现代化,既有各国现代化的共同特征,更有基于自己国情的中国特色。中国式现代化的成功实践表明,西方现代化道路并非人类通向现代化的唯一道路,中国式现代化道路拓展了发展中国家走向现代化的途径,给世界上那些既希望加快发展又希望保持自身独立性的国家和民族提供了全新选择。

——摘编自高放《资本主义和社会主义两种现代化、全球化的消长》

根据材料并结合所学知识,谈谈你对中国式现代化道路的认识。(要求:观点明确,史实准确,论证充分,表述清晰)

44. 阅读材料,完成下列要求。(15分)

**材料一** 中世纪的阿拉伯天文学家的“**图斯双圆**”理论出现在300年后的哥白尼的《天体运行论》中,现代天文学家中的很多名称和术语来自阿拉伯天文学家。12世纪开始,许多希腊哲学著作的阿拉伯文译本又重新译成欧洲各种文字,欧洲人才重新接触到真实的希腊古典哲学著作。从阿拉伯世界涌来的知识潮流,给欧洲带来了向心灵解放的“大跃进”,促进了文艺复兴的到来。中国的造纸术、印刷术、指南针和火药是经阿拉伯人之手,逐步传入西欧。

——摘编自蔡德贵《中世纪阿拉伯人对哲学和科学的贡献》

**材料二** 16世纪开始的大航海时代,中国与欧洲有了直接的交往和交流。来华传教士把他们发现的儒家思想文化传播到欧洲。18世纪的法国启蒙思想家将孔子与儒家思想理性化和理想化,作为批判基督教神学和封建专制主义、论证新文化理想的根据和证明。教士们把西方自然科学中的声、光、电、医学等科学技术介绍到中国。西学东渐填补了许多中国文化中原来没有的元素,并且通过具有先进思想的国人的学习与研究,近代科学在中国逐步传播与发展。中国知识界关于近代科学的分类也渐次趋向专门化,形成比较系统的领域。新式思想和研究方法改变了中国古老的思想文化领域,改造、丰富和发展了中国文化的结构。

——摘编自周振鹤《中西文化交流史》

(1) 根据材料一并结合所学知识,概述阿拉伯文化对近代欧洲的影响。(6分)

(2) 根据上述材料并结合所学知识,评析中西思想文化交流。(9分)

## 关于我们

自主选拔在线是致力于提供新高考生涯规划、强基计划、综合评价、三位一体、学科竞赛等政策资讯的升学服务平台。总部坐落于北京，旗下拥有网站（[网址: www.zizzs.com](http://www.zizzs.com)）和微信公众平台等媒体矩阵，用户群体涵盖全国90%以上的重点中学师生及家长，在全国新高考、自主选拔领域首屈一指。

如需第一时间获取相关资讯及备考指南，请关注**自主选拔在线**官方微信号：**zizzsw**。



 微信搜一搜

 自主选拔在线