

座位号

考号

姓名

班级

学校

答
题
要
点

不
内

封
线

密

2023 高考全国卷地区高三年级 5 月联考

文科综合

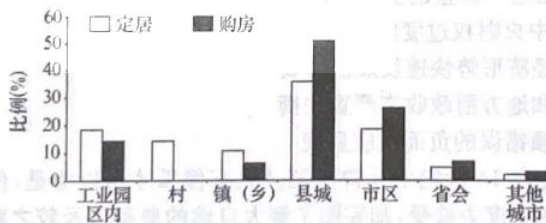
考生注意：

1. 本试卷共 4 页。满分 300 分，考试时间 150 分钟。
2. 答题前，考生务必将自己的姓名、准考证号等填写在答题卡的相应位置。
3. 全部答案在答题卡上完成，答在本试题卷上无效。
4. 回答选择题时，选出每小题答案后，用 2B 铅笔把答题卡上对应题目的答案标号涂黑。如需改动，用橡皮擦干净后，再选涂其他答案标号。
5. 考试结束后，将本试题卷和答题卡一并交回。

第 I 卷(选择题 共 140 分)

一、选择题：本题共 35 小题，每小题 4 分，共 140 分。在每小题给出的四个选项中，只有一项是符合题目要求的。

“回流式”城镇化成为新型城镇化进程中农民工市民化的新路径，其重要性日益彰显，是解决传统农民工异地城镇化瓶颈、推动城乡协调发展、实现高质量城镇化的重要途径。下图为我国中部某地级市回流人口定居意愿和购房意愿构成情况统计图。据此完成 1~3 题。



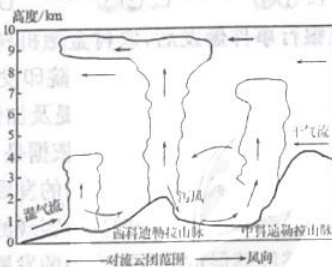
1. 我国中部地区人口回流的特点是
 - A. 回流的空间路径相对单一
 - B. 以农村户籍人口回流为主
 - C. 回流人口的教育程度较高
 - D. 老龄人口的回流比重较高
2. 该市人口主要回流方向是县城而不是市区，主要原因是县城
 - A. 政策优惠显著
 - B. 环境更加优美
 - C. 生活成本较低
 - D. 公共服务完善
3. 该市人口回流对县城带来的积极影响是
 - A. 推动社会保障制度更完善
 - B. 缓解县城地区的人地矛盾
 - C. 发展房地产作为主导产业
 - D. 促进城镇化协调均衡发展

专精特新“小巨人”企业是指具有专业化、精细化、特色化、新颖化发展特征的企业。2022 年 8 月，国家工信部发布了全国第四批专精特新“小巨人”企业名单，广东共有 448 家企业入围，大多集中在珠三角地区，占比约 94.6%。其中，深圳新增 276 家，成为新增数量仅次于北京的城市。下表为我国四批次专精特新“小巨人”企业数量统计表。据此完成 4~6 题。

批次	数量	总数	上市企业
第一批次		248	35
第二批次		1 744	157
第三批次		2 930	119
第四批次		4 357	388

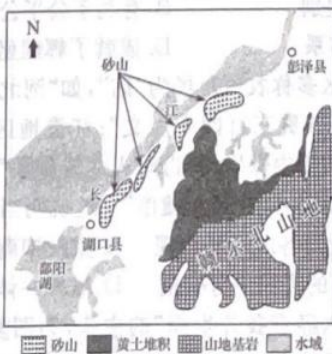
4. 深圳新增专精特新“小巨人”企业较多,其突出优势是
- A. 产业布局优 B. 市场标准化
C. 劳动力丰富 D. 土地价格低
5. 专精特新“小巨人”企业的发展对深圳产业的主要意义是
- A. 扩大标准化生产规模 B. 提升产业的分散程度
C. 增强专业化生产能力 D. 增加上市企业的数量
6. 我国大力支持专精特新“小巨人”企业发展的主要目的是
- A. 优化营商环境 B. 增加就业机会
C. 稳定市场秩序 D. 促进技术创新

夏半年,在西南季风影响下,太平洋的暖湿气流越过哥伦比亚的西科迪勒拉山脉,气流快速下沉形成“泻风”。形成“泻风”的气流在近海地区、西科迪勒拉山脉、中科迪勒拉山脉分别形成对流中心,对流云体垂直向上发展。下图为夏半年哥伦比亚气流及对流云团分布示意图。据此完成7~8题。



7. 西科迪勒拉山脉“泻风”在夏半年下午更显著的原因有
- ①海风叠加作用增强 ②气流下沉作用增强
③西坡谷风势力增强 ④东坡谷风势力增强
- A. ①③ B. ①④ C. ②③ D. ②④
8. 与中科迪勒拉山脉对流云团高度形成关联性最大的是
- A. 山脉海拔较高 B. 东侧干空入侵
C. 海陆环流强烈 D. 逆温现象显著

江西九江湖口县北部的长江南岸一、二级阶地上,发育砂山——黄土堆积序列(如下图)。黄土堆积在山前具有明显增厚的特点(黄土堆积多为外力远程搬运的粉尘颗粒),往南进入赣东北中低山丘陵地带则很难发现有黄土沉积。据此完成9~11题。



9. 长江南岸一、二级阶地上砂山——黄土堆积物的成因是
- A. 流水堆积河床细颗粒物 B. 山地泥石流携带物质堆积
C. 粉尘颗粒经风力堆积而成 D. 地壳抬升使河床泥沙堆积

10. 长江南岸一、二级阶地上砂山——黄土堆积物颗粒平均粒径的空间变化是
- A. 东北向西南逐渐增大
B. 西北向东南逐渐减小
C. 自北向南先增大后减小
D. 自西向东先增大后减小
11. 研究发现,全球变冷会导致该区域黄土沉积速率增大,最可能是因为
- A. 海陆热力性质差异缩小
B. 冬季风的搬运能力减弱
C. 沿岸河滩冻土面积增大
D. 河漫滩泥沙大面积出露
12. 一头连着田间地头,一头连着大众餐桌。预制菜符合当下快节奏的生活需求,着眼于人们从吃饱到吃好、吃健康、吃营养的需要,成为了很多年轻群体的首选,吸引着众多的资金和企业入局。2023年,预制菜首次被写入中央一号文件,被业界称为下一个“万亿级”新赛道、新风口。预制菜这一火爆新赛道的出现
- ①大大吸引了投资和助长了资本的扩张性
②有利于满足人们对“美味+便捷”的需求
③创新了销售模式,增加农产品的使用价值
④延长了农业产业链,有利于推动乡村振兴
- A. ①③ B. ①④ C. ②③ D. ②④
13. 海关总署2023年1月13日公布的数据显示:2022年,民营企业进出口规模所占比重达到50.9%,对我国外贸增长贡献率达到80.8%;民营企业出口机电产品7万亿元,增长15.3%;太阳能电池、锂电池、电动载人汽车等绿色低碳产品出口增速均超过60%,出口新动能正在快速增长。材料表明
- ①民营企业外贸持续向好,展现出较强韧性
②民营外贸企业避免贸易摩擦,坚持市场的多元化战略
③民营企业出口商品结构优化,向价值链中高端迈进
④民营企业成为“走出去”的生力军,其主体地位进一步巩固
- A. ①② B. ①③ C. ②④ D. ③④
14. 经过各大院校的相继扩招,大学生的规模急速增长,这大幅增长背后所带来的直接影响就是毕业人数越来越多,就业难成为普遍现象。然而随着我国产业升级和数字经济发展,到2025年,中国制造业10大重点领域人才缺口将接近3000万人。这启示我国要
- ①转变就业观念,以自主创业带动就业
②弘扬工匠精神,建设技能型劳动者大军
③坚持就业优先,积极安排劳动者就业
④弘扬劳模精神,营造精益求精的敬业风气
- A. ①② B. ①③ C. ②④ D. ③④
15. 2023年全国两会,“数字经济”在政府工作报告中再被提及,这已是“数字经济”第6年出现在政府工作报告中。近年来,我国数字经济规模稳定增长,在国民经济中的地位愈发突出。当前在整体宏观经济承压的情况下,数字经济被寄予厚望,政策层面亦呈现出大力支持态势。这是基于
- ①数字经济的发展能赋能虚拟经济,筑牢现代化经济体系的根基
②数字经济关系着国计民生,关系着城乡区域平衡的实现
③数字经济的发展可以增强实体经济实力,带来增长新动能
④数字经济在高质量发展中的贡献和支撑力量不断的提高
- A. ①② B. ①③ C. ②④ D. ③④

16. 2023年3月,中共中央政治局常务委员会在北京中南海召开会议,听取全国人大常委会、国务院、全国政协、最高人民法院、最高人民检察院党组工作汇报,听取中央书记处工作报告。党中央每年都安排听取全国人大常委会、国务院全国政协、最高人民法院、最高人民检察院党组工作汇报和中央书记处工作报告,这一做法
- ①表明中国共产党致力于创新党的执政方式
 - ②表明中国共产党是我国的最高政治领导力量
 - ③是坚持党中央权威和集中统一领导的重大制度性安排
 - ④体现了中国共产党通过践行民主集中制原则,发展党内民主
- A. ①③ B. ①④ C. ②③ D. ②④
17. 近日,新疆自治区民委和财政厅下达我区2023年第一批中央财政衔接推进乡村振兴(少数民族发展任务)补助资金1.9001亿元,共涉及12县市,资金将支持实施兴边富民行动、扶持人口较少民族发展、少数民族特色村寨和少数民族特色产业发展、困难群众饮用低氟边销茶等项目。这一举措
- ①确立和巩固了社会主义新型民族关系
 - ②有利于铸牢中华民族共同体意识
 - ③体现了民族自治地方行使高度自治权
 - ④符合统筹民族地区经济社会发展的要求
- A. ①② B. ①③ C. ②④ D. ③④
18. 2023年2月21日,中国推出《全球安全倡议概念文件》,列出了20项重点合作方向,具有鲜明的行动导向,努力促进大国协调和良性互动,积极推动对话和平解决热点问题。这表明
- ①竞争和合作是国际关系的基本形式
 - ②世界各国间的根本利益具有一致性
 - ③我国在国际社会中是负责任的大国
 - ④求和平是当今时代不可逆转的潮流
- A. ①② B. ①④ C. ②③ D. ③④
19. 雷锋精神永不过时,历久弥新。全国各地党员干部群众以实际行动传承雷锋精神,在融入社会治理、服务百姓民生中弘扬新时代文明风尚。广为弘扬的雷锋精神,成为新时代推进社会主义现代化建设、提升社会文明进步的强大力量。弘扬雷锋精神
- ①有利于培育和践行社会主义核心价值观
 - ②是维系中华民族生存与发展的精神根基
 - ③是新时期当代中国爱国主义的本质和主题
 - ④可为实现中华民族伟大复兴提供精神动力
- A. ①② B. ①④ C. ②③ D. ③④
20. 热播剧《去有风的地方》取景于云南大理,当地的自然风光、美食以及丰富多彩的非遗项目随剧情走入观众视野,该剧展现了都市青年在田园牧歌式的生活中,重新发掘生命意义与价值的动人画卷,也为当地旅游发展注入新动能。该剧的热播启示文艺创作要
- ①体现时代特征,反映时代风貌
 - ②立足社会实践,贴近人民的精神生活
 - ③实现影视和文旅的融合发展,助力乡村振兴
 - ④把经济效益放在首位,加快发展现代文化产业
- A. ①② B. ①③ C. ②④ D. ③④

21. 近日,天津大学国家工业结晶工程技术研究中心龚俊波教授团队与美国休斯敦大学杰弗里·里默教授课题组等组成的联合团队,成功发现了一种“伴生抑制剂”可有效抑制诱发尿酸盐结晶形成的晶体生长,有望为肾结石患者带来福音。这进一步印证了
- ①实践活动是主观与客观的具体的历史的统一
②实践是处在一定社会关系中的人的活动
③认识是在主体和客体的相互作用中实现的
④认识总是从实践中来且推动实践的发展
- A. ①③ B. ①④ C. ②③ D. ②④
22. 2023年中国人口形势报告指出:我国总生育率全球倒数,鼓励生育刻不容缓。针对我国生育率下降的发展趋势,我国多次优化调整生育政策。人口问题的治理,特别需要高瞻远瞩、未雨绸缪、预防性控制的战略眼光。这蕴含的哲学道理是
- ①联系具有多样性,一切要以时间、地点、条件为转移
②发展具有普遍性,要用发展的观点看问题
③矛盾具有斗争性,要用斗争性推动事物发展
④矛盾具有客观性,要在实践中消除事物矛盾
- A. ①② B. ①④ C. ②③ D. ③④
23. 自去年四家村镇银行事件爆发后,农村金融机构改革、重组话题热度增加。2023年2月13日,中共中央、国务院印发《关于做好2023年全面推进乡村振兴重点工作的意见》,其中提及加快农村信用社改革化险,推动村镇银行结构性重组。该措施的依据是
- ①源于社会存在的社会意识能够推动事物的发展
②社会发展总是在社会基本矛盾的解决中实现的
③对上层建筑的调整能够促进社会生产力的发展
④改革是推动我国社会主义社会发展的强大动力
- A. ①② B. ①③ C. ②④ D. ③④
24. 汉武帝推出了“六条问事”制度,根据这一制度,刺史主要监管“两千石”的地方长官,其实就是一郡的最高长官郡守及各国诸侯王,对于其他地方官员一概不问。这说明“六条问事”
- A. 符合当时社会治理水平 B. 实现了全方位的监督
C. 具有“抓大放小”的特点 D. 存在着较多监管漏洞
25. 学者邓嗣禹说:“至于有唐,一以考试为准绳,而后平民有参与政治之机会,阶级观念,赖以破除焉。”这说明当时的科举制度
- A. 消灭了阶级差别 B. 有利于公平公正
C. 健全了官僚体系 D. 成就了辉煌盛世
26. 在宋代,北方地区多称农村市场为“店”,如“河北路冲城店熙宁十年商税额为五百五十五贯三百四十六文”;江淮地区多称其为“草市”,如“诸城外草市及镇市内保甲,毋得附入乡村都保”;而岭南一带“百姓多隔日相聚,交易而退,风俗谓之墟市”。这说明当时
- A. 农村市场在全国各地广泛出现 B. 重农抑商政策发生了重大改变
C. 农民弃农从商的现象十分普遍 D. 城乡一体化趋势已经初步显现
27. 王夫之提出了“六经责我开生面”的主张,力图复兴经学;顾炎武则批评理学“以明心见性之空言,代修己治人之实学”。这说明两人
- A. 从根本上否定了理学 B. 倡导“儒学复兴”运动
C. 追求经世致用之实学 D. 指出了明朝灭亡的原因

28. 19 世纪末 20 世纪初,林懈说:“有洪杨内乱为之因,遂生曾、胡、左、李迭握朝权之果。”梁启超也说:“金田一役,实满汉权力消长之最初关头也。”这主要说明太平天国
- A. 带来了清朝政局的变动 B. 引起了政权的最终更迭
C. 开启了汉人掌权的进程 D. 加速了权臣内斗的进程
29. 下面漫画选自 1911 年 4 月 30 日出版的《神州日报》,该漫画反映了当时

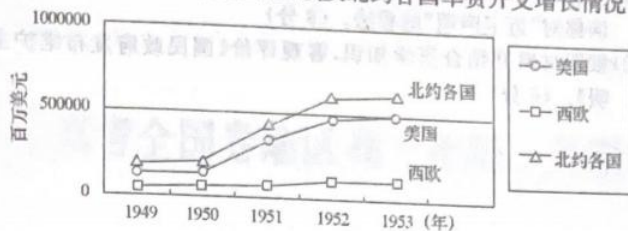


漫画: 广东最近之风云

- A. 人们生活得水深火热 B. 广东革命斗争的威力
C. 清政府的统治被推翻 D. 起义队伍被政府镇压
30. 1938 年,边区政府向各分区和县区乡政府发出训令,改边区议会为边区参议会。至此,边区议会正式改为边区参议会,并行使各项监督选举权利;边区以下各级议会也相应改为参议会。这些规定
- A. 壮大了井冈山革命根据地的力量
B. 有助于联合抗日局面最终形成
C. 深入践行了社会主义建设理论
D. 体现了中共对民主政体的探索
31. 1960 年 12 月底,中国财政部党组提交《关于改进财政体制、加强财政管理的报告》,报告指出,现在有必要建立大区的财政,其享有的财权主要有:直接掌握使用从国家总预备费用中分出的一部分费用;对所属各省、市、自治区财政指标的分配调剂权,财政工作的领导和监督权。作出这一调整的主要原因是
- A. 改变中央财政权过度集中的问题
B. 适应经济形势快速发展的需要
C. 中央和地方财政收支严重失衡
D. “左”倾错误的负面效应显现
32. 彼特拉克在 14 世纪中叶曾写道:“只有傻瓜才自以为是,他们不是抱着谦卑的态度去接受,却妄图了解大自然的奥秘以及较之难上加难的上帝的奥秘。”他认为人类的当务之急是探索内心与经验的丰富性。据此可知,彼特拉克的核心观点是
- A. 人类无法了解大自然的奥秘 B. 人类应该虔诚信仰上帝
C. 人类应当重点关注人类自身 D. 不要去思考抽象的事物
33. 1784 年,首相小皮特在英王乔治三世的支持下,解散议会,重新进行大选,开创了内阁政府借“诉诸选民”的方式支配议会的先例。这一先例
- A. 促进了责任内阁制完善 B. 标志着君主立宪制确立
C. 进一步削弱议会的权力 D. 便于英王对议会的控制
34. 列宁在自己的笔记本上摘记了一次农民会议上听到的意见,其中喀山省的农民说:“请给我们定个标准,要不,我们会把春播的种子都吃掉。”彼得格勒省的农民说:“我们那里发生过拿手枪顶着人家太阳穴这样的强迫,人们很气愤。”这可以用来解释苏俄
- A. 战时共产主义政策的错误 B. 计划经济的高度集中性
C. 革命后土地改革的必要性 D. 新经济政策实施的背景

题 答 线 内 不 要 答 题

35. 下图为 1949—1953 年美国、西欧及北约各国军费开支增长情况。



据此可知

- A. 西欧各国对增长军费的需求不强
- B. 美国是北约军费的主要推动力量
- C. 冷战已经发展到剑拔弩张的高潮
- D. 朝鲜战争是北约军费增长的主因

第 II 卷(非选择题 共 160 分)

二、非选择题:共 160 分。第 36 题~第 42 题为必考题,每个试题考生都必须作答。第 43 题~第 47 题为选考题,考生根据要求作答。

(一)必考题:共 135 分。

36. 阅读图文材料,完成下列要求。(22 分)

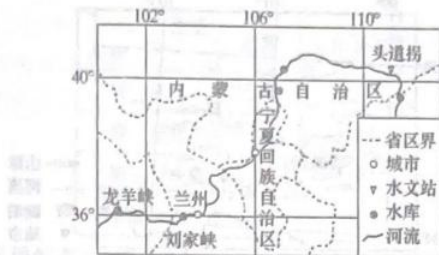
伊兹密尔是爱琴海地区最大的城市,拥有发达的港口和铁路网络,是土耳其重要出口港,是“一带一路”重要节点城市。伊兹密尔分布着肥沃的平原和河谷,大面积种植无花果、葡萄、柑橘、石榴等水果。近年来,伊兹密尔依托港口优势,积极响应“一带一路”倡议,积极推动国际贸易发展。下图为伊兹密尔地理位置示意图。



- (1)从“一带一路”倡议建设角度,简述伊兹密尔地理位置的重要性。(6 分)
- (2)简析伊兹密尔种植水果的有利气候条件。(6 分)
- (3)说明伊兹密尔政府计划大力发展水果加工业的意义。(4 分)
- (4)推测伊兹密尔积极推动国际贸易发展可采取的合理措施。(6 分)

37. 阅读图文材料,完成下列要求。(24 分)

凌汛是冰凌堵塞河道,对水流产生阻挡而引起江河水位明显上涨的水文灾害。凌汛分为流凌期、封河期、开河期 3 个阶段。河道流凌期间,随着气温降低,流凌密度增大,冰凌逐渐聚积冻结,自下而上逐段封冻,为“封河期”。河道封冻后,因气温、水温降低,冰盖下冰絮增多,并逐渐凝结附着于河底,形成“连底冰”。黄河宁蒙河段(如下图)是黄河防凌的重点河段之一,该河段黄土沉积深厚,河道横向摆动幅度较大。如今,随着流域防洪工程体系的不断完善,水库调度已经成为黄河防凌的重要手段。



- (1) 黄河宁蒙河段封河期容易发生凌灾,试解释其原理。(6分)
- (2) 从气候和水文角度,简述黄河内蒙古河段冬季易形成连底冰的条件。(4分)
- (3) 分析黄河宁蒙段河道横向摆动幅度较大的原因。(6分)
- (4) 说明上游水库在封河前期和开河前期调整下泄量预防凌汛的具体过程。(8分)

38. 阅读材料,完成下列要求。(14分)

2023年2月17日,中国证监会发布全面实行股票发行注册制相关制度提醒。这标志着注册制推广到全市场和各类公开发行股票行为,在中国资本市场改革发展进程中具有里程碑意义。实行注册制后,优化发行承销制度,对新股发行价格、规模等不设任何行政性限制,完善以机构投资者为参与主体的询价、定价、配售等机制,以信息披露为核心,更加强调中介机构“申报即担责”,并健全常态化退市机制;股票发行人在招股说明书等证券发行文件中隐瞒重要事实或者编造重大虚假内容,已经发行并上市的,证监会可以采取责令回购措施;严厉打击欺诈发行、财务造假等严重违法行为,严肃追究中介机构及相关人员责任,保持“零容忍”执法高压态势……将来,股票优质优价、低质低价甚至无人问津将成为常态。

结合材料,运用《经济生活》的知识,分析全面注册制如何能提升要素配置效能。

39. 阅读材料,完成下列要求。(12分)

群众监督“动动指尖”、权力运行公开透明,问题反映“一键通达”、民生诉求“县一键办理”……2022年以来,S县持续加强对权力运行的制约和监督,在全县率先建设“码”上监督平台,掀起了一场群众参与监督的热潮。“码”上监督平台自2022年1月上线运行,公开数据290多万条,公示民生资金60多亿元,设置网站、微信公众号、APP三种使用方式,在所有乡镇同步建设监督工作微信群400多个,实现平台及微信群两大阵地共覆盖近40万人,全力打造群众指尖上的“云监督”平台,让人民监督政府,让权力在阳光下运行。以严格的监督问责治理“庸政懒政”,推动干部作风转好。截至目前,该县共高质高效解决各类诉求9026件,企业群众满意率达92%,成功把问题解决在基层,把矛盾化解在基层,以干部的“辛苦指数”,换取群众的“幸福指数”。2022年,全县检举控告量同比下降32.11%,初信初访138件,同比下降42.98%。

结合材料,运用政府相关知识,说明S县开展加强对权力运行的制约和监督活动的重要意义。

40. 阅读材料,完成下列要求。(26分)

2022年9月29日,“盛世修典——‘中国历代绘画大系’成果展”在中国国家博物馆展出。自2005年始,“中国历代绘画大系”工程已接续推进17年,该工程规模浩大、纵贯历史、横跨中外,为收录于海内外263家文博机构的万余件(套)中国绘画藏品建立了精准的数字化档案。通过对传世古画进行数字化处理,成功地辨析、提取出原本剥蚀暗沉,肉眼难辨的画面、题跋及印章,实现了文物藏品的“无损伤”修复;通过综合运用虚拟现实、3D打印等科技手段,实现了对大足石刻245窟、安岳石刻紫竹观音及整体石窟的数字化建模,1:1立体化重现及其多媒体虚拟互动体验,让专业研究者和广大观众得享来自不同时空的艺术触动与体悟。

文运与国运相牵,文脉与国脉相连。“中国历代绘画大系”是习近平总书记亲自批准、高度重视、持续关注并多次作出重要批示的一项国家级重大文化工程。习近平总书记强调,“文化建设需要的是埋头苦干而不是急功近利,需要的是一砖一瓦的积累和一代一代的传承,而不是立竿见影和轰动效应”。

“中国历代绘画大系”传承千年历史文脉,重现千古笔墨神韵,是中国古代绘画保护、挖掘、利用的集大成者,也是新时代具有中国特色、中国韵味、中国气派的重大标志性文化成果。国宝重光,是唯有新时代才能完成的壮举。我们的文化绵延不绝,创造生生不息,必将铸就中华文化新辉煌!

- (1)结合材料,运用《文化生活》知识,分析数字技术在“中国历代绘画大系”工程中的价值。(10分)
- (2)结合材料,运用价值判断和价值选择的相关知识,说明我们应如何创造中华文化的新辉煌。(10分)
- (3)请你为“盛世修典——‘中国历代绘画大系’成果展”拟定两条宣传标语。要求言简意赅,每条标语限15字以内。(6分)

41. 经世济民思想体现知识分子传统治学理念和社会责任担当,是中华优秀传统文化的优秀内容和时代精华。阅读材料,完成下列要求。(25分)

材料一 董仲舒云:“使富者足以示贵,而不至于骄。使贫者足以养生,而不至于忧。以此为度而调均之。”董仲舒的意思就是要在富而不骄,贫而不忧,高下有宽度的节限中,来维持一个相当有伸缩余地的社会经济水平。

——摘编自钱穆《中国历史研究法》

材料二 君子为学,以明道也,以救世也。徒以诗文而已,所谓雕虫篆刻,亦何益哉。为民而立之君,故班爵之意,天子与公、侯、伯、子、男一也。

——据顾炎武《日知录》

材料三 依马克思的唯物史观,社会上法律、政治、伦理等精神的构造,都是表面的构造。他的下面,有经济的构造作他们一切的基础。经济组织一有变动,他们都跟着变动。换一句话说,就是经济问题的解决,是根本解决。经济问题一旦解决,什么政治问题、法律问题、家族制度问题、女子解放问题、工人解放问题,都可以解决。

——摘编自李大钊《再论问题与主义》

- (1)根据材料一及所学知识,以西汉和唐朝为例,说明统治者在“富而不骄”“贫而不忧”方面的举措。(8分)
- (2)根据材料二及所学知识,概括顾炎武的思想,并分析其历史价值。(10分)
- (3)从材料三的角度,说明新中国建立初期在“经世济民”方面取得的主要成就。(7分)

42. 阅读材料,完成下列要求。(12分)

材料 自人类进入文明社会以来,世界秩序的结构主要体现为世界帝国秩序和均势秩序。冷战结束后,雅尔塔体制虽然已经崩溃,但是新的世界秩序还没有确立。对于未来世界秩序的结构类型,学者们提出了不同的构想,主要体现在权威秩序模式、“地球村”模式、世界政府模式和多边主义秩序模式等。

——据于光胜《文明的融合与世界秩序》等整理

结合材料与所学世界史的相关知识,围绕“国际秩序演变与重建”自行拟定一个具体的论题,并就所拟论题进行简要阐述(要求:明确写出所拟论题,阐述须有史实依据)。

(二)选考题:共25分。请考生从2道地理题、3道历史题中每科任选一题作答。如果多做,则每科按所做的第一题计分。

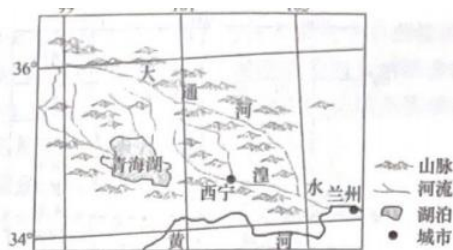
43. [地理——选修3:旅游地理](10分)

《成都市“十四五”旅游名城和音乐之都建设规划》为成都市“十四五”旅游名城和音乐之都建设进行了科学谋划,到2025年,基本建成国际音乐之都,实现文化旅游深度融合,旅游业高质量发展。成都市音乐氛围日益浓厚,音乐之都国际影响力大幅提升,音乐旅游产业实现突破性增长。

评价“十四五”期间成都市打造音乐之都,实现旅游业高质量发展的条件。

44. [地理——选修6:环境保护](10分)

微塑料(粒径 $<5\text{mm}$ 的塑料颗粒)作为一种难降解的新型污染物,能够吸附持久性的有机污染物和重金属,广泛分布于地表水、河湖沉积物、大气和土壤等环境介质中,严重威胁人类健康。湟水谷地是青海省重要的农业区,平均海拔 $2\,000\sim 3\,000$ 米,年降水量 $300\sim 500$ 毫米,除农业活动外,降水和光照也是影响湟水谷地微塑料数量的重要因素。下图为湟水流域地理位置示意图。



推测湟水谷地微塑料带来的潜在环境风险。

45. [历史——选修1:历史上重大改革回眸](15分)

材料 “安史之乱”使中唐文人面对着盛唐帝国的满目疮痍与百废待兴的现实。中晚唐文学都染上政治革新、儒学复兴、参与现实与文学创新的鲜明色彩。新乐府运动是由唐中期诗人白居易、元稹等所倡导的一场诗歌革新运动。“文章合为时而著，歌诗合为事而作”“总而言之，为君为民为物为事而作，不为文而作也”。元、白诗歌理论，基本上来自汉儒。《诗大序》(两汉时期诗学的重要文献，是对儒家“诗言志”学说的较为系统的阐述和总结)所谓诗可以观盛衰，可以“经夫妇，成孝顺，厚人伦，美教化，移风俗”，是元、白论诗的主要思想渊源。立足于儒家诗教理论，白居易全面否定以往突破儒家诗歌理论的诗歌创作，他把《诗经》以下近千年的诗歌发展史描绘为一部“诗道崩坏”、每况愈下的历史，屈原、陶渊明、李白等人光照千古的诗作均因未直接描写时事而被加以贬抑。

——据冯天瑜《中华文化史》等整理

(1) 根据材料并结合所学知识，指出唐中期新乐府运动兴起的背景。(7分)

(2) 根据材料并结合所学知识，对新乐府运动进行评价。(8分)

46. [历史——选修3:20世纪的战争与和平](15分)

材料 1938年，日本首相近卫文麿发表了诱降蒋介石、企图灭亡中国的三次声明，史称“近卫声明”。

1938年1月16日，近卫文麿声明称国民政府如不接受日本的和平条件，日本将“不以国民政府为对手”，而另建“与日本提携之新政府”。1月18日，近卫文麿再度发表《补充声明》，强调所谓“不以国民政府为对手”，较之否认该政府更为强硬。……贼心不死的近卫内阁，于当年11月3日又一次发表声明：如国民政府“坚持抗日容共政策，则帝国决不收兵，一直打到它崩溃为止”。

12月22日，在发表的第三次声明中，近卫文麿又提出所谓“中日睦邻友好”“共同防共”“经济合作”三原则，妄图继续诱胁国民政府接受条件。但在全国风起云涌的抗战浪潮下，守土御侮已成为全国人民共同的呼声，国民政府自然不敢逆势而为。12月26日，蒋介石在国民党中央党部总理纪念周会上发表演说，题为“揭发敌国阴谋与阐明抗战国策”，痛斥近卫文麿第三次对华声明。同日发表“驳斥近卫声明宣言”，日本对中国国民政府的诱降没有成功。

——摘自1938年1月18日《国民政府发布维护主权声明》

【文科综合试题卷 第4页(共4页) LL】

- (1)根据材料并结合所学知识,指出日本三次“近卫声明”的目的,开谈谈你对“近卫声明”的看法。(9分)
- (2)根据材料并结合所学知识,客观评价《国民政府发布维护主权声明》。(6分)

47. [历史——选修4:中外历史人物评说](15分)

材料 光绪八年,美国商人要在上海使用机器纺织绸缎。总理衙门指示驻美公使郑藻如了解旧金山华商购买土货制造销售的情况,以资交涉参考。黄遵宪(1848—1905年)经认真调查研究后认为:“在中国地方容外国商民以手工艺改造土货销售犹可,用机器则万万不可”。西方商务发达,商人“类皆能尽智能,以争锥刀之利”,外商购买土货制造物在本地销售,本国商人则以雄资与之竞争,外商便无法获得利权;反之,中国商人资金薄弱,彼此之间又“分门别户,各行其业,势如搏沙,团结又万不能敌西人纠股公司之力之大”。中国的现状是,“税权既不能自主,洋商又无从管辖”。如准许外商以手工艺制物,中国商民具有工贱耐劳的优势,尚可与之竞争。外商若采用机器织造绸缎,进而缝制衣裳,再进而制作靴帽,“乃至一切以人工制造之物均可以机器夺之,中国商工恐将尽失其业,流离失所”。

——摘自白寿彝《中国通史》

- (1)根据材料,概括黄遵宪对待美国商人在中国使用机器纺织绸缎的态度和理由。(6分)
- (2)根据材料和所学知识,评述黄遵宪的主张。(9分)

题
答
要
不
内
线
封
密

关于我们

自主选拔在线是致力于提供新高考生涯规划、强基计划、综合评价、三位一体、学科竞赛等政策资讯的升学服务平台。总部坐落于北京，旗下拥有网站（[网址: www.zizzs.com](http://www.zizzs.com)）和微信公众平台等媒体矩阵，用户群体涵盖全国90%以上的重点中学师生及家长，在全国新高考、自主选拔领域首屈一指。

如需第一时间获取相关资讯及备考指南，请关注**自主选拔在线**官方微信号：**zizzsw**。



 微信搜一搜

 自主选拔在线



自主选拔在线
微信号: zizzsw



自主选拔在线
微信号: zizzsw



自主选拔在线
微信号: zizzsw