



绝密★启用前

天一大联考
2020—2021 学年(上)高三年级期末考试

文科综合

考生注意:

1. 答题前,考生务必将自己的姓名、考生号填写在试卷和答题卡上,并将考生号条形码粘贴在答题卡上的指定位置。
2. 回答选择题时,选出每小题答案后,用铅笔把答题卡对应题目的答案标号涂黑。如需改动,用橡皮擦干净后,再选涂其他答案标号。回答非选择题时,将答案写在答题卡上。写在本试卷上无效。
3. 考试结束后,将本试卷和答题卡一并交回。

一、选择题:本题共 35 小题,每小题 4 分,共 140 分。在每小题给出的四个选项中,只有一项是符合题目要求的。

乌苏里江是中俄界江,其流域面积中方一侧约占 1/3,俄方一侧约占 2/3。乌苏里江也是世界上少有的全流域湿地界江,整个流域几乎涵盖了所有湿地类型。自 1980 年以来,中方一侧的湿地变化非常明显,至今其湿地类型已实现了颠覆性改变。图 1 示意乌苏里江流域。据此完成 1~3 题。

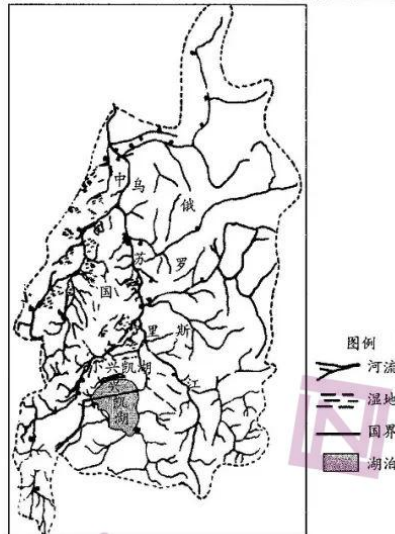


图 1

1. 目前,乌苏里江中方一侧湿地类型的主体最可能是
A. 草本沼泽 B. 森林沼泽 C. 水田水渠 D. 水库湖泊
2. 乌苏里江中方一侧受冲刷更严重,主要原因是
A. 受地转偏向力影响大 B. 人类活动破坏湿地
C. 俄方大力开展固堤工程 D. 主航道靠近中方一侧
3. 近些年,乌苏里江江心线中方一侧的鱼远没有俄方一侧的大和多,主要原因是
A. 中方一侧鱼类生存环境危险性大 B. 中方一侧气候条件相对较差
C. 俄方一侧流域面积更大 D. 俄方一侧鱼类饵料更加丰富

文科综合试题 第 1 页(共 12 页)



图2为嘉绒藏人分布区域示意图。嘉绒藏人是藏族的一个分支,往往聚居在海拔2500~3000米的半山腰地带,以农耕为主,过着半农半牧的生活,最大限度地利用大自然馈赠的一切。土豆、玉米、小麦和青稞是当地最悠久的作物。近年来,大白菜、莲花白、莴笋等多种蔬菜的引种弥补了嘉绒藏人饭桌上蔬菜的匮乏,并作为经济作物外运销售。据此完成4~6题。

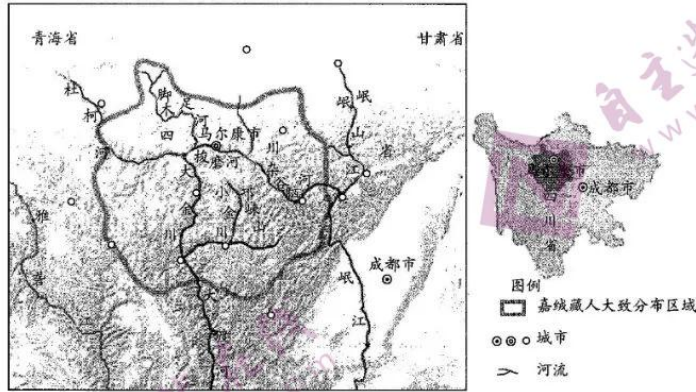


图2

4. 半山腰往往成为嘉绒藏人聚居区的主要原因是
- A. 地形平坦,更利于耕种
 - B. 雨量充沛且能避开水患
 - C. 视野景观更加开阔优美
 - D. 土壤深厚肥沃,单产高
5. 近年来,嘉绒藏人分布区能够引种蔬菜的主要原因是
- A. 居民生活 and 市场需求发生变化
 - B. 交通条件明显改善
 - C. 地膜等农业技术普及
 - D. 政府政策积极引导
6. 推测嘉绒藏人经济作物外运方式和主要目的地是
- A. 通过河运运往武汉、上海等市
 - B. 通过铁路运往兰州、银川等市
 - C. 通过空运运往北京、广州等市
 - D. 通过公路运往成都、重庆等市

卡塔尔位于波斯湾西海岸中部,由卡塔尔半岛及周边岛屿构成。1950年总人口2.5万人,2018年上升至272.85万人。在卡塔尔迅速增长的人口中,国际迁入人口占了很大比例。2000年,卡塔尔的移民人口占总人口的60.7%,到2015年,这一比例上升至85%。图3示意卡塔尔移民数量排名前十位的国家占总移民的比例。据此完成7~8题。

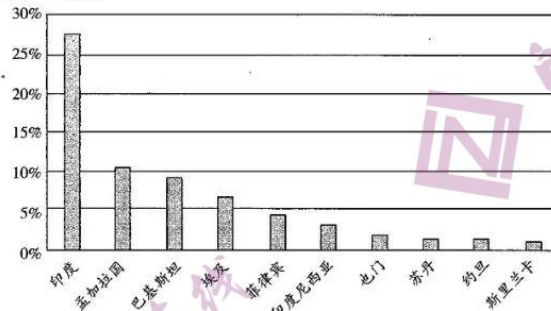


图3

7. 导致卡塔尔移民数量前十国占总移民比例差异的主导因素是
- A. 经济发展水平
 - B. 气候
 - C. 人口基数和迁移阻力
 - D. 政策
8. 国际人口迁移对卡塔尔带来的影响是
- A. 女性人口数量迅速增多
 - B. 儿童比例快速增加
 - C. 基础设施建设投入减少
 - D. 本土文化丧失的风险提高



15. 在 2020 年全国外资工作会议暨应对疫情稳外资工作电视电话会议上, 商务部表示将加大各项稳外资政策落实力度, 推动外资企业复工复产, 提升投资便利度, 优化外商投资环境, 以促增量、稳存量并举实现全年稳外资目标任务。上述举措有利于
- ①推进各种所有制资本相互促进 ②促进外资企业尽快走出疫情困境
③增强外商在华投资经营的信心 ④拓展海外市场实现经济全面复苏
- A. ①② B. ①④ C. ②③ D. ③④
16. 时至今日, “官老爷”高高在上的时代早已一去不返, 领导干部本质上就是为人民服务的“公仆”。各级领导干部要牢固树立正确权力观, 保持高尚精神追求, 永葆共产党人拒腐蚀、永不沾的政治本色。对权力保持一颗敬畏之心, 是每一位党员干部必须具备的基本素养。在我国, 敬畏权力, 就要
- ①敬畏人民, 因为国家权力是人民赋予的 ②敬畏法纪, 因为法纪是人民意志的集中体现
③敬畏制度, 因为制度是制约权力的关键 ④敬畏组织, 因为各级组织都经人民认可成立
- A. ①② B. ①③ C. ②④ D. ③④
17. 2014 年至 2019 年, 中央财政对新疆自治区和兵团转移支付从 2 636.9 亿元增长到 4 224.8 亿元, 年均增长 10.4%, 6 年合计支持新疆 2 万多亿元。19 个援疆省市全面加强全方位对口支援, 累计投入援疆资金(含兵团)964 亿元, 实施援疆项目 1 万余个, 引进援疆省市企业到位资金 16 840 亿元, 中央企业投资超过 7 000 亿元。对口援疆
- ①有利于增强中华民族的共同体意识 ②对实现新疆经济社会稳定具有决定意义
③是坚持各民族共同繁荣原则的必然要求 ④奠定新疆实行民族区域自治的社会基础
- A. ①② B. ①③ C. ②④ D. ③④
18. 面对国际新形势新挑战, 中方主张, 任何国家都没有包揽国际事务、主宰他国命运、垄断发展优势的权力, 更不能在世界上我行我素, 搞霸权、霸凌、霸道。单边主义没有出路, 要坚持共商共建共享, 由各国共同维护普遍安全, 共同分享发展成果, 共同掌握世界命运。从中可以看出, 中国
- ①倡导国际关系民主化, 始终做多边主义的践行者
②坚决反对霸权和强权, 发挥在国际事务中的核心作用
③主张建立国际新秩序, 推动构建人类命运共同体
④展示负责任大国形象, 主导全球治理体系改革和建设
- A. ①③ B. ①④ C. ②③ D. ②④
19. 中央政治局第二十三次集体学习强调指出, 考古工作是一项重要文化事业。认识历史离不开考古学。我们要加强考古工作和历史研究, 让收藏在博物馆里的文物、陈列在广阔大地上的遗产、书写在古籍里的文字都活起来, 丰富全社会历史文化滋养。高度重视考古工作, 能够
- ①奠定中华民族生生不息、长盛不衰的文化基因 ②铸就中华文化的灿烂成就, 增强文化自信
③为进一步弘扬中华优秀传统文化提供坚强支撑 ④更好认识源远流长、博大精深的中华文明
- A. ①② B. ①③ C. ②④ D. ③④
20. 习近平总书记在教育文化卫生体育领域专家代表座谈会上强调: “统筹推进‘五位一体’总体布局、协调推进‘四个全面’战略布局, 文化是重要内容; 推动高质量发展, 文化是重要支点; 满足人民日益增长的美好生活需要, 文化是重要因素; 战胜前进道路上各种风险挑战, 文化是重要力量源泉。”这一论断是基于
- ①新时代文化的独立性增强, 不再决定于经济与政治
②文化是经济社会发展和综合国力提升的重要因素
③作为发展中国家我国在文化发展上面临严峻挑战
④文化越来越成为民族凝聚力和创造力的重要源泉
- A. ①② B. ①③ C. ②④ D. ③④
21. 针对近期引起社会广泛关注的高考冒名顶替事件, 全国人大常委会法工委发言人表示, 将根据全国人大常委会的审议意见和社会公众意见, 积极研究冒名顶替行为入刑问题。这表明
- ①意识的能动反作用必须以认识把握客观规律为前提
②坚持一切从实际出发必须做到解放思想、与时俱进
③实践水平不断提高推动真理在发展中不断超越自身
④实践不断产生新问题推动人们进行新的探索和研究
- A. ①③ B. ①④ C. ②③ D. ②④



22. 2019年初,某县修订原来适用于各乡镇的统一考核办法,将全县13个乡镇(林站)分为重点开发区、农产品主产区和重点生态功能区,分别设置了3种不同的指标考核评价体系,完善了差异化考核考评机制,让各乡镇(林站)根据自身条件,找准发展方向。该县修订考核办法,使各乡镇能够
- ①抓住主要矛盾明确发展的重点 ②一分为二地妥善解决各类矛盾
③依托矛盾普遍性把握发展方向 ④根据矛盾特殊性发挥自身优势
- A. ①② B. ①④ C. ②③ D. ③④
23. 农村集体产权制度改革有利于促进乡村治理主体权利关系的优化,使组织与个人的关系更加明晰,提升农民参与基层治理的意识与能力,丰富基层协商民主的有效实现形式,促进乡风文明,对提升乡村治理水平具有重要意义。材料体现了
- ①农村生产关系的变革推动了生产力的发展 ②生产方式的变革决定农村社会面貌的变化
③上层建筑服务先进经济基础推动社会进步 ④经济基础的巩固完善推动上层建筑的完善
- A. ①② B. ①③ C. ②④ D. ③④
24. 史载,“武王克商,光有天下。其兄弟之国者十有五人,姬姓之国者四十人”。这说明,周初分封
- A. 体现了统治集团内部权力的再分配 B. 保证了姬姓家族最高统治地位的稳定
C. 保障了周天子在政治上的特权地位 D. 加强了周朝对被征服地区的直接管理
25. 图5是成都地区出土的东汉浮雕瓦片,上半部分刻画的是打猎场面,下半部分刻画的是农民劳作于田地的场面。此文物可以用来研究当时




图5

- A. 豪强地主势力加强土地兼并的原因 B. 农业和手工业生产的发展状况
C. 个体耕作模式制约农业发展的表现 D. 农业人身依附关系的松弛情形
26. 唐代统治者鼓励儒、道、佛之间相互论辩。德宗贞元年间,儒、道、佛论辩于麟德殿,“始三家若矛盾然,卒而同归于善”。文宗太和元年,儒、佛、道御前论辩,其情形被载入白居易的《三教论衡》。据此可知,在唐代
- A. 三教并行且相互吸取 B. 儒学统治地位发生动摇
C. “三教合一”趋势明显 D. 文化心态呈现保守趋向
27. 雍正五年(1727年),湖广总督福敏奏称:“大江以南,皆系财赋重地,独至米谷,则江浙等省每赖湖广接济。”这反映了当时
- A. 湖广已成全国经济中心 B. 江南农业经济日益凋敝
C. 农本观念仍处主导地位 D. 江浙湖广经济联系密切

28. 表1 1845—1850年广州对外贸易情况表

年份	茶叶出口值(万磅)	生丝出口量(包)	棉花进口值(万磅)	对英贸易总额(万元)
1845	7 600	6 800	7 700	3 100
1850	5 500	4 300	6 400	1 600

表1中变化出现的主要因素是

- A. 闭关锁国状态仍在延续 B. 丝茶出口竞争力日益削弱
C. 传统小农经济逐渐解体 D. 对外贸易格局发生了转移



29. “受过西方教育或影响的新知识分子,鼓吹在国民生活的哲学基础方面,进行一场激烈变革。他们号召用现代西方的标准,重新评价中国的文化遗产,乐意地与引致中国衰弱的那些因素决裂。”据此可知,这些新知识分子
- A. 深受中体西用思想影响
B. 批判封建伦理道德
C. 主张全盘接受西方文明
D. 希望参与国家政权
30. 20世纪30年代初的一份文件中指出:“正是重要的工业中心城市,也就是无产阶级的中心城市,不但在帝国主义武力干涉的直接打击之下,而且帝国主义对于工商业行政的中心城市,有直接和经常的军事政治的控制。”因此,不仅工人还没有力量通过暴动来夺取城市,就是红军也还没有力量去攻占它们。这说明当时
- A. 国民革命运动遭受挫折
B. “左”倾路线的统治地位结束
C. 中共需要调整工作重心
D. 中共确立了明确的革命目标
31. 图6所示的文献内容与中国共产党的活动相关。该文献内容出自

中央人民政府与地方人民政府间职权的划分,应按照各项事务的性质,由中央人民政府委员会以法令加以规定,使之既利于国家统一,又利于因地制宜。

图6

- A. 《双十协定》
B. 《论联合政府》
C. 《共同纲领》
D. 《论十大关系》
32. 雅典城邦的公共建筑集中于城市之中,形成以城市为中心的建筑格局,主要有公民大会会场、议事会厅、议事会执行委员会会厅、神庙和祭坛、剧场、摔跤场、田径场等。据此可知,雅典城市
- A. 有利于培养公民的爱国情操
B. 营造了自由宽容的文化环境
C. 提供了公民平等参政的条件
D. 保障了希腊古典文化的繁荣
33. 18世纪上半期的法国,巴黎和外省出现了许多学院,这些学院组织聚会、倡导讨论、颁发各种学院奖,以表彰有建树的新思想。贵族夫人和有钱的资产阶级妇女也主持各种“沙龙”,对“旧制度”的抨击成为风气,流行于社会各阶层之间。这表明
- A. 新思想的社会基础广泛
B. 社会平等观念深入人心
C. 封建专制主义已经衰落
D. 启蒙思想逐渐得到传播
34. 1923年2月,美国救济署工作人员及其在苏联境内招募的苏联方面工作人员的总数从1.6万名减少到2000名。6月,经双方协议,美国救济署结束了历时将近两年的对苏联饥民的赈济活动。促成这一变化的原因是,当时苏联
- A. 推行了过渡性的新经济政策
B. 扩大了企业经营的自主权
C. 解决了工农业比例失调问题
D. 加快了工业化建设的进程
35. 20世纪60年代末,欧共体六国在世界贸易总额中所占比例超过了39%,而同期美国从1957年的20.9%下降到15.1%。导致这一状况出现的主要因素是
- A. 马歇尔计划的成功实施
B. 欧洲一体化的政策优势
C. 经济区域集团化的发展
D. 布雷顿森林体系的瓦解

二、非选择题:本题包括必考题和选考题两部分。第36~42题为必考题,每个试题考生都必须作答。第43~47题为选考题,考生根据要求作答。

36. 阅读图文材料,完成下列要求。(24分)

越窑,泛指东汉至宋一脉相承的青瓷体系,窑址主要分布在浙江越州(今绍兴)、明州(今宁波)等地。古越地区,拥有丰富的原生高岭土和瓷石矿藏,为烧制青釉瓷器提供了理想的原料。唐代中期,越地引进隋唐湖南岳州窑、山东曲阜窑烧制技术,成功制作出了质地纯正、釉色晶莹的越瓷精品“秘色瓷”。“秘色瓷”就是用保密釉料配方涂抹器物表面烧制而成的瓷器。采用熔点高、火焰长、燃烧速度快的松木为燃料,原材料消耗量大,且出窑成品率极低。“秘色瓷”主要是为皇室烧制的贡品,但皇室贡品所需数量每年仅50只。近百处窑厂的大量贡余“秘色瓷”随同其他生活日用越瓷产品销往还没有生产、使用瓷器的国外,换回大量异域珍奇之物,给窑场和商人带来巨额的利润。越瓷也逐渐成为海上丝绸之路的大宗出口商品,而以骆驼为主要交通工具的陆地丝绸之路瓷器的销售数量并不大。

图7示意越瓷对外贸易之东北航线。船队航行尽量在夏季出发,大致沿逆时针方向到达日本列岛、朝鲜半岛等目的地后,冬季沿我国沿海返航到明州。

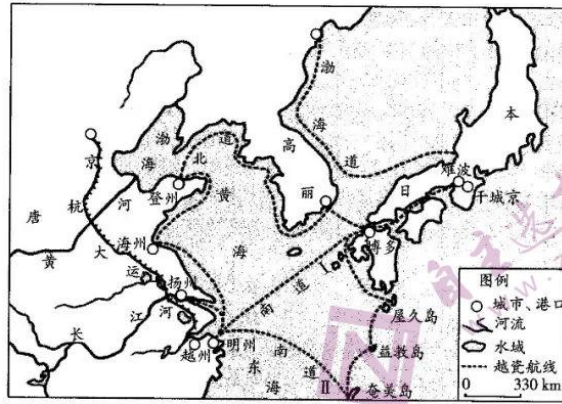


图7

(1) 简述越地发展“秘色瓷”贡品的优势条件。(6分)

(2) 与陆地丝绸之路相比,简析海上丝绸之路出口瓷器的优势。(6分)

(3) 分析越瓷成为丝绸之路重要商品的原因。(6分)

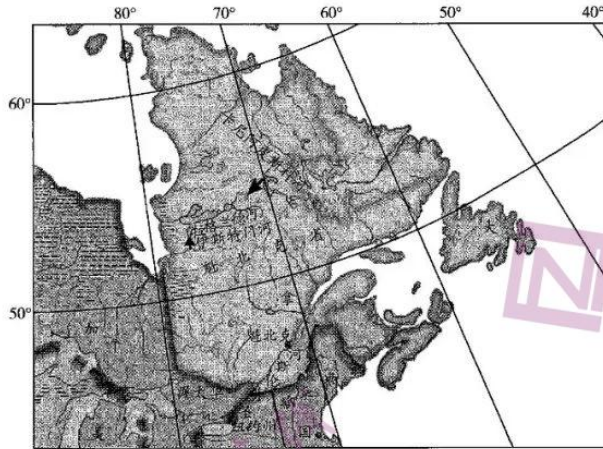
(4) 说明越瓷对外贸易之东北航线规划的合理性。(6分)

37. 阅读图文材料,完成下列要求。(22分)

魁北克省(图8)是加拿大面积第一大省,占国土总面积的近1/6,该省的山区和高地约占全省土地面积的4/5。魁北克省拥有特别丰富的水和水能资源,但分布极不均匀,所以建设了不少跨流域调水工程,拉格兰德河调水工程是其典型代表之一。拉格兰德河流域水能梯级开发形成众多水库,各水库在河流封冻后才开始蓄水,蓄水期间要下泄一部分相当于最低流量的径流(约340立方米/秒)。

日前,美国研究人员提议,美国纽约州和新英格兰地区的太阳能和风能与魁北克省的水电之间进行错时双向贸易,以便平衡美国东北部各州在多个时间尺度上可再生能源的不稳定性,加速脱碳进程。

文科综合试题 第7页(共12页)



注：新英格兰地区位于美国本土的东北部，包括美国的6个州。

图8

(1) 简析魁北克省水能资源丰富的原因。(6分)

(2) 简述拉格兰德河流域水库封冻后蓄水和蓄水期间下泄最低流量径流的生态意义。(4分)

(3) 指出拉格兰德河调水工程对拉格兰德河水能开发的好处及对地理环境的不利影响。(6分)

(4) 说明美国东北部和魁北克省可再生能源双向贸易助力区域脱碳进程的可行性。(6分)

38. 阅读材料，完成下列要求。(14分)

材料一

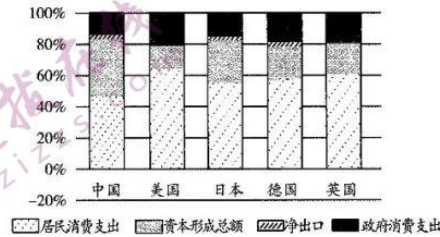


图9 GDP构成比例国际比较



材料二 内循环,就是国内的供给和需求形成循环,所有环节都发生在国内。外循环,就是参与国际产业链分工。2020年7月30日,中共中央政治局召开会议指出,当前经济形势仍然复杂严峻,要加快形成以国内大循环为主体、国内国际双循环相互促进的新发展格局。8月26日,政协常委会举行会议,有全国政协常委就“国内循环与国际循环协调发力”提出建议:在医疗、教育、住房、养老等方面大力加强基础性公共服务;进一步扩大中等收入人群;将部分税收由生产地征收转向消费地征收;加快相关产业兼并重组,做大做强一批企业;进一步加强和“一带一路”相关国家的互利合作;等等。

(1)解读图9包含的经济信息。(4分)

(2)政协委员所提建议是如何体现“国内循环与国际循环协调发力”的?结合材料运用所学经济生活知识予以阐释。(10分)

39. 阅读材料,完成下列要求。(12分)

“十四五”规划是我国开启新征程,向第二个百年奋斗目标进军的第一个五年规划,具有里程碑意义。2020年8月,政协常委会第十三次会议举行全体会议,以“制定国民经济和社会发展‘十四五’规划”为主题协商议政,12位常委代表民主党派、全国工商联等围绕“制定国民经济和社会发展‘十四五’规划”作大会发言。

9月28日,中共中央政治局召开会议,听取了《中共中央关于制定国民经济和社会发展第十四个五年规划和二〇三五年远景目标的建议》稿在党内外一定范围和网上征求意见的情况报告。

这期间,习近平总书记主持召开企业家、党外人士、经济社会领域专家、科学家、基层代表、教育文化卫生体育领域专家等系列座谈会,直接听取社会各界对“十四五”时期我国经济社会发展的意见和建议。

结合材料,运用政治生活知识分析协商民主在科学制定“十四五”规划中的作用。

40. 阅读材料,完成下列要求。(26分)

2020年9月,全国抗击新冠肺炎疫情表彰大会在京隆重举行,习近平向国家勋章和国家荣誉称号获得者颁授勋章奖章并发表重要讲话。习近平强调,我们准确把握疫情形势变化,立足全局,及时作出统筹疫情防控和经济社会发展的重大决策。我们加大宏观政策应对力度,出台多项强化就业优先、促进投资消费、稳定外贸外资、稳定产业链供应链等措施,促进新业态发展,推动交通运输、餐饮商超、文化旅游等各行各业有序恢复,实施支持湖北发展一揽子政策,分批分次复学复课。我们以更大的决心、更强的力度推进脱贫攻坚,支持扶贫产业恢复生产,优先支持贫困劳动力务工就业,防止因疫致贫或返贫。

习近平指出,在同疫情较量中,中国人民和中华民族铸就了生命至上、举国同心、舍生忘死、尊重科学、命运与共的伟大抗疫精神。生命至上,集中体现中国人民深厚的仁爱传统和中国共产党人以人民为中心的价值追求。举国同心,集中体现中国人民万众一心、同甘共苦的团结伟力。舍生忘死,集中体现中国人民敢于压倒一切困难而不被任何困难所压倒的顽强意志。尊重科学,集中体现中国人民求真务实、开拓创新的实践品格。命运与共,集中体现中国人民和衷共济、爱好和平的道义担当。

(1)结合材料,说明在疫情防控期间我国推动经济社会发展是如何运用系统优化的方法的。(12分)

(2)弘扬伟大抗疫精神就是在弘扬中华民族精神。运用文化生活知识加以说明。(10分)

(3)请就在学习、生活中如何发扬伟大抗疫精神提两条建议。(4分)



41. 阅读材料,完成下列要求。(25分)

材料一 中国封建传统教育,发展到鸦片战争以前,已有两千余年的历史,它是封建社会结构下的教育,在教育制度和教育内容上起支配作用的是科举取士制度。这种传统教育,在创造和传承中国光辉灿烂的古代文化中,起过巨大的作用。

——摘编自王炳照等编《简明中国教育史》

材料二 1860年冬,主持外交的恭亲王奕訢奏请设立专门学馆以培养谙练外国语言文字的翻译人才,他说:“欲悉各国情形,必先谙其语言文字,方不受人欺蒙。各国均以重赏请中国人讲解文义,而中国造无熟悉外国语言文字之人,恐无以悉其底蕴。”1862年8月14日,北京同文馆正式成立,启动关防;英文馆开学,延请包尔腾充任教习,教授英语等课程。

——摘编自张岂之主编《中国历史·晚清民国卷》

材料三 1825年,普鲁士实行义务教育制度。到19世纪60年代,学龄儿童入学率达到97.5%,基本实现了普及教育。与此同时,各邦政府还兴办了多种中等专业技术学校和职工补习学校。在普通中学中,增设了自然科学课程,在高等学校中,贯彻教育、科研与生产相结合、基础研究和应用研究相结合的方针。到19世纪70年代末工业革命结束时,德国不仅在生产技术上消除了与英国的差距,而且在电气、化学等新兴工业方面超过了英国,走在了世界前列。

——摘编自吴于廑等主编《世界史》

(1) 根据材料一、二并结合所学知识,说明中国传统教育的特点和近代教育兴起的背景。(12分)

(2) 根据材料三并结合所学知识,概括德国发展近代教育的措施及其意义。(10分)

(3) 根据材料二、三并结合所学知识,简析中、德近代教育发展的历史启示。(3分)

42. 阅读材料,完成下列要求。(12分)

材料




图10

武汉港是国家一类开放口岸,位于长江中游,是华中地区的交通枢纽。武汉港口集团公司是一家改制后的大型企业。



图11

烟台港腹地经济发达,尤其是外向型经济发展迅速,公路、铁路、海运便利。烟台至大连是国内沿海最繁忙的海运航线之一。

——摘编自迟福林主编《中国改革开放全纪录(1978—2012)》

根据材料并结合所学知识,围绕两大港口或其中任意一个港口的发展拟定一个论题,并予以阐述。(要求:论题明确,持论有据,论证充分,表达清晰。)



请考生从2道地理选考题、3道历史选考题中每科任选一题作答。如果多做,则每科按所做的第一题计分。

43. [地理——选修3:旅游地理](10分)

图12示意三沙市地理位置。三沙市由280多个岛、礁、沙滩、暗沙组成,东西跨越约900千米,南北相距约1800千米,陆地面积仅13平方千米。自2012年三沙市正式设市后,当地旅游业得到加速发展。

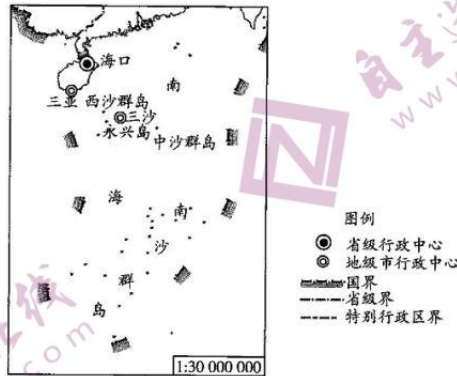


图12

评价三沙市的旅游开发条件,并说出三沙市的成立对南海海岛旅游开发的好处。

44. [地理——选修6:环境保护](10分)

虽然化肥在助推粮食增产方面起到了重要作用,然而,伴随粮食产量的稳步提高,农田化肥施用引起面源污染问题的广度和深度越来越严重,化肥施用环境风险指数也越来越大。图13示意2016年陕西省区域划分,陕北为黄土高原,关中为渭河盆地,地势平坦,陕南为秦巴山地,为中高山地形。表2示意陕西省化肥施用环境风险指数空间差异。



图13

表2

地区	风险指数			
	总肥	氮肥	磷肥	钾肥
陕北	0.55	0.58	0.48	0.56
关中	0.83	0.83	0.82	0.83
陕南	0.70	0.73	0.64	0.66
陕西省	0.76	0.77	0.74	0.76

指出陕西省化肥施用环境风险指数的空间差异,并分析陕北、关中化肥施用环境风险指数差异的成因。

45. [历史——选修1:历史上重大改革回眸](15分)

材料 清政府传统的中央权力机构主要是军机处和吏、户、礼、兵、刑、工六部。庚子事变之后,随着政治形势的新变化,在新政开展的过程中,从督办政务处的设立到1906年全面的官制改革之前,清政府陆续设立了外务部、商部、巡警部、学部以及练兵处、财政处等几个新机构,并裁撤了一些旧衙门,与此同时,



地方行政机构改革也在相应地进行。

1901年7月,清政府按照在辛丑议和过程中西方列强的要求,谕令改总理各国事务衙门为外务部,班列在六部之前,设总理大臣一名,会办大臣及会办大臣兼尚书各一人,内设各司分别执外交、通商、路矿、关税、邮政、海防等事务。

——摘编自张海鹏主编《中国近代通史》

(1)根据材料并结合所学知识,说明清末行政体制改革的背景。(7分)

(2)根据材料并结合所学知识,简要评价清末行政体制改革。(8分)

46. [历史——选修3:20世纪的战争与和平](15分)

材料 1939年8月,斯大林由于种种原因同希特勒签订了互不侵犯条约。他对西方领导人极不信任,因而希望赢得加强军队和工业建设的时间。他还预料到德国和西方列强迟早会进行一场消耗战,而苏联则可拜互不侵犯条约之赐超然于战争之外,直到战争对它有利时再介入。“如果战争爆发”,他告诉他的同志们:“我们绝不可能按兵不动。我们将不得不参战,但我们必须最后一个参战。我们参战的目的是为了在天平上放上一个决定性的砝码,它将使天平倾斜。”这一战略是精明的,然而它却使苏联自食其果并差点毁了这个国家。该战略基于这样一种假设:德军和西方军队势均力敌,双方会互相残杀,从而使苏联红军成为欧洲大陆上居支配地位的军队。然而事实却正好相反,德国军队简直不费吹灰之力就征服了所有的对手,从而成为欧洲大陆的主人,而苏联则处于孤立无援的危险境地。

——摘编自[美]斯塔夫里阿诺斯《全球通史》

(1)根据材料并结合所学知识,概括苏联与德国签订互不侵犯条约的原因。(8分)

(2)根据材料并结合所学知识,简析苏德互不侵犯条约签订的影响。(7分)

47. [历史——选修4:中外历史人物评说](15分)

材料 杜佑(735—812年),出身于仕宦世家。唐德宗贞元十七年(801年),杜佑完成历史著作《通典》,派人献给朝廷。杜佑为学不重术数,不尚章句,以为诸经率多记言,罕存法制,故究心于历代典章制度的沿革得失,意图总结历史上的经验教训,以为施政张本。所以他论田制则深慨兼并之弊,论军事则力主张强干弱枝,论边防则极诫穷兵黩武,凡此之类,无一不反映出他对现实政治的究心和主张。

《通典》在处理文化与经济的关系时,杜佑着重阐述了物质生活条件对于文化发展的决定性作用。他在《通典·自序》中说:“夫理道之先在乎行教化,教化之本在乎足衣食。”杜佑从“教化之本在乎足衣食”这一观点出发,特别注重农业生产的发展。杜佑以农业生产的发展,作为封建社会政治与文化发展的基础,反映了他的唯物主义思想因素。

——摘编自白寿彝总主编《中国通史》

(1)根据材料并结合所学知识,说明杜佑编纂《通典》的目的。(6分)

(2)根据材料并结合所学知识,简析杜佑的唯物主义史学思想形成的原因。(9分)

天一大联考
2020—2021 学年(上)高三年级期末考试

文科综合·政治答案

12~23 小题,每小题 4 分。

12. B 13. A 14. C 15. C 16. A 17. B 18. A 19. D 20. C
21. D 22. B 23. C

38. (1)居民总消费、总投资、政府支出、净出口在各国 GDP 中占比各不相同;(2分)相比日本、德国等发达国家,中国政府支出、净出口 GDP 占比与其大体相当,而投资占比较高,消费占比明显偏低,说明我国消费潜力巨大。(2分)
- (2)在医疗等方面大力加强基础性公共服务,有利于完善社会保障体系,稳定未来收入预期,促进当前消费;(2分)进一步扩大中等收入人群,促进收入分配更加合理有序,缩小收入差距,有利于提高社会总体消费水平;(2分)将部分税收由生产地征收转向消费地征收,能够通过税收引导地方政府从抓投资转向抓消费;(2分)加快相关产业兼并重组,做大做强一批企业,通过推动产业升级和打造知名品牌,增加有效供给,促进消费升级;(2分)进一步加强和“一带一路”相关国家的互利合作,更加主动参与国际竞争与合作,可发展更高层次开放型经济,促进国内循环和国际循环协调发展。(2分)
39. 协商民主是我国社会主义民主政治的特有形式,通过协商民主,能充分发挥党对制定“十四五”规划的领导核心作用;(3分)协商民主能够把各政党、无党派人士等社会各界紧密团结起来,齐心协力、群策群力制定好“十四五”规划;(3分)人民政协是协商民主的重要渠道和专门机构,人民政协通过协商民主就制定“十四五”规划积极履行政治协商、参政议政职能;(3分)通过制度化、程序化、规范化安排,协商民主能够广泛集中各种意见和建议,推动“十四五”规划制定的科学化、民主化。(3分)
40. (1)掌握系统优化的方法,要着眼于事物的整体性,注意遵循系统内部结构的有序性,注重系统内部结构的优化趋向。(2分)要求我们用综合的思维方式来认识事物,着眼整体,统筹考虑,优化组合。(2分)疫情防控期间推动经济社会发展,我们立足疫情防控全局,加大宏观政策应对力度,统筹疫情防控和经济社会发展;(3分)强化就业优先,尤其是优先支持贫困劳动力务工就业,做到有序复工复产;(2分)既统筹就业、投资生产消费、对外开放、恢复各行各业等经济发展的各方面工作,又做好复学复课、脱贫攻坚等工作。(3分)
- (2)伟大抗疫精神,既体现了创造、奋斗、团结、梦想、爱国的中华民族精神,也是对中华民族精神的丰富和发展;(3分)伟大抗疫精神展示了中华民族的整体风貌、精神特征和价值追求;(2分)弘扬伟大抗疫精神,就是在铸造中华民族的精神支柱,为国家富强和民族复兴强基固本;(2分)弘扬伟大抗疫精神,对提高全民族综合素质、提升国际地位和影响力、增强民族凝聚力和创造力、坚定道路自信和制度自信都具有重要意义。(3分)
- (3)全面理解伟大抗疫精神的内涵及其和中华民族精神之间的关系;在学习过程中要将伟大抗疫精神内化于心、外化于行。(每条 2 分,其他答案言之有理,可酌情给分)

天一大联考
2020—2021 学年(上)高三年级期末考试

文科综合·历史答案

24~35 小题,每小题 4 分。

24. A 25. B 26. A 27. D 28. D 29. B 30. C 31. C 32. A
33. D 34. A 35. B

41. (1)特点:历史悠久;建立在封建社会结构的基础之上;传承儒家学说伦理和道德规范;服务于科举取士。(6分,任答3点,言之成理即可)

背景:民族危机加深;洋务运动兴起;外交事务增加,清廷急需翻译和外交人才;传统教育不合时宜;西学东渐的进一步深入。(6分,任答3点,言之成理即可)

(2)措施:普及义务教育;兴办多种职业技术学校;普通中学增设自然科学教育;高等学校教育注重理论和实际相结合。(4分,任答2点,言之成理即可)

意义:提高了国民科学文化素养;培养了优秀科技人才;催生了一系列重大科技发明,加快了德国工业革命的进程;奠定了德国科技大国和工业强国的基础。(6分,任答3点,言之成理即可)

(3)启示:教育发展应与时俱进、适应社会发展需要;应不断探索和借鉴先进教育模式;教育改革是实现民族振兴的必然选择。(3分,任答2点,言之成理即可)

42. 示例1:

论题:武汉港口集团公司的发展是国家对内推行城市经济体制改革的结果。(2分)

阐述:城市经济体制改革强调增强企业活力、发展社会主义商品经济和简政放权、政企分开等重大问题。武汉港口集团公司借助自身区位优势,通过城市经济体制改革,简政放权搞活企业、开放市场搞活流通,企业改制后有了竞争机制,调动了各方面的积极性,增强了企业活力,促进了武汉地区经济的快速发展和武汉港口集团公司的发展。因此,武汉港口集团公司成为大型企业集团。(10分,言之成理即可)

示例2:

论题:烟台港的发展是国家开放沿海港口城市、设立沿海经济开放区政策的结果。(2分)

阐述:该政策规定,扩大沿海港口城市和沿海经济开放区对外开展经济活动的权限,给前来投资和提供先进技术的外商以优惠待遇。开放天津、大连、烟台等14个沿海港口城市和设立长三角、珠三角和环渤海等沿海经济开放区,烟台利用这一政策,加快利用外资、引进技术的步伐,进一步深化对外开放,促进了烟台港外向型经济发展和本地区经济的迅速发展。因此,烟台港的发展呈现出繁荣的景象。(10分,言之成理即可)

(“示例”仅作参考,不作为唯一标准答案。若以武汉港、烟台港为例,结合示例1、2综合作答亦可)

45. (1)背景:民族危机加深;清王朝面临统治危机;清末“新政”的开展;传统行政体制存在弊端。(7分,言之成理即可)

(2)评价:改变了传统的行政体制;促使中央机构向近现代转型;利于新政改革的推行;具有半殖民地色彩。(8分,言之成理即可)

46. (1)原因:粉碎英法祸水东引企图;争取备战时间;防止英法德结成反苏阵线;防止德日法西斯组建反苏联盟,避免两线作战。(8分,言之成理即可)

(2)影响:不利于反法西斯阵线的建立;使德国避免了东西两线作战;加速了第二次世界大战的全面爆发;导致苏联对德国抱有幻想,放松警惕。(7分,言之成理即可)

47. (1)目的:探究历代典章制度的沿革得失;总结历史经验教训;挽救唐王朝的统治危机。(6分,言之成理即可)

(2)原因:隋唐前期封建经济的发展,提供了物质基础;科学技术发展,扩大了人们眼界;民本、重农思想影响;自身具有严谨治史、吸纳前人史学思想的品格。(9分,任答3点,言之成理即可)

天一大联考
2020—2021 学年(上)高三年级期末考试

文科综合·地理答案

1~11 小题,每小题 4 分。

1. C 2. B 3. A 4. B 5. C 6. D 7. C 8. D 9. B 10. D

11. A

36. (1)原生高岭土和瓷石矿藏多,制作“秘色瓷”的优质原料丰富;浙江多丘陵地带,水热资源丰富,松林茂密,烧制“秘色瓷”的燃料充足;制瓷业历史悠久,技术人员和熟练工人众多,且还引进了先进技术。(每点 2 分,共 6 分。其他答案合理可酌情给分)
- (2)陆地丝绸之路受战争、割据等政治因素影响大,多有阻隔;瓷器体积较大,质量较重,易碎,装运不便,用骆驼运输运量小、破损率高,运输成本高;海上丝绸之路用船舶运输瓷器,运量大,破损率低,速度相对较快。(每点 2 分,共 6 分。其他答案合理可酌情给分)
- (3)贡品需求量太小,而窑厂众多,贡余越瓷数量大;海外市场广阔,出口越瓷窑场主和商人可获利丰厚;越瓷产地靠近港口,海运条件优越;越瓷精美独特,工艺精湛,受周边国家喜爱。(任答其中 3 点,每点 2 分,共 6 分。其他答案合理可酌情给分)
- (4)北上航区夏季盛行东南季风,且顺着日本暖流等北上洋流,可顺风顺水,沿途售卖越瓷等商品;南下航区冬季盛行西北季风,且顺着沿岸南下冷水,可顺风顺水,沿途售卖从海外换取的异域奇珍,这样,大致整个航段都省时省力,且利于商业买卖;航线靠近陆地,便于商品贸易开展。(每点 2 分,共 6 分。其他答案合理可酌情给分)
37. (1)地形以山地和高地为主,且沿海或靠近沿海,地势落差大;气候受海洋影响大,比较湿润,降水量较大,河流径流量大;河湖众多,入海河流多。(每点 2 分,共 6 分。其他答案合理可酌情给分)
- (2)水库蓄水期为枯水期,河流封冻后才开始蓄水,河冰作为天然障碍可有效防止海水倒灌;蓄水期间下泄一部分相当于最低流量的径流,可以满足起码的生态用水需求。(每点 2 分,共 4 分。其他答案合理可酌情给分)
- (3)好处:增加拉格兰德河的径流量,进而增加水电发电量。(2 分。其他答案合理可酌情给分)
不利影响:流量骤增,使河道过水断面加大,造成冲积和坍岸,或是在冲积层下切河床;含沙量增大,水质变差;快速改变沿河生态环境,破坏生物多样性。(任答其中 2 点,每点 2 分,共 4 分。其他答案合理可酌情给分)
- (4)两地距离近,在美国东北部风能、太阳能发电高峰期,魁北克省可从美国进口清洁能源;此时段内,魁北克省的水力发电设施减少发电量,水库可以蓄水抬高水位,在美国东北部太阳能、风能发电量减少时,实现更多发电量并将水电出口给美国;双方均提高清洁能源的开发利用率,稳定清洁能源供应,助力区域脱碳进程。(每点 2 分,共 6 分。其他答案合理可酌情给分)
43. 条件:热带海洋面积广,冬季温暖,适宜旅游时间长;热带海洋、岛屿,海洋自然旅游资源丰富,海洋文化景观独特;岛屿分布零散且面积很小,淡水匮乏,物种较少,气象稳定性差(如台风),生态环境脆弱,旅游资源环境承载力低。(每点 2 分,共 6 分。其他答案合理可酌情给分)
好处:市政投资道路建设,开通航线,提高交通通达度;餐饮、住宿等第三产业发展,地区接待能力提高;医疗卫生设施逐步健全和完善,社会治安环境改善,旅游安全性提高。(任答其中 2 点,每点 2 分,共 4 分。其他答案合理可酌情给分)
44. 空间差异:关中的各类化肥施用环境风险指数均为最大,陕南次之,陕北最小。(3 分)
成因:陕北较为干旱,地形崎岖,耕地肥力较低,复种指数较低,化肥投资效益低,化肥使用量少(3 分);关中属于暖温带半湿润气候,地势平坦,作物产量高,作物以一年两熟为主(2 分),再加上近年来各种经济附加值高、需肥量大的设施瓜菜和水果种植面积不断扩大,化肥投入产出效益高,导致了高强度的化肥投入(2 分)。(其他答案合理可酌情给分)

关于我们

自主选拔在线是致力于提供新高考生涯规划、强基计划、综合评价、三位一体、学科竞赛等政策资讯的升学服务平台。总部坐落于北京，旗下拥有网站（<http://www.zizzs.com/>）和微信公众平台等媒体矩阵，用户群体涵盖全国90%以上的重点中学师生及家长，在全国新高考、自主选拔领域首屈一指。

如需第一时间获取相关资讯及备考指南，请关注**自主选拔在线**官方微信号：**zizzsw**。



微信搜一搜



自主选拔在线

关注后获取更多资料：

回复“答题模板”，即可获取《高中九科试卷的解题技巧和答题模版》

回复“必背知识点”，即可获取《高考考前必背知识点》